

투타임즈 세계지리 NEWT N제
New + Training

기후 경로

| Comment |

지도에 수작업으로 점을 하나하나 직접 찍어 위치가 완전히 정확하진 않을 수 있습니다. 양해 부탁드립니다.

1. 다음은 세계지리 수업 장면의 일부이다. (가)~(라) 여행 경로에 대한 설명으로 옳은 것만을 <보기>에서 있는 대로 고른 것은? (단, (가)~(라)는 각각 지도에 표시된 네 여행 경로 중 하나임.) [3점]

교사: 지도에 표시된 네 경로에 대해 설명해 볼까요? 단, 남반구 여름은 12~2월, 북반구 여름은 6~8월로 고려해서 설명하면 됩니다.



갑: (가)~(라) 경로 중 출발지 또는 도착지가 여름에 계절풍의 영향을 강하게 받는 경로는 (가)입니다.
 을: (가), (나), (라) 경로의 출발지 또는 도착지는 연교차보다 일교차가 큼니다.
 병: (가), (나), (다) 경로의 출발지 최한월 평균 기온은 18°C 이하입니다.
 교사: 모두 옳게 설명했습니다.

<보 기>

ㄱ. (가)의 출발지는 7월보다 1월의 강수량이 많다.
 ㄴ. (나)의 출발지의 최한월 평균 기온은 -3°C 이상이다.
 ㄷ. (다)와 (라)의 도착지 주변에서는 오렌지 등 수목 농업이 이루어진다.

- ① ㄱ
- ② ㄴ
- ③ ㄷ
- ④ ㄱ, ㄴ
- ⑤ ㄴ, ㄷ

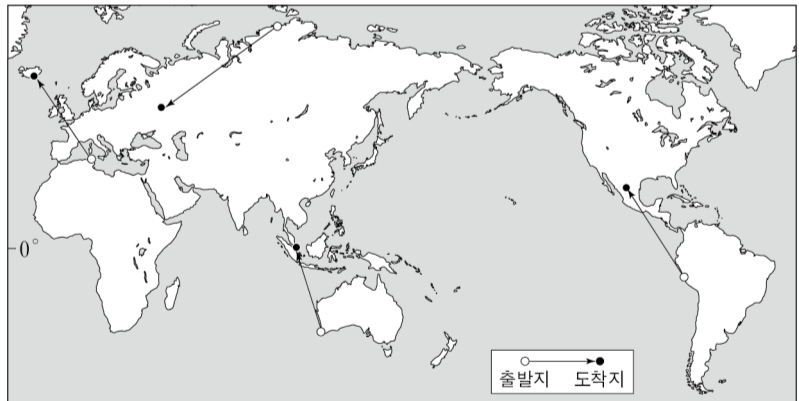
기후 경로

| Comment |

생각해보니 아무도 저 경로대로 여행을 하진 않을 듯하네요.

2. 다음은 세계지리 수업 장면의 일부이다. (가)~(라) 여행 경로에 대한 설명으로 옳은 것만을 <보기>에서 있는 대로 고른 것은? (단, (가)~(라)는 각각 지도에 표시된 네 여행 경로 중 하나임.) [3점]

교사: 지도에 표시된 네 경로에 대해 설명해 볼까요? 단, 남반구 여름은 12~2월, 북반구 여름은 6~8월로 고려해서 설명하면 됩니다.



갑: (가)~(라) 경로 중 출발지 또는 도착지가 연중 열대 수렴대의 영향을 받는 경로는 (나)입니다.
 을: (나), (다) 경로의 출발지 또는 도착지는 여름보다 겨울 강수량이 많습니다.
 병: (가), (나), (다) 경로의 도착지는 쾨펜의 기후 구분을 기준으로 연중 습윤한 기후(f)의 특성이 나타납니다.
 교사: 모두 옳게 설명했습니다.

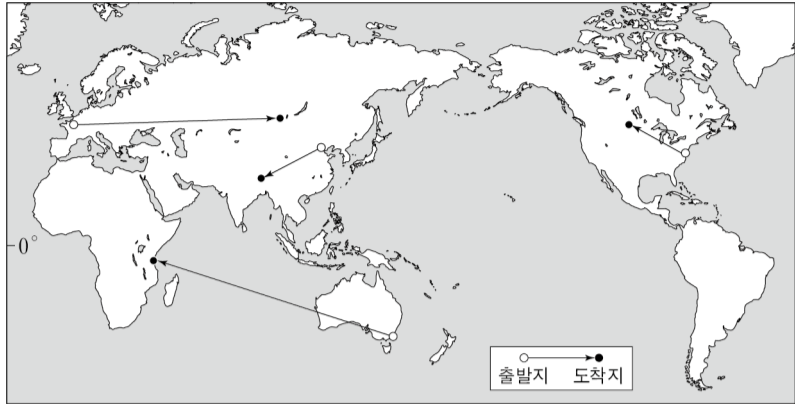
<보 기>

ㄱ. (가)의 출발지는 7월에 백야 현상이 나타난다.
 ㄴ. (다)의 도착지의 최한월 평균 기온은 -3°C 이상이다.
 ㄷ. (나)의 출발지는 (라)의 도착지보다 기온의 연교차가 크다.

- ① ㄱ
- ② ㄴ
- ③ ㄱ, ㄷ
- ④ ㄴ, ㄷ
- ⑤ ㄱ, ㄴ, ㄷ

3. 다음은 세계지리 수업 장면의 일부이다. (가)~(라) 여행 경로에 대한 설명으로 옳은 것만을 <보기>에서 있는 대로 고른 것은? (단, (가)~(라)는 각각 지도에 표시된 네 여행 경로 중 하나임.) [3점]

교사: 지도에 표시된 네 경로에 대해 설명해 볼까요? 단, 남반구 여름은 12~2월, 북반구 여름은 6~8월로 고려해서 설명하면 됩니다.



갑: (가), (다) 경로의 도착지는 서울보다 기온의 연교차가 큼니다.
 을: (가) 경로의 출발지는 (다) 경로의 출발지보다 1월 평균 기온이 높습니다.
 병: (가), (다), (라) 경로의 출발지는 쾨펜의 기후 구분을 기준으로 연중 습윤한 기후(f)의 특성이 나타납니다.
 교사: 모두 옳게 설명했습니다.

<보 기>

ㄱ. (가)의 도착지의 최한월 평균 기온은 -3°C 이하이다.
 ㄴ. (다)의 출발지는 (나)의 도착지보다 1월 밤 길이가 짧다.
 ㄷ. (가)~(라) 중 도착지의 1월 강수량이 가장 많은 경로는 (라)이다.

- ① ㄱ ② ㄴ ③ ㄱ, ㄷ ④ ㄴ, ㄷ ⑤ ㄱ, ㄴ, ㄷ

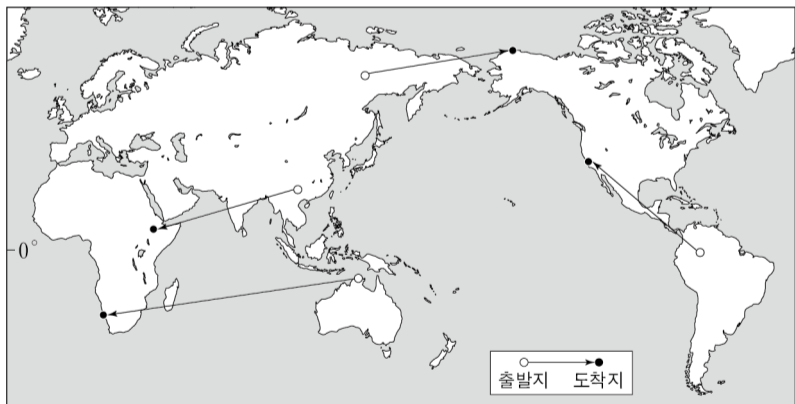
기후 경로

| Comment |

서울과의 기온 비교는 통합사회를 대비하려는 것인지 최근 주목받고 있습니다.

4. 다음은 세계지리 수업 장면의 일부이다. (가)~(라) 여행 경로에 대한 설명으로 옳은 것만을 <보기>에서 있는 대로 고른 것은? (단, (가)~(라)는 각각 지도에 표시된 네 여행 경로 중 하나임.) [3점]

교사: 지도에 표시된 네 경로에 대해 설명해 볼까요? 단, 남반구 여름은 12~2월, 북반구 여름은 6~8월로 고려해서 설명하면 됩니다.



갑: (가)~(라) 경로 중 출발지에 비해 도착지의 1월 낮 길이가 가장 짧아지는 경로는 (나)입니다.
 을: (가), (라) 경로의 출발지는 1월보다 7월 정도의 태양 고도각이 높습니다.
 병: (가), (다) 경로의 출발지 또는 도착지는 연 강수량이 500mm 미만입니다.
 교사: 모두 옳게 설명했습니다.

<보 기>

ㄱ. (가)의 도착지는 7월에 솔리플렉션 현상이 나타난다.
 ㄴ. (나)의 출발지는 1월에 남동 무역풍의 영향을 받는다.
 ㄷ. (다)와 (라)의 도착지는 기온의 연교차보다 일교차가 크다.

- ① ㄱ ② ㄴ ③ ㄱ, ㄷ ④ ㄴ, ㄷ ⑤ ㄱ, ㄴ, ㄷ

기후 경로

| Comment |

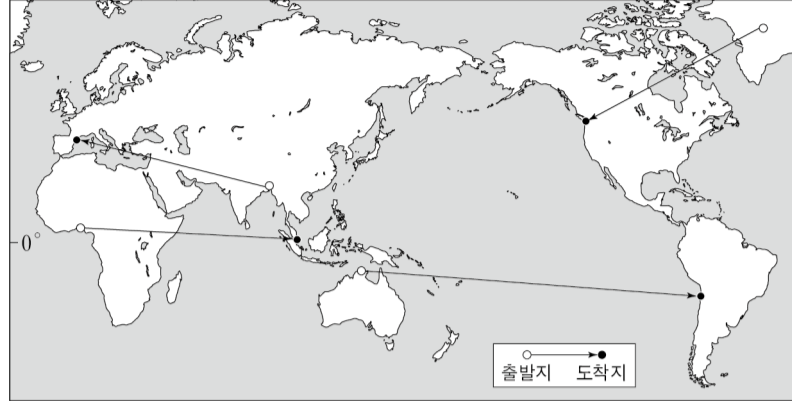
서울은 별로 살기 좋은 기후가 아닌 것 같아요.

기후 경로

[Comment]
날씨가 쌀쌀합니다.

5. 다음은 세계지리 수업 장면의 일부이다. (가)~(라) 여행 경로에 대한 설명으로 옳은 것만을 <보기>에서 있는 대로 고른 것은? (단, (가)~(라)는 각각 지도에 표시된 네 여행 경로 중 하나임.) [3점]

교사: 지도에 표시된 네 경로에 대해 설명해 볼까요? 단, 남반구 여름은 12~2월, 북반구 여름은 6~8월로 고려해서 설명하면 됩니다.



갑: (나), (라) 경로의 출발지 또는 도착지의 사바나에는 다양한 야생 동물이 서식합니다.

을: (가), (나), (다) 경로의 도착지 최한월 평균 기온은 18°C 이하입니다.

병: (가)~(라) 경로 중 출발지의 7월 강수량이 가장 많은 경로는 (가)입니다.

교사: 모두 옳게 설명했습니다.

<보 기>

- ㄱ. (가)의 도착지는 7월에 아열대 고압대의 영향을 받는다.
- ㄴ. (나)의 출발지는 (다)의 도착지보다 1월 강수량이 많다.
- ㄷ. (라)의 도착지는 (다)의 출발지보다 본초 자오선과의 최단 거리가 짧다.

- ① ㄱ ② ㄷ ③ ㄱ, ㄴ ④ ㄴ, ㄷ ⑤ ㄱ, ㄴ, ㄷ

6. 다음은 어떤 학생이 작성한 수행 평가의 일부이다. 이에 대한 설명으로 옳은 것만을 <보기>에서 있는 대로 고른 것은? [3점]

<수행 평가지>

○학년 ○반 ○번 이름: ○○○

◎ 불교, 유대교, 이슬람교, 크리스티교의 특징을 각각 두 개씩 작성하시오.
(※옳은 경우에만 1점을 부여하며, 모두 옳게 작성한 경우 8점임.)

	점수
	6점

종교	특징
불교	1. 스리랑카의 타밀족이 믿는 종교임.
	2. 종교 경관으로 사리와 불탑를 들 수 있음.
A	3. 유일신교임.
	4. 대표적인 성지로 예루살렘의 '통곡의 벽'이 있음.
B	5. 보편 종교임.
	6. (가)
이슬람교	7. 민다나오섬의 모로족이 믿는 종교임.
	8. (나)

교사 의견 크리스티교보다 이슬람교의 특징에서 옳은 개수가 많게 서술하였네요.

<보 기>

- ㄱ. A는 민족 종교이다.
- ㄴ. (가)에는 '전 세계에서 신자 수가 가장 많음.'이 들어갈 수 있다.
- ㄷ. (나)에는 '미얀마의 로힝야족이 믿는 종교임.'이 들어갈 수 있다.

- ① ㄱ ② ㄴ ③ ㄱ, ㄷ ④ ㄴ, ㄷ ⑤ ㄱ, ㄴ, ㄷ

채점형

| Comment |

문제 푸는 것 이상으로 문제 만들기 귀찮은 유형입니다..

7. 다음은 어떤 학생이 작성한 수행 평가의 일부이다. 이에 대한 설명으로 옳은 것만을 <보기>에서 있는 대로 고른 것은? [3점]

<수행 평가지>

○학년 ○반 ○번 이름: ○○○

◎ 불교, 이슬람교, 크리스티교, 힌두교의 특징을 각각 두 개씩 작성하시오.
(※옳은 경우에만 1점을 부여하며, 모두 옳게 작성한 경우 8점임.)

	점수
	5점

종교	특징
이슬람교	1. 북부 아프리카에서 신자 수가 가장 많은 종교임.
	2. 종교 경관으로 모스크를 들 수 있음.
A	3. 돼지고기 섭취를 금함.
	4. (가)
B	5. 보편 종교임.
	6. (나)
C	7. 예루살렘에 성지가 있음.
	8. (다)

교사 의견 불교보다 힌두교, 힌두교보다 크리스티교의 특징에서 옳은 개수가 많게 서술하였네요.

<보 기>

- ㄱ. C는 B보다 말레이시아에서 신자 수가 많다.
- ㄴ. (가)에는 '윤회 사상을 중시함.'이 들어갈 수 있다.
- ㄷ. (나)와 (다)에는 모두 'A보다 전 세계 신자 수가 많음.'이 들어갈 수 있다.

- ① ㄱ ② ㄷ ③ ㄱ, ㄴ ④ ㄴ, ㄷ ⑤ ㄱ, ㄴ, ㄷ

채점형

| Comment |

스님들은 주로 소고기와 돼지고기를 먹지 않습니다.

8. 다음은 어떤 학생이 작성한 수행 평가의 일부이다. 이에 대한 설명으로 옳은 것만을 <보기>에서 있는 대로 고른 것은? [3점]

<수행 평가지>

○학년 ○반 ○번 이름: ○○○

◎ 불교, 이슬람교, 크리스트교, 힌두교의 특징을 각각 두 개씩 작성하시오.
(※옳은 경우에만 1점을 부여하며, 모두 옳게 작성한 경우 8점임.)

	점수
	5점

종교	특징
크리스트교	1. 에티오피아에서 신자 수가 가장 많은 종교임.
	2. 종교 경관으로 십자가를 들 수 있음.
A	3. 부다가야라는 성지가 있음.
	4. 윤회 사상을 중시함.
B	5. 민족 종교임.
	6. <input type="text" value="(가)"/>
C	7. 스리랑카의 신할리즈족이 믿는 종교임.
	8. <input type="text" value="(나)"/>

교사 의견 힌두교보다 이슬람교, 이슬람교보다 불교의 특징에서 옳은 개수가 많게 서술하였네요.

<보 기>

- ㄱ. B는 A보다 아시아에서 신자 수가 많다.
 ㄴ. (가)에는 'C보다 전 세계 신자 수가 많음.'이 들어갈 수 있다.
 ㄷ. (나)에는 '바라나시라는 성지가 있음.'이 들어갈 수 있다.

- ① ㄱ ② ㄷ ③ ㄱ, ㄴ ④ ㄴ, ㄷ ⑤ ㄱ, ㄴ, ㄷ

채점형

| Comment |

저는 언제쯤 윤회할 수 있을까요?

9. 다음은 어떤 학생이 작성한 수행 평가의 일부이다. 이에 대한 설명으로 옳은 것만을 <보기>에서 있는 대로 고른 것은? [3점]

<수행 평가지>

○학년 ○반 ○번 이름: ○○○

◎ 불교, 이슬람교, 크리스트교, 힌두교의 특징을 각각 두 개씩 작성하시오.
(※옳은 경우에만 1점을 부여하며, 모두 옳게 작성한 경우 8점임.)

	점수
	5점

종교	특징
A	1. 전 세계에서 신자 수가 가장 많은 종교임.
	2. 사하라 이남 아프리카에서 신자 수가 가장 많은 종교임.
B	3. 남부 아시아에서 기원함.
	4. 윤회 사상을 중시함.
C	5. 네 종교 중 발생 시기가 가장 늦음.
	6. 라마단 기간 중에는 금식을 의무로 함.
D	7. 민족 종교임.
	8. <input type="text" value="(가)"/>

교사 의견 힌두교와 이슬람교에 대해 작성한 4개의 서술 중 하나만 옳게 작성했네요.

<보 기>

- ㄱ. A는 B보다 발생 시기가 이른다.
 ㄴ. C는 D보다 전 세계 신자 수가 많다.
 ㄷ. (가)에는 '인도에서 B보다 신자 수가 많음.'이 들어갈 수 있다.

- ① ㄱ ② ㄴ ③ ㄷ ④ ㄱ, ㄴ ⑤ ㄴ, ㄷ

채점형

| Comment |

올해 수능에 채점형 문항이 나온다면 얼마나 어렵게 나올까요?

채점형

| Comment |
저는 무교입니다.

10. 다음은 어떤 학생이 작성한 수행 평가의 일부이다. 이에 대한 설명으로 옳은 것만을 <보기>에서 있는 대로 고른 것은? [3점]

<수행 평가지>

○학년 ○반 ○번 이름: ○○○

◎ 불교, 이슬람교, 크리스트교, 힌두교의 특징을 각각 두 개씩 작성하시오.
(※옳은 경우에만 1점을 부여하며, 모두 옳게 작성한 경우 8점임.)

	점수
	3점

종교	특징
A	1. 대표적인 종교 경관으로 모스크가 있음.
	2. 서남아시아에서 신자 수가 가장 많은 종교임.
B	3. 남부 아시아에서 기원함.
	4. 기원전에 기원한 종교임.
C	5. 네팔에서 신자 수가 가장 많은 종교임.
	6. 민족 종교임.
D	7. 대표적인 성지로 부다가야가 있음.
	8. (가)

교사 의견	이슬람교에 대한 서술만 모두 옳게 작성하였네요.
-------	----------------------------

—<보 기>—

- ㄱ. 중국에서는 A를 믿는 소수 민족과의 갈등이 있다.
- ㄴ. C는 D보다 아시아에서 신자 수가 많다.
- ㄷ. (가)에는 ‘인도네시아에서 B보다 신자 수가 많음.’이 들어갈 수 있다.

- ① ㄱ ② ㄴ ③ ㄱ, ㄷ ④ ㄴ, ㄷ ⑤ ㄱ, ㄴ, ㄷ

11. (가)~(다) 국가에 대한 설명으로 옳은 것만을 <보기>에서 있는 대로 고른 것은?

리히텐슈타인은 동쪽으로는 [가], 서쪽으로는 [나] 와/과 국경을 맞대고 있는 대표적인 이종내륙국이다. 한편, [가], [나], [다] 세 국가는 보덴 호수(콘스탄츠 호수)를 사이에 두고 만나는데, 호수 위 국경이 명확히 정해지지 않아 독특한 공동 관리 수역을 형성한다. 또한 [다]의 서쪽에는 또 다른 소국 룩셈부르크가 있으며, 모젤강이 이 두 나라의 중요한 국경선 역할을 한다.

<보 기>

ㄱ. (가)는 폴란드와 국경을 접하고 있다.
ㄴ. (나)는 유로화를 단일 화폐로 사용한다.
ㄷ. (다)에는 루르 공업 지역이 있다.

- ① ㄱ ② ㄴ ③ ㄷ ④ ㄱ, ㄷ ⑤ ㄴ, ㄷ

유럽의 내륙국

| Comment |

저는 유럽에 가 본적이 없습니다.

12. (가)~(다) 국가에 대한 설명으로 옳은 것만을 <보기>에서 있는 대로 고른 것은?

세계에서 가장 오래된 공화국인 산마리노는 국토 전체가 [가]에 의해 둘러싸여 있는 대표적인 내륙국이다. 한편, 도시 국가인 모나코는 3면이 [나]와 접해 있으며, 지중해에 면한 해안선은 [가]의 국경과도 매우 가깝다. 또한, 피레네 산맥에 위치한 또 다른 소국 안도라는 접경국인 [나]의 국가원수와 [다]의 주교가 공동 영주로 있는 독특한 지위를 가진다.

<보 기>

ㄱ. 라인강은 (가)를 지난다.
ㄴ. (나)는 오스트리아와 국경을 접하고 있다.
ㄷ. (다)의 수도는 바다와 접하지 않는다.

- ① ㄱ ② ㄴ ③ ㄷ ④ ㄱ, ㄷ ⑤ ㄴ, ㄷ

유럽의 내륙국

| Comment |

은근 유럽의 소국도 동유럽을 건드리지 않으면 널 소재가 별로 없는 것 같기도..

13. (가)~(다) 국가에 대한 설명으로 옳은 것만을 <보기>에서 있는 대로 고른 것은?

아프리카 대륙의 많은 내륙국들은 물류와 교역을 위해 이웃한 해안 국가의 항구에 크게 의존한다. 잠비아는 대표적인 예로, 북쪽으로는 (가), 동쪽으로는 (나)와/과 국경을 접하고 있어 양국의 회랑을 모두 이용할 수 있다. 한편, 남부 아프리카의 경제 대국인 (다)은/는 북쪽으로 내륙국인 보츠와나와 잠비아를 거쳐 (가)에 이르는 '남북 교역 회랑'의 핵심축으로, 이 내륙국들의 가장 중요한 무역 파트너이기도 하다. 또한, 세계에서 두 번째로 깊은 호수인 탕가니카 호수는 내륙국인 브룬디와 잠비아의 국경일 뿐만 아니라, (가)와 (나)의 중요한 자연 경계선이 되기도 한다.

<보 기>

ㄱ. (가)는 바다와 접하는 연안국이다.
ㄴ. (나)는 남·북반구에 걸쳐 있다.
ㄷ. (가)는 (다)보다 인구가 많다.

- ① ㄱ ② ㄴ ③ ㄱ, ㄷ ④ ㄴ, ㄷ ⑤ ㄱ, ㄴ, ㄷ

사하라 이남 아프리카와 내륙국

| Comment |
사하라 이남 아프리카 국가들의 위치는 6, 9월에 강조되어 출제된 소재이기에 눈여겨볼만 합니다.

14. (가)~(다) 국가에 대한 설명으로 옳은 것만을 <보기>에서 있는 대로 고른 것은?

아무다리야와 시르다리아강이 흐르는 (가)은/는 모든 이웃 국가가 내륙국인 대표적인 이중내륙국으로, 해상 교역을 위해서는 주변국의 협력이 필수적이다. 북쪽으로 가장 긴 국경을 맞대고 있는 (나)은/는 세계 최대의 내륙국이자 카스피해에 접해 있지만, 이 바다 역시 대양과 연결되지 않은 내해이다. 따라서 (가)이/가 실질적인 해양으로 진출하기 위해서는 남쪽의 투르크메니스탄을 거쳐 (다)의 페르시아만 항구에 도달하는 것이 중요한 경로가 된다.

<보 기>

ㄱ. (가)는 아랄해 연안에 위치한다.
ㄴ. (다)는 튀르키예와 국경을 접하고 있다.
ㄷ. (나)는 (다)보다 밀 생산량이 많다.

- ① ㄱ ② ㄴ ③ ㄱ, ㄷ ④ ㄴ, ㄷ ⑤ ㄱ, ㄴ, ㄷ

건조 아시아와 내륙국

| Comment |
아무다리야와 시르다리아강은 2025 수능 2번에 출제된 소재입니다.

중·남부 아메리카와 내륙국

| Comment |

사실적하지만 이 국가도 나올 때가 됐습니다.

15. (가)~(다) 국가에 대한 설명으로 옳은 것만을 <보기>에서 있는 대로 고른 것은?

볼리비아와 유일한 남아메리카의 내륙국인 (가) 은/는 대서양으로 진출하기 위해 파라니강 수계에 크게 의존한다. 이 나라의 동쪽 국경 대부분은 대륙에서 유일하게 포르투갈어를 사용하는 (나) 와/과 접해 있다. 한편, (가), (나), 그리고 남쪽의 (다) 세 국가는 이구아수 폭포 인근의 '삼중 국경' 지대에서 만나며, 이는 남아메리카 공동 시장(MERCOSUR)의 물류와 교역에 있어 매우 중요한 지정학적 위치를 차지한다.

—<보 기>—

ㄱ. (가)는 칠레와 국경을 접하고 있다.
ㄴ. (나)는 인구 중 혼혈보다 유럽계가 차지하는 비중이 높다.
ㄷ. (다)는 (나)보다 주요 곡물 수출량이 많다.

- ① ㄱ ② ㄴ ③ ㄱ, ㄷ ④ ㄴ, ㄷ ⑤ ㄱ, ㄴ, ㄷ

투타임즈 세계지리 NEWT N제 해설

1. 정답 ⑤

해설

(가)는 아디스아바바-체라폰지, (나)는 부에노스아이레스-키토, (다)는 뉴욕-로스앤젤레스, (라)는 다윈-퍼스 경로이다.

정답 풀이

- ㄴ. (나)의 출발지인 부에노스아이레스는 온대 기후 지역으로 최한월 평균 기온이 -3°C 이상이다.
- ㄷ. (다)의 도착지인 로스앤젤레스와 (라)의 도착지인 퍼스는 지중해성 기후 지역으로 오렌지 등 수목 농업이 이루어진다.

오답 풀이

- ㄱ. (가)의 출발지인 아디스아바바는 북반구에 위치하여 여름인 7월이 겨울인 1월보다 강수량이 많다.

2. 정답 ⑤

해설

(가)는 시베리아 툰드라-모스크바, (나)는 퍼스-싱가포르, (다)는 튀니스-레이카비크, (라)는 리마-멕시코시티 경로이다.

정답 풀이

- ㄱ. (가)의 출발지는 북극권 내에 위치하여 여름인 7월에 백야 현상이 나타난다.
- ㄴ. (다)의 도착지 레이카비크는 최한월 평균 기온이 -3°C 이상인 온대 기후 지역이다.
- ㄷ. (나)의 출발지 퍼스는 (라)의 도착지 멕시코시티보다 기온의 연교차가 크다.

3. 정답 ③

해설

(가)는 파리-울란바토르, (나)는 베이징-티베트 고원, (다)는 뉴욕-위니펙, (라)는 시드니-다르에스살람 경로이다.

정답 풀이

- ㄱ. (가)의 도착지인 울란바토르는 대표적인 냉대 동계 건조 기후 지역으로 최한월 평균 기온이 영하 20°C 이하로 매우 낮다.
- ㄷ. (라)의 도착지인 다르에스살람은 남반구 저위도에 위치하여 1월이 우기이므로, 다른 도착지들에 비해 강수량이 압도적으로 많다.

오답 풀이

- ㄴ. (다)의 출발지인 뉴욕은 (나)의 도착지인 티베트 고원보다 1월 밤 길이가 길다.

4. 정답 ③

해설

(가)는 오이마콘-베로, (나)는 이키토스-멕시코시티, (다)는 다윈-나미브 사막, (라)는 쿤밍-아디스아바바 경로이다.

정답 풀이

- ㄱ. (가)의 도착지 베로는 툰드라 기후 지역으로, 여름철인 7월에 활동층이 녹으면서 솔리플렉션 현상이 나타난다.
- ㄷ. (다)의 도착지 나미브 사막과 (라)의 도착지 아디스아바바는 모두 저위도에 위치하여 기온의 연교차보다 일교차가 크다.

오답 풀이

- ㄴ. (나)의 출발지 이키토스는 1월에 열대 수렴대가 남하하면서 북동 무역풍의 영향을 받는다.

5. 정답 ③

해설

(가)는 체라폰지-바르셀로나, (나)는 다윈-안토파가스타, (다)는 그린란드-밴쿠버, (라)는 라고스-싱가포르 경로이다.

정답 풀이

- ㄱ. (가)의 도착지 바르셀로나는 지중해성 기후 지역으로, 여름인 7월에 아열대 고압대의 영향을 받는다.
- ㄴ. (나)의 출발지 다윈은 1월이 여름 우기이고, (다)의 도착지 밴쿠버는 1월이 겨울이다. 다윈의 1월 강수량은 밴쿠버보다 많다.

오답 풀이

- ㄷ. (라)의 도착지 싱가포르(다)의 출발지 그린란드보다 본초 자오선과의 최단 거리가 더 멀다.

6. 정답 ㉓

해설

A는 유대교, B는 크리스트교이다. 학생은 총 6점을 받았고, 교사 의견에 따라 이슬람교의 옳은 특징 개수가 크리스트교보다 많아야 하므로 (가)는 크리스트교에 대한 틀린 서술, (나)는 이슬람교에 대한 옳은 서술이다.

정답 풀이

- ㄱ. A는 유대교이므로 민족 종교이다.
- ㄴ. 미얀마의 로힝야족은 이슬람교를 믿는다. 따라서 이슬람교에 대한 옳은 서술이 들어가야 하는 (나)에 들어갈 수 있다.

오답 풀이

- ㄴ. 전 세계에서 신자 수가 가장 많은 종교는 크리스트교(B)이다. 이는 옳은 설명이므로, 크리스트교에 대한 틀린 서술이 들어가야 하는 (가)에는 들어갈 수 없다.

7. 정답 ㉑

해설

A는 힌두교, B는 크리스트교, C는 불교이다. (가)는 힌두교의 옳은 특징, (나)는 크리스트교의 옳은 특징, (다)는 불교의 틀린 특징이다.

정답 풀이

- ㄱ. C(불교)는 B(크리스트교)보다 말레이시아에서 신자 수가 많다.
- ㄴ. A는 힌두교이며, 윤회 사상은 힌두교의 특징이므로 옳은 특징이 들어가야 하는 (가)에 들어갈 수 있다.
- ㄷ. 'A(힌두교)보다 전 세계 신자 수가 많다'는 서술은 B(크리스트교)에게는 참이고, C(불교)에게는 거짓이다. 이는 각각 옳은 특징과 틀린 특징이 와야 하는 (나)와 (다)의 조건에 모두 부합한다.

8. 정답 ㉓

해설

A는 불교, B는 이슬람교, C는 힌두교이다. 학생의 총점은 5점이고, 교사의 의견에 따라 불교, 이슬람교, 힌두교가 받은 점수는 각각 2점, 1점, 0점이다. A의 특징 두 가지는 모두 불교에 대한 옳은 설명이므로 A는 불교이다. B의 특징으로 서술된 '민족 종교'는 이슬람교에 대한 틀린 설명이므로, B가 1점을 받기 위해서는 (가)에 이슬람교에 대한 옳은 설명이 들어가야 한다. C의 특징으로 서술된 내용은 힌두교에 대한 틀린 설명이므로, C가 0점을 받기 위해서는 (나)에 힌두교에 대한 틀린 설명이 들어가야 한다.

정답 풀이

- ㄱ. 아시아의 신자 수는 B(이슬람교)가 A(불교)보다 많다.
- ㄴ. B(이슬람교)는 C(힌두교)보다 전 세계 신자 수가 많다. 이는 이슬람교에 대한 옳은 설명이므로 (가)에 들어갈 수 있다.

오답 풀이

- ㄷ. '바라나시라는 성지가 있음'은 C(힌두교)에 대한 옳은 설명이다. (나)에는 힌두교에 대한 틀린 설명이 들어가야 하므로, 해당 내용은 들어갈 수 없다.

9. 정답 ㉓

해설

A는 크리스트교, B는 불교, C는 힌두교, D는 이슬람교이다.

정답 풀이

- ㄷ. (가)는 D(이슬람교)에 대한 옳은 설명이 들어가야 한다. '인도에서 B(불교)보다 신자 수가 많음'은 이슬람교의 특징에 대한 옳은 서술이므로 (가)에 들어갈 수 있다.

오답 풀이

- ㄱ. A(크리스트교)는 B(불교)보다 발생 시기가 늦다.
- ㄴ. C(힌두교)는 D(이슬람교)보다 전 세계 신자 수가 적다.

10. 정답 ㉑

해설

A는 이슬람교, B는 크리스트교, C는 불교, D는 힌두교이다. 학생의 총점이 3점이고 교사의 의견에 따라 A(이슬람교)에서 2점을 받았으므로 B, C, D 중 한 종교에서 1점을 받아야 한다. B와 C의 서술은 모두 옳거나 모두 틀린 쌍으로 이루어져 있어 1점을 받을 수 없으므로, D(힌두교)에서 1점을 받아야 한다. 따라서 7번 서술은 틀리고 (가)는 힌두교에 대한 옳은 설명이 들어가야 한다.

정답 풀이

- ㄱ. 중국에서는 A(이슬람교)를 믿는 위구르족 등 소수 민족과의 갈등이 존재한다.

오답 풀이

- ㄴ. 아시아의 신자 수는 D(힌두교)가 C(불교)보다 많다.
- ㄷ. (가)에는 D(힌두교)에 대한 옳은 설명이 들어가야 한다. 인도네시아에서는 B(크리스트교)의 신자 수가 D(힌두교)보다 많으므로, 해당 내용은 (가)에 들어갈 수 없다.

11. 정답 ③

해설

(가)는 오스트리아, (나)는 스위스, (다)는 독일이다.

정답 풀이

ㄷ. 독일(다)에는 유럽의 대표적인 공업 지역인 루르 공업 지역이 있다.

오답 풀이

ㄱ. 오스트리아(가)는 폴란드와 국경을 접하고 있지 않다.

ㄴ. 스위스(나)는 유로화를 사용하지 않고 자국 화폐인 스위스 프랑을 사용한다.

12. 정답 ③

해설

(가)는 이탈리아, (나)는 프랑스, (다)는 에스파냐이다.

정답 풀이

ㄷ. 에스파냐(다)의 수도는 마드리드로, 바다와 접하지 않는 내륙에 위치한다.

오답 풀이

ㄱ. 라인강은 이탈리아(가)를 지나지 않는다.

ㄴ. 프랑스(나)는 오스트리아와 국경을 접하고 있지 않다.

13. 정답 ③

해설

(가)는 콩고 민주 공화국, (나)는 탄자니아, (다)는 남아프리카 공화국이다.

정답 풀이

ㄱ. 콩고 민주 공화국(가)은 대서양에 접한 연안국이다.

ㄷ. 콩고 민주 공화국(가)은 남아프리카 공화국(다)보다 인구가 많다.

오답 풀이

ㄴ. 탄자니아(나)는 국토 전체가 남반구에 위치한다.

14. 정답 ⑤

해설

(가)는 우즈베키스탄, (나)는 카자흐스탄, (다)는 이란이다.

정답 풀이

ㄱ. 우즈베키스탄(가)은 아랄해 연안에 위치한다.

ㄴ. 이란(다)은 튀르키예와 국경을 접하고 있다.

ㄷ. 카자흐스탄(나)은 세계적인 밀 생산국으로, 이란(다)보다 밀 생산량이 많다.

15. 정답 ④

해설

(가)는 파라과이, (나)는 브라질, (다)는 아르헨티나이다.

정답 풀이

ㄴ. 브라질(나)은 인구 중 유럽계가 차지하는 비중이 혼혈계보다 높다.

ㄷ. 아르헨티나(다)는 브라질(나)보다 주요 곡물 수출량이 많다.

오답 풀이

ㄱ. 파라과이(가)는 칠레와 국경을 접하고 있지 않다.