

제 2 교시

수학 영역

5지선다형

1. $4^{\frac{1}{4}} \times 2^{\frac{1}{2}}$ 의 값은? [2점]

- ① 1 ② 2 ③ 3 ④ 4 ⑤ 5

2. 함수 $f(x) = x^2 - x + 1$ 에 대하여 $\lim_{h \rightarrow 0} \frac{f(1+h) - f(1)}{h}$ 의 값은? [2점]

- ① 1 ② 2 ③ 3 ④ 4 ⑤ 5

3. 수열 $\{a_n\}$ 에 대하여 $\sum_{k=1}^7 a_k = 8$ 일 때, $\sum_{k=1}^7 (2a_k + 1)$ 의 값은?

[3점]

- ① 21 ② 22 ③ 23 ④ 24 ⑤ 25

4. 함수

$$f(x) = \begin{cases} -x^2 + a & (x < 3) \\ 5x - a & (x \geq 3) \end{cases}$$

이 실수 전체의 집합에서 연속일 때, 상수 a 의 값은? [3점]

- ① 10 ② 11 ③ 12 ④ 13 ⑤ 14

5. $\int_0^2 (6x^2 - 2x + 1) dx$ 의 값은? [3점]

- ① 12 ② 14 ③ 16 ④ 18 ⑤ 20

6. 두 양수 a, b 에 대하여 함수 $f(x) = a \cos bx + 1$ 의
최댓값이 8이고 주기가 π 일 때, $a + b$ 의 값은? [3점]

- ① $\frac{15}{2}$ ② 8 ③ $\frac{17}{2}$ ④ 9 ⑤ $\frac{19}{2}$

7. 다항함수 $f(x)$ 에 대하여 함수 $g(x)$ 를

$$g(x) = 5x^2 + xf(x)$$

라 하자. $f(3) = 2$, $f'(3) = 1$ 일 때, $g'(3)$ 의 값은? [3점]

- ① 31 ② 32 ③ 33 ④ 34 ⑤ 35

8. $\sin(\pi - \theta) > 0$ 이고 $2\cos\theta = \sin\theta$ 일 때, $\cos\theta$ 의 값은? [3점]

- ① $-\frac{\sqrt{5}}{5}$ ② $-\frac{\sqrt{5}}{10}$ ③ 0
 ④ $\frac{\sqrt{5}}{10}$ ⑤ $\frac{\sqrt{5}}{5}$

9. 함수 $f(x) = x^2 + ax$ 에 대하여

$$\int_{-3}^3 (x+1)f(x)dx = 36 + \int_{-3}^3 f(x)dx$$

일 때, 상수 a 의 값은? [4점]

- ① 1 ② 2 ③ 3 ④ 4 ⑤ 5

10. 실수 $a(a > 1)$ 에 대하여

곡선 $y = \log_a(x+3)$ 이 곡선 $y = \log_a(-x+3)$ 과 만나는 점을 A,

곡선 $y = \log_a(x+3)$ 이 x 축과 만나는 점을 B,

곡선 $y = \log_a(-x+3)$ 이 x 축과 만나는 점을 C라 하자.

삼각형 ABC가 정삼각형일 때, a 의 값은? [4점]

- ① $3^{\frac{\sqrt{3}}{6}}$ ② $3^{\frac{\sqrt{3}}{4}}$ ③ $3^{\frac{\sqrt{3}}{3}}$ ④ $3^{\frac{5\sqrt{3}}{12}}$ ⑤ $3^{\frac{\sqrt{3}}{2}}$

11. 시각 $t=0$ 일 때 출발하여 수직선 위를 움직이는 점 P가 있다.
시각이 $t(t \geq 0)$ 일 때 점 P의 위치 x 가

$$x = t^3 - t^2 - t + 1$$

이다. <보기>에서 옳은 것만을 있는 대로 고른 것은? [4점]

<보 기>

- ㄱ. 시각 $t=1$ 일 때 점 P의 위치는 1이다.
 ㄴ. 시각 $t=1$ 일 때 점 P의 속도는 0이다.
 ㄷ. 출발한 후 점 P의 운동 방향이 바뀌는 시각에
 점 P의 가속도는 4이다.

- ① ㄱ ② ㄴ ③ ㄷ ④ ㄱ, ㄷ ⑤ ㄴ, ㄷ

12. 다음 조건을 만족시키는 모든 수열 $\{a_n\}$ 에 대하여
 a_4 의 최댓값은? [4점]

(가) $a_1 = a_3$

(나) 모든 자연수 n 에 대하여

$$(a_{n+1} - a_n + 3)(a_{n+1} - 2a_n) = 0$$

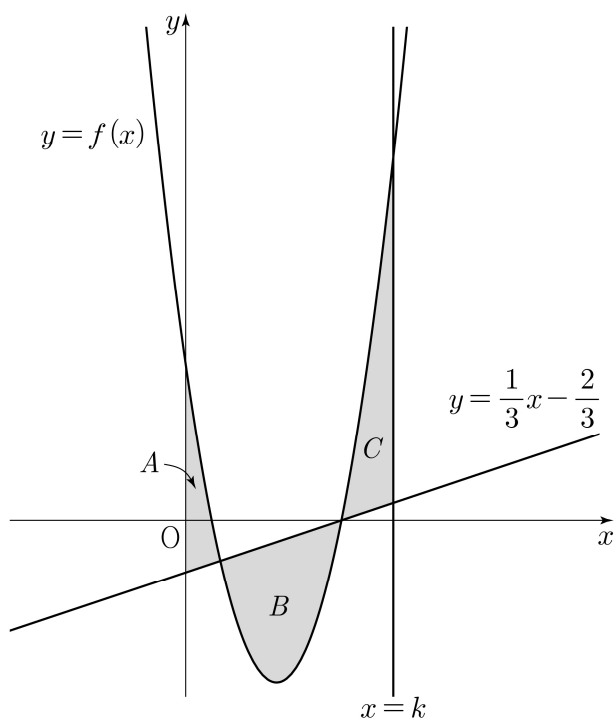
이다.

- ① 9 ② 12 ③ 15 ④ 18 ⑤ 21

13. 그림과 같이 함수 $f(x) = 3x^2 - 7x + 2$ 에 대하여 곡선 $y = f(x)$ 와 직선 $y = \frac{1}{3}x - \frac{2}{3}$ 및 y 축으로 둘러싸인 영역을 A , 곡선 $y = f(x)$ 와 직선 $y = \frac{1}{3}x - \frac{2}{3}$ 로 둘러싸인 영역을 B , 곡선 $y = f(x)$ 와 두 직선 $y = \frac{1}{3}x - \frac{2}{3}$, $x = k$ ($k > 2$)로 둘러싸인 영역을 C 라 하자.

$$(A \text{의 넓이}) + (C \text{의 넓이}) = (B \text{의 넓이})$$

일 때, 상수 k 의 값은? [4점]



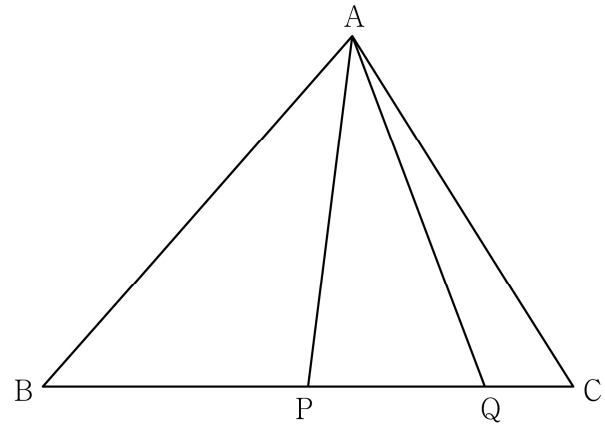
- ① $\frac{29}{12}$ ② $\frac{5}{2}$ ③ $\frac{31}{12}$ ④ $\frac{8}{3}$ ⑤ $\frac{11}{4}$

14. $\overline{AB} = 2\sqrt{7}$ 인 삼각형 ABC 에서 선분 BC 의 중점을 P , 선분 BC 를 5:1로 내분하는 점을 Q 라 하자.

$$\overline{AQ} = 3\sqrt{2}, \sin(\angle QAP) : \sin(\angle APQ) = \sqrt{2} : 3$$

일 때, 삼각형 ABC 의 외접원의 넓이는? [4점]

- ① $\frac{85}{9}\pi$ ② $\frac{88}{9}\pi$ ③ $\frac{91}{9}\pi$ ④ $\frac{94}{9}\pi$ ⑤ $\frac{97}{9}\pi$



15. 상수 k 와 $f'(0) = 6$ 인 삼차함수 $f(x)$ 에 대하여 함수

$$g(x) = \begin{cases} f(x) + k & (|x| > 1) \\ -f(x) & (|x| \leq 1) \end{cases}$$

이 다음 조건을 만족시킬 때, $k + f\left(\frac{1}{2}\right)$ 의 값은? [4점]

(가) 모든 실수 a 에 대하여 $\lim_{x \rightarrow a^+} \frac{g(x) - g(a)}{x - a}$ 의 값이 존재하고 그 값은 0 이하이다.

(나) x 에 대한 방정식 $g(x) = t$ 의 서로 다른 실근의 개수가 2가 되도록 하는 실수 t 의 최댓값은 13이다.

- ① $\frac{15}{4}$ ② $\frac{27}{4}$ ③ $\frac{39}{4}$ ④ $\frac{51}{4}$ ⑤ $\frac{63}{4}$

단답형

16. 방정식 $\log_5(x+1) + \log_5(x-1) = \log_{25}9$ 를 만족시키는 실수 x 의 값을 구하시오. [3점]

17. 다항함수 $f(x)$ 에 대하여 $f'(x) = 3x^2 + 4x$ 이고 $f(0) = 3$ 일 때, $f(1)$ 의 값을 구하시오. [3점]

18. $\sum_{k=1}^6 (k^2 + 2k)$ 의 값을 구하시오. [3점]

19. 상수 a 에 대하여 함수 $f(x) = 3x^3 - 9x^2 + a$ 의 극댓값이 20일 때, 함수 $f(x)$ 의 극솟값을 구하시오. [3점]

20. 실수 전체의 집합에서 정의된 함수 $f(x)$ 가 다음 조건을 만족시킨다.

$0 \leq x < 4$ 일 때 $f(x) = -x^2 + 4x$ 이고,
모든 실수 x 에 대하여 $f(x+4) = f(x)$ 이다.

방정식 $f(f(x)) = f(x)$ 의 0 이상인 모든 실근을 작은 수부터 크기순으로 나열할 때, n 번째 수를 a_n 이라 하자.

다음은 $a_{20} + a_{21} + a_{22}$ 의 값을 구하는 과정이다.

방정식 $f(x) = x$ 의 모든 실근이 0, 3이므로
방정식 $f(f(x)) = f(x)$ 의 실근을 구하는 것은
방정식 $f(x) \times (f(x) - 3) = 0$ 의 실근을 구하는 것과 같다.

$0 \leq x < 4$ 일 때, 방정식 $f(x) \times (f(x) - 3) = 0$ 의 모든 실근은 0, (가), 3이므로

$$a_1 = 0, a_2 = \text{(가)}, a_3 = 3$$

이다. 또한 모든 실수 x 에 대하여 $f(x+4) = f(x)$ 이므로

세 수열 $\{a_{3n-2}\}, \{a_{3n-1}\}, \{a_{3n}\}$ 은

첫째항이 각각 0, (가), 3이고

공차가 모두 (나)인 등차수열이다.

따라서 $a_{20} + a_{21} + a_{22} = \text{(다)}$ 이다.

위의 (가), (나), (다)에 알맞은 수를 각각 p, q, r 이라 할 때, $p + q + r$ 의 값을 구하시오. [4점]

21. 함수 $f(x) = (x-1)(x-2)$ 와 최고차항의 계수가 1인 사차함수 $g(x)$ 가 다음 조건을 만족시킨다.

모든 실수 a 에 대하여

$\lim_{x \rightarrow a} \frac{g(x) \times |f(x)|}{f(x)}$ 의 값과 $\lim_{x \rightarrow a} \frac{|g(x) - f(x)|}{g(x)}$ 의 값이 모두 존재한다.

$g(-1)$ 의 값을 구하시오. [4점]

22. $k > 1$ 인 실수 k 에 대하여 두 곡선

$$y = 2^x + \frac{k}{2}, \quad y = k \times \left(\frac{1}{2}\right)^x + k - 2$$

가 만나는 점을 A라 하고, 점 A를 지나고 기울기가 -1 인 직선이 곡선 $y = 2^{x-2} - 3$ 과 만나는 점을 B라 하자.

삼각형 AOB의 넓이가 16일 때, $k + \log_2 k = \frac{q}{p}$ 이다.

$p + q$ 의 값을 구하시오. (단, 0는 원점이고, p 와 q 는 서로소인 자연수이다.) [4점]

* 확인 사항

- 답안지의 해당란에 필요한 내용을 정확히 기입(표기)했는지 확인하시오.
- 이어서, 「선택과목(확률과 통계)」 문제가 제시되오니, 자신이 선택한 과목인지 확인하시오.

제 2 교시

수학 영역(기하)

5지선다형

23. 두 벡터 $\vec{a} = (2, 6)$, $\vec{b} = (k, -6)$ 에 대하여
 $\vec{a} + \vec{b}$ 의 모든 성분의 합이 4일 때, k 의 값은? [2점]
- ① 1 ② 2 ③ 3 ④ 4 ⑤ 5

24. 포물선 $y^2 = 12x$ 위의 점 $(3, 6)$ 에서의 접선이 점 $(1, a)$ 를
 지날 때, a 의 값은? [3점]

- ① 1 ② 2 ③ 3 ④ 4 ⑤ 5

25. 좌표평면 위의 두 점 $A(4, 0)$, $B(2, -4)$ 에 대하여
 점 A 를 지나고 법선벡터가 \overrightarrow{AB} 인 직선의 y 절편은? [3점]

- ① 1 ② 2 ③ 3 ④ 4 ⑤ 5

26. 쌍곡선 $\frac{x^2}{a^2} - \frac{y^2}{b^2} = 1$ 의 한 점근선의 방정식이 $y = \frac{1}{2}x$ 이다.

쌍곡선이 직선 $y=1$ 과 만나는 두 점을 각각 P , Q 라 하자.
 쌍곡선 위의 점 P 에서의 접선과 쌍곡선 위의 점 Q 에서의 접선이
 서로 수직일 때, $a^2 + b^2$ 의 값은? (단, a , b 는 양수이다.) [3점]

- ① 15 ② $\frac{35}{2}$ ③ 20 ④ $\frac{45}{2}$ ⑤ 25

27. 삼각형 OAB에 대하여 $\overrightarrow{OA} = \vec{a}$, $\overrightarrow{OB} = \vec{b}$ 라 하자.

$$|\vec{a} + \vec{b}| = 6, |2\vec{a} - \vec{b}| = 9, (\vec{a} + \vec{b}) \cdot (\vec{a} - \vec{b}) = 0$$

일 때, 삼각형 OAB의 넓이는? [3점]

- ① $4\sqrt{2}$ ② $5\sqrt{2}$ ③ $6\sqrt{2}$ ④ $7\sqrt{2}$ ⑤ $8\sqrt{2}$

28. 그림과 같이 두 점 $F(c, 0)$, $F'(-c, 0)$ ($c > 0$)을 초점으로 하는

타원 $C_1: \frac{x^2}{a^2} + y^2 = 1$ 과 두 점 $G(0, d)$, $G'(0, -d)$ ($d > 1$)을

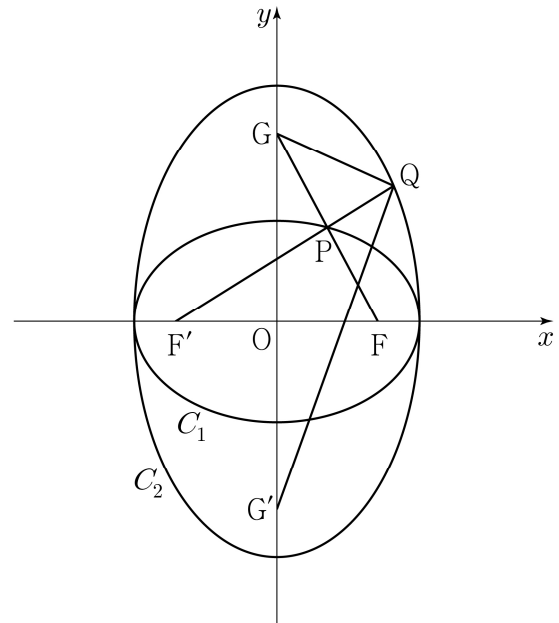
초점으로 하고 타원 C_1 의 두 꼭짓점을 지나는 타원 C_2 가 있다.

직선 FG가 타원 C_1 과 제1사분면에서 만나는 점을 P라 하고,

직선 F'P가 타원 C_2 와 제1사분면에서 만나는 점을 Q라 하자.

$\overline{GP} = \overline{PF}$ 이고 $\overline{GP} + \overline{PF'} = 2\sqrt{2}$ 일 때, $\overline{QG} + \overline{QG'}$ 의 값은?

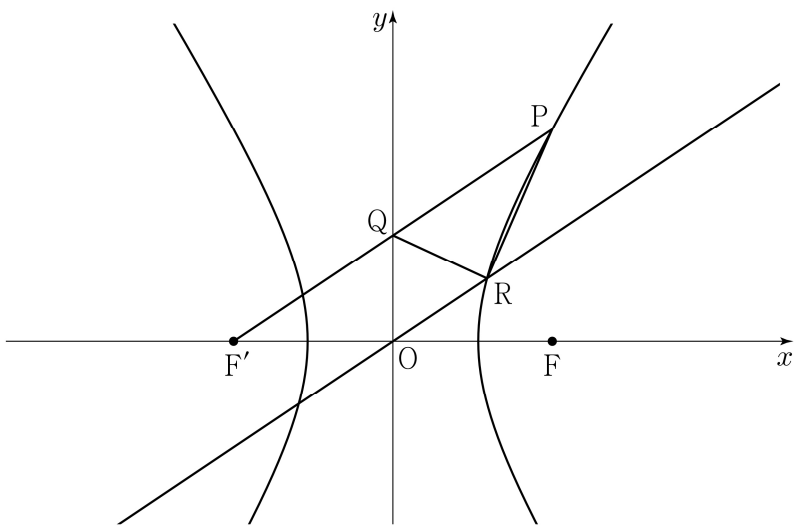
(단, a 는 양수이다.) [4점]



- ① $\sqrt{19}$ ② $2\sqrt{5}$ ③ $\sqrt{21}$ ④ $\sqrt{22}$ ⑤ $\sqrt{23}$

단답형


29. 그림과 같이 두 점 $F(c, 0), F'(-c, 0)(c > 0)$ 을 초점으로 하는 쌍곡선이 있다. 이 쌍곡선 위의 점 중 제1사분면에 있는 점 P 에 대하여 선분 $F'P$ 가 y 축과 만나는 점을 Q 라 하고, 원점 O 를 지나고 선분 $F'P$ 와 평행한 직선이 이 쌍곡선과 만나는 점 중 제1사분면에 있는 점을 R 이라 하자. $\overline{F'Q} = \overline{QP}, \overline{OQ} = 2$ 이고 삼각형 PQR 의 넓이가 3일 때, 이 쌍곡선의 주축의 길이는 $p + q\sqrt{13}$ 이다. $p^2 + q^2$ 의 값을 구하시오. (단, p 와 q 는 유리수이다.) [4점]



30. 좌표평면에 $\overline{AB} = 6, \overline{AD} = 8$ 인 직사각형 $ABCD$ 와 $2\overline{BE} = 3\overline{BC} - \overline{BA}$ 를 만족시키는 점 E 가 있다. 선분 BC 위를 움직이는 점 P 에 대하여 점 Q 가

$$\overline{PQ} \cdot (\overline{PQ} - \overline{AB}) = 0$$

을 만족시킬 때, $\overline{AE} \cdot \overline{AQ}$ 의 최솟값을 구하시오. [4점]



* 확인 사항
 ○ 답안지의 해당란에 필요한 내용을 정확히 기입(표기)했는지 확인하시오.

제 2 교시

수학 영역

5지선다형

1. $5^{\sqrt{2}+1} \times \left(\frac{1}{5}\right)^{\sqrt{2}}$ 의 값은? [2점]

- ① $\frac{1}{25}$ ② $\frac{1}{5}$ ③ 1 ④ 5 ⑤ 25

2. 함수 $f(x) = x^2 - 4x + 2$ 에 대하여 $\lim_{h \rightarrow 0} \frac{f(4+h) - f(4)}{h}$ 의 값은? [2점]

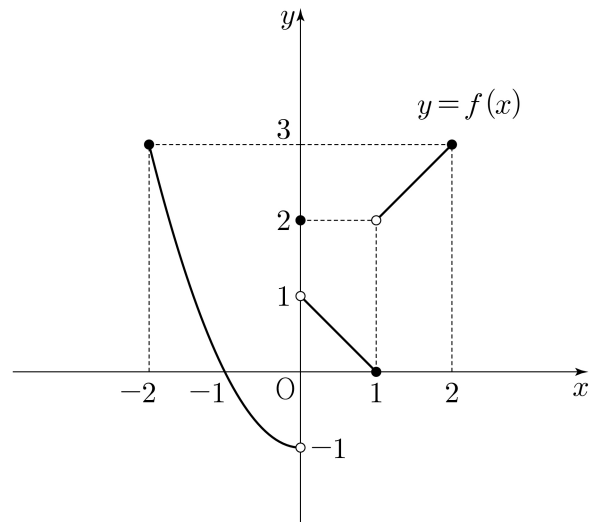
- ① 1 ② 2 ③ 3 ④ 4 ⑤ 5

3. 수열 $\{a_n\}$ 에 대하여 $\sum_{k=1}^6 (2a_k - 1) = 30$ 일 때, $\sum_{k=1}^6 a_k$ 의 값은?

[3점]

- ① 2 ② 6 ③ 10 ④ 14 ⑤ 18

4. 닫힌구간 $[-2, 2]$ 에서 정의된 함수 $y = f(x)$ 의 그래프가 그림과 같다.



$\lim_{x \rightarrow 0^-} f(x) + \lim_{x \rightarrow 1^+} f(x)$ 의 값은? [3점]

- ① 1 ② 2 ③ 3 ④ 4 ⑤ 5

5. 함수 $f(x) = (x^2 + 2)(x^2 + x - 3)$ 에 대하여 $f'(1)$ 의 값은? [3점]

- ① 6 ② 7 ③ 8 ④ 9 ⑤ 10

7. 곡선 $y = x^3 - 5x^2 + 6x$ 위의 점 $(3, 0)$ 에서의 접선이 점 $(5, a)$ 를 지날 때, a 의 값은? [3점]

- ① 6 ② 7 ③ 8 ④ 9 ⑤ 10

6. $\cos(\theta - \pi) = \frac{3}{5}$ 이고 $\tan\theta < 0$ 일 때, $\sin\theta$ 의 값은? [3점]

- ① $-\frac{4}{5}$ ② $-\frac{3}{5}$ ③ $\frac{1}{5}$ ④ $\frac{3}{5}$ ⑤ $\frac{4}{5}$

8. 두 양수 a, b 가

$$\log_{\sqrt{2}} a + \log_2 b = 2, \quad \log_2 a + \log_2 b^2 = 7$$

을 만족시킬 때, $a \times b$ 의 값은? [3점]

- ① 2 ② 4 ③ 8 ④ 16 ⑤ 32

9. 다항함수 $f(x)$ 의 한 부정적분을 $F(x)$ 라 하고,

함수 $2f(x)+1$ 의 한 부정적분을 $G(x)$ 라 하자.

$G(3) = 2F(3)$ 일 때, $G(5) - 2F(5)$ 의 값은? [4점]

- ① 1 ② 2 ③ 3 ④ 4 ⑤ 5

10. 모든 항이 양수인 등비수열 $\{a_n\}$ 의 첫째항부터 제 n 항까지의 합을 S_n 이라 하자.

$$a_2 = 1, \quad \sum_{k=1}^6 (-1)^k S_k = 21$$

일 때, $S_2 + S_7$ 의 값은? [4점]

- ① 61 ② 63 ③ 65 ④ 67 ⑤ 69

11. 시각 $t=0$ 일 때 원점에서 출발하여 수직선 위를 움직이는 점 P가 있다. 시각이 $t(t \geq 0)$ 일 때 점 P의 속도 $v(t)$ 가

$$v(t) = 3t^2 - 10t + 7$$

이다. <보기>에서 옳은 것만을 있는 대로 고른 것은? [4점]

—<보 기>—

- ㄱ. 시각 $t=1$ 일 때 점 P의 운동 방향이 바뀐다.
 ㄴ. 시각 $t=1$ 일 때 점 P의 위치는 3이다.
 ㄷ. 시각 $t=0$ 에서 $t=2$ 까지 점 P가 움직인 거리는 4이다.

- ① ㄱ ② ㄱ, ㄴ ③ ㄱ, ㄷ
 ④ ㄴ, ㄷ ⑤ ㄱ, ㄴ, ㄷ

12. 상수 $a(a > 1)$ 과 양수 t 에 대하여 곡선 $y = a^x$ 과 두 직선 $x = t$, $x = 2t$ 가 만나는 점을 각각 A, B라 하고, 점 B에서 x 축에 내린 수선의 발을 C라 하자.

$\overline{AB} = \overline{AC}$ 이고 삼각형 ACB의 넓이가 8일 때, $a \times t$ 의 값은? [4점]

- ① $2^{\frac{9}{4}}$ ② $2^{\frac{23}{8}}$ ③ $2^{\frac{7}{2}}$
 ④ $2^{\frac{33}{8}}$ ⑤ $2^{\frac{19}{4}}$

13. 함수 $f(x) = x^2 + 6x + 12$ 에 대하여 다음 조건을 만족시키는 모든 정수 k 의 개수는? [4점]

모든 실수 a 에 대하여

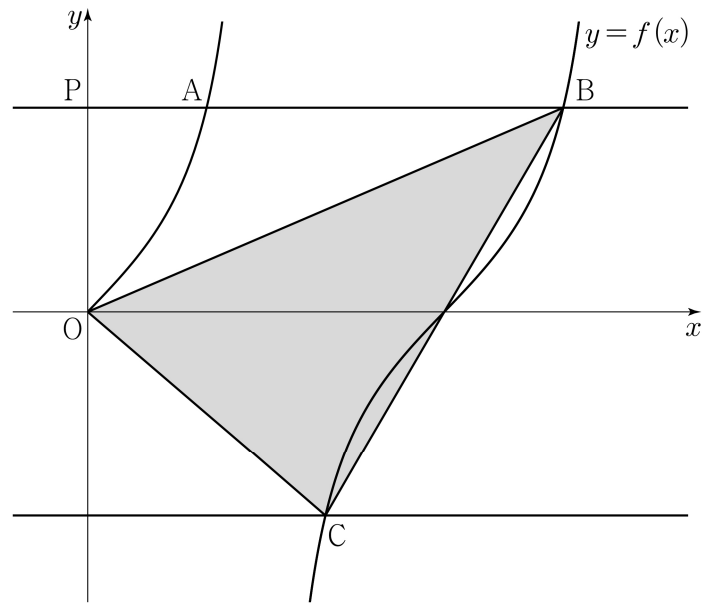
$$\lim_{x \rightarrow a} \frac{x^2}{(f(x))^2 - k(x+2)f(x)}$$
의 값이 존재한다.

- ① 5 ② 6 ③ 7 ④ 8 ⑤ 9

14. 양수 k 에 대하여 집합 $\left\{x \mid 0 \leq x < \frac{3k\pi}{2}, x \neq \frac{k\pi}{2}\right\}$ 에서

정의된 함수 $f(x) = \tan \frac{x}{k}$ 가 있다. 점 $P(0, p)$ ($p > 0$)을 지나며 x 축에 평행한 직선이 함수 $y = f(x)$ 의 그래프와 만나는 두 점을 A, B ($\overline{PA} < \overline{PB}$)라 하고, 직선 $y = -p$ 가 함수 $y = f(x)$ 의 그래프와 만나는 점을 C 라 하자. $\overline{AB} = 3\overline{PA}$ 이고 삼각형 OCB 의 넓이가 $\frac{5\pi}{3}$ 일 때, $k+p$ 의 값은? (단, O 는 원점이다.) [4점]

- ① $\frac{4\sqrt{3}}{3}$ ② $\frac{13\sqrt{3}}{9}$ ③ $\frac{14\sqrt{3}}{9}$
 ④ $\frac{5\sqrt{3}}{3}$ ⑤ $\frac{16\sqrt{3}}{9}$



15. 최고차항의 계수가 양수이고 $f(0) = 0$ 인 삼차함수 $f(x)$ 에 대하여 함수

$$g(x) = \int_0^x (|f(t)| - |t|) dt$$

가 다음 조건을 만족시킨다.

- (가) 방정식 $g'(x) = 0$ 의 서로 다른 실근의 개수는 4이다.
 (나) 함수 $g(x)$ 는 $x=2$, $x=6$ 에서 극값을 갖는다.

$f(6) \times g(2) < 0$ 일 때, $f(8)$ 의 값은? [4점]

- ① 16 ② 22 ③ 28 ④ 34 ⑤ 40

단답형

16. 수열 $\{a_n\}$ 은 $a_1 = 1$ 이고, 모든 자연수 n 에 대하여

$$a_{n+1} = na_n + 2$$

를 만족시킨다. a_3 의 값을 구하시오. [3점]

17. 다항함수 $f(x)$ 에 대하여 $f'(x) = 3x^2 + 2x + 1$ 이고 $f(1) = 6$ 일 때, $f(2)$ 의 값을 구하시오. [3점]

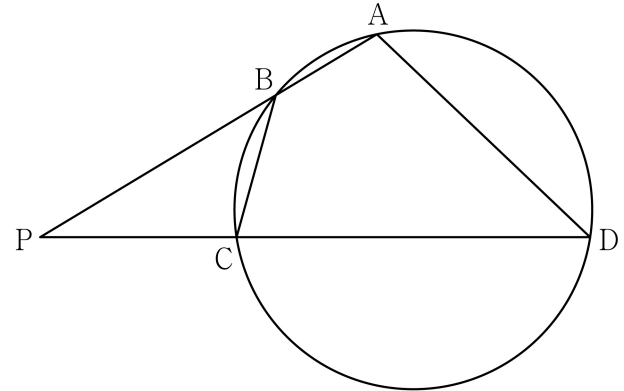
18. 등차수열 $\{a_n\}$ 에 대하여

$$a_3 = 6, \quad 2a_5 - a_4 = 15$$

일 때, a_{11} 의 값을 구하시오. [3점]

19. 함수 $f(x) = 2x^3 - 3ax^2 + 5a$ 의 극솟값이 a 일 때,
함수 $f(x)$ 의 극댓값을 구하시오. (단, a 는 상수이다.) [3점]

20. 그림과 같이 사각형 ABCD가 한 원에 내접하고
 $\overline{AB} : \overline{CD} = 1 : 3$, $\overline{BC} < \overline{AD}$ 일 때, 직선 AB와 직선 CD가
만나는 점을 P라 하자.



다음은 $\overline{PB} : \overline{PC} : \overline{BC} = 7 : 5 : \sqrt{14}$ 이고 $\overline{AD} = 4\sqrt{13}$ 일 때,
삼각형 BPC의 외접원의 반지름의 길이를 구하는 과정이다.

$\angle BPC = \theta$ 라 할 때, $\overline{PB} : \overline{PC} : \overline{BC} = 7 : 5 : \sqrt{14}$ 이므로
삼각형 BPC에서 코사인법칙에 의하여 $\cos \theta = \frac{6}{7}$ 이다.
 $\overline{PB} : \overline{PC} = 7 : 5$ 에서 $\overline{PB} = 7k$, $\overline{PC} = 5k$,
 $\overline{AB} : \overline{CD} = 1 : 3$ 에서 $\overline{AB} = l$, $\overline{CD} = 3l$ 이라 하자.
원의 성질에 의하여
삼각형 BPC와 삼각형 DPA가 서로 닮음이므로
 $\overline{PB} : \overline{PC} = \overline{PD} : \overline{PA}$ 이고, $l = \boxed{\text{(가)}} \times k$ 이다.
삼각형 BPC와 삼각형 DPA의 닮음비가 1: $\boxed{\text{(나)}}$ 이므로
 $\overline{BC} = \frac{1}{\boxed{\text{(나)}}} \times \overline{AD}$ 이다.
따라서 삼각형 BPC의 외접원의 반지름의 길이를 R 이라 할 때,
삼각형 BPC에서 사인법칙에 의하여 $R = \boxed{\text{(다)}}$ 이다.

위의 (가), (나), (다)에 알맞은 수를 각각 p, q, r 이라 할 때,
 $p+q+r$ 의 값을 구하시오. [4점]

21. 최고차항의 계수가 1인 삼차함수 $f(x)$ 가 다음 조건을 만족시킬 때, $f'(10)$ 의 값을 구하시오. [4점]

0이 아닌 모든 실수 x 에 대하여

$$\frac{f'(x)}{2} + x^2 - 2 \leq \frac{f(2x) - f(0)}{2x} \leq x^4$$

이다.

22. 곡선 $y = \log_2 x$ 위에 서로 다른 두 점 A, B가 있다.

점 A에서 직선 $y = x$ 에 내린 수선의 발을 P라 하고, 점 B를 직선 $y = x$ 에 대하여 대칭이동한 점을 Q라 할 때, 네 점 A, B, P, Q가 다음 조건을 만족시킨다.

$$(가) \text{ (직선 AP의 } y \text{절편)} - \text{(직선 BQ의 } y \text{절편)} = \frac{13}{2}$$

$$(나) \text{ 직선 AB의 기울기는 } \frac{6}{7} \text{이다.}$$

사각형 APQB의 넓이가 $\frac{q}{p}$ 일 때, $p+q$ 의 값을 구하시오.

(단, p 와 q 는 서로소인 자연수이다.) [4점]

* 확인 사항

- 답안지의 해당란에 필요한 내용을 정확히 기입(표기)했는지 확인하시오.
- 이어서, 「선택과목(확률과 통계)」 문제가 제시되오니, 자신이 선택한 과목인지 확인하시오.

제 2 교시

수학 영역(기하)

5지선다형

23. 포물선 $y^2 = 8x$ 의 초점의 좌표가 $(p, 0)$ 일 때, p 의 값은?
[2점]

① 1 ② 2 ③ 3 ④ 4 ⑤ 5

24. 좌표평면에서 두 직선

$$\frac{x-1}{2} = y-4, \quad \frac{x+2}{8} = \frac{y+5}{a}$$

가 서로 평행할 때, 상수 a 의 값은? (단, $a \neq 0$) [3점]

① 1 ② 2 ③ 3 ④ 4 ⑤ 5

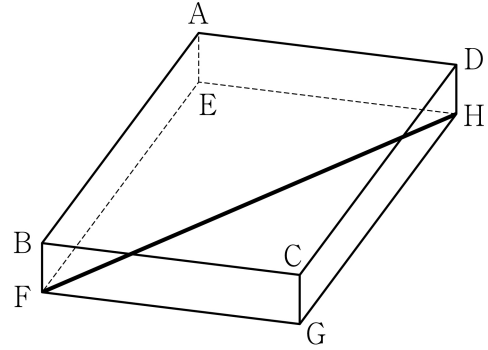
2

수학 영역(기하)

25. 좌표공간의 점 $A(4, 3, -9)$ 를 xy 평면에 대하여 대칭이동한 점을 B , 점 A 를 원점에 대하여 대칭이동한 점을 C 라 할 때, 선분 BC 의 길이는? [3점]

- ① 10 ② 12 ③ 14 ④ 16 ⑤ 18

26. 그림과 같이 $\overline{AB} = 10$, $\overline{AD} = 5$, $\overline{AE} = 1$ 인 직육면체 $ABCD-EFGH$ 가 있다. 점 A 와 직선 FH 사이의 거리는? [3점]



- ① $\sqrt{21}$ ② $\sqrt{22}$ ③ $\sqrt{23}$ ④ $2\sqrt{6}$ ⑤ 5

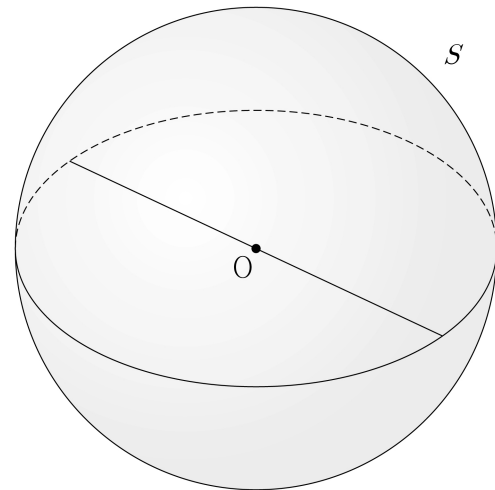
27. 두 초점이 $F(0, c)$, $F'(0, -c)$ ($c > 0$)인 쌍곡선 $\frac{x^2}{9} - \frac{y^2}{16} = -1$ 위의 점 P 가 제2사분면에 있다. 삼각형 $PF'F$ 의 둘레의 길이가 30일 때, 이 쌍곡선 위의 점 P 에서의 접선의 기울기는? [3점]
- ① $-\frac{7\sqrt{3}}{9}$ ② $-\frac{2\sqrt{3}}{3}$ ③ $-\frac{5\sqrt{3}}{9}$
 ④ $-\frac{4\sqrt{3}}{9}$ ⑤ $-\frac{\sqrt{3}}{3}$

28. 좌표공간의 구 $S: x^2 + y^2 + z^2 = 36$ 위의 점 A 에 대하여 구 S 위의 점 B 가 다음 조건을 만족시킨다.

(가) 선분 OA 위의 $\overline{OC} = 4$ 인 점 C 에 대하여 직선 BC 와 xy 평면이 서로 평행하다.
 (나) 두 직선 OA , AB 와 xy 평면이 이루는 예각의 크기를 각각 α , β 라 하면 $\sin \alpha = 3 \sin \beta$ 이다.

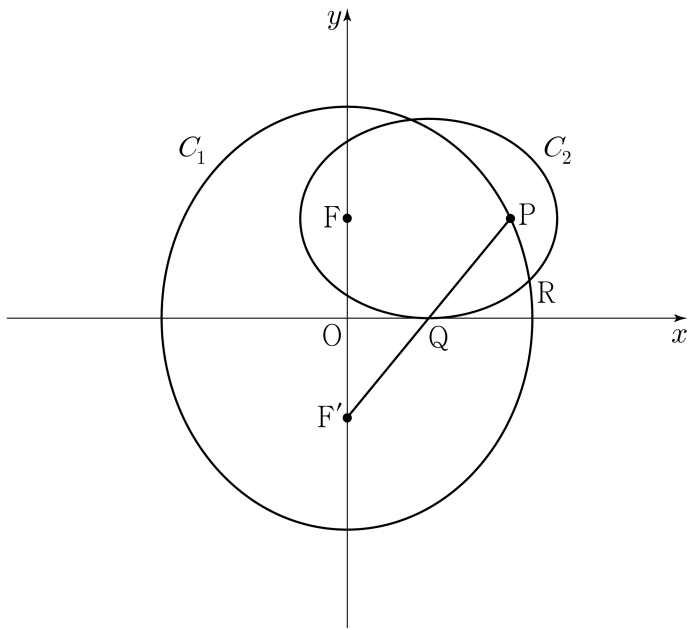
삼각형 OAB 의 xy 평면 위로의 정사영이 직각삼각형일 때, 평면 OAB 와 xy 평면이 이루는 예각의 크기를 θ 라 하자. $\cos \theta$ 의 값은? (단, O 는 원점이고, 점 A 의 z 좌표는 6이 아닌 양수이다.) [4점]

- ① $\frac{\sqrt{2}}{6}$ ② $\frac{\sqrt{2}}{5}$ ③ $\frac{\sqrt{2}}{4}$ ④ $\frac{\sqrt{2}}{3}$ ⑤ $\frac{\sqrt{2}}{2}$



단답형

29. 두 점 $F(0, 6)$, $F'(0, -6)$ 을 초점으로 하는 타원 C_1 에 대하여 점 F 를 지나고 x 축과 평행한 직선이 타원 C_1 과 만나는 점 중 제1사분면 위에 있는 점을 P , 선분 PF' 과 x 축이 만나는 점을 Q 라 하자. 두 점 P, F 를 초점으로 하고 점 Q 가 꼭짓점인 타원 C_2 에 대하여 두 타원 C_1, C_2 가 만나는 점 중 x 축에 가까운 점을 R 이라 하자. $\overline{F'R} - \overline{PR} = 7\sqrt{2}$ 일 때, 두 타원 C_1, C_2 의 장축의 길이의 곱을 구하시오. [4점]



30. 좌표평면에 $\overline{AB} = \overline{AC} = 8\sqrt{5}$, $\overline{BC} = 16$ 인 삼각형 ABC 가 있다. 선분 AB 위의 점 P , 선분 BC 위의 점 Q , 선분 CA 위의 점 R 이 다음 조건을 만족시킨다.

$$\begin{aligned} \text{(가)} & \quad (\overrightarrow{PB} + \overrightarrow{PQ}) \cdot \overrightarrow{BC} = (\overrightarrow{RC} + \overrightarrow{RQ}) \cdot \overrightarrow{BC} = 0 \\ \text{(나)} & \quad \overrightarrow{QP} \cdot \overrightarrow{QR} = |\overrightarrow{QP}|^2 \end{aligned}$$

$|3\overrightarrow{XP} + \overrightarrow{XR}| = |\overrightarrow{PR}|$ 을 만족시키는 점 X 에 대하여 $|\overrightarrow{BX}|$ 의 최댓값과 최솟값을 각각 M, m 이라 할 때, $M \times m$ 의 값을 구하시오. (단, $|\overrightarrow{PQ}| > 0$) [4점]

* 확인 사항
 ○ 답안지의 해당란에 필요한 내용을 정확히 기입(표기)했는지 확인하시오.

제 2 교시

수학 영역

출수형

5지선다형

1. $\sqrt[3]{5} \times 25^{\frac{1}{3}}$ 의 값은? [2점]

- ① 1 ② 2 ③ 3 ④ 4 ⑤ 5

2. 함수 $f(x) = x^3 - 8x + 7$ 에 대하여 $\lim_{h \rightarrow 0} \frac{f(2+h) - f(2)}{h}$ 의 값은? [2점]

- ① 1 ② 2 ③ 3 ④ 4 ⑤ 5

3. 첫째항과 공비가 모두 양수 k 인 등비수열 $\{a_n\}$ 이

$$\frac{a_4}{a_2} + \frac{a_2}{a_1} = 30$$

을 만족시킬 때, k 의 값은? [3점]

- ① 1 ② 2 ③ 3 ④ 4 ⑤ 5

4. 함수

$$f(x) = \begin{cases} 5x + a & (x < -2) \\ x^2 - a & (x \geq -2) \end{cases}$$

가 실수 전체의 집합에서 연속일 때, 상수 a 의 값은? [3점]

- ① 6 ② 7 ③ 8 ④ 9 ⑤ 10

5. 함수 $f(x) = (x^2 + 1)(3x^2 - x)$ 에 대하여 $f'(1)$ 의 값은? [3점]

- ① 8 ② 10 ③ 12 ④ 14 ⑤ 16

6. $\cos\left(\frac{\pi}{2} + \theta\right) = -\frac{1}{5}$ 일 때, $\frac{\sin\theta}{1 - \cos^2\theta}$ 의 값은? [3점]

- ① -5 ② $-\sqrt{5}$ ③ 0 ④ $\sqrt{5}$ ⑤ 5

7. 다항함수 $f(x)$ 가 모든 실수 x 에 대하여

$$\int_0^x f(t) dt = 3x^3 + 2x$$

를 만족시킬 때, $f(1)$ 의 값은? [3점]

- ① 7 ② 9 ③ 11 ④ 13 ⑤ 15

8. 두 실수 $a = 2\log \frac{1}{\sqrt{10}} + \log_2 20$, $b = \log 2$ 에 대하여 $a \times b$ 의 값은? [3점]

- ① 1 ② 2 ③ 3 ④ 4 ⑤ 5

9. 함수 $f(x) = 3x^2 - 16x - 20$ 에 대하여

$$\int_{-2}^a f(x) dx = \int_{-2}^0 f(x) dx$$

일 때, 양수 a 의 값은? [4점]

- ① 16 ② 14 ③ 12 ④ 10 ⑤ 8

10. 닫힌구간 $[0, 2\pi]$ 에서 정의된 함수 $f(x) = a \cos bx + 3$ 이

$x = \frac{\pi}{3}$ 에서 최댓값 13을 갖도록 하는 두 자연수 a, b 의

순서쌍 (a, b) 에 대하여 $a + b$ 의 최솟값은? [4점]

- ① 12 ② 14 ③ 16 ④ 18 ⑤ 20

11. 시각 $t=0$ 일 때 출발하여 수직선 위를 움직이는 점 P의 시각 $t(t \geq 0)$ 에서의 위치 x 가

$$x = t^3 - \frac{3}{2}t^2 - 6t$$

이다. 출발한 후 점 P의 운동 방향이 바뀌는 시각에서의 점 P의 가속도는? [4점]

- ① 6 ② 9 ③ 12 ④ 15 ⑤ 18

12. $a_1 = 2$ 인 수열 $\{a_n\}$ 과 $b_1 = 2$ 인 등차수열 $\{b_n\}$ 이 모든 자연수 n 에 대하여

$$\sum_{k=1}^n \frac{a_k}{b_{k+1}} = \frac{1}{2}n^2$$

을 만족시킬 때, $\sum_{k=1}^5 a_k$ 의 값은? [4점]

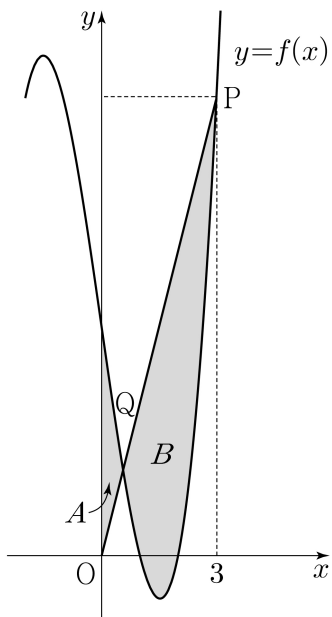
- ① 120 ② 125 ③ 130 ④ 135 ⑤ 140

13. 최고차항의 계수가 1인 삼차함수 $f(x)$ 가

$$f(1) = f(2) = 0, \quad f'(0) = -7$$

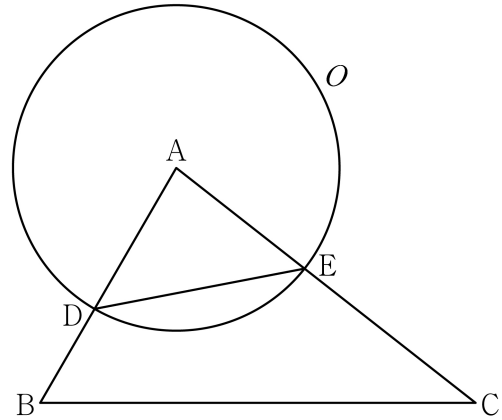
을 만족시킨다. 원점 O 와 점 $P(3, f(3))$ 에 대하여 선분 OP 가 곡선 $y=f(x)$ 와 만나는 점 중 P 가 아닌 점을 Q 라 하자. 곡선 $y=f(x)$ 와 y 축 및 선분 OQ 로 둘러싸인 부분의 넓이를 A , 곡선 $y=f(x)$ 와 선분 PQ 로 둘러싸인 부분의 넓이를 B 라 할 때, $B-A$ 의 값은? [4점]

- ① $\frac{37}{4}$ ② $\frac{39}{4}$ ③ $\frac{41}{4}$ ④ $\frac{43}{4}$ ⑤ $\frac{45}{4}$



14. 그림과 같이 삼각형 ABC 에서 선분 AB 위에 $\overline{AD} : \overline{DB} = 3 : 2$ 인 점 D 를 잡고, 점 A 를 중심으로 하고 점 D 를 지나는 원을 O , 원 O 와 선분 AC 가 만나는 점을 E 라 하자.

$\sin A : \sin C = 8 : 5$ 이고, 삼각형 ADE 와 삼각형 ABC 의 넓이의 비가 $9 : 35$ 이다. 삼각형 ABC 의 외접원의 반지름의 길이가 7일 때, 원 O 위의 점 P 에 대하여 삼각형 PBC 의 넓이의 최댓값은? (단, $\overline{AB} < \overline{AC}$) [4점]



- ① $18 + 15\sqrt{3}$ ② $24 + 20\sqrt{3}$ ③ $30 + 25\sqrt{3}$
 ④ $36 + 30\sqrt{3}$ ⑤ $42 + 35\sqrt{3}$

15. 상수 $a(a \neq 3\sqrt{5})$ 와 최고차항의 계수가 음수인 이차함수 $f(x)$ 에 대하여 함수

$$g(x) = \begin{cases} x^3 + ax^2 + 15x + 7 & (x \leq 0) \\ f(x) & (x > 0) \end{cases}$$

이 다음 조건을 만족시킨다.

- (가) 함수 $g(x)$ 는 실수 전체의 집합에서 미분가능하다.
 (나) x 에 대한 방정식 $g'(x) \times g'(x-4) = 0$ 의 서로 다른 실근의 개수는 4이다.

$g(-2) + g(2)$ 의 값은? [4점]

- ① 30 ② 32 ③ 34 ④ 36 ⑤ 38

단답형

16. 방정식

$$\log_2(x-3) = \log_4(3x-5)$$

를 만족시키는 실수 x 의 값을 구하시오. [3점]

17. 다항함수 $f(x)$ 에 대하여 $f'(x) = 9x^2 + 4x$ 이고 $f(1) = 6$ 일 때, $f(2)$ 의 값을 구하시오. [3점]

18. 수열 $\{a_n\}$ 이 모든 자연수 n 에 대하여

$$a_n + a_{n+4} = 12$$

를 만족시킬 때, $\sum_{n=1}^{16} a_n$ 의 값을 구하시오. [3점]

19. 양수 a 에 대하여 함수 $f(x)$ 를

$$f(x) = 2x^3 - 3ax^2 - 12a^2x$$

라 하자. 함수 $f(x)$ 의 극댓값이 $\frac{7}{27}$ 일 때, $f(3)$ 의 값을 구하시오. [3점]

20. 곡선 $y = \left(\frac{1}{5}\right)^{x-3}$ 과 직선 $y=x$ 가 만나는 점의 x 좌표를 k 라 하자. 실수 전체의 집합에서 정의된 함수 $f(x)$ 가 다음 조건을 만족시킨다.

$x > k$ 인 모든 실수 x 에 대하여
 $f(x) = \left(\frac{1}{5}\right)^{x-3}$ 이고 $f(f(x)) = 3x$ 이다.

$f\left(\frac{1}{k^3 \times 5^{3k}}\right)$ 의 값을 구하시오. [4점]

21. 함수 $f(x) = x^3 + ax^2 + bx + 4$ 가 다음 조건을 만족시키도록 하는 두 정수 a, b 에 대하여 $f(1)$ 의 최댓값을 구하시오. [4점]

모든 실수 α 에 대하여 $\lim_{x \rightarrow \alpha} \frac{f(2x+1)}{f(x)}$ 의 값이 존재한다.

22. 모든 항이 정수이고 다음 조건을 만족시키는 모든 수열 $\{a_n\}$ 에 대하여 $|a_1|$ 의 값의 합을 구하시오. [4점]

(가) 모든 자연수 n 에 대하여

$$a_{n+1} = \begin{cases} a_n - 3 & (|a_n| \text{ 이 홀수인 경우}) \\ \frac{1}{2}a_n & (a_n = 0 \text{ 또는 } |a_n| \text{ 이 짝수인 경우}) \end{cases}$$

이다.

(나) $|a_m| = |a_{m+2}|$ 인 자연수 m 의 최솟값은 3이다.

* 확인 사항

- 답안지의 해당란에 필요한 내용을 정확히 기입(표기)했는지 확인하시오.
- 이어서, 「선택과목(확률과 통계)」 문제가 제시되오니, 자신이 선택한 과목인지 확인하시오.

제 2 교시

수학 영역(기하)

출수형

5지선다형

23. 두 벡터 $\vec{a} = (k, 3)$, $\vec{b} = (1, 2)$ 에 대하여 $\vec{a} + 3\vec{b} = (6, 9)$ 일 때, k 의 값은? [2점]

- ① 1
- ② 2
- ③ 3
- ④ 4
- ⑤ 5

24. 꼭짓점의 좌표가 $(1, 0)$ 이고, 준선이 $x = -1$ 인 포물선이 점 $(3, a)$ 를 지날 때, 양수 a 의 값은? [3점]

- ① 1
- ② 2
- ③ 3
- ④ 4
- ⑤ 5

25. 좌표공간의 두 점 $A(a, b, 6)$, $B(-4, -2, c)$ 에 대하여 선분 AB를 3:2로 내분하는 점이 z 축 위에 있고, 선분 AB를 3:2로 외분하는 점이 xy 평면 위에 있을 때, $a+b+c$ 의 값은? [3점]

- ① 11 ② 12 ③ 13 ④ 14 ⑤ 15

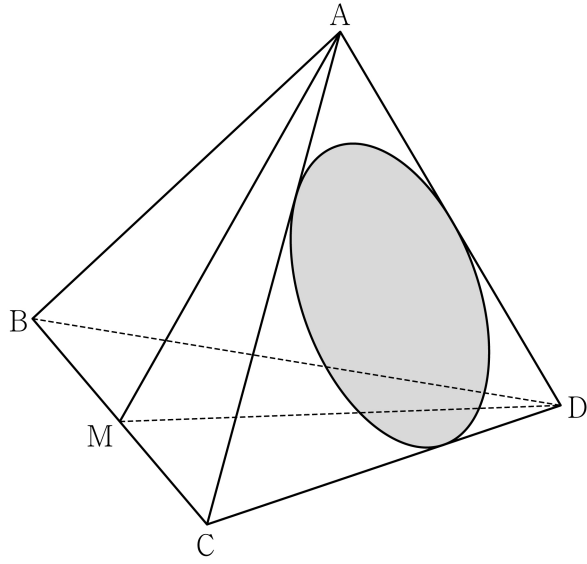
26. 자연수 $n(n \geq 2)$ 에 대하여 직선 $x = \frac{1}{n}$ 이 두 타원

$$C_1 : \frac{x^2}{2} + y^2 = 1, \quad C_2 : 2x^2 + \frac{y^2}{2} = 1$$

과 만나는 제1사분면 위의 점을 각각 P, Q라 하자. 타원 C_1 위의 점 P에서의 접선의 x 절편을 α , 타원 C_2 위의 점 Q에서의 접선의 x 절편을 β 라 할 때, $6 \leq \alpha - \beta \leq 15$ 가 되도록 하는 모든 n 의 개수는? [3점]

- ① 7 ② 9 ③ 11 ④ 13 ⑤ 15

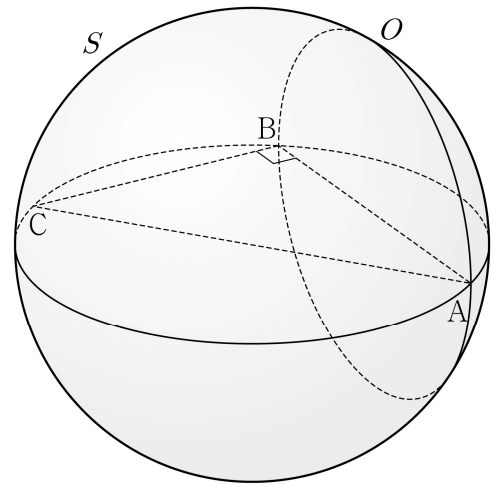
27. 그림과 같이 $\overline{AB} = 6$, $\overline{BC} = 4\sqrt{5}$ 인 사면체 ABCD 에 대하여 선분 BC의 중점을 M이라 하자. 삼각형 AMD가 정삼각형이고 직선 BC는 평면 AMD와 수직일 때, 삼각형 ACD에 내접하는 원의 평면 BCD 위로의 정사영의 넓이는? [3점]



- ① $\frac{\sqrt{10}}{4}\pi$
- ② $\frac{\sqrt{10}}{6}\pi$
- ③ $\frac{\sqrt{10}}{8}\pi$
- ④ $\frac{\sqrt{10}}{10}\pi$
- ⑤ $\frac{\sqrt{10}}{12}\pi$

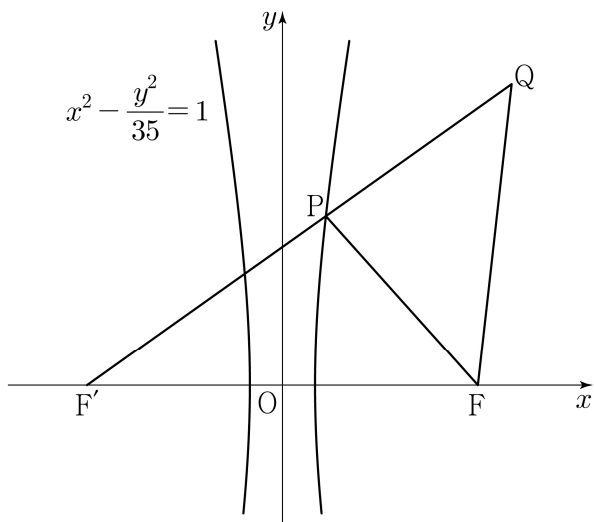
28. 좌표공간에 $\overline{AB} = 8$, $\overline{BC} = 6$, $\angle ABC = \frac{\pi}{2}$ 인 직각삼각형 ABC와 선분 AC를 지름으로 하는 구 S가 있다. 직선 AB를 포함하고 평면 ABC에 수직인 평면이 구 S와 만나서 생기는 원을 O라 하자. 원 O 위의 점 중에서 직선 AC까지의 거리가 4인 서로 다른 두 점을 P, Q라 할 때, 선분 PQ의 길이는? [4점]

- ① $\sqrt{43}$
- ② $\sqrt{47}$
- ③ $\sqrt{51}$
- ④ $\sqrt{55}$
- ⑤ $\sqrt{59}$



단답형

29. 두 초점이 $F(c, 0)$, $F'(-c, 0)$ ($c > 0$)인 쌍곡선 $x^2 - \frac{y^2}{35} = 1$ 이 있다. 이 쌍곡선 위에 있는 제1사분면 위의 점 P 에 대하여 직선 PF' 위에 $\overline{PQ} = \overline{PF}$ 인 점 Q 를 잡자. 삼각형 $QF'F$ 와 삼각형 $FF'P$ 가 서로 닮음일 때, 삼각형 PFQ 의 넓이는 $\frac{q}{p}\sqrt{5}$ 이다. $p+q$ 의 값을 구하시오. (단, $\overline{PF'} < \overline{QF'}$ 이고, p 와 q 는 서로소인 자연수이다.) [4점]



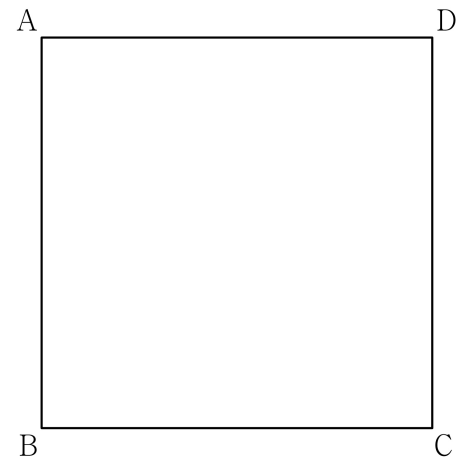
30. 좌표평면에 한 변의 길이가 4인 정사각형 ABCD가 있다.

$$|\overrightarrow{XB} + \overrightarrow{XC}| = |\overrightarrow{XB} - \overrightarrow{XC}|$$

를 만족시키는 점 X 가 나타내는 도형을 S 라 하자. 도형 S 위의 점 P 에 대하여

$$4\overrightarrow{PQ} = \overrightarrow{PB} + 2\overrightarrow{PD}$$

를 만족시키는 점을 Q 라 할 때, $\overrightarrow{AC} \cdot \overrightarrow{AQ}$ 의 최댓값과 최솟값을 각각 M, m 이라 하자. $M \times m$ 의 값을 구하시오. [4점]



* 확인 사항
 ○ 답안지의 해당란에 필요한 내용을 정확히 기입(표기)했는지 확인 하시오.

제 2 교시

수학 영역

5지선다형

1. $\frac{\sqrt[4]{32}}{\sqrt[3]{4}}$ 의 값은? [2점]

- ① $\sqrt{2}$ ② 2 ③ $2\sqrt{2}$ ④ 4 ⑤ $4\sqrt{2}$

2. 함수 $f(x) = x^3 + 3x^2 - 5$ 에 대하여 $\lim_{h \rightarrow 0} \frac{f(1+h) - f(1)}{h}$ 의 값은? [2점]

- ① 5 ② 6 ③ 7 ④ 8 ⑤ 9

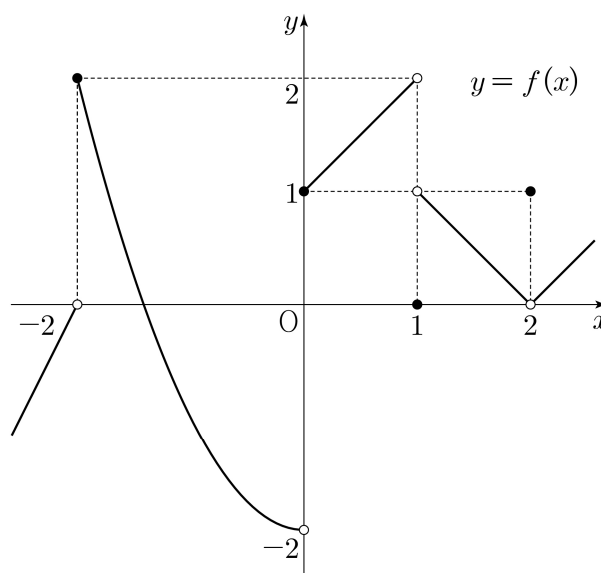
3. 모든 항이 실수인 등비수열 $\{a_n\}$ 에 대하여

$$a_2 a_3 = 2, \quad a_4 = 4$$

일 때, a_6 의 값은? [3점]

- ① 10 ② 12 ③ 14 ④ 16 ⑤ 18

4. 함수 $y = f(x)$ 의 그래프가 그림과 같다.



$\lim_{x \rightarrow 0^-} f(x) + \lim_{x \rightarrow 1^+} f(x)$ 의 값은? [3점]

- ① -2 ② -1 ③ 0 ④ 1 ⑤ 2

5. 함수 $f(x) = (x+1)(x^2+x-5)$ 에 대하여 $f'(2)$ 의 값은? [3점]

- ① 15 ② 16 ③ 17 ④ 18 ⑤ 19

6. $\frac{\pi}{2} < \theta < \pi$ 인 θ 에 대하여 $\cos(\pi + \theta) = \frac{2\sqrt{5}}{5}$ 일 때,
 $\sin\theta + \cos\theta$ 의 값은? [3점]

- ① $-\frac{2\sqrt{5}}{5}$ ② $-\frac{\sqrt{5}}{5}$ ③ 0
 ④ $\frac{\sqrt{5}}{5}$ ⑤ $\frac{2\sqrt{5}}{5}$

7. 함수

$$f(x) = \begin{cases} (x-a)^2 & (x < 4) \\ 2x-4 & (x \geq 4) \end{cases}$$

가 실수 전체의 집합에서 연속이 되도록 하는 모든 상수 a 의
 값의 곱은? [3점]

- ① 6 ② 9 ③ 12 ④ 15 ⑤ 18

8. $a > 2$ 인 상수 a 에 대하여 두 수 $\log_2 a, \log_a 8$ 의 합과 곱이 각각 4, k 일 때, $a+k$ 의 값은? [3점]

- ① 11 ② 12 ③ 13 ④ 14 ⑤ 15

9. 함수 $f(x) = x^2 + x$ 에 대하여

$$5 \int_0^1 f(x) dx - \int_0^1 (5x + f(x)) dx$$

의 값은? [4점]

- ① $\frac{1}{6}$ ② $\frac{1}{3}$ ③ $\frac{1}{2}$ ④ $\frac{2}{3}$ ⑤ $\frac{5}{6}$

10. $\angle A > \frac{\pi}{2}$ 인 삼각형 ABC의 꼭짓점 A에서 선분 BC에 내린 수선의 발을 H라 하자.

$$\overline{AB} : \overline{AC} = \sqrt{2} : 1, \quad \overline{AH} = 2$$

이고, 삼각형 ABC의 외접원의 넓이가 50π 일 때, 선분 BH의 길이는? [4점]

- ① 6 ② $\frac{25}{4}$ ③ $\frac{13}{2}$ ④ $\frac{27}{4}$ ⑤ 7

11. 수직선 위를 움직이는 두 점 P, Q의 시각 t ($t \geq 0$)에서의 위치가 각각

$$x_1 = t^2 + t - 6, \quad x_2 = -t^3 + 7t^2$$

이다. 두 점 P, Q의 위치가 같아지는 순간 두 점 P, Q의 가속도를 각각 p, q 라 할 때, $p - q$ 의 값은? [4점]

- ① 24 ② 27 ③ 30 ④ 33 ⑤ 36

12. 수열 $\{a_n\}$ 은 등차수열이고, 수열 $\{b_n\}$ 은 모든 자연수 n 에 대하여

$$b_n = \sum_{k=1}^n (-1)^{k+1} a_k$$

를 만족시킨다. $b_2 = -2, b_3 + b_7 = 0$ 일 때, 수열 $\{b_n\}$ 의 첫째항부터 제9항까지의 합은? [4점]

- ① -22 ② -20 ③ -18 ④ -16 ⑤ -14

13. 함수

$$f(x) = \begin{cases} -x^2 - 2x + 6 & (x < 0) \\ -x^2 + 2x + 6 & (x \geq 0) \end{cases}$$

의 그래프가 x 축과 만나는 서로 다른 두 점을 P, Q라 하고, 상수 $k(k > 4)$ 에 대하여 직선 $x = k$ 가 x 축과 만나는 점을 R이라 하자. 곡선 $y = f(x)$ 와 선분 PQ로 둘러싸인 부분의 넓이를 A, 곡선 $y = f(x)$ 와 직선 $x = k$ 및 선분 QR로 둘러싸인 부분의 넓이를 B라 하자. $A = 2B$ 일 때, k 의 값은? (단, 점 P의 x 좌표는 음수이다.) [4점]

- ① $\frac{9}{2}$ ② 5 ③ $\frac{11}{2}$ ④ 6 ⑤ $\frac{13}{2}$

14. 자연수 n 에 대하여 곡선 $y = 2^x$ 위의 두 점 A_n, B_n 이 다음 조건을 만족시킨다.

(가) 직선 $A_n B_n$ 의 기울기는 3이다.

(나) $\overline{A_n B_n} = n \times \sqrt{10}$

중심이 직선 $y = x$ 위에 있고 두 점 A_n, B_n 을 지나는 원이 곡선 $y = \log_2 x$ 와 만나는 두 점의 x 좌표 중 큰 값을 x_n 이라 하자. $x_1 + x_2 + x_3$ 의 값은? [4점]

- ① $\frac{150}{7}$ ② $\frac{155}{7}$ ③ $\frac{160}{7}$ ④ $\frac{165}{7}$ ⑤ $\frac{170}{7}$

15. 두 다항함수 $f(x)$, $g(x)$ 는 모든 실수 x 에 대하여 다음 조건을 만족시킨다.

$$(가) \int_1^x tf(t)dt + \int_{-1}^x tg(t)dt = 3x^4 + 8x^3 - 3x^2$$

$$(나) f(x) = xg'(x)$$

$\int_0^3 g(x)dx$ 의 값은? [4점]

- ① 72 ② 76 ③ 80 ④ 84 ⑤ 88

단답형

16. 방정식

$$\log_3(x+2) - \log_{\frac{1}{3}}(x-4) = 3$$

을 만족시키는 실수 x 의 값을 구하십시오. [3점]

17. 함수 $f(x)$ 에 대하여 $f'(x) = 6x^2 + 2x + 1$ 이고 $f(0) = 1$ 일 때, $f(1)$ 의 값을 구하십시오. [3점]

18. 수열 $\{a_n\}$ 에 대하여

$$\sum_{k=1}^{10} ka_k = 36, \quad \sum_{k=1}^9 ka_{k+1} = 7$$

일 때, $\sum_{k=1}^{10} a_k$ 의 값을 구하시오. [3점]

19. 함수 $f(x) = x^3 + ax^2 - 9x + b$ 는 $x=1$ 에서 극소이다.
 함수 $f(x)$ 의 극댓값이 28일 때, $a+b$ 의 값을 구하시오.
 (단, a 와 b 는 상수이다.) [3점]

20. 닫힌구간 $[0, 2\pi]$ 에서 정의된 함수

$$f(x) = \begin{cases} \sin x - 1 & (0 \leq x < \pi) \\ -\sqrt{2}\sin x - 1 & (\pi \leq x \leq 2\pi) \end{cases}$$

가 있다. $0 \leq t \leq 2\pi$ 인 실수 t 에 대하여 x 에 대한 방정식 $f(x) = f(t)$ 의 서로 다른 실근의 개수가 3이 되도록 하는 모든 t 의 값의 합은 $\frac{q}{p}\pi$ 이다. $p+q$ 의 값을 구하시오.
 (단, p 와 q 는 서로소인 자연수이다.) [4점]

21. 최고차항의 계수가 1인 삼차함수 $f(x)$ 가 모든 정수 k 에 대하여

$$2k-8 \leq \frac{f(k+2) - f(k)}{2} \leq 4k^2 + 14k$$

를 만족시킬 때, $f'(3)$ 의 값을 구하시오. [4점]

22. 양수 k 에 대하여 $a_1 = k$ 인 수열 $\{a_n\}$ 이 다음 조건을 만족시킨다.

$$(가) \ a_2 \times a_3 < 0$$

(나) 모든 자연수 n 에 대하여

$$\left(a_{n+1} - a_n + \frac{2}{3}k\right)(a_{n+1} + ka_n) = 0 \text{이다.}$$

$a_5 = 0$ 이 되도록 하는 서로 다른 모든 양수 k 에 대하여

k^2 의 값의 합을 구하시오. [4점]

* 확인 사항

○ 답안지의 해당란에 필요한 내용을 정확히 기입(표기)했는지 확인하시오.

○ 이어서, 「선택과목(확률과 통계)」 문제가 제시되오니, 자신이 선택한 과목인지 확인하시오.

제 2 교시

수학 영역(기하)

5지선다형

23. 두 벡터 $\vec{a} = (4, 0)$, $\vec{b} = (1, 3)$ 에 대하여 $2\vec{a} + \vec{b} = (9, k)$ 일 때, k 의 값은? [2점]

- ① 1 ② 2 ③ 3 ④ 4 ⑤ 5

24. 타원 $\frac{x^2}{4^2} + \frac{y^2}{b^2} = 1$ 의 두 초점 사이의 거리가 6일 때, b^2 의 값은? (단, $0 < b < 4$) [3점]

- ① 4 ② 5 ③ 6 ④ 7 ⑤ 8

2

수학 영역(기하)

25. 좌표공간의 서로 다른 두 점 $A(a, b, -5)$, $B(-8, 6, c)$ 에 대하여 선분 AB 의 중점이 zx 평면 위에 있고, 선분 AB 를 1:2로 내분하는 점이 y 축 위에 있을 때, $a+b+c$ 의 값은?

[3점]

- ① -8 ② -4 ③ 0 ④ 4 ⑤ 8

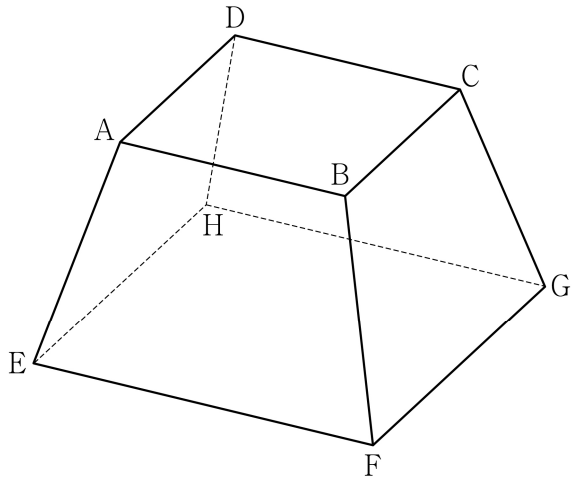
26. 좌표평면에서 점 $(1, 0)$ 을 중심으로 하고 반지름의 길이가 6인 원을 C 라 하자. 포물선 $y^2 = 4x$ 위의 점 $(n^2, 2n)$ 에서의 접선이 원 C 와 만나도록 하는 자연수 n 의 개수는? [3점]

- ① 1 ② 3 ③ 5 ④ 7 ⑤ 9

27. 그림과 같이 한 변의 길이가 각각 4, 6인 두 정사각형 ABCD, EFGH를 밑면으로 하고

$$\overline{AE} = \overline{BF} = \overline{CG} = \overline{DH}$$

인 사각뿔대 ABCD-EFGH가 있다. 사각뿔대 ABCD-EFGH의 높이가 $\sqrt{14}$ 일 때, 사각형 AEHD의 평면 BFGC 위로의 정사영의 넓이는? [3점]



- ① $\frac{10}{3}\sqrt{15}$ ② $\frac{11}{3}\sqrt{15}$ ③ $4\sqrt{15}$
- ④ $\frac{13}{3}\sqrt{15}$ ⑤ $\frac{14}{3}\sqrt{15}$

28. 좌표공간에 두 점 $A(a, 0, 0)$, $B(0, 10\sqrt{2}, 0)$ 과

구 $S: x^2 + y^2 + z^2 = 100$ 이 있다. $\angle APO = \frac{\pi}{2}$ 인 구 S 위의

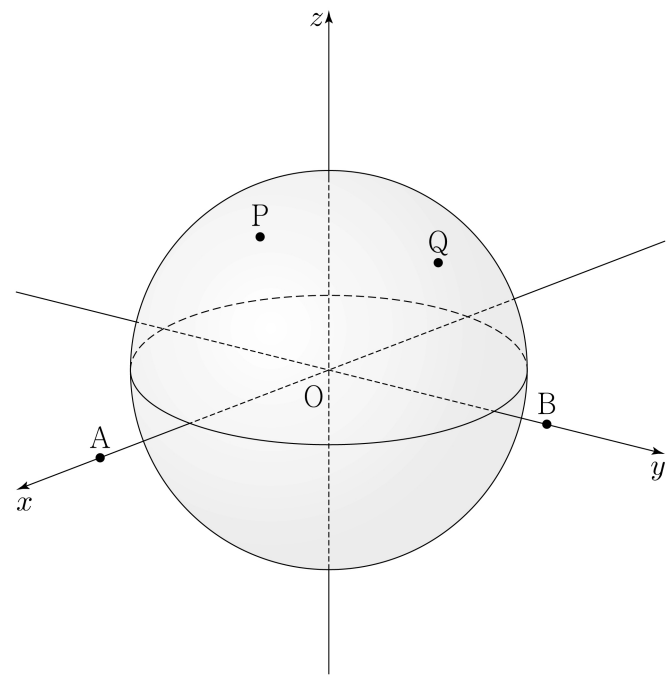
모든 점 P 가 나타내는 도형을 C_1 , $\angle BQO = \frac{\pi}{2}$ 인 구 S 위의

모든 점 Q 가 나타내는 도형을 C_2 라 하자. C_1 과 C_2 가 서로

다른 두 점 N_1, N_2 에서 만나고 $\cos(\angle N_1ON_2) = \frac{3}{5}$ 일 때,

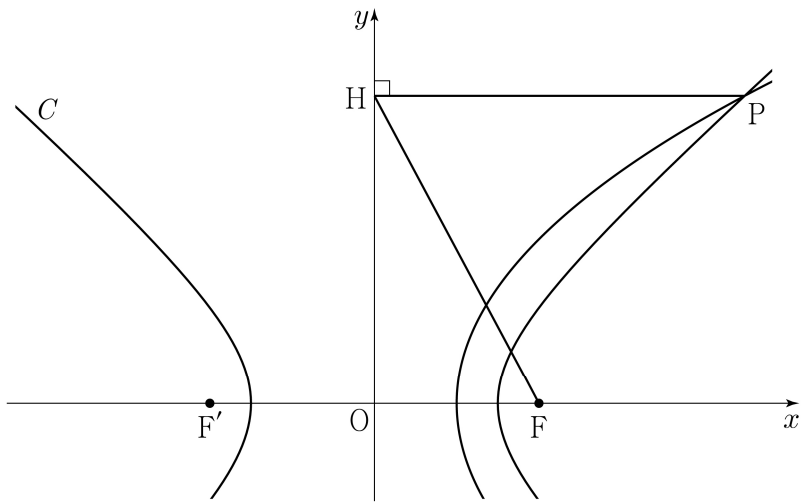
a 의 값은? (단, $a > 10\sqrt{2}$ 이고, O 는 원점이다.) [4점]

- ① $\frac{10}{3}\sqrt{30}$ ② $\frac{15}{4}\sqrt{30}$ ③ $\frac{25}{6}\sqrt{30}$
- ④ $\frac{55}{12}\sqrt{30}$ ⑤ $5\sqrt{30}$



단답형

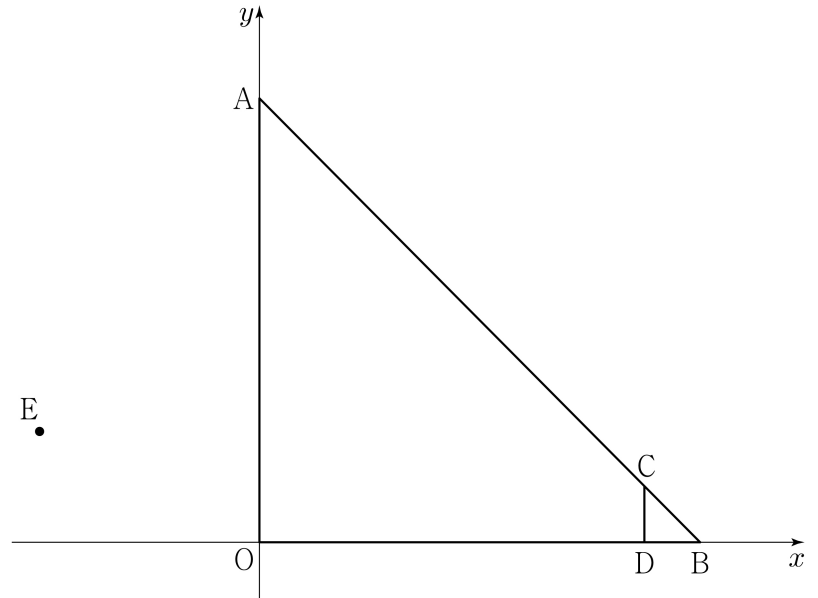
29. 그림과 같이 두 점 $F(4, 0)$, $F'(-4, 0)$ 을 초점으로 하는 쌍곡선 $C: \frac{x^2}{a^2} - \frac{y^2}{b^2} = 1$ 이 있다. 점 F 를 초점으로 하고 y 축을 준선으로 하는 포물선이 쌍곡선 C 와 만나는 점 중 제1사분면 위의 점을 P 라 하자. 점 P 에서 y 축에 내린 수선의 발을 H 라 할 때, $\overline{PH} : \overline{HF} = 3 : 2\sqrt{2}$ 이다. $a^2 \times b^2$ 의 값을 구하시오. (단, $a > b > 0$) [4점]



30. 좌표평면 위에 다섯 점

$$A(0, 8), B(8, 0), C(7, 1), D(7, 0), E(-4, 2)$$

가 있다. 삼각형 AOB 의 변 AB 를 움직이는 점 P 와 삼각형 CDB 의 변 CB 를 움직이는 점 Q 에 대하여 $|\overline{PQ} + \overline{OE}|^2$ 의 최댓값을 M , 최솟값을 m 이라 할 때, $M + m$ 의 값을 구하시오. (단, O 는 원점이다.) [4점]



* 확인 사항
○ 답안지의 해당란에 필요한 내용을 정확히 기입(표기)했는지 확인하시오.

제 2 교시

수학 영역

5지선다형

1. $\left(\frac{5}{\sqrt[3]{25}}\right)^{\frac{3}{2}}$ 의 값은? [2점]

- ① $\frac{1}{5}$ ② $\frac{\sqrt{5}}{5}$ ③ 1 ④ $\sqrt{5}$ ⑤ 5

2. 함수 $f(x) = x^2 + x + 2$ 에 대하여 $\lim_{h \rightarrow 0} \frac{f(2+h) - f(2)}{h}$ 의 값은? [2점]

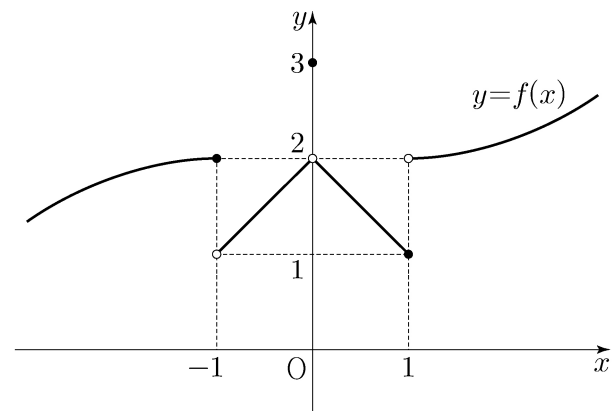
- ① 1 ② 2 ③ 3 ④ 4 ⑤ 5

3. 수열 $\{a_n\}$ 에 대하여 $\sum_{k=1}^5 (a_k + 1) = 9$ 이고 $a_6 = 4$ 일 때,

$\sum_{k=1}^6 a_k$ 의 값은? [3점]

- ① 6 ② 7 ③ 8 ④ 9 ⑤ 10

4. 함수 $y = f(x)$ 의 그래프가 그림과 같다.



$\lim_{x \rightarrow 0^+} f(x) + \lim_{x \rightarrow 1^-} f(x)$ 의 값은? [3점]

- ① 1 ② 2 ③ 3 ④ 4 ⑤ 5

5. 함수 $f(x) = (x^2 - 1)(x^2 + 2x + 2)$ 에 대하여 $f'(1)$ 의 값은?
[3점]

- ① 6 ② 7 ③ 8 ④ 9 ⑤ 10

7. x 에 대한 방정식 $x^3 - 3x^2 - 9x + k = 0$ 의 서로 다른 실근의 개수가 2가 되도록 하는 모든 실수 k 의 값의 합은? [3점]

- ① 13 ② 16 ③ 19 ④ 22 ⑤ 25

6. $\pi < \theta < \frac{3}{2}\pi$ 인 θ 에 대하여 $\sin\left(\theta - \frac{\pi}{2}\right) = \frac{3}{5}$ 일 때,
 $\sin\theta$ 의 값은? [3점]

- ① $-\frac{4}{5}$ ② $-\frac{3}{5}$ ③ $\frac{3}{5}$ ④ $\frac{3}{4}$ ⑤ $\frac{4}{5}$

8. $a_1 a_2 < 0$ 인 등비수열 $\{a_n\}$ 에 대하여

$$a_6 = 16, \quad 2a_8 - 3a_7 = 32$$

일 때, $a_9 + a_{11}$ 의 값은? [3점]

- ① $-\frac{5}{2}$ ② $-\frac{3}{2}$ ③ $-\frac{1}{2}$ ④ $\frac{1}{2}$ ⑤ $\frac{3}{2}$

9. 함수

$$f(x) = \begin{cases} x - \frac{1}{2} & (x < 0) \\ -x^2 + 3 & (x \geq 0) \end{cases}$$

에 대하여 함수 $(f(x) + a)^2$ 이 실수 전체의 집합에서 연속일 때, 상수 a 의 값은? [4점]

- ① $-\frac{9}{4}$ ② $-\frac{7}{4}$ ③ $-\frac{5}{4}$ ④ $-\frac{3}{4}$ ⑤ $-\frac{1}{4}$

10. 다음 조건을 만족시키는 삼각형 ABC 의 외접원의 넓이가 9π 일 때, 삼각형 ABC 의 넓이는? [4점]

(가) $3 \sin A = 2 \sin B$

(나) $\cos B = \cos C$

- ① $\frac{32}{9} \sqrt{2}$ ② $\frac{40}{9} \sqrt{2}$ ③ $\frac{16}{3} \sqrt{2}$
 ④ $\frac{56}{9} \sqrt{2}$ ⑤ $\frac{64}{9} \sqrt{2}$

11. 최고차항의 계수가 1이고 $f(0)=0$ 인 삼차함수 $f(x)$ 가

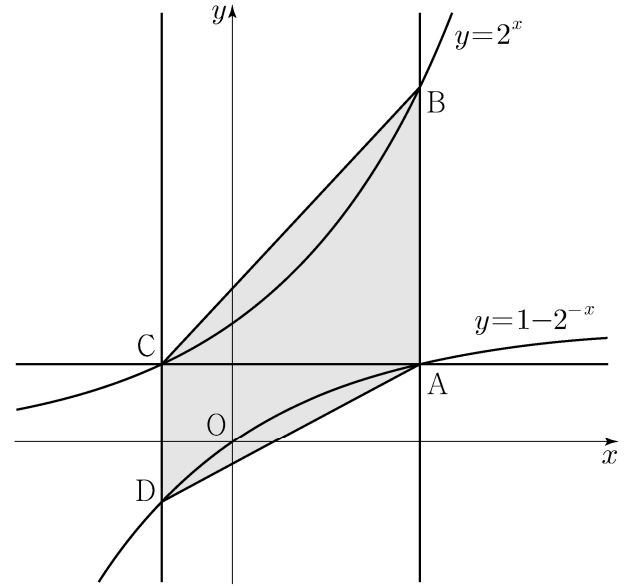
$$\lim_{x \rightarrow a} \frac{f(x)-1}{x-a} = 3$$

을 만족시킨다. 곡선 $y=f(x)$ 위의 점 $(a, f(a))$ 에서의 접선의 y 절편이 4일 때, $f(1)$ 의 값은? (단, a 는 상수이다.) [4점]

- ① -1 ② -2 ③ -3 ④ -4 ⑤ -5

12. 그림과 같이 곡선 $y=1-2^{-x}$ 위의 제1사분면에 있는

점 A를 지나고 y 축에 평행한 직선이 곡선 $y=2^x$ 과 만나는 점을 B라 하자. 점 A를 지나고 x 축에 평행한 직선이 곡선 $y=2^x$ 과 만나는 점을 C, 점 C를 지나고 y 축에 평행한 직선이 곡선 $y=1-2^{-x}$ 과 만나는 점을 D라 하자. $\overline{AB}=2\overline{CD}$ 일 때, 사각형 ABCD의 넓이는? [4점]



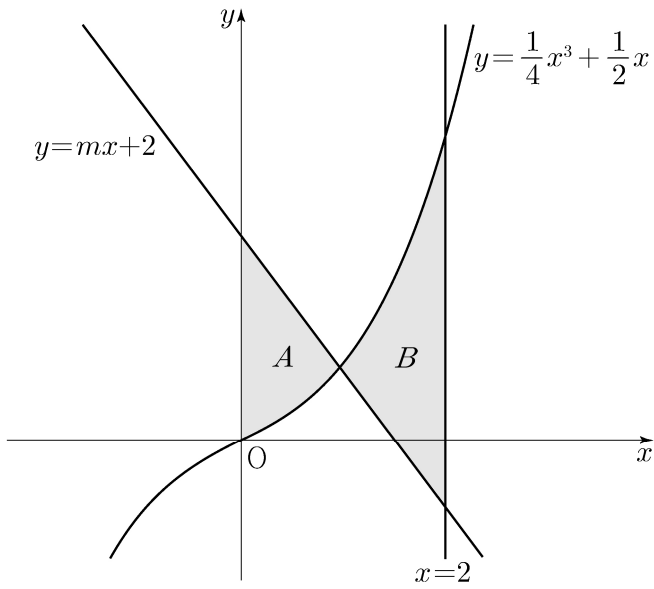
- ① $\frac{5}{2}\log_2 3 - \frac{5}{4}$ ② $3\log_2 3 - \frac{3}{2}$ ③ $\frac{7}{2}\log_2 3 - \frac{7}{4}$
 ④ $4\log_2 3 - 2$ ⑤ $\frac{9}{2}\log_2 3 - \frac{9}{4}$

13. 곡선 $y = \frac{1}{4}x^3 + \frac{1}{2}x$ 와 직선 $y = mx + 2$ 및 y 축으로

둘러싸인 부분의 넓이를 A , 곡선 $y = \frac{1}{4}x^3 + \frac{1}{2}x$ 와 두 직선 $y = mx + 2$, $x = 2$ 로 둘러싸인 부분의 넓이를 B 라 하자.

$B - A = \frac{2}{3}$ 일 때, 상수 m 의 값은? (단, $m < -1$) [4점]

- ① $-\frac{3}{2}$ ② $-\frac{17}{12}$ ③ $-\frac{4}{3}$ ④ $-\frac{5}{4}$ ⑤ $-\frac{7}{6}$



14. 다음 조건을 만족시키는 모든 자연수 k 의 값의 합은? [4점]

$\log_2 \sqrt{-n^2 + 10n + 75} - \log_4(75 - kn)$ 의 값이 양수가 되도록 하는 자연수 n 의 개수가 12이다.

- ① 6 ② 7 ③ 8 ④ 9 ⑤ 10

15. 최고차항의 계수가 1인 삼차함수 $f(x)$ 와 상수 $k(k \geq 0)$ 에 대하여 함수

$$g(x) = \begin{cases} 2x - k & (x \leq k) \\ f(x) & (x > k) \end{cases}$$

가 다음 조건을 만족시킨다.

(가) 함수 $g(x)$ 는 실수 전체의 집합에서 증가하고 미분가능하다.

(나) 모든 실수 x 에 대하여

$$\int_0^x g(t) \{ |t(t-1)| + t(t-1) \} dt \geq 0 \text{ 이고}$$

$$\int_3^x g(t) \{ |(t-1)(t+2)| - (t-1)(t+2) \} dt \geq 0 \text{ 이다.}$$

$g(k+1)$ 의 최솟값은? [4점]

- ① $4 - \sqrt{6}$ ② $5 - \sqrt{6}$ ③ $6 - \sqrt{6}$
 ④ $7 - \sqrt{6}$ ⑤ $8 - \sqrt{6}$

단답형

16. 방정식 $\log_2(x+1) - 5 = \log_{\frac{1}{2}}(x-3)$ 을 만족시키는 실수 x 의 값을 구하시오. [3점]

17. 함수 $f(x)$ 에 대하여 $f'(x) = 6x^2 + 2$ 이고 $f(0) = 3$ 일 때, $f(2)$ 의 값을 구하시오. [3점]

18. $\sum_{k=1}^9 (ak^2 - 10k) = 120$ 일 때, 상수 a 의 값을 구하시오. [3점]

20. 5 이하의 두 자연수 a, b 에 대하여 열린구간 $(0, 2\pi)$ 에서 정의된 함수 $y = a\sin x + b$ 의 그래프가 직선 $x = \pi$ 와 만나는 점의 집합을 A 라 하고, 두 직선 $y = 1, y = 3$ 과 만나는 점의 집합을 각각 B, C 라 하자. $n(A \cup B \cup C) = 3$ 이 되도록 하는 a, b 의 순서쌍 (a, b) 에 대하여 $a+b$ 의 최댓값을 M , 최솟값을 m 이라 할 때, $M \times m$ 의 값을 구하시오. [4점]

19. 시각 $t=0$ 일 때 원점을 출발하여 수직선 위를 움직이는 점 P 의 시각 $t(t \geq 0)$ 에서의 속도 $v(t)$ 가

$$v(t) = \begin{cases} -t^2 + t + 2 & (0 \leq t \leq 3) \\ k(t-3) - 4 & (t > 3) \end{cases}$$

이다. 출발한 후 점 P 의 운동 방향이 두 번째로 바뀌는 시각에서의 점 P 의 위치가 1일 때, 양수 k 의 값을 구하시오.

[3점]

21. 최고차항의 계수가 1인 사차함수 $f(x)$ 가 다음 조건을 만족시킨다.

- (가) $f'(a) \leq 0$ 인 실수 a 의 최댓값은 2이다.
 (나) 집합 $\{x \mid f(x) = k\}$ 의 원소의 개수가 3 이상이 되도록 하는 실수 k 의 최솟값은 $\frac{8}{3}$ 이다.

$f(0) = 0, f'(1) = 0$ 일 때, $f(3)$ 의 값을 구하시오. [4점]

22. 수열 $\{a_n\}$ 은

$$a_2 = -a_1$$

이고, $n \geq 2$ 인 모든 자연수 n 에 대하여

$$a_{n+1} = \begin{cases} a_n - \sqrt{n} \times a_{\sqrt{n}} & (\sqrt{n} \text{이 자연수이고 } a_n > 0 \text{인 경우}) \\ a_n + 1 & (\text{그 외의 경우}) \end{cases}$$

를 만족시킨다. $a_{15} = 1$ 이 되도록 하는 모든 a_1 의 값의 곱을 구하시오. [4점]

* 확인 사항

- 답안지의 해당란에 필요한 내용을 정확히 기입(표기)했는지 확인하시오.
- 이어서, 「선택과목(확률과 통계)」 문제가 제시되오니, 자신이 선택한 과목인지 확인하시오.

제 2 교시

수학 영역(기하)

5지선다형

23. 두 벡터 \vec{a} 와 \vec{b} 에 대하여

$$\vec{a} + 3(\vec{a} - \vec{b}) = k\vec{a} - 3\vec{b}$$

이다. 실수 k 의 값은? (단, $\vec{a} \neq \vec{0}$, $\vec{b} \neq \vec{0}$) [2점]

- ① 1 ② 2 ③ 3 ④ 4 ⑤ 5

24. 타원 $\frac{x^2}{18} + \frac{y^2}{b^2} = 1$ 위의 점 $(3, \sqrt{5})$ 에서의 접선의 y 절편은? (단, b 는 양수이다.) [3점]

- ① $\frac{3}{2}\sqrt{5}$ ② $2\sqrt{5}$ ③ $\frac{5}{2}\sqrt{5}$ ④ $3\sqrt{5}$ ⑤ $\frac{7}{2}\sqrt{5}$

25. 좌표평면에서 두 벡터 $\vec{a} = (-3, 3)$, $\vec{b} = (1, -1)$ 에 대하여 벡터 \vec{p} 가

$$|\vec{p} - \vec{a}| = |\vec{b}|$$

를 만족시킬 때, $|\vec{p} - \vec{b}|$ 의 최솟값은? [3점]

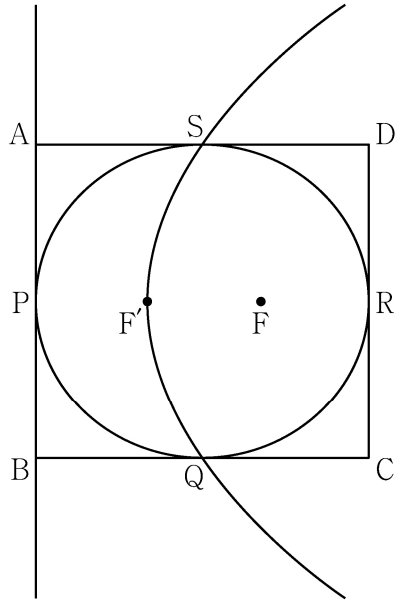
- ① $\frac{3}{2}\sqrt{2}$ ② $2\sqrt{2}$ ③ $\frac{5}{2}\sqrt{2}$ ④ $3\sqrt{2}$ ⑤ $\frac{7}{2}\sqrt{2}$

26. 쌍곡선 $\frac{x^2}{a^2} - \frac{y^2}{b^2} = 1$ 의 한 초점 $F(c, 0)$ ($c > 0$)을 지나고

y 축에 평행한 직선이 쌍곡선과 만나는 두 점을 각각 P, Q라 하자. 쌍곡선의 한 점근선의 방정식이 $y = x$ 이고 $PQ = 8$ 일 때, $a^2 + b^2 + c^2$ 의 값은? (단, a 와 b 는 양수이다.) [3점]

- ① 56 ② 60 ③ 64 ④ 68 ⑤ 72

27. 그림과 같이 직사각형 ABCD의 네 변의 중점 P, Q, R, S를 꼭짓점으로 하는 타원의 두 초점을 F, F'이라 하자. 점 F를 초점, 직선 AB를 준선으로 하는 포물선이 세 점 F', Q, S를 지난다. 직사각형 ABCD의 넓이가 $32\sqrt{2}$ 일 때, 선분 FF'의 길이는?
[3점]



- ① $\frac{7}{6}\sqrt{3}$ ② $\frac{4}{3}\sqrt{3}$ ③ $\frac{3}{2}\sqrt{3}$ ④ $\frac{5}{3}\sqrt{3}$ ⑤ $\frac{11}{6}\sqrt{3}$

28. 좌표평면에서 두 점 $A(1, 0)$, $B(1, 1)$ 에 대하여 두 점 P, Q가

$$|\overrightarrow{OP}|=1, \quad |\overrightarrow{BQ}|=3, \quad \overrightarrow{AP} \cdot (\overrightarrow{QA} + \overrightarrow{QP})=0$$

을 만족시킨다. $|\overrightarrow{PQ}|$ 의 값이 최소가 되도록 하는 두 점 P, Q에 대하여 $\overrightarrow{AP} \cdot \overrightarrow{BQ}$ 의 값은?

(단, O는 원점이고, $|\overrightarrow{AP}|>0$ 이다.) [4점]

- ① $\frac{6}{5}$ ② $\frac{9}{5}$ ③ $\frac{12}{5}$ ④ 3 ⑤ $\frac{18}{5}$

단답형

29. 좌표평면에 곡선 $|y^2 - 1| = \frac{x^2}{a^2}$ 과 네 점 $A(0, c+1)$,

$B(0, -c-1)$, $C(c, 0)$, $D(-c, 0)$ 이 있다. 곡선 위의 점 중 y 좌표의 절댓값이 1보다 작거나 같은 모든 점 P 에 대하여 $\overline{PC} + \overline{PD} = \sqrt{5}$ 이다. 곡선 위의 점 Q 가 제1사분면에 있고 $\overline{AQ} = 10$ 일 때, 삼각형 ABQ 의 둘레의 길이를 구하시오. (단, a 와 c 는 양수이다.) [4점]

30. 두 초점이 $F(5, 0)$, $F'(-5, 0)$ 이고, 주축의 길이가 6인 쌍곡선이 있다. 쌍곡선 위의 $\overline{PF} < \overline{PF'}$ 인 점 P 에 대하여 점 Q 가

$$(|\overline{FP}| + 1)\overline{F'Q} = 5\overline{QP}$$

를 만족시킨다. 점 $A(-9, -3)$ 에 대하여 $|\overline{AQ}|$ 의 최댓값을 구하시오. [4점]

* 확인 사항

○ 답안지의 해당란에 필요한 내용을 정확히 기입(표기)했는지 확인하시오.

제 2 교시

수학 영역

출수형

5지선다형

1. $\sqrt[3]{24} \times 3^{\frac{2}{3}}$ 의 값은? [2점]

- ① 6 ② 7 ③ 8 ④ 9 ⑤ 10

2. 함수 $f(x) = 2x^3 - 5x^2 + 3$ 에 대하여 $\lim_{h \rightarrow 0} \frac{f(2+h) - f(2)}{h}$ 의 값은? [2점]

- ① 1 ② 2 ③ 3 ④ 4 ⑤ 5

3. $\frac{3}{2}\pi < \theta < 2\pi$ 인 θ 에 대하여 $\sin(-\theta) = \frac{1}{3}$ 일 때, $\tan\theta$ 의 값은? [3점]

- ① $-\frac{\sqrt{2}}{2}$ ② $-\frac{\sqrt{2}}{4}$ ③ $-\frac{1}{4}$ ④ $\frac{1}{4}$ ⑤ $\frac{\sqrt{2}}{4}$

4. 함수

$$f(x) = \begin{cases} 3x - a & (x < 2) \\ x^2 + a & (x \geq 2) \end{cases}$$

가 실수 전체의 집합에서 연속일 때, 상수 a 의 값은? [3점]

- ① 1 ② 2 ③ 3 ④ 4 ⑤ 5

5. 다항함수 $f(x)$ 가

$$f'(x) = 3x(x-2), \quad f(1) = 6$$

을 만족시킬 때, $f(2)$ 의 값은? [3점]

- ① 1 ② 2 ③ 3 ④ 4 ⑤ 5

7. 함수 $f(x) = \frac{1}{3}x^3 - 2x^2 - 12x + 4$ 가 $x = \alpha$ 에서 극대이고

$x = \beta$ 에서 극소일 때, $\beta - \alpha$ 의 값은? (단, α 와 β 는 상수이다.)

[3점]

- ① -4 ② -1 ③ 2 ④ 5 ⑤ 8

6. 등비수열 $\{a_n\}$ 의 첫째항부터 제 n 항까지의 합을 S_n 이라 하자.

$$S_4 - S_2 = 3a_4, \quad a_5 = \frac{3}{4}$$

일 때, $a_1 + a_2$ 의 값은? [3점]

- ① 27 ② 24 ③ 21 ④ 18 ⑤ 15

8. 삼차함수 $f(x)$ 가 모든 실수 x 에 대하여

$$xf(x) - f(x) = 3x^4 - 3x$$

를 만족시킬 때, $\int_{-2}^2 f(x)dx$ 의 값은? [3점]

- ① 12 ② 16 ③ 20 ④ 24 ⑤ 28

9. 수직선 위의 두 점 $P(\log_5 3)$, $Q(\log_5 12)$ 에 대하여

선분 PQ를 $m:(1-m)$ 으로 내분하는 점의 좌표가 1일 때, 4^m 의 값은? (단, m 은 $0 < m < 1$ 인 상수이다.) [4점]

- ① $\frac{7}{6}$ ② $\frac{4}{3}$ ③ $\frac{3}{2}$ ④ $\frac{5}{3}$ ⑤ $\frac{11}{6}$

10. 시각 $t=0$ 일 때 동시에 원점을 출발하여 수직선 위를 움직이는 두 점 P, Q의 시각 $t(t \geq 0)$ 에서의 속도가 각각

$$v_1(t) = t^2 - 6t + 5, \quad v_2(t) = 2t - 7$$

이다. 시각 t 에서의 두 점 P, Q 사이의 거리를 $f(t)$ 라 할 때, 함수 $f(t)$ 는 구간 $[0, a]$ 에서 증가하고, 구간 $[a, b]$ 에서 감소하고, 구간 $[b, \infty)$ 에서 증가한다. 시각 $t=a$ 에서 $t=b$ 까지 점 Q가 움직인 거리는? (단, $0 < a < b$) [4점]

- ① $\frac{15}{2}$ ② $\frac{17}{2}$ ③ $\frac{19}{2}$ ④ $\frac{21}{2}$ ⑤ $\frac{23}{2}$

11. 공차가 0이 아닌 등차수열 $\{a_n\}$ 에 대하여

$$|a_6| = a_8, \quad \sum_{k=1}^5 \frac{1}{a_k a_{k+1}} = \frac{5}{96}$$

일 때, $\sum_{k=1}^{15} a_k$ 의 값은? [4점]

- ① 60 ② 65 ③ 70 ④ 75 ⑤ 80

12. 함수 $f(x) = \frac{1}{9}x(x-6)(x-9)$ 와 실수 $t(0 < t < 6)$ 에 대하여

함수 $g(x)$ 는

$$g(x) = \begin{cases} f(x) & (x < t) \\ -(x-t) + f(t) & (x \geq t) \end{cases}$$

이다. 함수 $y = g(x)$ 의 그래프와 x 축으로 둘러싸인 영역의 넓이의 최댓값은? [4점]

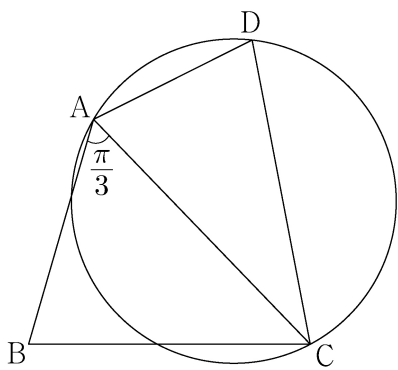
- ① $\frac{125}{4}$ ② $\frac{127}{4}$ ③ $\frac{129}{4}$ ④ $\frac{131}{4}$ ⑤ $\frac{133}{4}$

13. 그림과 같이

$$\overline{AB} = 3, \overline{BC} = \sqrt{13}, \overline{AD} \times \overline{CD} = 9, \angle BAC = \frac{\pi}{3}$$

인 사각형 ABCD가 있다. 삼각형 ABC의 넓이를 S_1 , 삼각형 ACD의 넓이를 S_2 라 하고, 삼각형 ACD의 외접원의 반지름의 길이를 R 이라 하자.

$S_2 = \frac{5}{6}S_1$ 일 때, $\frac{R}{\sin(\angle ADC)}$ 의 값은? [4점]



- ① $\frac{54}{25}$ ② $\frac{117}{50}$ ③ $\frac{63}{25}$ ④ $\frac{27}{10}$ ⑤ $\frac{72}{25}$

14. 두 자연수 a, b 에 대하여 함수 $f(x)$ 는

$$f(x) = \begin{cases} 2x^3 - 6x + 1 & (x \leq 2) \\ a(x-2)(x-b) + 9 & (x > 2) \end{cases}$$

이다. 실수 t 에 대하여 함수 $y=f(x)$ 의 그래프와 직선 $y=t$ 가 만나는 점의 개수를 $g(t)$ 라 하자.

$$g(k) + \lim_{t \rightarrow k^-} g(t) + \lim_{t \rightarrow k^+} g(t) = 9$$

를 만족시키는 실수 k 의 개수가 1이 되도록 하는 두 자연수 a, b 의 순서쌍 (a, b) 에 대하여 $a+b$ 의 최댓값은? [4점]

- ① 51 ② 52 ③ 53 ④ 54 ⑤ 55

15. 첫째항이 자연수인 수열 $\{a_n\}$ 이 모든 자연수 n 에 대하여

$$a_{n+1} = \begin{cases} 2^{a_n} & (a_n \text{이 홀수인 경우}) \\ \frac{1}{2}a_n & (a_n \text{이 짝수인 경우}) \end{cases}$$

를 만족시킬 때, $a_6 + a_7 = 3$ 이 되도록 하는 모든 a_1 의 값의 합은? [4점]

- ① 139 ② 146 ③ 153 ④ 160 ⑤ 167

단답형

16. 방정식 $3^{x-8} = \left(\frac{1}{27}\right)^x$ 을 만족시키는 실수 x 의 값을 구하시오. [3점]

17. 함수 $f(x) = (x+1)(x^2+3)$ 에 대하여 $f'(1)$ 의 값을 구하시오. [3점]

18. 두 수열 $\{a_n\}$, $\{b_n\}$ 에 대하여

$$\sum_{k=1}^{10} a_k = \sum_{k=1}^{10} (2b_k - 1), \quad \sum_{k=1}^{10} (3a_k + b_k) = 33$$

일 때, $\sum_{k=1}^{10} b_k$ 의 값을 구하시오. [3점]

19. 함수 $f(x) = \sin \frac{\pi}{4}x$ 라 할 때, $0 < x < 16$ 에서 부등식

$$f(2+x)f(2-x) < \frac{1}{4}$$

을 만족시키는 모든 자연수 x 의 값의 합을 구하시오. [3점]

20. $a > \sqrt{2}$ 인 실수 a 에 대하여 함수 $f(x)$ 를

$$f(x) = -x^3 + ax^2 + 2x$$

라 하자. 곡선 $y=f(x)$ 위의 점 $O(0, 0)$ 에서의 접선이 곡선 $y=f(x)$ 와 만나는 점 중 O 가 아닌 점을 A 라 하고, 곡선 $y=f(x)$ 위의 점 A 에서의 접선이 x 축과 만나는 점을 B 라 하자. 점 A 가 선분 OB 를 지름으로 하는 원 위의 점일 때, $\overline{OA} \times \overline{AB}$ 의 값을 구하시오. [4점]

21. 양수 a 에 대하여 $x \geq -1$ 에서 정의된 함수 $f(x)$ 는

$$f(x) = \begin{cases} -x^2 + 6x & (-1 \leq x < 6) \\ a \log_4(x-5) & (x \geq 6) \end{cases}$$

이다. $t \geq 0$ 인 실수 t 에 대하여 닫힌구간 $[t-1, t+1]$ 에서의 $f(x)$ 의 최댓값을 $g(t)$ 라 하자. 구간 $[0, \infty)$ 에서 함수 $g(t)$ 의 최솟값이 5가 되도록 하는 양수 a 의 최솟값을 구하시오. [4점]

22. 최고차항의 계수가 1인 삼차함수 $f(x)$ 가 다음 조건을 만족시킨다.

함수 $f(x)$ 에 대하여

$$f(k-1)f(k+1) < 0$$

을 만족시키는 정수 k 는 존재하지 않는다.

$f'(-\frac{1}{4}) = -\frac{1}{4}$, $f'(\frac{1}{4}) < 0$ 일 때, $f(8)$ 의 값을 구하시오. [4점]

* 확인 사항

- 답안지의 해당란에 필요한 내용을 정확히 기입(표기)했는지 확인하시오.
- 이어서, 「선택과목(확률과 통계)」 문제가 제시되오니, 자신이 선택한 과목인지 확인하시오.

제 2 교시

수학 영역(기하)

출수형

5지선다형

23. 좌표공간의 두 점 $A(a, -2, 6)$, $B(9, 2, b)$ 에 대하여
 선분 AB의 중점의 좌표가 $(4, 0, 7)$ 일 때, $a+b$ 의 값은? [2점]

① 1 ② 3 ③ 5 ④ 7 ⑤ 9

24. 타원 $\frac{x^2}{a^2} + \frac{y^2}{6} = 1$ 위의 점 $(\sqrt{3}, -2)$ 에서의 접선의
 기울기는? (단, a 는 양수이다.) [3점]

- ① $\sqrt{3}$ ② $\frac{\sqrt{3}}{2}$ ③ $\frac{\sqrt{3}}{3}$ ④ $\frac{\sqrt{3}}{4}$ ⑤ $\frac{\sqrt{3}}{5}$

25. 두 벡터 \vec{a} , \vec{b} 에 대하여

$$|\vec{a}| = \sqrt{11}, \quad |\vec{b}| = 3, \quad |2\vec{a} - \vec{b}| = \sqrt{17}$$

일 때, $|\vec{a} - \vec{b}|$ 의 값은? [3점]

- ① $\frac{\sqrt{2}}{2}$ ② $\sqrt{2}$ ③ $\frac{3\sqrt{2}}{2}$ ④ $2\sqrt{2}$ ⑤ $\frac{5\sqrt{2}}{2}$

26. 좌표공간에 평면 α 가 있다. 평면 α 위에 있지 않은 서로 다른 두 점 A, B의 평면 α 위로의 정사영을 각각 A', B'이라 할 때,

$$\overline{AB} = \overline{A'B'} = 6$$

이다. 선분 AB의 중점 M의 평면 α 위로의 정사영을 M'이라 할 때,

$$\overline{PM'} \perp \overline{A'B'}, \quad \overline{PM'} = 6$$

이 되도록 평면 α 위에 점 P를 잡는다.

삼각형 A'B'P의 평면 ABP 위로의 정사영의 넓이가 $\frac{9}{2}$ 일 때,

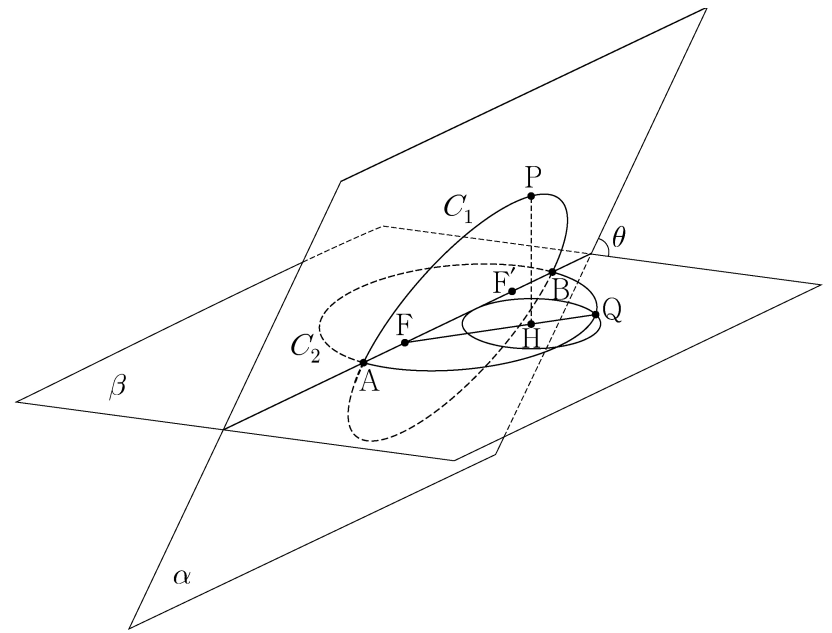
선분 PM의 길이는? [3점]

- ① 12 ② 15 ③ 18 ④ 21 ⑤ 24

27. 초점이 F인 포물선 $y^2 = 8x$ 위의 한 점 A에서 포물선의 준선에 내린 수선의 발을 B라 하고, 직선 BF와 포물선이 만나는 두 점을 각각 C, D라 하자. $\overline{BC} = \overline{CD}$ 일 때, 삼각형 ABD의 넓이는? (단, $\overline{CF} < \overline{DF}$ 이고, 점 A는 원점이 아니다.) [3점]

- ① $100\sqrt{2}$ ② $104\sqrt{2}$ ③ $108\sqrt{2}$
- ④ $112\sqrt{2}$ ⑤ $116\sqrt{2}$

28. 그림과 같이 서로 다른 두 평면 α, β 의 교선 위에 $\overline{AB} = 18$ 인 두 점 A, B가 있다. 선분 AB를 지름으로 하는 원 C_1 이 평면 α 위에 있고, 선분 AB를 장축으로 하고 두 점 F, F'을 초점으로 하는 타원 C_2 가 평면 β 위에 있다. 원 C_1 위의 한 점 P에서 평면 β 에 내린 수선의 발을 H라 할 때, $\overline{HF'} < \overline{HF}$ 이고 $\angle HFF' = \frac{\pi}{6}$ 이다. 직선 HF와 타원 C_2 가 만나는 점 중 점 H와 가까운 점을 Q라 하면, $\overline{FH} < \overline{FQ}$ 이다. 점 H를 중심으로 하고 점 Q를 지나는 평면 β 위의 원은 반지름의 길이가 4이고 직선 AB에 접한다. 두 평면 α, β 가 이루는 각의 크기를 θ 라 할 때, $\cos\theta$ 의 값은? (단, 점 P는 평면 β 위에 있지 않다.) [4점]



- ① $\frac{2\sqrt{66}}{33}$ ② $\frac{4\sqrt{69}}{69}$ ③ $\frac{\sqrt{2}}{3}$
- ④ $\frac{4\sqrt{3}}{15}$ ⑤ $\frac{2\sqrt{78}}{39}$

단답형

29. 양수 c 에 대하여 두 점 $F(c, 0)$, $F'(-c, 0)$ 을 초점으로 하고, 주축의 길이가 6인 쌍곡선이 있다. 이 쌍곡선 위에 다음 조건을 만족시키는 서로 다른 두 점 P , Q 가 존재하도록 하는 모든 c 의 값의 합을 구하시오. [4점]

- (가) 점 P 는 제1사분면 위에 있고,
점 Q 는 직선 PF' 위에 있다.
(나) 삼각형 $PF'F$ 는 이등변삼각형이다.
(다) 삼각형 PQF 의 둘레의 길이는 28이다.

30. 좌표평면에 한 변의 길이가 4인 정삼각형 ABC 가 있다. 선분 AB 를 1:3으로 내분하는 점을 D , 선분 BC 를 1:3으로 내분하는 점을 E , 선분 CA 를 1:3으로 내분하는 점을 F 라 하자. 네 점 P , Q , R , X 가 다음 조건을 만족시킨다.

- (가) $|\overrightarrow{DP}| = |\overrightarrow{EQ}| = |\overrightarrow{FR}| = 1$
(나) $\overrightarrow{AX} = \overrightarrow{PB} + \overrightarrow{QC} + \overrightarrow{RA}$

$|\overrightarrow{AX}|$ 의 값이 최대일 때, 삼각형 PQR 의 넓이를 S 라 하자. $16S^2$ 의 값을 구하시오. [4점]

* 확인 사항

- 답안지의 해당란에 필요한 내용을 정확히 기입(표기)했는지 확인하시오.

제 2 교시

수학 영역

5지선다형

1. $3^{1-\sqrt{5}} \times 3^{1+\sqrt{5}}$ 의 값은? [2점]

- ① $\frac{1}{9}$ ② $\frac{1}{3}$ ③ 1 ④ 3 ⑤ 9

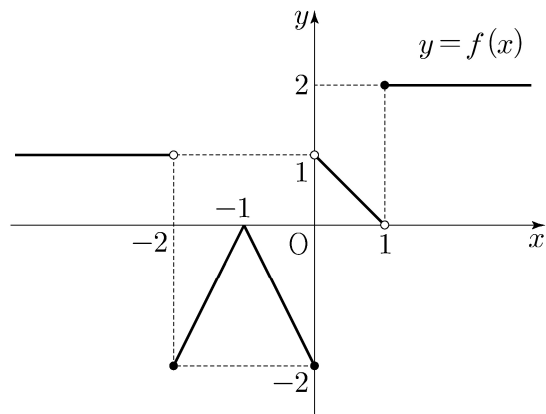
2. 함수 $f(x) = 2x^2 - x$ 에 대하여 $\lim_{x \rightarrow 1} \frac{f(x) - 1}{x - 1}$ 의 값은? [2점]

- ① 1 ② 2 ③ 3 ④ 4 ⑤ 5

3. $\frac{3}{2}\pi < \theta < 2\pi$ 인 θ 에 대하여 $\cos \theta = \frac{\sqrt{6}}{3}$ 일 때, $\tan \theta$ 의 값은? [3점]

- ① $-\sqrt{2}$ ② $-\frac{\sqrt{2}}{2}$ ③ 0 ④ $\frac{\sqrt{2}}{2}$ ⑤ $\sqrt{2}$

4. 함수 $y = f(x)$ 의 그래프가 그림과 같다.



$\lim_{x \rightarrow -2^+} f(x) + \lim_{x \rightarrow 1^-} f(x)$ 의 값은? [3점]

- ① -2 ② -1 ③ 0 ④ 1 ⑤ 2

5. 모든 항이 양수인 등비수열 $\{a_n\}$ 에 대하여

$$\frac{a_3 a_8}{a_6} = 12, \quad a_5 + a_7 = 36$$

일 때, a_{11} 의 값은? [3점]

- ① 72 ② 78 ③ 84 ④ 90 ⑤ 96

6. 함수 $f(x) = x^3 + ax^2 + bx + 1$ 은 $x = -1$ 에서 극대이고,
 $x = 3$ 에서 극소이다. 함수 $f(x)$ 의 극댓값은? (단, a, b 는
상수이다.) [3점]

- ① 0 ② 3 ③ 6 ④ 9 ⑤ 12

7. 두 실수 a, b 가

$$3a + 2b = \log_3 32, \quad ab = \log_9 2$$

를 만족시킬 때, $\frac{1}{3a} + \frac{1}{2b}$ 의 값은? [3점]

- ① $\frac{5}{12}$ ② $\frac{5}{6}$ ③ $\frac{5}{4}$ ④ $\frac{5}{3}$ ⑤ $\frac{25}{12}$

8. 다항함수 $f(x)$ 가

$$f'(x) = 6x^2 - 2f(1)x, \quad f(0) = 4$$

를 만족시킬 때, $f(2)$ 의 값은? [3점]

- ① 5 ② 6 ③ 7 ④ 8 ⑤ 9

10. 최고차항의 계수가 1인 삼차함수 $f(x)$ 에 대하여

곡선 $y=f(x)$ 위의 점 $(-2, f(-2))$ 에서의 접선과

곡선 $y=f(x)$ 위의 점 $(2, 3)$ 에서의 접선이

점 $(1, 3)$ 에서 만날 때, $f(0)$ 의 값은? [4점]

- ① 31 ② 33 ③ 35 ④ 37 ⑤ 39

9. $0 \leq x \leq 2\pi$ 일 때, 부등식

$$\cos x \leq \sin \frac{\pi}{7}$$

를 만족시키는 모든 x 의 값의 범위는 $\alpha \leq x \leq \beta$ 이다.

$\beta - \alpha$ 의 값은? [4점]

- ① $\frac{8}{7}\pi$ ② $\frac{17}{14}\pi$ ③ $\frac{9}{7}\pi$ ④ $\frac{19}{14}\pi$ ⑤ $\frac{10}{7}\pi$

11. 두 점 P와 Q는 시각 $t=0$ 일 때 각각 점 A(1)과 점 B(8)에서 출발하여 수직선 위를 움직인다. 두 점 P, Q의 시각 $t(t \geq 0)$ 에서의 속도는 각각

$$v_1(t) = 3t^2 + 4t - 7, \quad v_2(t) = 2t + 4$$

이다. 출발한 시각부터 두 점 P, Q 사이의 거리가 처음으로 4가 될 때까지 점 P가 움직인 거리는? [4점]

- ① 10 ② 14 ③ 19 ④ 25 ⑤ 32

12. 첫째항이 자연수인 수열 $\{a_n\}$ 이 모든 자연수 n 에 대하여

$$a_{n+1} = \begin{cases} a_n + 1 & (a_n \text{이 홀수인 경우}) \\ \frac{1}{2}a_n & (a_n \text{이 짝수인 경우}) \end{cases}$$

를 만족시킬 때, $a_2 + a_4 = 40$ 이 되도록 하는 모든 a_1 의 값의 합은? [4점]

- ① 172 ② 175 ③ 178 ④ 181 ⑤ 184

13. 두 실수 a, b 에 대하여 함수

$$f(x) = \begin{cases} -\frac{1}{3}x^3 - ax^2 - bx & (x < 0) \\ \frac{1}{3}x^3 + ax^2 - bx & (x \geq 0) \end{cases}$$

이 구간 $(-\infty, -1]$ 에서 감소하고 구간 $[-1, \infty)$ 에서 증가할 때, $a+b$ 의 최댓값을 M , 최솟값을 m 이라 하자. $M-m$ 의 값은?
[4점]

- ① $\frac{3}{2} + 3\sqrt{2}$ ② $3 + 3\sqrt{2}$ ③ $\frac{9}{2} + 3\sqrt{2}$
 ④ $6 + 3\sqrt{2}$ ⑤ $\frac{15}{2} + 3\sqrt{2}$

14. 두 자연수 a, b 에 대하여 함수

$$f(x) = \begin{cases} 2^{x+a} + b & (x \leq -8) \\ -3^{x-3} + 8 & (x > -8) \end{cases}$$

이 다음 조건을 만족시킬 때, $a+b$ 의 값은? [4점]

집합 $\{f(x) \mid x \leq k\}$ 의 원소 중 정수인 것의 개수가 2가 되도록 하는 모든 실수 k 의 값의 범위는 $3 \leq k < 4$ 이다.

- ① 11 ② 13 ③ 15 ④ 17 ⑤ 19

15. 최고차항의 계수가 1인 삼차함수 $f(x)$ 에 대하여
함수 $g(x)$ 를

$$g(x) = \begin{cases} \frac{f(x+3)\{f(x)+1\}}{f(x)} & (f(x) \neq 0) \\ 3 & (f(x) = 0) \end{cases}$$

이라 하자. $\lim_{x \rightarrow 3} g(x) = g(3) - 1$ 일 때, $g(5)$ 의 값은? [4점]

- ① 14 ② 16 ③ 18 ④ 20 ⑤ 22

단답형

16. 방정식 $\log_2(x-1) = \log_4(13+2x)$ 를 만족시키는 실수 x 의 값을 구하시오. [3점]

17. 두 수열 $\{a_n\}$, $\{b_n\}$ 에 대하여

$$\sum_{k=1}^{10} (2a_k - b_k) = 34, \quad \sum_{k=1}^{10} a_k = 10$$

일 때, $\sum_{k=1}^{10} (a_k - b_k)$ 의 값을 구하시오. [3점]

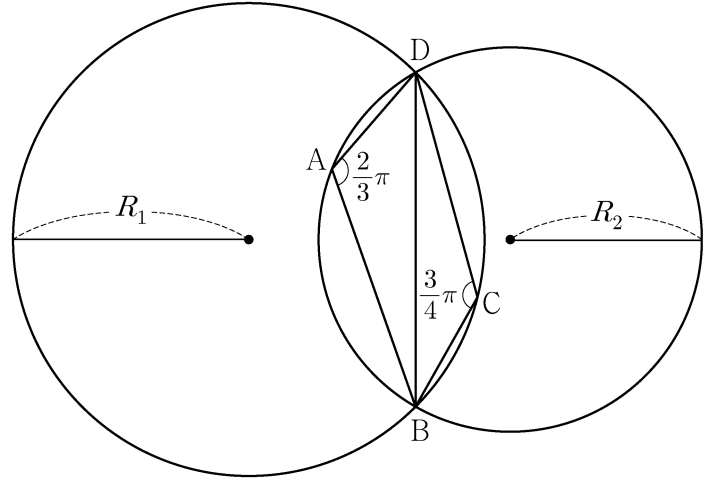
18. 함수 $f(x) = (x^2 + 1)(x^2 + ax + 3)$ 에 대하여 $f'(1) = 32$ 일 때, 상수 a 의 값을 구하시오. [3점]

19. 두 곡선 $y = 3x^3 - 7x^2$ 과 $y = -x^2$ 으로 둘러싸인 부분의 넓이를 구하시오. [3점]

20. 그림과 같이

$$\overline{AB} = 2, \overline{AD} = 1, \angle DAB = \frac{2}{3}\pi, \angle BCD = \frac{3}{4}\pi$$

인 사각형 ABCD가 있다. 삼각형 BCD의 외접원의 반지름의 길이를 R_1 , 삼각형 ABD의 외접원의 반지름의 길이를 R_2 라 하자.



다음은 $R_1 \times R_2$ 의 값을 구하는 과정이다.

삼각형 BCD에서 사인법칙에 의하여

$$R_1 = \frac{\sqrt{2}}{2} \times \overline{BD}$$

이고, 삼각형 ABD에서 사인법칙에 의하여

$$R_2 = \boxed{\text{(가)}} \times \overline{BD}$$

이다. 삼각형 ABD에서 코사인법칙에 의하여

$$\overline{BD}^2 = 2^2 + 1^2 - \boxed{\text{(나)}}$$

이므로

$$R_1 \times R_2 = \boxed{\text{(다)}}$$

이다.

위의 (가), (나), (다)에 알맞은 수를 각각 p, q, r 이라 할 때, $9 \times (p \times q \times r)^2$ 의 값을 구하시오. [4점]

21. 모든 항이 자연수인 등차수열 $\{a_n\}$ 의 첫째항부터 제 n 항까지의 합을 S_n 이라 하자. a_7 이 13의 배수이고

$\sum_{k=1}^7 S_k = 644$ 일 때, a_2 의 값을 구하시오. [4점]

22. 두 다항함수 $f(x)$, $g(x)$ 에 대하여 $f(x)$ 의 한 부정적분을 $F(x)$ 라 하고 $g(x)$ 의 한 부정적분을 $G(x)$ 라 할 때, 이 함수들은 모든 실수 x 에 대하여 다음 조건을 만족시킨다.

$$(가) \int_1^x f(t) dt = xf(x) - 2x^2 - 1$$

$$(나) f(x)G(x) + F(x)g(x) = 8x^3 + 3x^2 + 1$$

$\int_1^3 g(x) dx$ 의 값을 구하시오. [4점]

* 확인 사항

○ 답안지의 해당란에 필요한 내용을 정확히 기입(표기)했는지 확인하시오.

○ 이어서, 「선택과목(확률과 통계)」 문제가 제시되오니, 자신이 선택한 과목인지 확인하시오.

제 2 교시

수학 영역(기하)

5지선다형

23. 좌표공간의 점 $A(8, 6, 2)$ 를 xy 평면에 대하여 대칭이동한 점을 B 라 할 때, 선분 AB 의 길이는? [2점]

- ① 1
- ② 2
- ③ 3
- ④ 4
- ⑤ 5

24. 쌍곡선 $\frac{x^2}{7} - \frac{y^2}{6} = 1$ 위의 점 $(7, 6)$ 에서의 접선의 x 절편은? [3점]

- ① 1
- ② 2
- ③ 3
- ④ 4
- ⑤ 5

2

수학 영역(기하)

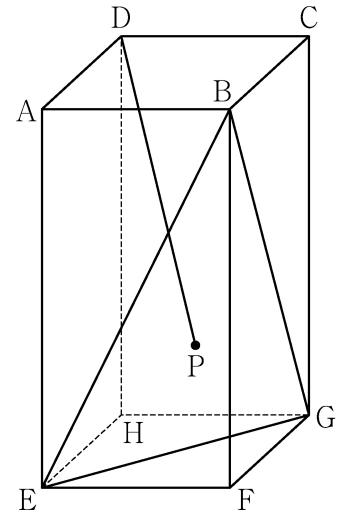
25. 좌표평면 위의 점 $A(4, 3)$ 에 대하여

$$|\overrightarrow{OP}| = |\overrightarrow{OA}|$$

를 만족시키는 점 P 가 나타내는 도형의 길이는? (단, O 는 원점이다.) [3점]

- ① 2π ② 4π ③ 6π ④ 8π ⑤ 10π

26. 그림과 같이 $\overline{AB} = 3$, $\overline{AD} = 3$, $\overline{AE} = 6$ 인 직육면체 $ABCD-EFGH$ 가 있다. 삼각형 BEG 의 무게중심을 P 라 할 때, 선분 DP 의 길이는? [3점]



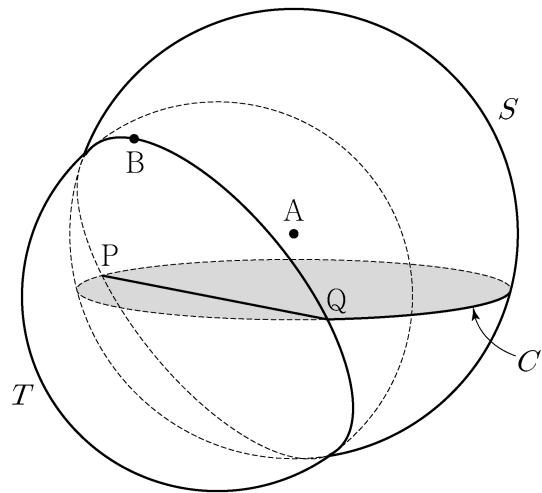
- ① $2\sqrt{5}$ ② $2\sqrt{6}$ ③ $2\sqrt{7}$ ④ $4\sqrt{2}$ ⑤ 6

27. 양수 p 에 대하여 좌표평면 위에 초점이 F 인 포물선 $y^2 = 4px$ 가 있다. 이 포물선이 세 직선 $x=p, x=2p, x=3p$ 와 만나는 제1사분면 위의 점을 각각 P_1, P_2, P_3 이라 하자. $\overline{FP_1} + \overline{FP_2} + \overline{FP_3} = 27$ 일 때, p 의 값은? [3점]

- ① 2 ② $\frac{5}{2}$ ③ 3 ④ $\frac{7}{2}$ ⑤ 4

28. 좌표공간에 중심이 $A(0, 0, 1)$ 이고 반지름의 길이가 4인 구 S 가 있다. 구 S 가 xy 평면과 만나서 생기는 원을 C 라 하고, 점 A 에서 선분 PQ 까지의 거리가 2가 되도록 원 C 위에 두 점 P, Q 를 잡는다. 구 S 가 선분 PQ 를 지름으로 하는 구 T 와 만나서 생기는 원 위에서 점 B 가 움직일 때, 삼각형 BPQ 의 xy 평면 위로의 정사영의 넓이의 최댓값은? (단, 점 B 의 z 좌표는 양수이다.) [4점]

- ① 6 ② $3\sqrt{6}$ ③ $6\sqrt{2}$ ④ $3\sqrt{10}$ ⑤ $6\sqrt{3}$



단답형

29. 한 초점이 $F(c, 0)$ ($c > 0$)인 타원 $\frac{x^2}{9} + \frac{y^2}{5} = 1$ 과 중심의 좌표가 $(2, 3)$ 이고 반지름의 길이가 r 인 원이 있다. 타원 위의 점 P 와 원 위의 점 Q 에 대하여 $\overline{PQ} - \overline{PF}$ 의 최솟값이 6일 때, r 의 값을 구하시오. [4점]

30. 좌표평면에서 $\overline{AB} = \overline{AC}$ 이고 $\angle BAC = \frac{\pi}{2}$ 인 직각삼각형 ABC 에 대하여 두 점 P, Q 가 다음 조건을 만족시킨다.

- (가) 삼각형 APQ 는 정삼각형이고,
 $9|\overrightarrow{PQ}|^2 = 4|\overrightarrow{AB}|^2$ 이다.
 (나) $\overrightarrow{AC} \cdot \overrightarrow{AQ} < 0$
 (다) $\overrightarrow{PQ} \cdot \overrightarrow{CB} = 24$

선분 AQ 위의 점 X 에 대하여 $|\overrightarrow{XA} + \overrightarrow{XB}|$ 의 최솟값을 m 이라 할 때, m^2 의 값을 구하시오. [4점]

* 확인 사항

- 답안지의 해당란에 필요한 내용을 정확히 기입(표기)했는지 확인하시오.

제 2 교시

수학 영역

5지선다형

1. $\sqrt[3]{27} \times 4^{-\frac{1}{2}}$ 의 값은? [2점]

- ① $\frac{1}{2}$ ② $\frac{3}{4}$ ③ 1 ④ $\frac{5}{4}$ ⑤ $\frac{3}{2}$

2. 함수 $f(x) = x^2 - 2x + 3$ 에 대하여 $\lim_{h \rightarrow 0} \frac{f(3+h) - f(3)}{h}$ 의 값은? [2점]

- ① 1 ② 2 ③ 3 ④ 4 ⑤ 5

3. 수열 $\{a_n\}$ 에 대하여 $\sum_{k=1}^{10} (2a_k + 3) = 60$ 일 때, $\sum_{k=1}^{10} a_k$ 의 값은?

[3점]

- ① 10 ② 15 ③ 20 ④ 25 ⑤ 30

4. 실수 전체의 집합에서 연속인 함수 $f(x)$ 가

$$\lim_{x \rightarrow 1} f(x) = 4 - f(1)$$

을 만족시킬 때, $f(1)$ 의 값은? [3점]

- ① 1 ② 2 ③ 3 ④ 4 ⑤ 5

5. 다항함수 $f(x)$ 에 대하여 함수 $g(x)$ 를

$$g(x) = (x^3 + 1)f(x)$$

라 하자. $f(1) = 2$, $f'(1) = 3$ 일 때, $g'(1)$ 의 값은? [3점]

- ① 12 ② 14 ③ 16 ④ 18 ⑤ 20

6. $\cos\theta < 0$ 이고 $\sin(-\theta) = \frac{1}{7}\cos\theta$ 일 때, $\sin\theta$ 의 값은? [3점]

- ① $-\frac{3\sqrt{2}}{10}$ ② $-\frac{\sqrt{2}}{10}$ ③ 0
 ④ $\frac{\sqrt{2}}{10}$ ⑤ $\frac{3\sqrt{2}}{10}$

7. 상수 $a(a > 2)$ 에 대하여 함수 $y = \log_2(x-a)$ 의 그래프의

접근선이 두 곡선 $y = \log_2 \frac{x}{4}$, $y = \log_{\frac{1}{2}} x$ 와 만나는 점을 각각

A, B라 하자. $\overline{AB} = 4$ 일 때, a 의 값은? [3점]

- ① 4 ② 6 ③ 8 ④ 10 ⑤ 12

8. 두 곡선 $y=2x^2-1$, $y=x^3-x^2+k$ 가 만나는 점의 개수가 2가 되도록 하는 양수 k 의 값은? [3점]

- ① 1 ② 2 ③ 3 ④ 4 ⑤ 5

9. 수열 $\{a_n\}$ 이 모든 자연수 n 에 대하여

$$\sum_{k=1}^n \frac{1}{(2k-1)a_k} = n^2 + 2n$$

을 만족시킬 때, $\sum_{n=1}^{10} a_n$ 의 값은? [4점]

- ① $\frac{10}{21}$ ② $\frac{4}{7}$ ③ $\frac{2}{3}$ ④ $\frac{16}{21}$ ⑤ $\frac{6}{7}$

10. 양수 k 에 대하여 함수 $f(x)$ 는

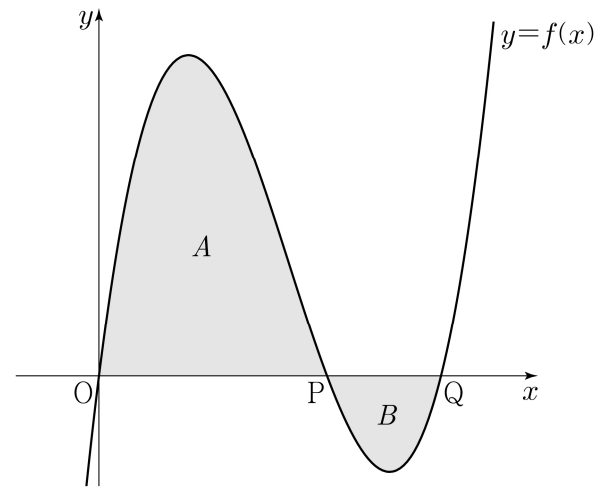
$$f(x) = kx(x-2)(x-3)$$

이다. 곡선 $y=f(x)$ 와 x 축이 원점 O 와 두 점 P, Q ($\overline{OP} < \overline{OQ}$)에서 만난다. 곡선 $y=f(x)$ 와 선분 OP 로 둘러싸인 영역을 A , 곡선 $y=f(x)$ 와 선분 PQ 로 둘러싸인 영역을 B 라 하자.

$$(A \text{의 넓이}) - (B \text{의 넓이}) = 3$$

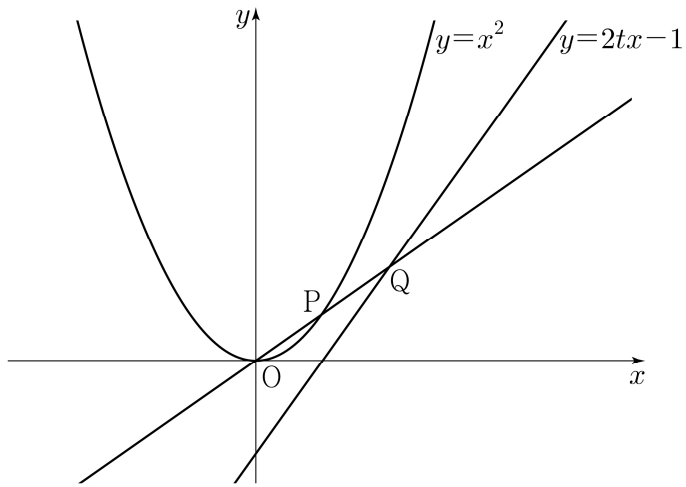
일 때, k 의 값은? [4점]

- ① $\frac{7}{6}$ ② $\frac{4}{3}$ ③ $\frac{3}{2}$ ④ $\frac{5}{3}$ ⑤ $\frac{11}{6}$



11. 그림과 같이 실수 $t(0 < t < 1)$ 에 대하여 곡선 $y = x^2$ 위의 점 중에서 직선 $y = 2tx - 1$ 과의 거리가 최소인 점을 P라 하고, 직선 OP가 직선 $y = 2tx - 1$ 과 만나는 점을 Q라 할 때,

$\lim_{t \rightarrow 1^-} \frac{\overline{PQ}}{1-t}$ 의 값은? (단, O는 원점이다.) [4점]



- ① $\sqrt{6}$ ② $\sqrt{7}$ ③ $2\sqrt{2}$ ④ 3 ⑤ $\sqrt{10}$

12. $a_2 = -4$ 이고 공차가 0이 아닌 등차수열 $\{a_n\}$ 에 대하여 수열 $\{b_n\}$ 을 $b_n = a_n + a_{n+1} (n \geq 1)$ 이라 하고, 두 집합 A, B 를

$$A = \{a_1, a_2, a_3, a_4, a_5\}, \quad B = \{b_1, b_2, b_3, b_4, b_5\}$$

라 하자. $n(A \cap B) = 3$ 이 되도록 하는 모든 수열 $\{a_n\}$ 에 대하여 a_{20} 의 값의 합은? [4점]

- ① 30 ② 34 ③ 38 ④ 42 ⑤ 46

13. 그림과 같이

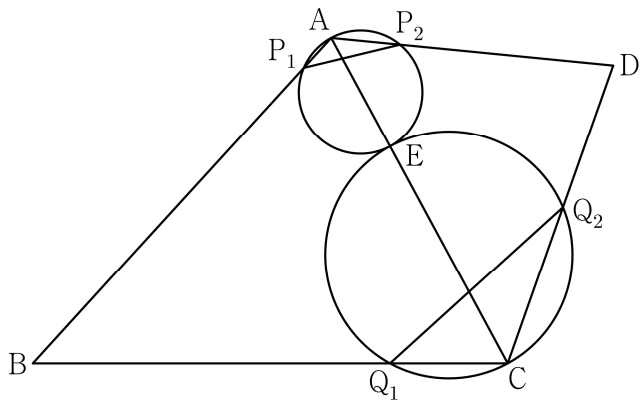
$$\overline{BC} = 3, \overline{CD} = 2, \cos(\angle BCD) = -\frac{1}{3}, \angle DAB > \frac{\pi}{2}$$

인 사각형 ABCD에서 두 삼각형 ABC와 ACD는 모두
예각삼각형이다. 선분 AC를 1:2로 내분하는 점 E에 대하여
선분 AE를 지름으로 하는 원이 두 선분 AB, AD와 만나는
점 중 A가 아닌 점을 각각 P₁, P₂라 하고,

선분 CE를 지름으로 하는 원이 두 선분 BC, CD와 만나는
점 중 C가 아닌 점을 각각 Q₁, Q₂라 하자.

$\overline{P_1P_2} : \overline{Q_1Q_2} = 3 : 5\sqrt{2}$ 이고 삼각형 ABD의 넓이가 2일 때,

$\overline{AB} + \overline{AD}$ 의 값은? (단, $\overline{AB} > \overline{AD}$) [4점]



- ① $\sqrt{21}$ ② $\sqrt{22}$ ③ $\sqrt{23}$ ④ $2\sqrt{6}$ ⑤ 5

14. 실수 $a(a \geq 0)$ 에 대하여 수직선 위를 움직이는 점 P의
시각 $t(t \geq 0)$ 에서의 속도 $v(t)$ 를

$$v(t) = -t(t-1)(t-a)(t-2a)$$

라 하자. 점 P가 시각 $t=0$ 일 때 출발한 후 운동 방향을
한 번만 바꾸도록 하는 a 에 대하여, 시각 $t=0$ 에서 $t=2$ 까지
점 P의 위치의 변화량의 최댓값은? [4점]

- ① $\frac{1}{5}$ ② $\frac{7}{30}$ ③ $\frac{4}{15}$ ④ $\frac{3}{10}$ ⑤ $\frac{1}{3}$

15. 자연수 k 에 대하여 다음 조건을 만족시키는 수열 $\{a_n\}$ 이 있다.

$a_1 = k$ 이고, 모든 자연수 n 에 대하여

$$a_{n+1} = \begin{cases} a_n + 2n - k & (a_n \leq 0) \\ a_n - 2n - k & (a_n > 0) \end{cases}$$

이다.

$a_3 \times a_4 \times a_5 \times a_6 < 0$ 이 되도록 하는 모든 k 의 값의 합은? [4점]

- ① 10 ② 14 ③ 18 ④ 22 ⑤ 26

단답형

16. 부등식 $2^{x-6} \leq \left(\frac{1}{4}\right)^x$ 을 만족시키는 모든 자연수 x 의 값의 합을 구하시오. [3점]

17. 함수 $f(x)$ 에 대하여 $f'(x) = 8x^3 - 1$ 이고 $f(0) = 3$ 일 때, $f(2)$ 의 값을 구하시오. [3점]

18. 두 상수 a, b 에 대하여 삼차함수 $f(x) = ax^3 + bx + a$ 는 $x=1$ 에서 극소이다. 함수 $f(x)$ 의 극솟값이 -2 일 때, 함수 $f(x)$ 의 극댓값을 구하시오. [3점]

19. 두 자연수 a, b 에 대하여 함수

$$f(x) = a \sin bx + 8 - a$$

가 다음 조건을 만족시킬 때, $a+b$ 의 값을 구하시오. [3점]

- (가) 모든 실수 x 에 대하여 $f(x) \geq 0$ 이다.
 (나) $0 \leq x < 2\pi$ 일 때, x 에 대한 방정식 $f(x) = 0$ 의 서로 다른 실근의 개수는 4이다.

20. 최고차항의 계수가 1인 이차함수 $f(x)$ 에 대하여 함수

$$g(x) = \int_0^x f(t) dt$$

가 다음 조건을 만족시킬 때, $f(9)$ 의 값을 구하시오. [4점]

- $x \geq 1$ 인 모든 실수 x 에 대하여 $g(x) \geq g(4)$ 이고 $|g(x)| \geq |g(3)|$ 이다.

21. 실수 t 에 대하여 두 곡선 $y = t - \log_2 x$ 와 $y = 2^{x-t}$ 이 만나는 점의 x 좌표를 $f(t)$ 라 하자.

<보기>의 각 명제에 대하여 다음 규칙에 따라 A, B, C 의 값을 정할 때, $A+B+C$ 의 값을 구하시오. (단, $A+B+C \neq 0$)
[4점]

- 명제 ㄱ이 참이면 $A=100$, 거짓이면 $A=0$ 이다.
- 명제 ㄴ이 참이면 $B=10$, 거짓이면 $B=0$ 이다.
- 명제 ㄷ이 참이면 $C=1$, 거짓이면 $C=0$ 이다.

— <보 기> —

- ㄱ. $f(1) = 1$ 이고 $f(2) = 2$ 이다.
- ㄴ. 실수 t 의 값이 증가하면 $f(t)$ 의 값도 증가한다.
- ㄷ. 모든 양의 실수 t 에 대하여 $f(t) \geq t$ 이다.

22. 정수 $a (a \neq 0)$ 에 대하여 함수 $f(x)$ 를

$$f(x) = x^3 - 2ax^2$$

이라 하자. 다음 조건을 만족시키는 모든 정수 k 의 값의 곱이 -12 가 되도록 하는 a 에 대하여 $f'(10)$ 의 값을 구하시오. [4점]

함수 $f(x)$ 에 대하여

$$\left\{ \frac{f(x_1) - f(x_2)}{x_1 - x_2} \right\} \times \left\{ \frac{f(x_2) - f(x_3)}{x_2 - x_3} \right\} < 0$$

을 만족시키는 세 실수 x_1, x_2, x_3 이 열린구간 $\left(k, k + \frac{3}{2}\right)$ 에 존재한다.

* 확인 사항

- 답안지의 해당란에 필요한 내용을 정확히 기입(표기)했는지 확인하시오.
- 이어서, 「선택과목(확률과 통계)」 문제가 제시되오니, 자신이 선택한 과목인지 확인하시오.

제 2 교시

수학 영역(기하)

5지선다형

23. 포물선 $y^2 = -12(x-1)$ 의 준선을 $x=k$ 라 할 때, 상수 k 의 값은? [2점]

- ① 4 ② 7 ③ 10 ④ 13 ⑤ 16

24. 한 직선 위에 있지 않은 서로 다른 세 점 A, B, C에 대하여

$$2\overrightarrow{AB} + p\overrightarrow{BC} = q\overrightarrow{CA}$$

일 때, $p-q$ 의 값은? (단, p 와 q 는 실수이다.) [3점]

- ① 1 ② 2 ③ 3 ④ 4 ⑤ 5

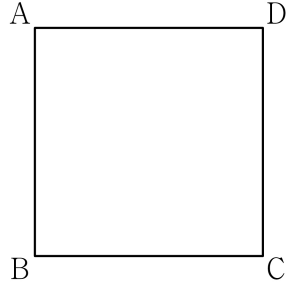
2

수학 영역(기하)

25. 그림과 같이 한 변의 길이가 1인 정사각형 ABCD에서

$$(\overrightarrow{AB} + k\overrightarrow{BC}) \cdot (\overrightarrow{AC} + 3k\overrightarrow{CD}) = 0$$

일 때, 실수 k 의 값은? [3점]



- ① 1 ② $\frac{1}{2}$ ③ $\frac{1}{3}$ ④ $\frac{1}{4}$ ⑤ $\frac{1}{5}$

26. 두 초점이 $F(12, 0)$, $F'(-4, 0)$ 이고, 장축의 길이가 24인 타원 C 가 있다. $\overline{F'F} = \overline{F'P}$ 인 타원 C 위의 점 P 에 대하여 선분 $F'P$ 의 중점을 Q 라 하자. 한 초점이 F' 인 타원

$$\frac{x^2}{a^2} + \frac{y^2}{b^2} = 1$$

이 점 Q 를 지날 때, $\overline{PF} + a^2 + b^2$ 의 값은?

(단, a 와 b 는 양수이다.) [3점]

- ① 46 ② 52 ③ 58 ④ 64 ⑤ 70

27. 포물선 $(y-2)^2=8(x+2)$ 위의 점 P와 점 A(0, 2)에 대하여 $\overline{OP} + \overline{PA}$ 의 값이 최소가 되도록 하는 점 P를 P_0 이라 하자. $\overline{OQ} + \overline{QA} = \overline{OP_0} + \overline{P_0A}$ 를 만족시키는 점 Q에 대하여 점 Q의 y 좌표의 최댓값과 최솟값을 각각 M, m 이라 할 때, $M^2 + m^2$ 의 값은? (단, O는 원점이다.) [3점]
- ① 8 ② 9 ③ 10 ④ 11 ⑤ 12

28. 좌표평면의 네 점 A(2, 6), B(6, 2), C(4, 4), D(8, 6)에 대하여 다음 조건을 만족시키는 모든 점 X의 집합을 S라 하자.

(가) $\{(\overline{OX} - \overline{OD}) \cdot \overline{OC}\} \times \{|\overline{OX} - \overline{OC}| - 3\} = 0$
 (나) 두 벡터 $\overline{OX} - \overline{OP}$ 와 \overline{OC} 가 서로 평행하도록 하는 선분 AB 위의 점 P가 존재한다.

- 집합 S에 속하는 점 중에서 y 좌표가 최대인 점을 Q, y 좌표가 최소인 점을 R이라 할 때, $\overline{OQ} \cdot \overline{OR}$ 의 값은? (단, O는 원점이다.) [4점]
- ① 25 ② 26 ③ 27 ④ 28 ⑤ 29

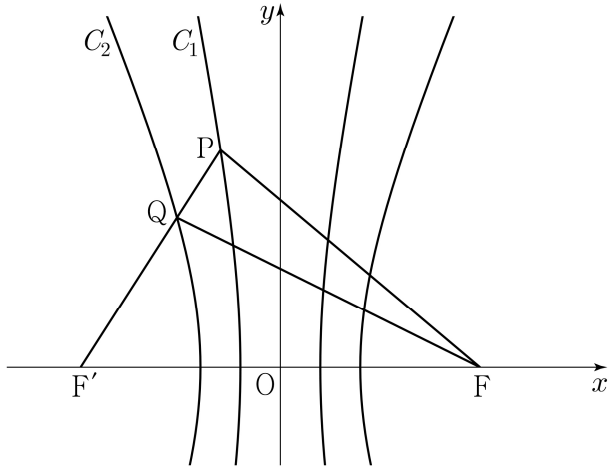
단답형

29. 두 점 $F(c, 0), F'(-c, 0) (c > 0)$ 을 초점으로 하는 두 쌍곡선

$$C_1: x^2 - \frac{y^2}{24} = 1, \quad C_2: \frac{x^2}{4} - \frac{y^2}{21} = 1$$

이 있다. 쌍곡선 C_1 위에 있는 제2사분면 위의 점 P 에 대하여 선분 PF' 이 쌍곡선 C_2 와 만나는 점을 Q 라 하자.

$\overline{PQ} + \overline{QF}, 2\overline{PF'}, \overline{PF} + \overline{PF'}$ 이 이 순서대로 등차수열을 이룰 때, 직선 PQ 의 기울기는 m 이다. $60m$ 의 값을 구하시오. [4점]

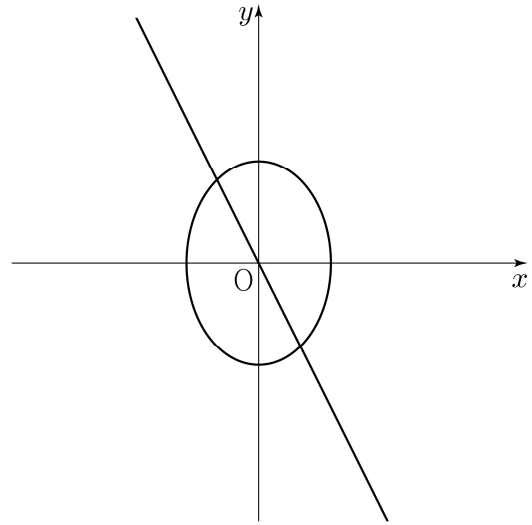


30. 직선 $2x + y = 0$ 위를 움직이는 점 P 와 타원 $2x^2 + y^2 = 3$ 위를 움직이는 점 Q 에 대하여

$$\overrightarrow{OX} = \overrightarrow{OP} + \overrightarrow{OQ}$$

를 만족시키고, x 좌표와 y 좌표가 모두 0 이상인 모든 점 X 가 나타내는 영역의 넓이는 $\frac{q}{p}$ 이다. $p+q$ 의 값을 구하시오.

(단, 0는 원점이고, p 와 q 는 서로소인 자연수이다.) [4점]



* 확인 사항

○ 답안지의 해당란에 필요한 내용을 정확히 기입(표기)했는지 확인하시오.

제 2 교시

수학 영역

출수형

5지선다형

1. $\left(\frac{4}{2\sqrt{2}}\right)^{2+\sqrt{2}}$ 의 값은? [2점]

- ① $\frac{1}{4}$ ② $\frac{1}{2}$ ③ 1 ④ 2 ⑤ 4

2. $\lim_{x \rightarrow \infty} \frac{\sqrt{x^2-2}+3x}{x+5}$ 의 값은? [2점]

- ① 1 ② 2 ③ 3 ④ 4 ⑤ 5

3. 공비가 양수인 등비수열 $\{a_n\}$ 이

$$a_2 + a_4 = 30, \quad a_4 + a_6 = \frac{15}{2}$$

를 만족시킬 때, a_1 의 값은? [3점]

- ① 48 ② 56 ③ 64 ④ 72 ⑤ 80

4. 다항함수 $f(x)$ 에 대하여 함수 $g(x)$ 를

$$g(x) = x^2 f(x)$$

라 하자. $f(2) = 1, f'(2) = 3$ 일 때, $g'(2)$ 의 값은? [3점]

- ① 12 ② 14 ③ 16 ④ 18 ⑤ 20

5. $\tan \theta < 0$ 이고 $\cos\left(\frac{\pi}{2} + \theta\right) = \frac{\sqrt{5}}{5}$ 일 때, $\cos \theta$ 의 값은? [3점]

- ① $-\frac{2\sqrt{5}}{5}$ ② $-\frac{\sqrt{5}}{5}$ ③ 0
 ④ $\frac{\sqrt{5}}{5}$ ⑤ $\frac{2\sqrt{5}}{5}$

6. 함수 $f(x) = 2x^3 - 9x^2 + ax + 5$ 는 $x = 1$ 에서 극대이고,
 $x = b$ 에서 극소이다. $a + b$ 의 값은? (단, a, b 는 상수이다.) [3점]

- ① 12 ② 14 ③ 16 ④ 18 ⑤ 20

7. 모든 항이 양수이고 첫째항과 공차가 같은 등차수열 $\{a_n\}$ 이

$$\sum_{k=1}^{15} \frac{1}{\sqrt{a_k} + \sqrt{a_{k+1}}} = 2$$

를 만족시킬 때, a_4 의 값은? [3점]

- ① 6 ② 7 ③ 8 ④ 9 ⑤ 10

8. 점 $(0, 4)$ 에서 곡선 $y = x^3 - x + 2$ 에 그은 접선의 x 절편은?
[3점]

- ① $-\frac{1}{2}$ ② -1 ③ $-\frac{3}{2}$ ④ -2 ⑤ $-\frac{5}{2}$

9. 함수

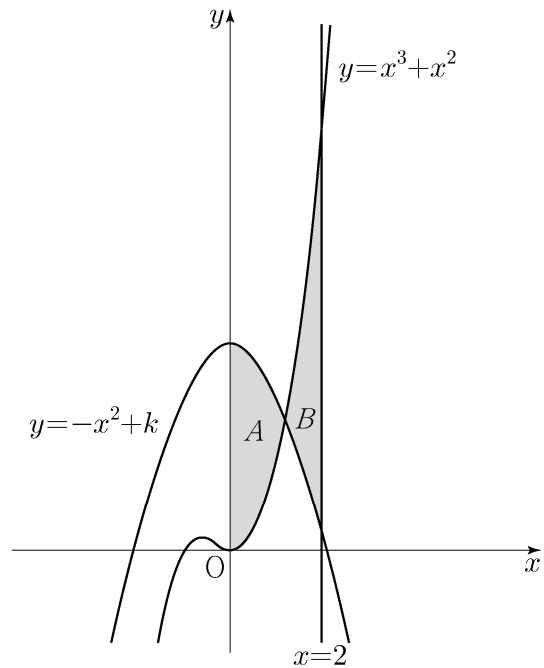
$$f(x) = a - \sqrt{3}\tan 2x$$

가 닫힌구간 $[-\frac{\pi}{6}, b]$ 에서 최댓값 7, 최솟값 3을 가질 때,
 $a \times b$ 의 값은? (단, a, b 는 상수이다.) [4점]

- ① $\frac{\pi}{2}$ ② $\frac{5\pi}{12}$ ③ $\frac{\pi}{3}$ ④ $\frac{\pi}{4}$ ⑤ $\frac{\pi}{6}$

10. 두 곡선 $y = x^3 + x^2$, $y = -x^2 + k$ 와 y 축으로 둘러싸인
부분의 넓이를 A , 두 곡선 $y = x^3 + x^2$, $y = -x^2 + k$ 와
직선 $x = 2$ 로 둘러싸인 부분의 넓이를 B 라 하자.
 $A = B$ 일 때, 상수 k 의 값은? (단, $4 < k < 5$) [4점]

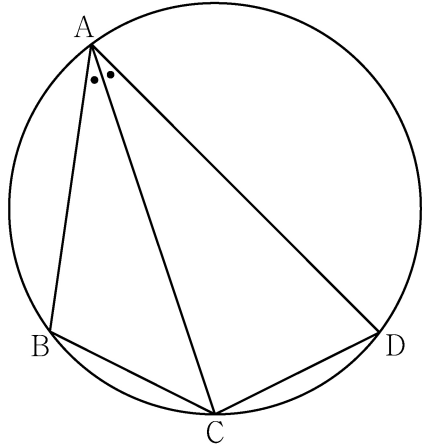
- ① $\frac{25}{6}$ ② $\frac{13}{3}$ ③ $\frac{9}{2}$ ④ $\frac{14}{3}$ ⑤ $\frac{29}{6}$



11. 그림과 같이 사각형 ABCD가 한 원에 내접하고

$$\overline{AB} = 5, \overline{AC} = 3\sqrt{5}, \overline{AD} = 7, \angle BAC = \angle CAD$$

일 때, 이 원의 반지름의 길이는? [4점]



- ① $\frac{5\sqrt{2}}{2}$
- ② $\frac{8\sqrt{5}}{5}$
- ③ $\frac{5\sqrt{5}}{3}$
- ④ $\frac{8\sqrt{2}}{3}$
- ⑤ $\frac{9\sqrt{3}}{4}$

12. 실수 전체의 집합에서 연속인 함수 $f(x)$ 가 다음 조건을 만족시킨다.

$n-1 \leq x < n$ 일 때, $|f(x)| = |6(x-n+1)(x-n)|$ 이다.
(단, n 은 자연수이다.)

열린구간 $(0, 4)$ 에서 정의된 함수

$$g(x) = \int_0^x f(t) dt - \int_x^4 f(t) dt$$

가 $x=2$ 에서 최솟값 0을 가질 때, $\int_{\frac{1}{2}}^4 f(x) dx$ 의 값은? [4점]

- ① $-\frac{3}{2}$
- ② $-\frac{1}{2}$
- ③ $\frac{1}{2}$
- ④ $\frac{3}{2}$
- ⑤ $\frac{5}{2}$

13. 자연수 $m(m \geq 2)$ 에 대하여 m^2 의 n 제곱근 중에서 정수가 존재하도록 하는 2 이상의 자연수 n 의 개수를 $f(m)$ 이라 할 때,

$\sum_{m=2}^9 f(m)$ 의 값은? [4점]

- ① 37 ② 42 ③ 47 ④ 52 ⑤ 57

14. 다항함수 $f(x)$ 에 대하여 함수 $g(x)$ 를 다음과 같이 정의한다.

$$g(x) = \begin{cases} x & (x < -1 \text{ 또는 } x > 1) \\ f(x) & (-1 \leq x \leq 1) \end{cases}$$

함수 $h(x) = \lim_{t \rightarrow 0^+} g(x+t) \times \lim_{t \rightarrow 2^+} g(x+t)$ 에 대하여

<보기>에서 옳은 것만을 있는 대로 고른 것은? [4점]

—<보 기>—

- ㄱ. $h(1) = 3$
 ㄴ. 함수 $h(x)$ 는 실수 전체의 집합에서 연속이다.
 ㄷ. 함수 $g(x)$ 가 닫힌구간 $[-1, 1]$ 에서 감소하고 $g(-1) = -2$ 이면 함수 $h(x)$ 는 실수 전체의 집합에서 최솟값을 갖는다.

- ① ㄱ ② ㄴ ③ ㄱ, ㄴ ④ ㄱ, ㄷ ⑤ ㄴ, ㄷ

15. 모든 항이 자연수이고 다음 조건을 만족시키는 모든 수열 $\{a_n\}$ 에 대하여 a_9 의 최댓값과 최솟값을 각각 M, m 이라 할 때, $M+m$ 의 값은? [4점]

(가) $a_7 = 40$

(나) 모든 자연수 n 에 대하여

$$a_{n+2} = \begin{cases} a_{n+1} + a_n & (a_{n+1} \text{이 } 3 \text{의 배수가 아닌 경우}) \\ \frac{1}{3}a_{n+1} & (a_{n+1} \text{이 } 3 \text{의 배수인 경우}) \end{cases}$$

이다.

- ① 216 ② 218 ③ 220 ④ 222 ⑤ 224

단답형

16. 방정식

$$\log_2(3x+2) = 2 + \log_2(x-2)$$

를 만족시키는 실수 x 의 값을 구하시오. [3점]

17. 함수 $f(x)$ 에 대하여 $f'(x) = 4x^3 - 2x$ 이고 $f(0) = 3$ 일 때, $f(2)$ 의 값을 구하시오. [3점]

18. 두 수열 $\{a_n\}$, $\{b_n\}$ 에 대하여

$$\sum_{k=1}^5 (3a_k + 5) = 55, \quad \sum_{k=1}^5 (a_k + b_k) = 32$$

일 때, $\sum_{k=1}^5 b_k$ 의 값을 구하시오. [3점]

19. 방정식 $2x^3 - 6x^2 + k = 0$ 의 서로 다른 양의 실근의 개수가 2가 되도록 하는 정수 k 의 개수를 구하시오. [3점]

20. 수직선 위를 움직이는 점 P의 시각 $t(t \geq 0)$ 에서의 속도 $v(t)$ 와 가속도 $a(t)$ 가 다음 조건을 만족시킨다.

(가) $0 \leq t \leq 2$ 일 때, $v(t) = 2t^3 - 8t$ 이다.

(나) $t \geq 2$ 일 때, $a(t) = 6t + 4$ 이다.

시각 $t=0$ 에서 $t=3$ 까지 점 P가 움직인 거리를 구하시오. [4점]

21. 자연수 n 에 대하여 함수 $f(x)$ 를

$$f(x) = \begin{cases} |3^{x+2} - n| & (x < 0) \\ |\log_2(x+4) - n| & (x \geq 0) \end{cases}$$

이라 하자. 실수 t 에 대하여 x 에 대한 방정식 $f(x) = t$ 의 서로 다른 실근의 개수를 $g(t)$ 라 할 때, 함수 $g(t)$ 의 최댓값이 4가 되도록 하는 모든 자연수 n 의 값의 합을 구하시오. [4점]

22. 최고차항의 계수가 1인 삼차함수 $f(x)$ 와 실수 전체의 집합에서 연속인 함수 $g(x)$ 가 다음 조건을 만족시킬 때, $f(4)$ 의 값을 구하시오. [4점]

- (가) 모든 실수 x 에 대하여
 $f(x) = f(1) + (x-1)f'(g(x))$ 이다.
- (나) 함수 $g(x)$ 의 최솟값은 $\frac{5}{2}$ 이다.
- (다) $f(0) = -3, f(g(1)) = 6$

* 확인 사항

- 답안지의 해당란에 필요한 내용을 정확히 기입(표기)했는지 확인하시오.
- 이어서, 「선택과목(확률과 통계)」 문제가 제시되오니, 자신이 선택한 과목인지 확인하시오.

제 2 교시

수학 영역(기하)

출수형

5지선다형

23. 좌표공간의 점 $A(2, 2, -1)$ 을 x 축에 대하여 대칭이동한 점을 B 라 하자. 점 $C(-2, 1, 1)$ 에 대하여 선분 BC 의 길이는?
[2점]

- ① 1
- ② 2
- ③ 3
- ④ 4
- ⑤ 5

24. 초점이 $F\left(\frac{1}{3}, 0\right)$ 이고 준선이 $x = -\frac{1}{3}$ 인 포물선이 점 $(a, 2)$ 를 지날 때, a 의 값은? [3점]

- ① 1
- ② 2
- ③ 3
- ④ 4
- ⑤ 5

25. 타원 $\frac{x^2}{a^2} + \frac{y^2}{b^2} = 1$ 위의 점 $(2, 1)$ 에서의 접선의

기울기가 $-\frac{1}{2}$ 일 때, 이 타원의 두 초점 사이의 거리는?

(단, a, b 는 양수이다.) [3점]

- ① $2\sqrt{3}$ ② 4 ③ $2\sqrt{5}$ ④ $2\sqrt{6}$ ⑤ $2\sqrt{7}$

26. 좌표평면에서 세 벡터

$$\vec{a} = (2, 4), \quad \vec{b} = (2, 8), \quad \vec{c} = (1, 0)$$

에 대하여 두 벡터 \vec{p}, \vec{q} 가

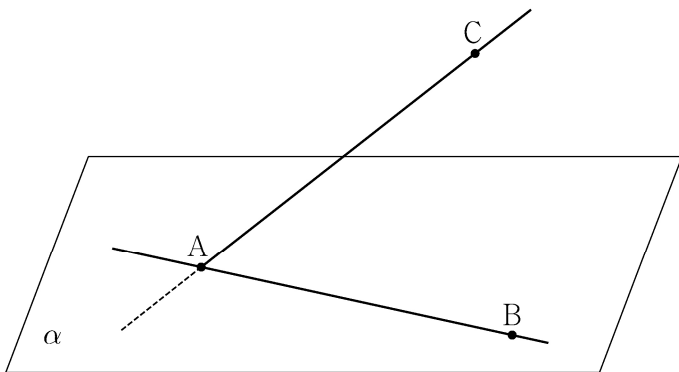
$$(\vec{p} - \vec{a}) \cdot (\vec{p} - \vec{b}) = 0, \quad \vec{q} = \frac{1}{2}\vec{a} + t\vec{c} \quad (t \text{는 실수})$$

를 만족시킬 때, $|\vec{p} - \vec{q}|$ 의 최솟값은? [3점]

- ① $\frac{3}{2}$ ② 2 ③ $\frac{5}{2}$ ④ 3 ⑤ $\frac{7}{2}$

27. 좌표공간에 직선 AB를 포함하는 평면 α 가 있다. 평면 α 위에 있지 않은 점 C에 대하여 직선 AB와 직선 AC가 이루는 예각의 크기를 θ_1 이라 할 때 $\sin\theta_1 = \frac{4}{5}$ 이고, 직선 AC와 평면 α 가 이루는 예각의 크기는 $\frac{\pi}{2} - \theta_1$ 이다. 평면 ABC와 평면 α 가 이루는 예각의 크기를 θ_2 라 할 때, $\cos\theta_2$ 의 값은? [3점]

- ① $\frac{\sqrt{7}}{4}$ ② $\frac{\sqrt{7}}{5}$ ③ $\frac{\sqrt{7}}{6}$ ④ $\frac{\sqrt{7}}{7}$ ⑤ $\frac{\sqrt{7}}{8}$

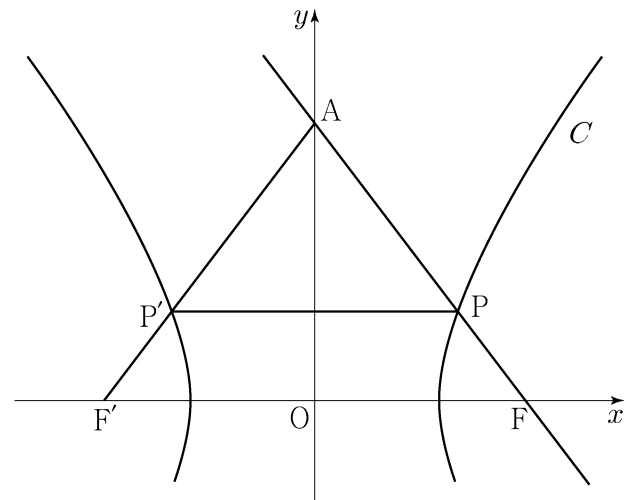


28. 두 초점이 $F(c, 0), F'(-c, 0) (c > 0)$ 인 쌍곡선 C 와 y 축 위의 점 A 가 있다. 쌍곡선 C 가 선분 AF와 만나는 점을 P , 선분 AF'과 만나는 점을 P' 이라 하자. 직선 AF는 쌍곡선 C 의 한 점근선과 평행하고

$$\overline{AP} : \overline{PP'} = 5 : 6, \quad \overline{PF} = 1$$

일 때, 쌍곡선 C 의 주축의 길이는? [4점]

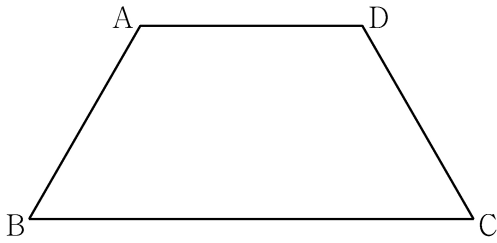
- ① $\frac{13}{6}$ ② $\frac{9}{4}$ ③ $\frac{7}{3}$ ④ $\frac{29}{12}$ ⑤ $\frac{5}{2}$



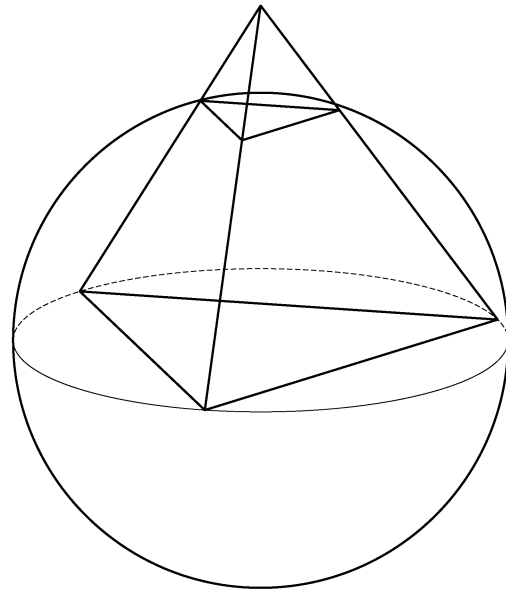
단답형

29. 평면 α 위에 $\overline{AB} = \overline{CD} = \overline{AD} = 2$, $\angle ABC = \angle BCD = \frac{\pi}{3}$ 인 사다리꼴 ABCD가 있다. 다음 조건을 만족시키는 평면 α 위의 두 점 P, Q에 대하여 $\overrightarrow{CP} \cdot \overrightarrow{DQ}$ 의 값을 구하시오. [4점]

- (가) $\overrightarrow{AC} = 2(\overrightarrow{AD} + \overrightarrow{BP})$
- (나) $\overrightarrow{AC} \cdot \overrightarrow{PQ} = 6$
- (다) $2 \times \angle BQA = \angle PBQ < \frac{\pi}{2}$



30. 좌표공간에 정사면체 ABCD가 있다. 정삼각형 BCD의 외심을 중심으로 하고 점 B를 지나는 구를 S 라 하자. 구 S 와 선분 AB가 만나는 점 중 B가 아닌 점을 P, 구 S 와 선분 AC가 만나는 점 중 C가 아닌 점을 Q, 구 S 와 선분 AD가 만나는 점 중 D가 아닌 점을 R라 하고, 점 P에서 구 S 에 접하는 평면을 α 라 하자. 구 S 의 반지름의 길이가 6일 때, 삼각형 PQR의 평면 α 위로의 정사영의 넓이는 k 이다. k^2 의 값을 구하시오. [4점]



* 확인 사항
 ○ 답안지의 해당란에 필요한 내용을 정확히 기입(표기)했는지 확인하시오.

제 2 교시

수학 영역

5지선다형

1. $\left(\frac{2\sqrt{3}}{2}\right)^{\sqrt{3}+1}$ 의 값은? [2점]

- ① $\frac{1}{16}$ ② $\frac{1}{4}$ ③ 1 ④ 4 ⑤ 16

2. 함수 $f(x) = 2x^2 + 5$ 에 대하여 $\lim_{x \rightarrow 2} \frac{f(x) - f(2)}{x - 2}$ 의 값은? [2점]

- ① 8 ② 9 ③ 10 ④ 11 ⑤ 12

3. $\sin(\pi - \theta) = \frac{5}{13}$ 이고 $\cos \theta < 0$ 일 때, $\tan \theta$ 의 값은? [3점]

- ① $-\frac{12}{13}$ ② $-\frac{5}{12}$ ③ 0 ④ $\frac{5}{12}$ ⑤ $\frac{12}{13}$

4. 함수

$$f(x) = \begin{cases} -2x + a & (x \leq a) \\ ax - 6 & (x > a) \end{cases}$$

가 실수 전체의 집합에서 연속이 되도록 하는 모든 상수 a 의 값의 합은? [3점]

- ① -1 ② -2 ③ -3 ④ -4 ⑤ -5

5. 등차수열 $\{a_n\}$ 에 대하여

$$a_1 = 2a_5, \quad a_8 + a_{12} = -6$$

일 때, a_2 의 값은? [3점]

- ① 17 ② 19 ③ 21 ④ 23 ⑤ 25

6. 함수 $f(x) = x^3 - 3x^2 + k$ 의 극댓값이 9일 때,
함수 $f(x)$ 의 극솟값은? (단, k 는 상수이다.) [3점]

- ① 1 ② 2 ③ 3 ④ 4 ⑤ 5

7. 수열 $\{a_n\}$ 의 첫째항부터 제 n 항까지의 합을 S_n 이라 하자.

$$S_n = \frac{1}{n(n+1)} \text{ 일 때, } \sum_{k=1}^{10} (S_k - a_k) \text{의 값은? [3점]}$$

- ① $\frac{1}{2}$ ② $\frac{3}{5}$ ③ $\frac{7}{10}$ ④ $\frac{4}{5}$ ⑤ $\frac{9}{10}$

8. 곡선 $y = x^3 - 4x + 5$ 위의 점 $(1, 2)$ 에서의 접선이
 곡선 $y = x^4 + 3x + a$ 에 접할 때, 상수 a 의 값은? [3점]
- ① 6 ② 7 ③ 8 ④ 9 ⑤ 10

9. 닫힌구간 $[0, 12]$ 에서 정의된 두 함수

$$f(x) = \cos \frac{\pi x}{6}, \quad g(x) = -3 \cos \frac{\pi x}{6} - 1$$

이 있다. 곡선 $y = f(x)$ 와 직선 $y = k$ 가 만나는 두 점의 x 좌표를 α_1, α_2 라 할 때, $|\alpha_1 - \alpha_2| = 8$ 이다. 곡선 $y = g(x)$ 와 직선 $y = k$ 가 만나는 두 점의 x 좌표를 β_1, β_2 라 할 때, $|\beta_1 - \beta_2|$ 의 값은? (단, k 는 $-1 < k < 1$ 인 상수이다.) [4점]

- ① 3 ② $\frac{7}{2}$ ③ 4 ④ $\frac{9}{2}$ ⑤ 5

10. 수직선 위의 점 $A(6)$ 과 시각 $t=0$ 일 때 원점을 출발하여
 이 수직선 위를 움직이는 점 P 가 있다. 시각 $t(t \geq 0)$ 에서의
 점 P 의 속도 $v(t)$ 를

$$v(t) = 3t^2 + at \quad (a > 0)$$

이라 하자. 시각 $t=2$ 에서 점 P 와 점 A 사이의 거리가 10일 때,
 상수 a 의 값은? [4점]

- ① 1 ② 2 ③ 3 ④ 4 ⑤ 5

11. 함수 $f(x) = -(x-2)^2 + k$ 에 대하여 다음 조건을 만족시키는 자연수 n 의 개수가 2일 때, 상수 k 의 값은? [4점]

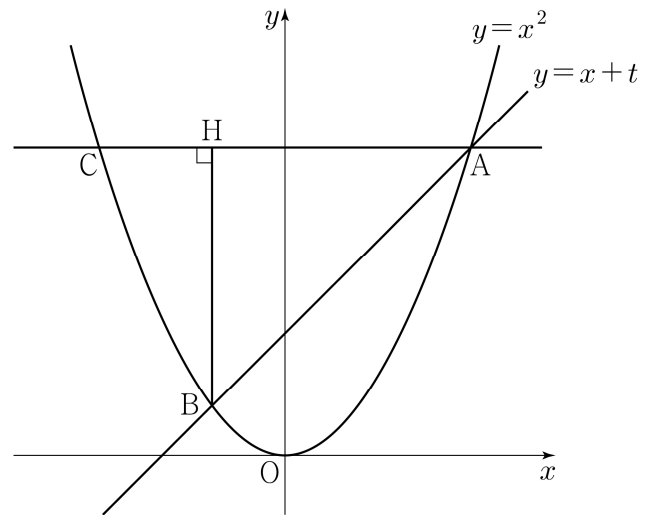
$\sqrt{3}^{f(n)}$ 의 네제곱근 중 실수인 것을 모두 곱한 값이 -9 이다.

- ① 8 ② 9 ③ 10 ④ 11 ⑤ 12

12. 실수 $t(t > 0)$ 에 대하여 직선 $y = x + t$ 와 곡선 $y = x^2$ 이 만나는 두 점을 A, B라 하자. 점 A를 지나고 x 축에 평행한 직선이 곡선 $y = x^2$ 과 만나는 점 중 A가 아닌 점을 C, 점 B에서 선분 AC에 내린 수선의 발을 H라 하자.

$\lim_{t \rightarrow 0^+} \frac{\overline{AH} - \overline{CH}}{t}$ 의 값은? (단, 점 A의 x 좌표는 양수이다.) [4점]

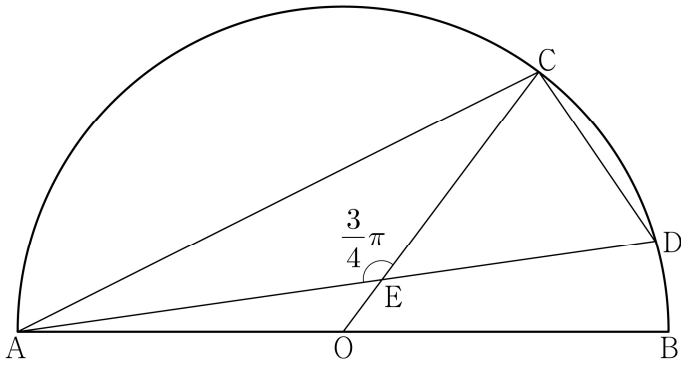
- ① 1 ② 2 ③ 3 ④ 4 ⑤ 5



13. 그림과 같이 선분 AB를 지름으로 하는 반원의 호 AB 위에 두 점 C, D가 있다. 선분 AB의 중점 O에 대하여 두 선분 AD, CO가 점 E에서 만나고,

$$\overline{CE} = 4, \quad \overline{ED} = 3\sqrt{2}, \quad \angle CEA = \frac{3}{4}\pi$$

이다. $\overline{AC} \times \overline{CD}$ 의 값은? [4점]



- ① $6\sqrt{10}$ ② $10\sqrt{5}$ ③ $16\sqrt{2}$
- ④ $12\sqrt{5}$ ⑤ $20\sqrt{2}$

14. 최고차항의 계수가 1이고 $f(0)=0, f(1)=0$ 인 삼차함수 $f(x)$ 에 대하여 함수 $g(t)$ 를

$$g(t) = \int_t^{t+1} f(x) dx - \int_0^1 |f(x)| dx$$

라 할 때, <보기>에서 옳은 것만을 있는 대로 고른 것은? [4점]

<보 기>

ㄱ. $g(0)=0$ 이면 $g(-1) < 0$ 이다.

ㄴ. $g(-1) > 0$ 이면 $f(k)=0$ 을 만족시키는 $k < -1$ 인 실수 k 가 존재한다.

ㄷ. $g(-1) > 1$ 이면 $g(0) < -1$ 이다.

- ① ㄱ ② ㄱ, ㄴ ③ ㄱ, ㄷ
- ④ ㄴ, ㄷ ⑤ ㄱ, ㄴ, ㄷ

15. 수열 $\{a_n\}$ 이 다음 조건을 만족시킨다.

(가) 모든 자연수 k 에 대하여 $a_{4k} = r^k$ 이다.

(단, r 는 $0 < |r| < 1$ 인 상수이다.)

(나) $a_1 < 0$ 이고, 모든 자연수 n 에 대하여

$$a_{n+1} = \begin{cases} a_n + 3 & (|a_n| < 5) \\ -\frac{1}{2}a_n & (|a_n| \geq 5) \end{cases}$$

이다.

$|a_m| \geq 5$ 를 만족시키는 100 이하의 자연수 m 의 개수를 p 라 할 때, $p + a_1$ 의 값은? [4점]

- ① 8 ② 10 ③ 12 ④ 14 ⑤ 16

단답형

16. 방정식 $\log_3(x-4) = \log_9(x+2)$ 를 만족시키는 실수 x 의 값을 구하시오. [3점]

17. 함수 $f(x)$ 에 대하여 $f'(x) = 6x^2 - 4x + 3$ 이고 $f(1) = 5$ 일 때, $f(2)$ 의 값을 구하시오. [3점]

18. 수열 $\{a_n\}$ 에 대하여 $\sum_{k=1}^5 a_k = 10$ 일 때,

$$\sum_{k=1}^5 ca_k = 65 + \sum_{k=1}^5 c$$

를 만족시키는 상수 c 의 값을 구하시오. [3점]

19. 방정식 $3x^4 - 4x^3 - 12x^2 + k = 0$ 이 서로 다른 4개의 실근을 갖도록 하는 자연수 k 의 개수를 구하시오. [3점]

20. 상수 $k(k < 0)$ 에 대하여 두 함수

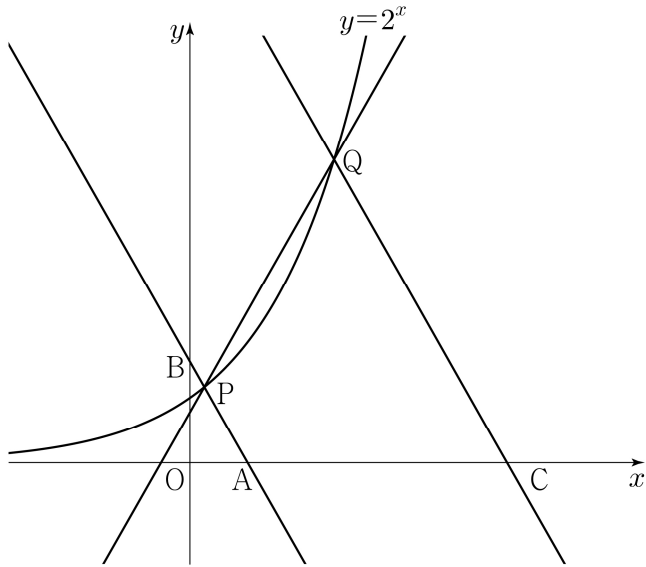
$$f(x) = x^3 + x^2 - x, \quad g(x) = 4|x| + k$$

의 그래프가 만나는 점의 개수가 2일 때,
두 함수의 그래프로 둘러싸인 부분의 넓이를 S 라 하자.
 $30 \times S$ 의 값을 구하시오. [4점]

21. 그림과 같이 곡선 $y=2^x$ 위에 두 점 $P(a, 2^a)$, $Q(b, 2^b)$ 이 있다. 직선 PQ의 기울기를 m 이라 할 때, 점 P를 지나며 기울기가 $-m$ 인 직선이 x 축, y 축과 만나는 점을 각각 A, B라 하고, 점 Q를 지나며 기울기가 $-m$ 인 직선이 x 축과 만나는 점을 C라 하자.

$$\overline{AB} = 4\overline{PB}, \quad \overline{CQ} = 3\overline{AQ}$$

일 때, $90 \times (a+b)$ 의 값을 구하시오. (단, $0 < a < b$) [4점]



22. 최고차항의 계수가 1이고 $x=3$ 에서 극댓값 8을 갖는 삼차함수 $f(x)$ 가 있다. 실수 t 에 대하여 함수 $g(x)$ 를

$$g(x) = \begin{cases} f(x) & (x \geq t) \\ -f(x) + 2f(t) & (x < t) \end{cases}$$

라 할 때, 방정식 $g(x)=0$ 의 서로 다른 실근의 개수를 $h(t)$ 라 하자. 함수 $h(t)$ 가 $t=a$ 에서 불연속인 a 의 값이 두 개일 때, $f(8)$ 의 값을 구하시오. [4점]

* 확인 사항

- 답안지의 해당란에 필요한 내용을 정확히 기입(표기)했는지 확인하시오.
- 이어서, 「선택과목(확률과 통계)」 문제가 제시되오니, 자신이 선택한 과목인지 확인하시오.

제 2 교시

수학 영역(기하)

5지선다형

23. 좌표공간의 두 점 $A(a, 1, -1)$, $B(-5, b, 3)$ 에 대하여
선분 AB 의 중점의 좌표가 $(8, 3, 1)$ 일 때, $a+b$ 의 값은? [2점]

- ① 20 ② 22 ③ 24 ④ 26 ⑤ 28

24. 쌍곡선 $\frac{x^2}{a^2} - y^2 = 1$ 위의 점 $(2a, \sqrt{3})$ 에서의 접선이
직선 $y = -\sqrt{3}x + 1$ 과 수직일 때, 상수 a 의 값은? [3점]

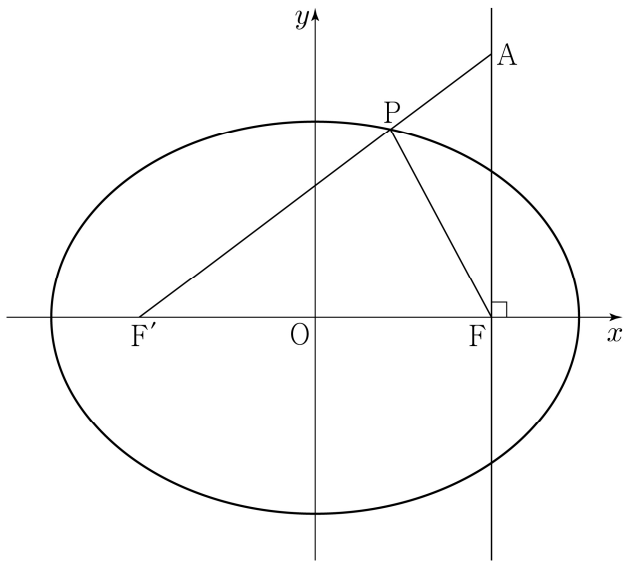
- ① 1 ② 2 ③ 3 ④ 4 ⑤ 5

2

수학 영역(기하)

25. 타원 $\frac{x^2}{a^2} + \frac{y^2}{5} = 1$ 의 두 초점을 F, F'이라 하자. 점 F를 지나고 x축에 수직인 직선 위의 점 A가 $\overline{AF'} = 5$, $\overline{AF} = 3$ 을 만족시킨다. 선분 AF'과 타원이 만나는 점을 P라 할 때, 삼각형 PF'F의 둘레의 길이는? (단, a는 $a > \sqrt{5}$ 인 상수이다.) [3점]

- ① 8 ② $\frac{17}{2}$ ③ 9 ④ $\frac{19}{2}$ ⑤ 10



26. 좌표평면 위의 점 A(3, 0)에 대하여

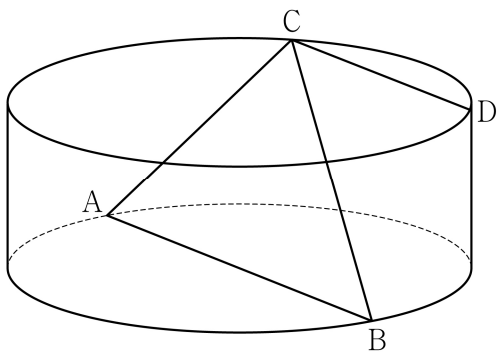
$$(\overrightarrow{OP} - \overrightarrow{OA}) \cdot (\overrightarrow{OP} - \overrightarrow{OA}) = 5$$

를 만족시키는 점 P가 나타내는 도형과 직선 $y = \frac{1}{2}x + k$ 가 오직 한 점에서 만날 때, 양수 k의 값은? (단, O는 원점이다.) [3점]

- ① $\frac{3}{5}$ ② $\frac{4}{5}$ ③ 1 ④ $\frac{6}{5}$ ⑤ $\frac{7}{5}$

27. 그림과 같이 밑면의 반지름의 길이가 4, 높이가 3인 원기둥이 있다. 선분 AB는 이 원기둥의 한 밑면의 지름이고 C, D는 다른 밑면의 둘레 위의 서로 다른 두 점이다. 네 점 A, B, C, D가 다음 조건을 만족시킬 때, 선분 CD의 길이는? [3점]

- (가) 삼각형 ABC의 넓이는 16이다.
 (나) 두 직선 AB, CD는 서로 평행하다.



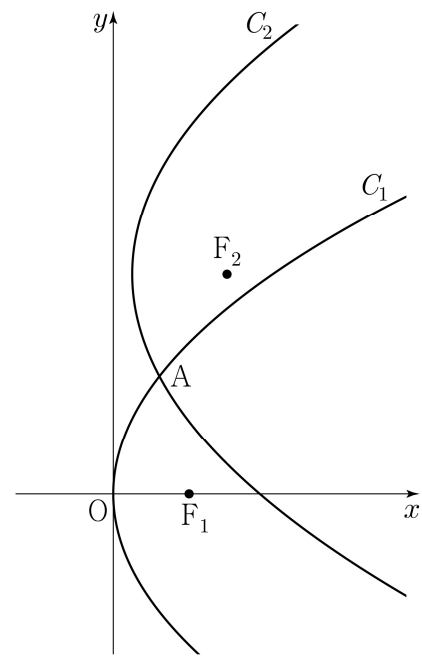
- ① 5 ② $\frac{11}{2}$ ③ 6 ④ $\frac{13}{2}$ ⑤ 7

28. 실수 $p(p \geq 1)$ 과 함수 $f(x) = (x+a)^2$ 에 대하여 두 포물선

$$C_1: y^2 = 4x, \quad C_2: (y-3)^2 = 4p\{x-f(p)\}$$

가 제1사분면에서 만나는 점을 A라 하자. 두 포물선 C_1, C_2 의 초점을 각각 F_1, F_2 라 할 때, $\overline{AF_1} = \overline{AF_2}$ 를 만족시키는 p 가 오직 하나가 되도록 하는 상수 a 의 값은? [4점]

- ① $-\frac{3}{4}$ ② $-\frac{5}{8}$ ③ $-\frac{1}{2}$ ④ $-\frac{3}{8}$ ⑤ $-\frac{1}{4}$



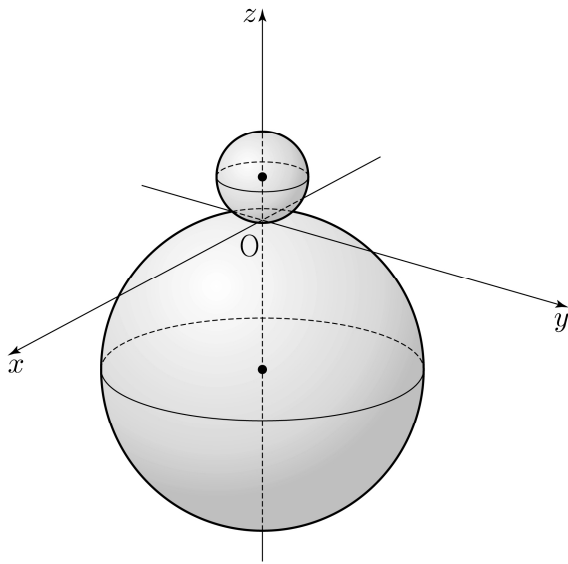
단답형

29. 좌표공간에 두 개의 구

$$S_1 : x^2 + y^2 + (z-2)^2 = 4, \quad S_2 : x^2 + y^2 + (z+7)^2 = 49$$

가 있다. 점 $A(\sqrt{5}, 0, 0)$ 을 지나고 zx 평면에 수직이며, 구 S_1 과 z 좌표가 양수인 한 점에서 접하는 평면을 α 라 하자. 구 S_2 가 평면 α 와 만나서 생기는 원을 C 라 할 때, 원 C 위의 점 중 z 좌표가 최소인 점을 B 라 하고 구 S_2 와 점 B 에서 접하는 평면을 β 라 하자.

원 C 의 평면 β 위로의 정사영의 넓이가 $\frac{q}{p}\pi$ 일 때, $p+q$ 의 값을 구하시오. (단, p 와 q 는 서로소인 자연수이다.) [4점]



30. 좌표평면 위에 두 점 $A(-2, 2), B(2, 2)$ 가 있다.

$$(|\vec{AX}| - 2)(|\vec{BX}| - 2) = 0, \quad |\vec{OX}| \geq 2$$

를 만족시키는 점 X 가 나타내는 도형 위를 움직이는 두 점 P, Q 가 다음 조건을 만족시킨다.

- (가) $\vec{u} = (1, 0)$ 에 대하여 $(\vec{OP} \cdot \vec{u})(\vec{OQ} \cdot \vec{u}) \geq 0$ 이다.
- (나) $|\vec{PQ}| = 2$

$\vec{OY} = \vec{OP} + \vec{OQ}$ 를 만족시키는 점 Y 의 집합이 나타내는 도형의 길이가 $\frac{q}{p}\sqrt{3}\pi$ 일 때, $p+q$ 의 값을 구하시오.

(단, O 는 원점이고, p 와 q 는 서로소인 자연수이다.) [4점]

* 확인 사항

- 답안지의 해당란에 필요한 내용을 정확히 기입(표기)했는지 확인 하시오.

제 2 교시

수학 영역

5지선다형

1. $(-\sqrt{2})^4 \times 8^{-\frac{2}{3}}$ 의 값은? [2점]

- ① 1 ② 2 ③ 3 ④ 4 ⑤ 5

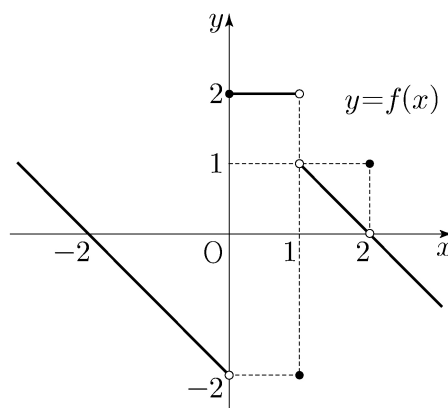
2. 함수 $f(x) = x^3 + 9$ 에 대하여 $\lim_{h \rightarrow 0} \frac{f(2+h) - f(2)}{h}$ 의 값은? [2점]

- ① 11 ② 12 ③ 13 ④ 14 ⑤ 15

3. $\frac{\pi}{2} < \theta < \pi$ 인 θ 에 대하여 $\cos^2 \theta = \frac{4}{9}$ 일 때, $\sin^2 \theta + \cos \theta$ 의 값은? [3점]

- ① $-\frac{4}{9}$ ② $-\frac{1}{3}$ ③ $-\frac{2}{9}$ ④ $-\frac{1}{9}$ ⑤ 0

4. 함수 $y = f(x)$ 의 그래프가 그림과 같다.



$\lim_{x \rightarrow 0^-} f(x) + \lim_{x \rightarrow 1^+} f(x)$ 의 값은? [3점]

- ① -2 ② -1 ③ 0 ④ 1 ⑤ 2

5. 모든 항이 양수인 등비수열 $\{a_n\}$ 에 대하여

$$a_1 = \frac{1}{4}, \quad a_2 + a_3 = \frac{3}{2}$$

일 때, $a_6 + a_7$ 의 값은? [3점]

- ① 16 ② 20 ③ 24 ④ 28 ⑤ 32

6. 두 양수 a, b 에 대하여 함수 $f(x)$ 가

$$f(x) = \begin{cases} x+a & (x < -1) \\ x & (-1 \leq x < 3) \\ bx-2 & (x \geq 3) \end{cases}$$

이다. 함수 $|f(x)|$ 가 실수 전체의 집합에서 연속일 때, $a+b$ 의 값은? [3점]

- ① $\frac{7}{3}$ ② $\frac{8}{3}$ ③ 3 ④ $\frac{10}{3}$ ⑤ $\frac{11}{3}$

7. 닫힌구간 $[0, \pi]$ 에서 정의된 함수 $f(x) = -\sin 2x$ 가 $x=a$ 에서 최댓값을 갖고 $x=b$ 에서 최솟값을 갖는다. 곡선 $y=f(x)$ 위의 두 점 $(a, f(a)), (b, f(b))$ 를 지나는 직선의 기울기는? [3점]

- ① $\frac{1}{\pi}$ ② $\frac{2}{\pi}$ ③ $\frac{3}{\pi}$ ④ $\frac{4}{\pi}$ ⑤ $\frac{5}{\pi}$

8. 실수 전체의 집합에서 미분가능하고 다음 조건을 만족시키는 모든 함수 $f(x)$ 에 대하여 $f(5)$ 의 최솟값은? [3점]

(가) $f(1) = 3$
 (나) $1 < x < 5$ 인 모든 실수 x 에 대하여 $f'(x) \geq 5$ 이다.

- ① 21 ② 22 ③ 23 ④ 24 ⑤ 25

9. 두 함수

$$f(x) = x^3 - x + 6, \quad g(x) = x^2 + a$$

가 있다. $x \geq 0$ 인 모든 실수 x 에 대하여 부등식

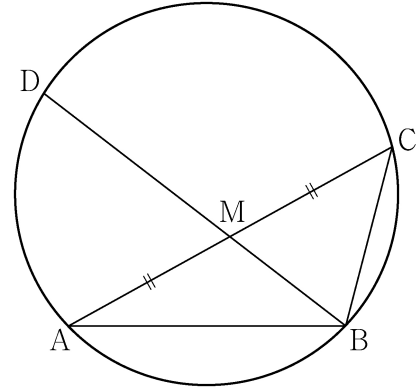
$$f(x) \geq g(x)$$

가 성립할 때, 실수 a 의 최댓값은? [4점]

- ① 1 ② 2 ③ 3 ④ 4 ⑤ 5

10. 그림과 같이 $\overline{AB} = 3, \overline{BC} = 2, \overline{AC} > 3$ 이고

$\cos(\angle BAC) = \frac{7}{8}$ 인 삼각형 ABC가 있다. 선분 AC의 중점을 M, 삼각형 ABC의 외접원이 직선 BM과 만나는 점 중 B가 아닌 점을 D라 할 때, 선분 MD의 길이는? [4점]



- ① $\frac{3\sqrt{10}}{5}$ ② $\frac{7\sqrt{10}}{10}$ ③ $\frac{4\sqrt{10}}{5}$
 ④ $\frac{9\sqrt{10}}{10}$ ⑤ $\sqrt{10}$

11. 시각 $t=0$ 일 때 동시에 원점을 출발하여 수직선 위를 움직이는 두 점 P, Q의 시각 $t(t \geq 0)$ 에서의 속도가 각각

$$v_1(t) = 2 - t, \quad v_2(t) = 3t$$

이다. 출발한 시각부터 점 P가 원점으로 돌아올 때까지 점 Q가 움직인 거리는? [4점]

- ① 16 ② 18 ③ 20 ④ 22 ⑤ 24

12. 공차가 3인 등차수열 $\{a_n\}$ 이 다음 조건을 만족시킬 때, a_{10} 의 값은? [4점]

(가) $a_5 \times a_7 < 0$

(나) $\sum_{k=1}^6 |a_{k+6}| = 6 + \sum_{k=1}^6 |a_{2k}|$

- ① $\frac{21}{2}$ ② 11 ③ $\frac{23}{2}$ ④ 12 ⑤ $\frac{25}{2}$

13. 두 곡선 $y=16^x$, $y=2^x$ 과 한 점 $A(64, 2^{64})$ 이 있다.

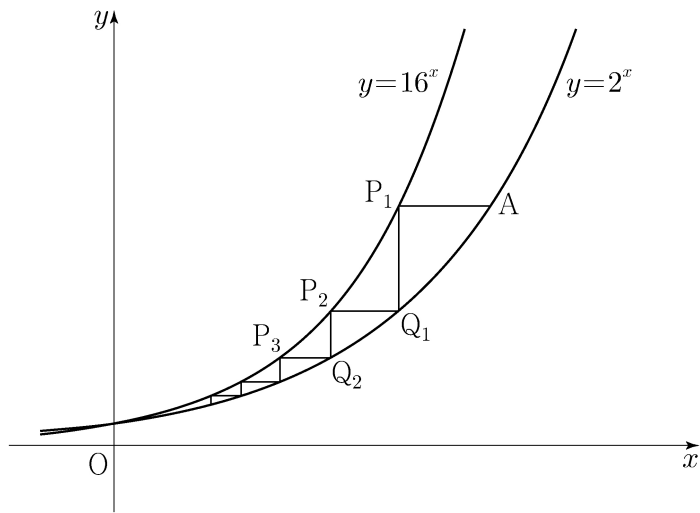
점 A 를 지나며 x 축과 평행한 직선이 곡선 $y=16^x$ 과 만나는 점을 P_1 이라 하고, 점 P_1 을 지나며 y 축과 평행한 직선이 곡선 $y=2^x$ 과 만나는 점을 Q_1 이라 하자.

점 Q_1 을 지나며 x 축과 평행한 직선이 곡선 $y=16^x$ 과 만나는 점을 P_2 라 하고, 점 P_2 를 지나며 y 축과 평행한 직선이 곡선 $y=2^x$ 과 만나는 점을 Q_2 라 하자.

이와 같은 과정을 계속하여 n 번째 얻은 두 점을 각각 P_n, Q_n 이라 하고 점 Q_n 의 x 좌표를 x_n 이라 할 때,

$x_n < \frac{1}{k}$ 을 만족시키는 n 의 최솟값이 6 이 되도록 하는 자연수 k 의 개수는? [4점]

- ① 48 ② 51 ③ 54 ④ 57 ⑤ 60



14. 실수 전체의 집합에서 연속인 함수 $f(x)$ 와 최고차항의 계수가 1 인 삼차함수 $g(x)$ 가

$$g(x) = \begin{cases} -\int_0^x f(t) dt & (x < 0) \\ \int_0^x f(t) dt & (x \geq 0) \end{cases}$$

을 만족시킬 때, <보기>에서 옳은 것만을 있는 대로 고른 것은? [4점]

<보 기>

ㄱ. $f(0) = 0$

ㄴ. 함수 $f(x)$ 는 극댓값을 갖는다.

ㄷ. $2 < f(1) < 4$ 일 때, 방정식 $f(x) = x$ 의 서로 다른 실근의 개수는 3 이다.

- ① ㄱ ② ㄷ ③ ㄱ, ㄴ
 ④ ㄱ, ㄷ ⑤ ㄱ, ㄴ, ㄷ

15. 자연수 k 에 대하여 다음 조건을 만족시키는 수열 $\{a_n\}$ 이 있다.

$a_1 = 0$ 이고, 모든 자연수 n 에 대하여

$$a_{n+1} = \begin{cases} a_n + \frac{1}{k+1} & (a_n \leq 0) \\ a_n - \frac{1}{k} & (a_n > 0) \end{cases}$$

이다.

$a_{22} = 0$ 이 되도록 하는 모든 k 의 값의 합은? [4점]

- ① 12 ② 14 ③ 16 ④ 18 ⑤ 20

단답형

16. 방정식 $\log_2(x+2) + \log_2(x-2) = 5$ 를 만족시키는 실수 x 의 값을 구하시오. [3점]

17. 함수 $f(x)$ 에 대하여 $f'(x) = 8x^3 + 6x^2$ 이고 $f(0) = -1$ 일 때, $f(-2)$ 의 값을 구하시오. [3점]

18. $\sum_{k=1}^{10} (4k+a) = 250$ 일 때, 상수 a 의 값을 구하시오. [3점]

20. 최고차항의 계수가 2인 이차함수 $f(x)$ 에 대하여

함수 $g(x) = \int_x^{x+1} |f(t)| dt$ 는 $x=1$ 과 $x=4$ 에서 극소이다.

$f(0)$ 의 값을 구하시오. [4점]

19. 함수 $f(x) = x^4 + ax^2 + b$ 는 $x=1$ 에서 극소이다.

함수 $f(x)$ 의 극댓값이 4일 때, $a+b$ 의 값을 구하시오.

(단, a 와 b 는 상수이다.) [3점]

21. 자연수 n 에 대하여 $4\log_{64}\left(\frac{3}{4n+16}\right)$ 의 값이 정수가 되도록 하는 1000 이하의 모든 n 의 값의 합을 구하시오. [4점]

22. 두 양수 $a, b (b > 3)$ 과 최고차항의 계수가 1인 이차함수 $f(x)$ 에 대하여 함수

$$g(x) = \begin{cases} (x+3)f(x) & (x < 0) \\ (x+a)f(x-b) & (x \geq 0) \end{cases}$$

이 실수 전체의 집합에서 연속이고 다음 조건을 만족시킬 때, $g(4)$ 의 값을 구하시오. [4점]

$$\lim_{x \rightarrow -3} \frac{\sqrt{|g(x)| + \{g(t)\}^2} - |g(t)|}{(x+3)^2} \text{의 값이 존재하지 않는}$$

실수 t 의 값은 -3 과 6 뿐이다.

* 확인 사항

- 답안지의 해당란에 필요한 내용을 정확히 기입(표기)했는지 확인하시오.
- 이어서, 「선택과목(확률과 통계)」 문제가 제시되오니, 자신이 선택한 과목인지 확인하시오.

제 2 교시

수학 영역(기하)

5지선다형

23. 서로 평행하지 않은 두 벡터 \vec{a}, \vec{b} 에 대하여 두 벡터 $\vec{a} + 2\vec{b}, 3\vec{a} + k\vec{b}$ 가 서로 평행하도록 하는 실수 k 의 값은? (단, $\vec{a} \neq \vec{0}, \vec{b} \neq \vec{0}$) [2점]

① 2 ② 4 ③ 6 ④ 8 ⑤ 10

24. 쌍곡선 $\frac{x^2}{a^2} - \frac{y^2}{b^2} = 1$ 의 주축의 길이가 6이고 한 점근선의 방정식이 $y = 2x$ 일 때, 두 초점 사이의 거리는? (단, a 와 b 는 양수이다.) [3점]

① $4\sqrt{5}$ ② $6\sqrt{5}$ ③ $8\sqrt{5}$ ④ $10\sqrt{5}$ ⑤ $12\sqrt{5}$

25. 좌표평면에서 두 직선

$$\frac{x-3}{4} = \frac{y-5}{3}, \quad x-1 = \frac{2-y}{3}$$

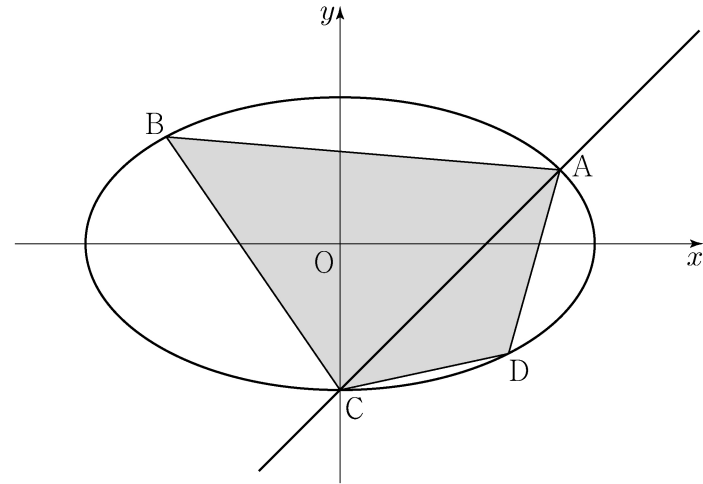
가 이루는 예각의 크기를 θ 라 할 때, $\cos\theta$ 의 값은? [3점]

- ① $\frac{\sqrt{11}}{11}$ ② $\frac{\sqrt{10}}{10}$ ③ $\frac{1}{3}$ ④ $\frac{\sqrt{2}}{4}$ ⑤ $\frac{\sqrt{7}}{7}$

26. 좌표평면에서 타원 $\frac{x^2}{3} + y^2 = 1$ 과 직선 $y = x - 1$ 이 만나는

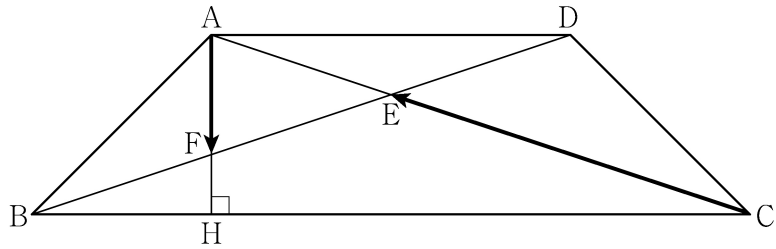
두 점을 A, C라 하자. 선분 AC가 사각형 ABCD의 대각선이 되도록 타원 위에 두 점 B, D를 잡을 때, 사각형 ABCD의 넓이의 최댓값은? [3점]

- ① 2 ② $\frac{9}{4}$ ③ $\frac{5}{2}$ ④ $\frac{11}{4}$ ⑤ 3



27. $\overline{AD} = 2$, $\overline{AB} = \overline{CD} = \sqrt{2}$, $\angle ABC = \angle BCD = 45^\circ$ 인 사다리꼴 ABCD가 있다. 두 대각선 AC와 BD의 교점을 E, 점 A에서 선분 BC에 내린 수선의 발을 H, 선분 AH와 선분 BD의 교점을 F라 할 때, $\overrightarrow{AF} \cdot \overrightarrow{CE}$ 의 값은? [3점]

- ① $-\frac{1}{9}$ ② $-\frac{2}{9}$ ③ $-\frac{1}{3}$ ④ $-\frac{4}{9}$ ⑤ $-\frac{5}{9}$

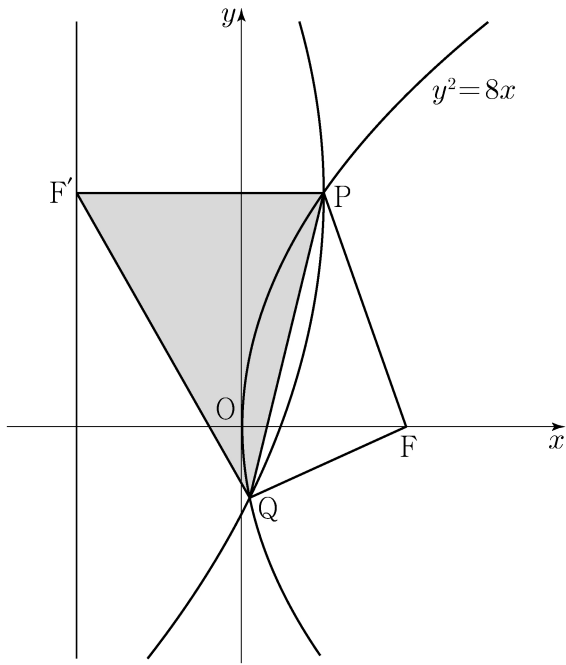


28. 좌표평면에서 직선 $y = 2x - 3$ 위를 움직이는 점 P가 있다. 두 점 $A(c, 0)$, $B(-c, 0)$ ($c > 0$)에 대하여 $\overline{PB} - \overline{PA}$ 의 값이 최대가 되도록 하는 점 P의 좌표가 (3, 3)일 때, 상수 c의 값은? [4점]

- ① $\frac{3\sqrt{6}}{2}$ ② $\frac{3\sqrt{7}}{2}$ ③ $3\sqrt{2}$
 ④ $\frac{9}{2}$ ⑤ $\frac{3\sqrt{10}}{2}$

단답형

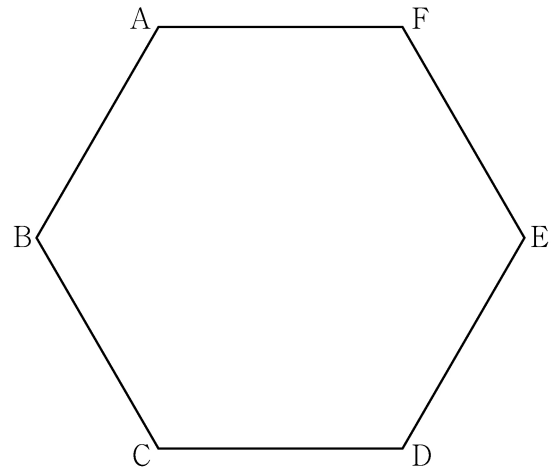
29. 초점이 F인 포물선 $y^2=8x$ 위의 점 중 제1사분면에 있는 점 P를 지나고 x 축과 평행한 직선이 포물선 $y^2=8x$ 의 준선과 만나는 점을 F'이라 하자. 점 F'을 초점, 점 P를 꼭짓점으로 하는 포물선이 포물선 $y^2=8x$ 와 만나는 점 중 P가 아닌 점을 Q라 하자. 사각형 PF'QF의 둘레의 길이가 12일 때, 삼각형 PF'Q의 넓이는 $\frac{q}{p}\sqrt{2}$ 이다. $p+q$ 의 값을 구하시오. (단, 점 P의 x 좌표는 2보다 작고, p 와 q 는 서로소인 자연수이다.) [4점]



30. 좌표평면에서 한 변의 길이가 4인 정육각형 ABCDEF의 변 위를 움직이는 점 P가 있고, 점 C를 중심으로 하고 반지름의 길이가 1인 원 위를 움직이는 점 Q가 있다. 두 점 P, Q와 실수 k 에 대하여 점 X가 다음 조건을 만족시킬 때, $|\overrightarrow{CX}|$ 의 값이 최소가 되도록 하는 k 의 값을 α , $|\overrightarrow{CX}|$ 의 값이 최대가 되도록 하는 k 의 값을 β 라 하자.

(가) $\overrightarrow{CX} = \frac{1}{2}\overrightarrow{CP} + \overrightarrow{CQ}$
 (나) $\overrightarrow{XA} + \overrightarrow{XC} + 2\overrightarrow{XD} = k\overrightarrow{CD}$

$\alpha^2 + \beta^2$ 의 값을 구하시오. [4점]



* 확인 사항
 ○ 답안지의 해당란에 필요한 내용을 정확히 기입(표기)했는지 확인하시오.

제 2 교시

수학 영역

출수형

5지선다형

1. $(2^{\sqrt{3}} \times 4)^{\sqrt{3}-2}$ 의 값은? [2점]

- ① $\frac{1}{4}$ ② $\frac{1}{2}$ ③ 1 ④ 2 ⑤ 4

2. 함수 $f(x) = x^3 + 3x^2 + x - 1$ 에 대하여 $f'(1)$ 의 값은? [2점]

- ① 6 ② 7 ③ 8 ④ 9 ⑤ 10

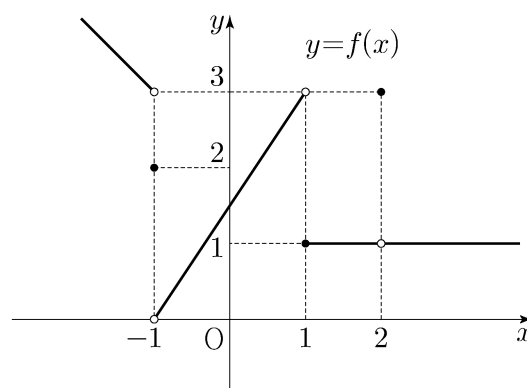
3. 등차수열 $\{a_n\}$ 에 대하여

$$a_2 = 6, \quad a_4 + a_6 = 36$$

일 때, a_{10} 의 값은? [3점]

- ① 30 ② 32 ③ 34 ④ 36 ⑤ 38

4. 함수 $y = f(x)$ 의 그래프가 그림과 같다.



$\lim_{x \rightarrow -1^-} f(x) + \lim_{x \rightarrow 2} f(x)$ 의 값은? [3점]

- ① 1 ② 2 ③ 3 ④ 4 ⑤ 5

5. 첫째항이 1인 수열 $\{a_n\}$ 이 모든 자연수 n 에 대하여

$$a_{n+1} = \begin{cases} 2a_n & (a_n < 7) \\ a_n - 7 & (a_n \geq 7) \end{cases}$$

일 때, $\sum_{k=1}^8 a_k$ 의 값은? [3점]

- ① 30 ② 32 ③ 34 ④ 36 ⑤ 38

6. 방정식 $2x^3 - 3x^2 - 12x + k = 0$ 이 서로 다른 세 실근을 갖도록 하는 정수 k 의 개수는? [3점]

- ① 20 ② 23 ③ 26 ④ 29 ⑤ 32

7. $\pi < \theta < \frac{3}{2}\pi$ 인 θ 에 대하여 $\tan\theta - \frac{6}{\tan\theta} = 1$ 일 때,

$\sin\theta + \cos\theta$ 의 값은? [3점]

- ① $-\frac{2\sqrt{10}}{5}$ ② $-\frac{\sqrt{10}}{5}$ ③ 0
 ④ $\frac{\sqrt{10}}{5}$ ⑤ $\frac{2\sqrt{10}}{5}$

8. 곡선 $y=x^2-5x$ 와 직선 $y=x$ 로 둘러싸인 부분의 넓이를 직선 $x=k$ 가 이등분할 때, 상수 k 의 값은? [3점]

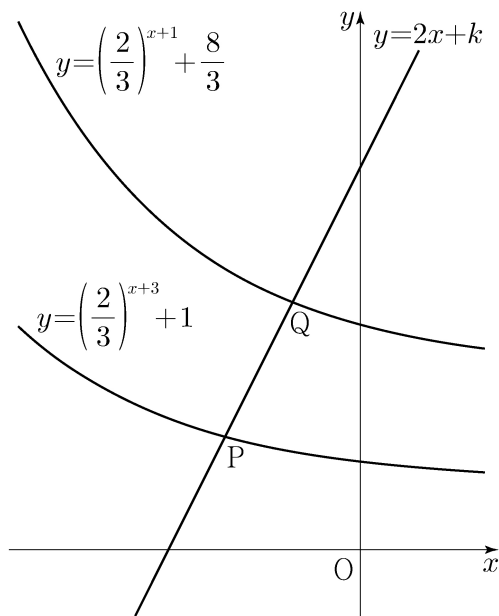
- ① 3 ② $\frac{13}{4}$ ③ $\frac{7}{2}$ ④ $\frac{15}{4}$ ⑤ 4

9. 직선 $y=2x+k$ 가 두 함수

$$y=\left(\frac{2}{3}\right)^{x+3}+1, \quad y=\left(\frac{2}{3}\right)^{x+1}+\frac{8}{3}$$

의 그래프와 만나는 점을 각각 P, Q라 하자. $\overline{PQ}=\sqrt{5}$ 일 때, 상수 k 의 값은? [4점]

- ① $\frac{31}{6}$ ② $\frac{16}{3}$ ③ $\frac{11}{2}$ ④ $\frac{17}{3}$ ⑤ $\frac{35}{6}$



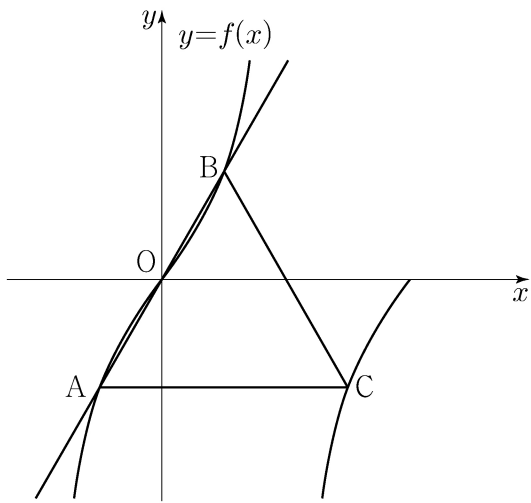
10. 삼차함수 $f(x)$ 에 대하여 곡선 $y=f(x)$ 위의 점 $(0, 0)$ 에서의 접선과 곡선 $y=xf(x)$ 위의 점 $(1, 2)$ 에서의 접선이 일치할 때, $f'(2)$ 의 값은? [4점]

- ① -18 ② -17 ③ -16 ④ -15 ⑤ -14

11. 양수 a 에 대하여 집합 $\left\{x \mid -\frac{a}{2} < x \leq a, x \neq \frac{a}{2}\right\}$ 에서 정의된 함수

$$f(x) = \tan \frac{\pi x}{a}$$

가 있다. 그림과 같이 함수 $y=f(x)$ 의 그래프 위의 세 점 O, A, B 를 지나는 직선이 있다. 점 A 를 지나고 x 축에 평행한 직선이 함수 $y=f(x)$ 의 그래프와 만나는 점 중 A 가 아닌 점을 C 라 하자. 삼각형 ABC 가 정삼각형일 때, 삼각형 ABC 의 넓이는? (단, O 는 원점이다.) [4점]



- ① $\frac{3\sqrt{3}}{2}$
- ② $\frac{17\sqrt{3}}{12}$
- ③ $\frac{4\sqrt{3}}{3}$
- ④ $\frac{5\sqrt{3}}{4}$
- ⑤ $\frac{7\sqrt{3}}{6}$

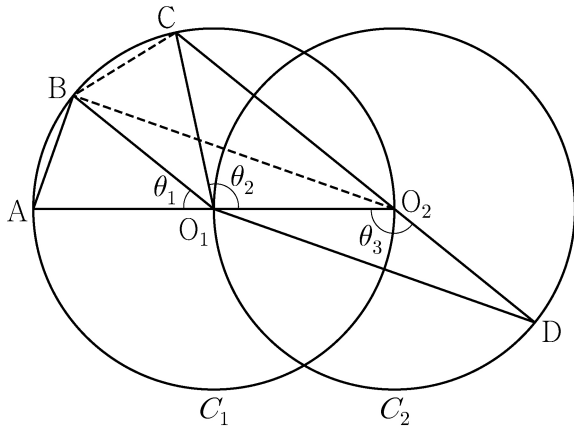
12. 실수 전체의 집합에서 연속인 함수 $f(x)$ 가 모든 실수 x 에 대하여

$$\{f(x)\}^3 - \{f(x)\}^2 - x^2 f(x) + x^2 = 0$$

을 만족시킨다. 함수 $f(x)$ 의 최댓값이 1이고 최솟값이 0일 때, $f\left(-\frac{4}{3}\right) + f(0) + f\left(\frac{1}{2}\right)$ 의 값은? [4점]

- ① $\frac{1}{2}$
- ② 1
- ③ $\frac{3}{2}$
- ④ 2
- ⑤ $\frac{5}{2}$

15. 두 점 O_1, O_2 를 각각 중심으로 하고 반지름의 길이가 $\overline{O_1O_2}$ 인 두 원 C_1, C_2 가 있다. 그림과 같이 원 C_1 위의 서로 다른 세 점 A, B, C 와 원 C_2 위의 점 D 가 주어졌고, 세 점 A, O_1, O_2 와 세 점 C, O_2, D 가 각각 한 직선 위에 있다. 이때 $\angle BO_1A = \theta_1, \angle O_2O_1C = \theta_2, \angle O_1O_2D = \theta_3$ 이라 하자.



다음은 $\overline{AB} : \overline{O_1D} = 1 : 2\sqrt{2}$ 이고 $\theta_3 = \theta_1 + \theta_2$ 일 때, 선분 AB와 선분 CD의 길이의 비를 구하는 과정이다.

$\angle CO_2O_1 + \angle O_1O_2D = \pi$ 이므로 $\theta_3 = \frac{\pi}{2} + \frac{\theta_2}{2}$ 이고
 $\theta_3 = \theta_1 + \theta_2$ 에서 $2\theta_1 + \theta_2 = \pi$ 이므로 $\angle CO_1B = \theta_1$ 이다.
 이때 $\angle O_2O_1B = \theta_1 + \theta_2 = \theta_3$ 이므로 삼각형 O_1O_2B 와 삼각형 O_2O_1D 는 합동이다.
 $\overline{AB} = k$ 라 할 때
 $\overline{BO_2} = \overline{O_1D} = 2\sqrt{2}k$ 이므로 $\overline{AO_2} = \boxed{\text{(가)}}$ 이고,
 $\angle BO_2A = \frac{\theta_1}{2}$ 이므로 $\cos \frac{\theta_1}{2} = \boxed{\text{(나)}}$ 이다.
 삼각형 O_2BC 에서
 $\overline{BC} = k, \overline{BO_2} = 2\sqrt{2}k, \angle CO_2B = \frac{\theta_1}{2}$ 이므로
 코사인법칙에 의하여 $\overline{O_2C} = \boxed{\text{(다)}}$ 이다.
 $\overline{CD} = \overline{O_2D} + \overline{O_2C} = \overline{O_1O_2} + \overline{O_2C}$ 이므로
 $\overline{AB} : \overline{CD} = k : \left(\frac{\boxed{\text{(가)}}}{2} + \boxed{\text{(다)}} \right)$ 이다.

위의 (가), (다)에 알맞은 식을 각각 $f(k), g(k)$ 라 하고, (나)에 알맞은 수를 p 라 할 때, $f(p) \times g(p)$ 의 값은? [4점]

- ① $\frac{169}{27}$ ② $\frac{56}{9}$ ③ $\frac{167}{27}$ ④ $\frac{166}{27}$ ⑤ $\frac{55}{9}$

단답형

16. $\log_2 120 - \frac{1}{\log_{15} 2}$ 의 값을 구하시오. [3점]

17. 함수 $f(x)$ 에 대하여 $f'(x) = 3x^2 + 2x$ 이고 $f(0) = 2$ 일 때, $f(1)$ 의 값을 구하시오. [3점]

18. 수열 $\{a_n\}$ 에 대하여

$$\sum_{k=1}^{10} a_k - \sum_{k=1}^7 \frac{a_k}{2} = 56, \quad \sum_{k=1}^{10} 2a_k - \sum_{k=1}^8 a_k = 100$$

일 때, a_8 의 값을 구하시오. [3점]

19. 함수 $f(x) = x^3 + ax^2 - (a^2 - 8a)x + 3$ 이 실수 전체의 집합에서 증가하도록 하는 실수 a 의 최댓값을 구하시오. [3점]

20. 실수 전체의 집합에서 미분가능한 함수 $f(x)$ 가 다음 조건을 만족시킨다.

(가) 닫힌구간 $[0, 1]$ 에서 $f(x) = x$ 이다.

(나) 어떤 상수 a, b 에 대하여 구간 $[0, \infty)$ 에서 $f(x+1) - xf(x) = ax + b$ 이다.

$60 \times \int_1^2 f(x) dx$ 의 값을 구하시오. [4점]

21. 수열 $\{a_n\}$ 이 다음 조건을 만족시킨다.

(가) $|a_1|=2$

(나) 모든 자연수 n 에 대하여 $|a_{n+1}|=2|a_n|$ 이다.

(다) $\sum_{n=1}^{10} a_n = -14$

$a_1+a_3+a_5+a_7+a_9$ 의 값을 구하시오. [4점]

22. 최고차항의 계수가 $\frac{1}{2}$ 인 삼차함수 $f(x)$ 와 실수 t 에 대하여 방정식 $f'(x)=0$ 이 닫힌구간 $[t, t+2]$ 에서 갖는 실근의 개수를 $g(t)$ 라 할 때, 함수 $g(t)$ 는 다음 조건을 만족시킨다.

(가) 모든 실수 a 에 대하여 $\lim_{t \rightarrow a^+} g(t) + \lim_{t \rightarrow a^-} g(t) \leq 2$ 이다.

(나) $g(f(1))=g(f(4))=2, g(f(0))=1$

$f(5)$ 의 값을 구하시오. [4점]

* 확인 사항

○ 답안지의 해당란에 필요한 내용을 정확히 기입(표기)했는지 확인하시오.

○ 이어서, 「선택과목(확률과 통계)」 문제가 제시되오니, 자신이 선택한 과목인지 확인하시오.

제 2 교시

수학 영역(기하)

출수형

5지선다형

23. 좌표공간의 점 $A(2, 1, 3)$ 을 xy 평면에 대하여 대칭이동한 점을 P 라 하고, 점 A 를 yz 평면에 대하여 대칭이동한 점을 Q 라 할 때, 선분 PQ 의 길이는? [2점]

- ① $5\sqrt{2}$ ② $2\sqrt{13}$ ③ $3\sqrt{6}$
- ④ $2\sqrt{14}$ ⑤ $2\sqrt{15}$

24. 한 초점의 좌표가 $(3\sqrt{2}, 0)$ 인 쌍곡선 $\frac{x^2}{a^2} - \frac{y^2}{6} = 1$ 의 주축의 길이는? (단, a 는 양수이다.) [3점]

- ① $3\sqrt{3}$ ② $\frac{7\sqrt{3}}{2}$ ③ $4\sqrt{3}$
- ④ $\frac{9\sqrt{3}}{2}$ ⑤ $5\sqrt{3}$

25. 좌표평면에서 두 직선

$$\frac{x+1}{2} = y-3, \quad x-2 = \frac{y-5}{3}$$

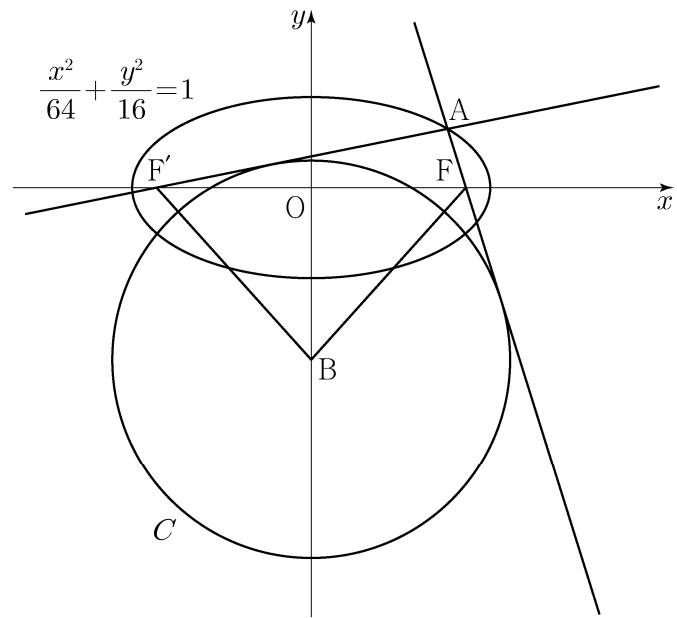
가 이루는 예각의 크기를 θ 라 할 때, $\cos\theta$ 의 값은? [3점]

- ① $\frac{1}{2}$ ② $\frac{\sqrt{5}}{4}$ ③ $\frac{\sqrt{6}}{4}$ ④ $\frac{\sqrt{7}}{4}$ ⑤ $\frac{\sqrt{2}}{2}$

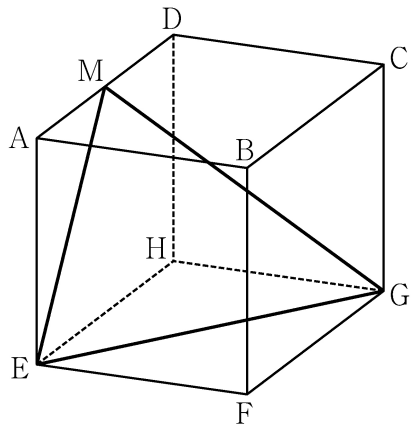
26. 두 초점이 F, F'인 타원 $\frac{x^2}{64} + \frac{y^2}{16} = 1$ 위의 점 중

제1사분면에 있는 점 A가 있다. 두 직선 AF, AF'에 동시에 접하고 중심이 y축 위에 있는 원 중 중심의 y좌표가 음수인 것을 C라 하자. 원 C의 중심을 B라 할 때 사각형 AFBF'의 넓이가 72이다. 원 C의 반지름의 길이는? [3점]

- ① $\frac{17}{2}$ ② 9 ③ $\frac{19}{2}$ ④ 10 ⑤ $\frac{21}{2}$



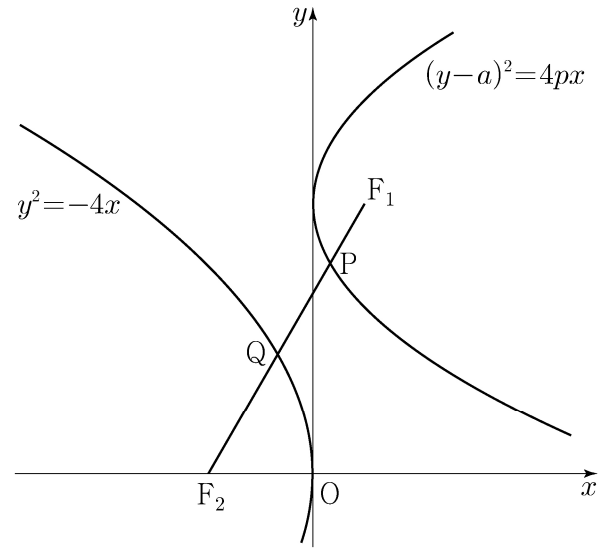
27. 그림과 같이 한 모서리의 길이가 4인 정육면체 ABCD-EFGH가 있다. 선분 AD의 중점을 M이라 할 때, 삼각형 MEG의 넓이는? [3점]



- ① $\frac{21}{2}$ ② 11 ③ $\frac{23}{2}$ ④ 12 ⑤ $\frac{25}{2}$

28. 두 양수 a, p 에 대하여 포물선 $(y-a)^2 = 4px$ 의 초점을 F_1 이라 하고, 포물선 $y^2 = -4x$ 의 초점을 F_2 라 하자. 선분 F_1F_2 가 두 포물선과 만나는 점을 각각 P, Q라 할 때, $\overline{F_1F_2} = 3, \overline{PQ} = 1$ 이다. $a^2 + p^2$ 의 값은? [4점]

- ① 6 ② $\frac{25}{4}$ ③ $\frac{13}{2}$ ④ $\frac{27}{4}$ ⑤ 7

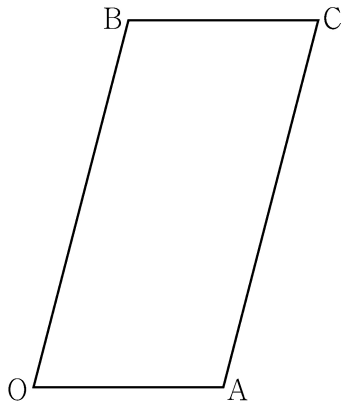


단답형

29. 좌표평면에서 $\overline{OA} = \sqrt{2}$, $\overline{OB} = 2\sqrt{2}$ 이고 $\cos(\angle AOB) = \frac{1}{4}$ 인 평행사변형 OACB에 대하여 점 P가 다음 조건을 만족시킨다.

- (가) $\overrightarrow{OP} = s\overrightarrow{OA} + t\overrightarrow{OB}$ ($0 \leq s \leq 1, 0 \leq t \leq 1$)
- (나) $\overrightarrow{OP} \cdot \overrightarrow{OB} + \overrightarrow{BP} \cdot \overrightarrow{BC} = 2$

점 O를 중심으로 하고 점 A를 지나는 원 위를 움직이는 점 X에 대하여 $|3\overrightarrow{OP} - \overrightarrow{OX}|$ 의 최댓값과 최솟값을 각각 M, m 이라 하자. $M \times m = a\sqrt{6} + b$ 일 때, $a^2 + b^2$ 의 값을 구하시오. (단, a 와 b 는 유리수이다.) [4점]



30. 좌표공간에 중심이 $C(2, \sqrt{5}, 5)$ 이고 점 $P(0, 0, 1)$ 을 지나는 구

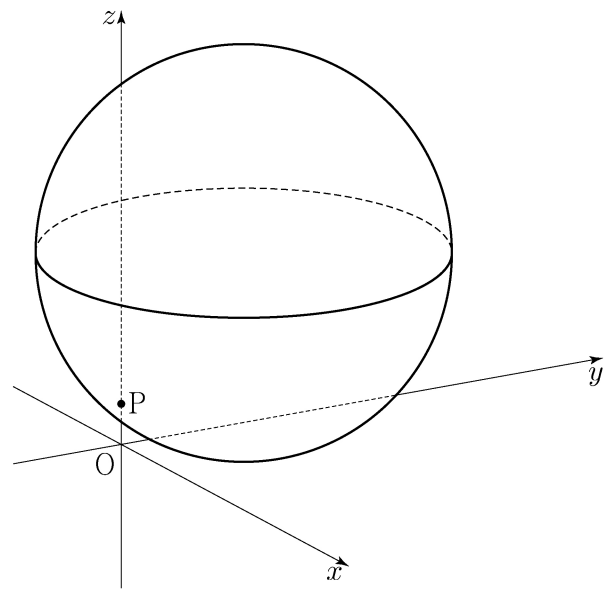
$$S: (x-2)^2 + (y-\sqrt{5})^2 + (z-5)^2 = 25$$

가 있다. 구 S 가 평면 OPC와 만나서 생기는 원 위를 움직이는 점 Q, 구 S 위를 움직이는 점 R에 대하여 두 점 Q, R의 xy 평면 위로의 정사영을 각각 Q_1, R_1 이라 하자.

삼각형 OQ_1R_1 의 넓이가 최대가 되도록 하는 두 점 Q, R에 대하여 삼각형 OQ_1R_1 의 평면 PQR 위로의 정사영의 넓이는

$\frac{q}{p}\sqrt{6}$ 이다. $p+q$ 의 값을 구하시오.

(단, O는 원점이고 세 점 O, Q_1, R_1 은 한 직선 위에 있지 않으며, p 와 q 는 서로소인 자연수이다.) [4점]



* 확인 사항
 ○ 답안지의 해당란에 필요한 내용을 정확히 기입(표기)했는지 확인하시오.

제 2 교시

수학 영역

5지선다형

1. $\frac{1}{\sqrt[4]{3}} \times 3^{-\frac{7}{4}}$ 의 값은? [2점]

- ① $\frac{1}{9}$ ② $\frac{1}{3}$ ③ 1 ④ 3 ⑤ 9

2. 함수 $f(x) = 2x^3 + 4x + 5$ 에 대하여 $f'(1)$ 의 값은? [2점]

- ① 6 ② 7 ③ 8 ④ 9 ⑤ 10

3. 등비수열 $\{a_n\}$ 에 대하여

$$a_1 = 2, \quad a_2 a_4 = 36$$

일 때, $\frac{a_7}{a_3}$ 의 값은? [3점]

- ① 1 ② $\sqrt{3}$ ③ 3 ④ $3\sqrt{3}$ ⑤ 9

4. 함수

$$f(x) = \begin{cases} 2x + a & (x \leq -1) \\ x^2 - 5x - a & (x > -1) \end{cases}$$

이 실수 전체의 집합에서 연속일 때, 상수 a 의 값은? [3점]

- ① 1 ② 2 ③ 3 ④ 4 ⑤ 5

5. 함수 $f(x) = 2x^3 + 3x^2 - 12x + 1$ 의 극댓값과 극솟값을 각각 M, m 이라 할 때, $M+m$ 의 값은? [3점]

- ① 13 ② 14 ③ 15 ④ 16 ⑤ 17

6. $\frac{\pi}{2} < \theta < \pi$ 인 θ 에 대하여 $\frac{\sin \theta}{1 - \sin \theta} - \frac{\sin \theta}{1 + \sin \theta} = 4$ 일 때, $\cos \theta$ 의 값은? [3점]

- ① $-\frac{\sqrt{3}}{3}$ ② $-\frac{1}{3}$ ③ 0 ④ $\frac{1}{3}$ ⑤ $\frac{\sqrt{3}}{3}$

7. 수열 $\{a_n\}$ 은 $a_1 = -4$ 이고, 모든 자연수 n 에 대하여

$$\sum_{k=1}^n \frac{a_{k+1} - a_k}{a_k a_{k+1}} = \frac{1}{n}$$

을 만족시킨다. a_{13} 의 값은? [3점]

- ① -9 ② -7 ③ -5 ④ -3 ⑤ -1

8. 삼차함수 $f(x)$ 가

$$\lim_{x \rightarrow 0} \frac{f(x)}{x} = \lim_{x \rightarrow 1} \frac{f(x)}{x-1} = 1$$

을 만족시킬 때, $f(2)$ 의 값은? [3점]

- ① 4 ② 6 ③ 8 ④ 10 ⑤ 12

9. 수직선 위를 움직이는 점 P의 시각 $t(t > 0)$ 에서의 속도 $v(t)$ 가

$$v(t) = -4t^3 + 12t^2$$

이다. 시각 $t=k$ 에서 점 P의 가속도가 12일 때, 시각 $t=3k$ 에서 $t=4k$ 까지 점 P가 움직인 거리는? (단, k 는 상수이다.) [4점]

- ① 23 ② 25 ③ 27 ④ 29 ⑤ 31

10. 두 양수 a, b 에 대하여 곡선 $y = a \sin b \pi x$ ($0 \leq x \leq \frac{3}{b}$)이

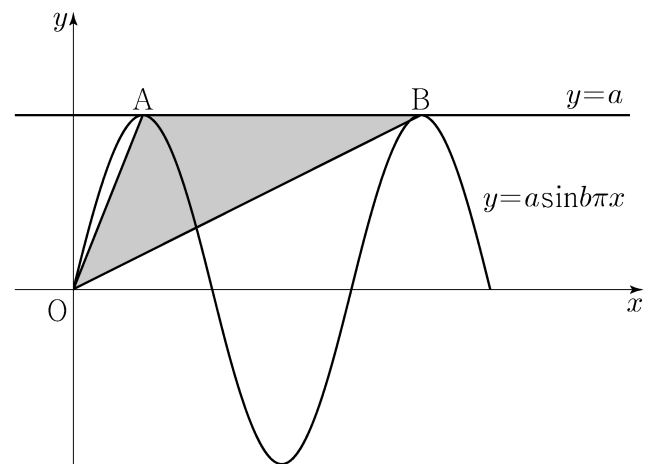
직선 $y=a$ 와 만나는 서로 다른 두 점을 A, B라 하자.

삼각형 OAB의 넓이가 5이고 직선 OA의 기울기와

직선 OB의 기울기의 곱이 $\frac{5}{4}$ 일 때, $a+b$ 의 값은?

(단, O는 원점이다.) [4점]

- ① 1 ② 2 ③ 3 ④ 4 ⑤ 5



11. 다항함수 $f(x)$ 가 모든 실수 x 에 대하여

$$xf(x) = 2x^3 + ax^2 + 3a + \int_1^x f(t) dt$$

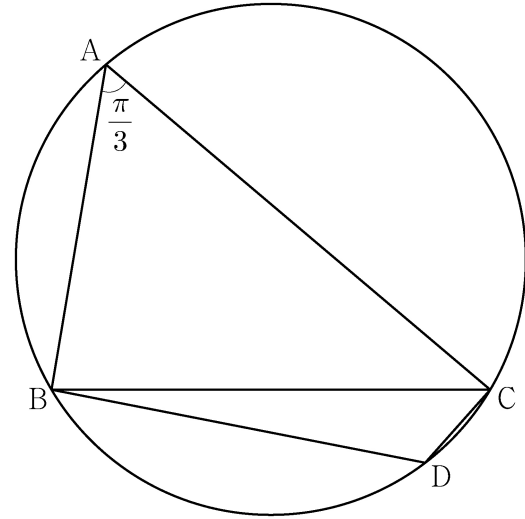
를 만족시킨다. $f(1) = \int_0^1 f(t) dt$ 일 때, $a + f(3)$ 의 값은?
(단, a 는 상수이다.) [4점]

- ① 5 ② 6 ③ 7 ④ 8 ⑤ 9

12. 반지름의 길이가 $2\sqrt{7}$ 인 원에 내접하고 $\angle A = \frac{\pi}{3}$ 인

삼각형 ABC가 있다. 점 A를 포함하지 않는 호 BC 위의 점 D에
대하여 $\sin(\angle BCD) = \frac{2\sqrt{7}}{7}$ 일 때, $\overline{BD} + \overline{CD}$ 의 값은? [4점]

- ① $\frac{19}{2}$ ② 10 ③ $\frac{21}{2}$ ④ 11 ⑤ $\frac{23}{2}$



13. 첫째항이 -45 이고 공차가 d 인 등차수열 $\{a_n\}$ 이 다음 조건을 만족시키도록 하는 모든 자연수 d 의 값의 합은? [4점]

(가) $|a_m| = |a_{m+3}|$ 인 자연수 m 이 존재한다.
 (나) 모든 자연수 n 에 대하여 $\sum_{k=1}^n a_k > -100$ 이다.

- ① 44 ② 48 ③ 52 ④ 56 ⑤ 60

14. 최고차항의 계수가 1이고 $f'(0) = f'(2) = 0$ 인 삼차함수 $f(x)$ 와 양수 p 에 대하여 함수 $g(x)$ 를

$$g(x) = \begin{cases} f(x) - f(0) & (x \leq 0) \\ f(x+p) - f(p) & (x > 0) \end{cases}$$

이라 하자. <보기>에서 옳은 것만을 있는 대로 고른 것은? [4점]

<보 기>

ㄱ. $p=1$ 일 때, $g'(1)=0$ 이다.
 ㄴ. $g(x)$ 가 실수 전체의 집합에서 미분가능하도록 하는 양수 p 의 개수는 1이다.
 ㄷ. $p \geq 2$ 일 때, $\int_{-1}^1 g(x) dx \geq 0$ 이다.

- ① ㄱ ② ㄱ, ㄴ ③ ㄱ, ㄷ
 ④ ㄴ, ㄷ ⑤ ㄱ, ㄴ, ㄷ

15. 수열 $\{a_n\}$ 은 $|a_1| \leq 1$ 이고, 모든 자연수 n 에 대하여

$$a_{n+1} = \begin{cases} -2a_n - 2 & \left(-1 \leq a_n < -\frac{1}{2}\right) \\ 2a_n & \left(-\frac{1}{2} \leq a_n \leq \frac{1}{2}\right) \\ -2a_n + 2 & \left(\frac{1}{2} < a_n \leq 1\right) \end{cases}$$

을 만족시킨다. $a_5 + a_6 = 0$ 이고 $\sum_{k=1}^5 a_k > 0$ 이 되도록 하는 모든 a_1 의 값의 합은? [4점]

- ① $\frac{9}{2}$ ② 5 ③ $\frac{11}{2}$ ④ 6 ⑤ $\frac{13}{2}$

단답형

16. $\log_2 100 - 2\log_2 5$ 의 값을 구하시오. [3점]

17. 함수 $f(x)$ 에 대하여 $f'(x) = 8x^3 - 12x^2 + 7$ 이고 $f(0) = 3$ 일 때, $f(1)$ 의 값을 구하시오. [3점]

18. 두 수열 $\{a_n\}$, $\{b_n\}$ 에 대하여

$$\sum_{k=1}^{10} (a_k + 2b_k) = 45, \quad \sum_{k=1}^{10} (a_k - b_k) = 3$$

일 때, $\sum_{k=1}^{10} \left(b_k - \frac{1}{2}\right)$ 의 값을 구하시오. [3점]

19. 함수 $f(x) = x^3 - 6x^2 + 5x$ 에서 x 의 값이 0에서 4까지
 변할 때의 평균변화율과 $f'(a)$ 의 값이 같게 되도록 하는
 $0 < a < 4$ 인 모든 실수 a 의 값의 곱은 $\frac{q}{p}$ 이다. $p+q$ 의 값을
 구하시오. (단, p 와 q 는 서로소인 자연수이다.) [3점]

20. 함수 $f(x) = \frac{1}{2}x^3 - \frac{9}{2}x^2 + 10x$ 에 대하여 x 에 대한 방정식

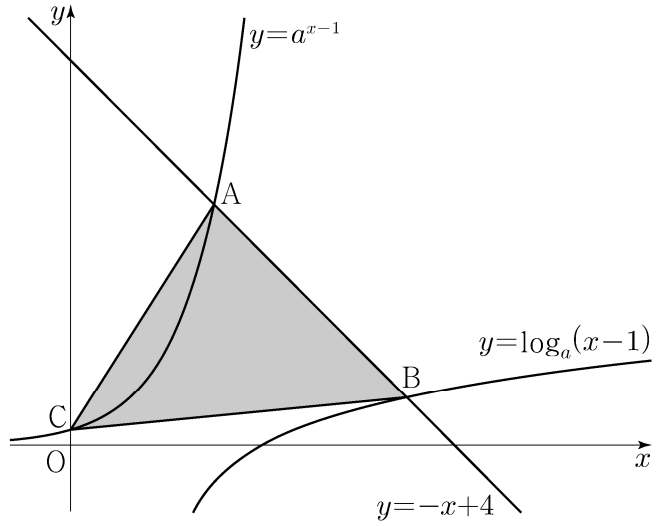
$$f(x) + |f(x) + x| = 6x + k$$

의 서로 다른 실근의 개수가 4가 되도록 하는 모든 정수 k 의
 값의 합을 구하시오. [4점]

21. $a > 1$ 인 실수 a 에 대하여 직선 $y = -x + 4$ 가 두 곡선

$$y = a^{x-1}, \quad y = \log_a(x-1)$$

과 만나는 점을 각각 A, B라 하고, 곡선 $y = a^{x-1}$ 이 y 축과 만나는 점을 C라 하자. $\overline{AB} = 2\sqrt{2}$ 일 때, 삼각형 ABC의 넓이는 S 이다. $50 \times S$ 의 값을 구하시오. [4점]



22. 최고차항의 계수가 1인 삼차함수 $f(x)$ 에 대하여 함수

$$g(x) = f(x-3) \times \lim_{h \rightarrow 0^+} \frac{|f(x+h)| - |f(x-h)|}{h}$$

가 다음 조건을 만족시킬 때, $f(5)$ 의 값을 구하시오. [4점]

- (가) 함수 $g(x)$ 는 실수 전체의 집합에서 연속이다.
- (나) 방정식 $g(x) = 0$ 은 서로 다른 네 실근 $\alpha_1, \alpha_2, \alpha_3, \alpha_4$ 를 갖고 $\alpha_1 + \alpha_2 + \alpha_3 + \alpha_4 = 7$ 이다.

- * 확인 사항
- 답안지의 해당란에 필요한 내용을 정확히 기입(표기)했는지 확인하시오.
 - 이어서, 「선택과목(확률과 통계)」 문제가 제시되오니, 자신이 선택한 과목인지 확인하시오.

제 2 교시

수학 영역(기하)

5지선다형

23. 좌표공간의 점 $A(3, 0, -2)$ 를 xy 평면에 대하여 대칭이동한 점을 B라 하자. 점 $C(0, 4, 2)$ 에 대하여 선분 BC의 길이는? [2점]

① 1 ② 2 ③ 3 ④ 4 ⑤ 5

24. 쌍곡선 $\frac{x^2}{a^2} - \frac{y^2}{16} = 1$ 의 점근선 중 하나의 기울기가 3일 때, 양수 a 의 값은? [3점]

① $\frac{1}{3}$ ② $\frac{2}{3}$ ③ 1 ④ $\frac{4}{3}$ ⑤ $\frac{5}{3}$

2

수학 영역(기하)

25. 좌표평면에서 세 벡터

$$\vec{a} = (3, 0), \vec{b} = (1, 2), \vec{c} = (4, 2)$$

에 대하여 두 벡터 \vec{p}, \vec{q} 가

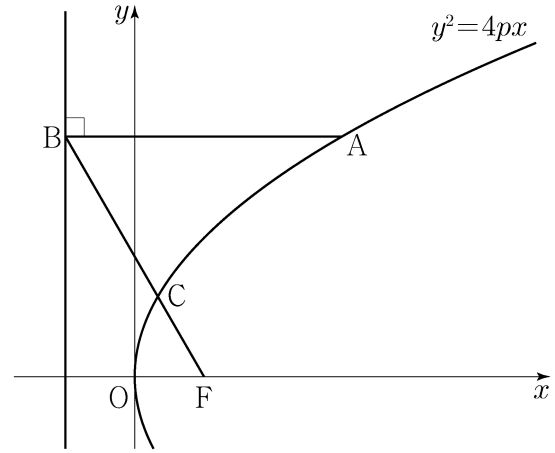
$$\vec{p} \cdot \vec{a} = \vec{a} \cdot \vec{b}, \quad |\vec{q} - \vec{c}| = 1$$

을 만족시킬 때, $|\vec{p} - \vec{q}|$ 의 최솟값은? [3점]

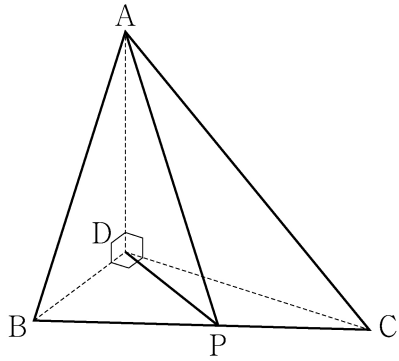
- ① 1 ② 2 ③ 3 ④ 4 ⑤ 5

26. 초점이 F인 포물선 $y^2 = 4px$ 위의 한 점 A에서 포물선의 준선에 내린 수선의 발을 B라 하고, 선분 BF와 포물선이 만나는 점을 C라 하자. $\overline{AB} = \overline{BF}$ 이고 $\overline{BC} + 3\overline{CF} = 6$ 일 때, 양수 p 의 값은? [3점]

- ① $\frac{7}{8}$ ② $\frac{8}{9}$ ③ $\frac{9}{10}$ ④ $\frac{10}{11}$ ⑤ $\frac{11}{12}$

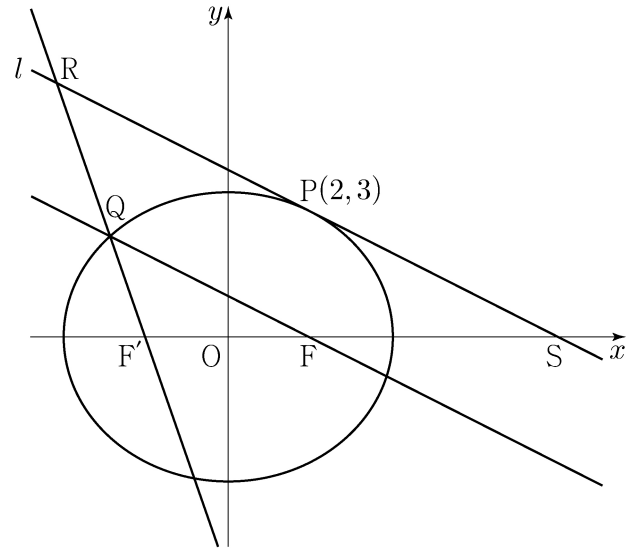


27. 그림과 같이 $\overline{AD}=3$, $\overline{DB}=2$, $\overline{DC}=2\sqrt{3}$ 이고
 $\angle ADB = \angle ADC = \angle BDC = \frac{\pi}{2}$ 인 사면체 ABCD가 있다.
 선분 BC 위를 움직이는 점 P에 대하여 $\overline{AP} + \overline{DP}$ 의 최솟값은?
 [3점]



- ① $3\sqrt{3}$
- ② $\frac{10\sqrt{3}}{3}$
- ③ $\frac{11\sqrt{3}}{3}$
- ④ $4\sqrt{3}$
- ⑤ $\frac{13\sqrt{3}}{3}$

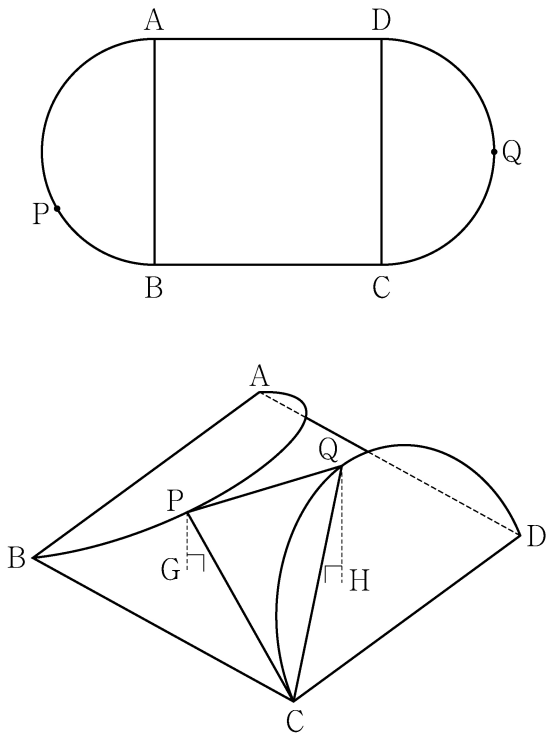
28. 그림과 같이 두 점 $F(c, 0)$, $F'(-c, 0)$ ($c > 0$)을 초점으로 하는 타원 $\frac{x^2}{16} + \frac{y^2}{12} = 1$ 위의 점 $P(2, 3)$ 에서 타원에 접하는 직선을 l 이라 하자. 점 F를 지나고 l 과 평행한 직선이 타원과 만나는 점 중 제2사분면 위에 있는 점을 Q라 하자. 두 직선 $F'Q$ 와 l 이 만나는 점을 R, l 과 x 축이 만나는 점을 S라 할 때, 삼각형 SRF'의 둘레의 길이는? [4점]



- ① 30
- ② 31
- ③ 32
- ④ 33
- ⑤ 34

단답형

29. 그림과 같이 한 변의 길이가 8인 정사각형 ABCD에 두 선분 AB, CD를 각각 지름으로 하는 두 반원이 붙어 있는 모양의 종이가 있다. 반원의 호 AB의 삼등분점 중 점 B에 가까운 점을 P라 하고, 반원의 호 CD를 이등분하는 점을 Q라 하자. 이 종이에서 두 선분 AB와 CD를 접는 선으로 하여 두 반원을 접어 올렸을 때 두 점 P, Q에서 평면 ABCD에 내린 수선의 발을 각각 G, H라 하면 두 점 G, H는 정사각형 ABCD의 내부에 놓여 있고, $\overline{PG} = \sqrt{3}$, $\overline{QH} = 2\sqrt{3}$ 이다. 두 평면 PCQ와 ABCD가 이루는 각의 크기가 θ 일 때, $70 \times \cos^2 \theta$ 의 값을 구하시오. (단, 종이의 두께는 고려하지 않는다.) [4점]



30. 좌표평면에서 세 점 $A(-3, 1)$, $B(0, 2)$, $C(1, 0)$ 에 대하여 두 점 P, Q가

$$|\overline{AP}| = 1, \quad |\overline{BQ}| = 2, \quad \overline{AP} \cdot \overline{OC} \geq \frac{\sqrt{2}}{2}$$

를 만족시킬 때, $\overline{AP} \cdot \overline{AQ}$ 의 값이 최소가 되도록 하는 두 점 P, Q를 각각 P_0, Q_0 이라 하자.

선분 AP_0 위의 점 X에 대하여 $\overline{BX} \cdot \overline{BQ_0} \geq 1$ 일 때,

$|\overline{Q_0X}|^2$ 의 최댓값은 $\frac{q}{p}$ 이다. $p+q$ 의 값을 구하시오.

(단, O는 원점이고, p와 q는 서로소인 자연수이다.) [4점]

* 확인 사항
 ○ 답안지의 해당란에 필요한 내용을 정확히 기입(표기)했는지 확인하시오.

제 2 교시

수학 영역

5지선다형

1. $2^{\sqrt{3}} \times 2^{2-\sqrt{3}}$ 의 값은? [2점]

- ① $\sqrt{2}$ ② 2 ③ $2\sqrt{2}$ ④ 4 ⑤ $4\sqrt{2}$

2. 함수 $f(x)$ 가

$$f'(x) = 3x^2 - 2x, \quad f(1) = 1$$

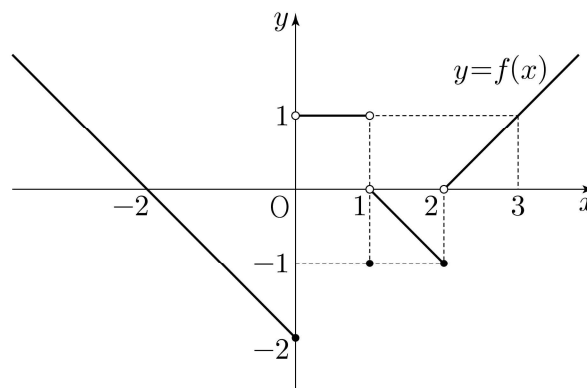
을 만족시킬 때, $f(2)$ 의 값은? [2점]

- ① 1 ② 2 ③ 3 ④ 4 ⑤ 5

3. $\pi < \theta < \frac{3}{2}\pi$ 인 θ 에 대하여 $\tan\theta = \frac{12}{5}$ 일 때, $\sin\theta + \cos\theta$ 의 값은? [3점]

- ① $-\frac{17}{13}$ ② $-\frac{7}{13}$ ③ 0 ④ $\frac{7}{13}$ ⑤ $\frac{17}{13}$

4. 함수 $y = f(x)$ 의 그래프가 그림과 같다.



$\lim_{x \rightarrow 0^-} f(x) + \lim_{x \rightarrow 2^+} f(x)$ 의 값은? [3점]

- ① -2 ② -1 ③ 0 ④ 1 ⑤ 2

5. 다항함수 $f(x)$ 에 대하여 함수 $g(x)$ 를

$$g(x) = (x^2 + 3)f(x)$$

라 하자. $f(1) = 2$, $f'(1) = 1$ 일 때, $g'(1)$ 의 값은? [3점]

- ① 6 ② 7 ③ 8 ④ 9 ⑤ 10

6. 곡선 $y = 3x^2 - x$ 와 직선 $y = 5x$ 로 둘러싸인 부분의 넓이는?

[3점]

- ① 1 ② 2 ③ 3 ④ 4 ⑤ 5

7. 첫째항이 2인 등차수열 $\{a_n\}$ 의 첫째항부터 제 n 항까지의 합을 S_n 이라 하자.

$$a_6 = 2(S_3 - S_2)$$

일 때, S_{10} 의 값은? [3점]

- ① 100 ② 110 ③ 120 ④ 130 ⑤ 140

8. 함수

$$f(x) = \begin{cases} -2x+6 & (x < a) \\ 2x-a & (x \geq a) \end{cases}$$

에 대하여 함수 $\{f(x)\}^2$ 이 실수 전체의 집합에서 연속이 되도록 하는 모든 상수 a 의 값의 합은? [3점]

- ① 2 ② 4 ③ 6 ④ 8 ⑤ 10

9. 수열 $\{a_n\}$ 이 모든 자연수 n 에 대하여

$$a_{n+1} = \begin{cases} \frac{1}{a_n} & (n \text{이 홀수인 경우}) \\ 8a_n & (n \text{이 짝수인 경우}) \end{cases}$$

이고 $a_{12} = \frac{1}{2}$ 일 때, $a_1 + a_4$ 의 값은? [4점]

- ① $\frac{3}{4}$ ② $\frac{9}{4}$ ③ $\frac{5}{2}$ ④ $\frac{17}{4}$ ⑤ $\frac{9}{2}$

10. $n \geq 2$ 인 자연수 n 에 대하여 두 곡선

$$y = \log_n x, \quad y = -\log_n(x+3)+1$$

이 만나는 점의 x 좌표가 1보다 크고 2보다 작도록 하는 모든 n 의 값의 합은? [4점]

- ① 30 ② 35 ③ 40 ④ 45 ⑤ 50

11. 닫힌구간 $[0, 1]$ 에서 연속인 함수 $f(x)$ 가

$$f(0) = 0, \quad f(1) = 1, \quad \int_0^1 f(x) dx = \frac{1}{6}$$

을 만족시킨다. 실수 전체의 집합에서 정의된 함수 $g(x)$ 가
다음 조건을 만족시킬 때, $\int_{-3}^2 g(x) dx$ 의 값은? [4점]

$$(가) \quad g(x) = \begin{cases} -f(x+1)+1 & (-1 < x < 0) \\ f(x) & (0 \leq x \leq 1) \end{cases}$$

(나) 모든 실수 x 에 대하여 $g(x+2) = g(x)$ 이다.

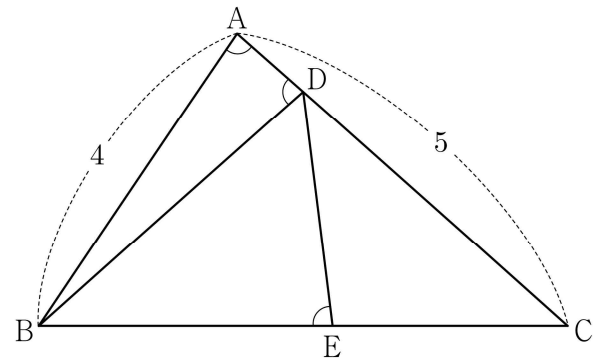
- ① $\frac{5}{2}$ ② $\frac{17}{6}$ ③ $\frac{19}{6}$ ④ $\frac{7}{2}$ ⑤ $\frac{23}{6}$

12. 그림과 같이 $\overline{AB} = 4$, $\overline{AC} = 5$ 이고 $\cos(\angle BAC) = \frac{1}{8}$ 인

삼각형 ABC 가 있다. 선분 AC 위의 점 D 와 선분 BC 위의
점 E 에 대하여

$$\angle BAC = \angle BDA = \angle BED$$

일 때, 선분 DE 의 길이는? [4점]



- ① $\frac{7}{3}$ ② $\frac{5}{2}$ ③ $\frac{8}{3}$ ④ $\frac{17}{6}$ ⑤ 3

13. 실수 전체의 집합에서 정의된 함수 $f(x)$ 가 구간 $(0, 1]$ 에서

$$f(x) = \begin{cases} 3 & (0 < x < 1) \\ 1 & (x = 1) \end{cases}$$

이고, 모든 실수 x 에 대하여 $f(x+1) = f(x)$ 를 만족시킨다.

$\sum_{k=1}^{20} \frac{k \times f(\sqrt{k})}{3}$ 의 값은? [4점]

- ① 150 ② 160 ③ 170 ④ 180 ⑤ 190

14. 두 양수 p, q 와 함수 $f(x) = x^3 - 3x^2 - 9x - 12$ 에 대하여 실수 전체의 집합에서 연속인 함수 $g(x)$ 가 다음 조건을 만족시킬 때, $p+q$ 의 값은? [4점]

- (가) 모든 실수 x 에 대하여 $xg(x) = |xf(x-p) + qx|$ 이다.
 (나) 함수 $g(x)$ 가 $x=a$ 에서 미분가능하지 않은 실수 a 의 개수는 1이다.

- ① 6 ② 7 ③ 8 ④ 9 ⑤ 10

15. $-1 \leq t \leq 1$ 인 실수 t 에 대하여 x 에 대한 방정식

$$\left(\sin \frac{\pi x}{2} - t\right)\left(\cos \frac{\pi x}{2} - t\right) = 0$$

의 실근 중에서 집합 $\{x | 0 \leq x < 4\}$ 에 속하는 가장 작은 값을 $\alpha(t)$, 가장 큰 값을 $\beta(t)$ 라 하자. <보기>에서 옳은 것만을 있는 대로 고른 것은? [4점]

<보 기>

ㄱ. $-1 \leq t < 0$ 인 모든 실수 t 에 대하여 $\alpha(t) + \beta(t) = 5$ 이다.

ㄴ. $\{t | \beta(t) - \alpha(t) = \beta(0) - \alpha(0)\} = \left\{t \mid 0 \leq t \leq \frac{\sqrt{2}}{2}\right\}$

ㄷ. $\alpha(t_1) = \alpha(t_2)$ 인 두 실수 t_1, t_2 에 대하여

$$t_2 - t_1 = \frac{1}{2} \text{ 이면 } t_1 \times t_2 = \frac{1}{3} \text{ 이다.}$$

- ① ㄱ ② ㄱ, ㄴ ③ ㄱ, ㄷ
 ④ ㄴ, ㄷ ⑤ ㄱ, ㄴ, ㄷ

단답형

16. $\log_4 \frac{2}{3} + \log_4 24$ 의 값을 구하시오. [3점]

17. 함수 $f(x) = x^3 - 3x + 12$ 가 $x = a$ 에서 극소일 때,
 $a + f(a)$ 의 값을 구하시오. (단, a 는 상수이다.) [3점]

18. 모든 항이 양수인 등비수열 $\{a_n\}$ 에 대하여

$$a_2 = 36, \quad a_7 = \frac{1}{3}a_5$$

일 때, a_6 의 값을 구하시오. [3점]

19. 수직선 위를 움직이는 점 P의 시각 $t (t \geq 0)$ 에서의 속도 $v(t)$ 가

$$v(t) = 3t^2 - 4t + k$$

이다. 시각 $t=0$ 에서 점 P의 위치는 0이고, 시각 $t=1$ 에서 점 P의 위치는 -3 이다. 시각 $t=1$ 에서 $t=3$ 까지 점 P의 위치의 변화량을 구하시오. (단, k 는 상수이다.) [3점]

20. 실수 a 와 함수 $f(x) = x^3 - 12x^2 + 45x + 3$ 에 대하여 함수

$$g(x) = \int_a^x \{f(x) - f(t)\} \times \{f(t)\}^4 dt$$

가 오직 하나의 극값을 갖도록 하는 모든 a 의 값의 합을 구하시오. [4점]

21. 다음 조건을 만족시키는 최고차항의 계수가 1인 이차함수 $f(x)$ 가 존재하도록 하는 모든 자연수 n 의 값의 합을 구하시오. [4점]

(가) x 에 대한 방정식 $(x^n - 64)f(x) = 0$ 은 서로 다른 두 실근을 갖고, 각각의 실근은 중근이다.
 (나) 함수 $f(x)$ 의 최솟값은 음의 정수이다.

22. 삼차함수 $f(x)$ 가 다음 조건을 만족시킨다.

(가) 방정식 $f(x) = 0$ 의 서로 다른 실근의 개수는 2이다.
 (나) 방정식 $f(x - f(x)) = 0$ 의 서로 다른 실근의 개수는 3이다.

$f(1) = 4$, $f'(1) = 1$, $f'(0) > 1$ 일 때, $f(0) = \frac{q}{p}$ 이다. $p+q$ 의 값을 구하시오. (단, p 와 q 는 서로소인 자연수이다.) [4점]

* 확인 사항

- 답안지의 해당란에 필요한 내용을 정확히 기입(표기)했는지 확인하시오.
- 이어서, 「선택과목(확률과 통계)」 문제가 제시되오니, 자신이 선택한 과목인지 확인하시오.

제 2 교시

수학 영역(기하)

5지선다형

23. 두 벡터 $\vec{a} = (k+3, 3k-1)$ 과 $\vec{b} = (1, 1)$ 이 서로 평행할 때, 실수 k 의 값은? [2점]

- ① 1 ② 2 ③ 3 ④ 4 ⑤ 5

24. 타원 $\frac{x^2}{8} + \frac{y^2}{4} = 1$ 위의 점 $(2, \sqrt{2})$ 에서의 접선의 x 절편은?

[3점]

- ① 3 ② $\frac{13}{4}$ ③ $\frac{7}{2}$ ④ $\frac{15}{4}$ ⑤ 4

2

수학 영역(기하)

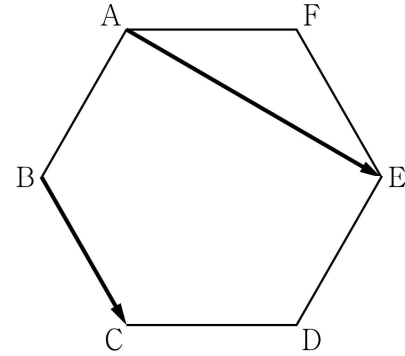
25. 좌표평면 위의 두 점 $A(1, 2)$, $B(-3, 5)$ 에 대하여

$$|\overrightarrow{OP} - \overrightarrow{OA}| = |\overrightarrow{AB}|$$

를 만족시키는 점 P 가 나타내는 도형의 길이는?
(단, O 는 원점이다.) [3점]

- ① 10π ② 12π ③ 14π ④ 16π ⑤ 18π

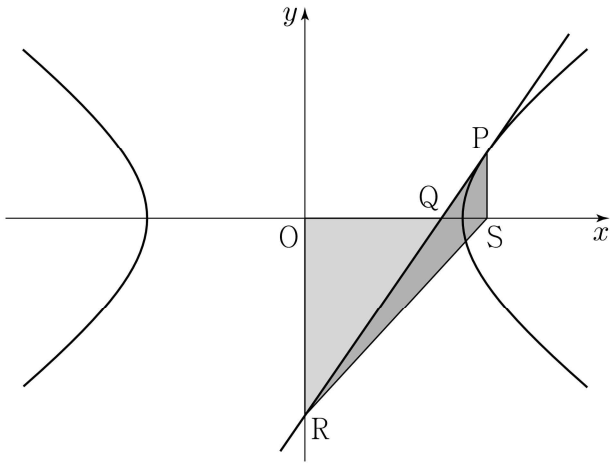
26. 그림과 같이 한 변의 길이가 1인 정육각형 $ABCDEF$ 에서 $|\overrightarrow{AE} + \overrightarrow{BC}|$ 의 값은? [3점]



- ① $\sqrt{6}$ ② $\sqrt{7}$ ③ $2\sqrt{2}$ ④ 3 ⑤ $\sqrt{10}$

27. 그림과 같이 쌍곡선 $\frac{x^2}{a^2} - \frac{y^2}{b^2} = 1$ 위의 점 $P(4, k)$ ($k > 0$)

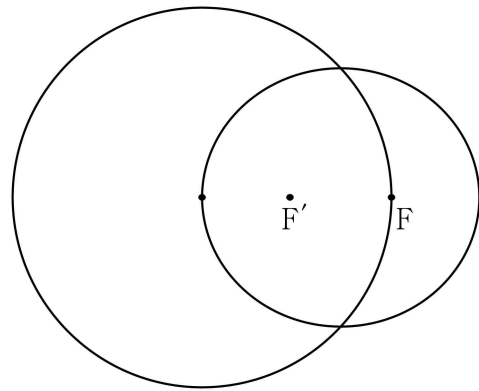
에서의 접선이 x 축과 만나는 점을 Q , y 축과 만나는 점을 R 라 하자. 점 $S(4, 0)$ 에 대하여 삼각형 QOR 의 넓이를 A_1 , 삼각형 PRS 의 넓이를 A_2 라 하자. $A_1 : A_2 = 9 : 4$ 일 때, 이 쌍곡선의 주축의 길이는? (단, O 는 원점이고, a 와 b 는 상수이다.) [3점]



- ① $2\sqrt{10}$ ② $2\sqrt{11}$ ③ $4\sqrt{3}$ ④ $2\sqrt{13}$ ⑤ $2\sqrt{14}$

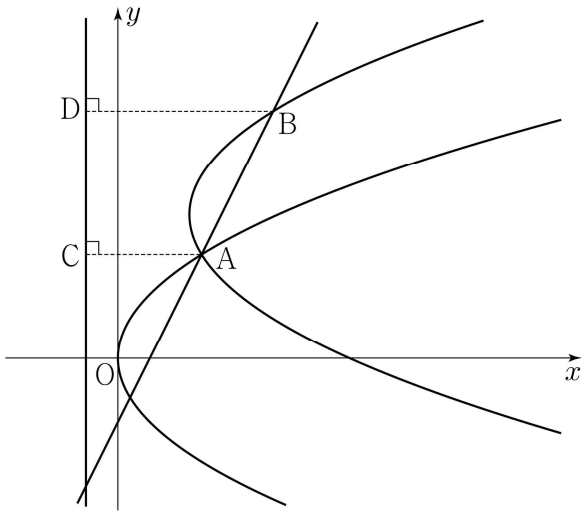
28. 두 초점이 F, F' 이고 장축의 길이가 $2a$ 인 타원이 있다. 이 타원의 한 꼭짓점을 중심으로 하고 반지름의 길이가 1인 원이 이 타원의 서로 다른 두 꼭짓점과 한 초점을 지날 때, 상수 a 의 값은? [4점]

- ① $\frac{\sqrt{2}}{2}$ ② $\frac{\sqrt{6}-1}{2}$ ③ $\sqrt{3}-1$
 ④ $2\sqrt{2}-2$ ⑤ $\frac{\sqrt{3}}{2}$



단답형

29. 포물선 $y^2=8x$ 와 직선 $y=2x-4$ 가 만나는 점 중 제1사분면 위에 있는 점을 A라 하자. 양수 a 에 대하여 포물선 $(y-2a)^2=8(x-a)$ 가 점 A를 지날 때, 직선 $y=2x-4$ 와 포물선 $(y-2a)^2=8(x-a)$ 가 만나는 점 중 A가 아닌 점을 B라 하자. 두 점 A, B에서 직선 $x=-2$ 에 내린 수선의 발을 각각 C, D라 할 때, $\overline{AC} + \overline{BD} - \overline{AB} = k$ 이다. k^2 의 값을 구하시오. [4점]



30. 좌표평면 위의 네 점 $A(2, 0), B(0, 2), C(-2, 0), D(0, -2)$ 를 꼭짓점으로 하는 정사각형 ABCD의 네 변 위의 두 점 P, Q가 다음 조건을 만족시킨다.

- (가) $(\overline{PQ} \cdot \overline{AB})(\overline{PQ} \cdot \overline{AD}) = 0$
- (나) $\overline{OA} \cdot \overline{OP} \geq -2$ 이고 $\overline{OB} \cdot \overline{OP} \geq 0$ 이다.
- (다) $\overline{OA} \cdot \overline{OQ} \geq -2$ 이고 $\overline{OB} \cdot \overline{OQ} \leq 0$ 이다.

점 $R(4, 4)$ 에 대하여 $\overline{RP} \cdot \overline{RQ}$ 의 최댓값을 M , 최솟값을 m 이라 할 때, $M+m$ 의 값을 구하시오. (단, O는 원점이다.) [4점]

* 확인 사항
 ○ 답안지의 해당란에 필요한 내용을 정확히 기입(표기)했는지 확인하시오.