

2026학년도 지리 아카이브 1회 문제지

# 사회탐구 영역

- 자신이 선택한 과목의 문제지인지 확인하십시오.
- 매 선택과목마다 문제지 상단에 제(1),(2) 선택과목 응시 순서를 정확히 쓰시오.
- 매 선택과목마다 문제지의 해당란에 성명과 수험 번호를 정확히 쓰시오.
- 답안지의 필적 확인란에 다음의 문구를 정자로 기재하십시오.

**지금 내게 느껴졌던 떨림이**

- 답안지의 해당란에 성명과 수험 번호를 쓰고, 또 수험 번호와 답을 정확히 표시하십시오.
- 선택한 과목 순서대로 문제를 풀고, 답은 답안지의 '제1선택'란부터 차례대로 표시하십시오.
- 문항에 따라 배점이 다릅니다. 3점 문항에는 점수가 표시되어 있습니다. 점수 표시가 없는 문항은 모두 2점입니다.

생활과 윤리 .....	1,2,35,36쪽
윤리와 사상 .....	3,4,33,34쪽
한국지리 .....	5,6,31,32쪽
세계지리 .....	7,8,29,30쪽
동아시아사 .....	9,10,27,28쪽
세계사 .....	11,12,25,26쪽
경제 .....	13,14,23,24쪽
정치와 법 .....	15,16,21,22쪽
사회·문화 .....	17,18,19,20쪽

※ 시험이 시작되기 전까지 표지를 넘기지 마시오.

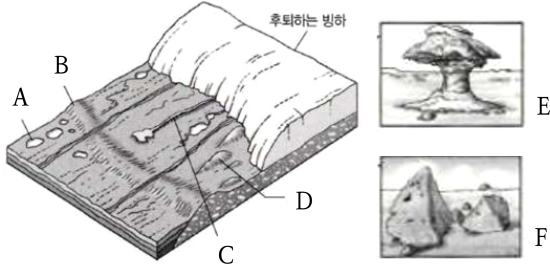




## 2 (세계지리)

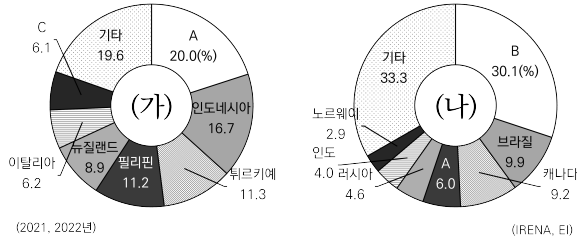
## 사회탐구 영역

6. 그림의 A~F 지형에 대한 설명으로 옳은 것은? (단, A~F는 각각 드림린, 삼릉석, 모레인, 빙하호, 버섯바위, 에스커 중 하나임.)



- ① A~F 중 바람에 의해 형성된 지형은 E뿐이다.
- ② B가 연속적으로 분포한 지형을 '바하다'라고 한다.
- ③ A~D가 위치한 지역은 주로 빙설 기후가 나타난다.
- ④ D와 달리 F는 여러 개의 평평한 면(面)과 모서리가 생긴 돌이다.
- ⑤ C와 달리 A는 비가 내릴 때만 일시적으로 물이 고이는 염호이다.

7. 그래프는 두 신-재생 에너지의 국가별 발전량 비율을 나타낸 것이다. (가), (나)와 A~C에 대한 설명으로 옳은 것만을 <보기>에서 고른 것은? (단, (가), (나)는 각각 수력, 지열 중 하나이고, A~C는 각각 미국, 중국, 아이슬란드 중 하나임.) [3점]



<보 기>

- ㄱ. (가)는 지열, (나)는 수력이다.
- ㄴ. C는 (가)보다 (나)의 공급량이 많다.
- ㄷ. A와 달리 C는 유럽 연합(EU) 가입국이다.
- ㄹ. B, C와 달리 A에는 최상위 세계 도시가 위치한다.

- ① ㄱ, ㄴ    ② ㄱ, ㄹ    ③ ㄴ, ㄷ    ④ ㄱ, ㄴ, ㄹ    ⑤ ㄱ, ㄷ, ㄹ

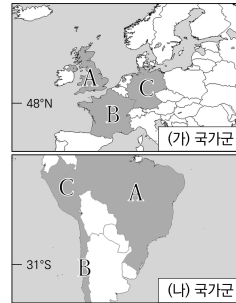
8. 표의 (가)~(다), A, B에 대한 설명으로 옳은 것은? (단, (가)~(다)는 각각 연 강수량, 연교차, 해발 고도 중 하나이고, A, B는 각각 키토, 춘천 중 하나임.)

	(가)	(나)	(다)
A	1	1,013	2,850
B	29	1,354	99

(단위: mm, °C, m)

- ① B와 달리 A는 무수목 기후에 속한다.
- ② (다)만으로 스텝 기후와 사막 기후를 구분할 수 있다.
- ③ A보다 B가 속한 위도에서 계절풍의 영향이 강하게 나타난다.
- ④ A는 A가 속한 대륙에서 가장 높은 곳에 위치한다.
- ⑤ (가)는 연교차, (나)는 해발 고도, (다)는 연 강수량이다.

9. 지도와 표의 (가), (나) 국가군과 A~C에 대한 설명으로 옳지 않은 것은? [3점]



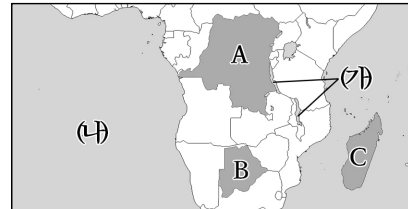
<국가별 첫 지하철 개통일>

	(가) 국가군	(나) 국가군
A	1863년 1월 10일	1974년 9월 14일
B	1900년 7월 19일	1975년 9월 15일
C	1902년 2월 18일	1990년 4월 28일

- ① (가)보다 (나) 국가군에서 과도시화 현상이 두드러진다.
- ② (나)의 A는 (나)의 B, C와 주로 사용하는 언어가 다르다.
- ③ 중위 연령과 달리 합계 출산율은 (가)보다 (나) 국가군이 높다.
- ④ (가)의 B와 (가)의 C 사이의 이동보다 (가)의 A와 (가)의 B 사이의 이동이 까다롭다.
- ⑤ (나) 국가군이 속한 대륙(지역)에서 (가) 국가군이 속한 대륙(지역)으로의 순 유입은 (나) 국가군이 속한 대륙(지역)에서 영글로아메리카로의 순 유입보다 많다.

10. 다음은 지도의 (가), (나)와 A~C에 대해 학생들이 수행 평가를 진행한 결과이다. 이에 대한 설명으로 옳은 것만을 <보기>에서 고른 것은? (단, ㉠, ㉡은 각각 ○, × 중 하나임.) [3점]

◎ 사하라 이남 아프리카와 주변 지형에 대한 내용이 맞으면 '○', 틀리면 '×'로 답하시오.



질문	은량	엘렌	익현	미카
(가)는 단층호로, 농업용수로 이용할 수 없다.	㉠	×	×	○
(나)는 대서양이다.	○	○	×	×
쌀 생산량은 A~C 중 C가 가장 많다.	○	㉡	○	×
A는 전 세계 코발트 생산량의 과반을 차지한다.	×	○	○	○
B의 수도는 C의 동부 지역보다 연교차가 작다.	×	○	×	㉡
A는 케냐와 국경을 접한다.	○	×	㉠	×
총점	㉡	㉡	㉡	㉡

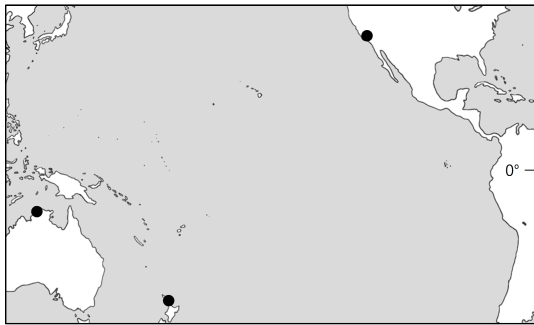
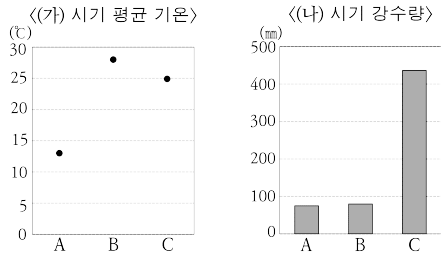
맞으면 2점, 틀리면 0점을 부여함. (FAO, 2023), (World Mining data, 2021)

<보 기>

- ㄱ. C는 태평양 연안에 위치한 국가이다.
- ㄴ. ㉠이 '4'이면 ㉡은 '×'이다.
- ㄷ. ㉠이 '8'이면 ㉡은 '×'이다.

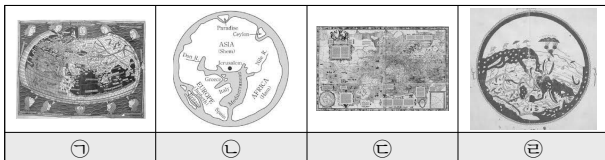
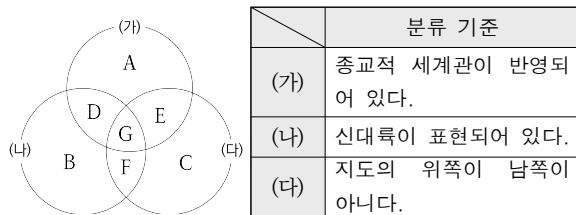
- ① ㄴ    ② ㄷ    ③ ㄱ, ㄴ    ④ ㄱ, ㄷ    ⑤ ㄱ, ㄴ, ㄷ

11. 그래프는 지도에 표시된 세 지역의 기후 특성을 나타낸 것이다. A~C 지역에 대한 설명으로 옳은 것은? (단, (가), (나) 시기는 각각 1월, 7월 중 하나임.) [3점]



- ① A는 북반구, C는 남반구에 위치해 있다.
- ② B보다 A에서 겨울 강수 집중도가 높다.
- ③ A~C 중 남회귀선과 가장 먼 곳은 C이다.
- ④ (가) 시기에 B는 A보다 정오의 태양 고도가 높다.
- ⑤ (나) 시기에 C에서는 산불로 인한 피해가 자주 발생한다.


12. 분류 기준 (가)~(다)에 따라 고지도 ㉠~㉤을 벤다이어그램 상의 A~G에 알맞게 분류한 것은?



\* ㉠은 15세기에 복원한 것임.

- ① C B D A                      ② F E C A
- ③ F E G A                        ④ C E F A
- ⑤ C A F E

13. 다음은 해안 지형 수업 장면의 일부이다. 옳은 내용을 발표한 학생만을 고른 것은? (단, (가)~(라)는 각각 사빈, 해안 단구, 석호, 해안 사구 중 하나임.)



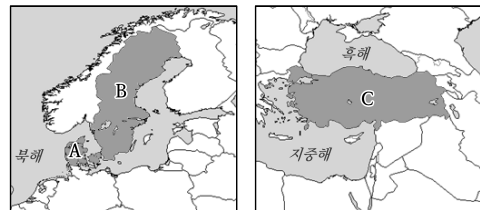
- ① 하나코, 히후미                  ② 하나코, 코하루                  ③ 히후미, 코하루
- ④ 히후미, 아즈사                  ⑤ 코하루, 아즈사

14. 다음은 앵글로아메리카 여행 계획에 관한 두 학생 간 대화의 일부이다. (가)~(다) 도시에 대한 설명으로 옳은 것은? [3점]

미쿠: 같이 여행하고 싶은 곳에 대해 얘기해 볼까?  
 테토: 나는 미국의 (가)에 위치한 우주 센터에 가 보고 싶어. 여러 SF 영화에 등장한 곳이기도 하고, 미국 북부의 러스트 벨트에서 남서부의 선 벨트로의 공업 이동을 볼 수 있을 거야.  
 미쿠: 좋아. 그 다음에는 최상위 세계 도시 중 하나인 (다)에 가서 센트럴 파크를 산책해 보는 건 어때?  
 테토: 마지막으로는 캐나다의 수도인 (나)에 가보자. 앵글로아메리카에서 유명한 아이스하키 경기를 보면서 여행을 마무리하는 거야.

- ① (가)는 태평양에 접해 있다.
- ② (나)는 미국의 수도로, 백악관이 위치해 있다.
- ③ (다)는 캐나다의 최대 도시이다.
- ④ (나)는 (다)보다 1월의 밤 길이가 길다.
- ⑤ (가)는 텍사스주, (나)는 뉴욕주, (다)는 온타리오주에 속한다.

15. 지도의 A~C 국가에 대한 설명으로 옳은 것만을 <보기>에서 고른 것은? [3점]



\* A~C의 영토는 본토와 속령을 모두 포함함.

<보기>

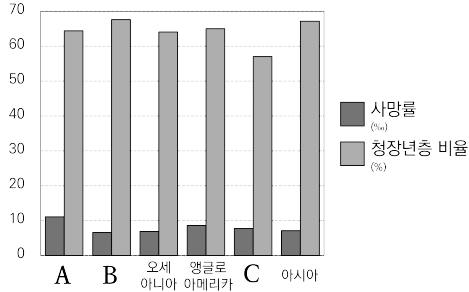
- ㄱ. A의 본토에는 유럽 연합(EU)의 본부가 있다.
- ㄴ. B의 수도권에는 '시스타 사이언스 시티'가 위치한다.
- ㄷ. C는 그리스와 국경을 접하고 있다.
- ㄹ. A~C 중 영토가 가장 넓은 국가는 B이다.

- ① ㄱ, ㄴ                      ② ㄱ, ㄷ                      ③ ㄴ, ㄷ                      ④ ㄴ, ㄹ                      ⑤ ㄷ, ㄹ

# 4 (세계지리)

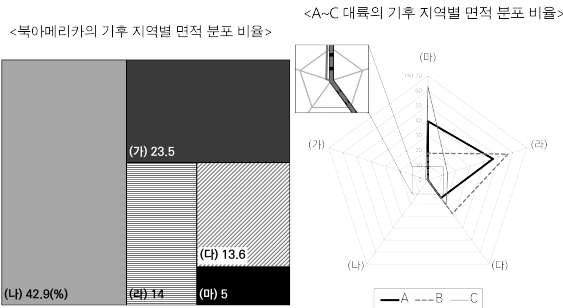
# 사회탐구 영역

16. 다음 자료의 대륙(지역) A~C에 대한 설명으로 옳은 것은?  
(단, A~C는 각각 라틴 아메리카, 유럽, 아프리카 중 하나임.)



- ① C의 인구 수 1위 국가는 남반구에 위치한다.
- ② B는 팽창기보다 고위 정세기에 속한 국가의 수가 더 많다.
- ③ 2025년 A의 인구는 6억 명 이상이다.
- ④ 노령화 지수는 앵글로아메리카>A>오세아니아>B>아시아>C 순으로 높다.
- ⑤ A는 아프리카, B는 라틴 아메리카, C는 유럽이다.

17. 그래프는 네 대륙의 기후 지역별 면적 분포 비율을 나타낸 것이다. 이에 대한 설명으로 옳은 것은? (단, (가)~(마)는 각각 건조, 냉대, 열대, 온대, 한대 기후 중 하나이고, A~C는 각각 남아메리카, 아프리카, 오세아니아 중 하나임.) [3점]



- ① (가)는 (나)보다 수목 밀도가 높다.
- ② (라)는 (다)보다 인간 거주에 불리하다.
- ③ (마)는 최한월 평균 기온이 18℃ 미만이다.
- ④ C는 B보다 건조 기후의 분포 비율이 높다.
- ⑤ A는 C와 달리 대륙 내에 외래 하천이 존재한다.

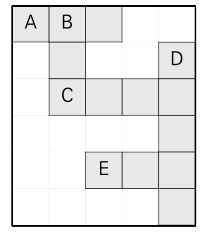
18. 다음 글의 ㉠~㉥에 대한 설명으로 옳지 않은 것은?

전 지구적 과제 중 하나로 지구 온난화와 기후위기가 대두되면서, 여러 환경 협약이 체결되고 있다. 대표적인 환경 협약으로는 ㉠습지 보호를 위해 체결된 람사르 협약, ㉡사막화 방지를 위한 사막화 방지 협약 등이 있다. 그러나 환경 협약에서 ㉢개발도상국의 책임에 대해서는 여러 논란이 있다. 2015년 체결된 ㉣파리 협정에서는 선진국과 개발도상국 모두 ㉤온실 가스 감축 등에 동참하도록 규정했다.

- ① ㉠은 조류에 의해 형성된다.
- ② 사하라 사막에서 ㉡이 이루어지는 지역을 '사헬 지대'라고 한다.
- ③ ㉢은 선진국보다 중위 연령이 낮다.
- ④ ㉣은 서부 유럽에 위치한 세계 도시이다.
- ⑤ ㉤ 실천을 위한 제도로 '온실가스 배출권 거래제'를 들 수 있다.

19. 다음 십자말풀이에 들어갈 설명으로 알맞은 것은?  
(단, 띄어쓰기는 고려하지 않는다.)

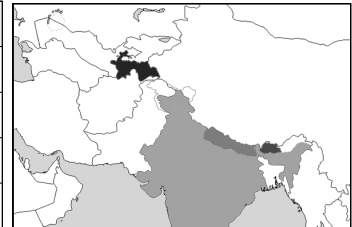
- A: 유럽의 인기 습곡 산맥. 최고봉은 이탈리아와 B의 국경에 위치한 몽블랑이다.
- B: 2024년 제33회 하계 올림픽을 개최한 국가.
- C: 차(茶)로 유명한 국가. 다수의 불교도와 소수의 힌두교도로 구성된다.
- D: \_\_\_\_\_
- E: 하천 침식 작용으로 형성된 V자곡이 침수된 해안. 에스파냐 북서부 등에 위치한다.



- ① 고생대에 조산 운동으로 형성된 습곡 산지
- ② 빙하 침식 작용으로 형성된 U자곡이 침수된 해안
- ③ 석회암이 용식 작용으로 패여 나가 들쭉날쭉한 형태로 지표에 드러난 암석 기둥
- ④ 석회암이 빗물, 하천, 해수의 차별적인 용식 작용을 받는 과정에서 남게 된 탑 모양의 봉우리
- ⑤ 탄산 칼슘이 함유된 물이 경사지를 따라 흐르는 과정에서 탄산 칼슘이 침전되어 형성되는 계단 모양의 지형

20. 표는 지도에 표시된 네 국가의 신자 수 1위 종교와 인구를 나타낸 것이다. 이에 대한 설명으로 옳은 것만을 <보기>에서 고른 것은? (단, A~C는 각각 불교, 이슬람교, 힌두교 중 하나임.) [3점]

	신자 수 1위 종교	인구
(가)	A	0.11
(나)	B	0.0079
(다)	C	0.30
(라)	C	14.51



(단위: 억 명)

(2024)

<보기>

- ㉠. (다)는 우즈베키스탄과 국경을 접한다.
- ㉡. B는 A와 달리 남부 아시아에서 기원했다.
- ㉢. 평균 고도는 (가)가 (라)보다 높다.
- ㉣. C의 성지로는 (다)의 갠지스강과 (나)의 바라나시가 있다.

- ① ㉠, ㉡    ② ㉠, ㉢    ③ ㉡, ㉢    ④ ㉡, ㉣    ⑤ ㉢, ㉣

\* 확인 사항

- 답안지의 해당란에 필요한 내용을 정확히 기입(표기)했는지 확인 하시오.



※시험이 시작되기 전까지 표지를 넘기지 마시오.