


2026

Headmaster

사회·문화 150제

N제



사피엔스, 사회문화의 격이 다른 진화를 보여준다



사피엔스 모의고사 시즌1 (3회분)



사피엔스 200제
(5월 출간예정)

개념과 기출 이후, 사피엔스 시리즈로
'빈틈 학습'과 '모래주머니' 효과
그 이상을 누리세요.

후기로 검증된 예리한 컨텐츠, 사피엔스에는 선택의 후회가 없습니다.

으아ㅏㅏ 1회 2회 퀄리티 너무너무 좋아요ㅠㅠ
혹시 몇 회까지 계획에 있으실지요??
시중에 나와있는 그 어떤 실모보다 좋아요 ㅠㅠ

한 세트 한 세트 풀 때마다 수능 시험지 1,2,3...같은 느낌을 받았
습니다. 사문을 절대 놓으면 안 되겠다! 라는 교훈을 일깨워준 고마운
모의고사입니다.

이거 수능전까지 아껴서 풀고 싶을 정도예요ㅠㅠ 개념과 도표 모두
적절하고 근거 있는 어려움을 느꼈습니다. 난이도 조절과 참신한
유형으로, 모래주머니 효과를 느끼기에 아주 좋은 거 같아요.

타임어택과 개념에 대한 심층적 물음을 모두 잡은 모의고사. 쉽게 풀
리는 듯한 느낌이 들더라도, 뒤돌아보면 선지 하나하나에 개념의 완전
한 이해를 묻는 모의고사이다. 특히 도표 문제에서마저 개념을 물으며
'사회문화'의 본질을 잡는 모습은 가히 완성에 가까웠다고 말할 수 있
다. 계산의 복잡함만을 추구하던 기존 모의고사들과 확연한 차이를 줄
수 있을 것이다.

지금까지의 평가원 출제기조를 성실히 반영하면서도
예상하지 못한 부분을 예리하게 파고듭니다.

※ 위 후기는 100%실제 독자 후기입니다.

본 자료는
사피엔스 독자들을 위하여
출제진이 별도로 제작한 자료입니다.

공부에 유용하게 이용하시길 바라며
사회문화 1등급을 기원합니다.

001

밑줄 친 ㉠~㉣과 같은 현상의 일반적 특징에 대한 설명으로 옳은 것은?

군항제를 앞두고 ㉠ 진해 일대 총 36만 그루의 왕벚나무 꽃이 만개했다. 창원시는 ㉡ 예년보다 벚꽃 개화 시기가 빨라짐에 따라, ㉢ 미리 찾아온 관광객을 위해 해군 부대를 개방하는 등 일부 군항제 행사를 앞당겨 진행한다고 이날 밝혔다. 또 주말 동안 진해로 진입하는 주요 외곽 도로에서 ㉣ 축제 행사장으로 이동하는 무료 셔틀버스를 운행한다. 기상청에 따르면 ㉤ 부산과 진해에서는 지난 20일 벚꽃이 개화했다. 기상청이 벚꽃 개화 시기를 관측한 1973년 이후 가장 빨리 벚꽃이 피었다.

- ① ㉠과 같은 현상은 가치 함축적이다.
- ② ㉡과 같은 현상은 존재 법칙을 따른다.
- ③ ㉢과 같은 현상은 확률의 원리가 적용되지 않는다.
- ④ ㉣과 같은 현상은 경험적 자료로 연구가 불가능하다.
- ⑤ ㉤과 같은 현상은 당위 법칙이 적용된다.

002

밑줄 친 ㉠~㉣과 같은 현상의 일반적 특징에 대한 설명으로 옳은 것은?

불꽃놀이는 밤하늘을 화려하게 수놓는 빛과 소리의 축제다. ㉠ 사람들이 특별한 날을 기념하기 위해 폭죽을 터뜨릴 때 만들어진다. ㉡ 화약이 연소하면서 발생하는 화학 반응은 ㉢ 붉은색, 파란색, 초록색, 금색 등 다양한 색상을 만들어내 하늘을 밝히게끔 한다. 불꽃의 크기와 형태는 폭죽의 구성에 따라 달라지며, ㉣ 전문가들은 정교한 기술을 활용하여 아름다운 패턴을 연출한다. 사람들은 축제나 기념일에 모여 불꽃놀이를 감상하며 즐거움을 나누고, 이 장관을 보며 ㉤ 희망과 새 출발의 의미를 되새기기도 한다.

- ① ㉠과 같은 현상은 당위적 규범을 따른다.
- ② ㉡과 같은 현상은 보편성과 특수성이 공존한다.
- ③ ㉢과 같은 현상은 개연성과 확률의 원리가 작용한다.
- ④ ㉣과 같은 현상은 존재 법칙의 지배를 받는다.
- ⑤ ㉤과 같은 현상은 불가치적이다.

003

밑줄 친 ㉠~㉣과 같은 현상의 일반적 특징에 대한 설명으로 옳은 것은?

우리 몸의 대사는 ㉠ 생명을 유지하기 위해 끊임없이 일어나는 화학 반응의 총합으로 정의되며, 음식물이 소화된 후 에너지원으로 변환될 때 활성화된다. 섭취한 영양소는 ㉡ 분해 과정을 거쳐 세포가 사용할 수 있는 에너지로 전환되며, 이 과정에서 단백질, 탄수화물, 지방 등이 ㉢ 다양한 생리적 기능을 수행하는 데 기여한다. 연구자들은 대사 과정에서 일어나는 효소 반응과 호르몬의 역할을 분석하여 ㉣ 비만, 당뇨병과 같은 질환을 예방하거나 치료하는 방법을 모색하였다. 최근에는 ㉤ 개인의 유전자와 대사 특성을 고려한 맞춤형 영양학이 주목받고 있으며, 이를 통해 보다 효과적인 건강 관리가 가능해지고 있다.

- ① ㉠과 같은 현상은 몰가치적이다.
- ② ㉡과 같은 현상은 경험적 자료를 통해 연구가 불가능하다.
- ③ ㉢과 같은 현상은 당위적 규범이 반영되어 나타난다.
- ④ ㉣과 같은 현상은 필연성과 확실성의 원리가 적용된다.
- ⑤ ㉤과 같은 현상은 당위 법칙의 지배를 받는다.

004

밑줄 친 ㉠~㉣과 같은 현상의 일반적 특징에 대한 설명으로 옳은 것은?

제주도에 있는 섭지코지의 '코지'는 ㉠ 해수면이 상승함에 따라 형성되어 ㉡ 바다로 돌출되어 나온 지형을 지칭하는 곳의 제주 방언이다. ㉢ 해돋이로 유명한 성산일출봉이 지척에 있어 섭지코지를 스쳐 지나가기 쉬우나 ㉣ 해안 절경을 즐기기로는 제주도에서 최고의 위치로 인정받고 있다. 해안 절벽에서 내려다보이는 기둥 모양의 선녀바위에는 옛날 용왕의 아들이 이곳에 왔다가 하늘에서 내려온 선녀를 보고 반해서 선녀를 따라 승천하려다 ㉤ 용왕의 노여움을 사 바위로 굳어버렸다는 이야기가 전승되어 내려온다.

- ① ㉠과 같은 현상은 가치 함축적이다.
- ② ㉡과 같은 현상은 경험적 자료를 통해 연구가 불가능하다.
- ③ ㉢과 같은 현상은 당위적 규범이 반영되어 나타난다.
- ④ ㉣과 같은 현상은 필연성의 원리를 따른다.
- ⑤ ㉤과 같은 현상은 보편성이 나타나지 않는다.

005

다음 글에 나타난 사회·문화 현상을 바라보는 관점에 대한 옳은 진술을 <보기>에서 모두 고른 것은?

사람들 간 이루어지는 상호 작용은 사회를 유지시키고 발전시키는 데 있어 중요한 요소로, 각 개인이 맡은 역할을 수행하며 조화를 이루는 과정에서 활성화된다. 가족, 학교, 직장과 같은 사회적 기관에서 사람들은 서로 간 상호 작용을 하며 협력하고 소통해 공동의 목표를 달성하며, 이는 사회의 지속적인 발전에 기여한다. 이러한 상호 작용은 사회 질서를 유지하는 데 필수적이며, 각 개인이 공동체의 일원으로 기능하도록 도와 사회 전체의 안정과 발전을 촉진한다.

<보기>

- ㄱ. 사회 규범은 사회 전체의 합의를 통해 구성된다고 본다.
- ㄴ. 사회 각 요소 간의 기능적 의존성을 중시한다.
- ㄷ. 상징을 매개로 한 개인 간의 상호 작용에 초점을 맞춘다.
- ㄹ. 개인의 행위에 미치는 사회의 영향력을 간과한다는 비판을 받는다.

- ① ㄱ, ㄴ ② ㄱ, ㄷ ③ ㄴ, ㄷ ④ ㄴ, ㄹ ⑤ ㄷ, ㄹ

006

사회·문화 현상을 바라보는 갑~병의 관점에 대한 설명으로 옳은 것은?

갑: 범죄는 사회 체계 유지라는 측면에서 볼 때 사회 통합에 부정적으로 작용하기에 사회 문제로 규정됩니다. 그에 따라 범죄에 대한 처벌은 일종의 사회 통제인 것으로 볼 수 있죠.

을: 범죄를 저지르지 않아도 생활을 영위해 나갈 수 있게끔 도울 자원이 부족한 사람들은 자연스럽게 범죄의 유혹에 노출됩니다. 이는 사회가 가진 구조적 모순을 나타내는 지점이자, 사회 계급에 따라 범죄의 발생 유인이 차등적으로 나타남을 보여주는 지점이죠.

병: 범죄는 구성원 각자가 부여하는 의미나 가치에 의해 사회적으로 규정될 수 있습니다. 예를 들어 조선 시대에는 천주교를 믿는 것 자체가 범죄로 규정되었죠.

- ① 갑의 관점은 사회 구조가 개인에게 미치는 영향을 간과한다는 비판을 받는다.
- ② 을의 관점은 사회 제도를 통해 기존의 불평등한 사회 구조가 재생산된다고 본다.
- ③ 병의 관점은 집단 간 갈등이 사회 발전이 원동력이라고 본다.
- ④ 갑의 관점은 을의 관점과 달리 개인의 행동이 상황 정의에 기초하여 이루어진다고 본다.
- ⑤ 을의 관점은 병의 관점과 달리 사회 각 부분이 상호 보완적 역할을 수행한다고 본다.

007

표는 사회·문화 현상을 바라보는 관점 A~C를 구분한 것이다. 이에 대한 설명으로 옳은 것은? (단, A~C는 각각 기능론, 갈등론, 상징적 상호 작용론 중 하나임.)

구분	해당 관점
사회 구조에 초점을 두어 사회·문화 현상을 이해하는 관점	A, B
집단 간 갈등을 사회 변동의 원동력으로 보는 관점	A
(가)	C

- ① A는 사회가 유기체와 유사하다고 본다.
- ② B는 학교 교육이 사회 불평등 구조를 재생산한다고 본다.
- ③ C는 개인의 행위에 영향을 미치는 사회 구조의 강제력에 주목한다.
- ④ A, C는 B와 달리 지배 집단과 피지배 집단 간 갈등이 사회 변동의 원동력이라고 본다.
- ⑤ '개인의 행동이 상황 정의에 기초하여 이루어진다고 보는 관점'은 (가)에 들어갈 수 있다.

008

사회·문화 현상을 바라보는 관점 A~C에 대한 설명으로 옳은 것은? (단, A~C는 각각 기능론, 갈등론, 상징적 상호 작용론 중 하나임.)

교사: A~C 중 하나를 선택한 후 해당 관점에 대해 설명해 보세요.
 갑: A는 사회가 생물 유기체처럼 균형을 유지한다고 전제하며, 개인의 상황 정의와 의미 해석을 강조합니다.
 을: B는 대립과 갈등을 사회의 본질적 속성으로 보며, 사회 각 제도의 상호 의존적 관계에 주목합니다.
 교사: 갑의 설명에는 A 외에 B의 내용도 있으며, 을의 설명에는 B의 내용이 아닌 A와 C의 내용만 있네요.

- ① A는 사회 규범이 특정 집단만의 합의를 반영한다고 본다.
- ② B는 인간 행위의 자율성과 능동성을 강조한다.
- ③ C는 사회 유지에 필요한 기능의 상호 의존성에 관심을 둔다.
- ④ A는 B와 달리 개인의 행위에 미치는 사회 구조의 영향력을 간과한다는 비판을 받는다.
- ⑤ B는 C와 달리 갈등을 사회 발전의 원동력으로 본다.

다음 자료에 대한 설명으로 옳은 것은? (단, A~C는 각각 기능론, 갈등론, 상징적 상호 작용론 중 하나임.)

교사: 사회·문화 현상을 바라보는 관점 A~C에 대해 설명해 주세요.
 갑: A는 지배 계급과 피지배 계급의 이익은 양립할 수 없다고 봅니다.
 을: B는 집단 간 갈등이 사회 변동의 원동력이라고 봅니다.
 병: A, C는 모두 사회 구조에 대한 인간의 자율성을 간과한다는 비판을 받습니다.
 정: C는 B와 달리 사회 각 부분은 상호 의존적으로 하나의 체계를 이룬다고 봅니다.
 교사: ① 한 명의 학생을 제외하면 모두 잘 설명했네요.

- ① ①은 갑이다.
- ② A는 B와 달리 사회적 희소가치의 불공정한 분배 구조에 관심을 가진다.
- ③ B는 C와 달리 사회·문화 현상을 사회 구조적 측면에서 바라본다.
- ④ C는 A와 달리 사회에 내재한 갈등이 사회 변동의 원동력이 된다고 본다.
- ⑤ A, B는 C와 달리 개인의 행위에 미치는 사회 구조의 영향력을 중시한다.

다음 자료에 대한 옳은 설명만을 <보기>에서 있는 대로 고른 것은? (단, A~C는 각각 기능론, 갈등론, 상징적 상호 작용론 중 하나임.)

아래는 A~C의 일반적인 특징을 비교한 네 가지 진술로, 옳은 진술의 개수는 ① 옳지 않은 진술의 개수보다 많다.

1번	A는 C와 달리 사회 각 부분이 상호 의존적인 하나의 체계를 이룬다고 본다.
2번	C는 B와 달리 사회·문화 현상을 사회 구조적 측면에서 바라본다.
3번	B, C는 A와 달리 사회 구조의 인간에 대한 영향력을 경시한다는 비판을 받는다.
4번	(가)

— <보 기> —

ㄱ. ①은 4번 진술이다.
 ㄴ. A는 B와 달리 사회가 유기체와 유사하다고 본다.
 ㄷ. B는 C와 달리 사회화는 불평등한 사회 구조의 재생산 수단이라고 본다.
 ㄹ. 'B는 A와 달리 지배 집단의 이익을 대변한다는 비판을 받지 않는다.'는 (가)에 들어갈 수 있다.

- ① ㄱ, ㄷ
- ② ㄴ, ㄹ
- ③ ㄷ, ㄹ
- ④ ㄱ, ㄴ, ㄷ
- ⑤ ㄴ, ㄷ, ㄹ

011

다음 자료에 대한 설명으로 옳은 것은? (단, A~C는 각각 기능론, 갈등론, 상징적 상호 작용론 중 하나임.)

아래의 다섯 가지 질문에 대한 답변 '예'의 개수가 가장 많은 관점은 A, 가장 적은 관점은 C이다.

질문 1	개인의 행위에 미치는 사회의 영향력을 간과한다는 비판을 받는가?
질문 2	사회가 유기체와 유사한 특성을 가지고 있다고 보는가?
질문 3	사회 각 요소 간의 기능적 의존 관계를 중시하는가?
질문 4	사회 구조 속에 존재하는 지배와 피지배 관계에 주목하는가?
질문 5	사회·문화 현상의 이해에 있어 개개인의 행위를 초월한 사회 체계에 초점을 두는가?

- ① 질문 1은 질문 2와 달리 A와 B를 구분할 수 있는 질문에 해당한다.
- ② 질문 4와 질문 5는 모두 B와 C를 구분할 수 있는 질문에 해당한다.
- ③ A는 B와 달리 사회 각 부분의 복잡한 관계를 지배와 피지배의 관계로 단순화한다는 비판을 받는다.
- ④ B는 C와 달리 인간의 능동적인 사고와 행위의 측면에 주목한다.
- ⑤ C는 A와 달리 기득권층의 이익을 대변하는 논리로 이용될 수 있다는 비판을 받는다.

012

표는 A~C의 일반적 특징을 비교한 것이다. 이에 대한 설명으로 옳은 것은? (단, A~C는 각각 기능론, 갈등론, 상징적 상호 작용론 중 하나임.)

특징	비교 결과
갈등을 사회 발전의 원동력으로 본다.	<ul style="list-style-type: none"> · A, C와 달리 B에만 해당하는 특징이 존재한다. · B와 C에 모두 해당하는 특징은 2개이다.
개인의 행위에 영향을 미치는 사회 구조의 힘을 중시한다.	
사회 문제의 발생 원인을 설명할 수 있다.	
인간의 능동적인 사고와 행위의 측면에 주목한다.	

- ① A는 개인들의 주관적 상황 정의에 초점을 둔다.
- ② B는 사회를 유기체에 비유하여 설명한다.
- ③ C는 사회 제도가 기득권층에 유리하게 작용한다고 본다.
- ④ A는 B와 달리 대립과 갈등을 사회의 본질적 속성으로 본다.
- ⑤ B는 C와 달리 기득권층의 이익을 대변하는 논리로 이용될 우려가 있다는 비판을 받는다.

013

다음은 사회·문화 현상을 바라보는 관점 A~C를 구분하는 질문에 대한 학생의 답변과 교사의 채점 결과이다. 이에 대한 설명으로 옳은 것은? (단, A~C는 각각 기능론, 갈등론, 상징적 상호 작용론 중 하나임.)

질문	답변	
	갑	을
A는 B, C와 달리 사회 제도가 기득권층에 유리하게 작용한다고 보는가?	예	예
B는 A, C와 달리 사회 각 부분의 상호 의존 관계를 중시하는가?	예	아니요
(가)	아니요	㉠
(나)	예	㉡
점수	2점	4점

* 교사는 질문별로 각각 채점하고, 각 질문당 옳은 답변을 쓴 경우는 1점, 틀린 답변을 쓴 경우는 0점을 부여함.

- ① ㉠이 '아니요'라면, (나)에는 'C는 A, B와 달리 사회 구조가 개인에게 미치는 영향력을 강조하는가?'가 들어갈 수 없다.
- ② ㉡이 '예'라면, (가)에는 'A는 C와 달리 집단 간 갈등을 사회 변동의 원동력으로 보는가?'가 들어갈 수 없다.
- ③ (가)에 'B는 C와 달리 사회가 유기체와 유사하다고 보는가?'가 들어간다면, ㉡에 들어갈 것은 '예'이다.
- ④ (나)에 'C는 A와 달리 사회 변동보다 사회 안정을 중시하는가?'가 들어간다면, ㉠에 들어갈 것은 '아니요'이다.
- ⑤ (가)에 'A, C는 B와 달리 사회 구조적 관점에서 사회·문화 현상을 분석하는가?'가 들어간다면, 'A는 C와 달리 상황에 대한 개인의 주관적 의미 부여를 강조하는가?'는 (나)에 들어갈 수 없다.

014

다음 자료에 대한 옳은 분석만을 <보기>에서 있는 대로 고른 것은? (단, A~C는 각각 기능론, 갈등론, 상징적 상호 작용론 중 하나임.)

두 집합 ㉠과 ㉡은 각각 1, 2, 3의 번호가 부여된 세 가지 진술로 구성이 되어 있으며, ㉠과 ㉡에서 옳지 않은 진술에 부여된 번호는 서로 같지 않다.

㉠	1	B는 A와 달리 사회 구조가 개인에게 미치는 영향력을 강조한다.
	2	A, C는 B와 달리 기득권층의 이익을 대변하는 논리로 활용될 수 있다는 비판을 받는다.
	3	C는 A와 달리 사회 각 부분의 상호 의존 관계를 강조한다.
㉡	1	A는 C와 달리 집단 간 갈등을 사회 변동의 원동력으로 본다.
	2	C는 A와 달리 개인의 행위가 상황에 대한 주관적 해석에 기초하여 이루어진다고 본다.
	3	(가)

<보 기>

㉠. 옳지 않은 진술의 개수는 ㉠이 ㉡보다 많다.
 ㉡. A는 B와 달리 사회의 안정보다는 변동을 중시한다.
 ㉢. B는 C와 달리 인간은 상황 정의에 기초해 능동적으로 행동한다고 본다.
 ㉣. 'B, C는 A와 달리 사회 구조를 지배와 피지배의 관계로 보지 않는다.'는 (가)에 들어갈 수 없다.

- ① ㉠, ㉡ ② ㉠, ㉢ ③ ㉡, ㉣
- ④ ㉠, ㉡, ㉣ ⑤ ㉡, ㉢, ㉣

015

다음은 사회·문화 현상을 바라보는 관점 A~C 관련 질문에 대한 학생들의 답변과 교사의 채점 결과이다. 이에 대한 옳은 설명만을 <보기>에서 있는 대로 고른 것은? (단, A~C는 각각 기능론, 갈등론, 상징적 상호 작용론 중 하나임.)

질문	답변	
	갑	을
A는 C와 달리 사회·문화 현상을 미시적 관점에서 바라보는가?	예	예
C는 B와 달리 사회가 본질적으로 조화와 균형을 이룬다고 보는가?	㉠	예
B는 A와 달리 갈등이 사회 변동의 원동력이라고 보는가?	아니요	아니요
(가)	예	아니요
점수	3점	3점

* 교사는 각 질문별로 채점하고, 답변 하나가 맞을 때마다 1점씩 부여함.

<보 기>

- ㄱ. ㉠에 들어갈 것은 '예'이다.
- ㄴ. A는 B와 달리 인간의 자율적 행위의 측면을 강조한다.
- ㄷ. B는 C와 달리 사회 각 부분의 조화와 균형을 강조한다.
- ㄹ. 'A는 B와 달리 사회가 유기체와 유사한 특성을 가진다고 보는가?'는 (가)에 들어갈 수 없다.

- ① ㄱ, ㄴ ② ㄴ, ㄷ ③ ㄷ, ㄹ
- ④ ㄱ, ㄴ, ㄷ ⑤ ㄴ, ㄷ, ㄹ

016

갑이 활용한 자료 수집 방법에 대한 옳은 설명만을 <보기>에서 고른 것은?

갑은 유연 근무제가 직장인의 행복도에 미치는 영향을 파악하기 위해 최근에 유연 근무제를 도입한 ○○회사가 사원들 중 10명을 무작위로 선별하여 그들을 대상으로 실시한 면담 자료집을 분석하였다. 면담 내용에는 유연 근무제가 일상생활에 미치는 영향, 유연 근무제 시행 전후 업무 성과에 대한 변화 정도에 대한 질문이 포함되어 있다.

<보 기>

- ㄱ. 2차 자료의 수집에 주로 활용된다.
- ㄴ. 연구자와 연구 대상자 간 언어적 상호 작용이 필수적이다.
- ㄷ. 양적 자료와 질적 자료의 수집에 모두 활용될 수 있다.
- ㄹ. 자료 수집 과정에서 연구자의 주관이 개입될 가능성이 상대적으로 높다.

- ① ㄱ, ㄴ ② ㄱ, ㄷ ③ ㄴ, ㄷ ④ ㄴ, ㄹ ⑤ ㄷ, ㄹ

017

자료 수집 방법 A, B에 대한 옳은 설명만을 <보기>에서 고른 것은?

A가 활용된 사례	B가 활용된 사례
갑은 경기 침체로 인해 사람들의 정신 질환 발병률이 증가하는 현상을 보고, 경기 침체와 정신 질환 발생률 간의 연관성을 연구하기로 했다. 갑은 연구와 관련된 기존의 연구 자료를 모아 정신 질환의 종류를 범주화하여 분류한 후, 이를 바탕으로 결론을 도출하였다.	을은 한 국가의 소수 민족에 대한 영상을 보고, 그들의 삶과 그들이 영위하는 축제가 갖는 의미를 파악하기 위한 연구를 계획했다. 을은 해당 국가로 직접 이동하여 소수 민족의 역사, 문화 등에 관한 심층적인 정보를 그들과 함께 생활하며 수집하였다.

<보 기>

- ㄱ. A는 B에 비해 생생하고 현실감 있는 자료를 얻기에 유리하다.
- ㄴ. A는 B와 달리 기존의 연구 동향을 파악하는 데 주로 사용된다.
- ㄷ. B는 A에 비해 신뢰 관계를 기반으로 한 허용적 분위기 형성이 중요하다.
- ㄹ. B는 A와 달리 조사 대상자와의 언어적 상호 작용이 필수적이다.

- ① ㄱ, ㄴ ② ㄱ, ㄷ ③ ㄴ, ㄷ ④ ㄴ, ㄹ ⑤ ㄷ, ㄹ

018

자료 수집 방법 A~C에 대한 설명으로 옳은 것은? (단, A~C는 각각 질문지법, 면접법, 참여 관찰법 중 하나임.)

‘A, C는 B와 달리 자료 수집 시 주로 언어적인 수단에 의존한다.’는 참인 진술이며, ‘C는 A, B와 달리 수집된 자료의 통계 처리에 유리하다.’는 거짓인 진술이다.

- ① A는 주로 질적 연구에서 활용된다.
- ② B는 다수를 대상으로 한 자료 수집에 주로 사용된다.
- ③ C는 문맹자를 상대로 한 활용이 곤란하다.
- ④ A는 B와 달리 언어적 도구 이외의 방법을 통해 자료 수집이 불가능하다.
- ⑤ B는 C와 달리 연구 대상자의 주관적 인식을 파악할 수 없다.

표는 질문을 통해 자료 수집 방법 A~D를 구분한 것이다. 이에 대한 설명으로 옳은 것은? (단, A~D는 각각 질문지법, 실험법, 면접법, 참여 관찰법 중 하나임.)

구분	A	B	C	D
방법론적 일원론에 기초한 연구에서 주로 사용되는가?	아니요	예	아니요	예
질문과 응답의 과정이 필수적으로 요구되는가?	㉠	㉡	아니요	예

- ① ㉠은 '아니요', ㉡은 '예'이다.
- ② A는 조사 대상자의 예상치 못한 반응에 유연하게 대처할 수 있다.
- ③ B는 실제성이 높은 생생한 자료를 수집하기에 용이하다.
- ④ C는 수집된 자료에 대한 계량적 분석이 용이하다.
- ⑤ D는 문맹자에게 활용하기 용이하다.

다음 자료에 대한 설명으로 옳은 것은?

[과제] 학생별로 서로 다르게 한 가지씩 배정받은 자료 수집 방법이 활용된 사례를 작성하세요.

학생	자료 수집 방법	해당 방법이 활용된 사례
갑	질문지법	(가)
을	면접법	(나)
병	실험법	(다)
정	㉠	자유 학기제가 학생들의 학업 성취도에 미치는 영향을 알아보기 위해 □□고등학교 학생들의 가장 최근에 치러진 모의고사 성적표를 수집하였다.
무	㉡	◇◇지역 소방관들의 작업 환경에 대해 알아보기 위해 해당 지역에 위치한 한 소방서에서 일주일간 소방관들과 같이 생활하며 일지를 작성하였다.

[교사의 평가] 갑, 정, 무만 옳은 사례를 제시했고, 을은 ㉠, 병은 ㉡에 해당하는 사례를 제시했어오.

- ① ㉠은 연구자와 연구 대상자 간의 정서적 교감이 중시되는 자료 수집 방법이다.
- ② ㉡은 2차 자료 수집에 주로 활용되는 자료 수집 방법이다.
- ③ '백색 소음의 유무가 작업 환경에 미치는 영향을 알아보기 위해 두 집단의 직장인들 중 한 집단에만 백색 소음을 듣게 한 뒤 작업을 수행하게 하였다.'는 (가)에 들어갈 수 있다.
- ④ '지역인재 선발 제도에 대한 수험생들의 생각을 알아보기 위해 △△고등학교 학생 중 10명을 선정하여 그들과 해당 제도의 공정성과 찬반 여부에 관한 대화를 나누었다.'는 (나)에 들어갈 수 있다.
- ⑤ '가출 청소년들의 일상에 대해 알아보기 위해 한 가출 청소년 모임에 참가하여 한 달간 그들의 생활 양상과 환경을 관찰하였다.'는 (다)에 들어갈 수 있다.

자료 수집 방법 A~C의 일반적인 특징에 대한 설명으로 옳은 것은?

· 갑은 압박 면접이 개인의 긴장 정도에 미치는 영향을 연구하기 위해 □□고등학교에 재학 중인 학생 중 직전 시험 성적이 가장 높은 10명을 선정한 뒤 그들에게 심장 박동수 측정 기능이 있는 전자 시계를 착용하게 하였다. 이후 갑은 그들 중 5명을 대상으로는 일반 면접을, 나머지 5명을 대상으로는 압박 면접을 시행한 뒤 각 학생들의 심장 박동수에 대한 자료를 수집하였다.

· 을은 학습 현장에서 방과 후 수업이 운영되는 현황을 연구하기 위해 ◇◇시 소재 각 고등학교의 직전 시행 모의고사 평균 성적을 참고한 다음, 성적이 가장 높은 고등학교와 가장 낮은 고등학교에 각각 방문하여 해당 학교에서 방과 후 수업이 운영되는 방식과 해당 수업이 학생들에게 실질적인 도움을 주는지 여부를 각 1주일간 수업을 참관하며 조사하였다.

교사의 설명: 갑은 A와 B, 을은 B와 C를 활용하였습니다.

- ① A는 연구 대상자와의 언어적 상호 작용이 필수적이다.
- ② B는 대량의 구조화된 자료를 수집하는 데 용이하다.
- ③ C는 인과 관계의 파악을 통해 법칙을 발견하는 데 유리하다.
- ④ A는 B와 달리 인위적으로 통제된 상황에서 특정 변인의 효과를 측정한다.
- ⑤ B는 C와 달리 조사 대상자의 일상생활 세계에 참여하여 필요한 자료를 수집한다.

다음 자료에 대한 옳은 설명만을 <보기>에서 있는 대로 고른 것은? (단, A~D는 각각 질문지법, 면접법, 실험법, 참여 관찰법 중 하나임.)

교사: 아래의 세 가지 사례에서 활용된 2가지의 자료 수집 방법을 각각 제시해 보세요.

사례	학생이 제시한 자료 수집 방법
갑은 운동이 학업 성취도 향상에 미치는 영향을 연구하기 위해, □□ 고등학교 1학년 두 개의 학급 중 한 학급 학생들에게 아침 운동을 시키고, 다른 학급과의 학업 성취도를 비교하여 조사하였다. 또한, 운동을 한 학생들과 심층 대화를 통해 그들의 심적 변화를 조사하였다.	A, B
을은 학생들의 효과적인 학습 방법에 대한 연구를 위해, △△ 고등학교를 찾아가 사교육을 받거나 자기 주도 학습을 하는 학생들에게 어느 방법이 효과적이라고 생각하는지 설문 조사를 실시하였다. 또한 일부 학생과 면담을 하여 자기 주도 학습을 하는 학생들의 학습 자신감에 대해 진솔한 대화를 나누었다.	B, C
병은 자유 학기제에 대한 연구를 위해, OO 중학교의 한 학급에서 두 달 동안 자유 학기제 수업을 참관하며 학생들의 생활을 직접 관찰하였다. 그리고 자유 학기제로 인한 사교육비 지출의 변화를 파악하고자 학부모를 대상으로 미리 제작한 문항에 응답하게 하였다.	C, D

교사: 갑의 사례에서 활용된 자료 수집 방법은 모두 옳게 제시했으나, 을의 사례에서 활용된 자료 수집 방법은 모두 옳지 않게 제시했네요. 병의 사례에서 활용된 자료 수집 방법은 제시했습니다.

— <보 기> —

ㄱ. (가)에 들어갈 것은 ‘모두 옳게’이다.

ㄴ. A는 B와 달리 조사 대상자와의 언어적 상호 작용이 필수적이다.

ㄷ. B는 C와 달리 양적 자료의 수집에 활용된다.

ㄹ. C는 D에 비해 대량의 자료를 수집하는 데 유리하다.

- ① ㄱ, ㄴ
- ② ㄴ, ㄷ
- ③ ㄷ, ㄹ
- ④ ㄱ, ㄴ, ㄷ
- ⑤ ㄴ, ㄷ, ㄹ

자료 수집 방법 A~E에 대한 설명으로 옳은 것은? (단, A~E는 각각 질문지법, 면접법, 실험법, 참여 관찰법, 문헌 연구법 중 하나임.)

교사: 자료 수집 방법 5가지를 모둠별로 서로 다르게 한 가지씩 배정하였습니다. 각 모둠은 배정받은 자료 수집 방법이 활용된 사례를 발표해 봅시다.

<1 모둠> 운동에 따른 행복도 차이 연구를 위해 무작위로 선정된 성인 200명을 대상으로 주당 운동 시간과 행복 수준을 묻는 문항에 답하게 한 것은 A를 활용한 사례에 해당합니다.

<2 모둠> 마스크 착용이 유아들의 언어 발달에 미치는 영향 연구를 위해 어린이집에 6개월간 머무르며 유아들의 행동과 대화 내용 등을 기록한 것은 B를 활용한 사례에 해당합니다.

<3 모둠> 음악 청취가 암기력에 미치는 영향 연구를 위해 한 집단은 음악이 있는, 다른 집단은 음악이 없는 상태에서 단어를 학습한 후 평가 문항에 답하게 한 것은 C를 활용한 사례에 해당합니다.

<4 모둠> 노년층의 인터넷 이용 양상 연구를 위해 인터넷 동호회 활동을 하는 노인들과의 대화를 통해 비구조화된 질문에 답하게 한 것은 D를 활용한 사례에 해당합니다.

<5 모둠> 사형 제도 폐지에 다른 강력 범죄 발생률 변화 정도 연구를 위해 국제기구에서 발간한 통계 자료를 수집하여 분석한 것은 E를 활용한 사례에 해당합니다.

교사: <3 모둠>을 제외하면 모두 옳지 않게 발표했네요. <1 모둠>은 <4 모둠>이, <4 모둠>은 <2 모둠>이, <2 모둠>은 <5 모둠>이, <5 모둠>은 <1 모둠>이 배정받은 자료 수집 방법을 활용한 사례를 발표했어요.

- ① A는 2차 자료의 수집에 주로 활용된다.
- ② B는 가장 엄격한 통제가 가해지는 방법이다.
- ③ C는 대량의 자료를 수집하는 데 용이하다.
- ④ D는 조사 대상자의 일상생활을 심층적으로 이해하는 데 유리하다.
- ⑤ E는 언어적 상호 작용이 필수적인 방법이다.

밑줄 친 ㉠~㉣에 대한 설명으로 옳은 것은?

연구자 갑은 ㉠ 집단 구성원 간 친밀감에 교류 방식이 미치는 영향을 파악하고자 가설을 설정하고 연구를 진행하였다. 이를 위해 갑은 ㉡ 서로 다른 지역에 거주하던 성인 10명을 모집하여 그들을 각각 5명씩 A, B 집단으로 나눈 뒤, 1주일의 기간 동안 ㉢ A 집단은 대면 소통만을, ㉣ B 집단은 비대면 소통만을 진행하게 하였다. 이후 갑은 전체 참가자를 대상으로 ㉤ 상호 의존성 정도, ㉥ 시간과 경험의 공유 정도를 측정하였으며, 그 결과 B 집단에 비해 A 집단의 구성원 간 친밀감이 유의미하게 높은 것으로 나타나 ㉦ 가설이 수용되었다.

- ① ㉢은 ㉣과 달리 ㉠에 대한 조작적 정의에 해당한다.
- ② ㉡은 모집단이다.
- ③ ㉢은 실험 집단, ㉣은 통제 집단이다.
- ④ ‘대면 소통은 비대면 소통에 비해 집단 구성원 간 친밀감에 정(+)의 영향을 미치는 정도가 클 것이다.’는 ㉡이 될 수 있다.
- ⑤ ‘비대면 소통은 대면 소통과 달리 집단 구성원 간 친밀감에 부(-)의 영향을 미칠 것이다.’는 ㉣이 될 수 있다.

다음 자료에 대한 옳은 설명만을 <보기>에서 있는 대로 고른 것은?

연구자 갑은 ㉠ A국 국민의 정치적 효능감에 ㉡ 정치 관련 교과목 수강 경험과 ㉢ 최근 1년 내 투표 경험이 미치는 영향을 탐구하고자 하였다. 갑은 ㉣ '정치 관련 교과목 수강 경험이 있는 국민이 그렇지 않은 국민보다 정치적 효능감이 높을 것이다.', ㉤ '최근 1년 내 투표를 한 국민이 그렇지 않은 국민보다 정치적 효능감이 높을 것이다.' 라는 가설을 설정하였으며, 정치적 효능감은 정치적 효능감 지수(5점 만점)으로 측정하기로 하였다. 갑은 A국의 ◇◇시 거주민 중 1,000명을 대상으로 구조화된 질문지를 통해 정치 관련 교과목 수강 여부, 최근 1년 내 투표 여부, 정치적 효능감 지수를 파악하기 위한 설문 조사를 실시한 뒤, 정치 관련 교과목 수강 경험 유무와 최근 1년 내 투표 유무에 따라 응답자를 4개의 집단으로 나누어 결과를 분석하였다.

분석 결과 정치적 효능감 지수의 평균 점수는 정치 관련 교과목 수강 경험과 최근 1년 내 투표 경험이 모두 있는 응답자 집단에서 4.2점, 정치 관련 교과목 수강 경험과 최근 1년 내 투표 경험이 모두 없는 응답자 집단에서 2.1점, 정치 관련 교과목 수강 경험은 있으나 최근 1년 내 투표 경험이 없는 집단에서 3.4점, 정치 관련 교과목 수강 경험은 없으나 최근 1년 내 투표 경험은 있는 집단에서 3.0점인 것으로 도출이 되었으며, 이를 바탕으로 갑은 그가 세운 가설을 ㉥ 검증하였다.

— <보 기> —

- ㄱ. ㉠은 종속 변수, ㉡과 ㉢은 독립 변수이다.
 ㄴ. 갑은 종속 변수에 대해서만 개념의 조작적 정의를 시행하였다.
 ㄷ. 갑은 2차 자료를 수집하였다.
 ㄹ. ㉥에는 ㉣과 ㉤의 수용이 포함된다.

- ① ㄱ, ㄴ ② ㄴ, ㄷ ③ ㄷ, ㄹ
 ④ ㄱ, ㄴ, ㄹ ⑤ ㄴ, ㄷ, ㄹ

다음 자료에 대한 설명으로 옳은 것은?

갑은 '권위자의 유형에 따른 개인의 복종 수준의 변화'라는 주제를 연구하기 위해 자료를 수집하였다. 갑은 ㉠ 직장 생활에 관한 설문 조사를 한다는 명목으로 조사에 참여할 직장인 90명을 모집한 후, 이들을 무작위로 A 집단, B 집단, C 집단으로 분류하였다. 이후 갑은 이들에게 공통적으로 ㉡ 다른 참가자가 문제를 틀릴 때마다 점점 강한 전기 자극을 가하라는 내용의 과제를 준 뒤 각 집단에 다음과 같은 내용의 처치를 하였다.

- A 집단: 흰 가운을 입은 실험심리학자를 권위자로 배치하여 해당 권위자에게 과제를 이행할 것을 지시받도록 하였다. 이는 전문성을 바탕으로 한 '전문가형 권위자' 조건이었다.
- B 집단: 군복 차림의 군인을 권위자로 배치하여 해당 권위자에게 과제를 이행할 것을 지시받도록 하였다. 이는 압박감을 바탕으로 한 '위협적 권위자' 조건이었다.
- C 집단: 캐주얼한 복장의 남성을 권위자로 배치하여 해당 권위자에게 과제를 이행할 것을 지시받도록 하였다. 이는 친밀감을 바탕으로 한 '친근형 권위자' 조건이었다.

실험 결과, ㉢ 최대 전기 자극 단계까지 도달한 참가자 비율은 A 집단이 65%, B 집단이 80%, C 집단이 40%로 나타났다. 또한 ㉣ 실험에 따른 정서적 불안의 정도는 B 집단이 가장 높았고, A 집단이 가장 낮았으며, C 집단은 중간 수준이었다. 이에 따라 갑은 그가 세운 가설을 모두 수용하는 통계적으로 유의미한 ㉤ 결론을 내렸다.

- ① ㉠은 사전 검사에 해당한다.
 ② A~C 집단은 실험 집단, ㉡은 통제 집단이다.
 ③ ㉣과 ㉤은 모두 개념의 조작적 정의이다.
 ④ '전문성은 개인의 복종 수준에 친밀감보다 강한 영향을, 압박감보다 약한 영향을 미칠 것이다.'는 ㉣이 될 수 있다.
 ⑤ '권위자의 유형은 개인의 정서적 불안에 영향을 미치지 않을 것이다.'는 ㉤이 될 수 있다.

031

다음 글에서 개인과 사회의 관계를 바라보는 필자의 관점에 대한 옳은 설명만을 <보기>에서 고른 것은?

사회 구조의 압력 속에서 개인은 스스로에 대한 통제력을 잃는다. 아무리 각 개인이 높은 능력을 가지고 있더라도 이는 사회 속에서 희석되며, 반대로 개인이 가진 낮은 능력 또한 사회라는 암막 뒤에 숨겨진다. 결국 이는 개인이 사회를 벗어날 수 없다는 사실을 의미한다.

————— <보 기> —————

- ㄱ. 공익보다 개인의 이익을 중시한다.
- ㄴ. 사회가 개인의 외부에 실제로 존재한다고 본다.
- ㄷ. 개인이 자율성과 능동성을 지닌 존재임을 강조한다.
- ㄹ. 사회의 특성은 구성원들의 특성으로 환원될 수 없다고 본다.

- ① ㄱ, ㄴ ② ㄱ, ㄷ ③ ㄴ, ㄷ ④ ㄴ, ㄹ ⑤ ㄷ, ㄹ

032

다음에 나타난 개인과 사회의 관계를 바라보는 관점에 부합하는 진술만을 <보기>에서 고른 것은?

각 사회는 인간이 존재하는 한 세대를 따라 전수되며 집단적 삶의 통일성과 연속성의 기반이 되는 공통적인 신념이 존재한다. 이들에 대해서는 개인적 차원이 아닌 사회적 차원으로서 접근해야 하는데, 왜냐하면 이들을 구성하는 종교적 전통, 정치적 세계관, 언어 등은 개인적 차원의 외부에 존재하기 때문이다. 이러한 관념 및 감정들은 실질적인 사회생활을 영위하는 데 있어 각 개인에게 필수적으로 준수할 것이 요구된다.

————— <보 기> —————

- ㄱ. 사회를 개인의 외부에 존재하는 독자적인 실체로 본다.
- ㄴ. 사회는 개인의 이익을 실현하기 위한 수단이라고 본다.
- ㄷ. 사회의 특징이 개인의 특징으로 환원될 수 없다고 본다.
- ㄹ. 사회는 개인의 자율적인 의지에 의해 만들어진다 고 본다.

- ① ㄱ, ㄴ ② ㄱ, ㄷ ③ ㄴ, ㄷ ④ ㄴ, ㄹ ⑤ ㄷ, ㄹ

033

다음은 질문을 통해 개인과 사회의 관계를 바라보는 관점 A, B를 구분한 것이다. 이에 대한 설명으로 옳은 것은?

구분	A	B
개인의 발전을 곧 사회의 발전으로 보는가?	예	아니요
(가)	아니요	예

- ① A는 B와 달리 개인의 속성은 사회의 속성이 반영된 결과라고 본다.
- ② A는 B와 달리 개인의 이익보다 공익을 중시한다.
- ③ B는 A와 달리 개인이 자율성과 능동성을 지닌 존재임을 강조한다.
- ④ B는 A와 달리 개인의 자율적 의지에 의해 사회 현상이 형성된다고 본다.
- ⑤ '개인은 사회에 의해 구조화된 행동을 한다고 보는가?'는 (가)에 들어갈 수 있다.

034

개인과 사회의 관계를 바라보는 갑, 을의 관점에 대한 설명으로 옳은 것은?

갑: 개인과 사회의 관계는 기계와 이를 구성하는 부품 간 관계로 설명이 가능합니다. 부품은 기계를 구성하지만, 그래서 만들어진 기계는 각 부품이 가지지 못한 속성까지 가지게 됩니다.

을: 개인과 사회의 관계는 원자와 사물 간 관계로 설명이 가능합니다. 사물은 그것을 구성하는 원자의 집합체에 불과하기에, 원자의 특성 이상의 무언가를 고유하게 가지지 않습니다.

- ① 갑의 관점은 을의 관점과 달리 공익보다 개인의 이익을 중시한다.
- ② 갑의 관점은 을의 관점과 달리 개인의 발전이 곧 사회의 발전이라고 본다.
- ③ 을의 관점은 갑의 관점과 달리 사회 규범의 구속성보다 개인의 자율성이 우선한다고 본다.
- ④ 을의 관점은 갑의 관점과 달리 사회 문제의 원인을 개인의 의식보다 사회 제도에서 찾는다.
- ⑤ 갑과 을의 관점은 모두 개인은 사회 구조와의 관련 속에서만 존재 의미를 가진다고 본다.

다음 글에서 비판하는 개인과 사회의 관계를 바라보는 관점에 대한 옳은 설명만을 <보기>에서 고른 것은?

개인의 외부에 존재하는 사회 구조가 개인의 행동 범위를 제약하고 그 한계를 결정한다고 보는 관점이 있다. 그러나 이는 '사회 구조'라는 것 자체가 허구적 개념이라는 것을 망각한 시선에 불과하다. '사회 구조', 즉 '공동체'는 이를 구성하는 개인들의 집합체에 불과하고, 따라서 '공동체의 이익'이라는 것도 결국 개개인의 이익을 전부 합한 것일 뿐이다.

— <보 기> —

ㄱ. 사회는 구성원들에게 외재성을 가진다고 본다.
 ㄴ. 개인은 사회에 의해 구조화된 행동을 한다고 본다.
 ㄷ. 사회 규범의 구속성보다 개인의 능동성을 중시한다.
 ㄹ. 사적 이익의 총합이 곧 사회 전체의 이익이라고 본다.

- ① ㄱ, ㄴ ② ㄱ, ㄷ ③ ㄴ, ㄷ ④ ㄴ, ㄹ ⑤ ㄷ, ㄹ

다음 자료는 서술형 평가에 대한 학생의 답변과 교사의 채점 결과이다. 이에 대한 설명으로 옳은 것은? (단, A, B는 각각 사회 명목론, 사회 실재론 중 하나임.)

<서술형 평가>

성명: ○○○

* 개인과 사회의 관계를 바라보는 관점 A, B에 대한 설명을 각각 3가지씩 제시하시오. (단, 옳은 답을 쓴 경우 하나당 1점, 틀린 답을 쓴 경우 하나당 0점을 부여함.)

관점	A	B
답변	· 사회가 개인에 비해 우월한 존재라고 보이지 않는다. · 사적 이익의 총합과 사회 전체의 이익이 같다고 본다. · _____ (가)	· 사회가 고유한 특성을 지니며 실재한다고 본다. · 사회는 구성원들에게 외재성을 가진다고 본다. · _____ (나)
점수	4점	

- ① A는 B와 달리 전체를 위한 개인의 희생을 정당화할 우려가 있다는 비판을 받는다.
 ② B는 A와 달리 사회 규범은 개인이 옳다고 믿기에 존재한다고 본다.
 ③ A와 B는 모두 사회의 특성이 개인의 특성으로 환원된다고 본다.
 ④ '사회가 개인의 외부에 실제로 존재한다고 본다.'는 (가)에 들어갈 수 있다.
 ⑤ '사회의 구속력이 개인의 자유 의지보다 우위에 있다고 본다.'는 (나)에 들어갈 수 있다.

037

다음 자료에 대한 옳은 설명만을 <보기>에서 있는 대로 고른 것은? (단, A, B는 각각 사회 명목론, 사회 실재론 중 하나임.)

<형성 평가>

※ 제시된 '대답'에 맞게 빈칸을 채워 질문을 완성하십시오.

대답	대답에 맞는 질문	채점 결과
예	A는 B와 달리 [가] 라고/고 보는가?	㉠
아니요	B는 A와 달리 [공익보다 개인의 이익을 중시해야 한다] 라고/고 보는가?	0점

* 교사는 완성한 질문별로 채점하고 제시된 대답에 맞게 질문을 완성한 경우는 1점, 틀린 경우는 0점임.

<보 기>

ㄱ. A는 B와 달리 사회는 단순 개인의 합에 지나지 않는다고 본다.
 ㄴ. (가)에 '사회는 개인에게 외재성을 가진다'가 들어간다면, ㉠은 '1점'이다.
 ㄷ. ㉠이 '0점'이라면, (가)에는 '개인의 능동성보다 사회의 구속성을 중시해야 한다'가 들어갈 수 없다.

- ① ㄱ ② ㄴ ③ ㄷ ④ ㄱ, ㄴ ⑤ ㄴ, ㄷ

038

다음 자료에 대한 옳은 설명만을 <보기>에서 있는 대로 고른 것은? (단, A, B는 각각 사회 명목론, 사회 실재론 중 하나임.)

<서술형 1> A와 구분되는 B의 특징을 2가지 서술하십시오. (각 1점, 총 2점)
 <서술형 2> B와 구분되는 A의 특징을 2가지 서술하십시오. (각 1점, 총 2점)

<학생의 답안 및 채점 결과>

문항	답안	채점 결과
<서술형 1>	개인의 발전이 곧 사회의 발전이라고 본다. (가)	㉠
	개인의 행동이 사회에 의해 구속된다고 본다. (나)	

* 교사는 답안별로 채점하고 답안 하나당 맞으면 1점, 틀리면 0점을 부여함.

<보 기>

ㄱ. ㉠에 '1점'이 들어간다면, A는 사회 실재론, B는 사회 명목론이다.
 ㄴ. (가)에 '사회가 개인의 외부에 실재한다고 본다.'가 들어간다면, ㉠에는 '4점'이 들어갈 수 없다.
 ㄷ. ㉠에 '3점'이 들어간다면, '사회가 개인들의 총합에 불과하다고 본다.'는 (나)에 들어갈 수 있다.
 ㄹ. (가)에 '개인이 사회에 의해 구조화된 행동을 한다고 본다.'가 들어가고 (나)에 '사회 문제 해결 시 제도 개혁보다 의식 개혁을 중시한다.'가 들어간다면, ㉠에 들어갈 것은 '2점'이다.

- ① ㄱ, ㄴ ② ㄱ, ㄷ ③ ㄴ, ㄹ
 ④ ㄱ, ㄴ, ㄹ ⑤ ㄴ, ㄷ, ㄹ

039

밑줄 친 ㉠~㉣에 대한 설명으로 옳은 것은?

㉠ 장남으로 태어나 학창 시절 ㉡ 학교에서부터 ㉢ 모범을 보여 능력의 두각을 나타내던 갑은 ㉣ 회사에 취직한 후 ㉤ 남들보다 빠른 속도로 승진 가도를 이어 나갔다. 어느 날 갑은 유치원에 ㉥ 딸을 데리러 가던 중 ㉦ 회사의 긴급한 회의에 참석하라는 연락을 받고 어떻게 할지 ㉧ 고민하게 되었다.

- ① ㉠과 ㉢은 모두 갑의 귀속 지위이다.
- ② ㉡과 ㉣은 모두 공식적 사회화 기관이다.
- ③ ㉢과 ㉤은 모두 갑의 역할 행동에 대한 보상이다.
- ④ ㉦은 갑의 역할 행동에 대한 제재이다.
- ⑤ ㉧은 갑의 역할 갈등에 해당한다.

040

밑줄 친 ㉠~㉣에 대한 설명으로 옳은 것은?

㉠ 고등학교에 다니던 갑은 학업에 별다른 흥미를 느끼지 못하고, ㉡ 아버지가 운영하던 ㉢ 소규모 공방에서 아르바이트를 했으나 일에도 특별한 관심을 가지지 못했다. 고등학교를 졸업한 후 갑은 우연히 어릴 적 동네 친구였던 을을 만났고, 을이 입고 있던 ㉣ 소방관 제복에 깊은 인상을 받아 소방관이 되기로 결심하였다. 이후 갑은 ㉤ 소방공무원 시험에 합격하고, ㉥ 소방학교에서 기본 교육 및 훈련 과정을 수료한 뒤, ㉦ 소방서에 발령받아 근무하며 보람 있는 삶을 살아가고 있다.

- ① ㉠에서는 ㉢과 달리 사회화가 이루어진다.
- ② ㉡은 ㉣과 달리 귀속 지위에 해당한다.
- ③ ㉤은 갑의 역할에 대한 보상이다.
- ④ ㉥은 갑의 예기 사회화에 해당한다.
- ⑤ ㉦은 갑의 역할 행동에 해당한다.

041

다음 자료에 대한 설명으로 옳은 것은?

㉠ ○○대학교 문예창작과에 재학 중인 갑은 여러 차례 문학 공모전에 도전했지만 번번이 탈락하면서 자신의 진로에 대해 깊이 고민하던 중, ㉡ 대학 문학 동아리 선배의 조언을 듣고 용기를 얻어 소설집 출간에 도전하였다. 갑은 첫 작품임에도 사회적 비극을 소재로 한 단편 소설을 통해 인간 내면의 아픔을 섬세하게 묘사하여 문단의 주목을 받고 있다. 한편 을은 대학 시절부터 다양한 문학 장르에 걸쳐 꾸준히 창작 활동을 이어왔다. 그의 작품들은 전문 문예지에 실리며 인정받았고, 그는 대학생 신분임에도 불구하고 ㉢ 한국문인협회 정회원으로 가입하는 성과를 이루었다. 최근 을은 갑을 자신의 문학 프로젝트에 참여시킬지 ㉣ 고민하고 있다.

- ① ㉠과 ㉢은 모두 공식적 사회화 기관이다.
- ② ㉡은 귀속 지위에 해당한다.
- ③ ㉢은 을의 역할 갈등에 해당한다.
- ④ 갑은 그의 역할 행동에 대한 사회적 제재를 경험하였다.
- ⑤ 갑과 을은 모두 그의 역할 행동에 대한 보상을 경험하였다.



042

다음 자료에 대한 옳은 설명만을 <보기>에서 있는 대로 고른 것은?

- 고등학교 재학 시절 내내 음악에 관심이 없었던 갑은 졸업 후 진로를 정하지 못한 채 지내다가, 우연히 거리 공연을 보며 흥미를 느껴 중고 기타를 사 혼자 연습을 시작했다. 이후 지역 문화센터의 버스킹 프로그램에 참가하면서 자신감을 얻었고, 현재는 작은 카페에서 주말 공연을 하며 자신만의 음악을 만들어가고 있다.
- 을은 어려서부터 자연과학에 관심이 많아 고등학생 때부터 여러 과학 경진대회에 참가해 수상에 성공하였다. 대학에 진학한 뒤에는 생물학을 전공하면서 대학원 진학을 목표로 실험실 연구에 매진하였고, 최근에는 학교 연구팀의 일원으로 국제 생명공학 포럼에서 공동 논문을 발표하며 학계의 주목을 받고 있다.

—<보 기>—

ㄱ. 갑과 을은 모두 공식적 사회화 기관에 속한 적이 있다.
 ㄴ. 갑은 을과 달리 역할 행동에 대한 제재를 경험하였다.
 ㄷ. 을은 갑과 달리 역할 행동에 대한 보상을 경험하였다.
 ㄹ. 갑과 을은 모두 예기 사회화를 경험하였다.

- ① ㄱ, ㄴ ② ㄱ, ㄷ ③ ㄴ, ㄹ
- ④ ㄱ, ㄷ, ㄹ ⑤ ㄴ, ㄷ, ㄹ

043

사회 조직의 유형 A~C에 대한 설명으로 옳은 것은? (단, A~C는 각각 공식 조직, 비공식 조직, 자발적 결사체 중 하나임.)

- A는 모두 B에 해당한다.
- A의 구성원은 모두 C의 구성원이다.

- ① A는 C와 달리 공식적인 규범과 절차를 통해 구성원을 통제한다.
- ② C는 A와 달리 B에 해당할 수 없다.
- ③ 모든 A는 C에 해당한다.
- ④ '시민 단체'는 B와 C의 사례에 해당한다.
- ⑤ '노동조합'은 A와 B의 사례에 해당한다.

044

다음은 고등학생 갑의 하루 일정표 중 일부이다. 밑줄 친 ㉠~㉣에 대한 설명으로 옳은 것은?

- 8시 40분~12시 30분: ㉠ 학교 수업
- 13시 30분~14시 30분: ㉡ 교내 학생회 주관 행사 참석
- 16시 30분~17시 30분: ㉢ 학교 운영 위원회 참관
- 18시 00분~19시 00분: ㉣ 가족과 함께 외식
- 19시 30분: 20시 30분: ㉤ 학교 연합 환경 보호 단체 활동

- ① ㉠은 ㉢과 달리 공식적 사회화 기관에 해당한다.
- ② ㉡은 ㉣과 달리 직접적인 대면 접촉과 친밀감을 바탕으로 형성된 집단이다.
- ③ ㉢은 ㉠과 달리 갑의 내집단에 해당한다.
- ④ ㉣은 ㉢과 달리 구성원의 선택 의지에 따라 인위적으로 형성된 집단이다.
- ⑤ ㉤은 ㉡과 달리 비공식 조직에 해당한다.

045

다음 자료에 대한 옳은 설명만을 <보기>에서 있는 대로 고른 것은? (단, A~C는 각각 공식 조직, 비공식 조직, 자발적 결사체 중 하나임.)

표는 사회 집단 ㉠~㉣이 A~C 중 어디에 해당하는지에 관한 정보를 나타낸 것이다.

구분	A	B	C
㉠	○	×	○
㉡	×	×	○
㉢	×	○	×

* ○ : 해당함 × : 해당하지 않음

<보 기>

- ㄱ. 모든 A는 B에 해당한다.
- ㄴ. A와 B는 모두 C에 해당할 수 있다.
- ㄷ. '사내 테니스 동호회'는 ㉠에 해당할 수 있다.
- ㄹ. '노동조합'은 ㉡이 아닌 ㉢에 해당할 수 있다.

- ① ㄱ, ㄴ ② ㄴ, ㄷ ③ ㄷ, ㄹ
- ④ ㄱ, ㄴ, ㄷ ⑤ ㄴ, ㄷ, ㄹ

046

갑~병이 속해 있는 사회 집단 및 사회 조직에 대한 진술로 옳은 것은?

교수: □□대학교 학우 여러분들은 강의가 끝난 후 어떤 활동을 하실 계획이신가요?
 갑: 병과 함께 활동 중인 총학생회 회의를 마친 후, 가족과 함께 저녁을 먹으려 합니다.
 을: 제가 속한 환경 단체에서 주관하는 ◇◇ 캠프에 참여한 후, 헬스장에 가려 합니다.
 병: 갑이 이야기한 총학생회 회의를 마친 후, 같은 대학 축구 동아리 회원 을을 끌고 축구를 하려 합니다.

- ① 갑이 속한 이익 사회의 개수는 을이 속한 공식적 사회화 기관의 개수와 같다.
- ② 병이 속한 비공식 조직의 개수는 갑이 속한 공동 사회의 개수와 같다.
- ③ 을이 속한 자발적 결사체의 개수는 갑과 병이 함께 속한 2차적 사회화 기관의 개수보다 많다.
- ④ 을과 병이 함께 속한 사회 집단의 개수는 갑이 속한 1차적 사회화 기관의 개수와 같다.
- ⑤ 갑과 을이 함께 속한 자발적 결사체와 병이 속한 비공식적 사회화 기관은 모두 존재하지 않는다.

다음 자료에 대한 설명으로 옳은 것은?

웹드라마 '나락도 락이다' 시나리오	
[장면 1]	서울 외곽, 지하에 숨은 작은 카페. 독서 모임에 들락거리며 공시생 갑이 문제집과 소설책을 든 채로 들어오다, 운동복 차림으로 셀카를 찍는 헬스 동호회 회원 을과 마주친다. 조심스레 서로의 현재를 묻던 중, 갑의 대학 동기인 병이 카페에 들어온다.
[장면 2]	을과 어색하게 인사를 나누는 병, 서로의 이름을 교환하고 말을 놓을 새도 없이, 같은 편입 스튜디오에서 활동하는 정과 무가 나타난다. 인디밴드에서 활동하기에 기타를 멘 채 비에 젖은 전단지들 들고 있는 무의 모습에 순간 병씨는 갑과 을.
[장면 3]	같은 시민 단체에서 활동하는 을과 정에 대한 내용을 필두로, 원래 친했던 것처럼 이야기를 나누는 다섯 사람. 하지만 이는 각자의 신세 한탄에 가깝다. 그러던 중 나락에 빠진 김에 자신의 '나락 밴드'에 들어오라고 모두에게 제의하는 무. 모두들 이를 받아들인다.

- ① [장면 1]에 나타난 자발적 결사체의 개수는 [장면 2]에 나타난 공식적 사회화 기관의 개수와 같다.
- ② [장면 3]에 나타난 사회 집단의 개수는 정이 속한 비공식적 사회화 기관의 개수와 같다.
- ③ 갑이 속한 이익 사회의 개수는 을이 속한 2차적 사회화 기관의 개수보다 많다.
- ④ 병이 속한 공식적 사회화 기관의 개수는 무가 속한 사회 집단의 개수와 같다.
- ⑤ 갑과 정이 함께 속한 비공식 조직과 을과 정이 함께 속한 공식 조직은 모두 존재하지 않는다.

다음 자료에 대한 분석으로 옳은 것은? (단, A~E는 각각 □□기업, □□기업 내 테니스 동아리, □□기업 노동조합, △△대학교, △△대학교 밴드 중 하나임.)

<표 1>은 갑~무 중 사회 집단 및 사회 조직 A~E에 속한 사람의 수를, <표 2>는 갑~무가 사회 집단 및 사회 조직 A~E에 속한 양상을 나타낸 것이다.

<표 1> 갑~무 중 A~E에 속한 사람의 수 (단위:명)

구분	A	B	C	D	E
사람 수	1	2	1	2	3

<표 2> 갑~무가 A~E에 속한 양상

- □□기업에 속한 사람은 △△대학교에 속한 사람보다 많으며, 전자와 후자는 중복되지 않음.
- A~E 중 비공식 조직에 속한 사람은 갑, 병뿐임.
- A~C 중 공식적 사회화 기관에 속한 사람은 갑, 정뿐임.
- B~E 중 병이 속한 사회 집단의 개수는 갑 또는 을이 속한 사회 집단의 개수와 같음.

* 주어진지 않은 사회 집단에 대해서는 고려하지 않음.

- ① A는 D와 달리 공식 조직 내부에 속한 사회 집단이다.
- ② C~E 중 공식적 사회화 기관이 존재한다.
- ③ 갑이 속한 이익 사회의 개수는 무가 속한 공식 조직의 개수보다 많다.
- ④ 을이 속한 2차적 사회화 기관의 개수는 정이 속한 공식적 사회화 기관의 개수와 같다.
- ⑤ 병이 속한 비공식 조직의 개수는 을과 무가 함께 속한 자발적 결사체의 개수와 같다.

049

다음 자료에 대한 설명으로 옳은 것은? (단, A, B는 각각 관료제, 탈관료제 중 하나임.)

구분	A	B
성과보다 경력에 따른 신분 보장을 중시하는가?	예	아니오
(가)	예	예

- ① A는 B에 비해 조직 운영의 유연성이 높다.
- ② A는 B에 비해 다품종 소량 생산 체제가 지배적인 사회에 적합하다.
- ③ B는 A에 비해 하향식 의사 결정 방식이 지배적이다.
- ④ B는 A에 비해 업무의 전문화 및 세분화를 강조한다.
- ⑤ '효율적인 조직 운영을 목표로 하는가?'는 (가)에 들어갈 수 있다.

050

A, B의 일반적인 특징에 대한 설명으로 옳은 것은? (단, A, B는 각각 관료제, 탈관료제 중 하나임.)

근대 산업 사회는 모든 행위의 연속이 조직체의 목표에 기능적으로 연관되도록 명백하게 규정된 활동 유형을 지닌 A를 통해 합리적이고 효율적으로 사회 발전을 이룰 수 있었다. 그러나 현대 사회에서 A는 전반적인 효율성의 부산물로 나타나는 비효율성이라는 한계를 드러냈으며, 이러한 자기 오류에 빠진 A의 대안으로 제안된 새로운 사회 조직 운영 원리가 바로 B이다.

- ① A는 인간 소외 문제를 해결하기 위해 등장하였다.
- ② B는 목적 전치 현상을 해결하기에 용이하다.
- ③ A는 B에 비해 조직 구성원의 재량권 및 자율성이 높다.
- ④ B는 A에 비해 연공서열에 따른 보상 체계를 중시한다.
- ⑤ A와 B는 모두 하향식 의사 결정 방식이 지배적이다.

053

일탈 이론 A~C에 대한 설명으로 옳은 것은? (단, A~C는 각각 머튼의 아노미 이론, 차별적 교제 이론, 낙인 이론 중 하나임.)

‘A는 B, C와 달리 일탈 행동을 규정하는 객관적인 기준이 존재하지 않는다고 본다.’는 참이다. 또한 ‘A, C는 B와 달리 타인과의 상호 작용 과정을 중심으로 일탈 행동을 설명한다.’는 거짓이다.

- ① A는 2차적 일탈이 발생하는 과정에 초점을 맞춘다.
- ② B는 문화적 목표와 제도적 수단의 괴리를 일탈 행동의 원인으로 본다.
- ③ C는 일탈 행동에 대한 우호적 가치관의 학습을 일탈 행동의 원인으로 본다.
- ④ A는 B와 달리 정상 집단과의 교류를 일탈 행동의 해결 방안으로 제시한다.
- ⑤ B는 C와 달리 최초 일탈보다 일탈 행동의 반복에 초점을 맞춘다.

054

다음 자료에 대한 설명으로 옳은 것은? (단, A~C는 각각 머튼의 아노미 이론, 차별적 교제 이론, 낙인 이론 중 하나임.)

구분	A	B	C
타인과의 상호 작용 과정을 중심으로 일탈 행동을 설명하는가?	㉠	㉡	㉢
일탈 행동을 규정하는 객관적인 기준이 존재한다고 보는가?	㉣	㉤	㉥

* ㉠, ㉣은 각각 ‘예’, ‘아니오’ 중 하나임.

- ① ㉠은 ‘아니오’, ㉣은 ‘예’이다.
- ② A는 B와 달리 차별적인 제재를 일탈 행동의 원인으로 본다.
- ③ B는 C와 달리 문화적 목표와 제도적 수단의 괴리를 일탈 행동의 원인으로 본다.
- ④ C는 A와 달리 일탈 행동 자체보다 그에 대한 사회적 반응에 주목한다.
- ⑤ A, B는 C와 달리 타인과의 상호 작용을 통해 일탈 행동을 학습하는 과정을 중시한다.

다음 자료에 대한 설명으로 옳은 것은?

교사: 뒤르켐의 아노미 이론, 머튼의 아노미 이론, 차별 교제 이론, 낙인 이론 중 하나를 선택하여 전과자의 재범률이 높은 현상에 대해 설명해 주십시오.

갑: 우리 사회는 사회 구성원들에게 하나의 지향점을 제시합니다. 전과자는 전과가 없는 사람들보다 이러한 지향점을 달성하기 위한 합법적 수단을 마련하기 어려우므로 다시 범죄를 저지르는 것입니다.

을: 우리는 범죄자들에게 교도소 수감 기간 중 반성과 교화를 기대하나, 수감자들은 오히려 다른 수감자들과의 교류를 통해 범죄 수법과 범죄에 대한 우호적 가치관을 학습하여 출소 후 다시 범죄를 저지르는 것입니다.

병: 범죄의 가볍고 무거움과 상관없이, 유죄를 인정받은 사람은 주변으로부터 범죄자 취급을 받아 사회적으로 고립됩니다. 그 결과 형성된 스스로에 대한 부정적인 인식이 다시금 범죄를 저지르게 하는 것입니다.

- ① 갑의 관점은 을의 관점과 달리 정상 집단과의 교류를 일탈 행동의 해결 방안으로 제시한다.
- ② 을의 관점은 병의 관점과 달리 차별적인 사회적 제재를 일탈 행동의 원인으로 본다.
- ③ 병의 관점은 갑의 관점과 달리 문화적 목표와 제도화된 수단의 괴리를 일탈 행동의 원인으로 본다.
- ④ 갑, 을의 관점은 병의 관점과 달리 일탈 행동을 규정하는 객관적인 기준이 존재한다고 본다.
- ⑤ 을, 병의 관점은 갑의 관점과 달리 사회 구조적 관점에서 일탈 행동을 설명한다.

일탈 이론 A~D에 대한 설명으로 옳은 것은? (단, A~D는 각각 뒤르켐의 아노미 이론, 머튼의 아노미 이론, 차별적 교제 이론, 낙인 이론 중 하나임.)

교사: 일탈 행동을 하게 된 가상의 행위자에 대한 이야기를 만들어 보세요.

<1 모둠> 범죄자인 친구와 함께 살면서 범죄에 대한 호의적 태도를 갖게 된 갑은 결국 범죄 행위에 가담하여 수감 생활을 하게 되었습니다. 이후 갑은 주변 사람들로부터 사회의 낙오자 취급을 받게 되어 결국 자포자기의 심정으로 다시금 범죄를 저지르게 되었습니다.

<2 모둠> 경제적 성공을 강요하는 사회에서 살던 을은 합법적인 방법으로는 부자가 될 수 없어 범죄를 저지르게 되었습니다. 이후 을은 교도소에 수감되었고, 그곳에서 만난 다른 재소자에게 새로운 범죄 기술을 배워 출소 후 다시금 범죄를 저지르게 되었습니다.

<3 모둠> 전쟁이 끝난 후 급격하게 변화한 사회 규범과 전통적 가치관의 충돌로 인한 혼란으로 방황하던 병은 자신이 범죄를 저지르는 줄도 모른 채 범죄를 저지르게 되었고, 이후 사람들로부터 받은 범죄자로서의 취급에 낙담한 그는 다시금 범죄를 저지르게 되었습니다.

교사: 갑의 일탈 행동은 A와 B, 을의 일탈 행동은 B와 C, 병의 일탈 행동은 A와 D를 통해 설명할 수 있네요.

- ① A와 달리 B는 일탈자의 부정적 자아가 형성되는 과정에 주목한다.
- ② B와 달리 C는 일탈 행동에 대한 대책으로 일탈자와의 접촉 차단을 강조한다.
- ③ C와 달리 D는 문화적 목표와 제도적 수단 간 괴리를 일탈 행동의 원인으로 본다.
- ④ D와 달리 A는 일탈 행동에 대한 대책으로 낙인에 대한 신중한 접근을 강조한다.
- ⑤ A, C는 B, D와 달리 사회 구조적 관점에서 일탈 행동을 설명한다.

다음 자료에 대한 옳은 설명만을 <보기>에서 있는 대로 고른 것은? (단, A~C는 각각 머튼의 아노미 이론, 차별적 교제 이론, 낙인 이론 중 하나임.)

〈학생별 학습 과제〉			
학생	과제		
갑	A의 관점에서 주어진 질문에 옳게 답변하기		
을	B의 관점에서 주어진 질문에 옳게 답변하기		
병	C의 관점에서 주어진 질문에 옳게 답변하기		
〈과제 수행 및 채점 결과〉			
구분	학생		
	갑	을	병
문화적 목표와 제도적 수단 간 괴리를 일탈의 원인으로 보는가?	예	예	아니오
일탈에 대한 대책으로 일탈자와의 접촉 차단을 강조하는가?	아니오	아니오	아니오
차별적인 사회적 제재를 일탈의 원인으로 보는가?	예	아니오	예
(가)	아니오	예	아니오
점수	2점	3점	1점

* 교사는 답변별로 채점하고 답변 하나당 맞으면 1점, 틀리면 0점을 부여함.

〈보 기〉

- ㄱ. A는 B와 달리 일탈을 규정하는 객관적인 기준은 존재하지 않는다고 본다.
- ㄴ. B는 C와 달리 일탈의 대책으로 문화적 목표 달성을 위한 제도적 수단의 마련을 강조한다.
- ㄷ. C는 A와 달리 사회 구조적 관점에서 일탈 행동을 설명하지 않는다.
- ㄹ. ‘최초 일탈보다 일탈 행동의 반복에 초점을 두는가?’는 (가)에 들어갈 수 있다.

- ① ㄱ, ㄴ ② ㄱ, ㄷ ③ ㄴ, ㄹ
- ④ ㄱ, ㄴ, ㄹ ⑤ ㄴ, ㄷ, ㄹ

다음 자료에 대한 설명으로 옳은 것은? (단, A~C는 각각 머튼의 아노미 이론, 차별 교제 이론, 낙인 이론 중 하나임.)

〈일탈 행동 사례〉

경제적 성공을 거두는 것이 선이자 인생의 최우선 가치라는 인식이 공유되는 국가에서 태어난 갑은 경제적 성공을 위해 밤낮으로 일했으나, 번번이 취업에 실패해 경제적으로 궁핍해졌다. 이러한 상황을 탈출하고자 갑은 절도를 저질렀고, 결국 발각되어 교도소에 수감되었다. 출소 후 갑은 일을 구하고자 하였으나 범죄를 이어 온 자신의 삶에서 얻은 지식으로는 불법적인 것 외에는 할 수 없다는 사실을 깨닫고 다시금 범죄에 뛰어들게 되었다.

군 의무 복무 중 전장이 일어나 수 년간 파병 생활을 이어 나가야만 했던 을은 제대 이후 사회에서 살 길을 찾지 못해 방황하였다. 그러던 중 을은 온라인 불법 도박을 이용해 돈을 벌던 고등학교 동창을 만나게 되었고, 그의 말에 넘어가 불법 도박 총판 일을 시작하게 되었으나, 얼마 지나지 않아 검거당해 전과가 남게 되었다.

〈교사의 해설〉

제시된 사례에서 갑의 일탈 행동은 A를 통해 설명할 수 있으며, 을의 일탈 행동은 B가 아니라 C를 통해 설명할 수 있습니다.

- ① A는 B와 달리 1차적 일탈이 2차적 일탈로 이어지는 과정에 주목한다.
- ② B는 C와 달리 타인과의 상호 작용이 일탈의 학습에 미치는 영향에 주목한다.
- ③ C는 A와 달리 타인과의 상호 작용이 일탈에 미치는 영향에 주목한다.
- ④ A는 B, C와 달리 일탈에 대한 대책으로 일탈자와의 접촉 차단을 강조한다.
- ⑤ C는 A, B와 달리 일탈에 대한 대책으로 낙인에 대한 신중한 접근을 강조한다.

다음 자료에 대한 설명으로 옳은 것은? (단, A~D는 각각 뒤르켐의 아노미 이론, 머튼의 아노미 이론, 차별적 요제 이론, 낙인 이론 중 하나임.)

점수	질문	답변		
		갑	을	병
1점	A는 B와 달리 일탈 행동의 대책으로 사회 규범의 통제력 회복을 강조하는가?	아니요	예	예
2점	D는 C와 달리 차별적인 사회적 제재를 일탈 행동의 원인으로 보는가?	아니요	아니요	예
2점	C는 B와 달리 일탈 행동을 규정하는 객관적 기준이 존재한다고 보는가?	㉠	아니요	아니요
3점	B는 D와 달리 타인과의 상호작용이 일탈 행동에 미치는 영향에 주목하는가?	아니요	아니요	아니요
채점 결과		4점	5점	3점

* 교사는 답변별로 각각 채점하고, 옳은 답변에는 각 질문에 배정된 점수를, 옳지 않은 답변에는 0점을 부여함.

- ① ㉠에 들어갈 것은 '예'이다.
- ② A는 B와 달리 정상 집단과의 교류를 일탈 행동의 해결 방안으로 제시한다.
- ③ B는 C와 달리 일탈 행동이 학습으로 인해 발생한 결과임을 강조한다.
- ④ C는 D와 달리 문화적 목표와 제도화된 수단 간의 괴리를 일탈 행동의 원인으로 본다.
- ⑤ D는 A와 달리 아노미로 인해 일탈 행동이 발생한다고 본다.

다음 자료에 대한 설명으로 옳은 것은? (단, A~D는 각각 뒤르켐의 아노미 이론, 머튼의 아노미 이론, 차별적 요제 이론, 낙인 이론 중 하나임.)

교사: 아래 사례에 대해 일탈 이론 A~D를 적절하게 적용해 보세요.

일탈 행동 사례	
갑	을
대기업 구조조정으로 수년간 다니던 회사를 그만두게 된 갑은 갑작스런 실직 이후 삶의 방향을 잃고 방황하게 되었다. 갑은 빠르게 변화하는 사회 속에서 자리를 잡지 못하던 와중, 동창회에서 만난 불법 도박 사이트 운영자들과 어울리기 시작했다. 곧 그들을 따라 갑은 불법 도박에 점차 더 깊이 관여하게 되었고, 이로서 얻은 수익을 통해 생활비를 마련하게 되었다. 그는 "요즘은 정직하게 살아선 먹고살기 힘들다"는 말에 점점 공감하게 되었고, 결국 사이트 관리자 역할까지 맡게 되었다.	을은 가난한 가정에서 자라났음에도 불구하고, 성공한 사람이 되어야 한다는 사회의 기대를 어릴 때부터 내면화하였다. 그러나 그는 학벌도, 자본도 부족했기에 성공을 위한 도전을 연달아 실패하게 되었고, 결국 그는 사기 행위를 통해 빠르게 돈을 벌고자 결심하였다. 마음 한 켠 죄책감은 "이렇게라도 성공해야 사람 대접받는다"는 생각으로 합리화되었고, 이후 경찰에 체포되어 '사기꾼'이라는 낙인을 받고 사회에서 배제되자, 을은 "이미 망가진 인생"이라며 더 대담한 범죄에 손을 대기 시작했다.

학생: ㉠ 회사를 그만둔 직후 갑의 일탈 행동에는 B를, ㉡ 동창회에 나간 이후 갑의 일탈 행동에는 D를, ㉢ 경찰에 체포되기 전 을의 일탈 행동에는 C를, ㉣ 체포된 후 을의 일탈 행동에는 A를 적용할 수 있습니다.

교사: 네 가지 일탈 이론 중 한 가지를 잘못 적용해서 설명했네요.

- ① 일탈 이론을 잘못 적용한 설명은 ㉢이다.
- ② A는 B와 달리 차별적인 사회적 제재를 일탈 행동의 원인으로 본다.
- ③ B는 C와 달리 문화적 목표와 제도적 수단 간 괴리를 일탈 행동의 원인으로 본다.
- ④ C는 D와 달리 정상 집단과의 교류를 일탈 행동의 대책으로 제시한다.
- ⑤ D는 A와 달리 타인과의 상호작용을 통해 일탈 행동이 발생하는 양상에 주목한다.

061

다음 글에 나타난 문화의 속성에 대한 옳은 설명만을 <보기>에서 고른 것은?

건강 염려증 현상은 우리가 살아가는 사회의 광범위한 분야에 영향을 주고 있다. 일부 현대인 사이에서는 신체적·심리적 안정에 도움이 될 수 있는 것이라면 무엇이든 하는 것이 당연시되고 있으며, 이로 인해 영양제나 유기농 식품 관련 산업과 식이 요법 등이 소개된 온라인 채널들이 증가하고 있다. 또한 심리적 안정을 찾기 위해 정신 건강 관련 진료를 받는 의료 산업 분야 역시 급부상하고 있다.

<보 기>

- ㄱ. 문화는 한 사회의 구성원 다수가 공통적으로 가지고 있는 생활 양식이다.
- ㄴ. 문화는 시간이 흐르면서 그 형태나 내용, 의미가 변화하는 생활 양식이다.
- ㄷ. 문화는 부분이 아닌 전체로서 의미를 갖는 생활 양식이다.
- ㄹ. 문화는 사회의 다른 구성원과의 상호 작용을 통해 후천적으로 학습되는 생활 양식이다.

- ① ㄱ, ㄴ ② ㄱ, ㄷ ③ ㄴ, ㄷ ④ ㄴ, ㄹ ⑤ ㄷ, ㄹ

062

다음 자료에 대한 설명으로 옳은 것은? (단, A~C는 각각 공유성, 변동성, 전체성 중 하나임.)

문화의 속성	사례
A	1990년대 후반 젊은이들 사이에서 유행했던 당시 패션이 사라지고 30년이 지나 새로운 패션이 유행하고 있음.
B	세탁기의 발명은 가사 노동 방식, 여성의 사회 진출, 가옥 구조 등에 연쇄적 변화를 가지고 왔음.
C	(가)

- ① A는 문화가 한 사회 구성원 간 원활한 상호 작용의 토대가 됨을 보여 준다.
- ② B는 문화가 세대 간 전승을 통해 새로운 요소가 추가되면서 점점 풍부해짐을 보여 준다.
- ③ C는 문화가 사회의 다른 구성원과의 상호 작용을 통해 후천적으로 학습됨을 보여 준다.
- ④ ‘우리나라 사람들이 생일에 미역국을 먹는 것을 당연시하는 문화’는 A보다 C로 설명하기 적합하다.
- ⑤ ‘중세 시대에 허리춤에 칼을 차고 다니던 기사들은 상대방을 만났을 때 칼을 뽑지 않겠다는 의미로 손을 내밀어 악수하는 것을 자연스럽게 여김’은 (가)에 들어갈 수 없다.

다음 두 사례에서 공통적으로 부각된 문화의 속성에 대한 진술로 가장 적절한 것은?

- A 국가에서는 누군가가 성인임을 인정받으려면 발에 줄을 매달고 높은 곳에서 뛰어내림으로서 용기를 증명하는 것이 당연하게 여겨진다.
- B 국가에서 공유되는 조개 목걸이와 팔찌는 타 국가 거주민에게는 평범한 장신구로 보이지만, 해당 국가 거주민에게는 사회적 위세를 과시하는 상징물로 여겨진다.

- ① 고정되어 있지 않고 지속적으로 변화한다.
- ② 문화 요소들이 관련을 맺으며 하나의 체계를 만든다.
- ③ 구성원 간에 사고와 행동의 동질성을 형성하게끔 유도한다.
- ④ 새로운 삶의 방식들이 더해짐에 따라 문화 요소들이 풍부해진다.
- ⑤ 한 문화 요소의 변화가 다른 문화 요소의 연쇄적 변화를 가져온다.

밑줄 친 ㉠~㉥에 대한 설명으로 옳은 것은?

일본에는 신년이 되면 신사를 찾아가 ㉠ '오미쿠지'를 뽑는 문화가 있다. ㉡ 오미쿠지는 한 해의 운세를 점쳐보는 종이 쪽지로, 사람들은 ㉢ 신사 내 설치된 상자에서 막대기나 쪽지를 하나 뽑고, 거기에 적힌 글귀를 통해 그 해의 전반적인 운세를 점친다. 최근에는 ㉣ 오미쿠지의 내용도 시대 흐름에 맞게 달라지고 있는데, 예전에는 전통적인 문구가 주를 이뤘다면 최근에는 영어로 적힌 오미쿠지, 디지털 화면으로 운세를 보여주는 오미쿠지까지 등장했다. 이러한 현상의 뿌리에는 ㉤ 사람들이 가진 삶을 통제하고 싶어 하는, 그리고 불확실한 미래에 대한 나름의 질서를 부여하고자 하는 본능이 깔려 있다.

- ① ㉠의 '문화'는 좁은 의미로 사용되었다.
- ② ㉡은 비물질문화에 해당한다.
- ③ ㉢은 문화가 한 사회의 구성원 다수가 공통적으로 가지고 있는 생활 양식임을 보여 준다.
- ④ ㉣은 문화가 세대 간 전승을 통해 더욱 풍부해짐을 보여 준다.
- ⑤ ㉤은 문화가 여러 요소들이 유기적으로 연결된 하나로서의 총체임을 보여 준다.

다음 자료에 대한 설명으로 옳은 것은?

<단원 평가 과제>

성명: ○○○

* '자전거'를 주제로 한 서로 다른 문화의 속성이 부각된 5가지 사례에 각 문화의 속성 5가지 중 하나를 적합하게 연결하기

번호	사례	문화의 속성
1	시간이 지남에 따라 자전거에 전동 보조, 라이트, 내비게이션 등의 기능이 추가됨	A
2	(가)	공유성
3	아이들은 성장해 나가면서 부모님이나 선생님 등에게 자전거를 타는 방법을 배워 나감	B
4	(나)	축적성
5	과거와 달리 현재에는 외발자전거를 타고 다니는 사람을 쉽게 보기 어려워짐	C

교사의 평가: 세 가지 사례에만 부각된 문화의 속성을 적절하게 연결함.

- ① '자전거의 보급은 환경 친화적인 삶의 방식의 유행과 밀접하게 연관됨'은 (가)에 들어갈 수 있다.
- ② '전동 자전거에 대한 규제 강화에 따라 헬멧을 지참하고 다니는 사람들이 많아짐'은 (나)에 들어갈 수 있다.
- ③ A는 B와 달리 문화는 후천적 학습에 의해 향유하게 되는 생활 양식임을 의미한다.
- ④ B는 C와 달리 문화는 시간이 지나며 그 형태나 구성 요소, 의미가 변하는 생활 양식임을 의미한다.
- ⑤ C는 A와 달리 한 사회의 문화를 구성하는 요소들은 상호 유기적으로 연관을 맺고 있음을 의미한다.

다음 사례에 부각된 문화의 속성만을 <보기>에서 있는 대로 고른 것은?

갑국에서 과학 기술의 발달로 인해 촉진된 공업화와 도시화는 전통적인 사회 구조, 특히 친족 문화가 무너지는 데 큰 역할을 하였다. 과거 근거리의 농촌 지역에서 살던 친족들이 도시로 감에 따라 대부분 흩어지면서 과거와 같은 끈끈한 친족 문화도 사라졌으며, 시골에서 흔히 볼 수 있었던 전통적인 무속 신앙도 사라졌다.

— <보 기> —

ㄱ. 문화는 시간이 흐르면서 그 형태나 의미가 변화한다.
 ㄴ. 한 사회의 문화를 구성하는 요소들은 상호 유기적으로 관련을 맺는다.
 ㄷ. 문화는 후천적인 학습에 의해 향유되는 생활 양식이다.

- ① ㄱ ② ㄴ ③ ㄷ ④ ㄱ, ㄴ ⑤ ㄴ, ㄷ

다음 자료에 대한 설명으로 옳은 것은? (단, A~E는 각각 공유성, 전체성, 학습성, 축적성, 변동성 중 하나임.)

교사: 문화의 속성 5가지를 모둠별로 서로 다르게 한 가지씩 배정하였습니다. 각 모듬은 게임과 관련하여 배정 받은 속성이 부각된 사례를 발표해 주세요.

<1 모듬> PC방을 찾는 사람이 줄고 대신 스마트폰으로 게임을 하는 사람이 많아진 것은 A가 부각된 사례입니다.

<2 모듬> 특정 게임을 잘 하는 법을 친구에게 배워 실력을 늘리고 더 높은 랭크에 위치하는 것은 B가 부각된 사례입니다.

<3 모듬> 기존의 게임에 증강 현실, AI 등의 기술이 새롭게 추가되어 즐길거리가 늘어나는 것은 C가 부각된 사례입니다.

<4 모듬> 가상 현실을 체험할 수 있는 기기가 보급됨에 따라 신규 게임 중 이를 활용하는 게임의 비율이 높아지는 것은 D가 부각된 사례입니다.

학생: 선생님, <4 모듬>이 발표한 사례는 D가 아니라 E가 부각된 것 아니에요?

교사: <4 모듬>이 발표한 사례는 기기가 보급됨에 따라서 비율이 높아졌다고 했기 때문에 E가 부각된 게 맞으며, 비율이 이전보다 높아졌다는 점에서 D가 아닌 A도 나타났다고 봐야 합니다. D가 부각된 사례는 정작 <2 모듬>이 발표했네요. ① 한 개의 모듬을 제외하면 모두 옳지 않게 발표했습니다.

- ① ①은 <3 모듬>이다.
- ② A는 B와 달리 문화가 세대 간 전승되며 더욱 발전되고 풍부해지는 것을 의미하는 속성이다.
- ③ B는 C와 달리 문화가 상징을 통해 후천적으로 학습된다는 것을 의미하는 속성이다.
- ④ C는 D와 달리 문화가 한 사회 구성원의 공통된 생활양식이라는 것을 의미하는 속성이다.
- ⑤ D는 E와 달리 문화의 각 요소들이 유기적으로 연결되어 영향을 주고받는다는 것을 의미하는 속성이다.

다음 자료에 대한 옳은 설명만을 <보기>에서 있는 대로 고른 것은? (단, A~E는 각각 공유성, 전체성, 학습성, 축적성, 변동성 중 하나임.)

<단원말 평가 문항>

※ 제시된 1~3번 사례에 대해 문화의 속성 A~E가 부각되었으면 해당 칸에 ○, 부각되지 않았으면 해당 칸에 ×를 표기하시오.

<사례>

1번	사람의 몸과 정신이 연결되어 있다는 믿음을 가졌던 전통 사회에서는 질병의 원인을 누군가의 원한이나 주술이라고 생각했기 때문에 아픈 사람을 굿으로 치료하려고 하였다. 반면, 질병의 원인을 과학에 근거하여 바이러스나 세균에서 찾는 오늘날에는 누구나 아픈 경우에 병원에 가서 치료하려고 한다.
2번	판소리는 북장단에 맞춰 소리, 아니리, 발림을 섞은 전통 민속악이다. 최근에 판소리는 소리꾼의 소리에 베이스, 드럼, 댄스를 더한 퓨전 음악으로 재탄생했다. 판소리의 이야기가 갖는 서사성은 유지하면서도 중독성 강한 리듬과 흥겨운 춤이 더해져 판소리와 랩의 경계를 넘나드는 새로운 장르로 발전하고 있다.
3번	이앙기 등 농기계를 이용한 농법은 기존 농법을 대체하였고, 농업인들은 속속들이 다른 직업을 찾아 사라졌다. 주민들이 함께 새참을 먹고 모를 심는 문화는 어느새 상호 교류 없이 각자도생을 추구하는 문화로 바뀌었으며, 사라진 공동체 의식의 빈자리는 어느새 개인주의와 고립주의가 차지하게 되었다.

<답안 및 채점 결과>

구분	A	B	C	D	E	채점 결과
1번	×	○	×	○	×	13점
2번	○	×	×	○	○	
3번	×	×	×	×	○	

* 교사는 표기별로 채점하고 표기 하나당 맞으면 1점, 틀리면 0점을 부여함.

<보 기>

ㄱ. 1번 사례에 대해 틀리게 표기한 속성과 2번 사례에 대해 틀리게 표기한 속성은 다르다.

ㄴ. 문화는 상징을 통해 후천적으로 학습됨을 의미하는 속성은 A가 아닌 C이다.

ㄷ. 문화는 유기적으로 연결된 총체로서 존재함을 의미하는 속성은 B가 아닌 E이다.

ㄹ. 문화는 시간이 흐르면서 그 형태나 내용이 변화함을 의미하는 속성은 D이다.

- ① ㄱ, ㄴ
- ② ㄱ, ㄷ
- ③ ㄴ, ㄹ
- ④ ㄱ, ㄴ, ㄹ
- ⑤ ㄴ, ㄷ, ㄹ

069

다음 자료에 대한 설명으로 옳은 것은? (단, A~C는 각각 자문화 중심주의, 문화 상대주의, 문화 상대주의 중 하나임.)

구분	A	B	C
문화를 이해가 아닌 평가의 대상으로 보는가?	㉠	㉡	㉢
국수주의로 변질될 수 있다는 비판을 받는가?	㉣	㉤	㉥

* ㉠, ㉡은 각각 '예', '아니요' 중 하나임.

- ① ㉠은 '예', ㉡은 '아니요'이다.
- ② A는 B와 달리 문화 제국주의로 변질될 수 있다는 비판을 받는다.
- ③ B는 C와 달리 문화의 다양성 보존에 기여한다.
- ④ C는 A와 달리 자기 문화의 가치를 폄하한다.
- ⑤ C는 A, B와 달리 각 사회의 문화가 나름대로의 가치를 지닌다고 본다.

070

갑~병의 문화 이해 태도에 대한 설명으로 옳은 것은?

갑: A국에 여행을 갔는데 신호등이 없어 사람들이 자유롭게 도로를 건너는 것을 보고 충격을 받았습니다. A국은 하루빨리 우리나라의 교통 문화를 본받아야 합니다.
 을: A국의 교통 문화는 우리나라의 것과 비교했을 때 자유를 중시한다는 점에서 훨씬 우월합니다. 우리도 자유를 중시하는 A국의 교통 문화를 수용해야 합니다.
 병: A국은 A국대로, 우리는 우리대로 오랫동안 유지해 온 나름의 교통 체계가 존재하고, 이는 각 사회의 실정에 맞게 정착된 것이므로 모두 존중이 필요합니다.

- ① 갑의 태도는 타 문화의 수용에 적극적이다.
- ② 을의 태도는 문화의 다양성 보존에 유리하다.
- ③ 병의 태도는 문화를 이해가 아닌 평가의 대상으로 본다.
- ④ 갑의 태도는 을의 태도와 달리 자문화의 정체성 보존에 유리하다.
- ⑤ 을의 태도는 병의 태도와 달리 타 문화를 제3자의 객관적 시각으로 이해하려 한다.

071

다음 자료에 대한 설명으로 옳은 것은? (단, A~C는 각각 자문화 중심주의, 문화 상대주의, 문화 상대주의 중 하나임.)

- ‘문화를 평가가 아닌 이해의 대상으로 바라보는가?’는 A와 B를 구분할 수 없는 질문이다.
- ‘문화 제국주의로 변질될 수 있다는 비판을 받는가?’는 B와 C를 구분할 수 있는 질문이다.
- (가)는 A와 C를 구분할 수 있는 질문이다.

- ① ‘특정 사회의 문화를 기준으로 자문화를 낮게 평가하는가?’는 (가)에 들어갈 수 있다.
- ② A는 B와 달리 다른 사회와 마찰을 초래할 가능성이 높다.
- ③ B는 C와 달리 문화 간에 우열이 존재하지 않는다고 본다.
- ④ C는 A와 달리 국수주의로 인해 국제적 고립을 초래할 수 있다.
- ⑤ A, C는 B와 달리 문화적 다양성을 약화시킬 위험이 있다는 비판을 받는다.

072

다음 자료에 대한 옳은 설명만을 <보기>에서 있는 대로 고른 것은? (단, A~C는 각각 자문화 중심주의, 문화 상대주의, 문화 상대주의 중 하나임.)

질문 (가)에 대한 A와 B의 응답은 서로 다르고, B와 C의 응답은 서로 같다. 단, 질문에 대한 응답은 ‘예’ 또는 ‘아니오’이다.

- <보 기> —
- ㄱ. A가 문화 상대주의라면, ‘타 문화를 일방적으로 추종하는가?’는 (가)에 들어갈 수 있다.
 - ㄴ. B가 문화 상대주의라면, ‘다른 사회와 마찰을 초래할 가능성이 낮은가?’는 (가)에 들어갈 수 없다.
 - ㄷ. C가 자문화 중심주의라면, ‘중국의 중화사상을 예시로 들 수 있는가?’는 (가)에 들어갈 수 없다.
 - ㄹ. ‘문화를 이해가 아닌 평가의 대상으로 보는가?’가 (가)에 들어간다면, A는 문화 상대주의이다.

- ① ㄱ, ㄴ ② ㄴ, ㄷ ③ ㄷ, ㄹ
 ④ ㄱ, ㄴ, ㄷ ⑤ ㄴ, ㄷ, ㄹ

다음 자료에 대한 설명으로 옳은 것은? (단, A~C는 각각 자문화 중심주의, 문화 상대주의, 문화 상대주의 중 하나임.)

교사: 문화 이해 태도 A~C 중 한 가지를 서로 다르게 선택한 뒤, 각 태도의 특징 한 가지와 비판점 한 가지를 제시해 주세요.

갑: A의 특징으로는 자기 문화를 타문화보다 무조건적으로 우수한 것으로 여긴다는 것을 들 수 있으며, 비판점으로는 국수주의에 빠져 국제적 고립을 초래할 수 있다는 것을 들 수 있습니다.

을: B의 특징으로는 다른 문화의 우수성을 내세워 자기 문화의 가치를 낮게 평가한다는 것을 들 수 있으며, 비판점으로는 타 문화에 대한 이해와 수용을 어렵게 한다는 것을 들 수 있습니다.

병: C의 특징으로는 문화 간의 우열이 존재한다고 보는 것을 들 수 있으며, 비판점으로는 극단적으로 치우칠 경우 인류의 보편적 가치를 훼손할 우려가 존재한다는 것을 들 수 있습니다.

교사: 한 명은 모두 적절히, ① 한 명은 비판점을 적절하지 않게, 한 명은 모두 적절하지 않게 제시했네요.

- ① ①은 병이다.
- ② A는 B와 달리 다른 문화와 마찰을 초래할 가능성이 낮다.
- ③ B는 C와 달리 다른 문화를 일방적으로 추종한다.
- ④ C는 A와 달리 문화를 이해가 아닌 평가의 대상으로 본다.
- ⑤ A는 B, C와 달리 모든 문화가 동등한 가치를 가지고 있다고 본다.

다음 자료에 대한 설명으로 옳은 것은? (단, A~C는 각각 자문화 중심주의, 문화 상대주의, 문화 상대주의 중 하나임.)

각각 두 문장으로 구성된 ㉠~㉣ 모두에서 한 가지 문장은 옳고, 한 가지 문장은 옳지 않다.

㉠	1번	A는 C와 달리 문화 간의 우열이 존재하지 않는다고 본다.
	2번	B는 A와 달리 자기 문화를 타문화보다 무조건적으로 우수한 것으로 여긴다.
㉡	1번	C는 B와 달리 국수주의로 인해 국제적 고립을 초래할 수 있다.
	2번	A, C는 B와 달리 문화를 평가가 아닌 이해의 대상으로 본다.
㉢	1번	B, C는 A와 달리 타 문화를 당사자의 시각으로 이해하려 하지 않는다.
	2번	(가)

- ① 'B는 C와 달리 특정 사회의 문화를 기준으로 자문화를 낮게 평가한다.'는 (가)에 들어갈 수 없다.
- ② ㉠과 ㉡에서 옳지 않은 문장의 번호는 같지 않다.
- ③ A는 B와 달리 타 문화를 일방적으로 추종한다.
- ④ B는 C와 달리 중국의 중화사상을 그 예시로 들 수 있다.
- ⑤ C는 A와 달리 다른 사회와 마찰을 초래할 가능성이 낮다.

075

A~C에 대한 설명으로 옳은 것은? (단, A~C는 각각 주류 문화, 하위문화, 반문화 중 하나임.)

‘우리나라에서 수저를 사용하는 문화를 예시로 들 수 있는가?’의 질문으로 A와 C를 구분할 수 없으며, ‘특정 지역의 사투리 문화를 예시로 들 수 있는가?’의 질문으로 B와 C를 구분할 수 없다.

- ① A는 C와 달리 사회 변화에 따라 B가 될 수 있다.
- ② 모든 A는 C에 해당하지만, 모든 C가 A에 해당하는 것은 아니다.
- ③ 한 사회에서 C를 공유하는 사람은 B를 공유하지 않는다.
- ④ B는 모든 A의 총합으로 설명할 수 있다.
- ⑤ A, C는 B와 달리 한 사회 내 특정 집단만의 독특한 정체성 형성에 기여한다.

076

다음 자료에 대한 설명으로 옳은 것은? (단, A~C는 각각 주류 문화, 하위문화, 반문화 중 하나임.)

<사례>

T 시기 갑국 내에서 ○○ 의복은 일부 급진적인 조직의 청년들이 체제 저항의 상징으로 착용하는 의복이었기에, 해당 시기 ○○ 의복을 착용하는 사람들은 많은 불이익을 받았다. 그러던 중 T+1 시기 갑국 내에서 체제 붕괴가 일어나 ○○ 의복은 저항의 상징이 사라진, 그냥 청년 계층이 일상적으로 착용하는 의복이 되었다. 그리고 T+2 시기 이후 ○○ 의복은 전국적으로 유행하여, 갑국 국민 대다수가 일상생활에서 늘 입는 의복이 되었다.

교사: ○○ 의복은 T 시기엔 (가) 해당하고, T+1 시기에는 A에만, T+2 시기에는 C에만 해당하는 문화입니다.

- ① (가)에 들어갈 것은 ‘B에만’이다.
- ② 모든 B는 A에 해당하나, 모든 A가 B에 해당하는 것은 아니다.
- ③ A는 C와 달리 해당 문화를 향유하는 구성원들 간 동질감 형성에 기여한다.
- ④ A는 B와 달리 한 사회 내에서 특정 집단의 구성원들만 향유하는 문화이다.
- ⑤ C는 A, B와 달리 주류 집단에 의해 일탈로 규정되는 문화이다.

077

다음 자료에 대한 설명으로 옳은 것은?

표는 시기별 갑국에 존재하는 ◇◇ 문화, □□ 문화, ☆☆ 문화가 A~C 중 어디에 해당하는지를 나타낸 것이다. 단, A~C는 각각 주류 문화, 반문화, 하위문화 중 하나이다.

구분	◇◇ 문화	□□ 문화	☆☆ 문화
t 시기	A, C	B	B
t+1 시기	A	A, C	A

- ① A는 B와 달리 해당 문화를 공유하는 구성원들에게 소속감과 동질감을 제공한다.
- ② C는 B와 달리 사회 변동의 요인이 될 수 있다.
- ③ t 시기 □□ 문화와 ☆☆ 문화는 모두 갑국에서 주류 문화에 해당한다.
- ④ t+1 시기 ◇◇ 문화와 □□ 문화는 모두 갑국에서 반 문화에 해당한다.
- ⑤ 주어진 문화 중 갑국에서 t 시기와 t+1 시기 모두 하위 문화인 문화는 존재하지 않는다.

078

다음 자료에 대한 설명으로 옳은 것은? (단, A~C는 각각 주류 문화, 하위문화, 반문화 중 하나임.)

교사: 문화 양상 A~C가 가지는 특징에 대해 각자 한 가지씩 발표해 보세요.
 갑: 모든 A는 B에 해당하지만, 모든 B가 A에 해당하는 것은 아닙니다.
 을: 우리나라 각 지역의 사투리는 C의 사례입니다.
 병: A는 C와 달리 한 사회의 구성원 대다수가 공유하는 문화입니다.
 정: B는 A와 달리 해당 문화를 공유하는 구성원들에게 소속감과 동질감을 제공합니다.
 교사: ㉠ 두 명의 학생이 옳지 않게 발표했네요.

- ① ㉠은 갑, 정이다.
- ② A는 B와 달리 사회 변동의 요인이 될 수 없다.
- ③ '1960년대 미국의 히피 문화'는 C가 아닌 B의 사례에 해당한다.
- ④ B를 공유하는 사람은 A를 공유하지 않는다.
- ⑤ A는 C와 달리 한 사회 내 특정 집단만의 독특한 정체성 형성에 기여한다.

079

다음 자료에 대한 옳은 설명만을 <보기>에서 있는 대로 고른 것은?

표는 각 질문에 대한 A~C의 응답을 모두 적은 후, 그 중 일부 응답을 보이지 않게 가린 것이다. 단, A~C는 각각 주류 문화, 반문화, 반문화가 아닌 하위문화 중 하나이고, 질문에 대한 응답은 '예'와 '아니오' 중 하나이다.

구분	A	B	C
한 사회 구성원 대다수가 향유하는 문화인가?	아니오		
주류 집단에 의해 일탈로 규정되는 문화인가?		예	
(가)	㉠	㉡	㉢

<보 기>

- ㄱ. 음영 처리된 부분 중 '예'가 들어갈 칸의 수는 '아니오'가 들어갈 칸의 수보다 적다.
- ㄴ. A와 B는 모두 사회 변화에 따라 C로 변동될 수 있다.
- ㄷ. ㉡에 들어갈 응답과 ㉠, ㉢에 들어갈 응답이 서로 다르다면, '집단 간 갈등을 유발하는 요인이 될 수 있는가?'는 (가)에 들어갈 수 없다.
- ㄹ. '한 사회 내 문화적 다양성을 증대하는 요인이 될 수 있는가?'가 (가)에 들어간다면, ㉠, ㉡에 들어갈 응답과 ㉢에 들어갈 응답은 서로 다르다.

- ① ㄱ, ㄴ ② ㄴ, ㄷ ③ ㄷ, ㄹ
- ④ ㄱ, ㄴ, ㄷ ⑤ ㄴ, ㄷ, ㄹ

080

다음 자료에 대한 설명으로 옳은 것은? (단, A~C는 각각 주류 문화, 하위문화, 반문화 중 하나임.)

자료는 갑국의 문화 ㉠~㉢이 t 시기와 t+1 시기에 A~C 중 각각 무엇에 해당하는지 나타낸 것이다.

구분	t 시기			t+1 시기		
	A	B	C	A	B	C
㉠	○	×	×	×	○	×
㉡	×	○	○	×	○	○
㉢	×	○	×	○	×	×

* ○ : 해당함, × : 해당하지 않음

- ① t 시기에 ㉠은 갑국의 하위문화에 해당한다.
- ② t+1 시기에 ㉡은 갑국의 반문화에 해당한다.
- ③ t 시기와 t+1 시기 모두에서 ㉢은 하위문화에 해당하지 않는다.
- ④ t 시기 주류 문화에 해당하면서 t+1 시기 반문화에 해당하는 문화가 존재한다.
- ⑤ t 시기와 t+1 시기 모두에 갑국에서 대다수의 사람들이 향유하는 문화가 존재한다.

다음 자료에 대한 옳은 설명만을 <보기>에서 있는 대로 고른 것은? (단, A~C는 각각 주류 문화, 하위문화, 반문화 중 하나임.)

<서술형 평가 문제>

번호	문제	
1	A와 구분되는 B의 특징을 3가지 서술하십시오.	
2	B와 구분되는 C의 특징을 3가지 서술하십시오.	
3	C와 구분되는 A의 특징을 3가지 서술하십시오.	

<서술형 평가 문제>

번호	문제	점수
1	1. 한 사회 내에서 특정 집단의 구성원들만 공유한다. 2. 우리나라 각 지방의 사투리 문화를 예시로 들 수 있다. 3. 해당 문화를 누리는 구성원의 정체성 형성에 기여한다.	1점
2	1. 다수의 사회 구성원들이 전반적으로 공유하는 문화이다. 2. 전체 사회에 문화적 다양성을 제공할 수 있다. 3. (가)	2점
3	1. 지배 집단에 의해 일탈으로 규정되는 문화이다. 2. 특정 집단의 정체성을 형성함으로써 구성원의 소속감 고취에 기여한다. 3. 우리나라에서 손가락과 젓가락을 사용하는 문화를 예시로 들 수 있다.	㉠

* 교사는 각 서술별로 채점하고, 서술 하나가 맞을 때마다 1점씩 부여함.

<보 기>

ㄱ. ㉠에 들어갈 것은 '2점'이다.
 ㄴ. '한 사회 내에서 대부분의 구성원들이 공유한다.'는 (가)에 들어갈 수 있다.
 ㄷ. A와 달리 모든 C는 B에 해당한다.
 ㄹ. A는 B와 달리 사회 변화에 따라 C가 될 수 없다.

- ① ㄱ, ㄴ ② ㄴ, ㄷ ③ ㄷ, ㄹ
 ④ ㄱ, ㄴ, ㄷ ⑤ ㄴ, ㄷ, ㄹ

다음 자료에 대한 분석으로 옳은 것은?

<자료 1>은 갑국의 A 권역에서 각 문화를 향유하는 사람의 수를 나타낸 것이고, <자료 2>는 문화 양상별로 A 권역에서 향유하는 사람의 수를 나타낸 것이다. 단, A 권역에서 주어진 문화 이외 다른 문화는 향유되지 않는다고 가정한다.

<자료 1> 각 문화를 향유하는 사람의 수

(단위: 명)

□□ 문화	800	○○ 문화	600
△△ 문화	500	◇◇ 문화	200
▽▽ 문화	800	☆☆ 문화	200

<자료 2> 문화 양상별 향유하는 사람의 수

(단위: 명)

주류 문화	하위문화	반문화
1,600	㉠	600

- ① ㉠에 들어갈 값은 '1,500'이다.
 ② A 권역에서 반문화가 아닌 하위문화를 향유하는 사람의 수는 700명이다.
 ③ 갑국에서 ◇◇ 문화와 ☆☆ 문화는 모두 반문화에 해당한다.
 ④ 갑국에서 △△ 문화와 달리 ○○ 문화는 주류 문화에 해당한다.
 ⑤ A 권역의 전체 인구는 2,200명 이상이다.

083

다음 자료에 대한 설명으로 옳은 것은? (단, A~D는 각각 발명, 발견, 직접 전파, 자극 전파 중 하나임.)

구분	A	B	C	D
문화 변동의 내재적 요인에 해당하는가?	예	아니요	예	아니요
새로운 문화 요소를 만드는 요인에 해당하는가?	예	아니요	㉠	㉡

- ① ㉠은 '예', ㉡은 '아니요'이다.
- ② 전구를 새롭게 만들어낸 것은 A가 아닌 B의 사례에 해당한다.
- ③ 자연에서 석탄을 찾아낸 것은 B가 아닌 C의 사례에 해당한다.
- ④ SNS를 통해 한류가 외국으로 퍼져나가는 것은 C가 아닌 D의 사례에 해당한다.
- ⑤ 외국의 종교 교리에서 착안하여 새로운 종교를 만드는 것은 D가 아닌 A의 사례에 해당한다.

084

문화 접변 결과 (가)~(다)에 대한 설명으로 옳은 것은?

(가)의 사례: 한 국가의 다른 국가에 대한 식민 통치가 장기간 이어짐에 따라 해당 국가는 자국 언어를 잃고 통치국의 언어를 사용하게 됨.
 (나)의 사례: 한 국가의 대중음악이 인터넷을 통해 다른 국가로 전달되면서 두 국가의 음악이 결합한 새로운 형식의 음악이 등장함.
 (다)의 사례: 한 국가의 건축 양식을 배운 다른 국가의 건축가들이 자국에 귀환함에 따라 두 국가의 건축 양식이 동시에 존재하게 됨.

- ① (가)는 강제적 문화 접변에 의해서만 발생한다.
- ② (나)에서는 기존 문화의 정체성이 상실되지 않는다.
- ③ (다)는 전파된 문화 요소가 변형되어 정착하는 것을 포함한다.
- ④ (나)는 (가)에 비해 강제성을 띤 외부 사회의 압력에 의해 발생하는 경우가 많다.
- ⑤ (다)는 (나)와 달리 그 결과로 이전에는 없었던 형태의 문화 요소가 등장한다.

085

다음 자료에 대한 옳은 설명만을 <보기>에서 있는 대로 고른 것은?

- 갑국은 을국과 무역을 하는 과정에서 을국의 건축 기술을 받아들여지게 되었고, 이후 갑국의 건축가들이 해당 기술을 대거 활용하게 되면서 갑국 내 건축물의 양식은 보다 다양해졌다.
- 병국은 자국 내 파견을 나와 있던 정국의 의사들이 가진 의료 기술에 영감을 받아 난치병을 치료할 수 있는 약을 만들었고, 해당 약은 효과가 떨어지던 기존의 약의 갑국 내 유통량을 줄이는 결과를 낳았다.

<보 기>

- ㄱ. 갑국은 병국과 달리 직접 전파를 경험하였다.
- ㄴ. 갑국과 병국은 모두 문화 공존을 경험하였다.
- ㄷ. 병국은 갑국과 달리 자극 전파를 경험하였다.
- ㄹ. 병국은 갑국과 달리 문화 동화를 경험하였다.

- ① ㄱ, ㄴ ② ㄱ, ㄷ ③ ㄴ, ㄷ ④ ㄴ, ㄹ ⑤ ㄷ, ㄹ

086

다음 자료에 대한 설명으로 옳은 것은? (단, A~C는 각각 문화 병존, 문화 동화, 문화 융합에 해당함.)

교사: A~C에 해당하는 사례를 각각 2개씩 찾아 제시해 보세요.

구분	제시한 사례
A	· 자국 내에서 새롭게 찾아낸 석탄 연료를 기존에 활용되던 연료와 동시에 사용하는 경우 · 식민 통치 시절에 사용된 외국어를 현재에도 고유한 언어와 함께 공용어로 사용하는 경우
B	· 전통 복식이 사라지고 그 자리를 서양에서 들어온 복식이 차지한 경우 · 고유의 가옥 형태가 사라지고 외국의 아파트 문화가 보편화된 경우
C	· 타국에서 넘어온 팝 음악과 전통적인 민속 음악을 동시에 즐기는 경우 · 전통 음식 문화와 외국 음식 문화가 결합해 제3의 음식 문화가 나타난 경우

교사: 전체 중 ① 2개의 사례를 잘못 제시했네요.

- ① ㉠은 각각 A와 B의 사례 중 존재한다.
- ② A는 B와 달리 자문화의 요소가 사라지는 것을 그 결과로 가진다.
- ③ B는 C와 달리 자기 문화에 대한 자부심이 약할 때 나타나기 쉽다.
- ④ C는 A와 달리 전통문화 요소와 외래문화 요소가 나란히 존재하는 것을 그 예시로 들 수 있다.
- ⑤ A, C는 B와 달리 구성원의 자발성에 기초한 문화 집변의 결과이다.

다음 자료에 대한 옳은 설명만을 <보기>에서 있는 대로 고른 것은? (단, A~D는 각각 발명, 발견, 직접 전파, 자국 전파 중 하나임.)

<자료 1>은 문화 변동 요인을 질문에 대한 답변에 따라 정리한 것이고, <자료 2>는 주어진 기간 동안 갑국과 을국의 문화 변동 양상을 나타낸 것이다. 단, 갑국과 을국 서로 간의 문화 변동은 일어나지 않은 것으로 가정한다.

<자료 1>

구분	A	B	C	D
문화 변동의 내재적 요인인가?	아니요	예	아니요	예
변동의 결과로 새로운 문화 요소가 생기는가?	㉠	㉡	아니요	예

<자료 2>

구분	변동 전 요소	1차 문화 변동		2차 문화 변동	
		변동 요인	변동 후 요소	변동 요인	변동 후 요소
갑국	a	A	a, c	B	a, c, e
을국	b	D	b, d	C	c, d

<보 기>

㉠. ㉠은 '예', ㉡은 '아니요'이다.
 ㉡. c는 b에서 아이디어를 얻어 만들어진 요소에 해당한다.
 ㉢. 1차 문화 변동 결과 갑국과 을국에서는 모두 문화 공존이 나타났다.
 ㉣. 2차 문화 변동 결과 을국에서는 갑국과 달리 문화 동화가 나타났다.

- ① ㉠, ㉡ ② ㉠, ㉢ ③ ㉡, ㉣
 ④ ㉠, ㉡, ㉢ ⑤ ㉡, ㉢, ㉣

A~C국에 나타난 문화 변동에 대한 설명으로 옳은 것은?

A국의 한 기업은 강이나 웅덩이의 물을 마실 수 있게끔 해 주는 소형 휴대용 정수기를 개발하였다. 해당 사실은 인터넷 커뮤니티를 통해 B국에 알려졌고, B국의 한 스타트업은 갑국에 직접 방문한 뒤 이로부터 아이디어를 얻어 더 빠르게 정수할 수 있는 펌프식 정수기를 개발하였다. 한편 B국에서 유학하고 돌아온 C국의 한 기술자는 손잡이 없이 자동으로 작동하는 새로운 형태의 정수기를 자체적으로 개발하였고, 이는 A국과 B국의 유통사에 수출되어 세 국가 모두에서 널리 활용되었다.

- ① A, C국에서는 B국과 달리 내재적 요인에 의한 문화 변동이 나타났다.
 ② B국에서는 A국과 달리 간접 전파가 나타났다.
 ③ C국에서는 A, B국과 달리 직접 전파가 나타났다.
 ④ A~C국에서는 모두 문화 공존이 나타났다.
 ⑤ B국에서는 A, C국과 달리 새로운 문화 요소가 개발되는 문화 변동이 나타났다.

다음 자료에 대한 옳은 설명만을 <보기>에서 있는 대로 고른 것은?

교사: 각각 다른 문화 변동의 요인이 나타난 사례를 1가지씩 배정했습니다. 서로 다른 문화 변동의 요인 5가지를 각 사례에 옳게 연결해 볼까요?

사례	요인
어두운 곳에서도 불빛을 밝히기 위해 손전등을 새롭게 만들어낸 경우	A
자연에서 우연히 화석 연료를 찾아내 사용하게 되는 경우	B
(가)	직접 전파
외국에서 유행하는 새로운 춤이 인터넷을 통해 자국으로 확산한 경우	발견
(나)	자극 전파

교사: 모든 사례에 대해 문화 변동의 요인을 옳지 않게 연결했네요.

<보 기>

- ㄱ. A는 B와 달리 문화 변동의 외재적 요인에 해당한다.
- ㄴ. B는 A와 달리 '목화솜을 찾아낸 것'을 예시로 들 수 있다.
- ㄷ. '타국의 전통 음료에서 아이디어를 얻어 새로운 음료를 만든 경우'는 (가)에 들어갈 수 있다.
- ㄹ. '난민으로 유입된 타국 사람들의 고유한 놀이를 자국 국민들이 즐기는 경우'는 (나)에 들어갈 수 없다.

- ① ㄱ, ㄴ ② ㄱ, ㄷ ③ ㄴ, ㄹ
- ④ ㄱ, ㄷ, ㄹ ⑤ ㄴ, ㄷ, ㄹ

다음 사례에 나타난 문화 변동의 양상에 대한 설명으로 옳은 것은?

<갑~병국의 문화 요소별 변동 사례>

<의복 문화>

갑국 의류 디자이너들은 을국에 방문하여 자국의 의복을 전파하려 하였으나, 오히려 을국의 의복을 손에 든 채 귀국한 뒤 자국과 을국의 의복을 혼합한 새로운 의복을 만들어 판매하였다. 한편 갑국 시장을 공략하고자 입국한 병국 의류 디자이너들은 갖은 시도 끝에 결국 실패라는 결과를 손에 안고 귀국하였다.

<음악 문화>

을국의 한 작곡가는 자국의 전통 음악으로부터 영감을 얻어 음악의 새로운 장르를 개척하였으며, 이후 갑국과 병국을 포함한 전 세계를 순회하며 투어를 진행하였다. 그 결과로 갑국과 병국 또한 해당 장르의 음악을 향유하게 되었으며, 특히 갑국에서 해당 장르에 특화된 이어폰이 다시금 유행하는 데 큰 영향을 주었다.

<음식 문화>

병국에서는 갑국에서 방영된 셰프 경진대회 프로그램이 크게 히트하였고, 이를 본 병국 요리사들은 해당 프로그램에 등장한 갑국의 음식을 판매하기 시작하여 자국 내에서 같은 음식을 판매하던 갑국 출신 요리사들과의 경쟁에서 승리하였다. 그들 중 일부는 을국에도 진출하여 음식을 판매하였으나 이는 큰 인기를 얻지 못했다.

- ① 의복 문화에 있어 갑국에는 을국과 병국의 문화가 모두 전파되었다.
- ② 음악 문화에 있어 갑국에서는 직접 전파로 인한 문화 융합이 나타났다.
- ③ 음식 문화에 있어 병국에서는 을국과 달리 간접 전파로 인한 문화 공존이 나타났다.
- ④ 음악 문화에서는 의복 문화에서와 달리 자극 전파가 발생한 양상이 나타난다.
- ⑤ 의복 문화에서는 음식 문화와 달리 문화 융합이 발생한 양상이 나타난다.

091

다음 글에 나타난 사회 불평등 현상을 보는 관점에 대한 옳은 설명만을 <보기>에서 고른 것은?

어떤 사람들은 직업 간 중요도 차이는 크지 않기에 차등 분배는 정당하지 않다고 말한다. 그러나 이는 사회가 평온 하기에 겉으로 드러나지 않는 것일 뿐이다. 사회에 위기가 닥치면 직업별 중요도가 보다 명확하게 드러나고, 직업 간 차등 보상의 정당성 또한 그러하다.

———— <보 기> ————

- ㄱ. 사회 불평등 현상을 긍정적으로 바라본다.
- ㄴ. 사회적 희소가치의 차등 분배가 개인의 성취동기에 긍정적으로 작용한다고 본다.
- ㄷ. 사회적 희소가치의 배분 기준이 지배 집단에게 유리하다고 본다.
- ㄹ. 사회 제도를 지배와 피지배 관계의 재생산을 위한 수단으로 본다.

- ① ㄱ, ㄴ ② ㄱ, ㄷ ③ ㄴ, ㄷ ④ ㄴ, ㄹ ⑤ ㄷ, ㄹ

092

다음 글에 나타난 사회 불평등 현상을 보는 관점에 대한 옳은 설명만을 <보기>에서 고른 것은?

노동자의 이익과 자본가의 이익은 상충하고, 이는 필연적으로 그들에게 있어 상대를 쓰러뜨려야 할 동기로 작용한다. 그러나 노동자는 항상 자본가에 비해 약한 힘을 가지고 있고, 이는 그들이 자본가에 의해 노동에 대한 정당한 대가를 받지 못하는 결과를 초래한다. 이와 같은 구조적 모순은 자본가와 노동자 간 불평등을 심화시킨다.

———— <보 기> ————

- ㄱ. 사회적 희소가치의 차등 분배는 불가피한 현상이라고 본다.
- ㄴ. 차등 분배 체계는 지배 집단의 이익을 보장하기 위한 수단이라고 본다.
- ㄷ. 사회 불평등 현상은 개인의 성취동기를 유발하여 사회 발전에 기여한다고 본다.
- ㄹ. 사회적 희소가치의 소유 정도는 개인의 노력이 아니라 가정 배경에 비례한다고 본다.

- ① ㄱ, ㄴ ② ㄱ, ㄷ ③ ㄴ, ㄷ ④ ㄴ, ㄹ ⑤ ㄷ, ㄹ

사회 불평등 현상을 바라보는 갑, 을의 관점에 대한 설명으로 옳은 것은?

갑: 우리 사회에는 특정 집단에 유리한 희소 가치의 분배 구조가 만연해 있고, 그렇기에 각 개인은 사회에 기여한 정도가 아닌 가정 배경에 의거해 가치를 분배받게 됩니다.

을: 아닙니다. 희소 가치의 분배 기준은 모두에게 동등하기에, 사회 불평등 현상은 개인이 사회에 기여한 정도에 따라 사회적 희소가치가 차등 분배된 결과로서 나타나는 것입니다.

- ① 갑의 관점은 사회 불평등 현상을 타파해야 할 문제라고 본다.
- ② 을의 관점은 사회 불평등 현상은 지배 집단의 이익을 보장하기 위한 수단이라고 본다.
- ③ 갑의 관점은 을의 관점과 달리 차등 보상이 개인의 성취동기를 자극한다고 본다.
- ④ 을의 관점은 갑의 관점과 달리 사회적 희소가치의 소유 정도는 개인의 노력 정도와 상관이 없다고 본다.
- ⑤ 갑의 관점과 을의 관점은 모두 사회 불평등 현상을 보편적이고 불가피한 현상으로 본다.

다음 자료에 대한 분석으로 옳은 것은?

다음 자료는 갑~병국의 연도별 계층 구성 비율에 대한 정보이다. 갑~병국 중 두 국가에서 다이아몬드형 계층 구조가 나타나며, 하층 대비 상층의 비율은 을국이 병국보다 크다. 단, A~C는 각각 상층, 중층, 하층 중 하나이다.

(단위: %)

구분	갑국	을국	병국
A	50	10	20
B	40	60	50
C	10	30	30

- ① 병국의 상층 비율은 을국의 상층 비율의 2배이다.
- ② 갑국에서는 을국과 달리 모래시계형 계층 구조가 나타난다.
- ③ 중층 대비 하층 비율의 비는 갑국이 을국의 2배이다.
- ④ 병국의 계층 구조는 갑국의 계층 구조에 비해 사회 통합에 유리하다.
- ⑤ 을, 병국에서는 갑국과 달리 개방적 계층 구조가 나타난다.

095

다음 자료에 대한 옳은 분석만을 <보기>에서 있는 대로 고른 것은? (단, A국의 계층은 상층, 중층, 하층으로만 구성됨.)

표는 A국 국민 갑~정의 세대 간 이동과 세대 내 이동 양상을 파악하기 위한 조사 결과를 나타낸 것이다. 단, 을과 병의 최초 계층 위치는 같다.

구분	갑	을	병	정
본인의 부모 계층과 비교한 본인의 최초 계층 위치	높음	낮음	같음	낮음
본인의 최초 계층과 비교한 본인의 현재 계층 위치	높음	같음	낮음	낮음

<보 기>

- ㄱ. 갑의 부모 계층 위치는 정의 현재 계층 위치와 같다.
- ㄴ. 을의 최초 계층 위치는 갑의 현재 계층 위치보다 낮다.
- ㄷ. 병의 부모 계층 위치는 정의 최초 계층 위치보다 높다.

- ① ㄱ ② ㄴ ③ ㄷ ④ ㄱ, ㄴ ⑤ ㄴ, ㄷ

096

다음 자료에 대한 분석으로 옳은 것은? (단, A~C는 각각 상층, 중층, 하층 중 하나임.)

표는 갑국에서 부모 세대와 자녀 세대 간 계층 이동의 결과로 형성된 자녀 세대의 계층 구조를 나타낸 것이다. 부모 세대에서 부부의 계층은 동일하고, 모든 부모의 자녀는 1명씩이다. 단, 부모 세대의 상층 비율과 중층 비율은 같으며, 하강 이동한 자녀 세대 중층 인구는 존재한다.

A	B	C
□□□□□□□□	□□□□□■	□□□□■

* 네모(□, □, ■)는 사람의 수를 나타낸 것이며, 네모 한 개가 나타내는 사람의 수는 동일함.
 ** □는 세대 간 이동 거리가 0, □는 세대 간 이동 거리가 1, ■는 세대 간 이동 거리가 2인 사람을 나타냄.
 *** 세대 간 이동 거리는 동일 계층 간에는 0, 상층과 중층, 중층과 하층 간에는 1이고 상층과 하층 간에는 2임.

- ① 부모 세대 상층 인구 비율은 부모가 하층인 자녀 세대 중층 인구 비율과 같다.
- ② 부모가 상층인 자녀 세대 중층 인구 비율은 부모가 중층인 자녀 세대 상층 인구 비율의 2배이다.
- ③ 부모 세대의 계층 구조는 자녀 세대의 계층 구조와 달리 피라미드형이다.
- ④ 세대 간 상승 이동을 한 사람의 수는 세대 간 하강 이동을 한 사람의 수의 1.5배이다.
- ⑤ 부모 세대 대비 계층 대물림 비율은 상~하층 중 중층이 가장 낮다.

다음 자료에 대한 분석으로 옳은 것은?

<자료 1>은 현재 갑국의 계층 구성 비율에 관한 정보와 t년 후 갑국의 계층 구성 비율에 대한 두 가지 예측 결과이고, <자료 2>는 각 예측별로 현재 갑국 인구 중 t년 후 현재의 계층을 유지할 인구의 상대적 비를 나타낸 것이다. 단, 갑국에서 현재와 t년 사이 인구 변동은 없다고 가정하며, A~C는 각각 상층, 중층, 하층 중 하나이다.

<자료 1>

구분	현재	[예측 1]	[예측 2]
$\frac{A+C}{B+C}$	$\frac{5}{8}$	$\frac{2}{3}$	$\frac{6}{7}$
$\frac{A+C}{A+B}$	$\frac{5}{7}$	$\frac{6}{5}$	$\frac{6}{7}$

<자료 2>

구분	상대적 비의 값	
	[예측 1]	[예측 2]
t년 후 현재의 계층을 유지할 B 인구 수 t년 후 현재의 계층을 유지할 A 인구 수	2.5	6
t년 후 현재의 계층을 유지할 C 인구 수 t년 후 현재의 계층을 유지할 A 인구 수	2	5

* [예측 1]대로 된 경우의 계층 구조는 피라미드형임.
** t년 후 현재의 계층을 유지할 인구의 비율은 유지하지 못할 인구의 비율에 비해 [예측 1]에서는 10%p 크고 [예측 2]에서는 20%p 큼.

- ① [예측 1]대로 된 경우의 상층 인구 비율은 현재의 상층 인구 비율의 40%이다.
- ② [예측 2]대로 된 경우의 계층 구조는 [예측 1]대로 된 경우의 계층 구조에 비해 사회 통합에 불리하다.
- ③ [예측 1]대로 된 경우와 [예측 2]대로 된 경우 모두 t년 후 하강 이동을 할 인구가 상승 이동을 할 인구보다 많다.
- ④ [예측 2]대로 된 경우와 달리 [예측 1]대로 된 경우 t년 후 중층일 인구 중 현재 하층인 인구가 상층인 인구보다 적다.
- ⑤ [예측 1]대로 된 경우와 달리 [예측 2]대로 된 경우 t년 후 세대 내 이동으로 상층이 될 인구는 하층이 될 인구보다 많다.

다음 자료의 갑, 을에 대한 설명으로 옳은 것은?

- 갑은 소수의 백인들이 지배하는 국가에서 백인이 아니라는 이유로 차별을 받고 있다. 갑은 인종 차별적인 체제를 개선하기 위해 SNS 활동을 하고 있다.
- 을은 국민 대다수가 믿는 종교와 다른 종교를 믿는다는 이유로 차별을 받고 있다. 을은 자신과 같은 종교를 믿는 신자들과 차별 철폐를 위한 시민 단체 활동을 하고 있다.

- ① 갑은 을과 달리 주류 집단에 의한 차별을 겪고 있다.
- ② 갑은 을과 달리 사회적 소수자에 해당한다.
- ③ 을은 갑과 달리 여러 사회적 소수자 집단에 중첩되어 속해 있다.
- ④ 을은 갑과 달리 선천적 요인에 의해 차별을 받고 있다.
- ⑤ 갑과 을은 모두 차별 해소를 위해 노력하고 있다.

다음 자료에 대한 옳은 설명만을 <보기>에서 있는 대로 고른 것은?

<형성 평가>

※ A는 신체·문화적 특성이 다르다는 이유로 불평등한 처우를 받으며, 자신이 차별받는 집단에 속해 있다는 의식을 지닌 사람들을 의미하는 개념이다. 제시된 '질문'에 맞게 빈칸을 채워 질문을 완성하시오.

대답	대답에 맞는 질문	채점 결과
예	A는 <input type="text" value="주류 집단에 의한 차별을 겪는다"/> 는 특징을 가지고 있는가?	㉠
아니요	A는 <input type="text" value="(가)"/> 는 특징을 가지고 있는가?	

* 교사는 완성된 질문별로 채점하고 제시된 대문에 맞게 질문을 완성한 경우는 1점, 틀린 경우는 0점임.

<보 기>

㉠. A는 해당 집단의 수로 결정된다.
 ㉡. (가)에 '신체적 특징에 의해 규정될 수 있다'가 들어간다면, ㉠에 들어갈 것은 '2점'이다.
 ㉢. ㉠에 들어갈 것이 '1점'이라면, '수적 열세에 의해 규정된다'는 (가)에 들어갈 수 없다.

- ① ㉠ ② ㉡ ③ ㉠, ㉡ ④ ㉡, ㉢ ⑤ ㉠, ㉡, ㉢

다음 자료의 A~E에 대한 설명으로 옳은 것은?

한부모 가정에서 자라난 여성 A는 그로 인해 겪은 가난과 차별 속에서도 학업을 포기하지 않았고 결국 특수교육 교사가 되었다. 그 과정에서 A의 초등학교 친구 B는 트랜스젠더로서 겪은 차별, 그에 따른 심리적 고통을 A에게 이야기했고, A는 그를 이주 여성 출신 심리상담가 C에게 연결시켰다. 언어 차별과 문화 장벽을 견뎌야 했던 C는 자신의 경험을 바탕으로 B에게 심리적 지지를 제공했고, 상담 과정에서 탈북민 출신 인권운동가 D를 B에게 소개했다. D는 성소수자와 이주자 문제를 함께 다루는 시민단체에서 일하고 있었고, 해당 단체의 청년 멘토로 B를 추천하였다. 이후 A~D는 뜻을 함께하여 이주민 사회 적응을 돕는 프로젝트를 기획하였다. 이 과정에서 만난 E는 D가 상담하던 이주자 청년으로, 거둬들인 취업 실패 후 기술을 배워 사회적 기업을 창업했고, A~D가 기획한 프로젝트의 실무 공간을 무상으로 제공했다.

- ① A와 B는 모두 한 개인이 여러 사회적 소수자 집단에 중첩되어 속할 수 있음을 보여 주는 사례이다.
- ② C는 D와 달리 후천적 요인으로 인해 차별을 받았다.
- ③ E는 사회적 소수자의 불리한 위치의 개선을 위해 제도적 지원을 제공하였다.
- ④ D는 B와 달리 주류 집단과 구별되는 신체적 특징을 이유로 차별을 받았다.
- ⑤ A와 C는 동일한 사회적 소수자 집단에 속해 있다.

101

다음 자료에 대한 옳은 분석만을 <보기>에서 있는 대로 고른 것은?

표는 갑국의 지역별 '상대적 평균 임금'을 지역별·성별로 구분하여 제시한 것이다. 지역별 상대적 평균 임금은 A 지역 남성(여성) 평균 임금을 100이라 할 때 다른 지역의 남성(여성)평균 임금의 크기를 나타낸다. 단, ㄱ. A 지역의 성별 임금 격차 지수는 20이다.

구분	A 지역	B 지역	C 지역	D 지역
남성	100	120	90	150
여성	100	140	80	110

* 성별 임금 격차 지수 = $\frac{\text{남성 평균 임금} - \text{여성 평균 임금}}{\text{남성 평균 임금}} \times 100$

— <보 기> —

ㄱ. B 지역에서 남성 평균 임금은 여성 평균 임금보다 적다.
 ㄴ. A 지역 여성 평균 임금 대비 D 지역 남성 평균 임금의 비율은 200% 이하이다.
 ㄷ. B 지역 남성 평균 임금 대비 C 지역 여성 평균 임금의 비율은 50% 이상이다.
 ㄹ. A~D 지역 중 여성 평균 임금이 B 지역 남성 평균 임금보다 많은 지역은 한 지역뿐이다.

- ① ㄱ, ㄴ ② ㄴ, ㄷ ③ ㄷ, ㄹ
- ④ ㄱ, ㄴ, ㄷ ⑤ ㄴ, ㄷ, ㄹ

102

다음 자료에 대한 분석으로 옳은 것은?

표는 갑국에서 노동 중인 갑국 출신 여성 노동자 평균 임금을 100으로 할 때 갑국에서 노동 중인 노동자 유형별 평균 임금의 상대적 수준을 나타낸 것이다. 단, 주어진 기간 동안 갑국 출신 여성 노동자 평균 임금은 지속적으로 증가하였다.

구분	2019년	2021년	2023년
갑국 출신 남성 노동자	150	170	140
을국 출신 남성 노동자	80	100	120
을국 출신 여성 노동자	70	60	80

- ① 갑국 출신 남성 노동자 평균 임금은 2023년이 2019년보다 적다.
- ② 을국 출신 남성 노동자 평균 임금 대비 을국 출신 여성 노동자 평균 임금의 비는 2021년이 2023년보다 크다.
- ③ 2023년에 갑국 출신 노동자의 성별 평균 임금 차이와 을국 출신 노동자의 성별 평균 임금 차이는 같다.
- ④ 2년 전 대비 을국 출신 남성 노동자 평균 임금의 증가액은 2021년과 2023년이 같다.
- ⑤ 제시된 모든 연도에서 출신 국가에 따른 임금 차이는 남성 노동자가 여성 노동자보다 크다.

다음 자료에 대한 옳은 분석만을 <보기>에서 있는 대로 고른 것은?

연구자 갑은 A~C 지역 노동자를 대상으로 '성비 불균형' 정도를 알아보려고 하였다. 성비 불균형은 전체 인원 중 남성의 구성 비율과 여성의 구성 비율 간 차이로 나타낼 수 있다. 성비 불균형은 0부터 100까지의 값을 가지며, 그 값이 클수록 성비 불균형 정도가 큼을 의미한다.

<자료 1> A~C 지역 성별 노동자 평균 임금 (단위: 만 원)

구분	A 지역	B 지역	C 지역
남성 노동자 평균 임금	320	370	360
여성 노동자 평균 임금	260	㉠	280
전체 노동자 평균 임금	300	350	330

<자료 2> A~C 지역 노동자 성비 불균형

구분	A 지역	B 지역	C 지역
성비 불균형	㉡	20	㉢

* 성비 불균형 = $\frac{(\text{남성 수} - \text{여성 수})}{(\text{남성 수} + \text{여성 수})} \times 100$
 ** 성별 근로자 평균 임금 = 성별 근로자 임금 총액 / 성별 근로자 수

————— <보 기> —————

ㄱ. ㉡에 들어갈 값은 ㉢에 들어갈 값보다 작다.
 ㄴ. ㉠에 들어갈 값은 A 지역과 C 지역을 합친 지역의 남성 노동자 평균 임금보다 작다.
 ㄷ. C 지역 전체 노동자 임금 총액은 남성 노동자 임금 총액의 1.5배 미만이다.
 ㄹ. A 지역 남성 노동자 임금 총액이 B 지역 여성 노동자 임금 총액과 같다면, B 지역 남성 노동자 수는 A 지역 여성 노동자 수의 3배이다.

- ① ㄱ, ㄴ ② ㄴ, ㄷ ③ ㄷ, ㄹ
 ④ ㄱ, ㄴ, ㄷ ⑤ ㄴ, ㄷ, ㄹ

다음 자료를 통해 참 또는 거짓으로 진위 여부를 판단할 수 있는 진술만을 <보기>에서 있는 대로 고른 것은?

<전년 대비 갑국 남/여성 인구 증감표>

구분		2022	2023
증/감	남성	증가	감소
	여성	감소	증가

<취업 시 발생하는 성차별의 요인에 관한 설문 조사 결과> (단위: %)

구분	나이	결혼	학력	외모	기타	
2021	남성	23.5	26.2	21.1	22.5	6.7
	여성	26.3	28.2	17.9	29.8	7.8
2022	남성	21.6	23.7	22.3	25.7	6.7
	여성	24.4	27.0	22.6	19.5	6.5
2023	남성	22.1	22.5	21.8	27.4	6.2
	여성	27.3	31.5	15.2	20.1	5.9

* 설문 조사는 전수 조사로 이루어졌으며, 무응답은 없다.

————— <보 기> —————

ㄱ. 2022년의 조사에서 결혼에 응답한 남성 수는 2021년의 조사에서 외모에 응답한 남성 수보다 많다.
 ㄴ. 2023년의 조사에서 학력에 응답한 여성 수는 2022년의 조사에서 나이에 응답한 여성 수보다 적다.
 ㄷ. 남성과 달리 여성에서 전체 인구 대비 기타에 응답한 인구의 비율은 조사 기간 동안 지속적으로 감소하였다.
 ㄹ. 2022년과 달리 2023년의 조사에서 학력에 응답한 남성 수 대비 외모에 응답한 여성 수의 비율은 전년에 비해 감소하였다.

- ① ㄱ, ㄴ ② ㄱ, ㄷ ③ ㄷ, ㄹ
 ④ ㄱ, ㄷ, ㄹ ⑤ ㄴ, ㄷ, ㄹ

다음 자료에 대한 분석으로 옳은 것은?

한 연구자가 노동자 성비와 전체 산업 기준 산업별 상대적 평균 임금을 기준으로 산업별 노동 시장에서의 성 불평등 정도를 측정하였다. 표는 갑국의 산업별 노동자 성비와 전체 산업 기준 산업별 상대적 평균 임금을 나타낸 것이다. 단, 갑국의 산업 구조는 1차~3차 산업으로만 이루어져 있으며, 전체 산업의 성별 임금 격차 지수는 20이다.

구분	노동자 성비	전체 산업 기준 산업별 상대적 평균 임금	
		남성	여성
1차 산업	75	86	70
2차 산업	125	91	105
3차 산업	150	111	①
전체 산업	125	100	100

* 노동자 성비: 여성 노동자 100명당 남성 노동자의 수
 ** 전체 산업 기준 산업별 상대적 평균 임금은 전체 산업 남성(여성) 노동자 평균 임금을 100이라고 했을 때 산업별 남성(여성) 노동자의 상대적 평균 임금임.
 *** 성별 임금 격차 지수 = ((남성 노동자 평균 임금 - 여성 노동자 평균 임금) / 남성 노동자 평균 임금) × 100
 **** 남성(여성) 노동자 임금 총액 = 남성(여성) 노동자 수 × 남성(여성) 노동자 평균 임금

- ① ①에 들어갈 값은 110이다.
- ② 3차 산업 여성 노동자 평균 임금은 1차 산업 남성 노동자 평균 임금보다 적다.
- ③ 2차 산업 여성 노동자 수는 1차 산업 남성 노동자 수의 2배이다.
- ④ 남성 노동자 임금 총액은 3차 산업이 1차 산업의 5배 미만이다.
- ⑤ 1차 산업 여성 노동자 임금 총액은 2차 산업 남성 노동자 임금 총액의 25% 이상이다.

빈곤의 유형 A, B에 대한 설명으로 옳은 것은? (단, A, B는 각각 상대적 빈곤, 절대적 빈곤 중 하나임.)

영화 ◇◇◇은 사회 구성원 다수가 누리는 생활 수준에 미치지 못하는 A 가구의 삶을 그리고 있다. 영화 속 주인공은 자신보다 잘 사는 사람들의 모습을 보며 좌절한다. 한편 웹소설 ○○○은 최소한의 생계 유지를 하지 못하는 B 가구의 삶을 그리고 있다. 소설 속 주인공은 매일같이 일을 하러 나가나, 기본적인 생활마저 영위하기 어려운 처지에 놓여 있다.

- ① A는 B와 달리 상대적 박탈감을 유발할 수 있다.
- ② B는 A와 달리 소득 수준이 높은 국가에서는 나타나지 않는다.
- ③ A에 따른 빈곤율과 B에 따른 빈곤율을 더하면 전체 빈곤율이 된다.
- ④ A는 B와 달리 해당하는 가구를 선정할 때 객관화된 기준을 적용한다.
- ⑤ B는 A와 달리 사회 구성원의 소득 분포 상태를 고려하지 않는 개념이라는 평가를 받는다.

다음 자료에 대한 분석으로 옳은 것은?

갑국은 절대적 빈곤을 월 소득이 최저 생계비 미만인 가구로, 상대적 빈곤을 월 소득이 중위 소득의 50% 미만인 가구로 선정한다. 갑국은 국가중앙위원회에서 매년 최저 생계비를 산정하고 있으며, 갑국의 모든 가구의 구성원 수는 동일하다. 단, 주어진 기간 동안 갑국의 전체 가구 수는 지속적으로 증가하였다.

<갑국의 빈곤 관련 지표>

구분	최저 생계비 (월 소득)	중위 소득 (월 소득)	절대적 빈곤율	상대적 빈곤율
t년	㉠	3,000달러	8%	8%
t+1년	1,800달러	3,400달러	㉡	9%
t+2년	2,000달러	㉢	6%	7%

* 절대적 빈곤율과 상대적 빈곤율이 같으면 절대적 빈곤선과 상대적 빈곤선도 같다.

- ① ㉢에 들어갈 값은 ㉠에 들어갈 값의 3배보다 크다.
- ② ㉡에 들어갈 값은 t년에 절대적 빈곤과 상대적 빈곤에 모두 해당하는 가구의 비율보다 작다.
- ③ t년에 절대적 빈곤에 해당하는 가구의 수는 t+2년에 상대적 빈곤에 해당하는 가구의 수보다 많다.
- ④ t+2년에 절대적 빈곤에 해당하는 가구의 수는 t+1년에 상대적 빈곤에 해당하는 가구의 수보다 적다.
- ⑤ t+2년에 절대적 빈곤에 해당하는 전체 가구 소득의 총합은 상대적 빈곤에 해당하는 전체 가구 소득의 총합보다 적다.

다음 자료에 대한 분석으로 옳은 것은?

갑국과 을국은 각각 7가구로 구성되어 있으며, 두 국가 모두 월 소득이 최저 생계비 미만인 가구를 절대적 빈곤으로, 중위 소득의 50% 미만인 가구를 상대적 빈곤으로 판정한다. 갑국과 을국 정부는 절대적 빈곤 가구와 상대적 빈곤 가구에 각각 다음과 같은 월별 지원금을 제공하고 있으며, 절대적 빈곤 가구와 상대적 빈곤 가구에 대해 정부 지원은 중복될 수 있다.

<자료 1> 갑국과 을국의 가구별 월 소득 (단위: 달러)

국가	가구	A1	B1	C1	D1	E1	F1	G1
갑국	가구	A1	B1	C1	D1	E1	F1	G1
	월 소득	900	1,200	1,700	2,500	2,800	3,200	4,000
을국	가구	A2	B2	C2	D2	E2	F2	G2
	월 소득	800	1,000	1,200	2,400	2,700	3,300	3,600

<자료 2> 갑국과 을국의 빈곤 가구에 대한 정부 지원금 (단위: 달러)

구분	생활 지원금	의료 지원금	교육 지원금	
갑국	절대적 빈곤 가구	500	300	
	상대적 빈곤 가구			600
을국	절대적 빈곤 가구	600		
	상대적 빈곤 가구		400	300

* 을국의 절대적 빈곤 가구 수는 갑국의 1.5배이며, 모든 절대적 빈곤 가구 월 소득의 총합은 갑국이 을국의 70%이다.
** 가구 월 총소득: 월 소득 + 정부 지원금

- ① 갑국과 을국 모두 상대적 빈곤과 달리 절대적 빈곤에만 속하는 가구가 있다.
- ② 을국의 절대적 빈곤선은 갑국의 절대적 빈곤선보다 높다.
- ③ 상대적 빈곤 가구 소득의 총합이 전체 가구 소득의 총합에서 차지하는 비율은 을국이 갑국보다 높다.
- ④ 갑국의 빈곤 가구에 대한 정부 지원금의 총합은 을국의 80%이다.
- ⑤ 정부 지원에 따른 가구 월 총소득 역전 현상으로 인한 복지병 발생의 위험은 을국보다 갑국에서 더 크다.

다음 자료에 대한 분석으로 옳은 것은? (단, (가), (나)는 각각 사회 보험, 공공 부조 중 하나임.)

<자료 1> 갑국의 사회 보장 제도

(가) 가입자와 고용주 등이 분담해서 마련한 기금을 통해 노령, 장애 등에 대한 연금 급여를 지급하여 생활 안정을 도모하는 제도

(나) 국가가 가구 소득 인정액이 기준액 이하인 가구의 기초 생활을 보장하기 위해 급여를 지급하고, 자활을 지원하는 제도

<자료 2> 각 분위별 (가), (나) 수급액이 총소득에서 차지하는 비율

(단위: %)

구분	(고소득) ← 소득 크기에 따른 구분 → (저소득)				
	5분위	4분위	3분위	2분위	1분위
(가)	10	15	30	30	50
(나)	0	0	0	20	30

* 총소득 = 민간 소득 + (가) 수급액 + (나) 수급액
 ** 각 분위별 가구 수는 동일하며, 평균 총소득은 모두 다름.

- ① 2분위의 경우 민간 소득이 총소득의 과반을 차지한다.
- ② 가구당 사회 보장 제도를 통한 평균 수급액은 4분위가 3분위보다 적다.
- ③ 수혜자 부담 원칙이 적용되는 제도의 수급액이 총소득에서 차지하는 비율은 분위가 낮아질수록 지속적으로 증가한다.
- ④ 선별적 복지의 원칙이 적용되는 제도의 2분위 가구 수급 총액은 1분위 가구 수급 총액보다 적다.
- ⑤ 주어진 소득 분위 중 총소득에서 민간 소득이 가장 높은 비율을 차지하지 않는 분위는 한 개이다.

다음 자료에 대한 옳은 분석만을 <보기>에서 있는 대로 고른 것은? (단, (가), (나)는 각각 사회 보험, 공공 부조 중 하나임.)

<자료 1> 갑국의 사회 보장 제도

(가) 국가가 가구 소득 인정액이 기준액 이하인 가구의 기초 생활을 보장하기 위해 급여를 지급하고, 자활을 지원하는 제도

(나) 가입자와 고용주 등이 분담해서 마련한 기금을 통해 노령, 장애 등에 대한 연금 급여를 지급하여 생활 안정을 도모하는 제도

<자료 2> 갑국의 지역별·성별 인구 중 (가), (나) 제도의 수급자 비율

(단위: %)

구분	A 지역			B 지역		
	남성	여성	전체	남성	여성	전체
(가)	8	11	9	9	14	ⓐ
(나)	50	65	ⓑ	60	50	55

* 갑국은 A, B 지역으로만 구성되며, A 지역의 남성 수와 B 지역의 여성 수는 같음.
 ** 해당 지역 수급자 비율(%) = $\frac{\text{해당 지역 수급자 수}}{\text{해당 지역 인구}} \times 100$

<보 기>

- ㄱ. ⓑ에 들어갈 값은 ⓐ에 들어갈 값의 5배이다.
- ㄴ. 강제 가입의 원칙이 적용되는 제도의 경우, 남성 수급자 수와 여성 수급자 수의 차이는 B 지역보다 A 지역이 크다.
- ㄷ. 선별적 복지 성격이 강한 제도의 경우, A 지역 전체 수급자 수는 B 지역 여성 수급자 수보다 많다.
- ㄹ. 사회 보험에 해당하는 제도의 전체 수급자 비율 대비 공공 부조에 해당하는 제도의 전체 수급자 비율의 비는 B 지역이 A 지역보다 크다.

- ① ㄱ, ㄴ
- ② ㄱ, ㄷ
- ③ ㄴ, ㄹ
- ④ ㄱ, ㄴ, ㄷ
- ⑤ ㄴ, ㄷ, ㄹ

다음 자료에 대한 분석으로 옳은 것은? (단, (가), (나)는 각각 사회 보험, 공공 부조 중 하나임.)

<자료 1> 갑국 사회 보장 제도의 일반적 특징 비교

구분	(가)	(나)
공통점	㉠	
차이점	강제 가입을 원칙으로 함	㉡

<자료 2> 갑국의 지역별 인구 중 (가), (나) 제도 수급자 비율
(단위: %)

구분	A 지역	B 지역	C 지역	갑국 전체
(가)	36	32	34	34
(나)	13	㉢	14	12

* 갑국은 A~C 지역으로만 구성되며, A 지역 인구는 C 지역 인구의 2배임.
** 해당 지역 수급자 비율(%) = $\frac{\text{해당 지역 수급자 수}}{\text{해당 지역 인구}} \times 100$

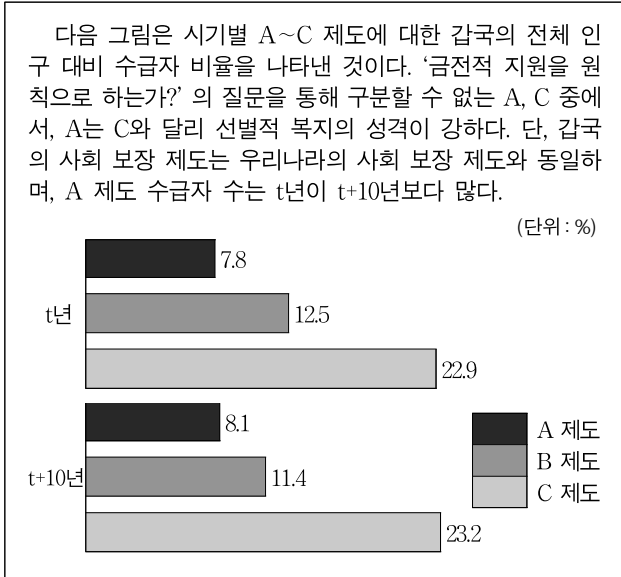
- ① ㉠에는 '금전적 지원의 원칙이 적용됨', ㉡에는 '보편적 복지의 이념을 바탕으로 함'이 적절하다.
- ② ㉢에 들어갈 값은 '11'이다.
- ③ A 지역의 사회 보험에 해당하는 제도의 수급자 수는 갑국 전체의 공공 부조에 해당하는 제도의 수급자 수와 같다.
- ④ A~C 지역 중 소득 재분배 효과가 가장 큰 제도의 수급자 수는 B 지역에서 가장 적다.
- ⑤ 선별적 복지의 이념을 바탕으로 한 제도의 수급자 수 대비 수혜자 부담 원칙이 적용되는 제도의 수급자 수의 비는 A~C 지역 중 B 지역에서 가장 크다.

다음 자료에 대한 분석으로 옳은 것은?

갑국은 정부가 조세로 전액 기금을 마련하여 저소득 근로자 가구를 대상으로 근로 장려금 제도를 도입하는 것을 고려하고 있다. 갑국이 도입을 고려중인 근로 장려금 제도는 A안과 B안이 있으며, 그림은 A안과 B안의 근로 장려금 지급 방식을 나타낸 것이다.

- ① A안에서 연 소득이 6,000달러인 가구의 근로 장려금은 3,000달러이다.
- ② B안에서 근로 장려금은 연 소득이 9,000달러인 가구보다 24,000달러인 가구가 많다.
- ③ 연 소득이 10,000달러인 가구의 근로 장려금은 A안보다 B안이 많다.
- ④ 연 소득이 15,000달러인 가구의 B안에서의 근로 장려금은 A안에서의 근로 장려금의 1.5배이다.
- ⑤ 갑국이 생산적 복지를 실현하는 것을 목표로 한다면, 갑국은 B안보다 A안의 도입을 선호할 것이다.

다음 자료에 대한 분석으로 옳은 것은? (단, A~C는 각각 사회 보험, 공공 부조, 사회 서비스 중 하나임.)



- ① A는 공공 부조, B는 사회 보험이다.
- ② 상호 부조의 원리가 적용되는 제도의 경우, t년 대비 t+10년 수급자 비율은 0.3% 증가하였다.
- ③ 비금전적 지원이 적용되는 제도의 t년 수급자 수는 강제 가입의 원칙이 적용되는 제도의 t+10년 수급자 수의 50%보다 많다.
- ④ 수혜자 부담의 원칙이 적용되는 제도의 수급자 수는 t년이 t+10년보다 적다.
- ⑤ t년 대비 t+10년 수급자 수의 증가율은 강제 가입의 원칙이 적용되는 제도가 공공 부조에 해당하는 제도보다 높다.

다음 자료에 대한 분석으로 옳은 것은? (단, (가), (나)는 각각 사회 보험, 공공 부조 중 하나이며, 갑국은 A, B 지역으로만 구성됨.)

<자료 1> 갑국의 사회 보장 제도

- (가) 노령, 장애, 사망 시 본인 및 가족에게 연금 급여를 실시하여 기본 생활을 유지할 수 있도록 하는 제도
- (나) 생활이 어려운 사람에게 필요한 급여를 지급하여 최저 생활을 보장하고 자활을 지원하는 제도

<자료 2> 갑국의 지역별 인구 중 (가), (나) 제도의 수급자 비율

(단위: %)

구분	A 지역	B 지역	갑국 전체
(가) 수급자	33	Ⓣ	34
(나) 수급자	14	11	13
(가)와 (나) 중복 수급자	Ⓢ	8	Ⓣ

* A 지역의 (가), (나) 중복 수급자를 제외한 (가) 수급자 비율은 갑국 전체의 (가), (나) 중복 수급자를 제외한 (나) 수급자 비율의 4배임.

** 해당 지역 수급자 비율(%) = $\frac{\text{해당 지역 수급자 수}}{\text{해당 지역 인구}} \times 100$

- ① Ⓣ은 Ⓢ과 Ⓣ의 합의 3배이다.
- ② 선별적 복지의 원칙이 적용되는 제도의 수급자 수는 A 지역이 B 지역의 2배보다 적다.
- ③ 사회 보험에 해당하는 제도의 B 지역 수급자 수는 공공 부조에 해당하는 제도의 갑국 전체 수급자 수보다 많다.
- ④ 사전 예방적 성격이 강한 제도에만 해당하는 B 지역 수급자 수는 사후 처방적 성격이 강한 제도에만 해당하는 A 지역 수급자 수보다 많다.
- ⑤ (가), (나) 두 제도 모두의 비(非)수급자 비율은 B 지역이 A 지역보다 낮다.

다음 자료에 대한 분석으로 옳은 것은? (단, (가), (나)는 각각 사회 보험, 공공 부조 중 하나이며, 갑국은 A~C 지역으로만 구성됨.)

<자료 1> 갑국의 사회 보장 제도

(가) 고령이나 노인성 질병 등의 사유로 일상생활을 혼자서 수행하기 어려운 노인 등에게 장기 요양 급여를 제공하여 노후의 건강 증진 및 생활 안정 도모를 목적으로 하는 제도

(나) 소득 수준이 일정 수준 이하인 노인에게 기초 연금을 지급하여 안정적인 소득 기반을 제공함으로써 노인의 생활 안정을 지원하고 복지를 증진함을 목적으로 하는 제도

<자료 2> 갑국의 지역별 65세 이상 인구 중 (가), (나) 제도 수급자 비율

(단위: %)

구분	A 지역	B 지역	C 지역	갑국
(가) 수급자	45	42	47	45
(나) 수급자	21	18	25	㉠
(가)와 (나) 중복 수급자	9	㉡	13	㉢

* A~C 지역의 (가)와 (나) 중복 수급자 수를 제외한 (나) 수급자 수의 비는 각각 2:3:6이다.

** 해당 지역 수급자 비율(%) = $\frac{\text{해당 지역 수급자 수}}{\text{해당 지역 인구}} \times 100$

- ① ㉡과 ㉢의 합은 ㉠보다 크다.
- ② (가)와 (나) 중복 수급자 수는 B 지역이 A 지역의 2배이다.
- ③ 상호 부조의 원리가 적용되는 제도에만 해당하는 수급자 비율은 A~C 지역 중 C 지역이 가장 높다.
- ④ (가)와 (나) 두 제도 모두의 비(非)수급자 수는 C 지역이 A 지역의 3배보다 많다.
- ⑤ 강제 가입의 원칙이 적용되는 제도에만 해당하는 수급자 수 대비 선별적 복지 이념을 바탕으로 한 제도에만 해당하는 수급자 수의 비는 A~C 지역 중 B 지역이 가장 크다.

다음 자료에 대한 분석으로 옳은 것은? (단, (가)~(다)는 각각 사회 보험, 공공 부조, 사회 서비스 중 하나이며, 갑국은 A, B 지역으로만 구성됨.)

<자료 1> 갑국의 사회 보장 제도 (가)~(다)의 사례

- (가)의 사례: 노령, 장애, 사망 시 본인 및 가족에게 연금 급여 실시
- (나)의 사례: 생활이 어려운 사람의 질병, 부상 등에 대해 급여 제공
- (다)의 사례: 일상생활과 사회 활동이 어려운 저소득층의 생활 안정을 위해 가사·간병 서비스 지원

<자료 2> 갑국의 사회 보장 제도 (가)~(다)의 수급자 현황

(단위: %)

구분	A 지역	B 지역	갑국
(가) 수급자	56		54
(나) 수급자		26	30
(다) 수급자	20	23	
(가)와 (나) 중복 수급자	14	11	13
(나)와 (다) 중복 수급자	6		7
(가)와 (다) 중복 수급자		12	10

* 음영 처리된 부분은 주어진 단서를 통해 알 수 있음.

** (가)~(다) 중복 수급자 비율은 B 지역이 A 지역의 2배이고, (가), (다)에만 해당하는 수급자 수는 A 지역이 B 지역의 2배임.

*** 해당 지역 수급자 비율(%) = $\frac{\text{해당 지역 수급자 수}}{\text{해당 지역 인구}} \times 100$

- ① 사회 서비스에만 해당하는 수급자 수는 A 지역과 B 지역이 같다.
- ② (가)~(다) 중 두 가지 제도에만 해당하는 수급자 수는 A 지역이 B 지역의 3배보다 적다.
- ③ (가)~(다) 모두의 비(非)수급자 비율은 B 지역이 A 지역의 75%이다.
- ④ 공공 부조에 해당하는 제도의 B 지역 수급자 수는 공공 부조에 해당하는 제도에만 해당하는 A 지역 수급자 수보다 많다.
- ⑤ (가)~(다) 중 한 가지 제도에만 해당하는 수급자 비율은 B 지역이 A 지역보다 높다.

다음 자료에 대한 분석으로 옳은 것은? (단, (가), (나)는 각각 사회 보험, 공공 부조 중 하나이며, 갑국은 A, B 지역으로만 구성됨.)

금전적 지원을 원칙으로 하는 (가)와 (나) 제도 중에서 (가)는 (나)와 달리 재원을 부담하는 자와 수혜자가 일치하지 않는다. <자료 1>은 갑국의 조사 연도에 따른 지역별 (가), (나) 제도 수급자 비율을 나타낸 것이며, <자료 2>는 갑국의 이전 조사 연도 대비 A, B 지역 전체 인구 변화율을 나타낸 것이다. 단, 갑국의 사회 보장 제도는 우리나라의 사회 보장 제도와 동일하다.

<자료 1> 갑국의 조사 연도에 따른 지역별 (가), (나) 제도 수급자 비율

(단위: %)

구분		t-20년	t-10년	t년
(가)	A 지역	8.0	7.5	9.2
	전체	7.6	7.7	9.0
(나)	B 지역	23.8	31.0	27.5
	전체	24.4	32.8	25.5

<자료 2> 갑국의 이전 조사 연도 대비 A, B 지역 전체 인구 변화율

(단위: %)

구분		t-10년	t년
전체 인구 변화율	A 지역	20	100
	B 지역	-20	50

* t-20년 A 지역과 B 지역의 전체 인구는 서로 같음.
 ** 해당 지역 수급자 비율(%) = $\frac{\text{해당 지역 수급자 수}}{\text{해당 지역 인구}} \times 100$

- ① t년 A 지역의 전체 인구는 t-10년 B 지역의 전체 인구의 2배이다.
- ② A 지역의 (나) 제도 수급자 수는 t-10년이 t년보다 많다.
- ③ B 지역의 공공 부조에 해당하는 제도의 이전 조사 연도와의 수급자 비율 차이는 t년이 t-10년보다 크다.
- ④ 대상자 선정에 따른 부정적 낙인이 발생할 수 있는 제도의 t-20년 A 지역 수급자 수는 t-10년 B 지역 수급자 수의 125%이다.
- ⑤ 보편적 복지의 성격이 강한 제도의 t-20년 A 지역 수급자 수는 선별적 복지의 성격이 강한 제도의 t년 B 지역 수급자 수의 2배 미만이다.

다음 자료에 대한 분석으로 옳은 것은? (단, (가), (나)는 각각 사회 보험, 공공 부조 중 하나임.)

<자료 1>은 연도에 따른 갑국의 하층 인구 비율 대비 상층 인구 비율의 비를 나타낸 것이다. 단, 갑국은 계층을 상층, 중층, 하층으로만 구분한다. <자료 2>는 연도에 따른 갑국의 계층 인구별 (가), (나) 제도 수급자 비율을 나타낸 것이다.

<자료 1> 연도에 따른 갑국의 하층 인구 비율 대비 상층 인구 비율의 비

구분	t년	t+10년
하층 인구 비율 대비 상층 인구 비율의 비	1	0.5

<자료 2> 연도에 따른 갑국의 계층 인구별 (가), (나) 제도 수급자 비율

(단위: %)

구분	t년		t+10년	
	(가) 제도	(나) 제도	(가) 제도	(나) 제도
상층 인구	35	14	34	9
중층 인구	㉠	8	35	㉡
하층 인구	29	12	38	11
전체 인구	32	11	36	11

* t년과 t+10년의 갑국 전체 인구는 서로 같음.
 ** 갑국 중층 인구의 공공 부조에 해당하는 제도 수급자 수는 t+10년이 t년의 1.5배임.
 *** 해당 지역 수급자 비율(%) = $\frac{\text{해당 지역 수급자 수}}{\text{해당 지역 인구}} \times 100$

- ① ㉠에 들어갈 값은 ㉡에 들어갈 값의 3배보다 작다.
- ② t년 중층 인구와 t+10년 상층 인구는 같다.
- ③ t년 상층 인구 중 사회 보험에 해당하는 제도 수급자 수는 t+10년 하층 인구 중 공공 부조에 해당하는 제도 수급자 수의 2배보다 적다.
- ④ t+10년 상층 인구 중 선별적 복지의 원칙이 적용되는 제도 수급자 수는 전체 인구 중 보편적 복지의 원칙이 적용되는 제도 수급자 수의 12%이다.
- ⑤ 중층 인구 중 강제 가입 원칙이 적용되는 제도의 수급자 수는 t년보다 t+10년이 적다.

121

다음 글에서 사회 변동의 방향을 보는 필자의 관점에 대한 옳은 설명만을 <보기>에서 고른 것은?

인류의 역사는 희소 가치 생산 방식의 끊임없는 진보를 통해 이상적인 상태에 도달하는 가정이다. 낡은 생산 방식은 새로운 생산 방식으로 대체되고, 이는 시대의 발전을 이끌어 나가며 역사의 한 페이지를 장식한다. 결국 이들이 모여 구성된 역사는 생산 방식의 진보와 문명의 발전이 누적된 결과인 것이다.

— <보 기> —

- ㄱ. 사회가 미분화된 상태에서 분화된 상태로 변동한다고 본다.
- ㄴ. 사회 변동이 일정한 방향을 갖는다고 본다.
- ㄷ. 미래의 사회 변동에 대한 역동적 대응이 곤란하다는 비판을 받는다.
- ㄹ. 사회 변동이 동일한 과정을 주기적으로 반복한다고 본다.

- ① ㄱ, ㄴ ② ㄱ, ㄷ ③ ㄴ, ㄷ ④ ㄴ, ㄹ ⑤ ㄷ, ㄹ

122

다음 글에서 사회 변동의 방향을 보는 필자의 관점에 대한 옳은 설명만을 <보기>에서 고른 것은?

문화는 거칠고 원시적인 모습에서 시작하여 각 부분을 구성하는 요소들이 발전함에 따라 점차 세련되고 정교해진다. 이러한 성장과 번영을 거쳐 문화는 점차 그 정점을 향해 나아간다. 그러나 이를 지난 후 문화는 상업주의와 결합하여 세속화되는 몰락의 길을 걷게 되며 결국 사멸한다. 이렇게 결국 모든 문화는 장기간에 걸쳐 생성과 소멸의 과정을 되풀이하는 것이다.

— <보 기> —

- ㄱ. 사회 변동을 사회 발전과 동일시한다.
- ㄴ. 서구 중심적 사고라는 비판을 받는다.
- ㄷ. 운명론적 관점에서 사회 변동을 설명한다.
- ㄹ. 사회 변동을 동일한 과정의 주기적 반복으로 설명한다.

- ① ㄱ, ㄴ ② ㄱ, ㄷ ③ ㄴ, ㄷ ④ ㄴ, ㄹ ⑤ ㄷ, ㄹ

125

다음 자료에 대한 옳은 분석만을 <보기>에서 있는 대로 고른 것은? (단, A, B는 각각 진화론, 순환론 중 하나임.)

표는 A와 B의 특징을 학생들이 조사하여 정리한 것으로, 학생들이 조사한 특징 중 각각 다른 특징의 주장이 한 가지씩 존재한다.

A	B
· 숙명론적 관점에서 사회 변동을 설명한다.	· 서구 중심적 사고라는 비판을 받는다.
· 사회 변동이 일정한 방향을 갖는다고 본다.	· 사회 변동이 곧 사회 발전이라고 본다.
· _____ (가)	· _____ (나)

————— < 보 기 > —————

ㄱ. A는 B와 달리 모든 사회의 변동 방향이 동일하다고 본다.

ㄴ. '장기적인 사회 변동을 설명하는 데 유용하다.'는 (가)에 들어갈 수 있다.

ㄷ. '사회 변동이 항상 진보를 의미하는 것은 아니라고 본다.'는 (나)에 들어갈 수 없다.

- ① ㄱ ② ㄴ ③ ㄷ ④ ㄱ, ㄴ ⑤ ㄴ, ㄷ

126

다음 자료에 대한 설명으로 옳은 것은? (단, A, B는 각각 진화론, 순환론 중 하나임.)

표는 A, B를 그 특징에 따라 갑과 을이 분류한 것이다. A와 B 모두에 해당하는데 A와 B 중 하나만 분류하는 경우 틀린 분류이며, 갑과 을은 각각 하나의 특징에 대해서 틀리게 분류하였다.

구분	갑	을
서구 중심적 사고라는 비판을 받는다.	A	A
사회 변동에 일정한 양상이 존재한다고 본다.	B	A, B
(가)	B	A

- ① A는 B와 달리 단기적인 사회 변동을 설명하는 데 유용하다.
- ② B는 A와 달리 사회 변동에 의해 사회가 더 복잡하게 분화한다고 본다.
- ③ A는 B와 달리 단선적인 사회 변동의 과정을 설명하기 어렵다.
- ④ A와 B는 모두 사회 변동에 일정한 방향이 존재한다고 본다.
- ⑤ '과거에 비해 진보한 사회를 설명하기 어렵다.'는 (가)에 들어갈 수 없다.

127

다음은 사회 변동 이론 A, B 관련 질문에 대한 학생들의 답변과 교사의 채점 결과이다. 이에 대한 옳은 설명만을 <보기>에서 있는 대로 고른 것은? (단, A, B는 각각 진화론, 순환론 중 하나임.)

질문	답변	
	갑	을
A는 사회 변동에 의해 사회가 더 복잡하게 분화한다고 보는가?	아니오	예
B는 운명론적 관점에서 사회 변동을 설명하는가?	예	아니오
B는 A와 달리 흥망성쇠를 거듭한 사회의 사례를 설명하기 용이한가?	㉠	예
(가)	아니오	예
점수	2점	3점

* 질문별로 채점하며, 옳은 답변에는 1점, 틀린 답변에는 0점을 부여함.

<보 기>

- ㄱ. A는 B와 달리 사회 변동이 곧 사회 발전이라고 본다.
- ㄴ. B는 A와 달리 사회 변동에 일정한 양상이 존재한다고 본다.
- ㄷ. ㉠에 들어갈 것은 '예'이다.
- ㄹ. 'A는 B와 달리 단기적인 사회 변동을 설명하기 용이한가?'는 (가)에 들어갈 수 없다.

- ① ㄱ, ㄴ ② ㄱ, ㄷ ③ ㄴ, ㄹ
- ④ ㄱ, ㄷ, ㄹ ⑤ ㄴ, ㄷ, ㄹ

128

다음 자료에 대한 옳은 분석만을 <보기>에서 있는 대로 고른 것은? (단, A, B는 각각 진화론, 순환론 중 하나임.)

표는 각 질문에 대하여 A와 B에 해당하는 답변을 모두 적은 후, 그중 하나만 보이도록 나머지 답변을 보이지 않게 가린 것이다.

질문	답변	
	A	B
사회 변동이 곧 사회 발전이라고 보는가?		
(가)	예	
(나)		
답변 '아니오'의 개수	2개	㉠

<보 기>

- ㄱ. A는 B와 달리 운명론적 관점에서 사회 변동을 설명한다.
- ㄴ. '사회 변동에 일정한 양상이 존재한다고 보는가?'는 (가)에 들어갈 수 없다.
- ㄷ. 질문 (가)에 대한 B의 답변이 '예'이고 ㉠에 '1개'가 들어간다면, '장기적인 사회 변동을 설명하기 용이한가?'는 (나)에 들어갈 수 있다.

- ① ㄱ ② ㄴ ③ ㄱ, ㄷ ④ ㄴ, ㄷ ⑤ ㄱ, ㄴ, ㄷ

129

밑줄 친 ㉠, ㉡에 대한 설명으로 옳은 것은?

- A국 시민들은 올림픽 기간에 대형 전광판이 설치된 광장에 모여 ㉠ 자국의 선수들을 응원하였다.
- B국 시민들은 자국의 부패 정치인들을 축출하기 위해 시민 단체를 조직하여 ㉡ 부패 척결 운동을 전개하였다.

- ① ㉠은 다수의 사람들이 자발적으로 한 행동이 아니므로 사회 운동이 아니다.
- ② ㉡은 활동을 정당화하는 신념을 바탕으로 한 사회 운동이다.
- ③ ㉠은 ㉡과 달리 기존 사회 질서를 유지하려는 다수의 행동이다.
- ④ ㉡은 ㉠과 달리 경제적 약자들이 자신의 권리 보장을 요구하는 운동이다.
- ⑤ ㉠과 ㉡은 모두 뚜렷한 목표와 체계적 활동 계획을 바탕으로 한 다수의 행동이다.

130

(가), (나)에 대한 설명으로 가장 적절한 것은?

- (가) 갑국에서는 소비자의 윤리적 행동을 통해 사회 문제를 해결해야 한다고 여기는 시민들이 단체를 결성해 친환경 및 공정 무역 상품을 구매하자는 캠페인을 벌이고 있다.
- (나) 을국에서는 20년 전 농산물 수입을 허용한 이후 농촌이 몰락하자 3년 전부터 농민 단체들이 농촌 경제 활성화를 위해 농산물 수입 금지를 요구하는 활동을 하고 있다.

- ① (가)에는 현상 유지를 고수하고 변화에 저항하는 다수의 행동이 나타난다.
- ② (나)에는 체계적인 조직을 바탕으로 하지 않은 다수의 행동이 나타난다.
- ③ (가)에는 사회 구조 자체를 근본적으로 바꾸고자 하는 사회 운동이 나타난다.
- ④ (나)에는 (가)와 달리 특정 집단만의 이익을 추구하는 사회 운동이 나타난다.
- ⑤ (가), (나)에는 모두 사회적 약자를 보호하기 위한 목적을 가진 사회 운동이 나타난다.

131

밑줄 친 ㉠, ㉡에 대한 옳은 설명만을 <보기>에서 고른 것은?

- 일회용품 사용에 대한 규제가 강해지면서 이에 공감하는 스위스의 환경 단체 회원들을 중심으로 일회용품 사용을 반대하는 ㉠ 시위가 벌어졌다. 시위대는 플라스틱 폐기물로 만들어진 조형물을 세우고 기업들의 일회용품 사용 중단을 촉구하는 탄원서에 서명했다.
- 미국에서 흑인이 인종 차별로 안타깝게 목숨을 잃게 되면서, 인종 차별에 반대하는 단체들과 사람들을 중심으로 하여 #BlackLivesMatter ㉡ 운동이 벌어지고 있다. 해당 운동은 소셜 미디어를 활용하여 해시태그를 남기는 형태로 이루어지고 있다.

— <보 기> —

- ㄱ. ㉠은 ㉡과 달리 지속 가능한 미래의 영위에 초점을 맞춘 사회 운동이다.
- ㄴ. ㉠은 ㉡과 달리 일반 시민이 아닌 국가가 주도한 사회 운동이다.
- ㄷ. ㉡은 ㉠과 달리 특정 집단 구성원의 삶의 질 향상을 위한 사회 운동이다.
- ㄹ. ㉡은 ㉠과 달리 사회 체계의 전면적인 변혁을 추구하는 사회 운동이다.

- ① ㄱ, ㄴ ② ㄱ, ㄷ ③ ㄴ, ㄷ ④ ㄴ, ㄹ ⑤ ㄷ, ㄹ

132

다음 자료에 대한 옳은 설명만을 <보기>에서 있는 대로 고른 것은?

[서술형 평가] 다음 글에 제시된 사회학적 개념 A에 대한 옳은 설명을 4가지 쓰시오.

A는 자신의 신념과 가치를 실현하기 위하여 다수의 사람들이 자발적으로 하는 집단적이고 지속적인 행동으로, 뚜렷한 목표와 이를 달성하기 위한 구체적인 행동 방법과 계획이 있고 목표와 활동 방향을 정당화하는 이념을 가지고 있다.

[학생의 답안과 교사의 채점 결과]

답안	채점 결과
일시적이며 단기간에 끝나는 행동이 아니다.	㉠
기존 사회 질서의 유지를 목표로 할 수 있다.	
사회 구조의 변화만을 목표로 한다.	
(가)	

(○: 맞음, ×: 틀림)

— <보 기> —

- ㄱ. 20세기 한국의 '금 모으기 운동'은 A에 해당한다.
- ㄴ. '과거로의 회귀를 추구할 수 있다.'가 (가)에 들어간다면, ㉠에 들어갈 것은 '2점'이다.
- ㄷ. ㉠에 '3점'이 들어간다면, '월드컵 기간 거리 응원을 예시로 들 수 있다.'는 (가)에 들어갈 수 있다.

- ① ㄱ ② ㄴ ③ ㄱ, ㄷ ④ ㄴ, ㄷ ⑤ ㄱ, ㄴ, ㄷ

133

표는 A와 B의 일반적인 특징을 비교한 것이다. 이에 대한 설명으로 옳은 것은? (단, A, B는 각각 산업 사회, 정보 사회 중 하나임.)

비교 기준	강함(높음)	약함(낮음)
탈관료제 조직의 비중	A	B
(가)	B	A

- ① A는 B에 비해 구성원 간 대면 접촉 비중이 높다.
- ② A는 B에 비해 정보 제공자와 수용자 간 구분이 명확하다.
- ③ B는 A에 비해 다품종 소량 생산 방식의 비중이 높다.
- ④ B는 A에 비해 지식 정보 산업의 비중이 높다.
- ⑤ '가정과 일터의 결합 정도'는 (가)에 들어갈 수 없다.

134

다음 자료에 대한 옳은 설명만을 <보기>에서 고른 것은? (단, A, B는 각각 산업 사회, 정보 사회 중 하나임.)

개인들은 A에 비해 B에서 취향의 자유를 더 많이 누린다. B의 개인들은 각자만의 독특한 욕구를 A에 비해 훨씬 더 다양한 방식으로 실현하는데, 여기에는 (가)는 B의 특징이 크게 영향을 미친다.

———— <보 기> ————

- ㄱ. A는 B에 비해 의사 결정의 분권화 정도가 낮다.
- ㄴ. A는 B에 비해 직업의 동질성이 낮다.
- ㄷ. A는 자본과 노동이, B는 지식과 정보가 부가 가치의 주요 원천이다.
- ㄹ. '다품종 소량 생산의 비중이 높다.'는 (가)에 들어갈 수 없다.

- ① ㄱ, ㄴ ② ㄱ, ㄷ ③ ㄴ, ㄷ ④ ㄴ, ㄹ ⑤ ㄷ, ㄹ

137

다음 자료에 대한 옳은 설명만을 <보기>에서 있는 대로 고른 것은? (단, A, B는 각각 산업 사회, 정보 사회 중 하나임.)

<서술형 평가>

· A보다 B에서 강하게 나타나는 특징 2개와 B보다 A에서 강하게 나타나는 특징 2개를 제시하시오.

구분	특징	채점 결과
A < B	쌍방향 매체의 활용 정도 (가)	①
	사회의 다원화 정도 (나)	
A > B		0점

* 교사는 제시한 특징별로 채점하며, 옳게 제시한 특징에는 1점, 옳지 않게 제시한 특징에는 0점을 부여함.

<보 기>

ㄱ. A는 B에 비해 전자 상거래의 비중이 낮다.
 ㄴ. '정보의 생산자와 소비자 간 구분의 불명확 정도'는 (나)에 들어갈 수 없다.
 ㄷ. '다품종 소량 생산 정도'가 (가)에 들어간다면, ①에 들어갈 것은 '2점'이다.
 ㄹ. ①에 '1점'이 들어간다면, '면대면 접촉 빈도'는 (가)에 들어갈 수 없다.

- ① ㄱ, ㄴ ② ㄱ, ㄷ ③ ㄴ, ㄹ
 ④ ㄱ, ㄷ, ㄹ ⑤ ㄴ, ㄷ, ㄹ

138

다음 자료에 대한 분석으로 옳은 것은? (단, 갑 권역은 A, B 지역으로만 구성됨.)

표는 A, B 지역 거주민을 대상으로 자신이 거주 중인 지역이 산업 사회, 정보 사회 중 어디에 해당한다고 생각하는 지에 대한 인식을 전수 조사한 결과이다.

(단위: %)

구분	A 지역	B 지역	갑 권역
산업 사회	㉠	50	㉡
정보 사회	80	㉢	60

- ① ㉠과 ㉢의 합은 ㉡과 같다.
 ② 자신이 거주 중인 지역이 정보 사회에 해당한다고 응답한 A 지역 거주민은 산업 사회에 해당한다고 응답한 갑 권역 거주민보다 많다.
 ③ 자신이 거주 중인 지역이 소품종 대량 생산 정도가 높은 사회에 해당한다고 응답한 A 지역 거주민은 갑 권역 거주민의 20% 이상이다.
 ④ 자신이 거주 중인 지역이 전자 상거래의 비중이 높은 사회에 해당한다고 응답한 B 지역 거주민은 A 지역 거주민보다 많다.
 ⑤ 자신이 거주 중인 지역이 면대면 접촉 빈도가 높은 사회에 해당한다고 응답한 B 지역 거주민은 A 지역 전체 거주민보다 적다.

다음 자료에 대한 옳은 설명만을 <보기>에서 있는 대로 고른 것은? (단, A, B는 각각 산업 사회, 정보 사회 중 하나임.)

자료는 A, B를 비교하는 질문과 그에 대한 갑, 을의 응답을 나타낸 것으로, 옳은 응답의 개수는 갑이 을보다 많다.

질문	응답	
	갑	을
A는 B에 비해 사회의 다원화 정도가 높은가?	아니요	아니요
A는 B에 비해 전자 상거래의 비중이 낮은가?	예	아니요
B는 A에 비해 쌍방향 매체의 활용 정도가 높은가?	㉠	예
(가)	아니요	예

<보 기>

- ㄱ. A가 정보 사회, B가 산업 사회라면, ㉠에 들어갈 것은 '아니요'이다.
- ㄴ. 옳은 응답의 개수가 갑이 을의 2배라면, 'B는 A에 비해 다품종 소량 생산의 비중이 높은가?'는 (가)에 들어갈 수 없다.
- ㄷ. 'B는 A에 비해 정보의 생산자와 소비자 간 구분이 불명확한가?'가 (가)에 들어간다면, ㉠에 들어갈 것은 '아니요'이다.

- ① ㄱ ② ㄴ ③ ㄱ, ㄷ ④ ㄴ, ㄷ ⑤ ㄱ, ㄴ, ㄷ

다음 자료에 대한 분석으로 옳은 것은?

교사: <1 모둠>부터 <5 모둠> 중 두 모둠에게는 산업 사회를, 세 모둠에게는 정보 사회를 배정했습니다. 각 모둠은 배정받은 사회에서 높게 나타나는 특징 2가지를 각각 발표해 봅시다.

- <1 모둠> 구성원 간의 익명성 정도, 그리고 다품종 소량 생산 방식의 비중이 있습니다.
- <2 모둠> 1차 산업의 비중, 그리고 가정과 일터의 분리 정도가 있습니다.
- <3 모둠> 소품종 대량 생산 방식의 비중, 그리고 구성원 간 직업의 동질성이 있습니다.
- <4 모둠> 사회 변동의 속도, 그리고 사회적 관계를 맺는 공간적 제약의 정도가 있습니다.
- <5 모둠> 관료제 조직의 비중, 그리고 정보 생산자와 소비자 간 구분의 명확성이 있습니다.

교사: 정보 사회를 배정받은 모둠이 옳지 않게 발표한 특징의 개수가 산업 사회를 배정받은 모둠이 옳지 않게 발표한 특징의 개수의 2배네요.

- ① <1 모둠>이 배정받은 것은 정보 사회이다.
- ② <2 모둠>이 배정받은 것은 산업 사회이다.
- ③ <3 모둠>이 배정받은 것은 정보 사회이다.
- ④ <4 모둠>이 배정받은 것은 정보 사회이다.
- ⑤ <5 모둠>이 배정받은 것은 산업 사회이다.

141

다음 자료에 대한 분석으로 옳은 것은? (단, A~C는 각각 유소년 인구, 부양 인구, 노년 인구 중 하나임.)

다음은 조사 연도별 갑국의 전체 인구 대비 유소년 인구(0~14세 인구), 부양 인구(15~64세 인구), 노년 인구(65세 이상 인구) 비율을 나타낸 것이다. 단, 갑국의 t년 대비 전체 인구 상승률은 t+10년이 50%, t+20년이 100%이며, t+10년의 노령화 지수는 t년의 3배이다.

(단위: %)

구분	t년	t+10년	t+20년
A	60	60	55
B	10	20	25
C	30	20	20

$$* \text{노년 부양비} = \frac{\text{노년 인구}}{\text{부양 인구}} \times 100$$

$$** \text{유소년 부양비} = \frac{\text{유소년 인구}}{\text{부양 인구}} \times 100$$

$$*** \text{노령화 지수} = \frac{\text{노년 인구}}{\text{유소년 인구}} \times 100$$

- ① A는 부양 인구, B는 유소년 인구이다.
- ② t+20년 유소년 인구는 t년 노년 인구의 2배이다.
- ③ 노년 부양비는 t+20년이 t년의 3배보다 크다.
- ④ 노령화 지수는 t년과 t+10년의 합이 t+20년보다 크다.
- ⑤ 제시된 기간 동안 유소년 부양비는 지속적으로 감소하였다.

142

다음 자료에 대한 옳은 분석을 <보기>에서 있는 대로 고른 것은? (단, 주어진 기간 동안 15~64세 인구는 지속적으로 증가하였음.)

구분	t년	t+10년	t+20년
노년 부양비	15	27	36
노령화 지수	30	45	75

$$* \text{노년 부양비} = (\text{65세 이상 인구} / \text{15~64세 인구}) \times 100$$

$$** \text{노령화 지수} = (\text{65세 이상 인구} / \text{0~14세 인구}) \times 100$$

*** 전체 인구에서 65세 이상 인구가 차지하는 비율이 7% 이상이면 고령화 사회, 14% 이상이면 고령 사회, 20% 이상이면 초고령 사회임.

<보 기>

- ㄱ. 전체 인구는 t+10년이 t+20년보다 많다.
- ㄴ. t년은 고령화 사회, t+10년과 t+20년은 고령 사회에 해당한다.
- ㄷ. 전체 인구에서 0~14세 인구가 차지하는 비율은 t년이 t+20년보다 높다.
- ㄹ. t년 대비 t+10년에 65세 이상 인구의 증가율은 0~14세 이상 인구의 증가율의 4배를 초과한다.

- ① ㄱ, ㄴ
- ② ㄴ, ㄷ
- ③ ㄴ, ㄹ
- ④ ㄱ, ㄴ, ㄷ
- ⑤ ㄴ, ㄷ, ㄹ

다음 자료에 대한 분석으로 옳은 것은?

갑국의 t년 유소년 부양비는 t+10년의 노년 부양비와 같으며, t년 대비 t+10년에 부양 인구는 50% 증가하였다. t년 총부양비는 유소년 부양비의 125%, t+10년 총부양비의 75%이고 t+10년 전체 인구는 t년 유소년 인구의 500%이다.

* 노년 부양비 = $\frac{\text{노년 인구(65세 이상 인구)}}{\text{부양 인구(15~64세 인구)}} \times 100$

** 유소년 부양비 = $\frac{\text{유소년 인구(0~14세 인구)}}{\text{부양 인구(15~64세 인구)}} \times 100$

*** 노령화 지수 = $\frac{\text{노년 인구(65세 이상 인구)}}{\text{유소년 인구(0~14세 인구)}} \times 100$

**** 피부양 인구 = 노년 인구(65세 이상 인구) + 유소년 인구(0~14세 인구)

- ① t년과 t+10년의 유소년 인구는 동일하다.
- ② t년 대비 t+10년에 노년 인구 증가율은 노년 부양비 증가율보다 작다.
- ③ 전체 인구에서 노년 인구가 차지하는 비율은 t+10년이 t년의 3배 이하이다.
- ④ t년 대비 t+10년에 피부양 인구 증가율은 부양 인구 증가율보다 작다.
- ⑤ 인구 고령화 현상 심화의 문제는 t년보다 t+10년에 덜 부각된다.

다음 자료에 대한 분석으로 옳은 것은?

표는 갑국과 을국의 인구 구조 변화를 나타낸 것이다. t년 대비 t+10년에 갑국의 전체 인구는 20% 증가하였고 을국의 전체 인구는 50% 증가하였다. 단, t년에 갑국과 을국의 전체 인구는 동일하다.

구분	t년		t+10년	
	갑국	을국	갑국	을국
전체 인구 대비 65세 이상 인구 비율(%)	20	15	25	20
유소년 부양비	60	70	50	20

* 노년 부양비 = $\frac{\text{노년 인구(65세 이상 인구)}}{\text{부양 인구(15~64세 인구)}} \times 100$

** 유소년 부양비 = $\frac{\text{유소년 인구(0~14세 인구)}}{\text{부양 인구(15~64세 인구)}} \times 100$

*** 노령화 지수 = $\frac{\text{노년 인구(65세 이상 인구)}}{\text{유소년 인구(0~14세 인구)}} \times 100$

- ① 갑국의 t년 유소년 인구는 t+10년 노년 인구와 같다.
- ② 노년 부양비는 t년 갑국이 t+10년 을국보다 작다.
- ③ 노령화 지수는 t+10년 을국이 t년 갑국의 2배 미만이다.
- ④ 을국의 부양 인구는 t+10년이 t년의 3배이다.
- ⑤ 갑국의 t+10년 노년 부양비는 을국의 t년 노령화 지수보다 작다.

다음 자료에 대한 분석으로 옳은 것은?

갑국의 t년 부양 인구는 t+10년 부양 인구의 80%이며, t년에 전체 인구 중 노인 인구가 차지하는 비율은 t+10년에 전체 인구 중 노인 인구가 차지하는 비율의 37.5%이고 t년에 전체 인구 중 부양 인구가 차지하는 비율의 25%이다. 표는 갑국의 연도별 총부양비를 나타낸 것이다.

구분	t년	t+10년
총부양비	100	140

- * 노령화 지수 = (노인 인구 / 유소년 인구) × 100
- ** 유소년 부양비 = (유소년 인구 / 부양 인구) × 100
- *** 노년 부양비 = (노인 인구 / 부양 인구) × 100
- **** 총부양비 = ((유소년 인구 + 노인 인구) / 부양 인구) × 100

- ① t년 대비 t+10년 전체 인구 증가율은 100%이다.
- ② t년 부양 인가와 t+10년 노인 인구는 동일하다.
- ③ t+10년 노령화 지수는 t년 노령화 지수의 3배이다.
- ④ t년 유소년 인구는 t+10년 유소년 인구보다 적다.
- ⑤ t년 노인 인가와 유소년 인구의 합은 t+10년 부양 인가와 동일하다.

다음 자료에 대한 분석으로 옳은 것은?

다음은 연도에 따른 갑국의 연령별 인구에 관한 정보를 나타낸 것이다.

1. 50년 전 대비 노령화 지수 증가율은 t+50년, t+100년 모두 100%이다.
2. t년, t+50년, t+100년 유소년 인구는 모두 같다.
3. t+50년과 t+100년 총부양비는 50으로 같다.
4. t년 노년 부양비는 유소년 부양비의 50%이다.
5. t+50년과 t+100년 전체 인구의 합은 t년 전체 인구의 3배이다.

- * 노령화 지수 = (노년 인구 / 유소년 인구) × 100
- ** 유소년 부양비 = (유소년 인구 / 부양 인구) × 100
- *** 노년 부양비 = (노년 인구 / 부양 인구) × 100
- **** 총부양비 = ((유소년 인구 + 노년 인구) / 부양 인구) × 100

- ① t+100년 부양 인구는 t년 전체 인구보다 적다.
- ② t년 노년 인구는 t+50년 유소년 인구와 같다.
- ③ t+100년 노년 부양비는 t년 총부양비보다 크다.
- ④ t년과 t+50년 부양 인구의 합은 t+100년 전체 인구보다 많다.
- ⑤ t+50년 대비 t+100년 전체 인구의 증가율은 부양 인구의 증가율과 같다.

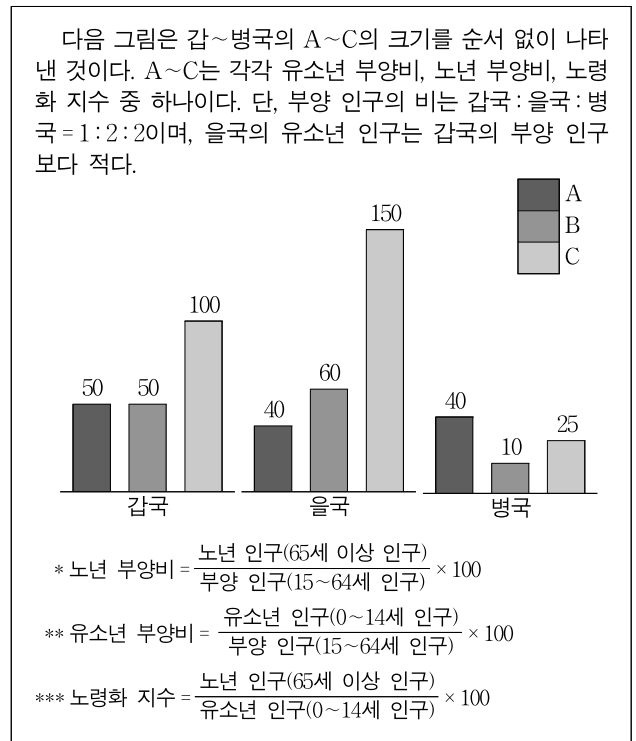
다음 자료에 대한 분석으로 옳은 것은? (단, 갑국 부양 인구는 t+20년과 t+40년이 t년의 1.5배임.)

구분	t년	t+20년	t+40년
$\frac{\text{노년 부양비}}{\text{총부양비}}$	$\frac{3}{10}$	$\frac{1}{2}$	$\frac{3}{5}$
전체 인구 중 노년 인구의 비율(%)	㉠	20	㉡
전체 인구 중 부양 인구의 비율(%)	50	㉢	50

* 유소년 부양비 = (유소년 인구 / 부양 인구) × 100
 ** 노년 부양비 = (노년 인구 / 부양 인구) × 100
 *** 총부양비 = ((유소년 인구 + 노년 인구) / 부양 인구) × 100

- ① ㉠과 ㉡의 합은 ㉢보다 크다.
- ② t년과 t+20년의 전체 인구는 같다.
- ③ 노년 부양비는 t년과 t+20년의 합이 t+40년보다 크다.
- ④ t+40년의 노년 인구는 t년의 부양 인구보다 많다.
- ⑤ t+20년과 t+40년의 유소년 부양비의 합은 t년의 유소년 부양비보다 작다.

다음 자료에 대한 분석으로 옳은 것은?



- ① A는 노령화 지수, B는 노년 부양비, C는 유소년 부양비이다.
- ② 갑국의 유소년 인구는 병국의 노년 인구의 2배이다.
- ③ 을국의 노년 인구는 갑국의 부양 인구보다 적다.
- ④ 노년 인구는 갑~병국 중 갑국에서 가장 적다.
- ⑤ 유소년 인구와 노년 인구의 합은 갑국과 병국이 같다.

다음 자료에 대한 분석으로 옳은 것은?

그림은 갑국과 을국의 t년과 t+20년 전체 인구 대비 피부양 인구 비율의 상대적 크기를 나타낸 것이다. 갑국과 을국은 모두 t년의 노년 인가와 유소년 인구가 같으며, 전체 인구 대비 노년 인구의 비율은 t년 대비 t+20년에 2배로 상승하였다. 또한 갑국의 t년 부양 인구는 전체 인구의 70%이고, t년 갑국과 을국 전체 인구는 같으며, t년 대비 t+20년 전체 인구의 증가율은 갑국이 50%, 을국이 20%이다.

구분		전체 인구 대비 피부양 인구 비율의 상대적 크기			
갑국	t년				
	t+20년				
을국	t년				
	t+20년				

* 노년 부양비 = $\frac{\text{노년 인구(65세 이상 인구)}}{\text{부양 인구(15~64세 인구)}} \times 100$

** 유소년 부양비 = $\frac{\text{유소년 인구(0~14세 인구)}}{\text{부양 인구(15~64세 인구)}} \times 100$

*** 노령화 지수 = $\frac{\text{노년 인구(65세 이상 인구)}}{\text{유소년 인구(0~14세 인구)}} \times 100$

**** 피부양 인구 = 노년 인구(65세 이상 인구) + 유소년 인구(0~14세 인구)

- ① t+20년 갑국의 피부양 인구는 t년 을국의 부양 인구의 1.5배이다.
- ② 갑국과 을국은 모두 t년보다 t+20년 노령화 지수가 크다.
- ③ 갑국과 을국은 모두 t년 대비 t+20년 노년 인구 증가율보다 노년 부양비 증가율이 크다.
- ④ t+20년과 달리 t년 유소년 부양비는 갑국이 을국보다 크다.
- ⑤ t년 대비 t+20년 감소한 갑국 부양 인구는 t년 대비 t+20년 증가한 을국 피부양 인구와 같다.

다음은 갑국의 인구 지표를 나타낸 것이다. 이에 대한 분석으로 옳은 것은? (단, 갑국은 A~C 세 지역으로만 구성됨.)

구분	A 지역	B 지역	C 지역	전체
노년 부양비	24	50	16	25
65세 이상 인구 비율(%)	15	25	10	15

* 노년 부양비 = $\frac{\text{노년 인구(65세 이상 인구)}}{\text{부양 인구(15~64세 인구)}} \times 100$

** 유소년 부양비 = $\frac{\text{유소년 인구(0~14세 인구)}}{\text{부양 인구(15~64세 인구)}} \times 100$

*** 노령화 지수 = $\frac{\text{노년 인구(65세 이상 인구)}}{\text{유소년 인구(0~14세 인구)}} \times 100$

- ① 전체 인구는 B 지역과 C 지역이 같다.
- ② A 지역 유소년 인구는 갑국 전체 부양 인구의 10%이다.
- ③ 갑국 전체 노년 인구는 A 지역 유소년 인구의 3배이다.
- ④ 유소년 인구와 노년 인구의 합은 A 지역과 C 지역이 같다.
- ⑤ A~C 지역 중 노령화 지수가 100 이상인 지역은 존재하지 않는다.

001	002	003	004	005
㉒	㉑	㉕	㉓	㉑
006	007	008	009	010
㉒	㉕	㉒	㉒	㉒
011	012	013	014	015
㉒	㉑	㉕	㉑	㉒
016	017	018	019	020
㉒	㉓	㉔	㉒	㉕
021	022	023	024	025
㉔	㉒	㉔	㉔	㉑
026	027	028	029	030
㉔	㉕	㉒	㉑	㉔

001 정답: ㉒

㉑, ㉓, ㉕은 자연 현상, ㉒, ㉔은 사회·문화 현상이다.

㉒ 자연 현상은 존재 법칙을 따른다.

오답 풀이

- ㉑ 자연 현상은 가치 함축적이지 않다.
- ㉓ 사회·문화 현상은 확률의 원리가 적용된다.
- ㉔ 사회·문화 현상은 경험적 자료로 연구가 가능하다.
- ㉕ 자연 현상은 당위 법칙이 아닌 존재 법칙이 적용된다.

002 정답: ㉑

㉑, ㉓, ㉕은 사회·문화 현상, ㉒, ㉔은 자연 현상이다.

㉑ 사회·문화 현상은 당위적 규범을 따른다.

오답 풀이

- ㉒ 자연 현상은 특수성이 존재하지 않는다.
- ㉓ 자연 현상은 개인성과 확률의 원리가 아닌, 필연성의 원리가 적용된다.
- ㉔ 사회·문화 현상은 존재 법칙이 아닌 당위 법칙의 지배를 받는다.
- ㉕ 사회·문화 현상은 가치 함축적이다.

003 정답: ㉕

㉑, ㉓, ㉕은 사회·문화 현상, ㉒, ㉔은 자연 현상이다.

㉕ 사회·문화 현상은 당위 법칙의 지배를 받는다.

오답 풀이

- ㉑ 사회·문화 현상은 가치 함축적이다.
- ㉒ 자연 현상은 경험적 자료를 통해 연구가 가능하다.
- ㉓ 자연 현상은 당위적 규범이 반영되어 나타나지 않는다.
- ㉔ 사회·문화 현상은 필연성과 확실성의 원리가 아닌, 개인성의 원리가 적용된다.

004 정답: ㉓

㉑은 자연 현상, ㉓, ㉔, ㉕은 사회·문화 현상이다.

㉓ 사회·문화 현상은 당위적 규범이 반영되어 나타난다.

오답 풀이

- ㉑ 자연 현상은 가치 함축적이지 않고 몰가치적이다.
- ㉒ 사회·문화 현상은 경험적 자료를 통해 연구가 가능하다.
- ㉔ 사회·문화 현상은 필연성이 아닌 개인성의 원리를 따른다.
- ㉕ 사회·문화 현상은 보편성이 나타난다.

005 정답: ㉑

다음 글에 나타난 사회·문화 현상을 바라보는 관점은 기능론이다.

- ㉑. 기능론은 사회 규범은 사회 전체의 합의를 통해 구성된다고 본다.
 - ㉒. 기능론은 사회 각 요소 간의 기능적 의존성을 중시한다.
- 오답 풀이
- ㉓. 상징을 매개로 한 개인 간의 상호 작용에 초점을 맞추는 것은 상징적 상호 작용론이다.
 - ㉔. 개인의 행위에 미치는 사회의 영향력을 간과한다는 비판을 받는 것은 상징적 상호 작용론이다.

006 정답: ㉕

같은 기능론, 을은 갈등론, 병은 상징적 상호 작용론적 관점을 가지고 있다.

㉕ 갈등론은 사회 제도를 통해 기존의 불평등한 사회 구조가 재생산된다고 본다.

오답 풀이

- ㉑ 사회 구조가 개인에게 미치는 영향을 간과한다는 비판을 받는 것은 상징적 상호 작용론이다.
- ㉓ 집단 간 갈등이 사회 발전의 원동력이라고 보는 것은 갈등론이다.
- ㉔ 개인의 행동이 상황 정의에 기초하여 이루어진다고 보는 것은 상징적 상호 작용론이다.
- ㉕ 사회 각 부분이 상호 보완적 역할을 수행한다고 보는 것은 기능론이다.

007 정답: ㉕

사회 구조에 초점을 두어 사회·문화 현상을 이해하는 관점은 기능론, 갈등론이고 집단 간 갈등을 사회 변동의 원동력으로 보는 관점은 갈등론이다. 따라서 A는 갈등론, B는 기능론이고 C는 상징적 상호 작용론이다.

㉕ (가)에는 상징적 상호 작용론에만 해당하는 특징이 들어갈야 하고, '개인의 행동이 상황 정의에 기초하여 이루어진다고 보는 관점'은 상징적 상호 작용론에만 해당하는 특징이므로 (가)에 들어갈 수 있다.

오답 풀이

- ㉑ 사회가 유기체와 유사하다고 보는 것은 기능론이다.
- ㉒ 학교 교육이 사회 불평등 구조를 재생산한다고 보는 것은 갈등론이다.
- ㉓ 개인의 행위에 영향을 미치는 사회 구조의 강제력에 주목하는 것은 기능론, 갈등론이다.
- ㉔ 지배 집단과 피지배 집단 간 갈등이 사회 변동의 원동력이라고 보는 것은 갈등론뿐이다.

008 정답: ②

갑의 설명에는 A 외에 B의 내용도 있으므로 A, B는 각각 기능론 또는 상징적 상호 작용론이고, 을의 설명에는 A와 C의 내용만 있으므로 A, C는 각각 갈등론 또는 기능론이다. 따라서 A는 기능론, B는 상징적 상호 작용론, C는 갈등론이다.

② 상징적 상호 작용론은 인간 행위의 자율성과 능동성을 강조한다.

오답 풀이

- ① 사회 규범이 특정 집단만의 합의를 반영한다고 보는 것은 갈등론이다.
- ③ 사회 유지에 필요한 기능의 상호 의존성에 관심을 두는 것은 기능론이다.
- ④ 개인의 행위에 미치는 사회 구조의 영향력을 간과한다는 비판을 받는 것은 상징적 상호 작용론이다.
- ⑤ 갈등을 사회 발전의 원동력으로 보는 것은 갈등론이다.

009 정답: ②

지배 계급과 피지배 계급의 이익은 양립할 수 없다고 보는 관점과 집단 간 갈등이 사회 변동의 원동력이라고 보는 관점은 모두 갈등론이므로 갑 또는 을은 옳지 않은 설명을 했다. 따라서 병과 정은 옳은 설명을 한 것이 되고, B는 상징적 상호 작용론, C는 기능론, A는 갈등론이 된다. 그리고 옳지 않은 설명을 한 것은 을이 된다.

② 갈등론은 상징적 상호 작용론과 달리 사회적 희소가치의 불공정한 분배 구조에 관심을 가진다.

오답 풀이

- ① ㉠은 을이다.
- ③ 상징적 상호 작용론은 사회·문화 현상을 사회 구조적 측면에서 바라보지 않는다.
- ④ 사회에 내재한 갈등이 사회 변동의 원동력이 된다고 보는 것은 갈등론이다.
- ⑤ 상징적 상호 작용론은 기능론과 달리 개인의 행위에 미치는 사회 구조의 영향력을 중시하지 않는다.

010 정답: ②

사회 구조의 인간에 대한 영향력을 경시한다는 비판을 받는 것은 상징적 상호 작용론이므로 3번 진술은 옳지 않은 진술이다. 그리고 옳은 진술의 개수는 옳지 않은 진술의 개수보다 많으므로 1, 2, 4번 진술은 모두 옳은 진술이다. 따라서 A는 기능론, B는 상징적 상호 작용론, C는 갈등론이다.

ㄴ. 기능론은 상징적 상호 작용론과 달리 사회가 유기체와 유사하다고 본다.

ㄷ. (가)에는 옳은 진술이 들어가야 한다. 그리고 '상징적 상호 작용론은 기능론과 달리 지배 집단의 이익을 대변한다는 비판을 받지 않는다.'는 옳은 진술이므로 (가)에 들어갈 수 있다.

오답 풀이

- ㄱ. ㉠은 3번 진술이다.
- ㄴ. 사회화는 불평등한 사회 구조의 재생산 수단이라고 보는

것은 갈등론이다.

011 정답: ②

질문 1에 '예'로 답변하는 것은 상징적 상호 작용론, 질문 2에 '예'로 답변하는 것은 기능론, 질문 3에 '예'로 답변하는 것은 기능론, 질문 4에 '예'로 답변하는 것은 갈등론, 질문 5에 '예'로 답변하는 것은 기능론과 갈등론이다. 그리고 다섯 가지 질문에 대한 답변 '예'의 개수가 가장 많은 관점은 기능론, 가장 적은 관점은 상징적 상호 작용론이므로 A는 기능론, C는 상징적 상호 작용론이고, B는 갈등론이다.

② 질문 4와 질문 5는 모두 갈등론과 상징적 상호 작용론을 구분할 수 있는 질문에 해당한다.

오답 풀이

- ① 질문 1은 기능론과 갈등론을 구분할 수 없는 질문에 해당하고, 질문 2는 기능론과 갈등론을 구분할 수 있는 질문에 해당한다.
- ③ 사회 각 부분의 복잡한 관계를 지배와 피지배의 관계로 단순화한다는 비판을 받는 것은 갈등론이다.
- ④ 인간의 능동적인 사고와 행위의 측면에 주목하는 것은 상징적 상호 작용론이다.
- ⑤ 기득권층의 이익을 대변하는 논리로 이용될 수 있다는 비판을 받는 것은 기능론이다.

012 정답: ①

첫 번째 특징은 갈등론, 두 번째 특징은 기능론과 갈등론, 세 번째 특징은 기능론과 갈등론, 상징적 상호 작용론, 네 번째 특징은 상징적 상호 작용론에 해당하는 특징이다. 이에 따라 B와 C에 모두 해당하는 특징은 두 번째와 세 번째 특징이 되어야 하고, B, C는 각각 기능론 또는 갈등론, A는 상징적 상호 작용론이 된다.

이때 B가 기능론, C가 갈등론이라면 상징적 상호 작용론, 갈등론과 달리 기능론에만 해당하는 특징이 존재하지 않는다. 따라서 B는 갈등론, C는 기능론이다.

① 개인들의 주관적 상황 정의에 초점을 두는 것은 기능론이다.

오답 풀이

- ② 사회를 유기체에 비유하여 설명하는 것은 기능론이다.
- ③ 사회 제도가 기득권층에 유리하게 작용한다고 보는 것은 갈등론이다.
- ④ 대립과 갈등을 사회의 본질적 속성으로 보는 것은 갈등론이다.
- ⑤ 기득권층의 이익을 대변하는 논리로 이용될 우려가 있다는 비판을 받는 것은 기능론이다.

013 정답: ⑤

을은 4점을 얻었으므로 첫 번째 질문에 대한 옳은 답변은 '예', 두 번째 질문에 대한 옳은 답변은 '아니요'이다. 따라서 A는 갈등론, B는 상징적 상호 작용론, C는 기능론이다. 그리고 첫 번째 질문에 대한 갑의 답변은 옳은 답변이고, 두 번째 질문에 대한 갑의 답변은 옳지 않은 답변이다.

- ⑤ (가)에 'A, C는 B와 달리 사회 구조적 관점에서 사회·문화 현상을 분석하는가?'가 들어간다면, 해당 질문에 대한 옳은 답변은 '예'이므로 갑은 해당 질문에 대해 옳지 않게 답변한 것이 된다. 그리고 'A는 C와 달리 상황에 대한 개인의 주관적 의미 부여를 강조하는가?'에 대한 옳은 답변은 '아니오'이므로 해당 질문이 (나)에 들어간다면 갑은 해당 질문에 대해 옳지 않게 답변한 것이 된다. 그러나 이는 갑이 2점을 획득한 것에 모순이므로 해당 질문은 (나)에 들어갈 수 없다.

오답 풀이

- ① ㉠이 '아니오'라면 (가)에 대한 옳은 답변은 '아니오'가 되고, 갑은 해당 질문에 대해 옳은 답변을 한 것이 된다. 그리고 'C는 A, B와 달리 사회 구조가 개인에게 미치는 영향력을 강조하는가?'에 대한 옳은 답변은 '아니오'이므로 해당 질문이 (나)에 들어간다면 갑은 해당 질문에 대해 옳지 않은 답변을 한 것이 된다. 그리고 이는 갑이 2점을 얻은 것에 모순이 생기지 않으므로 해당 질문은 (나)에 들어갈 수 있다.
- ② ㉡이 '예'라면 (나)에 대한 옳은 답변은 '예'가 되고, 갑은 해당 질문에 대해 옳은 답변을 한 것이 된다. 그리고 'A는 C와 달리 집단 간 갈등을 사회 변동의 원동력으로 보는가?'에 대한 옳은 답변은 '예'이므로 해당 질문이 (가)에 들어간다면 갑은 해당 질문에 대해 옳지 않은 답변을 한 것이 된다. 그리고 이는 갑이 2점을 얻은 것에 모순이 생기지 않으므로 해당 질문은 (가)에 들어갈 수 있다.
- ③ 'B는 C와 달리 사회는 유기체와 유사하다고 보는가?'에 대한 옳은 답변은 '아니오'이다. 그리고 해당 질문이 (가)에 들어간다면 갑은 해당 질문에 대해 옳은 답변을 한 것이 되고, (나)에 대해 옳지 않은 답변을 한 것이 되어야 한다. 그에 따라 (나)에 대한 옳은 답변은 '아니오'가 되어야 하는데, 옳은 모든 질문에 대해 옳게 답변했으므로 ㉡에 들어갈 것은 '아니오'가 된다.
- ⑤ 'C는 A와 달리 사회 변동보다 사회 안정을 중시하는가?'에 대한 옳은 답변은 '예'이다. 그리고 해당 질문이 (나)에 들어간다면 갑은 해당 질문에 대해 옳은 답변을 한 것이 되고, (가)에 대해 옳지 않은 답변을 한 것이 되어야 한다. 그에 따라 (가)에 대한 옳은 답변은 '예'가 되어야 하는데, 옳은 모든 질문에 대해 옳게 답변했으므로 ㉠에 들어갈 것은 '예'가 된다.

014 정답: ①

기득권층의 이익을 대변하는 논리로 활용될 수 있다는 비판을 받는 것은 기능론뿐이다. 이에 따라 ㉠의 2번 진술은 옳지 않은 진술인 것을 알 수 있으며, ㉡의 2번 진술은 옳은 진술인 것을 알 수 있고, 따라서 C는 상징적 상호 작용론이다. 이때 A 또는 B는 각각 기능론 또는 갈등론이 되는데, 이에 따라 ㉠의 1번 진술은 옳지 않은 진술이 되어 ㉡의 1번 진술은 옳은 진술이 되고, A는 갈등론, B는 기능론이 된다. 이때 ㉠의 3번 진술은 옳지 않은 진술이 되기에, ㉡의 3번 진술, 즉 (가)에는 옳은 진술이 들어가야 한다.

- ㉡. 옳지 않은 진술의 개수는 ㉠이 3개, ㉡이 0개로 전자가 후자보다 많다.
- ㉢. 갈등론은 기능론과 달리 사회의 안정보다는 변동을 중시한다.
- 오답 풀이
- ㉢. 인간은 상황 정의에 기초해 능동적으로 행동한다고 보는 것은 상징적 상호 작용론이다.
- ㉣. 'B, C는 A와 달리 사회 구조를 지배와 피지배의 관계로 보지 않는다.'는 옳은 진술이고, (가)에는 옳은 진술이 들어가야 하기에 해당 진술은 (가)에 들어갈 수 있다.

015 정답: ②

옳은 3점을 얻었으므로 세 개의 질문에 대해 옳게, 한 개의 질문에 대해 옳지 않게 답변했다. 첫 번째 질문에 대한 옳은 답변이 옳지 않은 경우 첫 번째~네 번째 질문에 대한 옳은 답변은 각각 '아니오', '예', '아니오', '아니오'가 된다. 그러나 이 경우 갑이 3점을 얻은 것에 모순이다. 두 번째 질문에 대한 옳은 답변이 옳지 않은 경우 첫 번째~네 번째 질문에 대한 옳은 답변은 각각 '예', '아니오', '아니오', '아니오'가 된다. 그리고 이 경우 ㉠이 '아니오'라면 갑이 3점을 얻은 것에 모순이 발생하지 않는다.

세 번째 질문에 대한 옳은 답변이 옳지 않은 경우 첫 번째~네 번째 질문에 대한 옳은 답변은 각각 '예', '예', '예', '아니오'가 된다. 그러나 이 경우 갑이 3점을 얻은 것에 모순이다. 네 번째 질문에 대한 옳은 답변이 옳지 않은 경우 첫 번째~네 번째 질문에 대한 옳은 답변은 각각 '예', '예', '아니오', '예'가 된다. 그리고 이 경우 ㉠이 '아니오'라면 갑이 3점을 얻은 것에 모순이 발생하지 않는다.

첫 번째~네 번째 질문에 대한 옳은 답변이 각각 '예', '아니오', '아니오', '아니오'인 경우 첫 번째 질문에서 A는 상징적 상호 작용론이 되고, 두 번째 질문에서 C는 갈등론, B는 기능론이 된다. 그리고 이 경우 세 번째 질문에 대한 옳은 답변이 '아니오'인 것에 모순이 발생하지 않는다. 반면 첫 번째~네 번째 질문에 대한 옳은 답변이 각각 '예', '예', '아니오', '예'인 경우 첫 번째 질문에서 A는 상징적 상호 작용론이 되고, 두 번째 질문에서 C는 기능론, B는 갈등론이 된다. 그러나 이 경우 세 번째 질문에 대한 옳은 답변이 '아니오'인 것에 모순이다. 따라서 A는 상징적 상호 작용론, B는 기능론, C는 갈등론이다.

- ㉢. 상징적 상호 작용론은 인간의 자율적 행위의 측면을 강조한다.
- ㉣. 기능론은 갈등론과 달리 사회 각 부분의 조화와 균형을 강조한다.

오답 풀이

- ㉢. ㉠에 들어갈 것은 '아니오'이다.
- ㉣. (가)에는 옳은 답변이 '아니오'인 질문이 들어가야 한다. 그리고 'A는 B와 달리 사회가 유기체와 유사한 특성을 가진다고 보는가?'에 대한 옳은 답변은 '아니오'이므로 해당 질문은 (가)에 들어갈 수 있다.

016 정답: ②

갑이 활용한 자료 수집 방법은 문헌 연구법이다.

- ㄱ. 문헌 연구법은 2차 자료의 수집에 주로 활용된다.
- ㄴ. 문헌 연구법은 양적 자료와 질적 자료의 수집에 모두 활용될 수 있다.

오답 풀이

- ㄷ. 문헌 연구법은 연구자와 연구 대상자 간 언어적 상호 작용이 필수적이지 않다.
- ㄹ. 문헌 연구법은 자료 수집 과정에서 연구자의 주관이 개입될 가능성이 상대적으로 높지 않다.

017 정답: ③

A는 문헌 연구법, B는 참여 관찰법이다.

- ㄴ. 문헌 연구법은 참여 관찰법과 달리 기존의 연구 동향을 파악하는 데 주로 사용된다.
- ㄷ. 참여 관찰법은 문헌 연구법에 비해 신뢰 관계를 기반으로 한 허용적 분위기 형성이 중요하다.

오답 풀이

- ㄱ. 문헌 연구법은 참여 관찰법에 비해 생생하고 현실감 있는 자료를 얻기에 유리하지 않다.
- ㄹ. 참여 관찰법과 문헌 연구법은 모두 조사 대상자와의 언어적 상호 작용이 필수적이지 않다.

018 정답: ④

자료 수집 시 주로 언어적인 수단에 의존하는 것은 질문지법, 면접법이고 'A, C는 B와 달리 자료 수집 시 주로 언어적인 수단에 의존한다.'는 참인 진술이므로 B는 참여 관찰법이다. 그리고 수집된 자료의 통계 처리에 유리한 것은 질문지법이고 'C는 A, B와 달리 수집된 자료의 통계 처리에 유리하다.'는 거짓인 진술이므로 A는 질문지법, C는 면접법이다.

- ④ 질문지법은 참여 관찰법과 달리 언어적 도구 이외의 방법을 통해 자료 수집이 불가능하다.

오답 풀이

- ① 질문지법은 주로 양적 연구에서 활용된다.
- ③ 참여 관찰법은 다수를 대상으로 한 자료 수집에 주로 사용되지 않는다.
- ④ 면접법은 문맹자를 상대로 한 활용이 곤란하지 않다.
- ⑤ 참여 관찰법과 면접법 모두 연구 대상자의 주관적 인식을 파악할 수 있다.

019 정답: ②

방법론적 일원론에 기초한 연구에서 주로 사용되는 것은 실험법, 질문지법이므로 B, D는 각각 실험법, 질문지법 중 하나이며 A, C는 각각 면접법, 참여 관찰법 중 하나이다. 또한 질문과 응답의 과정이 필수적으로 요구되는 것은 질문지법, 면접법이므로 C는 실험법, 참여 관찰법 중 하나이고 D는 질문지법, 면접법 중 하나이다. 따라서 D는 질문지법, C는 참여 관찰법, B는 실험법, A는 면접법인 것을 알 수 있다. 또한 ①은 '예', ④은 '아니오'인 것을 알 수 있다.

- ② 면접법은 조사 대상자의 예상치 못한 반응에 유연하게 대

처할 수 있다.

오답 풀이

- ① ①은 '예', ④은 '아니오'이다.
- ③ 실험법은 실제서잉 높은 생생한 자료를 수집하기에 용이하지 않다.
- ④ 참여 관찰법은 수집된 자료에 대한 계량적 분석이 용이하지 않다.
- ⑤ 질문지법은 문맹자에게 활용하기 용이하지 않다.

020 정답: ⑤

갑, 정, 무는 옳은 사례를 제시했으므로 (가)에는 질문지법이 활용된 사례가 들어가야 하고, ①은 문헌 연구법, ④은 참여 관찰법이다. 그리고 을은 ①, 병은 ④에 해당하는 사례를 제시했으므로 (나)에는 문헌 연구법이 활용된 사례가, (다)에는 참여 관찰법이 활용된 사례가 들어가야 한다.

- ⑤ '가출 청소년들의 일상에 대해 알아보기 위해 한 가출 청소년 모임에 참가하여 한 달간 그들의 생활 양상과 환경을 관찰하였다.'는 참여 관찰법이 활용된 사례이므로 (다)에 들어갈 수 있다.

오답 풀이

- ① 문헌 연구법은 연구자와 연구 대상자 간의 정서적 교감이 중시되는 자료 수집 방법이 아니다.
- ② 참여 관찰법은 2차 자료 수집에 주로 활용되는 자료 수집 방법이 아니다.
- ③ '백색 소음의 유무가 작업 환경에 미치는 영향을 알아보기 위해 두 집단의 직장인들 중 한 집단에만 백색 소음을 듣게 한 뒤 작업을 수행하게 하였다.'는 실험법이 활용된 사례이므로 (가)에 들어갈 수 없다.
- ④ '지역인재 선발 제도에 대한 수험생들의 생각을 알아보기 위해 △△고등학교 학생 중 10명을 선정하여 그들과 해당 제도의 공정성과 찬반 여부에 관한 대화를 나누었다.'는 면접법이 활용된 사례이므로 (나)에 들어갈 수 없다.

021 정답: ④

- ㄱ. 3번 문항에서는 '학원'이나 '인터넷 강의', '학교 수업'에서 '학습지'를 활용할 가능성이 존재하므로 해당 문항은 상호 배타적이지 않은 선택지를 가진 문항이다.
- ㄴ. 4번 문항은 '최근에 새롭게 하게 되었거나' '앞으로 하고 싶은' 학습 활동에 대해 물어보고 있으므로 해당 문항은 한 가지 질문에서 두 가지 사항을 묻고 있는 문항이다.
- ㄷ. 2번 문항은 '얼마 동안을 기준으로' 학습에 사용하는 시간이 얼마나 되는지에 대한 언급이 빠져 있으므로 해당 문항은 응답에 필요한 정보가 빠져 있는 문항이다.

오답 풀이

- ㄹ. 특정 응답을 유도하고 있는 문항은 존재하지 않는다.

022 정답: ②

- ㄴ. B가 면접법, C가 질문지법이라면 A는 실험법이다. 그리고 (다)에는 실험법만 '예'로 답하는 질문이 들어가야 하고, '자료 수집 과정에서 통제의 수준이 가장 높은 방법

인가?’의 질문은 실험법만 ‘예’로 답하는 질문이므로 해당 질문은 (다)에 들어갈 수 있다.

- ㄷ. (가)에 ‘대량의 구조화된 자료를 수집하는 데 용이한가?’가 들어간다면 C는 질문지법이고, A가 실험법이라면 B는 면접법이다. 이에 따라 (나)에는 면접법만 ‘예’로 답하는 질문이 들어가야 하는데, ‘질적 자료의 수집에 적합한가?’는 면접법만 ‘예’로 답하는 질문이므로 해당 질문은 (나)에 들어갈 수 있다.

오답 풀이

- ㄱ. A가 실험법, B가 질문지법이라면 C는 면접법이다. 이에 따라 (나)에는 면접법만 ‘예’로 답하는 질문이 들어가야 하는데, ‘연구자와 연구 대상자 간 언어적 상호 작용이 필수적인가?’는 질문지법도 ‘예’로 답하는 질문이므로 해당 질문은 (나)에 들어갈 수 없다.
- ㄴ. (나)에 ‘변인을 인위적으로 처치하는 방법인가?’가 들어간다면 B는 실험법이고, (다)에 ‘방법론적 이론론에 기초한 연구에 주로 활용되는가?’가 들어간다면 A는 면접법이다. 따라서 C는 질문지법이다.

023 정답: ④

갑은 실험법과 문헌 연구법을, 을은 문헌 연구법과 참여 관찰법을 활용하였다. 따라서 A는 실험법, B는 문헌 연구법, C는 참여 관찰법이다.

- ④ 실험법은 문헌 연구법과 달리 인위적으로 통제된 상황에서 특정 변인의 효과를 측정한다.

오답 풀이

- ① 실험법은 연구 대상자와의 언어적 상호 작용이 필수적이지 않다.
- ② 문헌 연구법은 대량의 구조화된 자료를 수집하는 데 용이하지 않다.
- ③ 참여 관찰법은 인과 관계의 파악을 통해 법칙을 발견하는 데 유리하지 않다.
- ⑤ 조사 대상자의 일상생활 세계에 참여하여 필요한 자료를 수집하는 것은 참여 관찰법이다.

024 정답: ④

갑의 사례에서는 실험법, 면접법이 사용되었고, 을의 사례에서는 질문지법과 면접법이 사용되었으며, 병의 사례에서는 참여 관찰법과 질문지법이 사용되었다. 그리고 갑의 사례에서 활용된 자료 수집 방법은 모두 옳게 제시했으므로 A, B는 각각 실험법, 면접법 중 하나이고, 을의 사례에서 활용된 자료 수집 방법은 모두 옳지 않게 제시했으므로 A, D는 각각 질문지법과 면접법 중 하나이다. 따라서 A는 면접법, B는 실험법, D는 질문지법이고 C는 참여 관찰법이다.

- ㄱ. 병의 사례에서 활용된 자료 수집 방법은 참여 관찰법과 질문지법이고, C, D는 각각 참여 관찰법과 질문지법이므로 (가)에 들어갈 것은 ‘모두 옳게’이다.
- ㄴ. 면접법은 실험법과 달리 조사 대상자와의 언어적 상호 작용이 필수적이다.
- ㄷ. 실험법은 참여 관찰법과 달리 양적 자료의 수집에 활용된

다.

오답 풀이

- ㄴ. 참여 관찰법은 질문지법에 비해 대량의 자료를 수집하는 데 유리하지 않다.

025 정답: ①

<3 모둠>은 옳게 발표했으므로 C는 실험법이고, <1 모둠>은 <4 모둠>이 배정받은 자료 수집 방법을 활용한 사례를 발표했으므로 D는 질문지법, <4 모둠>은 <2 모둠>이 배정받은 자료 수집 방법을 활용한 사례를 발표했으므로 B는 질문지법, <2 모둠>은 <5 모둠>이 배정받은 자료 수집 방법을 활용한 사례를 발표했으므로 E는 참여 관찰법, <5 모둠>은 <1 모둠>이 배정받은 자료 수집 방법을 활용한 사례를 발표했으므로 A는 문헌 연구법이다.

- ① 문헌 연구법은 2차 자료의 수집에 주로 활용된다.

오답 풀이

- ② 가장 엄격한 통제가 가해지는 방법은 실험법이다.
- ③ 대량의 자료를 수집하는 데 용이한 방법은 질문지법이다.
- ④ 조사 대상자의 일상생활을 심층적으로 이해하는 데 유리한 방법은 참여 관찰법이다.
- ⑤ 언어적 상호 작용이 필수적인 방법은 질문지법, 면접법이다.

026 정답: ④

④ 대면 소통만을 진행한 A 집단이 비대면 소통만을 진행한 B 집단에 비해 구성원 간 친밀감이 유의미하게 높은 것으로 나타났다. 따라서 ‘대면 소통은 비대면 소통에 비해 집단 구성원 간 친밀감에 정(+)의 영향을 미치는 정도가 클 것이다.’는 ㉠이 될 수 있다.

오답 풀이

- ① ㉠과 ㉡은 모두 ㉢에 대한 조작적 정의에 해당한다.
- ② ㉣은 모집단도, 표본 집단도 아니다.
- ③ ㉤, ㉥은 모두 ‘교류 방식’이라는 독립 변수를 처치한 집단이므로 실험 집단이다.
- ⑤ 비대면 소통만을 진행한 B 집단이 1주일의 기간 후 구성원 간 친밀감이 유의미하게 하락했는지 여부는 알 수 없다. 따라서 ‘비대면 소통은 대면 소통과 달리 집단 구성원 간 친밀감에 부(-)의 영향을 미칠 것이다.’는 ㉠이 될 수 없다.

027 정답: ⑤

⑤ 연구 결과, 공동체 의식 수준은 봉사 활동의 지속성이 높은 집단에서 가장 높게, 낮은 집단에서 가장 낮게 나타났다. 따라서 연구 결과 ‘지속적으로 봉사 활동에 참여하는 청소년이 그렇지 않은 청소년보다 공동체 의식 수준이 높을 것이다.’를 내용으로 하는 <가설 2>는 수용되었다.

오답 풀이

- ① ㉢ 단계에서는 연구자의 가치 중립이 요구되나, ㉠ 단계에서는 요구되지 않는다.
- ② ㉣은 추상적 개념을 측정 가능한 것으로 재정의한 것이 아

니므로 개념의 조작적 정의에 해당하지 않는다.

- ③ 다음 연구에서는 실험법이 활용되지 않았으므로 ㉔은 실험 집단과 통제 집단의 구분에 해당하지 않는다.
- ④ 연구 결과, 관용 정신 지수는 봉사 활동의 지속성이 높은 집단에서 가장 낮게, 낮은 집단에서 가장 높게 나타났다. 따라서 연구 결과 '지속적으로 봉사 활동에 참여하는 청소년이 그렇지 않은 청소년보다 관용 정신 정도가 높을 것이다.'를 내용으로 하는 <가설 1>은 기각되었다. 그러나 이것이 <가설 1>이 검증되지 않았다는 것을 의미하지는 않는다.

028 정답: ㉔

- ㄴ. ㉔과 ㉕은 모두 ㉔을 측정 가능하도록 정의한 것에 해당하므로 ㉔에 대한 조작적 정의에 해당한다.
- ㄷ. 갑은 재택근무 시간의 비중이 높을수록 업무 처리 과정의 만족도는 높아진다는 통계적으로 유의미한 결과를 얻었다. 이에 따라 '재택 근무 시간의 비중은 업무 처리 과정의 만족도에 정(+)'의 영향을 미칠 것이다.'는 ㉔이 될 수 있다.

오답 풀이

- ㄱ. ㉓은 모집단에 해당하나, ㉕은 표본 집단에 해당하지 않는다.
- ㄷ. 주어진 자료를 바탕으로는 업무 처리 과정의 만족도와 직장 동료와의 친밀도가 일련의 관계를 가지는지 여부를 알 수 없다. 따라서 '업무 처리 과정의 만족도와 직장 동료와의 친밀도는 부(-)'의 관계를 가질 것이다.'는 ㉔이 될 수 없다.

029 정답: ㉓

- ㄱ. ㉓은 종속 변수, ㉔과 ㉕은 독립 변수이다.
- ㄴ. 갑은 종속 변수에 대해서는 '정치적 효능감 지수'라는 개념의 조작적 정의를 시행했으나, 독립 변수에 대해서는 개념의 조작적 정의를 시행하지 않았다.

오답 풀이

- ㄷ. 갑은 2차 자료를 수집하지 않았다. 최근 1년 내 투표 여부를 질문지를 통해 수집한 것은 타인이 수집한 자료를 활용한 것이 아니므로 2차 자료를 수집한 것이 아니다.
- ㄷ. 정치 관련 교과목 수강 경험과 최근 1년 내 투표 경험에 따른 정치적 효능감 지수를 표에 나타내면 다음과 같다.

구분	교과목 수강 ○	교과목 수강 ×
투표 경험 ○	4.2	3.0
투표 경험 ×	3.4	2.1

정치 관련 교과목 수강 경험이 있는 응답자의 정치적 효능감 지수는 3.4~4.2점이고, 정치 관련 교과목 수강 경험이 없는 응답자의 정치적 효능감 지수는 2.1점~3.0점이다. 따라서 ㉔은 수용된다. 그러나 투표 경험이 있는 응답자의 정치적 효능감 지수는 3.0~4.2점이고, 투표 경험이 없는 응답자의 정치적 효능감 지수는 2.1~3.4점이다. 이에 따라 투표 경험이 없는 응답자의 정치적 효능감

지수가 있는 응답자의 정치적 효능감 지수보다 높을 가능성을 배제할 수 없으므로 ㉔은 수용되지 않는다.

030 정답: ㉔

- ④ 전문성을 바탕으로 한 A 집단에서는 최대 전기 자극 단계까지 도달한 참가자 비율이 65%, 압박감을 바탕으로 한 B 집단에서는 최대 전기 자극 단계까지 도달한 참가자 비율이 80%, 친밀감을 바탕으로 한 C 집단에서는 최대 전기 자극 단계까지 도달한 참가자 비율이 40%이다. 이에 따라 '전문성은 개인의 복종 수준에 친밀감보다 강한 영향을, 압박감보다 약한 영향을 미칠 것이다.'는 ㉔이 될 수 있다.

오답 풀이

- ① ㉓은 독립 변수를 처치하기 전 종속 변수를 측정하는 것이 아니므로 사전 검사에 해당하지 않는다.
- ② A~C 집단은 독립 변수를 처치받은 실험 집단에 해당하나, ㉔은 통제 집단에 해당하지 않는다.
- ③ ㉔ 자체로는 '개인의 복종 수준'이라는 개념에 대한 조작적 정의가 될 수 없으며, ㉔은 그 자체로 측정이 가능한 개념이 아니기에 개념의 조작적 정의에 해당하지 않는다.
- ⑤ 개인의 정서적 불안의 정도와 개인의 복종 수준이 집단별로 정확하게 일치하지 않는다는 것이 권위자의 유형이 개인의 정서적 불안에 영향을 미치지 않는다는 점의 근거가 되지 못한다. 따라서 '권위자의 유형은 개인의 정서적 불안에 영향을 미치지 않을 것이다.'는 ㉔이 될 수 없다.

031	032	033	034	035
④	②	⑤	③	①
036	037	038	039	040
④	⑤	⑤	⑤	④
041	042	043	044	045
⑤	②	④	①	②
046	047	048	049	050
②	②	③	⑤	②
051	052	053	054	055
④	④	①	②	④
056	057	058	059	060
④	①	③	③	②

031 정답: ④

다음 글에서 개인과 사회의 관계를 바라보는 필자의 관점은 사회 실재론이다.

- ㄴ. 사회 실재론은 사회가 개인의 외부에 실제로 존재한다고 본다.
- ㄹ. 사회 실재론은 사회의 특징은 구성원들의 특성으로 환원될 수 없다고 본다.

오답 풀이

- ㄱ. 공익보다 개인의 이익을 중시하는 것은 사회 명목론이다.
- ㄷ. 개인이 자율성과 능동성을 지닌 존재임을 강조하는 것은 사회 명목론이다.

032 정답: ②

다음 글에서 개인과 사회의 관계를 바라보는 필자의 관점은 사회 실재론이다.

- ㄱ. 사회 실재론은 사회를 개인의 외부에 존재하는 독자적인 실체로 본다.
- ㄷ. 사회 실재론은 사회의 특징이 개인의 특징으로 환원될 수 없다고 본다.

오답 풀이

- ㄴ. 사회는 개인의 이익을 실현하기 위한 수단이라고 보는 것은 사회 명목론이다.
- ㄹ. 사회는 개인의 자율적인 의지에 의해 만들어진다고 보는 것은 사회 명목론이다.

033 정답: ⑤

A는 사회 명목론, B는 사회 실재론이다.

- ⑤ (가)에는 사회 실재론만 '예'로 답하는 질문이 들어가야 한다. 그리고 '개인은 사회에 의해 구조화된 행동을 한다고 보는가?'는 사회 실재론만 '예'로 답하는 질문이므로 해당 질문은 (가)에 들어갈 수 있다.

오답 풀이

- ① 개인의 속성은 사회의 속성이 반영된 결과라고 보는 것은 사회 실재론이다.

- ② 개인의 이익보다 공익을 중시하는 것은 사회 실재론이다.
- ③ 개인이 자율성과 능동성을 지닌 존재임을 강조하는 것은 사회 명목론이다.
- ④ 개인의 자율적 의지에 의해 사회 현상이 형성된다고 보는 것은 사회 명목론이다.

034 정답: ③

같은 사회 실재론, 음은 사회 명목론적 관점을 가지고 있다.

- ③ 사회 명목론은 사회 실재론과 달리 사회 규범의 구속성보다 개인의 자율성이 우선한다고 본다.

오답 풀이

- ① 공익보다 개인의 이익을 중시하는 것은 사회 명목론이다.
- ② 개인의 발전이 곧 사회의 발전이라고 보는 것은 사회 명목론이다.
- ④ 사회 문제의 원인을 개인의 의식보다 사회 제도에서 찾는 것은 사회 실재론이다.
- ⑤ 개인은 사회 구조와의 관련 속에서만 존재 의미를 가진다고 보는 것은 사회 실재론이다.

035 정답: ①

다음 글에서 비판하는 개인과 사회의 관계를 바라보는 관점은 사회 실재론이다.

- ㄱ. 사회 실재론은 사회는 구성원들에게 외재성을 가진다고 본다.
- ㄴ. 사회 실재론은 개인은 사회에 의해 구조화된 행동을 한다고 본다.

오답 풀이

- ㄷ. 사회 규범의 구속성보다 개인의 능동성을 중시하는 것은 사회 명목론이다.
- ㄹ. 사적 이익의 총합이 곧 사회 전체의 이익이라고 보는 것은 사회 명목론이다.

036 정답: ④

A가 사회 실재론, B가 사회 명목론인 경우 점수가 4점인 데 모순이다. 따라서 A는 사회 명목론, B는 사회 실재론이고 (가)에는 사회 실재론, (나)에는 사회 명목론에 해당하는 설명이 들어가야 한다.

- ④ '사회가 개인의 외부에 실제로 존재한다고 본다.'는 사회 실재론에 해당하는 설명이므로 (가)에 들어갈 수 있다.

오답 풀이

- ① 전체를 위한 개인의 희생을 정당화할 우려가 있다는 비판을 받는 것은 사회 실재론이다.
- ② 사회 규범은 개인이 옳다고 믿기에 존재한다고 보는 것은 사회 명목론이다.
- ③ 사회의 특성이 개인의 특성으로 환원된다고 보는 것은 사회 명목론이다.
- ⑤ '사회는 개인의 자유 의지보다 우위에 있다고 본다.'는 사회 실재론에 해당하는 설명이므로 (나)에 들어갈 수 없다.

037 정답: ⑤

옳은 대답이 '아니오'인 질문에 대한 채점 결과는 0점이다. 따라서 해당 질문에 대한 옳은 대답은 '예'가 되어야 하고, A는 사회 실재론, B는 사회 명목론이다.

ㄴ. 사회 실재론은 사회 명목론과 달리 사회는 개인에게 외재성을 가진다고 보고, 첫 번째 질문에 대한 옳은 대답은 '예'이므로 해당 내용이 (가)에 들어간다면 ①은 '1점'이다.

ㄷ. ①이 '0점'이라면 (가)에는 해당 질문에 대한 옳은 대답이 '아니오'가 되게끔 하는 질문이 들어가야 한다. 그러나 사회 실재론은 사회 명목론과 달리 개인의 능동성보다 사회의 구속성을 중시해야 한다고 보므로 해당 질문이 (가)에 들어간다면 ①이 '0점'인 것에 모순이다. 따라서 해당 질문은 (가)에 들어갈 수 없다.

오답 풀이

ㄱ. 사회는 단순 개인의 합에 지나지 않는다고 보는 것은 사회 명목론이다.

038 정답: ⑤

A가 사회 명목론, B가 사회 실재론인 경우 ①은 최소 0점~최대 2점이고, A가 사회 실재론, B가 사회 명목론인 경우 ①은 최소 2점~최대 4점이다. 이에 따라 ①이 0점 또는 1점인 경우 A는 사회 명목론, B는 사회 실재론이고, ①이 3점 또는 4점인 경우 A는 사회 실재론, B는 사회 명목론이다.

ㄴ. (가)에 '사회가 개인의 외부에 실재한다고 본다.'가 들어간다면, A가 사회 실재론, B가 사회 명목론인 경우 ①은 최소 2점, 최대 3점이다. 따라서 ①에는 '4점'이 들어갈 수 없다.

ㄷ. ①에 '3점'이 들어간다면 A는 사회 실재론, B는 사회 명목론이다. 그리고 이때 '사회가 개인들의 총합에 불과하다고 본다.'가 (나)에 들어간다면 ①은 최소 2점, 최대 3점이므로 해당 내용은 (나)에 들어갈 수 있다.

ㄹ. (가)에 '개인이 사회에 의해 구조화된 행동을 한다고 본다.'가 들어가고 (나)에 '사회 문제 해결 시 제도 개혁보다 의식 개혁을 중시한다.'가 들어간다면 A가 사회 명목론, B가 사회 실재론인 경우와 A가 사회 실재론, B가 사회 명목론인 경우 모두 ①에 들어갈 것은 '2점'이다.

오답 풀이

ㄱ. ①에 '1점'이 들어간다면, A는 사회 명목론, B는 사회 실재론이다.

039 정답: ⑤

⑤ ⑥은 아버지로서의 역할과 회사원으로서의 역할이 충돌하는 상황에서의 갑의 역할 갈등에 해당한다.

오답 풀이

① ①은 갑의 귀속 지위이나, ⑥은 '갑의' 귀속 지위가 아니다.

② ㉠은 공식적 사회화 기관이나, ⑥은 비공식적 사회화 기관이다.

③ ⑥은 갑의 역할 행동에 대한 보상이나, ㉠은 애초에 보상에

에 해당하지 않는다.

④ ㉠은 갑의 역할 행동에 대한 제재에 해당하지 않는다.

040 정답: ④

④ ㉠은 소방관으로서의 갑의 예기 사회화에 해당한다.

오답 풀이

① ㉠과 ㉡은 모두 사회화 기관이기에 두 가지 모두에서 사회화가 이루어진다.

② ㉠과 ㉡은 모두 성취 지위에 해당한다.

③ ㉡은 갑의 역할이 아닌 역할 행동에 대한 보상이다.

⑤ ㉡은 갑의 역할 행동이 아닌, 갑이 역할을 배정받은 것에 해당한다.

041 정답: ⑤

⑤ 갑은 그의 역할 행동에 대해 문단의 주목을 받는, 을은 그의 역할 행동에 대해 작품들이 전문 문예지에 실리며 인정받는 보상을 경험하였다.

오답 풀이

① ㉠은 공식적 사회화 기관이나, ㉡은 비공식적 사회화 기관이다.

② ㉠은 성취 지위에 해당한다.

③ ㉡은 두 가지 이상의 역할이 충돌하는 상황이 아니므로 역할 갈등에 해당하지 않는다.

④ 갑은 그의 역할 행동에 대한 사회적 제재를 경험하지 않았다. 문학 공모전에서 탈락한 것은 '사회적 제재'에 해당하지 않는다.

042 정답: ②

ㄱ. 갑은 고등학교라는 공식적 사회화 기관에 속한 적이 있고, 을 역시 고등학교, 대학원이라는 공식적 사회화 기관에 속한 적이 있다.

ㄷ. 을은 그의 역할 행동에 대해 과학 경진대회에 참가해 수상에 성공한, 또 학계의 주목을 받는 보상을 경험하였다. 반면 갑은 역할 행동에 대한 보상을 경험하지 않았다.

오답 풀이

ㄴ. 갑과 을은 모두 그의 역할 행동에 대한 제재를 경험하지 않았다.

ㄹ. 을은 대학원 진학을 목표로 실험실 연구에 매진한 예기 사회화를 경험하였다. 반면 갑은 예기 사회화를 경험하지 않았다. 중고 기타를 사 혼자 연습을 시작한 것은 특정 지위를 얻을 것을 예상하여 진행한 것이 아니므로 예기 사회화에 해당하지 않는다.

043 정답: ④

A는 비공식 조직, B는 자발적 결사체, C는 공식 조직이다.

④ '시민 단체'는 자발적 결사체와 공식 조직의 사례에 해당한다.

오답 풀이

① 공식 조직은 공식적인 규범과 절차에 의해 구성원을 통제한다.

- ② 비공식 조직과 공식 조직은 모두 자발적 결사체에 해당할 수 있다.
- ③ 모든 비공식 조직은 공식 조직에 해당하지 않는다.
- ⑤ '노동조합'은 비공식 조직과 자발적 결사체가 아닌, 공식 조직과 자발적 결사체의 사례에 해당한다.

044 정답: ①

- ① 학교는 학교 운영 위원회와 달리 공식적 사회화 기관에 해당한다.
- 오답 풀이
- ② 가족은 직접적인 대면 접촉과 친밀감을 바탕으로 형성된 집단이다.
 - ③ 갑은 학교 운영 위원회에 속한 것이 아니므로 학교 운영 위원회는 갑의 내집단에 해당하지 않는다.
 - ④ 가족은 구성원의 선택 의지에 따라 인위적으로 형성된 집단이 아닌, 본질 의지에 의해 자연적으로 형성된 집단이다.
 - ⑤ 학교 연합 환경 보호 단체는 공식 조직 내부의 공식 조직이 아닌 사회 집단이 아니므로 비공식 조직에 해당하지 않는다.

045 정답: ②

- 사회 집단 ㉠은 A와 C에 동시에 해당하고, ㉡은 C에만 해당하므로 A는 비공식 조직, C는 자발적 결사체이다. 따라서 B는 공식 조직이다.
- ㄴ. 비공식 조직과 공식 조직은 모두 자발적 결사체에 해당할 수 있다.
 - ㄷ. '사내 테니스 동호회'는 비공식 조직이자 자발적 결사체이기에 ㉠에 해당할 수 있다.
- 오답 풀이
- ㄱ. 모든 비공식 조직은 공식 조직에 해당하지 않는다.
 - ㄹ. '노동조합'은 자발적 결사체이므로 ㉡이 아닌 ㉠에 해당할 수 없다.

046 정답: ②

갑~병이 속한 사회 집단 및 조직을 표에 정리하면 다음과 같다.

구분	갑	을	병
□□대학교	○	○	○
총학생회	○	×	○
가족	○	×	×
환경 단체	×	○	×
대학 축구 동아리	×	○	○

- ② 병이 속한 비공식 조직의 개수는 대학 축구 동아리의 1개, 갑이 속한 공동 사회의 개수는 가족의 1개로 전자와 후자는 같다.
- 오답 풀이
- ① 갑이 속한 이익 사회의 개수는 □□대학교, 총학생회의 2개, 을이 속한 공식적 사회화 기관의 개수는 □□대학교의 1개로 전자와 후자는 같지 않다.

- ③ 을이 속한 자발적 결사체의 개수는 환경 단체, 대학 축구 동아리의 2개, 갑과 병이 함께 속한 2차적 사회화 기관의 개수는 □□대학교, 총학생회의 2개로 전자는 후자보다 많지 않다.
- ④ 을과 병이 함께 속한 사회 집단은 □□대학교, 대학 축구 동아리의 2개, 갑이 속한 1차적 사회화 기관의 개수는 가족의 1개로 전자와 후자는 같지 않다.
- ⑤ 갑과 을이 함께 속한 자발적 결사체는 존재하지 않으나, 병이 속한 비공식적 사회화 기관은 총학생회, 대학 축구 동아리가 존재한다.

047 정답: ②

갑~무가 속한 사회 집단 및 조직을 표에 정리하면 다음과 같다.

구분	갑	을	병	정	무
독서 모임	○	×	×	×	×
헬스 동호회	×	○	×	×	×
대학	○	×	○	×	×
편입 스터디	×	×	×	○	○
인디 밴드(나락 밴드)	○	○	○	○	○
시민 단체	×	○	×	○	×

- ② [장면 3]에 나타난 사회 집단의 개수는 시민 단체, '나락 밴드'의 2개, 정이 속한 비공식적 사회화 기관의 개수는 인디 밴드, 시민 단체의 2개로 전자와 후자는 같다.
- 오답 풀이
- ① [장면 1]에 나타난 자발적 결사체의 개수는 독서 모임, 헬스 동호회의 2개, [장면 2]에 나타난 공식적 사회화 기관의 개수는 편입 스터디의 1개로 전자와 후자는 같지 않다.
 - ③ 갑이 속한 이익 사회의 개수는 독서 모임, 대학, 인디 밴드의 3개, 을이 속한 2차적 사회화 기관의 개수는 헬스 동호회, 인디 밴드, 시민 단체의 3개로 전자는 후자보다 많지 않다.
 - ④ 병이 속한 공식적 사회화 기관의 개수는 대학의 1개, 무가 속한 사회 집단의 개수는 편입 스터디, 인디 밴드의 2개로 전자와 후자는 같지 않다.
 - ⑤ 갑과 정이 함께 속한 비공식 조직은 존재하지 않으나, 을과 정이 함께 속한 공식 조직은 시민 단체가 존재한다.

048 정답: ③

□□기업 내 테니스 동아리, □□기업 노동조합에 속한 사람은 반드시 □□기업에 속하고, △△대학교 밴드에 속한 사람은 반드시 △△대학교에 속한다.

□□기업에 속한 사람은 △△대학교에 속한 사람보다 많은데, 전자가 2명, 후자가 1명인 경우 □□기업 내 테니스 동아리, □□기업 노동조합, △△대학교 밴드 중 속한 사람이 3명인 것이 나와야 하기 때문에 □□기업 내 테니스 동아리, □□기업 노동조합에 속한 사람은 반드시 □□기업에 속하고, △△대학교 밴드에 속한 사람은 반드시 △△대학교에 속한다는 대전제가 충족되지 않는다.

전자가 3명, 후자가 1명일 경우 △△대학교 밴드에 속한 사람도 1명이 되어야 하는데, 이 경우 □□기업에 속한 사람과 △△대학교에 속한 사람은 중복되지 않는데, 누군가 2명은 □□기업 내 테니스 동아리에 속해야 하고, 이에 따라 비공식 조직에 속한 사람이 3명이 되기에 A~E 중 비공식 조직에 속한 사람은 갑, 병뿐인 것에 모순이다. 따라서 전자는 3명, 후자는 2명인 것, 그리고 E는 □□기업인 것을 알 수 있다.

또한 A~C 중 공식적 사회화 기관이 존재한다는 점에서 △△대학교는 B라는 것을 알 수 있고, D가 △△대학교 밴드인 경우 비공식 조직에 속한 사람은 3명인 데 모순이 생기므로 △△대학교 밴드는 A 또는 C이며, 같은 이유로 □□기업 내 테니스 동아리 역시 A 또는 C이고, 이에 따라 □□기업 노동조합은 D가 된다는 사실을 알 수 있다.

이때 공식적 사회화 기관은 △△대학교가 유일하고, 여기에 속한 사람은 갑, 정뿐인 것이 확인되었으니 자연스럽게 □□기업에 속한 사람은 을, 병, 무인 것을 알 수 있다. 이때 병은 비공식 조직에 속했는데, 병이 속한 비공식 조직이 △△대학교 밴드인 경우 병은 공식적 사회화 기관(△△대학교)에 속한 것이 되어 모순이다. 따라서 병이 속한 비공식 조직은 □□기업 내 테니스 동아리. 그리고 자연스럽게 갑이 속한 비공식 조직은 △△대학교 밴드가 된다.

□□기업 내 테니스 동아리가 A인 경우 △△대학교 밴드는 C가 되는데, 이때 B~E 중 갑이 속한 사회 집단은 B, C가 존재하고, 을이 속한 사회 집단은 적어도 E 하나가 존재하니 갑 또는 을이 속한 사회 집단의 개수는 적어도 3개이다. 그러나 이 경우 B~E 중 병이 속한 사회 집단은 3개가 될 수 없어 모순이다. 따라서 A는 △△대학교 밴드, C는 □□기업 내 테니스 동아리가 된다. 현재까지 확정된 내용을 표에 정리해 보면 다음과 같다.

구분	갑	을	병	정	무
A(△△대학교 밴드)	○	×	×	×	×
B(△△대학교)	○	×	×	○	×
C(□□기업 내 테니스 동아리)	×	×	○	×	×
D(□□기업 노동조합)	?	?	?	?	?
E(□□기업)	×	○	○	×	○

이때 을과 병 중 적어도 한 명은 □□기업 노동조합에 속해야 하는데, 만약 둘 중 한 명만 속한다면 B~E 중 병이 속한 사회 집단의 개수는 갑 또는 을이 속한 사회 집단의 개수와 같다는 데 모순이다. 따라서 을과 병은 모두 □□기업 노동조합에 속하는 것을, 그리고 무는 속하지 않는 것을 알 수 있다. 앞에서 구한 내용을 바탕으로 갑~무가 속한 사회 집단을 표에 정리하면 다음과 같다.

구분	갑	을	병	정	무
A(△△대학교 밴드)	○	×	×	×	×
B(△△대학교)	○	×	×	○	×
C(□□기업 내 테니스 동아리)	×	×	○	×	×
D(□□기업 노동조합)	×	○	○	×	×
E(□□기업)	×	○	○	×	○

③ 갑이 속한 이익 사회의 개수는 A, B의 2개, 무가 속한 공식 조직의 개수는 E의 1개로 전자는 후자보다 많다.

오답 풀이

- ① △△대학교 밴드와 □□기업 노동조합은 모두 공식 조직 내부에 속한 사회 집단이다.
- ② C~E 중 공식적 사회화 기관, 즉 △△대학교는 존재하지 않는다.
- ④ 을이 속한 2차적 사회화 기관의 개수는 D, E의 2개, 정이 속한 공식적 사회화 기관의 개수는 B의 1개로 전자와 후자는 같지 않다.
- ⑤ 병이 속한 비공식 조직의 개수는 C의 1개, 을과 무가 함께 속한 자발적 결사체의 개수는 0개로 전자와 후자는 같지 않다.

049 정답: ⑤

A는 관료제, B는 탈관료제이다.

- ⑤ 관료제와 탈관료제는 모두 효율적인 조직 운영을 목표로 하므로 '효율적인 조직 운영을 목표로 하는가?'는 (가)에 들어갈 수 있다.

오답 풀이

- ① 관료제는 탈관료제에 비해 조직 운영의 유연성이 낮다.
- ② 관료제는 탈관료제에 비해 다품종 소량 생산 체제가 지배적인 사회에 적합하지 않다.
- ③ 탈관료제는 관료제에 비해 상향식 의사 결정 방식이 지배적이다.
- ④ 탈관료제는 관료제에 비해 업무의 전문화 및 세분화를 강조하지 않는다.

050 정답: ②

A는 관료제, B는 탈관료제이다.

- ② 탈관료제는 목적 전치 현상을 해결하기에 용이하다.

오답 풀이

- ① 관료제는 인간 소외 문제를 해결하기 위해 등장하지 않았다.
- ③ 관료제는 탈관료제에 비해 조직 구성원의 재량권 및 자율성이 낮다.
- ④ 탈관료제는 관료제에 비해 연공서열에 따른 보상 체계를 중시하지 않는다.
- ⑤ 관료제와 탈관료제 중 하향식 의사 결정 방식이 지배적인 것은 관료제뿐이다.

051 정답: ④

○○ 회사에 재직 중이던 갑은 해당 회사의 관료제적인 특징에 염증이 생겨 □□ 회사로 이직하였으며, □□ 회사에 재직 중이던 을은 해당 회사의 탈관료제적인 특징에 염증이 생겨 ○○ 회사로 이직하였다. 따라서 A는 탈관료제, B는 관료제이다.

- ㄴ. 탈관료제는 관료제와 달리 상향식 의사 결정 방식이 지배적이다.
- ㄹ. 관료제는 탈관료제에 비해 조직 구성원의 재량권 및 자율성이 낮다.

오답 풀이

- ㄱ. 탈관료제는 관료제와 달리 연공서열에 따른 보상을 중시하지 않는다.
- ㄴ. 관료제는 탈관료제에 비해 의사 결정 권한의 분산 정도가 낮다.

052 정답: ④

A를 선택한 사람은 '구성원이 가진 업무 재량권이 크다.'는 장점으로 인해 A를 선호한 것으로 판단되므로 A는 탈관료제, B는 관료제이다. 남성은 A를 B보다 1.5배 선택하고, 여성은 B를 A보다 1.5배 선택했으므로 A를 선택한 남성은 60명, B를 선택한 남성은 40명이고 A를 선택한 여성은 40명, B를 선택한 여성은 60명이다.

이 가운데 부부가 함께 B를 선택한 경우는 30쌍이므로 30명의 남성과 여성은 부부가 모두 B를 선택했고, 이에 따라 A를 선택한 남편 중 아내가 B를 선택한 사람은 30명, A를 선택한 아내 중 남편이 B를 선택한 사람은 10명임을 알 수 있다. 따라서 부부가 함께 B를 선택한 경우는 30쌍인 것을 알 수 있다. 해당 내용을 바탕으로 남성/여성별로 탈관료제(A)를 택하거나 택하지 않은 양상을 표에 정리하면 다음과 같다.

구분	남성 ○	남성 ×
여성 ○	30명	10명
여성 ×	30명	30명

또한 해당 내용을 바탕으로 남성/여성별로 관료제(B)를 택하거나 택하지 않은 양상을 표에 정리하면 다음과 같다.

구분	남성 ○	남성 ×
여성 ○	30명	30명
여성 ×	10명	30명

- ㄱ. 중간 관리층의 역할 비중이 높은 관료제를 부부가 함께 선택한 경우는 30쌍이다.
- ㄴ. 하향식 의사 결정 방식이 지배적인 관료제를 선택한 여성 중에서 배우자와 동일한 방식을 선택한 수는 30명, 다른 방식을 선택한 수는 30명으로 전자와 후자는 같다.
- ㄷ. 목적 전치 현상을 해결하기에 용이한 탈관료제를 선택한 남성 중에서 배우자와 동일한 방식을 선택한 수는 30명, 다른 방식을 선택한 수는 30명으로 전자와 후자는 같다.

오답 풀이

- ㄹ. 경력에 따른 보상을 강조하는 탈관료제를 배우자와 달리 선택한 여성 수는 10명, 과업 수행 절차의 예측 가능성이 높은 관료제를 배우자와 달리 선택한 남성 수는 10명으로 전자는 후자보다 적지 않다.

053 정답: ①

'A는 B, C와 달리 일탈 행동을 규정하는 객관적인 기준이 존재하지 않는다고 본다.'는 참이므로 A는 낙인 이론이다. 그리고 'A, C는 B와 달리 타인과의 상호 작용 과정을 중심으로 일탈 행동을 설명한다.'는 거짓이므로 B는 차별적 교제 이론, C는 머튼의 아노미 이론이다.

- ① 낙인 이론은 2차적 일탈이 발생하는 과정에 초점을 맞춘다.

오답 풀이

- ② 문화적 목표와 제도적 수단의 괴리를 일탈 행동의 원인으로 보는 것은 머튼의 아노미 이론이다.
- ③ 일탈 행동에 대한 우호적 가치관의 학습을 일탈 행동의 원인으로 보는 것은 차별적 교제 이론이다.
- ④ 정상 집단과의 교류를 일탈 행동의 해결 방안으로 제시하는 것은 차별적 교제 이론이다.
- ⑤ 최초 일탈보다 일탈 행동의 반복에 초점을 맞추는 것은 낙인 이론이다.

054 정답: ②

'타인과의 상호 작용 과정을 중심으로 일탈 행동을 설명하는가?'에 '아니요'로 답하는 이론은 머튼의 아노미 이론이므로 C는 머튼의 아노미 이론이고, ㉠은 '예', ㉡은 '아니요'이다. 그리고 '일탈 행동을 규정하는 객관적인 기준이 존재한다고 보는가?'에 '아니요'로 답하는 이론은 낙인 이론이므로 A는 낙인 이론, B는 차별적 교제 이론이다.

- ② 낙인 이론은 차별적 교제 이론과 달리 차별적인 제재를 일탈 행동의 원인으로 본다.

오답 풀이

- ① ㉠은 '예', ㉡은 '아니요'이다.
- ③ 문화적 목표와 제도적 수단의 괴리를 일탈 행동의 원인으로 보는 것은 머튼의 아노미 이론이다.
- ④ 일탈 행동 자체보다 그에 대한 사회적 반응에 주목하는 것은 낙인 이론이다.
- ⑤ 타인과의 상호 작용을 통해 일탈 행동을 학습하는 과정을 중시하는 것은 차별적 교제 이론뿐이다.

055 정답: ④

갑은 머튼의 아노미 이론, 을은 차별 교제 이론, 병은 낙인 이론의 관점을 취하고 있다.

- ④ 머튼의 아노미 이론, 차별 교제 이론은 낙인 이론과 달리 일탈 행동을 규정하는 객관적인 기준이 존재한다고 본다.

오답 풀이

- ① 정상 집단과의 교류를 일탈 행동의 해결 방안으로 제시하는 것은 차별 교제 이론이다.
- ② 차별적인 사회적 제재를 일탈 행동의 원인으로 보는 것은 낙인 이론이다.
- ③ 문화적 목표와 제도화된 수단의 괴리를 일탈 행동의 원인으로 보는 것은 머튼의 아노미 이론이다.
- ⑤ 사회 구조적 관점에서 일탈 행동을 설명하는 것은 머튼의 아노미 이론뿐이다.

056 정답: ④

<1 모둠>의 사례는 차별적 교제 이론과 낙인 이론, <2 모둠>의 사례는 머튼의 아노미 이론과 차별적 교제 이론, <3 모둠>의 사례는 뒤르캬의 아노미 이론과 낙인 이론을 통해 설명할 수 있다. 따라서 A는 낙인 이론, B는 차별적 교제 이론, C는 머튼의 아노미 이론, D는 뒤르캬의 아노미 이론이다.

- ④ 낙인 이론은 뒤르캬의 아노미 이론과 달리 일탈 행동에 대한 대책으로 낙인에 대한 신중한 접근을 강조한다.

오답 풀이

- ① 일탈자의 부정적 자아가 형성되는 과정에 주목하는 것은 낙인 이론이다.
- ② 일탈 행동에 대한 대책으로 일탈자와의 접촉 차단을 강조하는 것은 차별적 교제 이론이다.
- ③ 문화적 목표와 제도적 수단 간 괴리를 일탈 행동의 원인으로 보는 것은 머튼의 아노미 이론이다.
- ⑤ 사회 구조적 관점에서 일탈 행동을 설명하는 것은 뒤르켐의 아노미 이론, 머튼의 아노미 이론이다.

057 정답: ①

B가 차별적 교제 이론인 경우 을의 첫 번째, 두 번째 질문에 대한 답변은 옳지 않은 답변이 되어 을이 3점을 얻은 것에 모순이다. 마찬가지로 B가 낙인 이론인 경우 을의 첫 번째, 세 번째 질문에 대한 답변은 옳지 않은 답변이 되어 을이 3점을 얻은 것에 모순이다. 따라서 B는 머튼의 아노미 이론이다. 그리고 C가 낙인 이론인 경우, 병의 첫 번째, 두 번째, 세 번째 질문에 대한 답변은 모두 옳은 답변이 되어 병이 1점을 얻은 것에 모순이다. 따라서 C는 차별적 교제 이론이고, A는 낙인 이론이다.

- ㄱ. 낙인 이론은 머튼의 아노미 이론과 달리 일탈을 규정하는 객관적인 기준은 존재하지 않는다고 본다.
- ㄴ. 머튼의 아노미 이론은 차별적 교제 이론과 달리 일탈의 대책으로 문화적 목표 달성을 위한 제도적 수단의 마련을 강조한다.

오답 풀이

- ㄷ. 차별적 교제 이론과 낙인 이론은 모두 사회 구조적 관점에서 일탈 행동을 설명하지 않는다.
- ㄹ. (가)에는 갑, 을, 병의 해당 질문에 대한 답변이 모두 옳지 않게끔 하는 질문이 들어가야 한다. 그러나 '최초 일탈보다 일탈 행동의 반복에 초점을 두는가?'가 (가)에 들어간다면 해당 질문에 대한 병의 답변은 옳은 것이 되어 해당 질문은 (가)에 들어갈 수 없다.

058 정답: ③

제시된 사례에서 갑의 일탈 행동은 머튼의 아노미 이론을 통해, 을의 일탈 행동은 차별 교제 이론을 통해 설명할 수 있다. 따라서 A는 머튼의 아노미 이론, B는 낙인 이론, C는 차별 교제 이론이다.

- ③ 차별 교제 이론은 머튼의 아노미 이론과 달리 타인과의 상호 작용이 일탈에 미치는 영향에 주목한다.

오답 풀이

- ① 1차적 일탈이 2차적 일탈로 이어지는 과정에 주목하는 것은 낙인 이론이다.
- ② 타인과의 상호 작용이 일탈에 미치는 영향에 주목하는 것은 차별 교제 이론이다.
- ④ 일탈에 대한 대책으로 일탈자와의 접촉 차단을 강조하는 것은 차별 교제 이론이다.
- ⑤ 일탈에 대한 대책으로 낙인에 대한 신중한 접근을 강조하는 것은 낙인 이론이다.

059 정답: ③

을의 답변과 그가 얻은 점수를 기준으로 다음과 같이 경우를 나누어 볼 수 있다:

- 1. 첫 번째, 두 번째, 세 번째 질문에 대한 을의 답변이 옳은 답변인 경우
- 2. 두 번째, 네 번째 질문에 대한 을의 답변이 옳은 답변인 경우
- 3. 세 번째, 네 번째 질문에 대한 을의 답변이 옳은 답변인 경우

1번 경우에서 각 질문에 대한 옳은 답변은 각각 '예', '아니요', '아니요', '예'가 되는데, 이 경우 갑이 4점, 병이 3점을 얻은 것에 아무 모순이 발생하지 않는다. 2번 경우에서 각 질문에 대한 옳은 답변은 각각 '아니요', '아니요', '예', '아니요'가 되는데, 이 경우 갑이 4점을 얻은 것에 모순이 발생한다. 3번 경우에서 각 질문에 대한 옳은 답변은 '아니요', '예', '아니요', '아니요'가 되는데, 이 경우 병이 3점을 얻은 데 모순이 발생한다. 따라서 옳은 것은 1번 경우이고, 각 질문에 대한 옳은 답변은 각각 '예', '아니요', '아니요', '예'이다.

첫 번째 질문에서 A는 뒤르켐의 아노미 이론인 것을 알 수 있으며, 네 번째 질문에서 D는 머튼의 아노미 이론인 것을 알 수 있다. 또한 세 번째 질문에서 B는 차별적 교제 이론, C는 낙인 이론인 것을 알 수 있다. 그리고 ㉠에 들어갈 것은 '아니요'인 것을 알 수 있다.

- ③ 차별적 교제 이론은 낙인 이론과 달리 일탈 행동이 학습으로 인해 발생한 결과임을 강조한다.

오답 풀이

- ① ㉠에 들어갈 것은 '아니요'이다.
- ② 정상 집단과의 교류를 일탈 행동의 해결 방안으로 제시하는 것은 차별적 교제 이론이다.
- ④ 문화적 목표와 제도화된 수단의 괴리를 일탈 행동의 원인으로 보는 것은 머튼의 아노미 이론이다.
- ⑤ 뒤르켐의 아노미 이론과 머튼의 아노미 이론은 모두 아노미로 인해 일탈 행동이 발생한다고 본다.

060 정답: ②

회사를 그만둔 직후 갑은 일탈 행동을 하지 않았으므로 일탈 이론을 잘못 적용한 설명은 ㉠이다. 동창회에 나간 이후 갑의 일탈 행동에는 차별적 교제 이론을 적용할 수 있으므로 D는 차별적 교제 이론, 경찰에 체포되기 전 을의 일탈 행동에는 머튼의 아노미 이론을 적용할 수 있으므로 C는 머튼의 아노미 이론, 체포된 후 을의 일탈 행동에는 낙인 이론을 적용할 수 있으므로 A는 낙인 이론이다. 따라서 B는 뒤르켐의 아노미 이론이다.

- ② 낙인 이론은 뒤르켐의 아노미 이론과 달리 차별적인 사회적 제재를 일탈 행동의 원인으로 본다.

오답 풀이

- ① 일탈 이론을 잘못 적용한 설명은 ㉠이다.
- ③ 문화적 목표와 제도적 수단 간 괴리를 일탈 행동의 원인으로 보는 것은 머튼의 아노미 이론이다.

- ④ 정상 집단과의 교류를 일탈 행동의 대책으로 제시하는 것은 차별적 교제 이론이다.
- ⑤ 차별적 교제 이론과 낙인 이론은 모두 타인과의 상호 작용을 통해 일탈 행동이 발생하는 양상에 주목한다.

061	062	063	064	065
②	④	③	③	②
066	067	068	069	070
④	④	①	⑤	④
071	072	073	074	075
①	③	①	①	⑤
076	077	078	079	080
②	③	①	④	②
081	082	083	084	085
①	①	③	②	③
086	087	088	089	090
③	④	①	②	⑤

061 정답: ②

다음 글에 나타난 문화의 속성은 전체성, 공유성이다.

- ㄱ. 공유성은 문화는 한 사회의 구성원 다수가 공통적으로 가지고 있는 생활 양식임을 의미한다.
- ㄴ. 전체성은 문화는 부분이 아닌 전체로서 의미를 갖는 생활 양식임을 의미한다.

오답 풀이

- ㄷ. 문화는 시간이 흐르면서 그 형태나 내용, 의미가 변화하는 생활 양식임을 의미하는 것은 문화의 변동성이다.
- ㄹ. 문화는 사회의 다른 구성원과의 상호 작용을 통해 후천적으로 학습되는 생활 양식임을 의미하는 것은 문화의 학습성이다.

062 정답: ④

‘1990년대 후반 젊은이들 사이에서 유행했던 당시 패션이 사라지고 30년이 지나 새로운 패션이 유행하고 있음.’에 부각된 사례는 변동성이고, ‘세탁기의 발명은 가사 노동 방식, 여성의 사회 진출, 가옥 구조 등에 연쇄적 변화를 가지고 왔음.’에 부각된 사례는 전체성이다. 따라서 A는 변동성, B는 전체성, C는 공유성이고 (가)에는 공유성이 부각된 사례가 들어가야 한다.

- ④ ‘우리나라 사람들이 생일에 미역국을 먹는 것을 당연시하는 문화’는 변동성보다 공유성으로 설명하기 적합하다.

오답 풀이

- ① 문화가 한 사회 구성원 간 원활한 상호 작용의 토대가 됨을 보여 주는 것은 공유성이다.
- ② 문화가 세대 간 전승을 통해 새로운 요소가 추가되면서 점점 풍부해짐을 보여 주는 것은 축적성이다.
- ③ 문화가 사회의 다른 구성원과의 상호 작용을 통해 후천적으로 학습됨을 보여 주는 것은 학습성이다.
- ⑤ ‘중세 시대에 허리춤에 칼을 차고 다니던 기사들은 상대방을 만났을 때 칼을 뽑지 않겠다는 의미로 손을 내밀어 악수하는 것을 자연스럽게 여김’에 부각된 문화의 속성은 공유성이므로 해당 내용은 (가)에 들어갈 수 있다.

063 정답: ③

다음 두 사례에서 공통적으로 부각된 문화의 속성은 공유성이다.

- ③ 공유성은 구성원 간에 사고와 행동의 동질성을 형성하게끔 유도한다.

오답 풀이

- ① 고정되어 있지 않고 지속적으로 변화한다는 것을 의미하는 속성은 변동성이다.
- ② 문화 요소들이 관련을 맺으며 하나의 체계를 만든다는 것을 의미하는 속성은 전체성이다.
- ④ 새로운 삶의 방식들이 더해짐에 따라 문화 요소들이 풍부해짐을 의미하는 속성은 축적성이다.
- ⑤ 한 문화 요소의 변화가 다른 문화 요소의 연쇄적 변화를 가져옴을 의미하는 속성은 전체성이다.

064 정답: ③

- ③ ㉠에 부각된 문화의 속성은 전체성으로, 전체성은 문화가 한 사회의 구성원 다수가 공통적으로 가지고 있는 생활 양식임을 보여 준다.

오답 풀이

- ① ㉠의 ‘문화’는 넓은 의미로 사용되었다.
- ② ㉡은 물질문화에 해당한다.
- ④ ㉢에 부각된 문화의 속성은 변동성으로, 이는 문화가 세대 간 전승을 통해 더욱 풍부해짐을 보여 주는 문화의 축적성이 아니다.
- ⑤ ㉣은 문화의 학습성으로 인해 문화가 될 수 없다. 문화는 본능에 따른 것이 아닌, 학습에 의해 습득한 것만을 의미하기 때문이다.

065 정답: ②

1번 사례에 부각된 문화의 속성은 축적성인데, 축적성은 4번에 연결되어 있다. 따라서 문화의 속성을 적합하게 연결하지 못한 두 가지 사례는 각각 1번, 4번이고, 2번, 3번, 5번 사례에는 부각된 문화의 속성을 적합하게 연결했다. 따라서 (가)에는 공유성이 부각된 사례가, (나)에는 전체성이 부각된 사례가 들어가야 하고, A는 전체성, B는 학습성, C는 변동성이다.

- ② ‘전동 자전거에 대한 규제 강화에 따라 헬멧을 지참하고 다니는 사람들이 많아짐’에 부각된 문화의 속성은 전체성이므로 해당 내용은 (나)에 들어갈 수 있다.

오답 풀이

- ① ‘자전거의 보급은 환경 친화적인 삶의 방식의 유행과 밀접하게 연관됨’에 부각된 문화의 속성은 전체성이므로 해당 내용은 (가)에 들어갈 수 없다.
- ③ 문화는 후천적 학습에 의해 향유하게 되는 생활 양식임을 의미하는 것은 학습성이다.
- ④ 문화는 시간이 지나며 그 형태나 구성 요소, 의미가 변화하는 생활 양식임을 의미하는 것은 변동성이다.
- ⑤ 한 사회의 문화를 구성하는 요소들은 상호 유기적으로 연관을 맺고 있음을 의미하는 것은 문화의 전체성이다.

066 정답: ④

다음 사례에 부각된 문화의 속성은 문화의 전체성, 변동성이다.

- ㄱ. 문화의 변동성은 문화는 시간이 흐르면서 그 형태나 의미가 변화한다는 것을 의미한다.
- ㄴ. 문화의 전체성은 한 사회의 문화를 구성하는 요소들은 상호 유기적으로 관련을 맺는다는 것을 의미한다.

오답 풀이

ㄷ. 문화는 후천적인 학습에 의해 향유되는 생활 양식임을 의미하는 것은 문화의 학습성이다.

067 정답: ④

<4 모둠>이 발표한 사례는 기기가 보급됨에 따라서 비율이 높아졌다는 점에서 E가 부각되었으므로 E는 전체성, 비율이 이전보다 높아졌다는 점에서 A는 변동성임을 알 수 있다. D가 부각된 사례는 <2 모둠>이 발표했고, <2 모둠>이 발표한 사례는 학습성이 부각된 사례이므로 D는 학습성이다. 이때 B가 공유성, C가 축적성이라면 <1 모둠>과 <3 모둠> 둘 다 옳게 발표한 것이 되어 한 개의 모둠을 제외하면 모두 옳지 않게 발표했다는 데 모순이다. 따라서 B는 축적성, C는 공유성이다.

④ 공유성은 학습성과 달리 문화가 한 사회 구성원의 공통된 생활 양식이라는 것을 의미하는 속성이다.

오답 풀이

- ① ㉠은 <1 모둠>이다.
- ② 문화가 세대 간 전승되며 더욱 발전되고 풍부해지는 것을 의미하는 속성은 축적성이다.
- ③ 문화가 상징을 통해 후천적으로 학습된다는 것을 의미하는 속성은 학습성이다.
- ⑤ 문화의 각 요소들이 유기적으로 연결되어 영향을 주고받는다는 것을 의미하는 속성은 전체성이다.

068 정답: ①

1번 사례에서는 공유성, 전체성, 변동성이 나타나고, 2번 사례에서는 변동성, 축적성이 나타나고, 3번 사례에서는 변동성만 나타난다. 여기서 1번 사례에서는 ○가 2개밖에 없으므로 × 중 적어도 하나는 무조건 틀린 표기이며, 2번 사례에서는 × 2개밖에 없으므로 ○ 중 하나는 무조건 틀린 표기이다. 따라서 1번 사례, 2번 사례에서 얻을 수 있는 점수는 최대 4점이다.

이때 1번 사례, 2번 사례에서 얻은 점수가 3점 이하라면 채점 결과가 13점이라는 데 모순이다. 따라서 1번 사례, 2번 사례에서 얻은 점수는 4점이고, 3번 사례에서 얻은 점수는 5점이다. 이에 따라 E는 변동성임을 알 수 있다.

이때 1번 사례에서 E에 대한 채점 결과는 옳지 않고, 해당 사례에 대한 채점 결과는 4점이므로 나머지에 대한 채점 결과는 모두 옳다. 따라서 B, D는 각각 공유성, 전체성 중 하나이고 A, C는 각각 축적성, 학습성 중 하나이다.

2번 사례에서 × 표기 두 개는 무조건 맞으므로 B, C는 각각

공유성, 학습성, 전체성 중 하나이고, 이에 따라 C는 학습성인 것을, A는 축적성인 것을 알 수 있다. 그리고 2번 사례에서 A, D에 대한 표기 중 하나는 틀려야 하는데, A에 대한 표기는 맞으므로 D에 대한 표기가 틀려야 한다. 따라서 D는 공유성, B는 전체성임을 알 수 있다.

ㄱ. 1번 사례에 대해 틀리게 표기한 속성은 변동성이고, 2번 사례에 대해 틀리게 표기한 속성은 공유성으로 전자와 후자는 다르다.

ㄴ. 문화는 상징을 통해 후천적으로 학습됨을 의미하는 속성은 축적성이 아닌 학습성이다.

오답 풀이

ㄷ. 문화는 유기적으로 연결된 총체로서 존재함을 의미하는 속성은 변동성이 아닌 전체성이다.

ㄹ. 문화는 시간이 흐르면서 그 형태나 내용이 변화함을 의미하는 속성은 변동성이다.

069 정답: ⑤

'문화를 이해가 아닌 평가의 대상으로 보는가?'에 '아니요'로 답변하는 문화 이해 태도는 문화 상대주의뿐이다. 따라서 ㉠은 '아니요', ㉡은 '예'이고, C는 문화 상대주의이다. '국수주의로 변질될 수 있다는 비판을 받는가?'에 '예'로 답변하는 문화 이해 태도는 자문화 중심주의뿐이다. 따라서 B는 자문화 중심주의, A는 문화 상대주의이다.

⑤ 문화 상대주의는 문화 상대주의, 자문화 중심주의와 달리 각 사회의 문화가 나름대로의 가치를 지닌다고 본다.

오답 풀이

- ① ㉠은 '아니요', ㉡은 '예'이다.
- ② 문화 제국주의로 변질될 수 있다는 비판을 받는 것은 자문화 중심주의이다.
- ③ 문화의 다양성 보존에 기여하는 것은 문화 상대주의이다.
- ④ 자기 문화의 가치를 폄하하는 것은 문화 상대주의이다.

070 정답: ④

갑은 자문화 중심주의, 을은 문화 상대주의, 병은 문화 상대주의적 태도를 가지고 있다.

④ 자문화 중심주의는 문화 상대주의와 달리 자문화의 정체성 보존에 유리하다.

오답 풀이

- ① 자문화 중심주의는 타 문화의 수용에 적극적이지 않다.
- ② 문화 상대주의는 문화의 다양성 보존에 유리하지 않다.
- ③ 문화를 이해가 아닌 평가의 대상으로 보는 것은 자문화 중심주의, 문화 상대주의이다.
- ⑤ 문화 상대주의는 타 문화를 제3자의 객관적 시각으로 이해하려 하지 않는다.

071 정답: ①

'문화를 평가가 아닌 이해의 대상으로 바라보는가?'의 질문으로는 자문화 중심주의, 문화 상대주의를 구분할 수 없다. 따라서 C는 문화 상대주의이다. '문화 제국주의로 변질될 수 있다는 비판을 받는가?'의 질문으로 자문화 중심주의, 문화 상대주

의를 구분할 수 있다. 따라서 B는 자문화 중심주의, A는 문화 상대주의이다.

- ① ‘특정 사회의 문화를 기준으로 자문화를 낮게 평가하는가?’의 질문으로 문화 상대주의, 문화 상대주의를 구분할 수 있으므로 해당 질문은 (가)에 들어갈 수 있다.

오답 풀이

- ② 문화 상대주의는 자문화 중심주의와 달리 다른 사회와 마찰을 초래할 가능성이 낮다.
- ③ 문화 간에 우열이 존재하지 않는다고 보는 것은 문화 상대주의이다.
- ④ 국수주의로 인해 국제적 고립을 초래할 수 있는 것은 자문화 중심주의이다.
- ⑤ 문화적 다양성을 약화시킬 위험이 있다는 비판을 받는 것은 자문화 중심주의, 문화 상대주의이다.

072 정답: ③

- ㄷ. C가 자문화 중심주의라면, ‘중국의 중화사상을 예시로 들 수 있는가?’의 질문에 대한 A와 B의 응답은 ‘아니요’로 같다. 따라서 해당 내용은 (가)에 들어갈 수 없다.
- ㄹ. ‘문화를 이해가 아닌 평가의 대상으로 보는가?’의 질문에 대한 자문화 중심주의, 문화 상대주의의 응답은 ‘예’로 같다. 따라서 B, C는 각각 자문화 중심주의, 문화 상대주의 중 하나이고, A는 문화 상대주의이다.

오답 풀이

- ㄱ. A가 문화 상대주의라면 B, C는 각각 문화 상대주의, 자문화 중심주의 중 하나이다. 그리고 ‘타 문화를 일방적으로 추종하는가?’의 질문에 대한 문화 상대주의와 자문화 중심주의의 응답은 각각 ‘예’, ‘아니요’로 다르므로 해당 내용은 (가)에 들어갈 수 없다.
- ㄴ. B가 문화 상대주의라면 A, C는 각각 문화 상대주의, 자문화 중심주의 중 하나이다. 그리고 A가 자문화 중심주의, C가 문화 상대주의인 경우 ‘다른 사회와 마찰을 초래할 가능성이 낮은가?’의 질문에 대한 A와 B의 응답은 서로 다르고 B와 C의 응답은 서로 같으므로 해당 내용은 (가)에 들어갈 수 있다.

073 정답: ①

제시한 특징과 비판점이 모두 한 가지 문화 이해 태도의 것인 사람은 갑이 유일하다. 따라서 모두 적절히 제시한 사람은 갑이고, A는 자문화 중심주의이다.

B가 문화 상대주의, C가 문화 상대주의인 경우 을은 비판점을 적절하지 않게, 병은 특징을 적절하지 않게 제시한 것이 되어 한 명은 모두 적절하지 않게 제시했다는 점에 모순이다. 따라서 B는 문화 상대주의, C는 문화 상대주의이고 비판점을 적절하지 않게 제시한 사람은 병, 모두 적절하지 않게 제시한 사람은 을이다.

- ① ㉠은 병이다.

오답 풀이

- ② 자문화 중심주의는 문화 상대주의와 달리 다른 문화와 마찰을 초래할 가능성이 높다.

- ③ 다른 문화를 일방적으로 추종하는 것은 문화 상대주의이다.
- ④ 문화를 이해가 아닌 평가의 대상으로 보는 것은 자문화 중심주의, 문화 상대주의이다.
- ⑤ 모든 문화가 동등한 가치를 가지고 있다고 보는 것은 문화 상대주의이다.

074 정답: ①

문화를 평가가 아닌 이해의 대상으로 보는 것은 문화 상대주의이므로 ㉠의 2번 문장은 옳지 않은 문장이다. 따라서 ㉠의 1번 문장은 옳은 문장이고, C는 자문화 중심주의이다. 이때 ㉠의 2번 문장은 옳지 않은 문장이 되므로 ㉠의 1번 문장은 옳은 문장이 되어 A는 문화 상대주의, B는 문화 상대주의가 된다. 그리고 ㉠의 1번 문장은 옳은 문장이 되므로 (가)에는 옳지 않은 문장이 들어가야 한다.

- ① ‘문화 상대주의는 자문화 중심주의와 달리 특정 사회의 문화를 기준으로 자문화를 낮게 평가한다.’는 옳은 문장이므로 (가)에 들어갈 수 없다.

오답 풀이

- ② ㉠과 ㉠에서 옳지 않은 문장의 번호는 모두 2번으로 같다.
- ③ 타 문화를 일방적으로 추종하는 것은 문화 상대주의이다.
- ④ 중국의 중화사상을 그 예시로 들 수 있는 것은 자문화 중심주의이다.
- ⑤ 다른 사회와 마찰을 초래할 가능성이 낮은 것은 문화 상대주의, 문화 상대주의이다.

075 정답: ⑤

‘우리나라에서 수저를 사용하는 문화를 예시로 들 수 있는가?’의 질문으로 하위문화와 반문화를 구분할 수 없으므로 A, C는 각각 하위문화, 반문화 중 하나이며, B는 주류 문화이다. ‘특정 지역의 사투리 문화를 예시로 들 수 있는가?’의 질문으로 주류 문화와 하위문화를 구분할 수 있으나, 주류 문화와 반문화를 구분할 수는 없으므로 C는 반문화, A는 하위문화이다.

- ⑤ 하위문화, 반문화는 주류 문화와 달리 한 사회 내 특정 집단만의 독특한 정체성 형성에 기여한다.

오답 풀이

- ① 반문화와 하위문화는 모두 사회 변화에 따라 주류 문화가 될 수 있다.
- ② 모든 반문화는 하위문화에 해당하지만, 모든 하위문화가 반문화에 해당하는 것은 아니다.
- ③ 한 사회에서 반문화를 공유하는 사람도 주류 문화를 공유한다.
- ④ 주류 문화는 모든 하위문화의 총합으로 설명할 수 없다.

076 정답: ②

○○ 의복은 T 시기에는 반문화, T+1 시기에는 반문화가 아닌 하위문화, T+2 시기에는 주류 문화에 해당하는 문화이다. 따라서 A는 하위문화, B는 반문화, C는 주류 문화이다.

- ② 모든 반문화는 하위문화에 해당하나, 모든 하위문화가 반

문화에 해당하는 것은 아니다.

오답 풀이

- ① (가)에 들어갈 것은 'A와 B 모두'이다.
- ③ 하위문화와 주류 문화는 모두 해당 문화를 향유하는 구성원들 간 동질감 형성에 기여한다.
- ④ 하위문화와 반문화는 모두 한 사회 내에서 특정 집단의 구성원들만 향유하는 문화이다.
- ⑤ 주류 문화는 주류 집단에 의해 일탈로 규정되는 문화가 아니다.

077 정답: ③

◇◇ 문화는 t 시기 A, C에 모두 해당하나 t+1 시기에는 A에만 해당한다. 이에 따라 C는 반문화, A는 하위문화임을 알 수 있고, B는 주류 문화임을 알 수 있다.

- ③ t 시기 □□ 문화와 ☆☆ 문화는 모두 갑국에서 주류 문화에 해당한다.

오답 풀이

- ① 하위문화와 주류 문화 모두 해당 문화를 공유하는 구성원들에게 소속감과 동질감을 제공한다.
- ② 반문화와 주류 문화는 모두 사회 변동의 요인이 될 수 있다.
- ④ t+1 시기 ◇◇ 문화와 □□ 문화는 모두 갑국에서 하위문화에 해당하나, 반문화에 해당하는 것은 □□ 문화뿐이다.
- ⑤ 주어진 문화 중 갑국에서 t 시기와 t+1 시기 모두 하위문화인 문화는 ◇◇ 문화가 존재한다.

078 정답: ①

A~C는 모두 해당 문화를 공유하는 구성원들에게 소속감과 동질감을 제공하므로 정은 옳지 않게 발표한 것이 된다. 그리고 갑이 옳게 발표한 것이 된다면 A는 반문화, B는 하위문화가 되는데, 이 경우 을과 병은 모두 옳지 않게 발표한 것이 되어 두 명의 학생이 옳지 않게 발표한 것에 모순이다. 따라서 옳지 않게 발표한 것은 갑과 정이고, A는 주류 문화, B는 반문화, C는 하위문화이다.

- ① ㉠은 갑, 정이다.

오답 풀이

- ② 주류 문화와 반문화는 모두 사회 변동의 요인이 될 수 있다.
- ③ '1960년대 미국의 히피 문화'는 하위문화이자 반문화의 사례에 해당한다.
- ④ 반문화를 공유하는 사람도 주류 문화를 공유한다.
- ⑤ 한 사회 내 특정 집단만의 독특한 정체성 형성에 기여하는 것은 하위문화, 반문화이다.

079 정답: ④

주류 집단에 의해 일탈로 규정되는 문화는 반문화이므로 B는 반문화이며, 한 사회 구성원 대다수가 향유하는 문화는 주류 문화이므로 A는 반문화가 아닌 하위문화, C는 주류 문화이다.

- ㄱ. 첫 번째 질문에 대한 B의 응답은 '아니요', C의 응답은 '예'이고, 두 번째 질문에 대한 A의 응답은 '아니요', C의

응답은 '아니요'이다. 따라서 음영 처리된 부분 중 '예'가 들어갈 칸의 수는 '아니요'가 들어갈 칸의 수보다 적다.

- ㄴ. 반문화가 아닌 하위문화와 반문화는 모두 사회 변동에 따라 주류 문화로 변동될 수 있다.
- ㄷ. ㉠에 들어갈 응답과 ㉡, ㉢에 들어갈 응답이 서로 다르다면, 모두가 '예'로 응답할 질문인 '집단 간 갈등을 유발하는 요인이 될 수 있는가?'는 (가)에 들어갈 수 없다.

오답 풀이

- ㄹ. '한 사회 내 문화적 다양성을 증대하는 요인이 될 수 있는가?'의 질문에는 모두가 '예'로 응답하므로, 해당 내용이 (가)에 들어간다면 ㉡, ㉢에 들어갈 응답과 ㉠에 들어갈 응답은 '예'로 같다.

080 정답: ②

t 시기에 ㉠은 B와 C 모두에 해당하고, ㉡은 B에만 해당하므로 B는 하위문화, C는 반문화이다. 따라서 A는 주류 문화이다.

- ② t+1 시기에 ㉠은 갑국의 반문화에 해당한다.

오답 풀이

- ① t 시기에 ㉠은 갑국의 주류 문화에 해당한다.
- ③ t+1 시기와 달리 t 시기에서 ㉡은 하위문화에 해당한다.
- ④ t 시기 주류 문화에 해당하면서 t+1 시기 하위문화에 해당하는 문화는 존재하지 않는다.
- ⑤ t 시기와 t+1 시기 모두에 갑국에서 주류 문화인 문화는 존재하지 않는다.

081 정답: ①

2번에서 '전체 사회에 문화적 다양성을 제공할 수 있다.'는 A~C 모두에 해당하는 특징이므로 해당 서술은 옳지 않은 서술이다. 따라서 1, 3번 서술은 옳은 서술이고, C는 주류 문화이다.

이때 A가 하위문화, B가 반문화라면 1번에 대한 점수는 0점이 되어 모순이다. 따라서 A는 반문화, B는 하위문화이다. 그리고 3번에서 옳은 서술은 1, 3번이므로 ㉠에 들어갈 것은 '2점'이다.

- ㄱ. ㉠에 들어갈 것은 '2점'이다.

- ㄴ. (가)에는 옳은 서술이 들어가야 한다. 그리고 '한 사회 내에서 대부분의 구성원이 공유한다.'는 하위문화가 아닌 주류 문화의 특징에 해당하므로 해당 내용은 (가)에 들어갈 수 있다.

오답 풀이

- ㄷ. 모든 주류 문화는 하위문화에 해당하지 않는다.
- ㄹ. 반문화와 하위문화는 모두 사회 변화에 따라 주류 문화가 될 수 있다.

082 정답: ①

A 권역에서 반문화를 향유하는 사람은 600명이고, 이는 ○○ 문화만 반문화인 경우에 성립한다. 따라서 A 권역에서 반문화는 ○○ 문화뿐이다. 그리고 주류 문화를 향유하는 사람은 1,600명이고, 이는 □□ 문화, ▽▽ 문화만 주류 문화인 경

우에 성립한다. 따라서 △△ 문화, ◇◇ 문화, ☆☆ 문화는 반문화가 아닌 하위문화에 해당한다.

① A 권역에서 하위문화를 향유하는 사람은 600명+500명+200명+200명=1,500명이다. 따라서 ㉠에 들어갈 값은 '1,500'이다.

오답 풀이

- ② A 권역에서 반문화가 아닌 하위문화를 향유하는 사람의 수는 500명+200명+200명=900명이다.
- ③ 갑국에서 반문화는 ○○ 문화가 유일하다.
- ④ 갑국에서 주류 문화는 □□ 문화와 ▽▽ 문화가 유이다.
- ⑤ 하위문화를 향유하는 모든 인원이 주류 문화를 향유할 경우, A 권역의 전체 인구는 1,600명 이상으로 2,200명 미만일 수 있다.

083 정답: ③

'문화 변동의 내재적 요인에 해당하는가?'의 질문에 대해 '예'로 답할 요인은 발명, 발견이다. 따라서 A, C는 각각 발명, 발견 중 하나이다. 그리고 '새로운 문화 요소를 만드는 요인에 해당하는가?'의 질문에 대해 '예'로 답할 요인은 발명, 자극 전파이다. 따라서 A는 발명, B는 직접 전파이고 C는 발견, D는 자극 전파이다.

③ 자연에서 석탄을 찾아낸 것은 직접 전파가 아닌 발견의 사례에 해당한다.

오답 풀이

- ① ㉠은 '아니요', ㉡은 '예'이다.
- ② 전구를 새롭게 만들어낸 것은 발명의 사례에 해당한다.
- ④ SNS를 통해 한류가 외국으로 퍼져나가는 것은 자극 전파의 사례에 해당하지 않는다.
- ⑤ 외국의 종교 교리에서 착안하여 새로운 종교를 만드는 것은 자극 전파의 사례에 해당한다.

084 정답: ②

(가)는 문화 동화, (나)는 문화 융합, (다)는 문화 병존이다.

② 문화 융합에서는 기존 문화의 정체성이 상실되지 않는다.

오답 풀이

- ① 문화 동화는 자발적 문화 접변에 의해서도 발생할 수 있다.
- ③ 문화 병존은 전파된 문화 요소가 변형되어 정착하는 것을 포함하지 않는다.
- ④ 강제성을 띤 외부 사회의 압력에 의해 발생하는 경우가 많은 것은 문화 동화이다.
- ⑥ 그 결과로 이전에는 없었던 형태의 문화 요소가 등장하는 것은 문화 융합이다.

085 정답: ③

ㄴ. 갑국은 을국의 건축 기술을 받아들인 후 해당 국가 내 건축물의 양식이 보다 더 다양해졌다는 것에서 문화 공존을 경험했다는 것을 알 수 있으며, 병국은 자극 내 파견을 나와 있던 정국 의사들이 의료 기술을 가졌다는 것에서 문화 공존을 경험했음을 알 수 있다.

ㄷ. 병국은 정국의 의사들이 가진 의료 기술에 영감을 받아 난치병을 치료할 수 있는 약을 만들었다는 것에서 갑국과 달리 자극 전파를 경험하였다는 것을 알 수 있다.

오답 풀이

- ㄱ. 갑국은 을국과 무역을 하는 과정에서 을국의 건축 기술을 받아들인다는 것에서 직접 전파를 경험하였다는 것을 알 수 있다. 그러나 병국 또한 자극 내 파견을 나와 있던 정국의 의사들이 가진 의료 기술에 영향을 받았다는 것에서 직접 전파를 경험했음을 알 수 있다.
- ㄷ. 병국과 갑국은 모두 문화 동화를 경험하지 않았다.

086 정답: ③

A의 첫 번째 사례는 A~C 중 무엇이든 사례에도 해당하지 않으므로 잘못 제시한 사례에 해당한다. 이때 B가 문화 동화가 아닌 경우 전체 중 최소 3개의 사례를 잘못 제시한 것이 되어 모순이다. 따라서 B는 문화 동화이다. 그리고 A가 문화 융합, C가 문화 병존인 경우 역시 전체 중 2개의 사례를 잘못 제시했다는 것에 모순이다. 따라서 A는 문화 병존, C는 문화 융합이다.

③ 문화 동화는 문화 융합과 달리 자기 문화에 대한 자부심이 약할 때 나타나기 쉽다.

오답 풀이

- ① ㉠은 각각 A와 C의 사례 중 존재한다.
- ② 자문화의 요소가 사라지는 것을 그 결과로 가지는 것은 문화 동화이다.
- ④ 전통문화 요소와 외래문화 요소가 나란히 존재하는 것을 그 예시로 들 수 있는 것은 문화 병존이다.
- ⑤ 문화 동화 역시 구성원의 자발성에 기초한 문화 접변의 결과가 될 수 있다.

087 정답: ④

'문화 변동의 내재적 요인가?'의 질문에 '예'로 답변하는 것은 발명, 발견이므로 B, D는 각각 발명, 발견 중 하나인 것을 알 수 있다. 또한 '변동의 결과로 새로운 문화 요소가 생기는가?'의 질문에 '예'로 답변하는 것은 발명, 자극 전파이므로 D는 발명, 자극 전파 중 하나이다. 따라서 D는 발명, B는 발견이고 C는 직접 전파, A는 자극 전파이다. 그리고 ㉠은 '예', ㉡은 '아니요'이다.

ㄱ. ㉠은 '예', ㉡은 '아니요'이다.

ㄴ. 갑국의 1차 문화 변동 요인은 자극 전파이며, 그 결과로 c는 새롭게 나타난 문화 요소에 해당한다. 그리고 갑국과 을국 서로간 외의 문화 변동은 일어나지 않은 것을 가정하므로 c는 b에서 아이디어를 얻어 만들어진 요소에 해당한다.

ㄷ. 2차 문화 변동 결과 을국에서는 문화 요소 b가 사라졌고, 을국의 2차 문화 변동 요인은 직접 전파이므로 을국에서는 문화 동화가 나타났다. 반면 갑국의 2차 문화 변동 요인은 발견이고 갑국에서는 변동 결과 사라진 문화 요소가 없으므로 갑국에서는 문화 동화가 나타나지 않았다.

오답 풀이

ㄷ. 1차 문화 변동 결과 갑국에서는 문화 공존이 나타났다. 그러나 을국의 1차 문화 변동 요인은 내재적 요인인 발명이므로 을국에서는 문화 공존이 나타나지 않았다.

088 정답: ①

① A국에서는 소형 휴대용 정수기를 개발하였다는 것에서, C국에서는 손잡이 없이 자동으로 작동하는 새로운 형태의 정수기를 자체적으로 개발하였다는 것에서 내재적 요인에 의한 문화 변동이 나타났다. 반면 B국에서는 내재적 요인에 의한 문화 변동이 나타나지 않았다.

오답 풀이

- ② B국과 A국에서는 모두 간접 전파가 나타나지 않았다. A국에서 소형 휴대용 정수기를 개발했다는 '사실'이 인터넷 커뮤니티를 통해 B국에 알려진 것은 정수기 자체가 전파된 것이 아니므로 간접 전파에 해당하지 않는다.
- ③ A, B국에서는 C국의 정수기가 수출되었다는 것에서 직접 전파가 나타났음을 알 수 있다. 반면 C국에서는 직접 전파가 나타나지 않았다.
- ④ A, B국에서는 C국의 정수기가 수출되어 널리 활용되었다는 것에서 문화 공존이 나타났음을 알 수 있다. 반면 C국에서는 문화 접변이 나타나지 않았으므로 문화 공존 역시 나타나지 않았음을 알 수 있다.
- ⑤ B국에서는 자극 전파라는 새로운 문화 요소가 개발되는 문화 변동이 나타났다. 하지만 A, C국에서도 발명이라는 새로운 문화 요소가 개발되는 문화 변동이 나타났다.

089 정답: ②

모든 사례에 대해 문화 변동의 요인을 옳지 않게 연결했는데, A가 발명, B가 간접 전파인 경우 A에 대해 문화 변동의 요인을 옳게 연결한 것이 되어 모순이다. 따라서 A는 간접 전파, B는 발명이다. 같은 이유로 (가)에는 자극 전파가 나타난 사례, (나)에는 직접 전파가 나타난 사례가 들어가야 한다.

ㄱ. 간접 전파는 발명과 달리 문화 변동의 외재적 요인에 해당한다.

ㄷ. '타국의 전통 음료에서 아이디어를 얻어 새로운 음료를 만든 경우'는 자극 전파가 나타난 사례이므로 해당 내용은 (가)에 들어갈 수 있다.

오답 풀이

- ㄴ. '목화솜을 찾아낸 것'은 발명이 아닌 발견의 사례이다.
- ㄹ. '난민으로 유입된 타국 사람들의 고유한 놀이를 자국 국민들이 즐기는 경우'는 직접 전파가 나타난 사례이므로 해당 내용은 (나)에 들어갈 수 있다.

090 정답: ⑤

⑤ 의복 문화에서는 갑국과 을국의 의복이 혼합된 새로운 의복이 만들어 판매된 문화 융합이 발생한 양상이 나타난다. 반면 음식 문화에서는 문화 융합이 발생한 양상이 나타나지 않는다.

오답 풀이

① 의복 문화에 있어 갑국에는 을국의 문화가 전파되었다. 하

지만 병국 의류 디자이너들은 갑국 시장을 공략하고자 입국한 뒤에 실패라는 결과를 손에 안고 귀국하였으므로 병국의 문화는 전파되지 않았다.

- ② 음악 문화에 있어 갑국에서는 직접 전파가 발생하였으나, 이로 인한 문화 융합이 나타난 것은 아니다.
- ③ 음식 문화에 있어 병국의 요리사들은 갑국의 셰프 경진대회 프로그램에 등장한 음식을 판매하기 시작했다. 하지만 병국 내에는 이미 같은 음식을 판매하던 갑국 출신 요리사들이 존재했기에 해당 사실로 인해 병국에서는 간접 전파로 인한 문화 공존이 나타났다고 볼 수 없다.
- ④ 음악 문화에서 을국의 한 작곡가는 자국의 전통 음악으로부터 영감을 얻어 음악의 새로운 장르를 개척하였다. 하지만 이는 타 문화 체계의 문화 요소로부터 아이디어를 얻은 것이 아니므로 자극 전파에 해당하지 않는다.

091	092	093	094	095
①	④	①	④	④
096	097	098	099	100
①	⑤	⑤	②	②
101	102	103	104	105
②	③	⑤	④	①
106	107	108	109	110
⑤	④	②	⑤	⑤
111	112	113	114	115
⑤	③	⑤	④	③
116	117	118	119	120
④	②	②	④	①

091 정답: ①

다음 글에 나타난 사회 불평등 현상을 보는 관점은 기능론이다.

- ㄱ. 기능론은 사회 불평등 현상을 긍정적으로 바라본다.
- ㄴ. 기능론은 사회적 희소가치의 차등 분배가 개인의 성취동기에 긍정적으로 작용한다고 본다.

오답 풀이

- ㄷ. 사회적 희소가치의 배분 기준이 지배 집단에게 유리하다고 보는 것은 갈등론이다.
- ㄹ. 사회 제도를 지배와 피지배 관계의 재생산을 위한 수단으로 보는 것은 갈등론이다.

092 정답: ④

다음 글에 나타난 사회 불평등 현상을 보는 관점은 갈등론이다.

- ㄴ. 갈등론은 차등 분배 체계는 지배 집단의 이익을 보장하기 위한 수단이라고 본다.
- ㄹ. 갈등론은 사회적 희소가치의 소유 정도는 개인의 노력이나 가정 배경에 비례한다고 본다.

오답 풀이

- ㄱ. 사회적 희소가치의 차등 분배는 불가피한 현상이라고 보는 것은 기능론이다.
- ㄷ. 사회 불평등 현상은 개인의 성취동기를 유발하여 사회 발전에 기여한다고 보는 것은 기능론이다.

093 정답: ①

사회 불평등 현상을 바라보는 갑의 관점은 갈등론, 을의 관점은 기능론이다.

- ① 갈등론은 사회 불평등 현상을 타파해야 할 문제라고 본다.

오답 풀이

- ② 사회 불평등 현상은 지배 집단의 이익을 보장하기 위한 수단이라고 보는 것은 갈등론이다.
- ③ 차등 보상이 개인의 성취동기를 자극한다고 보는 것은 기능론이다.

④ 사회적 희소가치의 소유 정도는 개인의 노력 정도와 상관이 없다고 보는 것은 갈등론이다.

⑤ 기능론과 갈등론은 모두 사회 불평등 현상을 보편적인 현상으로 보나, 불가피한 현상으로 보는 것은 기능론뿐이다.

094 정답: ④

갑~병국 중 두 국가에서 다이아몬드형 계층 구조가 나타나므로 B는 중층이며, 하층 대비 상층의 비율은 을국이 병국보다 크므로 A는 하층, C는 상층이다.

④ 병국의 계층 구조는 다이아몬드형, 갑국의 계층 구조는 피라미드형으로 전자는 후자에 비해 사회 통합에 유리하다.

오답 풀이

- ① 병국의 상층 비율은 30%, 을국의 상층 비율은 30%로 전자는 후자의 2배가 아니다.
- ② 갑국과 을국에서는 모두 모래시계형 계층 구조가 나타나지 않는다.
- ③ 중층 비율 대비 하층 비율의 비는 갑국이 5/4, 을국이 1/6으로 전자는 후자의 2배가 아니다.
- ⑤ 주어진 자료를 바탕으로는 각 국가의 계층 구조가 개방적 계층 구조인지, 또는 폐쇄적 계층 구조인지 여부를 알 수 없다.

095 정답: ④

을의 부모 계층과 비교한 을의 최초 계층 위치는 낮다. 따라서 을의 최초 계층 위치는 하층 또는 중층이다. 그리고 병의 최초 계층과 비교한 병의 현재 계층 위치는 낮다. 따라서 병의 최초 계층 위치는 상층 또는 중층이다. 그리고 을과 병의 최초 계층 위치는 같으므로 해당 위치는 중층이다. 이를 바탕으로 갑~정의 부모 계층, 최초 계층, 현재 계층 위치를 표에 나타내면 다음과 같다.

구분	갑	을	병	정
부모 계층	하층	상층	중층	상층
최초 계층	중층	중층	중층	중층
현재 계층	상층	중층	하층	하층

ㄱ. 갑의 부모 계층 위치와 정의 현재 계층 위치는 모두 하층으로 같다.

ㄴ. 을의 최초 계층 위치는 중층, 갑의 현재 계층 위치는 상층으로 전자는 후자보다 낮다.

오답 풀이

ㄷ. 병의 부모 계층 위치는 중층, 정의 최초 계층 위치는 중층으로 전자는 후자보다 높지 않다.

096 정답: ①

세대 간 이동 거리가 2인 사람이 존재하지 않는 계층은 A가 유일하다. 따라서 A는 중층이고, B, C는 각각 상층, 하층 중 하나이다. 이때 B가 상층, C가 하층이라면 갑국의 부모 세대와 자녀 세대의 인구 및 계층 이동 현황은 다음과 같다.

자녀 \ 부모	상층	중층	하층	전체	
	상층	15%	10%	5%	30%
	중층	0%	10%	30%	40%
	하층	10%	5%	15%	30%
	전체	25%	25%	50%	100%

이때 하강 이동한 자녀 세대 중층 인구는 존재하지 않는다. 따라서 B는 하층, C는 상층이고 갑국의 부모 세대와 자녀 세대의 인구 및 계층 이동 현황은 다음과 같다.

자녀 \ 부모	상층	중층	하층	전체	
	상층	15%	5%	10%	30%
	중층	5%	10%	25%	40%
	하층	5%	10%	15%	30%
	전체	25%	25%	50%	100%

- 부모 세대 상층 인구 비율은 25%, 부모가 하층인 자녀 세대 중층 인구 비율은 25%로 전자는 후자와 같다.
오답 풀이
- 부모가 상층인 자녀 세대 중층 인구 비율은 5%, 부모가 중층인 자녀 세대 상층 인구 비율은 5%로 전자는 후자의 2배가 아니다.
- 부모 세대의 상층 인구 비율과 중층 인구 비율은 같으므로 부모 세대의 계층 구조는 피라미드형이 아니다.
- 세대 간 상승 이동을 한 사람의 수는 전체 인구의 40%, 세대 간 하강 이동을 한 사람의 수는 전체 인구의 20%로 전자는 후자의 1.5배가 아니다.
- 부모 세대 대비 계층 대물림 비율은 상층이 60%, 중층이 40%, 하층이 30%로 상~하층 중 하층이 가장 낮다.

097 정답: ⑤

현재 A+C 비율을 50a%라 둔다면 B+C 비율은 80a%, A+B 비율은 70a%이다. 이를 모두 더하면 $2(A+B+C)=200a%$ 가 되므로 $A+B+C=100a%$, $a=1$ 임을 알 수 있다. 따라서 A+C 비율은 50%, B+C 비율은 80%, A+B 비율은 70%임을 알 수 있고, B 비율은 50%, A 비율은 20%, C 비율은 30%임을 알 수 있다.

[예측 1] A+C 비율을 60b%라 둔다면 B+C 비율은 90b%, A+B 비율은 50b%이다. 이를 모두 더하면 $2(A+B+C)=200b%$ 가 되므로 $A+B+C=100b%$, $b=1$ 임을 알 수 있다. 따라서 A+C 비율은 60%, B+C 비율은 90%, A+B 비율은 50%임을 알 수 있고, B 비율은 40%, A 비율은 10%, C 비율은 50%임을 알 수 있다.

[예측 2] A+C 비율을 60c%라 둔다면 B+C 비율은 70c%, A+B 비율은 70c%이다. 이를 모두 더하면 $2(A+B+C)=200c%$ 가 되므로 $A+B+C=100c%$, $c=1$ 임을 알 수 있다. 따라서 A+C 비율은 60%, B+C 비율은 70%, A+B 비율은 70%임을 알 수 있고, B 비율은 40%, A 비율은 30%, C 비율은 30%임을 알 수 있다.

이때 [예측 1]대로 된 경우의 계층 구조는 피라미드형이므로 A는 상층, B는 중층, C는 하층임을 알 수 있다.

[예측 1]에서 t년 후 현재의 계층을 유지할 A 인구 수를 d로 둔다면 t년 후 현재의 계층을 유지할 B 인구 수는 2.5d가 되고, t년 후 현재의 계층을 유지할 C 인구 수는 2d가 된다. 그리고 t년 후 현재의 계층을 유지할 인구의 비율은 유지하지 못할 인구의 비율에 비해 [예측 1]에서는 10%p 크므로 전자는 55%, 후자는 45%이고, 이에 따라 $5.5d=55%$, $d=10%$ 이다. 따라서 t년 후 현재의 계층을 유지할 A 인구 수는 전체 인구의 10%, t년 후 현재의 계층을 유지할 B 인구 수는 전체 인구의 25%, t년 후 현재의 계층을 유지할 C 인구 수는 전체 인구의 20%가 된다.

[예측 2]에서 t년 후 현재의 계층을 유지할 A 인구 수를 e로 둔다면 t년 후 현재의 계층을 유지할 B 인구 수는 6e가 되고, t년 후 현재의 계층을 유지할 C 인구 수는 5e가 된다. 그리고 t년 후 현재의 계층을 유지할 인구의 비율은 유지하지 못할 인구의 비율에 비해 [예측 1]에서는 20%p 크므로 전자는 60%, 후자는 40%이고, 이에 따라 $12e=60%$, $e=10%$ 이다. 따라서 t년 후 현재의 계층을 유지할 A 인구 수는 전체 인구의 5%, t년 후 현재의 계층을 유지할 B 인구 수는 전체 인구의 30%, t년 후 현재의 계층을 유지할 C 인구 수는 전체 인구의 25%가 된다.

이에 따라 [예측 1]에서 갑국 인구의 현재 계층과 t년 후 계층 인구 및 계층 이동 현황은 다음과 같다.

현재 \ t년 후	상층	중층	하층	전체	
	상층	10%	0%	0%	10%
	중층	5%	25%	10%	40%
	하층	5%	25%	20%	50%
	전체	20%	50%	30%	100%

또한 [예측 2]에서 갑국 인구의 현재 계층과 t년 후 계층 인구 및 계층 이동 현황은 다음과 같다.

현재 \ t년 후	상층	중층	하층	전체	
	상층	5%			30%
	중층		30%		40%
	하층			25%	30%
	전체	20%	50%	30%	100%

이때 t년 후 상층 비율이 30%가 되려면 현재 중층 인구 중 t년 후 하층 인구가 존재하지 않고, 현재 하층 인구 중 t년 후 중층 인구가 존재하지 않아야 한다. 이를 고려해 [예측 2]에서 갑국 인구의 현재 계층과 t년 후 계층 인구 및 계층 이동 현황을 나타내면 다음과 같다.

현재 \ t년 후	상층	중층	하층	전체	
	상층	5%	20%	5%	30%
	중층	10%	30%	0%	40%
	하층	5%	0%	25%	30%
	전체	20%	50%	30%	100%

- [예측 1]대로 된 경우 t년 후 세대 내 이동으로 상층이 될 인구는 전체 인구의 10%, 하층이 될 인구는 전체 인구의

10%로 전자는 후자보다 많지 않다. 그리고 [예측 2]대로 된 경우 t년 후 세대 내 이동으로 상층이 될 인구는 전체 인구의 15%, 하층이 될 인구는 전체 인구의 5%로 전자는 후자보다 많다.

오답 풀이

- ① [예측 1]대로 된 경우의 상층 인구 비율은 10%, 현재의 상층 인구 비율은 20%로 전자는 후자의 40%가 아니다.
- ② [예측 2]대로 된 경우의 계층 구조는 다이아몬드형 계층 구조, [예측 1]대로 된 경우의 계층 구조는 피라미드형 계층 구조로 전자는 후자에 비해 사회 통합에 유리하다.
- ③ [예측 1]대로 된 경우 t년 후 하강 이동을 할 인구는 전체 인구의 35%, 상승 이동을 할 인구는 전체 인구의 10%로 전자는 후자보다 많다. 하지만 [예측 1]대로 된 경우 t년 후 하강 이동을 할 인구는 전체 인구의 15%, 상승 이동을 할 인구는 전체 인구의 25%로 전자는 후자보다 적다.
- ④ [예측 1]대로 된 경우 t년 후 중층일 인구 중 현재 하층인 인구는 전체 인구의 10%, 상층인 인구는 전체 인구의 5%로 전자는 후자보다 많다. 그리고 [예측 2]대로 된 경우 t년 후 중층일 인구 중 현재 하층인 인구는 전체 인구의 0%, 상층인 인구는 전체 인구의 10%로 전자는 후자보다 적다.

098 정답: ⑤

- ⑤ 갑은 인종 차별적인 체제를 개선하기 위해 SNS 활동을 하는, 을은 차별 철폐를 위한 시민 단체 활동을 하는 차별 해소를 위한 노력을 하고 있다.

오답 풀이

- ① 갑과 을은 모두 주류 집단에 의한 차별을 겪고 있다.
- ② 갑과 을은 모두 사회적 소수자에 해당한다.
- ③ 갑과 을은 모두 여러 사회적 소수자 집단이 중첩되어 속해 있지 않다.
- ④ 갑은 선천적 요인에 의해, 을은 후천적 요인에 의해 차별을 받고 있다.

099 정답: ②

A는 '사회적 소수자'이다. 사회적 소수자는 주류 집단에 의한 차별을 겪으므로 대담 '예'에 대한 채점 결과는 1점이고, 따라서 ㉠에 들어갈 것은 '1점' 또는 '2점'이다.

- ㉡. ㉠에 들어갈 것이 '1점'이라면 (가)에는 해당 질문에 대한 옳은 대답이 '예'가 되게끔 하는 내용이 들어가야 한다. 그리고 '수적 열세에 의해 규정된다'가 (가)에 들어간다면 해당 질문에 대한 옳은 대답은 '아니오'가 되므로 이는 (가)에 들어갈 수 없다.

오답 풀이

- ㉢. 사회적 소수자는 해당 집단의 수로 결정되지 않는다.
- ㉣. (가)에 '신체적 특징에 의해 규정될 수 있다.'가 들어간다면 해당 질문에 대한 옳은 대답은 '예'가 되므로 대담 '아니오'에 대한 채점 결과는 '0점'이 된다. ㉠에 들어갈 것은 '1점'이 된다.

100 정답: ②

- ② C는 이주 여성 출신이라는 후천적 요인에 의해 차별을 받았고, 다음 자료에서 D가 차별을 받은 양상은 나타나지 않는다.

오답 풀이

- ① A는 '한부모 가정 출신', '여성'이라는 사회적 소수자 집단에 중첩되어 속해 있으나, B는 '트랜스젠더'라는 한 가지 사회적 소수자 집단에만 속해 있다.
- ③ E는 사회적 소수자의 불리한 위치의 개선을 위해 지원을 제공하였으나, 이것이 '제도적' 지원인 것은 아니다.
- ④ D는 주류 집단과 구별되는 신체적 특징을 이유로 사회적 소수자 집단에 속하게 된 것도 아니며, 이 때문에 차별을 받지 않았다.
- ⑤ A는 '한부모 가정 출신', '여성'이라는 사회적 소수자 집단에 속해 있고, C는 '이주 여성'이라는 사회적 소수자 집단에 속해 있으므로 둘은 동일한 사회적 소수자 집단에 속해 있지 않다.

101 정답: ②

A 지역의 성별 임금 격차 지수는 20이므로 A 지역의 남성 평균 임금을 100이라 한다면 여성 평균 임금은 80임을 알 수 있다. 이를 바탕으로 A~D 지역의 남성/여성 평균 임금의 크기를 표에 나타내면 다음과 같다.

구분	A 지역	B 지역	C 지역	D 지역
남성	100	120	90	150
여성	80	112	64	88

- ㉠. A 지역 여성 평균 임금은 80, D 지역 남성 평균 임금은 150으로 전자 대비 후자의 비율은 200% 이하이다.
- ㉡. B 지역 남성 평균 임금은 120, C 지역 여성 평균 임금은 64로 전자 대비 후자의 비율은 50% 이상이다.

오답 풀이

- ㉢. B 지역에서 남성 평균 임금은 120, 여성 평균 임금은 112로 전자는 후자보다 많다.
- ㉣. A~D 지역 중 여성 평균 임금이 B 지역 남성 평균 임금인 120보다 많은 지역은 존재하지 않는다.

102 정답: ③

주어진 기간 동안 갑국 출신 여성 노동자 평균 임금은 지속적으로 증가하였으므로 2019년의 갑국 출신 여성 노동자 평균 임금을 100a, 2021년의 갑국 출신 여성 노동자 평균 임금을 100b, 2023년의 갑국 출신 여성 노동자 평균 임금을 100c로 둔다면 $a < b < c$ 이고, 각 연도의 갑국 출신 남성 노동자, 을국 출신 남성 노동자, 을국 출신 여성 노동자의 평균 임금을 다음과 같이 정리할 수 있다.

구분	2019년	2021년	2023년
갑국 출신 남성 노동자	150a	170b	140c
을국 출신 남성 노동자	80a	100b	120c
을국 출신 여성 노동자	70a	60b	80c

- ③ 2023년에 갑국 출신 노동자의 성별 평균 임금 차이는 40c, 을국 출신 노동자의 성별 평균 임금 차이는 40c로 전자와 후자는 같다.

오답 풀이

- ① 갑국 출신 남성 노동자 평균 임금은 2023년이 140c, 2019년이 150a이다. 그러나 $c > a$ 이므로 갑국 출신 남성 노동자 평균 임금이 2023년이 2019년보다 적는지 여부는 알 수 없다.
- ② 을국 출신 남성 노동자 평균 임금 대비 을국 출신 여성 노동자 평균 임금의 비는 2021년이 3/5, 2023년이 2/3으로 전자는 후자보다 작다.
- ④ $a < b$, $b < c$ 이나 정확한 증가분에 대해서는 알 수 없으므로 2년 전 대비 을국 출신 남성 노동자 평균 임금의 증가액은 2021년과 2023년이 같은지 여부는 알 수 없다.
- ⑤ 2019년에 출신 국가에 따른 임금 차이는 남성 노동자가 80a, 여성 노동자가 30a로 전자는 후자보다 크다. 2021년에 출신 국가에 따른 임금 차이는 남성 노동자가 70b, 여성 노동자가 40b로 전자는 후자보다 크다. 그러나 2023년에 출신 국가에 따른 임금 차이는 남성 노동자가 40c, 여성 노동자가 40c로 전자는 후자보다 크지 않다.

103 정답: ⑤

A 지역에서 가중평균의 원리에 의해 남성 노동자 수는 여성 노동자 수의 2배인 것을 알 수 있으며, 이에 따라 전자를 200a, 후자를 100a로 둘 수 있다. 이때 성비 불균형은 $\{(200a - 100a)/(200a + 100a)\} \times 100 = 100/3$ 인 것을 알 수 있다.

C 지역에서 가중평균의 원리에 의해 남성 노동자 수는 여성 노동자 수의 5/3배인 것을 알 수 있으며, 이에 따라 전자를 500c, 후자를 300c로 둘 수 있다. 이때 성비 불균형은 $\{(500c - 300c)/(500c + 300c)\} \times 100 = 25$ 인 것을 알 수 있다.

B 지역에서 남성 노동자 수를 300b, 여성 노동자 수를 100k로 둔다면 성비 불균형은 20이므로 $\{(300b - 100k)/(300b + 100k)\} \times 100 = 20$ 이다. 따라서 $k = 2b$ 이고, B 지역의 여성 노동자 수는 200b인 것을 알 수 있다. 따라서 가중평균의 원리에 의해 B 지역의 여성 노동자 평균 임금은 320만 원인 것을 알 수 있다.

ㄴ. ㉠에 들어갈 값은 320(만 원)이고, A 지역과 C 지역을 합친 지역의 남성 노동자 평균 임금은 320(만 원) 초과 360(만 원) 미만이다. 따라서 전자는 후자보다 작다.

ㄷ. C 지역 전체 노동자 임금 총액은 330만 원 $\times 800c = 264,000c$ 만 원이고 남성 노동자 임금 총액은 360만 원 $\times 500c = 180,000c$ 만 원이다. 따라서 전자는 후자의 1.5배 미만이다.

ㄹ. A 지역 남성 노동자 임금 총액이 B 지역 여성 노동자 임금 총액과 같다면 320만 원 $\times 200a = 320$ 만 원 $\times 200b$, $a = b$ 인 것을 알 수 있고, 이에 따라 B 지역 남성 노동자 수는 300a인 것을 알 수 있다. 따라서 B 지역 남성 노동자 수는 A 지역 여성 노동자 수의 3배이다.

오답 풀이

- ㄱ. ㉠에 들어갈 값은 100/3, ㉡에 들어갈 값은 25로 전자

는 후자보다 작지 않다.

104 정답: ④

ㄱ. 2021년 대비 2022년 전체 남성 수는 증가하였다. 그리고 2022년의 조사에서 전체 남성 인구 대비 결혼에 응답한 남성 비율은 23.7%, 2021년의 조사에서 전체 남성 인구 대비 외모에 응답한 남성 비율은 22.5%이다. 따라서 2022년의 조사에서 결혼에 응답한 남성 수는 2021년의 조사에서 외모에 응답한 남성 수보다 많으므로 해당 진술은 참으로 진위 여부를 판단할 수 있다.

ㄷ. 여성에서 전체 인구 대비 기타에 응답한 인구의 비율은 2021년 7.8%, 2022년 6.5%, 2023년 5.9%로 조사 기간 동안 지속적으로 감소하였다. 반면 남성에서 전체 인구 대비 기타에 응답한 인구의 비율은 2021년 6.7%, 2022년 6.7%, 2023년 6.2%로 조사 기간 동안 지속적으로 감소하지 않았다. 따라서 해당 진술은 참으로 진위 여부를 판단할 수 있다.

ㄹ. 2021년 대비 2022년에 남성 수는 증가하였고, 여성 수는 감소하였다. 그리고 학력에 응답한 남성 수는 2021년에는 전체 남성 인구 대비 21.1%에 2022년에는 전체 남성 인구 대비 22.3%로 증가하였다. 반면 외모에 응답한 여성 수의 비율은 2021년에는 전체 여성 인구 대비 29.8%에 2022년에는 전체 여성 인구 대비 19.5%로 감소하였다. 따라서 2022년의 조사에서 학력에 응답한 남성 수 대비 외모에 응답한 여성 수의 비율은 전년에 비해 감소하였다. 반면 2022년 대비 2023년에 남성 수는 감소하였고, 여성 수는 증가하였다. 그리고 학력에 응답한 남성 수는 2022년에는 전체 남성 인구 대비 22.3%에 2023년에는 전체 남성 인구 대비 21.8%로 감소하였다. 반면 외모에 응답한 여성 수의 비율은 2022년에는 전체 여성 인구 대비 19.5%에 2023년에는 전체 여성 인구 대비 20.1%로 증가하였다. 따라서 2023년의 조사에서 학력에 응답한 남성 수 대비 외모에 응답한 여성 수의 비율은 전년에 비해 증가하였다. 따라서 해당 진술은 거짓으로 진위 여부를 판단할 수 있다.

오답 풀이

ㄴ. 2022년 대비 2023년에 여성 수는 증가하였다. 그리고 2022년의 조사에서 나이에 응답한 여성 수는 전체 여성 인구 대비 24.4%이고, 2023년의 조사에서 학력에 응답한 여성 수는 전체 여성 인구 대비 15.2%이다. 따라서 전자의 비율은 후자보다 높으므로 해당 진술은 진위 여부를 판단할 수 없다.

105 정답: ①

전체 산업의 노동자 성비는 125이고, 2차 산업의 노동자 성비는 125이며 1차 산업의 노동자 성비는 75, 3차 산업의 노동자 성비는 150이므로 가중평균의 원리에 의해 3차 산업의 여성 노동자 수는 1차 산업의 여성 노동자 수의 2배임을 알 수 있다. 따라서 전자를 200, 후자를 100으로 둘 수 있고, 이에 따라 1차 산업 남성 노동자 수는 75, 3차 산업 남성 노

동자 수는 300임을 알 수 있다. 또한 2차 산업의 여성 노동자 수를 100a, 남성 노동자 수를 125a로 둘 수 있다.

전체 산업 기준 산업별 상대적 평균 임금에서 남성의 경우 각 산업별 총임금의 합은 전체 산업의 총임금과 같으므로 $86 \times 75 + 91 \times 125a + 111 \times 300 = 100 \times (375 + 125a)$ 가 됨을 알 수 있으며, 이를 계산하면 $a=2$ 임을 알 수 있다. 따라서 2차 산업의 여성 노동자 수는 200, 남성 노동자 수는 250임을 알 수 있다.

전체 산업 기준 산업별 상대적 평균 임금에서 여성의 경우 각 산업별 총임금의 합은 전체 산업의 총임금과 같으므로 $70 \times 100 + 105 \times 200 + \textcircled{a} \times 200 = 100 \times 500$ 이 됨을 알 수 있으며, 이를 계산하면 $\textcircled{a}=110$ 임을 알 수 있다.

그리고 전체 산업의 성별 임금 격차 지수는 20이므로 전체 산업의 남성 평균 임금을 100이라 했을 때 전체 산업의 여성 평균 임금은 80임을 알 수 있으며, 이에 따라 전체 산업의 남성 평균 임금을 100이라 했을 때 1차 산업의 여성 평균 임금은 56, 2차 산업의 여성 평균 임금은 84, 3차 산업의 여성 평균 임금은 88임을 알 수 있다.

위에서 구한 내용을 바탕으로 각 산업에 따른 성별 노동자 수를 표에 정리하면 다음과 같다.

구분	남성	여성
1차 산업	75	100
2차 산업	250	200
3차 산업	300	200
전체 산업	625	500

또한 전체 산업의 남성 평균 임금을 100이라 했을 때 각 산업에 따른 성별 평균 임금을 표에 정리하면 다음과 같다.

구분	남성	여성
1차 산업	86	56
2차 산업	91	84
3차 산업	111	88
전체 산업	100	80

① \textcircled{a} 에 들어갈 값은 110이다.

오답 풀이

- ② 3차 산업 여성 노동자 평균 임금은 88, 1차 산업 남성 노동자 평균 임금은 86으로 전자는 후자보다 많다.
- ③ 2차 산업 여성 노동자 수는 200, 1차 산업 남성 노동자 수는 75로 전자는 후자의 2배가 아니다.
- ④ 남성 노동자 임금 총액은 3차 산업이 $300 \times 111 = 33,300$ 이고, 1차 산업이 $75 \times 86 = 6,450$ 으로 전자는 후자의 5배 미만이 아니다.
- ⑤ 1차 산업 여성 노동자 임금 총액은 $100 \times 56 = 5,600$ 이고, 2차 산업 남성 노동자 임금 총액은 $250 \times 91 = 22,750$ 으로 전자는 후자의 25% 이상이 아니다.

106 정답: ⑤

A는 상대적 빈곤, B는 절대적 빈곤이다.

⑤ 절대적 빈곤은 상대적 빈곤과 달리 사회 구성원의 소득 분포 상태를 고려하지 않는 개념이라는 평가를 받는다.

오답 풀이

- ① 절대적 빈곤과 상대적 빈곤 모두 상대적 박탈감을 유발할 수 있다.
- ② 절대적 빈곤과 상대적 빈곤 모두 소득 수준의 높은 국가에서도 나타날 수 있다.
- ③ 한 나라에서 전체 빈곤율은 절대적 빈곤에 따른 빈곤율과 상대적 빈곤에 따른 빈곤율을 더한 것이 아닌, 절대적 빈곤에 따른 빈곤율과 상대적 빈곤에 따른 빈곤율 중 높은 빈곤율에 해당한다.
- ④ 상대적 빈곤과 절대적 빈곤은 모두 해당하는 가구를 선정할 때 객관화된 기준을 적용한다.

107 정답: ④

t년 갑국은 최저 생계비의 2배가 중위 소득보다 높으므로 최저 생계비가 중위 소득의 50%보다 높다. 따라서 t년 갑국은 절대적 빈곤선이 상대적 빈곤선보다 높고, 절대적 빈곤 가구가 상대적 빈곤 가구보다 많다. 따라서 A는 상대적 빈곤, B는 절대적 빈곤이다.

④ t+10년 갑국은 상대적 빈곤 가구가 절대적 빈곤 가구보다 많으므로 상대적 빈곤선이 절대적 빈곤선보다 높다. 따라서 갑국의 t+10년 최저 생계비는 중위 소득의 50%보다 낮다.

오답 풀이

- ① 상대적 빈곤을 판단하는 기준선과 절대적 빈곤을 판단하는 기준선은 모두 시간과 장소에 따라 상대적이다.
- ② 상대적 빈곤은 사회 구성원의 소득 분포 상태를 고려하지 않는 개념이 아니다.
- ③ 주어진 자료만 가지고는 t년과 t+10년 간 중위 소득, 최저 생계비를 비교할 수 없다.
- ⑤ 갑국의 t년 상대적 빈곤 인구 대비 절대적 빈곤 인구의 비는 8/5이고, t+10년 절대적 빈곤 인구 대비 상대적 빈곤 인구의 비는 10/7으로 전자는 후자보다 크다.

108 정답: ②

제시된 연도 중 두 연도에서 중위 소득은 최저 생계비의 2배보다 높으므로 상대적 빈곤 가구의 비율은 절대적 빈곤 가구의 비율보다 높다. 그리고 B와 달리 A에 해당하는 가구는 t년과 t+1년, 즉 두 연도에서 존재하므로 A는 상대적 빈곤, B는 절대적 빈곤이다. 그리고 t+2년에 B와 달리 A에 해당하는 가구의 비율은 0%이므로 A와 달리 B에 해당하는 가구의 비율은 0% 이상이고, 이에 따라 t+2년의 상대적 빈곤 또는 절대적 빈곤 중 하나에 해당하는 가구의 비율은 15% 이상이다.

ㄱ. t년에 절대적 빈곤 가구 수는 전체 가구의 15%, 상대적 빈곤 가구 수는 전체 가구의 25%이므로 전자는 후자의 60%이다.

ㄷ. 절대적 빈곤과 상대적 빈곤에 모두 해당하는 가구의 비율은 t+1년이 15%, t+2년이 15%로 전자와 후자는 같다.

오답 풀이

ㄴ. t+1년에 절대적 빈곤 가구의 비율은 상대적 빈곤 가구의 비율의 75%이다. 그러나 이것이 t+1년에 최저 생계비는

중위 소득의 37.5%인 것을 의미하는 것은 아니다.

- ㄹ. 절대적 빈곤 가구의 비율은 t년에 15%, t+1년에 15%이다. 그러나 t+2년에는 15% 이상이므로 주어진 기간 동안 절대적 빈곤 가구의 비율이 변하지 않았는지 여부는 알 수 없다.

109 정답: ㉔

갑국의 t년 절대적 빈곤율과 상대적 빈곤율은 같으므로 절대적 빈곤선과 상대적 빈곤선도 같다. 따라서 중위 소득의 50%는 1,500달러이므로 최저 생계비도 1,500달러이고, ㉔에 들어갈 것은 1,500달러이다.

갑국의 t+1년 최저 생계비는 중위 소득의 50%보다 높다. 따라서 절대적 빈곤율은 상대적 빈곤율보다 높고, ㉔에 들어갈 값은 9%보다 크다.

갑국의 t+2년 절대적 빈곤율은 상대적 빈곤율보다 낮으므로 최저 생계비는 중위 소득의 50%보다 적다. 따라서 갑국의 t+2년 중위 소득은 최저 생계비의 2배보다 크므로 4,000달러 이상이고, ㉔에 들어갈 것은 4,000달러 이상이다.

- ㉔ t+2년에 절대적 빈곤에 해당하는 가구는 상대적 빈곤에 해당하는 가구에 모두 포함되며, 상대적 빈곤에 해당하며 절대적 빈곤에 해당하지 않는 가구가 존재한다. 따라서 절대적 빈곤에 해당하는 전체 가구 소득의 총합은 상대적 빈곤에 해당하는 전체 가구 소득의 총합보다 적다.

오답 풀이

- ㉑ ㉔에 들어갈 값은 4,000달러 이상, ㉓에 들어갈 값은 1,500달러이다. 따라서 전자가 후자의 3배보다 큰지의 여부는 알 수 없다.
- ㉒ ㉔에 들어갈 값은 9%보다 크고, t년에 절대적 빈곤과 상대적 빈곤에 모두 해당하는 가구의 비율은 8%이다. 따라서 전자는 후자보다 크다.
- ㉓ t년에 절대적 빈곤에 해당하는 가구의 비율은 전체 가구의 8%, t+2년에 상대적 빈곤에 해당하는 가구의 비율은 전체 가구의 7%이다. 그러나 전체 가구 수는 t+2년이 t년보다 많으므로 t년에 절대적 빈곤에 해당하는 가구의 수가 t+2년에 상대적 빈곤에 해당하는 가구의 수보다 많은지 여부는 알 수 없다.
- ㉔ t+2년에 절대적 빈곤에 해당하는 가구의 비율은 전체 가구의 6%, t+1년에 상대적 빈곤에 해당하는 가구의 비율은 전체 가구의 9%이다. 그러나 전체 가구 수는 t+2년이 t+1년보다 많으므로 t+2년에 절대적 빈곤에 해당하는 가구의 수가 t+1년에 상대적 빈곤에 해당하는 가구의 수보다 적은지 여부는 알 수 없다.

110 정답: ㉔

갑국에서 중위 소득은 D1의 2,500달러이고, 중위 소득의 50%는 1,250달러이다. 따라서 갑국에서 상대적 빈곤에 해당하는 가구는 A1, B1 가구이다. 그리고 을국에서 중위 소득은 D2의 2,400달러이고, 중위 소득의 50%는 1,200달러이다. 따라서 을국에서 상대적 빈곤에 해당하는 가구는 A2, B2 가구이다.

그리고 을국의 절대적 빈곤 가구 수는 갑국의 1.5배이므로 가능한 경우는

전자: 3가구

후자: 2가구

또는

전자: 6가구

후자: 4가구

가 있다.

이때 전자가 6가구, 후자가 4가구인 경우에는 모든 절대적 빈곤 가구 월 소득의 총합은 갑국이 을국의 70%라는 데 모순이 발생한다. 따라서 전자는 3가구, 후자는 2가구이고, 갑국의 절대적 빈곤 가구는 A1, B1 가구이고 을국의 절대적 빈곤 가구는 A2, B2, C2 가구이다.

따라서 갑국에서는 절대적 빈곤 가구 A1, B1에 대해 생활 지원금과 의료 지원금이 각각 800달러가 지원되며, 상대적 빈곤 가구 A1, B1에 대해 교육 지원금이 각각 600달러가 지급된다. 또한 을국에서는 절대적 빈곤 가구 A2, B2, C2에 대해 생활 지원금이 각각 600달러가 지원되며, 상대적 빈곤 가구 A2, B2에 대해 의료 지원금, 교육 지원금이 각각 700달러가 지원된다.

위에서 구한 결과를 바탕으로 갑국 각 가구의 월 총소득을 표에 정리한 결과는 다음과 같다.

구분	월 소득	지원금	월 총소득
A1	900	1,400	2,300
B1	1,200	1,400	2,600
C1	1,700	0	1,700
D1	2,500	0	2,500
E1	2,800	0	2,800
F1	3,200	0	3,200
G1	4,000	0	4,000

또한 위에서 구한 결과를 바탕으로 을국 각 가구의 월 총소득을 표에 정리한 결과는 다음과 같다.

구분	월 소득	지원금	월 총소득
A2	800	1,300	2,100
B2	1,000	1,300	2,300
C2	1,200	600	1,800
D2	2,400	0	2,400
E2	2,700	0	2,700
F2	3,300	0	3,300
G2	3,600	0	3,600

- ㉔ 정부 지원으로 인해 월 총소득이 역전당하는 가구는 갑국에서는 C1, D1의 두 가구가 존재하고 을국에서는 C2의 한 가구가 존재한다. 따라서 정부 지원에 따른 가구 월 총소득 역전 현상으로 인한 복지병 발생의 위험은 을국보다 갑국에서 더 크다.

오답 풀이

- ㉑ 상대적 빈곤과 달리 절대적 빈곤에만 속하는 가구는 을국에는 존재하나, 갑국에는 존재하지 않는다.
- ㉒ 을국의 절대적 빈곤선은 1,200달러에서 2,400달러 사이,

갑국의 절대적 빈곤선은 1,200달러에서 1,700달러 사이이다. 따라서 전자가 후자보다 높은지의 여부에 대해서는 알 수 없다.

- ③ 상대적 빈곤 가구 소득의 총합이 전체 가구 소득의 총합에서 차지하는 비율은 갑국이 약 26%, 을국이 약 25%로 후자는 전자보다 낮다.
- ④ 빈곤 가구에 대한 정부 지원금의 총합은 갑국이 2,800달러, 을국이 3,200달러로 전자는 후자의 80%가 아니다.

111 정답: ⑤

(가)는 사회 보험, (나)는 공공 부조이다.

- ⑤ 주어진 소득 분위 중 총소득에서 민간 소득이 가장 높은 비율을 차지하지 않는 분위는 총소득에서 민간 소득이 20%를 차지하는 1분위의 1개이다.

오답 풀이

- ① 2분위의 경우 민간 소득이 총소득의 50%를 차지하므로 과반을 차지하지 않는다.
- ② 주어진 자료를 바탕으로는 분위별 사회 보장 제도를 통한 평균 수급액에 대한 정보를 알 수 없다.
- ③ 수혜자 부담 원칙이 적용되는 사회 보험의 수급액이 총소득에서 차지하는 비율은 3분위가 30%, 2분위가 30%로 분위가 낮아질수록 지속적으로 증가하지는 않는다.
- ④ 선별적 복지의 원칙이 적용되는 공공 부조의 2분위 가구 수급 총액과 1분위 가구 수급 총액을 직접적으로 비교할 수 있는 정보는 주어진 자료에서는 나타나지 않았다.

112 정답: ③

(가)는 공공 부조, (나)는 사회 보험이다.

A 지역 (가) 제도 수급자 비율에서 가중평균의 원리에 의해 A 지역에서 남성 수는 여성 수의 2배임을 알 수 있으며, 전자를 200, 후자를 100으로 둘 수 있다. 또한 가중평균의 원리에 의해 ㉠에 들어갈 값은 55임을 알 수 있다.

A 지역의 남성 수와 B 지역의 여성 수는 같으므로 B 지역의 여성 수는 200임을 알 수 있다. 그리고 B 지역 (나) 제도 수급자 비율에서 가중평균의 원리에 의해 B 지역에서 남성 수와 여성 수는 같음을 알 수 있다. 따라서 B 지역의 남성 수는 200임을 알 수 있으며, 가중평균의 원리에 의해 ㉡에 들어갈 값은 11.5임을 알 수 있다.

위에서 구한 정보를 바탕으로 A 지역과 B 지역의 성별 (가), (나) 제도 수급자 수를 표에 정리하면 다음과 같다.

구분		(가)	(나)	인구
A 지역	남성	16	100	200
	여성	11	65	100
	전체	27	165	300
B 지역	남성	18	120	200
	여성	28	100	200
	전체	46	220	400

㉢. 강제 가입의 원칙이 적용되는 사회 보험의 경우, 남성 수급자 수와 여성 수급자 수의 차이는 A 지역이 35, B 지

역이 20으로 전자는 후자보다 크다.

- ㉣. 사회 보험에 해당하는 제도의 전체 수급자 비율 대비 공공 부조에 해당하는 제도의 전체 수급자 비율의 비는 A 지역이 9/55, B 지역이 11.5/55로 후자는 전자보다 크다.

오답 풀이

- ㉣. ㉠에 들어갈 값은 55, ㉡에 들어갈 값은 11.5로 전자는 후자의 5배가 아니다.
- ㉣. 선별적 복지 성격이 강한 공공 부조의 경우, A 지역 전체 수급자 수는 27, B 지역 여성 수급자 수는 28으로 전자는 후자보다 많지 않다.

113 정답: ⑤

(가)는 사회 보험, (나)는 공공 부조이다.

A 지역 인구는 C 지역 인구의 2배이므로 전자를 200, 후자를 100으로 둘 수 있으며, B 지역 인구를 100a로 둘 수 있다. 이때 (가) 수급자 비율에서 $36\% \times 200 + 32\% \times 100a + 34\% \times 100 = 34\% \times (300 + 100a)$ 이므로 $a=2$ 인 것을 알 수 있다. 따라서 B 지역 인구는 200인 것을 알 수 있다. 그리고 (나) 수급자 비율에서 $13\% \times 200 + ㉠\% \times 200 + 14\% \times 100 = 12\% \times 500$ 이므로 ㉡에 들어갈 값은 10임을 알 수 있다.

위에서 구한 정보를 바탕으로 A~C 지역과 갑국 전체의 (가), (나) 제도 수급자 수와 전체 인구를 표에 정리하면 다음과 같다.

구분	A 지역	B 지역	C 지역	갑국 전체
(가)	72	64	34	170
(나)	26	20	14	60
인구	200	200	100	500

- ⑤ 선별적 복지의 이념을 바탕으로 한 공공 부조의 수급자 수 대비 수혜자 부담 원칙이 적용되는 사회 보험의 수급자 수의 비는 A 지역이 36/13, B 지역이 16/5, C 지역이 17/7으로 A~C 지역 중 B 지역에서 가장 크다.

오답 풀이

- ① ㉠에는 '금전적 지원의 원칙이 적용됨.'이 적절하나, ㉡에는 '보편적 복지의 이념을 바탕으로 함'이 적절하지 않다.
- ② ㉡에 들어갈 값은 '10'이다.
- ③ A 지역의 사회 보험에 해당하는 (가) 제도의 수급자 수는 72, 갑국 전체의 공공 부조에 해당하는 (나) 제도의 수급자 수는 60으로 전자와 후자는 같지 않다.
- ④ A~C 지역 중 소득 재분배 효과가 가장 큰 공공 부조의 수급자 수는 C 지역에서 가장 적다.

114 정답: ④

- ④ 연 소득이 15,000달러인 가구의 B안에서의 근로 장려금은 3,000달러이고, A안에서의 근로 장려금은 4,000달러 $\times 0.5 = 2,000$ 달러로 전자는 후자의 1.5배이다.

오답 풀이

- ① A안에서 연 소득이 6,000달러인 가구의 근로 장려금은 4,000달러 $\times 0.8 = 3,200$ 달러이다.
- ② B안에서 근로 장려금은 연 소득이 9,000달러인 가구가

$3,000\text{달러} \times 75\% = 2,250\text{달러}$, $24,000\text{달러}$ 인 가구가 $3,000\text{달러} \times 200/3\% = 2,000\text{달러}$ 로 후자는 전자보다 적다.

- ③ 연 소득이 $10,000\text{달러}$ 인 가구의 근로 장려금은 A안이 $4,000\text{달러} \times 200/3\% = (8,000/3)\text{달러}$ 이고, B안이 $3,000\text{달러} \times 500/6\% = 2,500\text{달러}$ 로 전자는 후자보다 적다.
- ⑤ 갑국이 생산적 복지를 실현하는 것을 목표로 한다면, 갑국은 A안보다 B안의 도입을 선호할 것이다.

115 정답: ③

A는 공공 부조, B는 사회 서비스, C는 사회 보험이다.

A 제도 수급자 수는 t년이 t+10년보다 많은데, 전체 인구 대비 A 제도 수급자 비율은 t년이 7.8%, t+10년이 8.1%이므로 전체 인구는 t년이 t+10년보다 많다.

- ③ 비금전적 지원이 적용되는 사회 서비스의 t년 수급자 수는 전체 인구의 12.5%, 강제 가입의 원칙이 적용되는 사회 보험의 t+10년 수급자 수는 전체 인구의 23.2%이고 해당 인구의 50%는 전체 인구의 11.6%이다. 그리고 t년 전체 인구는 t+10년 전체 인구보다 많으므로 t년 전체 인구의 12.5%는 t+10년 전체 인구의 11.6%보다 많다. 따라서 비금전적 지원이 적용되는 사회 서비스의 t년 수급자 수는 강제 가입의 원칙이 적용되는 사회 보험의 t+10년 수급자 수의 50%보다 많다.

오답 풀이

- ① A는 공공 부조, B는 사회 서비스이다.
- ② 상호 부조의 원리가 적용되는 사회 보험의 경우, t년 대비 t+10년 수급자 비율은 0.3%가 아닌, 0.3%p 증가하였다.
- ④ 수혜자 부담의 원칙이 적용되는 사회 보험의 t년 수급자 수는 전체 인구의 22.9%, t+10년 수급자 수는 전체 인구의 23.2%이다. 그리고 t년 전체 인구의 7.8%는 t+10년 전체 인구의 8.1%보다 많다. 따라서 t년 전체 인구의 22.9%는 t+10년 전체 인구의 23.2%보다 많으므로 수혜자 부담의 원칙이 적용되는 사회 보험의 수급자 수는 t년이 t+10년보다 많다.
- ⑥ t년 대비 t+10년 공공 부조에 해당하는 A 제도의 수급자 수는 감소하였다. 갑국의 t년 전체 인구를 100a, t+10년 전체 인구를 100b로 둔다면 $7.8a > 8.1b$ 인 것이다. 따라서 강제 가입의 원칙이 적용되는 C 제도의 수급자 수에서도 $22.9a > 23.2b$ 인 것을 알 수 있다. 그리고 만약 $7.8a = 8.1b$ 인 상황을 가정해도 여전히 $22.9a > 23.2b$ 이다. 따라서 t년 대비 t+10년 수급자 수의 감소율은 강제 가입의 원칙이 적용되는 사회 보험이 공공 부조에 해당하는 제도보다 높으며, 역으로 수급자 수의 증가율은 강제 가입의 원칙이 적용되는 사회 보험이 공공 부조에 해당하는 제도보다 낮다.

116 정답: ④

(가)는 사회 보험, (나)는 공공 부조이다.
(나) 수급자 비율에서 가중평균의 원리에 의해 A 지역 전체 인구는 B 지역 전체 인구의 2배인 것을 알 수 있으며, 이에 따라 전자를 200, 후자를 100으로 둘 수 있다. 또한 (가) 수

급자 비율에서 가중평균의 원리에 의해 ㉔은 36인 것을 알 수 있다.

A 지역의 (가), (나) 중복 수급자를 제외한 (가) 수급자 비율은 $(33 - ㉔)\%$, 갑국 전체의 (가), (나) 중복 수급자를 제외한 (나) 수급자 비율은 $(13 - ㉔)\%$ 이고 전자는 후자의 4배이므로 $33 - ㉔ = 52 - 4㉔$, $㉔ = 4㉔ - 19$ 가 된다. 이에 따라 갑국 각 지역의 (가), (나) 수급자 비율을 표에 나타내면 다음과 같다. (단위: %)

구분	A 지역	B 지역	갑국 전체
(가) 수급자	33	36	34
(나) 수급자	14	11	13
(가)와 (나) 중복 수급자	$4㉔ - 19$	8	㉔

이때 $8 < ㉔$ 인 경우 $4㉔ - 19 > ㉔$ 이 되어야 하고, 가중평균의 원리를 이용해 ㉔을 구하면 $㉔ = 6$ 이라는 결과가 나온다. 하지만 이는 $8 < ㉔$ 에 모순이므로, $8 > ㉔$ 인 것을 알 수 있다. 이 경우 $4㉔ - 19 < ㉔$ 이 되어야 하고, 가중평균의 원리를 이용해 ㉔을 구하면 $㉔ = 6$ 이라는 결과가 나오고, 이를 바탕으로 $㉔ = 5$ 인 것을 알 수 있다. 이에 따라 갑국 각 지역의 (가), (나) 수급자 수를 표에 나타내면 다음과 같다.

구분	A 지역	B 지역	갑국 전체
(가) 수급자	66	36	102
(나) 수급자	28	11	39
(가)와 (나) 중복 수급자	10	8	18

- ④ 사전 예방적 성격이 강한 사회 보험에만 해당하는 B 지역 수급자 수는 28, 사후 처방적 성격이 강한 공공 부조에만 해당하는 A 지역 수급자 수는 18으로 전자는 후자보다 많다.

오답 풀이

- ① ㉔은 36, ㉔과 ㉔의 합은 11으로 전자는 후자의 3배가 아니다.
- ② 선별적 복지의 원칙이 적용되는 공공 부조의 수급자 수는 A 지역이 28, B 지역이 11으로 전자는 후자의 2배보다 많다.
- ③ 사회 보험에 해당하는 제도의 B 지역 수급자 수는 36, 공공 부조에 해당하는 제도의 갑국 전체 수급자 수는 39로 전자는 후자보다 적다.
- ⑤ (가), (나) 두 제도 모두의 비(非)수급자 비율은 B 지역이 61%, A 지역이 58%로 전자는 후자보다 높다.

117 정답: ②

(가)는 사회 보험, (나)는 공공 부조이다.
(가) 수급자 비율에서 A 지역 수급자 비율은 45%로 갑국 수급자 비율과 같고, B 지역 수급자 비율은 42%, C 지역 수급자 비율은 47%이므로 가중평균의 원리에 의해 C 지역 전체 인구는 B 지역 전체 인구의 1.5배임을 알 수 있다. 따라서 전자를 300, 후자를 200으로 둘 수 있고, 이에 더해 A 지역 전체 인구를 100a로 둘 수 있다.
A~C 지역의 (가)와 (나) 중복 수급자 수를 제외한 (나) 수급자 수의 비는 각각 2:3:6인데, (가)와 (나) 중복 수급자 수

를 제외한 (나) 수급자 수는 A 지역이 12a, B 지역이 (36-2㉔), C 지역이 36이다. 따라서 12a=12이므로 a=1인 것을 알 수 있으며, 36-2㉔=18이므로 ㉔=9인 것을 알 수 있다.

(나) 수급자에서 21%×100+18%×200+25%×300=600×㉕%이므로 132=6㉕, ㉕=22인 것을 알 수 있다. 또한 (가)와 (나) 중복 수급자에서 9%×100+9%×200+13%×300=600×㉖%이므로 66=6㉖, ㉖=11인 것을 알 수 있다.

이에 따라 갑국 각 지역의 (가), (나) 수급자 수를 표에 나타내면 다음과 같다.

구분	A 지역	B 지역	C 지역	갑국
(가) 수급자	45	84	141	270
(나) 수급자	21	36	75	132
(가)와 (나) 중복 수급자	9	18	39	66

② (가)와 (나) 중복 수급자 수는 B 지역이 18, A 지역이 9로 전자는 후자의 2배이다.

오답 풀이

- ① ㉔과 ㉕의 합은 20, ㉕은 22이므로 전자는 후자보다 작다.
- ③ 상호 부조의 원리가 적용되는 사회 보험에만 해당하는 수급자 비율은 A 지역이 36%, B 지역이 33%, C 지역이 34%로 A~C 지역 중 A 지역이 가장 높다.
- ④ (가), (나) 두 제도 모두의 비(非)수급자 수는 C 지역이 123, A 지역이 43으로 전자는 후자의 3배보다 적다.
- ⑤ 강제 가입의 원칙이 적용되는 사회 보험에만 해당하는 수급자 수 대비 선별적 복지 이념을 바탕으로 한 공공 부조에만 해당하는 수급자 수의 비는 A 지역이 1/3, B 지역이 3/11, C 지역이 6/17으로 A~C 지역 중 C 지역이 가장 크다.

118 정답: ②

(가)는 사회 보험, (나)는 공공 부조, (다)는 사회 서비스이다. (가)와 (나) 중복 수급자 비율에서 가중평균의 원리에 의해 A 지역 전체 인구는 B 지역 전체 인구의 2배인 것을 알 수 있으며, 전자를 200, 후자를 100으로 둘 수 있다. 그리고 역시 가중평균의 원리에 의해 A, B 지역의 각 수급자 비율(%)을 다음과 같이 정리해 줄 수 있다.

구분	A 지역	B 지역	갑국
(가) 수급자	56	50	54
(나) 수급자	32	26	30
(다) 수급자	20	23	21
(가)와 (나) 중복 수급자	14	11	13
(나)와 (다) 중복 수급자	6	9	7
(가)와 (다) 중복 수급자	9	12	10

이때 (가)~(다) 중복 수급자 비율은 B 지역이 A 지역의 2배이므로 전자를 2a%, 후자를 a%로 둘 수 있는데, 이를 바탕으로 (가), (다)에만 해당하는 수급자 비율을 구하면 A 지역이 (9-a)%, B 지역이 (12-2a)%임을 알 수 있다. 따라서 각 인구는 A 지역이 18-2a, B 지역이 12-2a임을 알 수 있는데, (가), (다)에만 해당하는 수급자 수는 A 지역이 B 지역의 2배

이므로 18-2a=24-4a임을 알 수 있다. 따라서 a=3임을, 다히 말해 (가)~(다) 중복 수급자 비율은 A 지역이 3%, B 지역이 6%임을 알 수 있다. 이를 바탕으로 A, B 지역의 (가)~(다) 수급자 비율(%)을 표에 나타내면 다음과 같다.

구분	A 지역	B 지역	갑국
(가)에만 해당하는 수급자	36	33	35
(나)에만 해당하는 수급자	15	12	14
(다)에만 해당하는 수급자	8	8	8
(가), (나)에만 해당하는 수급자	11	5	9
(나), (다)에만 해당하는 수급자	3	3	3
(가), (다)에만 해당하는 수급자	6	6	6
(가)~(다) 중복 수급자	3	6	4

또한 이를 바탕으로 A, B 지역의 (가)~(다) 수급자 수를 표에 나타내면 다음과 같다.

구분	A 지역	B 지역	갑국
(가)에만 해당하는 수급자	72	33	105
(나)에만 해당하는 수급자	30	12	42
(다)에만 해당하는 수급자	16	8	24
(가), (나)에만 해당하는 수급자	22	5	27
(나), (다)에만 해당하는 수급자	6	3	9
(가), (다)에만 해당하는 수급자	12	6	18
(가)~(다) 중복 수급자	6	6	12

② (가)~(다) 중 두 가지 제도에만 해당하는 수급자 수는 A 지역이 40, B 지역이 14로 전자는 후자의 3배보다 적다.

오답 풀이

- ① 사회 서비스에만 해당하는 수급자 수는 A 지역이 16, B 지역이 8로 전자와 후자는 같지 않다.
- ③ (가)~(다) 모두의 비(非)수급자 비율은 B 지역이 27%, A 지역이 18%로 전자는 후자의 75%가 아니다.
- ④ 공공 부조에 해당하는 제도의 B 지역 수급자 수는 26, 공공 부조에 해당하는 제도에만 해당하는 A 지역 수급자 수는 30으로 전자는 후자보다 적다.
- ⑤ (가)~(다) 중 한 가지 제도에만 해당하는 수급자 비율은 B 지역이 53%, A 지역이 59%로 전자는 후자보다 낮다.

119 정답: ④

(가)는 공공 부조, (나)는 사회 보험이다.

t-20년 A 지역과 B 지역의 전체 인구는 서로 같으므로 해당 인구를 100으로 둘 수 있다. 이때 이전 조사 연도 대비 A 지역 전체 인구 변화율은 t-10년이 20%, t년이 100%이므로 A 지역 전체 인구는 t-10년이 120, t년이 240인 것을 알 수 있다. 또한 이전 조사 연도 대비 B 지역 전체 인구 변화율은 t-10년이 -20%, t년이 50%이므로 B 지역 전체 인구는 t-10년이 80, t년이 120인 것을 알 수 있다.

이에 따라 가중평균의 원리를 적용하여 연도에 따른 A, B 지역의 (가), (나) 제도 수급자 비율(%)을 표에 정리하면 다음과 같다.

구분		t-20년	t-10년	t년
(가)	A 지역	8.0	7.5	9.2
	B 지역	7.2	8.0	8.6
	전체	7.6	7.7	9.0
(나)	A 지역	25.0	34.0	24.5
	B 지역	23.8	31.0	27.5
	전체	24.4	32.8	25.5

④ 대상자 선정에 따른 부정적 낙인이 발생할 수 있는 공공 부조의 t-20년 A 지역 수급자 수는 $100 \times 8.0\% = 8$, t-10년 B 지역 수급자 수는 $80 \times 8.0\% = 6.4$ 로 전자는 후자의 125%이다.

오답 풀이

- ① t년 A 지역의 전체 인구는 240, t-10년 B 지역의 전체 인구는 80으로 전자는 후자의 2배가 아니다.
- ② A 지역의 (나) 제도 수급자 수는 t-10년이 $120 \times 34.0\% = 40.8$, t년이 $240 \times 24.5\% = 58.8$ 으로 전자는 후자보다 적다.
- ③ B 지역의 공공 부조에 해당하는 제도의 이전 조사 연도와 수급자 비율 차이는 t년이 0.6%, t-10년이 0.8%로 전자는 후자보다 작다.
- ⑤ 보편적 복지의 성격이 강한 사회 보험의 t-20년 A 지역 수급자 수는 $100 \times 25.0\% = 25$, 선별적 복지의 성격이 강한 공공 부조의 t년 B 지역 수급자 수는 $120 \times 8.6\% = 10.32$ 로 전자는 후자의 2배를 초과한다.

120 정답: ①

갑국의 t년 하층 인구 비율 대비 상층 인구 비율의 비는 1이므로 하층 인구 비율을 10a%, 상층 인구 비율을 10a%로 둘 수 있고, 이에 따라 중층 인구 비율은 $(100-20a)\%$ 가 된다. 이때 t년 (나) 제도 수급자 비율에서 $10a\% \times 14\% + (100-20a)\% \times 8\% + 10a\% \times 12\% = 100\% \times 11\%$ 가 된다. 따라서 $1.4a\% + (8-1.6a)\% + 1.2a\% = 11\%$, $a=3\%$ 가 된다. 이에 따라 a=3임을 알 수 있고, 갑국의 t년 하층 인구 비율은 30%, 상층 인구 비율은 30%, 중층 인구 비율은 40%인 것을 알 수 있다. 갑국의 t+10년 하층 인구 비율 대비 상층 인구 비율의 비는 0.5이므로 하층 인구 비율을 20b%, 상층 인구 비율을 10b%로 둘 수 있고, 이에 따라 중층 인구 비율은 $(100-30b)\%$ 가 된다. 이때 t+10년 (가) 제도 수급자 비율에서 $10b\% \times 34\% + (100-30b)\% \times 35\% + 20b\% \times 38\% = 100\% \times 36\%$ 가 된다. 따라서 $3.4b\% + (35-10.5b)\% + 7.6b\% = 36\%$, $0.5b\% = 1\%$ 가 된다. 이에 따라 b=2임을 알 수 있고, 갑국의 t+10년 하층 인구 비율은 40%, 상층 인구 비율은 20%, 중층 인구 비율은 40%인 것을 알 수 있다. t년과 t+10년의 갑국 전체 인구는 서로 같으므로 해당 인구를 100으로 둘 수 있으며, 이에 따라 t년 갑국의 하층 인구는 30, 중층 인구는 40, 상층 인구는 30인 것을, t+10년 갑국의 하층 인구는 40, 중층 인구는 40, 상층 인구는 20인 것을 알 수 있다. 갑국의 t년 (가) 제도 수급자 비율에서 $29\% \times 30 + \textcircled{1}\% \times 40 + 3$

$5\% \times 30 = 32\% \times 100$ 인 것을 알 수 있으며, 이에 따라 $8.7 + 0.4\textcircled{1} + 10.5 = 32$ 인 것을 알 수 있으므로 $0.4\textcircled{1} = 12.8$, $\textcircled{1} = 32$ 인 것을 알 수 있다. 또한 t+20년 (나) 제도 수급자 비율에서 $11\% \times 40 + \textcircled{2}\% \times 40 + 9\% \times 20 = 11\% \times 100$ 인 것을 알 수 있으며, 이에 따라 $4.4 + 0.4\textcircled{2} + 1.8 = 11$ 인 것을 알 수 있으므로 $0.4\textcircled{2} = 4.8$, $\textcircled{2} = 12$ 인 것을 알 수 있다.

위에서 구한 내용을 바탕으로 갑국의 연도에 따른 상~하층 인구를 표에 정리하면 다음과 같다.

구분	t년	t+10년
상층 인구	30	20
중층 인구	40	40
하층 인구	30	40

또한 위에서 구한 내용을 바탕으로 갑국의 연도에 따른 상~하층 (가), (나) 제도 수급자 수를 표에 정리하면 다음과 같다.

구분	t년		t+10년	
	(가) 제도	(나) 제도	(가) 제도	(나) 제도
상층 인구	10.5	4.2	6.8	1.8
중층 인구	12.8	3.2	14	4.8
하층 인구	8.7	3.6	15.2	4.4

① ①에 들어갈 값은 32, ②에 들어갈 값은 12로 전자는 후자의 3배보다 작다.

오답 풀이

- ② t년 중층 인구는 40, t+10년 상층 인구는 20으로 전자와 후자는 같지 않다.
- ③ t년 상층 인구 중 사회 보험에 해당하는 제도 수급자 수는 10.5, t+10년 하층 인구 중 공공 부조에 해당하는 제도 수급자 수는 4.4로 전자는 후자의 2배보다 많다.
- ④ t+10년 상층 인구 중 선별적 복지의 원칙이 적용되는 공공 부조의 수급자 수는 1.8, 전체 인구 중 보편적 복지의 원칙이 적용되는 제도 수급자 수는 36으로 전자는 후자의 12%가 아니다.
- ⑤ 중층 인구 중 강제 가입 원칙이 적용되는 사회 보험의 수급자 수는 t년이 12.8, t+10년이 14로 후자는 전자보다 많다.

121	122	123	124	125
①	⑤	⑤	①	②
126	127	128	129	130
①	②	①	②	④
131	132	133	134	135
②	①	⑤	②	②
136	137	138	139	140
④	②	④	③	③
141	142	143	144	145
④	②	①	①	②
146	147	148	149	150
⑤	③	⑤	①	④

121 정답: ①

다음 글에서 사회 변동의 방향을 보는 필자의 관점은 진화론이다.

- ㄱ. 진화론은 사회가 미분화된 상태에서 분화된 상태로 변동한다고 본다.
- ㄴ. 진화론은 사회 변동이 일정한 방향을 갖는다고 본다.

오답 풀이

- ㄷ. 미래의 사회 변동에 대한 역동적 대응이 곤란하다는 비판을 받는 것은 순환론이다.

122 정답: ⑤

다음 글에서 사회 변동의 방향을 보는 필자의 관점은 순환론이다.

- ㄱ. 순환론은 운명론적 관점에서 사회 변동을 설명한다.
- ㄴ. 순환론은 사회 변동을 동일한 과정의 주기적 반복으로 설명한다.

오답 풀이

- ㄱ. 사회 변동을 사회 발전과 동일시하는 것은 진화론이다.
- ㄴ. 서구 중심적 사고라는 비판을 받는 것은 진화론이다.

123 정답: ⑤

A는 진화론, B는 순환론이다.

- ⑤ (나)에는 진화론과 순환론 모두 '예'로 답할 내용이 들어가야 한다. 그리고 '사회 변동에 일정한 양상이 존재한다고 보는가?'는 이에 해당하므로 (나)에 들어갈 수 있다.

오답 풀이

- ① 운명론적 관점에서 사회 변동을 설명하는 것은 순환론이다.
- ② 서구 중심적 사고라는 비판을 받는 것은 진화론이다.
- ③ 사회 변동에 일정한 방향이 존재한다고 보는 것은 진화론뿐이다.
- ④ (가)에는 순환론만 '예'로 답변할 내용이 들어가야 한다. 그리고 '사회 변동이 곧 사회 발전이라고 보는가?'는 진화론만 '예'로 답변할 내용이므로 해당 내용은 (가)에 들어갈

수 없다.

124 정답: ①

학생의 첫 번째 서술과 두 번째 서술은 진화론에 해당하는 특징이다. 이때 B가 순환론이라면 채점 결과가 2점이라는 데 모순이다. 따라서 A는 순환론, B는 진화론이고, (가)에는 진화론에만 해당하는 것이 아닌 특징이 들어가야 한다.

- ㄱ. 순환론은 진화론과 달리 사회 변동에 대응하는 인간의 노력을 과소평가한다는 비판을 받는다.
- ㄴ. 진화론은 순환론과 달리 사회 변동을 문명 사회로 이행하는 과정이라고 본다.

오답 풀이

- ㄷ. 사회 변동은 일정한 방향성을 가지고 있다고 보는 것은 진화론뿐이다.
- ㄹ. '희망성쇠를 거듭한 사회의 사례를 설명하기 용이하다.'는 진화론에만 해당하는 것이 아닌, 순환론에만 해당하는 특징이므로 해당 내용은 (가)에 들어갈 수 있다.

125 정답: ②

A에 대해 조사한 첫 번째 특징은 순환론, 두 번째 특징은 진화론에 해당하는 특징이다. 그리고 B에 대해 조사한 첫 번째 특징과 두 번째 특징은 모두 진화론에 해당하는 특징이다. 이때 A가 진화론, B가 순환론이라면 B에서 다른 특징의 주장이 한 가지 존재한다는 데 모순이다. 따라서 A는 순환론, B는 진화론이고, (가)에는 순환론, (나)에도 순환론에 해당하는 특징이 들어가야 한다.

- ㄴ. '장기적인 사회 변동을 설명하는 데 유용하다.'는 순환론에 해당하는 특징이므로 (가)에 들어갈 수 있다.

오답 풀이

- ㄱ. 모든 사회의 변동 방향이 동일하다고 보는 것은 순환론이 아닌 진화론의 특징이다.
- ㄷ. '사회 변동이 항상 진보를 의미하는 것은 아니라고 본다.'는 순환론에 해당하는 특징이므로 (가)에 들어갈 수 있다.

126 정답: ①

첫 번째 특징은 진화론, 두 번째 특징은 진화론과 순환론의 특징이다. 따라서 갑은 두 번째 특징에 대해 틀리게 분류하였고, 다른 모든 특징에 대해 옳게 분류하였다. 따라서 A는 진화론, B는 순환론이다. 이때 을은 첫 번째, 두 번째 특징에 대해 옳게 분류하였으므로 세 번째 특징에 대해 옳지 않게 분류하였다. 따라서 (가)에는 순환론에만 해당하는 특징이 들어가야 한다.

- ① 진화론은 순환론과 달리 단기적인 사회 변동을 설명하는 데 유용하다.

오답 풀이

- ② 사회 변동에 의해 사회가 더 복잡하게 분화한다고 보는 것은 진화론이다.
- ③ 단선적인 사회 변동의 과정을 설명하기 어려운 것은 순환론이다.
- ④ 사회 변동에 일정한 방향이 존재한다고 보는 것은 진화론

뿐이다.

- ⑤ ‘과거에 비해 진보한 사회를 설명하기 어렵다.’는 순환론에만 해당하는 특징이다. 따라서 해당 내용은 (가)에 들어갈 수 있다.

127 정답: ②

A가 순환론, B가 진화론이라면 첫 번째 질문에 대한 옳은 답변은 ‘아니오’, 두 번째 질문에 대한 옳은 답변은 ‘아니오’, 세 번째 질문에 대한 옳은 답변은 ‘아니오’이다. 하지만 이 경우는 옳이 3점을 얻은 데 모순이다. 따라서 A는 진화론, B는 순환론이다.

이때 첫 번째 질문과 두 번째 질문, 세 번째 질문에 대한 옳은 답변은 모두 ‘예’가 되고, 이에 따라 두 번째 질문에 대한 옳은 답변은 옳지 않은 답변이 된다. 따라서 네 번째 질문에 대한 옳은 답변은 옳은 답변이 되어야 하고, (가)에는 옳은 답변이 ‘예’인 질문이 들어가야 한다.

그리고 첫 번째, 네 번째 질문에 대한 갑의 답변은 옳지 않은 답변이고, 두 번째 질문에 대한 갑의 답변은 옳은 답변이다. 그리고 갑은 2점을 얻었으므로 세 번째 질문에 대해 갑은 옳은 답변을 해야만 한다. 따라서 ㉠에 들어갈 것은 ‘예’이다.

ㄱ. 진화론은 순환론과 달리 사회 변동이 곧 사회 발전이라고 본다.

ㄴ. ㉠에 들어갈 것은 ‘예’이다.

오답 풀이

ㄴ. 사회 변동에 일정한 양상이 존재한다고 보는 것은 진화론과 순환론 모두이다.

ㄷ. ‘A는 B와 달리 단기적인 사회 변동을 설명하기 용이한가?’에 대한 옳은 답변은 ‘예’이다. 따라서 해당 내용은 (가)에 들어갈 수 있다.

128 정답: ①

A는 (가)에 대해 ‘예’로 답변했는데, A의 답변 ‘아니오’의 개수는 2개이다. 따라서 ‘사회 변동이 곧 사회 발전이라고 보는가?’와 (나)에 대한 A의 답변은 ‘아니오’이고, A는 순환론, B는 진화론인 것을 알 수 있다. 그리고 ‘사회 변동이 곧 사회 발전이라고 보는가?’에 대한 B의 답변은 ‘예’이다.

ㄱ. 순환론은 진화론과 달리 운명적인 관점에서 사회 변동을 설명한다.

오답 풀이

ㄴ. ‘사회 변동에 일정한 양상이 존재한다고 보는가?’에 대한 순환론과 진화론의 답변은 모두 ‘예’이다. 따라서 해당 내용은 (가)에 들어갈 수 있다.

ㄷ. 질문 (가)에 대한 B의 답변이 ‘예’이고 ㉠에 ‘1개’가 들어간다면 (나)에 대한 B의 답변은 ‘아니오’가 되어야 한다. 따라서 이 경우 (나)에는 A와 B의 답변이 모두 ‘아니오’인 질문이 들어가야 한다. 그러나 ‘장기적인 사회 변동을 설명하기 용이한가?’에 대한 A의 답변은 ‘예’이므로 해당 내용은 (나)에 들어갈 수 없다.

129 정답: ②

② ㉠은 ‘부패 척결’이라는 활동을 정당화하는 신념을 바탕으로 한 사회 운동이다.

오답 풀이

① ㉠은 사회 운동이 아니기는 하나, 다수의 사람들이 자발적으로 한 행동에는 해당한다.

③ ㉠은 기존 사회 질서를 유지하려는 다수의 행동에 해당하지 않는다.

④ ㉠은 경제적 약자들이 자신의 권리 보장을 요구하는 운동에 해당하지 않는다.

⑤ 뚜렷한 목표와 체계적 활동 계획을 바탕으로 한 다수의 행동은 ㉠에만 해당하는 진술이다.

130 정답: ④

④ (나)에는 (가)와 달리 ‘농민’이라는 특정 집단만의 이익을 추구하는 사회 운동이 나타난다.

오답 풀이

① (가)에는 현상 유지를 고수하고 변화에 저항하는 다수의 행동이 나타나지 않는다.

② (나)에는 농민 단체라는 체계적인 조직을 바탕으로 한 다수의 행동이 나타난다.

③ (가)에는 사회 구조 자체를 근본적으로 바꾸고자 하는 사회 운동이 나타나지 않는다.

⑤ (가), (나)에는 모두 사회적 약자를 보호하기 위한 목적을 가진 사회 운동이 나타나지 않는다.

131 정답: ②

ㄱ. ㉠은 ㉡과 달리 환경 보호를 통한 지속 가능한 미래의 영위에 초점을 맞춘 사회 운동이다.

ㄴ. ㉠은 ㉢과 달리 흑인이라는 특정 집단 구성원의 삶의 질 향상을 위한 사회 운동이다.

오답 풀이

ㄴ. ㉠과 ㉡은 모두 일반 시민이 아닌 국가가 주도한 사회 운동에 해당하지 않는다.

ㄷ. ㉡과 ㉢은 모두 사회 체계의 전면적인 변혁을 추구하는 사회 운동에 해당하지 않는다.

132 정답: ①

A는 ‘사회 운동’이다. 첫 번째 답안은 맞는, 두 번째 답안은 맞는, 세 번째 답안은 틀린 내용으므로 채점 결과는 2점 이상 3점 이하이다.

ㄱ. 20세기 한국의 ‘금 모으기 운동’은 사회 운동에 해당한다.

오답 풀이

ㄴ. ‘과거로의 회귀를 추구할 수 있다.’는 맞는 내용이지만 해당 내용이 (가)에 들어간다면 ㉠에 들어갈 것은 ‘3점’이다.

ㄷ. ㉠에 ‘3점’이 들어간다면, (가)에는 맞는 내용이 들어가야 한다. 하지만 ‘월드컵 기간 거리 응원을 예시로 들 수 있다.’는 틀린 내용이므로 해당 내용은 (가)에 들어갈 수 없다.

133 정답: ⑤

A는 정보 사회, B는 산업 사회이다.

⑤ (가)에는 산업 사회에서 정도가 강하고 정보 사회에서 정도가 약한 내용이 들어가야 한다. 그리고 '가정과 일터의 결합 정도'는 산업 사회에서 정도가 약하고 정보 사회에서 정도가 강한 내용이므로 (가)에 들어갈 수 없다.

오답 풀이

- ① 정보 사회는 산업 사회에 비해 구성원 간 대면 접촉 비중이 낮다.
- ② 정보 사회는 산업 사회에 비해 정보 제공자와 수용자 간 구분이 불명확하다.
- ③ 산업 사회는 정보 사회에 비해 다품종 소량 생산 방식의 비중이 낮다.
- ④ 산업 사회는 정보 사회에 비해 지식 정보 산업의 비중이 낮다.

134 정답: ②

A는 산업 사회, B는 정보 사회이다.

ㄱ. 산업 사회는 정보 사회에 비해 의사 결정의 분권화 정도가 낮다.
 ㄴ. 산업 사회는 자본과 노동이, 정보 사회는 지식과 정보가 부가 가치의 주요 원천이다.

오답 풀이

- ㄴ. 산업 사회는 정보 사회에 비해 직업의 동질성이 높다.
- ㄷ. 정보 사회에는 다품종 소량 생산의 비중이 높으므로 해당 내용은 (가)에 들어갈 수 있다.

135 정답: ②

A는 산업 사회, B는 정보 사회이다.

② 정보 사회는 산업 사회에 비해 시민의 정치 참여 경로가 다양하다.

오답 풀이

- ① 산업 사회는 정보 사회에 비해 비대면 접촉의 비중이 낮다.
- ③ 산업 사회는 소품종 대량 생산이, 정보 사회는 다품종 소량 생산이 지배적이다.
- ④ (가)에는 산업 사회에서 높게 나타나는 특징이 들어가야 한다. 하지만 '가정과 일터의 결합 정도'는 산업 사회에서 낮게 나타나는 특징이므로 해당 내용은 (가)에 들어갈 수 없다.
- ⑤ (나)에는 정보 사회에서 높게 나타나는 특징이 들어가야 한다. 하지만 '직업의 동질성'은 정보 사회에서 낮게 나타나는 특징이므로 해당 내용은 (나)에 들어갈 수 없다.

136 정답: ④

A가 정보 사회, B가 산업 사회인 경우 갑, 병은 비교 기준을 옳지 않게 제시한 학생이 되어 비교 기준을 옳게 제시한 학생이 옳지 않게 제시한 학생보다 많다는 데 모순이다. 따라서 A는 산업 사회, B는 정보 사회이고, 옳지 않게 제시한 학생은 을이며, (가)에는 옳은 내용이 들어가야 한다.

ㄱ. ㉠은 '을'이다.

ㄴ. 산업 사회는 정보 사회에 비해 정보 생산자와 소비자 간 구분의 명확성이 높다.
 ㄷ. 정보 사회는 산업 사회에 비해 시민의 정치 참여 방법의 다양성이 크다.

오답 풀이

ㄷ. '구성원 간 익명성 정도'는 옳은 내용이므로 (가)에 들어갈 수 있다.

137 정답: ②

사회의 다원화 정도는 정보 사회가 산업 사회보다 높다. 그리고 A > B 구분에 대한 채점 결과는 0점이므로 A는 산업 사회, B는 정보 사회이다.

이때 쌍방향 매체의 활용 정도는 정보 사회가 산업 사회보다 높다. 따라서 A < B 구분에 대한 채점 결과는 1점 이상 2점 이하이다.

ㄱ. 산업 사회는 정보 사회에 비해 전자 상거래의 비중이 낮다.
 ㄴ. 다품종 소량 생산 정도는 정보 사회가 산업 사회보다 높다. 따라서 해당 내용이 (가)에 들어간다면, ㉠에 들어갈 것은 '2점'이다.

오답 풀이

- ㄴ. 정보의 생산자와 소비자 간 구분의 불명확 정도는 정보 사회가 산업 사회보다 높다. 그리고 (나)에는 정보 사회가 산업 사회보다 높게 나타나는 특징이 들어가야 하므로 해당 내용은 (나)에 들어갈 수 있다.
- ㄷ. ㉠에 '1점'이 들어간다면 (가)에는 정보 사회보다 산업 사회에서 높게 나타나는 특징이 들어가야 한다. 그리고 면대면 접촉 빈도는 정보 사회보다 산업 사회에서 높게 나타나는 특징이므로 해당 내용은 (가)에 들어갈 수 있다.

138 정답: ④

A 지역에서 정보 사회에 응답한 거주민은 전체 인구의 80%이므로 산업 사회에 응답한 거주민은 전체 인구의 20%이다. 그리고 B 지역에서 산업 사회에 응답한 거주민은 전체 인구의 50%이므로 정보 사회에 응답한 거주민은 전체 인구의 50%이며, 갑 권역에서 정보 사회에 응답한 거주민은 전체 인구의 60%이므로 산업 사회에 응답한 거주민은 전체 인구의 40%이다. 따라서 ㉠에 들어갈 값은 '20', ㉡에 들어갈 값은 '50', ㉢에 들어갈 값은 '40'이다. 이때 가중평균의 원리에 의해 B 지역의 전체 인구는 A 지역의 전체 인구의 2배임을 알 수 있고, 전자를 200, 후자를 100으로 둘 수 있다.

위에서 구한 내용을 바탕으로 A 지역과 B 지역, 갑 권역의 전체 인구와 산업 사회 응답 인원, 정보 사회 응답 인원을 표에 정리하면 다음과 같다.

구분	A 지역	B 지역	갑 권역
산업 사회	20	100	120
정보 사회	80	100	180
전체 인구	100	200	300

④ 자신이 거주 중인 지역이 전자 상거래의 비중이 높은 정보

사회에 해당한다고 응답한 B 지역 거주민은 100, A 지역 거주민은 80으로 전자는 후자보다 많다.

오답 풀이

- ① ㉠과 ㉡의 합은 70, ㉢은 40으로 전자는 후자와 같지 않다.
- ② 자신이 거주 중인 지역이 정보 사회에 해당한다고 응답한 A 지역 거주민은 80, 산업 사회에 해당한다고 응답한 갑 권역 거주민은 120으로 전자는 후자보다 적다.
- ③ 자신이 거주 중인 지역이 소품종 대량 생산 정도가 높은 산업 사회에 해당한다고 응답한 A 지역 거주민은 20, 갑 권역 거주민은 120으로 전자는 후자의 20% 이상이 아니다.
- ⑤ 자신이 거주 중인 지역이 면대면 접촉 빈도가 높은 산업 사회에 해당한다고 응답한 B 지역 거주민은 100, A 지역 전체 거주민은 100으로 전자는 후자보다 적지 않다.

139 정답: ③

A가 산업 사회, B가 정보 사회인 경우 각 질문에 대한 갑, 을의 응답의 정오는 아래와 같다.

구분	갑	을
첫 번째 질문	○	○
두 번째 질문	○	×
세 번째 질문	?	○
네 번째 질문	?	?

A가 정보 사회, B가 산업 사회인 경우 각 질문에 대한 갑, 을의 응답의 정오는 아래와 같다.

구분	갑	을
첫 번째 질문	×	×
두 번째 질문	×	○
세 번째 질문	?	×
네 번째 질문	?	?

- ㄱ. A가 정보 사회, B가 산업 사회라면 세 번째 질문과 네 번째 질문에 대한 갑의 응답은 옳고, 네 번째 질문에 대한 을의 응답은 옳지 않아야 한다. 그리고 산업 사회는 정보 사회에 비해 쌍방향 매체의 활용 정도가 낮으므로 세 번째 질문에 대한 옳은 응답은 '아니요'이다. 따라서 A가 정보 사회, B가 산업 사회라면, ㉠에 들어갈 것은 '아니요'이다.
- ㄷ. 해당 내용이 (가)에 들어간다면, A가 산업 사회, B가 정보 사회인 경우 각 질문에 대한 갑, 을의 응답의 정오는 아래와 같다.

구분	갑	을
첫 번째 질문	○	○
두 번째 질문	○	×
세 번째 질문	?	○
네 번째 질문	×	○

그리고 이 경우 옳은 응답의 개수는 갑이 을보다 많을 수 없다. 따라서 A는 정보 사회, B는 산업 사회이고, 각 질

문에 대한 갑, 을의 응답의 정오는 아래와 같다.

구분	갑	을
첫 번째 질문	×	×
두 번째 질문	×	○
세 번째 질문	?	×
네 번째 질문	○	×

이에 따라 세 번째 질문에 대한 갑의 응답은 옳아야 한다. 그리고 산업 사회는 정보 사회에 비해 쌍방향 매체의 활용 정도가 낮으므로 세 번째 질문에 대한 옳은 응답은 '아니요'이다. 따라서 해당 내용이 (가)에 들어간다면, ㉠에 들어갈 것은 '아니요'이다.

오답 풀이

- ㄴ. 옳은 응답의 개수가 갑이 을의 2배라면 A가 산업 사회, B가 정보 사회인 경우 각 질문에 대한 갑, 을의 응답의 정오는 아래와 같다.

구분	갑	을
첫 번째 질문	○	○
두 번째 질문	○	×
세 번째 질문	○	○
네 번째 질문	○	×

이에 따라 네 번째 질문에 대한 옳은 응답은 '아니요'가 되어야 하는데, '정보 사회는 산업 사회에 비해 다품종 소량 생산의 비중이 높은가?'에 대한 옳은 응답은 '예'이므로 A가 산업 사회, B가 정보 사회인 경우 해당 내용은 (가)에 들어갈 수 없다. 그리고 A가 정보 사회, B가 산업 사회인 경우 옳은 응답의 개수가 갑이 을의 2배라면 각 질문에 대한 갑, 을의 응답의 정오는 아래와 같다.

구분	갑	을
첫 번째 질문	×	×
두 번째 질문	×	○
세 번째 질문	○	×
네 번째 질문	○	×

이때 ㉠에 들어갈 것은 '아니요'가 되고, 네 번째 질문에 대한 옳은 응답은 '아니요'가 되어야 한다. 그리고 '산업 사회는 정보 사회에 비해 다품종 소량 생산의 비중이 높은가?'에 대한 옳은 응답은 '아니요'이므로 A가 정보 사회, B가 산업 사회인 경우 해당 내용은 (가)에 들어갈 수 있다.

140 정답: ③

<1 모둠>이 발표한 특징은 모두 정보 사회에서 높게 나타나는 특징, <2 모둠>이 발표한 특징은 모두 산업 사회에서 높게 나타나는 특징, <3 모둠>이 발표한 특징은 모두 산업 사회에서 높게 나타나는 특징, <4 모둠>이 발표한 특징은 한 개는 산업 사회에서, 한 개는 정보 사회에서 높게 나타나는 특징, <5 모둠>이 발표한 특징은 모두 산업 사회에서 높게 나타나는 특징에 해당한다.

이에 따라 정보 사회를 배경받은 모둠이 옳지 않게 발표한 특

정의 개수 또는 산업 사회를 배정받은 모둠이 옳지 않게 발표한 특징의 개수 중 출수가 있어야 하고, 이에 따라 경우를

1. 정보 사회를 배정받은 모둠이 옳지 않게 발표한 특징이 2개, 산업 사회를 배정받은 모둠이 옳지 않게 발표한 특징이 1개
2. 정보 사회를 배정받은 모둠이 옳지 않게 발표한 특징이 6개, 산업 사회를 배정받은 모둠이 옳지 않게 발표한 특징이 3개

로 나눌 수 있다. 그리고 이때 1번 경우에서 <4 모둠>은 산업 사회, <1 모둠>은 정보 사회를 배정받은 것이 되는데, 이때 <2 모둠>, <3 모둠>, <5 모둠>이 어떤 것을 배정받느냐에 상관없이 정보 사회를 배정받은 모둠이 옳지 않게 발표한 특징의 개수는 4개가 되어 모순이다. 따라서 옳은 것은 2번 경우이다.

이에 따라 <1 모둠>이 배정받은 것은 산업 사회, <2 모둠>과 <3 모둠>, <5 모둠>이 배정받은 것은 정보 사회, <4 모둠>이 배정받은 것은 산업 사회임을 알 수 있다.

③ <3 모둠>이 배정받은 것은 정보 사회이다.

오답 풀이

- ① <1 모둠>이 배정받은 것은 산업 사회이다.
- ② <2 모둠>이 배정받은 것은 정보 사회이다.
- ④ <4 모둠>이 배정받은 것은 산업 사회이다.
- ⑤ <5 모둠>이 배정받은 것은 정보 사회이다.

141 정답: ④

t+10년의 노령화 지수는 t년의 3배인 것을 만족시키는 경우는 B가 노년 인구, C가 유소년 인구인 경우가 유일하다. 따라서 A는 부양 인구이다.

t년 전체 인구를 100으로 둔다면 t년 대비 전체 인구 상승률은 t+10년이 50%, t+20년이 100%이므로 t+10년 전체 인구는 150, t+20년 전체 인구는 200인 것을 알 수 있다. 이를 바탕으로 각 연도에 따른 연령별 인구를 표에 정리하면 다음과 같다.

구분	t년	t+10년	t+20년
노년 인구	10	30	50
부양 인구	60	90	110
유소년 인구	30	30	40

④ 노령화 지수는 t년이 100/3, t+10년이 100, t+20년이 125로 t년과 t+10년의 합이 t+20년보다 크다.

오답 풀이

- ① A는 부양 인구이나, B는 노년 인구이다.
- ② t+20년 유소년 인구는 40, t년 노년 인구는 10으로 전자는 후자의 2배가 아니다.
- ③ 노년 부양비는 t+20년이 500/11, t년이 50/3으로 전자는 후자의 3배보다 크지 않다.
- ⑤ 유소년 부양비는 t년이 50, t+10년이 100/3, t+20년이 400/11으로 t+10년 대비 t+20년에 증가하였다. 따라서 제시된 기간 동안 유소년 부양비는 지속적으로 감소하지 않았다.

142 정답: ②

t년, t+10년, t+20년의 15~64세 인구를 각각 100a, 100b, 100c로 둘 수 있으며, 주어진 기간 동안 15~64세 인구는 지속적으로 증가하였으므로 $a < b < c$ 로 둘 수 있다.

t년에 노년 부양비는 15이므로 65세 이상 인구는 15a인 것을 알 수 있으며, 노령화 지수는 30이므로 0~14세 인구는 50a인 것을 알 수 있다. 또한 t+10년에 노년 부양비는 27이므로 65세 이상 인구는 27b인 것을 알 수 있으며, 노령화 지수는 45이므로 0~14세 인구는 60b인 것을 알 수 있다. 그리고 t+20년에 노년 부양비는 36이므로 65세 이상 인구는 36c인 것을 알 수 있으며, 노령화 지수는 75이므로 0~14세 인구는 48c인 것을 알 수 있다.

위에서 구한 내용을 바탕으로 각 연도에 따른 연령별 인구를 표에 정리하면 다음과 같다.

구분	t년	t+10년	t+20년
65세 이상 인구	15a	27b	36c
15~64세 인구	100a	100b	100c
0~14세 인구	50a	60b	48c
전체 인구	165a	187b	184c

ㄴ. 전체 인구에서 65세 이상 인구가 차지하는 비율은 t년에 약 9%, t+10년에 약 14%, t+20년에 약 19%이다. 따라서 t년은 고령화 사회, t+10년과 t+20년은 고령 사회에 해당한다.

ㄷ. 전체 인구에서 0~14세 인구가 차지하는 비율은 t년이 약 30%, t+20년이 약 26%로 전자는 후자보다 높다.

오답 풀이

ㄱ. 전체 인구는 t+10년이 187b, t+20년이 184c이다. 그러나 $b < c$ 이므로 전체 인구는 t+10년이 t+20년보다 많은지 여부는 알 수 없다.

ㄹ. t년 대비 t+10년에 65세 이상 인구의 증가율은 $\{(27b-15a)/15a\} \times 100\%$ 이고, 0~14세 인구의 증가율은 $\{(60b-50a)/50a\} \sim 100\%$ 이다. 그리고 $a=b$ 일 경우에 전자는 후자의 4배인데, 실제로는 $a < b$ 이므로 전자는 후자의 4배를 초과하지 않는다.

143 정답: ①

갑국에서 t년 대비 t+10년에 부양 인구는 50% 증가했으므로 t년의 부양 인구를 100, t+10년의 부양 인구를 150으로 둘 수 있다. t년 총부양비는 유소년 부양비의 125%이므로 t년 유소년 인구는 노년 인구의 4배인 것을 알 수 있으며, 전자를 40a, 후자를 10a로 둘 수 있다. 따라서 t년 총부양비는 50a가 되고, 이는 t+10년 총부양비의 75%이므로 t+10년 총부양비는 200a/3인 것을 알 수 있다.

이때 갑국의 t년 유소년 부양비는 40a인데, 이는 t+10년의 노년 부양비와 같으므로 t+10년의 노년 인구는 60a인 것을 알 수 있고, 이에 따라 t+10년의 유소년 인구는 40a인 것을 알 수 있다. 그리고 t+10년 전체 인구는 t년 유소년 인구의 500%인데, 전자는 150+100a, 후자는 40a이므로 150+100a=200a인 것을 알 수 있다. 따라서 $a=1.5$ 이고, t년 유소년 인구는 60, 노년 인구는 15, t+10년 유소년 인구는 60, 노

년 인구는 90인 것을 알 수 있다. 이를 바탕으로 각 연도에 따른 연령별 인구를 표에 정리하면 다음과 같다.

구분	t년	t+10년
노년 인구	15	90
부양 인구	100	150
유소년 인구	60	60
전체 인구	175	300

- ① t년의 유소년 인구는 60, t+10년의 유소년 인구는 60으로 전자와 후자는 동일하다.

오답 풀이

- ② t년 대비 t+10년에 부양 인구는 증가하였으므로 노년 인구 증가율은 노년 부양비 증가율보다 크다.
 ③ 전체 인구에서 노년 인구가 차지하는 비율은 t+10년이 30%, t년이 약 9%로 전자는 후자의 3배 이상이다.
 ④ t년 대비 t+10년에 피부양 인구 증가율은 100%, 부양 인구 증가율은 50%로 전자는 후자보다 크다.
 ⑤ 전체 인구 대비 노년 인구의 비율은 t+10년이 t년보다 높으므로 인구 고령화 현상 심화의 문제는 t년보다 t+10년에 더 부각된다.

144 정답: ①

t년에 갑국과 을국의 전체 인구는 동일하므로 해당 인구를 100으로 둘 수 있으며, t년 대비 t+10년에 갑국의 전체 인구는 20% 증가했으므로 t+10년 갑국 전체 인구는 120인 것을 알 수 있다. 또한 t년 대비 t+10년에 을국의 전체 인구는 50% 증가하였으므로 t+10년 을국 전체 인구는 150인 것을 알 수 있다.

t년 갑국에서 전체 인구 대비 65세 이상 인구 비율은 20%이므로 노년 인구는 20인 것을 알 수 있으며, 유소년 부양비는 60이므로 부양 인구는 50, 유소년 인구는 30인 것을 알 수 있다. 또한 t년 을국에서 전체 인구 대비 65세 이상 인구 비율은 15%이므로 노년 인구는 15인 것을 알 수 있으며, 유소년 부양비는 70이므로 부양 인구는 50, 유소년 인구는 35인 것을 알 수 있다.

t+10년 갑국에서 전체 인구 대비 65세 이상 인구 비율은 25%이므로 노년 인구는 30인 것을 알 수 있으며, 유소년 부양비는 50이므로 부양 인구는 60, 유소년 인구는 30인 것을 알 수 있다. 또한 t+10년 을국에서 전체 인구 대비 65세 이상 인구 비율은 20%이므로 노년 인구는 30인 것을 알 수 있으며, 유소년 부양비는 20이므로 부양 인구는 100, 유소년 인구는 20인 것을 알 수 있다. 이를 바탕으로 국가별 각 연도에 따른 연령별 인구를 표에 정리하면 다음과 같다.

구분	t년		t+10년	
	갑국	을국	갑국	을국
노년 인구	20	15	30	30
부양 인구	50	50	60	100
유소년 인구	30	35	30	20
전체 인구	100	100	120	150

- ① 갑국의 t년 유소년 인구는 30, t+10년 노년 인구는 30으로 전자와 후자는 같다.

오답 풀이

- ② 노년 부양비는 t년 갑국이 40, t+10년 을국이 30으로 전자는 후자보다 크다.
 ③ 노령화 지수는 t+10년 을국이 150, t년 갑국이 200/3으로 전자는 후자의 2배 이상이다.
 ④ 을국의 부양 인구는 t+10년이 100, t년이 50으로 전자는 후자의 3배가 아니다.
 ⑤ 갑국의 t+10년 노년 부양비는 50, 을국의 t년 노령화 지수는 약 43으로 전자는 후자보다 작지 않다.

145 정답: ②

갑국의 t년 부양 인구는 t+10년 부양 인구의 80%이므로 전자를 80, 후자를 100으로 둘 수 있으며, 갑국의 t년 총부양비는 100이므로 전체 인구는 160, 유소년 인구와 노인 인구의 합은 80임을 알 수 있고, t+10년 총부양비는 140이므로 전체 인구는 240, 유소년 인구와 노인 인구의 합은 140인 것을 알 수 있다.

t년에 전체 인구 중 부양 인구가 차지하는 비율은 50%인데, t년에 전체 인구 중 노인 인구가 차지하는 비율은 해당 비율의 25%이므로 12.5%이다. 따라서 t년 노인 인구는 10, 유소년 인구는 70인 것을 알 수 있다. 그리고 해당 비율은 t+10년에 전체 인구 중 노인 인구가 차지하는 비율의 37.5%이므로 t+10년에 전체 인구 중 노인 인구가 차지하는 비율은 (100/3)%임을 알 수 있다. 따라서 t+10년 노인 인구는 80, 유소년 인구는 60임을 알 수 있다. 이를 바탕으로 각 연도에 따른 연령별 인구를 표에 정리하면 다음과 같다.

구분	t년	t+10년
노년 인구	10	80
부양 인구	80	100
유소년 인구	70	60
전체 인구	160	240

- ② t년 부양 인구는 80, t+10년 노인 인구는 80으로 전자와 후자는 동일하다.

오답 풀이

- ① t년 대비 t+10년 전체 인구 증가율은 $\{(240-160)/160\} \times 100\% = 50\%$ 이다.
 ③ 노령화 지수는 t+10년이 400/3, t년이 100/7으로 전자는 후자의 3배가 아니다.
 ④ t년 유소년 인구는 70, t+10년 유소년 인구는 60으로 전자는 후자보다 적지 않다.
 ⑤ t년 노인 인구와 유소년 인구의 합은 80, t+10년 부양 인구는 100으로 전자는 후자와 동일하지 않다.

146 정답: ⑤

갑국의 t년, t+50년, t+100년 유소년 인구는 모두 같으므로 해당 인구를 100으로 둘 수 있으며, t년 노년 부양비는 유소년 부양비의 50%이므로 노년 인구는 유소년 인구의 50%인 것을 알 수 있다. 따라서 해당 인구는 50인 것을, 그리고 t년 노령화 지수는 50인 것을 알 수 있다.

이때 50년 전 대비 노령화 지수 증가율은 t+50년, t+100년

모두 100%이므로 t+50년의 노령화 지수는 100, t+100년의 노령화 지수는 200임을 알 수 있다. 이에 따라 t+50년의 노년 인구는 100, t+100년의 노년 인구는 200인 것을 알 수 있다.

그리고 t+50년과 t+100년 총부양비는 50으로 같으므로 t+50년 부양 인구는 400, t+100년 부양 인구는 600인 것을 알 수 있으며, t+50년과 t+100년 전체 인구의 합은 t년 전체 인구의 3배이므로 t년 전체 인구를 100a로 둔다면 $1,500=300a$, $a=5$ 인 것을 알 수 있다. 따라서 t년 전체 인구는 500인 것을, 부양 인구는 350인 것을 알 수 있다.

위에서 구한 내용을 바탕으로 각 연도에 따른 연령별 인구를 표에 정리하면 다음과 같다.

구분	t년	t+50년	t+100년
노년 인구	50	100	200
부양 인구	350	400	600
유소년 인구	100	100	100
전체 인구	500	600	900

⑤ t+50년 대비 t+100년 전체 인구의 증가율은 $\{(900-600)/600\} \times 100\% = 50\%$, 부양 인구의 증가율은 $\{(600-400)/400\} \times 100\% = 50\%$ 로 전자와 후자는 같다.

오답 풀이

- ① t+100년 부양 인구는 600, t년 전체 인구는 500으로 전자는 후자보다 많다.
- ② t년 노년 인구는 50, t+50년 유소년 인구는 100으로 전자와 후자는 같지 않다.
- ③ t+100년 노년 부양비는 100/3, t년 총부양비는 300/7으로 전자는 후자보다 크지 않다.
- ④ t년과 t+50년 부양 인구의 합은 750, t+100년 전체 인구는 900으로 전자는 후자보다 많지 않다.

147 정답: ③

갑국 부양 인구는 t+20년과 t+40년이 t년의 1.5배이므로 t년의 부양 인구를 100, t+20년과 t+40년의 부양 인구를 150으로 둘 수 있다. 이때 t년 전체 인구 중 부양 인구의 비율은 50%이므로 해당 연도 전체 인구는 200인 것을, t+40년 전체 인구 중 부양 인구의 비율은 50%이므로 해당 연도 전체 인구는 300인 것을 알 수 있다.

t+20년 총부양비 대비 노년 부양비의 비는 1/2이므로 유소년 부양비는 노년 부양비와 같은 것을, 다시 말해 유소년 인구는 노년 인구와 같은 것을 알 수 있다. 이때 t+20년 전체 인구 중 노년 인구의 비율은 20%이므로 전체 인구 중 유소년 인구의 비율도 20%인 것을 알 수 있으며, 이에 따라 전체 인구 중 부양 인구의 비율은 60%인 것을 알 수 있다. 따라서 t+20년 전체 인구는 250, 유소년 인구와 노년 인구는 50인 것을 알 수 있다.

t년 총부양비 대비 노년 부양비의 비는 3/10이므로 유소년 부양비는 노년 부양비의 7/3배인 것을, 다시 말해 유소년 인구는 노년 인구의 7/3배인 것을 알 수 있다. 그리고 t년 유소년 인구와 노년 인구의 합은 100이므로 유소년 인구는 70, 노년 인구는 30인 것을 알 수 있다.

t+40년 총부양비 대비 노년 부양비의 비는 3/5이므로 유소년 부양비는 노년 부양비의 2/3배인 것을, 다시 말해 유소년 인구는 노년 인구의 2/3배인 것을 알 수 있다. 그리고 t+40년 유소년 인구와 노년 인구의 합은 150이므로 유소년 인구는 60, 노년 인구는 90인 것을 알 수 있다. 이를 바탕으로 각 연도에 따른 연령별 인구를 표에 정리하면 다음과 같다.

구분	t년	t+20년	t+40년
노년 인구	30	50	90
부양 인구	100	150	150
유소년 인구	70	50	60
전체 인구	200	250	300

t년 전체 인구 중 노년 인구의 비율은 15%이므로 ㉠은 15, t+20년 전체 인구 중 부양 인구의 비율은 60%이므로 ㉡은 60, t+40년 전체 인구 중 노년 인구의 비율은 30%이므로 ㉢은 30인 것을 알 수 있다.

③ 노년 부양비는 t년이 30, t+20년이 100/3이고 t+40년이 60이므로 t년과 t+20년의 합은 t+40년보다 크다.

오답 풀이

- ① ㉠과 ㉡의 합은 45, ㉢은 60으로 전자는 후자보다 크지 않다.
- ② t년 전체 인구는 200, t+20년 전체 인구는 250으로 전자와 후자는 같지 않다.
- ④ t+40년의 노년 인구는 90, t년의 부양 인구는 100으로 전자는 후자보다 많지 않다.
- ⑤ t+20년의 유소년 부양비는 100/3, t+40년의 유소년 부양비는 40이고 t년의 유소년 부양비는 70이다. 따라서 t+20년과 t+40년의 유소년 부양비의 합은 t년의 유소년 부양비보다 크다.

148 정답: ⑤

부양 인구의 비는 갑국 : 을국 : 병국 = 1 : 2 : 2이므로 갑국의 부양 인구를 100, 을국과 병국의 부양 인구를 200으로 둘 수 있다. 그리고 노년 부양비 / 유소년 부양비 = 노령화 지수임을 감안했을 때,

- 1. A가 유소년 부양비, B가 노년 부양비, C가 노령화 지수
- 2. A가 노령화 지수, B가 노년 부양비, C가 유소년 부양비인 것으로 경우를 나누어 볼 수 있다.

1번 경우에서 갑국의 유소년 인구와 노년 인구는 50인 것을, 을국의 유소년 인구는 80, 노년 인구는 120인 것을, 병국의 유소년 인구는 80, 노년 인구는 20인 것을 알 수 있다. 이를 바탕으로 각 국가의 연령별 인구를 표에 정리하면 다음과 같다.

구분	갑국	을국	병국
노년 인구	50	120	20
부양 인구	100	200	200
유소년 인구	50	80	80
전체 인구	200	400	300

이때 을국의 유소년 인구는 갑국의 부양 인구보다 적으므로 모순이 발생하지 않는다.

2번 경우에서 갑국의 유소년 인구는 100, 노년 인구는 50인 것을, 을국의 유소년 인구는 300, 노년 인구는 120인 것을, 병국의 유소년 인구는 50, 노년 인구는 20인 것을 알 수 있다. 이를 바탕으로 각 국가의 연령별 인구를 표에 정리하면 다음과 같다.

구분	갑국	을국	병국
노년 인구	50	120	20
부양 인구	100	200	200
유소년 인구	100	300	50
전체 인구	250	620	270

그러나 이 경우 을국의 유소년 인구는 갑국의 부양 인구보다 많으므로 모순이다. 따라서 옳은 것은 1번 경우이고, 각 국가의 연령별 인구는 아래와 같다.

구분	갑국	을국	병국
노년 인구	50	120	20
부양 인구	100	200	200
유소년 인구	50	80	80
전체 인구	200	400	300

⑤ 유소년 인구와 노년 인구의 합은 갑국이 100, 병국이 100으로 전자와 후자는 같다.

오답 풀이

- ① A는 유소년 부양비, B는 노년 부양비, C는 노령화 지수이다.
- ② 갑국의 유소년 인구는 50, 병국의 노년 인구는 20으로 전자는 후자의 2배가 아니다.
- ③ 을국의 노년 인구는 120, 갑국의 부양 인구는 100으로 전자는 후자보다 많다.
- ④ 노년 인구는 갑국이 50, 을국이 120, 병국이 20으로 갑~병국 중 병국에서 가장 적다.

149 정답: ①

t년 갑국과 을국 전체 인구는 같으므로 해당 인구를 100으로 둘 수 있으며, t년 대비 t+20년 전체 인구의 증가율은 갑국이 50%이므로 t+20년 갑국의 전체 인구는 150인 것을 알 수 있다. 또한 t년 대비 t+20년 전체 인구의 증가율은 을국이 20%이므로 t+20년 을국의 전체 인구는 120인 것을 알 수 있다.

갑국의 t년 부양 인구는 전체 인구의 70%이므로 해당 인구는 70인 것을 알 수 있으며, 갑국과 을국은 모두 t년의 노년 인구와 유소년 인구가 같으므로 갑국의 t년 노년 인구는 15, 유소년 인구는 15인 것을 알 수 있다. 따라서 갑국의 t년 전체 인구 대비 피부양 인구 비율은 30%인 것을 알 수 있으며, 한 칸의 비율은 10%인 것을 알 수 있다. 따라서 을국의 t년 전체 인구 대비 피부양 인구 비율은 40%인 것을 알 수 있으며, 이에 따라 을국의 t년 부양 인구 비율은 60%인 것을, t년 부양 인구는 60인 것을 알 수 있다. 또한 을국의 t년 노년 인구와 유소년 인구는 같으므로 해당 인구는 20인 것을 알 수 있다.

갑국의 t년 전체 인구 대비 노년 인구의 비율은 15%, 을국의

t년 전체 인구 대비 노년 인구의 비율은 20%이다. 그리고 갑국과 을국 모두 전체 인구 대비 노년 인구의 비율은 t년 대비 t+20년에 2배로 상승하였으므로 t+20년의 해당 비율은 갑국이 30%, 을국이 40%이다. 그리고 전체 인구 대비 피부양 인구 비율은 t+20년 갑국이 60%, 을국이 50%이므로 전체 인구 대비 유소년 인구의 비율은 t+20년 갑국이 30%, 을국이 10%이다. 따라서 t+20년 갑국의 유소년 인구는 45, 부양 인구는 60, 노년 인구는 45인 것을 알 수 있으며, 을국의 유소년 인구는 12, 부양 인구는 60, 노년 인구는 48인 것을 알 수 있다. 이를 바탕으로 국가별 연도에 따른 연령별 인구를 표에 정리하면 다음과 같다.

구분	t년		t+20년	
	갑국	을국	갑국	을국
노년 인구	15	20	45	48
부양 인구	70	60	60	60
유소년 인구	15	20	45	12
전체 인구	100	100	150	120

① t+20년 갑국의 피부양 인구는 90, t년 을국의 부양 인구는 60으로 전자는 후자의 1.5배이다.

오답 풀이

- ② 갑국과 을국의 t년 노령화 지수는 모두 100이며, 갑국의 t+20년 노령화 지수는 100, 을국의 t+20년 노령화 지수는 400이다. 따라서 을국은 t년보다 t+20년 노령화 지수가 크나, 갑국은 t년보다 t+20년 노령화 지수가 크지 않다.
- ③ 갑국은 t년 대비 t+20년 부양 인구가 줄어들었으므로 t년 대비 t+20년 노년 인구 증가율보다 노년 부양비 증가율이 크다. 그러나 을국은 t년 대비 t+20년 부양 인구가 변하지 않았으므로 t년 대비 t+20년 노년 인구 증가율과 노년 부양비 증가율이 같다.
- ④ t년 갑국의 유소년 부양비는 150/7, 을국의 유소년 부양비는 100/3으로 전자는 후자보다 작다. 그리고 t+20년 갑국의 유소년 부양비는 75, 을국의 유소년 부양비는 20으로 전자는 후자보다 크다.
- ⑤ t년 대비 t+20년 감소한 갑국 부양 인구는 10, t년 대비 t+20년 증가한 을국 피부양 인구는 20으로 전자와 후자는 같지 않다.

150 정답: ④

65세 이상 인구 비율은 A 지역과 갑국 전체가 15%로 같고, B 지역은 25%, C 지역은 10%이다. 따라서 가중평균의 원리에 의해 전체 인구는 C 지역이 B 지역의 2배인 것을 알 수 있고, 전자를 200, 후자를 100으로 둘 수 있다. 또한 A 지역의 전체 인구를 100a로 둘 수 있다.

65세 이상 인구 비율은 A 지역이 15%이므로 A 지역의 노년 인구는 15a인 것을 알 수 있으며, B 지역이 25%이므로 B 지역의 노년 인구는 25인 것을 알 수 있고, C 지역이 10%이므로 C 지역의 노년 인구는 20인 것을 알 수 있다.

이때 노년 부양비는 A 지역이 24이므로 A 지역의 부양 인구는 (125/2)a임을 알 수 있으며, B 지역이 50이므로 B 지역

의 부양 인구는 50인 것을 알 수 있고, C 지역이 16이므로 C 지역의 부양 인구는 125인 것을 알 수 있다. 이때 갑국 전체 노년 인구는 $15a+45$, 부양 인구는 $(125/2)a+175$ 인 것을 알 수 있는데, 갑국 전체 노년 부양비는 25이므로 $4(15a+45)=(125/2)a+175$ 인 것을 알 수 있다. 따라서 $a=2$ 인 것을 알 수 있으며, A 지역의 전체 인구는 200, 노년 인구는 30, 부양 인구는 125인 것을 알 수 있다.

또한 A 지역의 유소년 인구는 45, B 지역의 유소년 인구는 25, C 지역의 유소년 인구는 55인 것을 알 수 있다. 이를 바탕으로 지역에 따른 연령별 인구를 표에 정리하면 다음과 같다.

구분	A 지역	B 지역	C 지역	전체
노년 인구	30	25	20	75
부양 인구	125	50	125	300
유소년 인구	45	25	55	125
전체 인구	200	100	200	500

④ 유소년 인구와 노년 인구의 합은 A 지역이 75, C 지역이 75로 전자와 후자는 같다.

오답 풀이

- ① 전체 인구는 C 지역이 200, B 지역이 100으로 전자는 후자와 같지 않다.
- ② A 지역 유소년 인구는 45, 갑국 전체 부양 인구는 300으로 전자는 후자의 10%가 아니다.
- ③ 갑국 전체 노년 인구는 75, A 지역 유소년 인구는 45로 전자는 후자의 3배가 아니다.
- ⑤ 노령화 지수는 A 지역이 $200/3$, B 지역이 100, C 지역이 $400/11$ 으로 B 지역은 노령화 지수가 100 이상이다.

