

mus림 쉬움 모의고사 해설지

제 4 교시

한국사 영역

성명 수험번호

1. (가) 시대의 생활 모습으로 옳은 것은?

이것은 1978년 주한미군이던 그렉 보웬이 한탄강변에서 발견한 주먹도끼입니다. 이 유물은 (가) 시기에 사용된 것으로 당시의 확설을 뒤집었습니다. **→ 구석기**



- ① 비파형 동검을 만들었다. **X** 청동기
- ② 농경과 목축을 시작하였다. **X** 신석기
- ③ 철제 농기구로 농사를 지었다. **X** 철기
- ④ 덩이쇠를 화폐처럼 사용하였다. **X** 철기
- ⑤ 채집과 사냥을 하며 이동 생활을 하였다. **O** 구석기

2. (가) 국가에 대한 설명으로 옳은 것은?

이 탑은 (가)의 경덕왕 때 김대성에 의해 751년 발원한 절에 있는 석탑이다. 일연이 쓴 『삼국유사』에는 김대성이 전생의 부모를 위해서는 토함산에 석불사를 현생의 부모를 위해서 이 탑이 있는 불국사를 창건했다. 석불사는 그 당시에 불리던 이름이고 현재는 석굴암이라는 이름으로 불리고 있다.

석굴암 ←

- ① 골품제가 존재했다. **O** 신라 (가): 신라
- ② 노비안검법이 시행되었다. **X** 고려
- ③ 응진에서 사비로 천도하였다. **X** 백제
- ④ 제가들이 사출도를 다스렸다. **X** 부여
- ⑤ 22담로를 설치하여 왕족을 파견하였다. **X** 백제

3. (가)에 들어갈 말로 옳은 것은? [3점]

오늘 역사통아리 주제는 고려의 31대 왕입니다. 조사해 온 것을 말해주세요.

원 간섭기에 왕호 앞에 충(忠)을 붙이지 않았습니.

기철 등의 친원파 권문세족을 숙청하고, 변발을 금지했습니다. **→ 공민왕**

(가)

- ① 평양으로 천도했습니다. **X** 장수왕
- ② 후삼국을 통일하였습니다. **X** 태조대왕
- ③ 과거제를 시행하였습니다. **X** 광종
- ④ 신돈을 등용하여 진민변정도감을 설치하였습니다. **O** 공민왕
- ⑤ 호폐법을 제정하고 6조 직계제를 실시하였습니다. **X** 태종

4. 다음 글이 설명하는 사건의 결과로 옳은 것은? [3점]

고려는 문치주의를 내치의 안정이라 여겼고, 이는 국가의 중심이념으로 자리잡게 된다. 그러나 문치주의는 무신들이 '무식하지 만 힘으로 중앙에 진출한 사람들'이라는 의식을 가지게 한다. 이러한 생각을 바탕으로 문신 한뢰가 대장군 이소응의 뺨을 때린 일, 김돈중이 정중부의 수염을 태워서 화가 난 정중부가 김돈중을 때렸을 때, 김돈중의 아버지인 김부식이 정중부를 매질하려고 했던 사건들이 일어나게 된다. 이로 인해 1170년, 고려 의종 24년에 황해북도 장풍군에 위치한 사찰인 보현원에서 무신들이 난을 일으켰다. **→ 구부신정변**

- ① 별무반이 편성되었다. **X** 여진정벌
- ② 최충헌이 권력을 장악했다. **O** 무신정변
- ③ 경원 이씨가 문벌귀족을 형성하였다. **X** 이자겸의 난 원인
- ④ 김원봉이 만주에서 의열단을 조직하였다. **X** 일제강점기
- ⑤ 삼별초가 근거지를 옮겨가며 항쟁을 전개하였다. **X** 몽골(원) 침입


5. 다음 글과 관련 있는 전쟁에 대한 설명으로 옳은 것은?

이때 동래(東萊)가 이미 함락되어 왜적들이 계속 물러와 곧장 진격하니 가는 곳마다 대적할 사람이 없었다. 대가(大駕)가 이미 평안도로 들어가자 황해도 이남에서 동래까지 오직 폐전 소식만 들려오고 전혀 다른 소식은 없었다. 그런데 경상 우수사 원균(元均)은 전라 좌수사와 약속하여 한산도(閑山島)에서 회합하였다. 이때에 전라 좌수사가 전선(戰船) 80척을 거느리고서 마침내 이 해 5월 6일에 옥포(玉浦) 앞바다로 나아가니, 적선(賊船) 30여 척이 사면에 휘장을 두르고 기다란 장대를 세워 홍기(紅旗)·백기(白旗)들을 현란하게 달았으며, 나머지 왜적들은 육지로 올라가 마을 집들을 불사르고 겁탈하였다. **임진왜란**

- ① 어재연이 광성보에서 항전하였다. **X** 신미양요
- ② 이순신이 명량 대첩에서 승리하였다. **O** 임진왜란
- ③ 을지문덕이 살수에서 적군을 격파하였다. **X** 살수대첩
- ④ 김좌진이 청산리 전투를 승리로 이끌었다. **X** 청산리대첩
- ⑤ 서희가 외교 담판으로 강동 6주 지역을 확보하였다. **X** 거란(차림)

6. 밑줄 친 '시기'에 볼 수 있는 모습으로 적절하지 않은 것은?

OO 박물관 특별 전시에 당신을 초대합니다!
우리 박물관에서 이 시기를 주제로 하는 전시를 주최합니다.
이 시기에 볼 수 있는 서민문화인 민화를 중심으로 전시합니다.
많은 관심 부탁드립니다.




시기: 조선 후기 일시: 2022년 △△월 △△일
장소: OO 박물관 특별전시실

- ① 담배 및 상품작물을 재배하는 농민 ○
- ② 감자 등의 구황작물을 먹는 농민 ○
- ③ 경국대전을 반포하고 있는 국왕 X 조선전기 (성종)
- ④ 홍길동전을 읽어주는 전기수 ○
- ⑤ 탈춤을 관람하는 양반 ○

7. (가) 사건에 대한 설명으로 옳은 것은?

이 사진은 삼일천하로 유명한 김옥균의 사진입니다. 김옥균은 우정충국 개국 축하연에서 서광범, 박영효 등과 (가)를 일으켰습니다.



(가): 갑신정변

- ① 급진 개화파가 주도하였다. ○ 갑신정변
- ② 민립 대학의 설립을 주장했다. X 민립대학설립운동
- ③ 성리학적 질서를 수호하고자 하였다. X
- ④ 삼정이정청이 설치되는 계기가 되었다. X 민선농민봉기
- ⑤ 구식 군인에 대한 차별 대우가 원인이었다. X 일오군란

8. (가)에 들어갈 말로 가장 옳은 것은? [3점]

청일전쟁을 전후로 하여 일어난 이 운동에 대하여 말해주세요.

전주성을 점령하기도 하였습니다. → 동학농민운동

녹두장군이라고 불린 전봉준이 주도하였습니다.

(가)

- ① 치안 유지법에 의해 탄압받았습니다. X 1920년대
- ② 조선 형평사를 중심으로 전개되었다. X 형평운동
- ③ 집값소를 통해 폐정 개혁을 추진하였다. ○ 동학농민운동
- ④ 제너럴 셔먼호 사건을 계기로 일어났다. X
- ⑤ 평안도 지방에 대한 차별이 주요 원인이었다. X 흥경대역난

9. (가) 사건의 결과에 대한 설명으로 가장 옳은 것은? [3점]




사진 속 인물 명성황후에 대하여 말해주세요.


고종의 황후입니다.

민비로 불리기도 했습니다.

(가) 때문에 사망하였습니다.

- ① 임오군란이 일어났다. X 구식군인내변 (가): 을미사변
- ② 삼정이정청이 설치되었다. X 민선농민봉기
- ③ 조·일 수호 조규가 체결되었다. X 을묘조약
- ④ 조·청 상민 수륙 무역 장정이 체결되었다. X 일오군란
- ⑤ 고종이 거처를 러시아 공사관으로 옮겼다. ○
→ 아관파천
을미사변 → 아관파천

10. 밑줄 친 '조약'에 대한 설명으로 옳은 것은? [3점]



이 사진은 1907년 고종이 네덜란드 헤이그에서 열린 한국평화회의에 파견한 특사이다. 사진의 좌측부터 이준, 이상설, 이위종이다. 이들은 외교권을 박탈한 조약의 불법성을 알리고자 하였지만, 회의 참석이 거부되고, 이준이 순국하게 된다. 을사늑약

- ① 삼국 간섭의 계기가 되었다. X
- ② 거중 조정 조항이 포함되었다. X 조미수호통상조약 등
- ③ 최혜국 대우를 최초로 규정하였다. X 조미수호통상조약
- ④ 통감부가 설치되는 결과를 가져왔다. ○ 을사늑약
- ⑤ 부산 외 2개 항구의 개항을 가져왔다. X 강화도조약

11. 다음 자료와 관련 있는 운동에 대한 설명으로 옳은 것은?

°지금 우리들은 정신을 가다듬고 충성과 의로움을 떨칠 때이니, 국채 1,300만 엔은 우리나라가 망하느냐 마느냐와 직결된 것입니다. 이것을 갚으면 나라가 유지되고 갚지 못하면 나라가 망함은 필연적인 사실이나 지금 국고에는 도저히 갚을 능력이 없으며, 만일 나라가 못 갚는다면 그 때는 이미 3천리 강토는 내 나라와 내 민족의 소유가 못 될 것입니다.

°남자는 담배를 끊고 여자는 비녀와 가락지를 내어 국채를 갚자! **국채보상운동**

- ① 보안회의의 주도로 시작되었다. **X 광무지개만청요구 반대운동**
- ② 대한매일신보의 지원을 받았다. **○ 국채보상운동**
- ③ 순종의 서거를 계기로 일어났다. **X 6.10 만세운동**
- ④ 구본신참을 기본방향으로 삼았다. **X 광무개혁**
- ⑤ 새마을 운동 추진에 영향을 주었다. **X 박정희정부시**

12. (가)에 들어갈 말로 가장 옳은 것은? [3점]

이 운동에 대하여 말해주세요. **○ 3.1 운동**

민족자결주의가 배경이 되었습니다.

탈골공원에서 독립선언서가 낭독되어 만세 시위가 전국으로 확산되었습니다.

결과로 (가)

- ① 회사령이 제정되었습니다. **X 무단통치**
- ② 광무개혁이 추진되었습니다. **X 대한제국**
- ③ 강화도 조약이 체결되었습니다. **X 을묘사건**
- ④ 이른바 **환관** 통치가 실시되었습니다. **X**
- ⑤ 대한민국 임시 정부가 수립되었습니다. **○ 3.1 운동**

13. (가) 인물에 대한 설명으로 옳은 것은? [3점]


○○일보 2021년 ○월 ○일

고국으로 돌아온 독립운동가

이번 광복절에 카자흐스탄으로부터 (가)의 유해가 고국으로 돌아왔다. 그의 유해는 추모 기간을 거친 후 국립대전 현충원 독립 유공자 묘역에 안장될 예정이다. 한말 의병장으로 활약했던 그는 봉오동 전투와 청산리 전투를 승리로 이끄는 등 오랜 기간 항일 무장 투쟁을 전개하였다. 이후 연해주로 건너가 활동하던 중 소련의 강제 이주 정책에 의해 중앙아시아로 이주하게 되었고, 그곳에서 생을 마감하였다. **홍범도 장군**


- ① 대한 독립군을 이끌었다. **○ 홍범도**
- ② 시무 28조를 건의하였다. **X 최승로**
- ③ 강동 6주 지역을 확보하였다. **X 서희**
- ④ 인천 상륙 작전에 참여하였다. **X**
- ⑤ 교육 입국 조서를 반포하였다. **X 고종**

14. 밑줄 친 '의거'에 대한 탐구 주제로 가장 적절한 것은?

 이 사진은 중국 근현대 중문학의 아버지라 불리는 루쉰의 동상이다. 루쉰의 동상은 상하이의 루쉰 공원에 있다. 루쉰 공원의 옛 이름은 홍커우 공원이었는데, 이 공원에는 1932년 윤봉길 의사가 일으킨 의거를 기념하는 기념관이 있다. 이 의거는 장제스가 한국 독립을 지원하는 계기가 되었다. **→ 윤봉길 의거 기념관인 애국단**

- ① 의열단의 활동에 대하여 조사한다. **X**
- ② 서울 진공 작전에 대하여 조사한다. **X**
- ③ **○** 한인 애국단의 활동에 대하여 조사한다. **○**
- ④ 모스크바 3국 외상회의의 영향을 조사한다. **X**
- ⑤ 함경도에 방곡령이 선포된 이유를 조사한다. **X**

15. 밑줄 친 '시기'에 볼 수 있는 모습으로 적절하지 **않은** 것은? [3점]

 이 사진은 만담가인 신불출의 사진이다. 그는 일제가 창씨개명을 강요하는 시기에 자신의 이름을 '구로다 규이치(玄田牛一)' 즉 일본 욕인 '척소(畜生)'를 파자한 것으로 바꿨다. 이는 그의 만담과 풍자를 엿볼 수 있는 일화로 드라마 '야인시대'의 소재로도 사용되었다.

- ① 강제 징용되는 청년 **○**
- ② 위안부로 끌려가는 여성 **○**
- ③ 신사참배를 거부하는 목사 **○**
- ④ **○** 통리기무아문에서 회의하는 관리 **X 1880 설리군대개**
- ⑤ 황국 신민 서사를 암송하는 학생 **○**

16. (가) 인물에 대한 설명으로 옳은 것은?



(가)는 2019년 한국갤럽에서 조사한 한국인이 가장 존경하는 인물 5위에 오른 인물이다. (가)는 한인 애국단을 창설했으며, 1948년 방북해 연석회의에 참가하였다. 그 후 1949년 사저인 경교장에서 육군 장교인 안두희에게 암살당하였다.

- ① 의열단을 창설하였다. ~~X 김원봉~~ ↳ 김구
- ② 일왕의 마차에 폭탄을 던졌다. ~~X 이봉담~~
- ③ 대한민국 임시정부 주석을 지냈다. O 김구
- ④ 우리말(조선말) 큰사전 편찬에 참여하였다. ~~X 조선어학회~~
- ⑤ 청산리 대첩에서 북로군정서군을 이끌었다. ~~X 김좌진~~

17. 밑줄 친 '전쟁' 중 있었던 사실로 옳은 것은?



자료는 북한의 기습적인 남침으로 시작된 이 전쟁 당시 살포된 전단으로, 북한군의 귀순을 권유하기 위해 제작되었다. 전단의 상단에는 유엔기가 배치되어 있고, 그 아래에는 귀순하는 북한군의 안전을 보장한다는 내용이 담겨 있다.

- ① 자유시 참변이 일어났다. ~~X 1921~~ ↳ 6.25
- ② 윤요호 사건이 발생하였다. ~~X 1875~~ 1950~1953
- ③ 13도 창의군이 결성되었다. ~~X 1907~~
- ④ 통리기무아문이 설치되었다. ~~X 1880~~
- ⑤ 인천 상륙 작전이 전개되었다. O 1950.9.15

18. (가) 민주화 운동에 대한 설명으로 옳은 것은? [3점]

기록으로 다시 만나는 (가) ↳ 5.18

• 모시는 글
유네스코 세계 기록 유산으로 등재된 (가) 기록물을 만날 수 있는 특별전을 개최합니다. 당시 (광주)의 시민과 학생들은 계엄군의 무력 진압에 맞서 시민군을 결성하여 항쟁하였습니다. 이들이 남긴 기록을 통해 (가)의 과정을 살펴보고, 민주화를 향한 당시 시민들의 열망을 느껴 보시기 바랍니다.


• 주요 전시물
- '시민 여러분께 안내 말씀 드립니다'
- '1980년도 광주의 비극을 밝히는 시'
- '과도 정부의 최규하 대통령에 보내는 글'

• 일시: 2022년 5월 ○일 ~ 6월 ○일
• 장소: ○○○ 기념관
- ○○○ 기념 사업회 -

- ① 결과로 대통령이 하야하였다. ~~X 4.19~~
- ② 굴욕적인 대일외교를 비판하였다. ~~X 6.3~~
- ③ 4.13 호헌 조치 철폐를 촉구하였다. ~~X 6월 민주항쟁~~
- ④ 신군부 세력의 권력 장악에 반대하였다. O 5.18
- ⑤ 3.15 부정 선거가 원인이 되어 일어났다. ~~X 4.19~~

19. 밑줄 친 '회담'이 있었던 정부 시기의 사실로 옳은 것은?

<학술대회 안내>
·대주제: 남북, 평화의 길
·소주제: 분단 이후 최초로 개최된 남북 정상 회담
·주제어: 6.15 남북공동선언



↳ 6.15 남북정상회담 김대중정부

·일시: 2022년 △△월 △△일
·장소: □□박물관 대회의실

- ① 금강산 관광이 시작되었다. O 김대중정부
- ② 발체 개헌안이 통과되었다. ~~X 이승만정부~~
- ③ 남북 기본 합의를 채택하였다. ~~X 노태우정부~~
- ④ 통일 주체 국민 회의가 설치되었다. ~~X 박정희정부~~
- ⑤ 남북한이 유엔에 동시에 가입하였다. ~~X 노태우정부~~

20. 밑줄 친 '선거'의 결과로 옳은 것은? [3점]

이 포스터는 해방 이후 처음으로 치러진 선거를 홍보하는 포스터이다. 이 선거는 유엔 소총회의 결의에 따라 결정되었으며, 유엔 한국 임시 위원단이 선거과정을 감독했고, 여성도 참여한 보통선거로 치러졌다. 이 선거로 만들어진 국회는 반민족 행위 처벌법을 규정하였다.

↳ 5.10 총선거 → 제헌국회 구성

- ① 헌의 6조가 채택되었다. ~~X 관민공동회~~
- ② 제헌 국회가 구성되었다. O
- ③ 대통령 직선제 개헌이 단행되었다. ~~X 반체개헌, 6.29 민주화선언~~
- ④ 모스크바 3국 외상회의가 개최되었다. ~~X 해방이후~~
- ⑤ 삼군주의에 기초한 건국강령이 공포되었다. ~~X 임시정부~~

* 확인 사항

- 답안지의 해당란에 필요한 내용을 정확히 기입(표기)했는지 확인하십시오.