

2023학년도 대학수학능력시험 muslim 고난도 모의고사 문제지

# 한국사 영역

성명		수험 번호																		
----	--	-------	--	--	--	--	--	--	--	--	--	--	--	--	--	--	--	--	--	--

- 문제지의 해당란에 성명과 수험 번호를 정확히 쓰시오.
- 답안지의 필적 확인란에 다음의 문구를 정자로 기재하십시오.

**이단 심문관**

- 답안지의 해당란에 성명과 수험 번호를 쓰고, 또 수험 번호, 문형(홀수/짝수), 답을 정확히 표시하십시오.
- 문항에 따라 배점이 다릅니다. 3점 문항에는 점수가 표시되어 있습니다. 점수표시가 없는 문항은 모두 2점입니다.

※ 시험이 시작되기 전까지 표지를 넘기지 마시오.

mus림 고난도 모의고사 해설지

# 한국사 영역

## 제 4 교시

1. (가) 지역에 대한 설명으로 옳은 것은?



이 사진은 전주교정의구현전국사제단의 미사가 올려지는 명동성당을 막고 있는 전경들을 밀어내고 있는 수녀들의 모습이다. 이렇듯 명동성당 뿐만 아니라 (가)의 다른 곳에서도 여러 가지 역사적 사건들이 많이 일어났는데 이는 조선의 수도인 이유가 크다. (가): 서울

- ① 처인성 전투가 일어났다. X 용인
- ② 의상이 낙산사를 세웠다. X 양양
- ③ 한국 최초의 철도가 부설되었다. O 서울-인천
- ④ 여수 순천 10·19 사건이 일어났다. X 여수, 순천
- ⑤ 한국전쟁의 정전협정이 체결된 곳이다. X 판문점

2. (가)에 들어갈 내용으로 옳은 것은?

Q. ○○지역의 지역사에 대해서 알려주세요.  
A. 6·15 남북공동선언으로 인해 추진된 남북교류협력사업의 일환으로 남한의 현대 아산주식회사와 북한의 조선민족경제협력연합위원회 등이 공업지구 운영에 관한 계약을 체결하여 남북 공동 공업지구가 조성되었습니다. 또한 2008년부터 남북공동발굴조사단이 만월대 공동발굴을 진행하고 있습니다. 개성 (가)

- ① 신한촌이 형성되었습니다. X 연해주
- ② 고려의 수도가 있었습니다. O 개성
- ③ 최초의 남북정상회담이 열렸습니다. X 평양
- ④ 임시정부가 한국광복군을 창설했던 곳입니다. X 홍성
- ⑤ 궁예가 천도하여 두 번 째 도읍으로 삼았던 곳입니다. X 평원


3. (가) 지역에 대한 설명으로 옳은 것은? [3점]



다음 사진은 북한의 지도자인 김정은은 노동당 제1비서가 (가)에 있는 마식령 스키장을 둘러보고 있는 모습이다. (가)는 강화도 조약으로 개항한 지역 중 가장 북쪽에 있으며, 최초의 근대적 교육기관이 만들어진 지역이고, 기독교 신자가 많은 지역이었다. 그러나 현재는 북한의 지배하에 있는 도시로 그 당시 기독교의 흔적은 찾아볼 수 없다. (가): 원산

- ① 벽란도가 번성했다. X 예성강 하구
- ② 조선 의용대가 창립되었다. X 무란
- ③ 광개토 대왕릉비가 세워졌다. X 만주
- ④ 신흥 무관 학교가 설립되었다. X 간도
- ⑤ 원산 노동자 총파업이 일어났다. O 원산

4. (가) 지역에 대한 설명으로 옳은 것만을 고른 것은? [3점]



이 사진은 (가) 지역의 성공회 성당으로 1900년에 지어졌다. 외부가 한옥이어서 한옥성당으로도 유명한 곳이다. 이 건물에서 보여지듯 (가)는 일찍부터 기독교를 받아들인 지역이다. 1893년에 (가) 지역의 첫 개신교회인 교산교회가 설립되기도 하였다. 하지만 (가) 지역은 개신교가 전파되기 약 20년 전에는 두 차례에 걸친 외세의 침입으로 인해 서양에 대한 반감이 강한 지역이었다. (가): 강화도

- ㄱ. 고려의 수도였던 곳이다. O 개성, 강화도
- ㄴ. 강화도 조약이 체결되었다. O 강화도
- ㄷ. 러시아가 조차를 요구하였다. X 절영도
- ㄹ. 영국이 불법적으로 점령하였다. X 거문도

- ① ㄱ, ㄴ
- ② ㄱ, ㄷ
- ③ ㄴ, ㄹ
- ④ ㄴ, ㄹ
- ⑤ ㄷ, ㄹ

5. (가)에 들어갈 내용으로 옳은 것은? [3점]

우리 모둠 과제에서 다들 지역의 역사에 대해 조사한 내용을 보내주세요

고구려의 수도였으며, 묘청이 천도를 주장했던 지역입니다.

개신교가 활발히 퍼져 동방의 예루살렘이라 불렀던 지역입니다.

(가)

- ① 용흥궁이 지어졌습니다. X 강화도
- ② 고려시대에 남경이라 불렀습니다. X 서불
- ③ 김원봉이 의열단을 조직하였습니다. X 무란
- ④ 압진왜란 시기 왕이 피난왔던 지역입니다. X 의주
- ⑤ 조만식의 주도로 물산장려운동이 시작된 지역입니다. O 평양

6. (가)에 들어갈 내용으로 적절한 것은?

우리 고장에 대해서 조사한 내용을 보내주세요 **인천**


비류가 도유한 지역입니다.

강화도 조약으로 개항했고, 최초의 철도가 개통되었습니다.

(가)

- ① 살수대첩이 일어났습니다. **X 평안강**
- ② 귀주대첩이 일어났습니다. **X 귀주**
- ③ 서희의 담판으로 확보한 지역입니다. **X 감동6주**
- ④ **✓** 조선과 일본이 제물포 조약을 체결한 곳입니다. **○ 인천**
- ⑤ 육영공원, 한성전기회사 등이 설립된 개화의 중심지입니다. **X 서울**

7. (가) 지역에 대한 설명으로 옳은 것은? [3점]



이 건물은 대한민국의 사적 제 288호인 전동성당이다. 이 건물은 호남지방에서 가장 규모가 큰 서양식 근대건축물이다. 전동성당이 위치하는 (가)는 조선왕조의 본관으로 태조의 어진을 모신 경기전이 있고, 후백제의 견훤이 도읍하기도 했던 곳이다. 또한 전봉준이 이끄는 농민군이 점령했던 지역이기도 하다. **전주**

- ① **✓** 전주화약이 체결되었다. **○ 전주**
- ② 진주농민봉기가 일어났다. **X 전주**
- ③ 6·10 만세운동이 처음 일어났다. **X 서울**
- ④ 김윤후가 살리타를 사살하였던 지역이다. **X 용인**
- ⑤ 갑신정변이 일어난 건물이 있는 지역이다. **X 서울**

8. (가)에 들어갈 내용으로 적절한 것은? [3점]

Q. ○○지역의 지역사에 대해서 알려주세요.

A. 삼국시대 백제, 통일신라, 고려시대 때 무진주라고 불린 지역이었습니다. 1929년에는 한국과 일본인 학생의 충돌사건으로 인해 벌어진 시위의 중심지 되었습니다. 그 후 1986년 직할시로 승격된 지역입니다. **고양주(전라도)**

또한 (가)

- ① 4·3 사건이 일어났습니다. **X 제주도**
- ② **✓** 5·18 민주화운동이 일어났습니다. **○ 고양주(전라도)**
- ③ 광주 대단지 사건이 일어났습니다. **X 광주(경기도)**
- ④ 거창 양민 학살 사건이 일어났습니다. **X 거창**
- ⑤ 대한민국 임시정부가 설립된 곳입니다. **X 상하이**

9. (가)에 들어갈 내용으로 옳은 것은?

지역사를 통한 한국사 이해

학습 주제: '○○ 지역' 역사 탐구

5소절 중 하나인 중원경이 있었어.


몽골의 침략에 맞선 하층민의 화제도 있었지.

신림이 이끄는 조선군이 일본군과 격전을 벌였어.

(가)

- ① 의상대사가 부석사를 건립하였어. **X 양양**
- ② **✓** 신흥 무관 학교가 설립되었어. **X 간도**
- ③ 충주 고구려비가 건립되었어. **○ 충주**
- ④ 경인선 철도가 부설되었어. **X 서울-인천**
- ⑤ 수원 화성이 건설되었어. **X 수원**

10. (가) 지역에 대한 설명으로 옳은 것은? [3점]



이 유물은 (가) 지역의 동삼동 신석기 유적에서 나온 유물이다. 이 조개껍데기 가면은 샤머니즘을 보여주는 유물로 평가받고 있다. 이 유물이 발견된 (가) 지역은 조선시대 왜관이 설치되었으며, 강화도 조약으로 개항된 지역 중에 하나이다. 또한 의열단원이었던 박재현이 (가)에 있는 경찰서에 폭탄을 던지기도 했다. 또한 1979년 야당 총재의 제명에 반발한 이들이 전개한 시위의 중심지였으며, 16대 대통령의 국회의원 시절 지역구였던 지역이다. **부산**

- ① **✓** 흥남 철수 작전이 전개되었다. **X 경상북도**
- ② 한국전쟁 당시 임시수도였다. **○ 부산**
- ③ 경인선 철도가 부설되었다. **X 서울-신라주**
- ④ 신라의 수도였던 지역이다. **X 경주**
- ⑤ 나석주 의거가 일어났다. **X 서울**

11. (가) 지역에서 일어난 일로 옳은 것은? [3점]



이 유적은 (가)의 안악에 있는 향파두리 향몽유적지이다. 이 유적지는 고려 무신정권의 무력 기반인 삼별초가 마지막으로 대몽항쟁을 전개했던 곳이다. (가) 지역은 대한민국의 아픈 과거들을 담고 있는 곳이기도 하다. 일제강점기에 모슬포항 근처에 일본 해군 901 항공대의 거점인 알뜨르 비행장을 만들었으며, 황우지 해안에는 강제 노역으로 만든 진지동굴인 열두 굴이 있다. 또한 해방 이후에는 일제의 폭탄 창고를 미군이 폭파하고 만든 구덩이에서 정부가 210명의 민간인을 학살한 섯알오름 학살터가 있다. **제주도**

- ① 4·3 사건이 일어났다. **○ 제주도**
- ② 청산리 대첩이 일어났다. **× 간도**
- ③ 3·15 마산의거가 일어났다. **× 마산**
- ④ 대조선 국민군단이 조직되었다. **× 하반이**
- ⑤ 자장의 건의로 황룡사가 건립되었다. **× 경주**

12. 지역과 사건이 옳게 짝지어지지 않은 것은? [3점]

- ① 독도-대한제국 칙령 제 41호로 영토임이 재확인 되었다. **○**
- ② 영도-러시아가 조차를 요구하였다. **○**
- ③ 진도-홍남철수가 단행되었다. **×**
- ④ 거문도-영국이 불법적으로 점령하였다. **○**
- ⑤ 암태도-지주 문제철의 횡포에 반대하여 소작쟁의가 일어났다. **○**

13. (가) 지역에서 일어난 일로 옳은 것은? [3점]



이 사진은 (가)에서 설립된 사회운동단체인 형평사의 포스터이다. 형평사는 백정들의 신분해방과 실질적인 처우 개선을 목적으로 설립되었다. 1936년에는 일본의 탄압으로 단체 명칭을 대동사로 변경하기도 하였다. **→ 진주**

- ① 홍경래의 난이 일어났다. **× 평안도 지역**
- ② 진주농민봉기가 일어났다. **○ 진주**
- ③ 한·일간 한성조약이 체결되었다. **× 서울**
- ④ 제너럴 셔먼호 사건이 일어났다. **× 평양**
- ⑤ 주세붕이 최초의 서원인 소수서원을 세웠다. **× 안동**

14. 다음 글의 상황이 일어난 시기를 연표에서 옳게 고른 것은?

그 아버지 동부(東部) 대인(大人) 대대로(大對盧)가 죽자 개소문은 마땅히 그의 지위를 계승하고자 하였지만, 국인(國人)은 개소문의 성격이 잔인하고 포악하다고 하여 그를 미워하였기 때문에 그 지위에 오를 수 없었다...(중략)...개소문은 왕의 동생의 아들 장(臧)을 왕으로 세우고 스스로 막리지(莫離支)가 되었다. **삼국대령 - 대막리지속위 - 고려연방 - 삼국사기-**

	(가)	(나)	(다)	(라)	(마)
백제 건국	백제 목지국 병합	고구려 평양 천도	삼국 대립	나·당 전쟁	신원왕 즉위
① (가)	② (나)	③ (다)	④ (라)	⑤ (마)	

15. 다음 글의 상황이 일어난 시기를 연표에서 옳게 고른 것은? [3점]

여름 6월 견훤(甄萱)이 요청하여 말하기를, “늙은 신하가 멀리 바다를 건너 성군(聖君)의 교화(教化)에 투항하였으니, 바라건대 그 위엄에 기대어 역적 아들을 베고자 할 뿐입니다.”라고 하였다...(중략)...먼저 정윤(正胤) 왕무(王武)와 장군(將軍) 박솔희(朴述希)를 보내 보병과 기병 10,000명을 거느리고 천안부(天安府)로 나아가게 하였다. **국삼국 시대**

	(가)	(나)	(다)	(라)	(마)
고구려 평양 천도	백제 사비 천도	매소성 전투	신원왕 즉위	후백제 건국	과거제 실시
① (가)	② (나)	③ (다)	④ (라)	⑤ (마)	

16. 다음 글의 상황이 일어난 시기를 연표에서 옳게 고른 것은? [3점]

서희(徐熙)가 국서(國書)를 받들고 소손녕(蕭遜寧)의 진영에 통역관을 시켜 서로 인사하는 예(禮)를 물었는데, 소손녕이 “나는 대조(大朝)의 귀인(貴人)이라 마땅히 뜰에서 절하여야 한다”고 대답하였다...(중략)...소손녕이 서희에게 말하기를 “그대 나라는 신라 땅에서 일어났고 고구려 땅은 우리의 소유인데 그대들이 침범해왔다. 또 (고려는) 우리와 국경을 접하고 있는데 바다를 넘어 송(宋)을 섬겼으므로 이제 군사를 이끌고 온 것이다. **1차 거란 침입 (고려성흥)** -고려사-

	(가)	(나)	(다)	(라)	(마)
후고구려 건국	노비안검법 실시	별무반 설치	무신 정변	개경 환도	과전법 실시
① (가)	② (나)	③ (다)	④ (라)	⑤ (마)	

**광종 성공 → 여진정벌**

17. 다음 글이 설명하는 상황이 일어난 시기를 연표에서 옳게 고른 것은?

서경 전역(戰役)은 낭불양가(郎佛兩家) 대 유가(儒家)의 싸움이며, 국풍파(國風派) 대 한학파(漢學派)의 싸움이며, 독립당(獨立黨) 대 사대당(事大黨)의 싸움이며, 진취 사상 대 보수 사상의 싸움이니 묘청은 곧 전자의 대표요, 김부식은 곧 후자의 대표였던 것이다. 이 전역에 묘청 등이 패하고 김부식이 승리하였으므로 조선사가 사대적·보수적·속박적 사상, 즉 유교 사상에 정복되고 말았거니와, 만일 이와 반대로 김부식이 패하고 묘청 등이 이겼더라면 조선사가 독립적·진취적 방면으로 진전하였을 것이니, 이 난을 어찌 1000년대 제1대 사건이라 하지 아니하랴. 이자겸의 난 - 묘청의 난 - 육선경변 - 조선사 연구초-

Table with 6 columns: (가), (나), (다), (라), (마). Row 1: 해공왕 피살, 이자겸의 난, 개경 환도, 조선 건국, 세종 즉위, 임진왜란. Row 2: ① (가), ② (나), ③ (다), ④ (라), ⑤ (마)

18. 다음 글의 상황이 일어난 시기를 연표에서 옳게 고른 것은? [3점]

우왕이 태조에게 "과인이 요동을 공격하고자 하니 경(卿) 등은 마땅히 힘을 다하라" 하였다. 태조가 아뢰기를, "지금 출사(出師)하는 일은 네 가지의 옳지 못한 점이 있습니다. 작은 나라로서 큰 나라에 거역하는 것이 첫 번째 옳지 못함이고, 여름철에 군사를 동원하는 것이 두 번째 옳지 못함이고, 온 나라 군사를 동원하여 멀리 정벌하면, 왜적이 그 허술한 틈을 탈 것이니 세 번째 옳지 못함이고, 지금 한창 장마철이므로 활(弓弩)은 아교가 풀어지고 많은 군사가 역병(疫病)을 앓을 것이니 네 번째 옳지 못함입니다" 하였다. 이성계 사벌가문 - 태조실록-

Table with 6 columns: (가), (나), (다), (라), (마). Row 1: 시무 28조 건의, 무신 정변, 개경 환도, 조선 건국, 훈민정음 창제, 임진왜란. Row 2: ① (가), ② (나), ③ (다), ④ (라), ⑤ (마)

19. 다음 글의 상황이 일어난 시기를 연표에서 옳게 고른 것은?

"적병이 남한산성을 포위해서 위협한 지 지금 7일째로서, 상하 군신이 고립된 성에 의지하여 위급하기가 한 울의 터럭과 같은 급박한 형세라는 것을 경도 상상할 수 있을 것이다. 방금 들으니, 서북의 장수들도 모두 병력을 이끌고 이미 기전에 도착했다고 한다...(중략)...그리고 오늘 여러 곳에 보낸 유지(有旨)는 시일이 지체될 염려가 없지 않으니, 경은 아주 급하게 전송하라."하였다. 병자호란 - 승정원일기-

Table with 6 columns: (가), (나), (다), (라), (마). Row 1: 귀주 대첩, 망이·망소이의 난, 조선 건국, 세종 즉위, 임진왜란, 예송 논쟁. Row 2: ① (가), ② (나), ③ (다), ④ (라), ⑤ (마)

20. 다음 글의 상황이 일어난 시기를 연표에서 옳게 고른 것은? [3점]

"방금 남연군방(南延君房)을 맡고 있는 중사(中使)가 계문한 것을 들으니, 덕산(德山)의 묘소에 서양놈들이 침입하여 사초(莎草)를 훼손한 변고가 있다고 하였다. 이는 더없이 놀랍고 죄송한 일이다. 홍주 목사(洪州牧使) 한응필(韓應弼)을 가승지로 차임하여 속히 달려가서 간신히 뒤에서 특별히 계문하게 하라. 이 오랑캐들이 이미 퇴각하기는 하였지만, 뒤쫓아 섬멸하는 방도에 대하여는 필시 도신(道臣)과 수신(帥臣)의 방략이 있을 것이다." 오메르도르문사건 - 승정원일기-

Table with 6 columns: (가), (나), (다), (라), (마). Row 1: 정묘호란, 균역법 실시, 공노비 해방, 병인양요, 청·일 전쟁, 국권 상실. Row 2: ① (가), ② (나), ③ (다), ④ (라), ⑤ (마)

21. 다음 글의 상황이 일어난 시기를 연표에서 옳게 고른 것은?

관민 공동회에 참석한 회원 일동은 만세를 부른 뒤에 관리와 백성들에게 먼저 의견을 개진할 것을 요청하였다. 백정 박성춘이 말하였다. "이 사람은 바로 대한에서 가장 친한 사람이고 매우 무식합니다. 그러나 임금께 충성하고 나라를 사랑하는 뜻은 대강 알고 있습니다. 이제 나라를 이롭게 하고 백성을 편리하게 하는 방도는 관리와 백성이 마음을 합한 뒤에야 가능하다고 생각합니다..."(중략)...회중이 박수를 보냈다. 독립협회 - 대한계년사-

Table with 6 columns: (가), (나), (다), (라), (마). Row 1: 정묘호란, 균역법 실시, 공노비 해방, 병인양요, 독립협회 창립, 국권 상실. Row 2: ① (가), ② (나), ③ (다), ④ (라), ⑤ (마)

22. 다음 글의 상황이 일어난 시기를 연표에서 옳게 고른 것은? [3점]

대한 군정서(大韓軍政署) 총재 서일(徐一)로부터 1월 15일 우리 대본영에 도착한 보고에 따르면 경과한 상황은 다음과 같다...(중략)...화룡현·삼도구·청산리 또는 이도구에서 적군과 전투를 벌여 수많은 적의 장졸을 살상했는데, 다행히 아군의 사상은 극소하였다. 아군은 맹렬한 전투를 치러 장졸이 모두 피로한 가운데, 적은 다시 왕청 대황구(大荒溝) 및 습자구(習子溝)에 주둔하였던 보병 및 기병 양 부대의 병력을 철수하여 보산(寶山) 이남으로 집중하였는데, 그 기세가 대단하였다. 청산리대첩 - 독립신문-

Table with 6 columns: (가), (나), (다), (라), (마). Row 1: 국권 상실, 자유시 참변, 대전자령 전투, 8·15 광복, 대한민국 정부수립, 헌법 제정. Row 2: ① (가), ② (나), ③ (다), ④ (라), ⑤ (마)

23. 다음 글이 발표된 시기를 연표에서 옳게 고른 것은?

- 1) 3천만 전 국민이 절대 지지하는 대한민국 임시 정부를 우리의 정부로서 세계에 선포하는 동시에 세계 각국은 우리 정부를 정식으로 승인함을 요구함.
- 2) 우리는 5천년의 유구한 문화를 가진 민족으로서 도저히 4개국 관리 하에 신탁 통치를 받지 못함을 미(美), 영(英), 중(中), 소국(蘇國) 원수에게 통고함. *신탁통치 반대운동*
- 3) 현하 우리 국토 남북으로 진주하고 있는 미소 양군의 즉시 철퇴 요구를 연합군에 통고함.
- 4) 완전한 자주독립을 획득할 때까지 3천만 전 민족을 들어 탁치 반대 운동을 결사적으로 계속할 것을 4개국에 통고함.

(가)	(나)	(다)	(라)	(마)
8-15 광복 1945	6-25 전쟁 발발 1950	정전 협정 체결 1953	진보당 사건 1960	윤보선 당선 1960
① (가)	② (나)	③ (다)	④ (라)	⑤ (마)

*신탁통치 → 모스크바 3국외상회의에서 결정*

24. 다음 글의 부칙이 추가된 사건이 일어난 시기를 연표에서 옳게 고른 것은? [3점]

제55조 ① 대통령과 부통령의 임기는 4년으로 한다. 단, 재선에 의하여 1차중임할 수 있다.  
**부칙** 초대 대통령에 대하여는 제55조 제1항 단서의 제한을 적용하지 아니한다. *초대 대통령 공임 제한철폐에 관한 입법령 1954*

(가)	(나)	(다)	(라)	(마)
8-15 광복 1945	6-25 전쟁 발발 1950	정전 협정 체결 1953	3-15 부정선거 1960	윤보선 당선 1960
① (가)	② (나)	③ (다)	④ (라)	⑤ (마)

25. 밑줄 친 개혁이 일어난 시기를 연표에서 옳게 고른 것은? [3점]

당시 정부는 국내외 정세 변화와 지속적인 경제 성장을 이유로 개혁을 추진하였다. 하지만 개혁안의 주요 내용은 대통령을 탄핵하는 경우 국회의 발의 및 의결 정족수를 높이고, 대통령의 3선을 허용하는 것이었다. 야당과 학생들의 반대에도 불구하고, 이 개혁안은 국회의 의결과 국민 투표를 거쳐 헌법으로 확정되었다. *3선계한 1967*

(가)	(나)	(다)	(라)	(마)
8-15 광복 1945	6-25 전쟁 발발 1950	윤보선 당선 1960	6-3 항쟁 1965	12-12 군사 쿠데타 1979
① (가)	② (나)	③ (다)	④ (라)	⑤ (마)

26. 밑줄 친 해를 연표에서 옳게 고른 것은? [3점]



이 사진은 서울종합운동장의 야구장이다. 이 야구장은 한국프로야구가 개막한 해에 개장했다. 개장 기념 경기로 고교야구 경기가 열렸으며, 약 15일 뒤에는 프로야구 경기가 열렸다. 그 이후에 원래 충청도를 연고지로 하던 구단이 3년뒤 서울로 연고지를 옮기며, 현재 국내에 유일하게 두 구단이 공통으로 홈구장으로 가지는 야구장이다.

*→ 1982*

(가)	(나)	(다)	(라)	(마)
6-25 전쟁 발발 1950	6-3 항쟁 1965	12-12 군사쿠데타 1979	13대 대선 1987	소매 방북 1979
① (가)	② (나)	③ (다)	④ (라)	⑤ (마)

*꽃이2) 프로야구 개막 → 선두환경부 3S 정책, (다) → 전두환 경복시*

27. 밑줄 친 선거가 실시된 시기를 연표에서 옳게 고른 것은? [3점]

우리나라의 지방선거는 해방 이후 1952년, 1956년, 1960년에 각각 치러졌다. 그러나 군사정권이 군정을 실시하며 지방선거는 폐지되었다. 그 이후 군정이 끝나고 4년 뒤 치러진 선거는 지방의원만을 선출했다. 그러나 그 이후 치러진 선거는 서울시장 등을 비롯한 광역자치단체장까지도 시민이 뽑는 선거였다. 이 선거는 68.4%의 투표율을 기록했으며, 광역자치단체장 선거에서 여당인 민주자유당은 5석, 야당인 민주당은 4석, 자유민주연합은 4석, 무소속이 2석을 획득했다. *1995, 김영삼 정부*


(가)	(나)	(다)	(라)	(마)
6-3 항쟁 1965	12-12 군사쿠데타 1979	12대 대선 1981	13대 대선 1987	김영삼 당선 1992
① (가)	② (나)	③ (다)	④ (라)	⑤ (마)

28. (가), (나) 시기 사이에 있었던 사실로 옳은 것은?

(가) 가을 9월에 고구려 왕 거련(巨璉)이 군사 3만 명을 이끌고 왕도(王都) 한성(漢城)을 포위하였다...(중략)...왕은 곤궁하여 어찌할 바를 모르다가, 기병 수십을 거느리고 성문을 나가 서쪽으로 도망쳤다. 고구려인이 쫓아가 그를 살해하였다. *장수왕 한성 차지*  
 (나) 백제왕 명농(明農)이 가야[加良]와 함께 와서 관산성(管山城)을 공격하였다...(중략)...갑자기 공격하여 백제왕을 죽였다. 이에 여러 군대들이 승세를 타고 크게 이겨 좌평(佐平) 4명과 사졸(士卒) 29,600명의 목을 베었고, 한 필의 말도 돌아간 것이 없었다. *성왕의 죽음, 신라 관산성*

- ① 고구려가 국내성으로 천도했다. X
- ② 신라가 김춘추를 당으로 보냈다. X *나. 남양왕의 전*
- ③ 평양성 전투에서 고국원왕이 전사하였다. X *근초고왕*
- ④ 무령왕이 22담로를 설치하여 왕족을 파견하였다. O *백제 중흥기*
- ⑤ 신문왕이 왕실 외척이 일으킨 김흠돌의 난을 진압했다. X *통일신라*

29. (가), (나) 사진이 촬영된 시기 사이에 있었던 사실로 옳은 것은?



(가) 미국 군함 위의 조선인들 신미양요 당시 미국 군함 콜로라도호에 있는 조선인들의 모습이다.  
 (나) 미국에 파견된 조선 사절단 민영익을 대표로 미국에 처음 파견된 조선 사절단의 모습이다.

- ① 김홍집이 조선책략을 들여왔다. *○ 영남만민소(1897) 최현진*
- ② 일본군이 간도침범을 일으켰다. *X 1920~1921 동상호약(1882)*
- ③ 프랑스군이 외규장각도서를 약탈하였다. *X 4정인보 2년 마전 1876*
- ④ 러시아가 철영도 조차요구를 철회하였다. *X*
- ⑤ 오페르트가 남연군 묘의 도굴을 시도하였다. *X 20번 장포*

30. (가), (나) 조약이 체결된 시기 사이에 있었던 사실로 옳은 것만을 고른 것은? [3점]

(가)  
 제1조 조선국은 자주 국가로서 일본국과 평등한 권리를 보유한다.  
 제5조 조선은 부산 이외에 두 항구를 20개월 이내에 개항하여 통상을 해야 한다  
 제10조 개항장에서 일어난 양국인 사이의 범죄 사건은 숙인주의에 입각하여 자국의 법에 의하여 처리한다. *강화도 조약*

(나)  
 제2조 일본국 정부는 한국과 타국 사이에 현존하는 조약의 실행을 완전히 하는 책임을 지며 한국 정부는 이후부터 일본국 정부의 중개를 거치지 않고 국제적 성질을 가진 어떠한 조약이나 약속을 하지 않을 것을 기약한다. *물산장막*  
 제3조 일본국 정부는 그 대표자로서 한국 황제 폐하의 고향(關下)에 1명의 통감(統監)을 두되 통감은 오로지 외교에 관한 사항을 관리하기 위하여 경성(京城)에 주재하면서 직접 한국 황제 폐하를 궁중에 알현하는 권리를 가진다.

- ㄱ. 급진개화파가 갑신정변을 일으켰다. *○ 1884*
- ㄴ. 안중근이 이토 히로부미를 사살하였다. *X 1909*
- ㄷ. 고종이 러시아 공사관으로 거처를 옮겼다. *○ 1896*
- ㄹ. 민족유일당 운동의 일환으로 신간회가 창립되었다. *X 1927*

- ① ㄱ, ㄴ                      ② ㄱ, ㄷ                      ③ ㄴ, ㄷ
- ④ ㄴ, ㄹ                      ⑤ ㄷ, ㄹ

31. (가), (나) 시기 사이에 있었던 사실로 옳은 것은?

(가) "짐은 대한제국의 황제 폐하와 더불어 이 사태를 보고 대한제국을 들어서 우리 일본 제국에 병합하여 이로써 시세의 요구에 응함이 부득이한 것이 있음을 생각하여 이에 영구히 한국을 제국에 병합케 한다...(중략)...동양의 평화에 의하여 더욱 그 기초를 공고하게 함이 짐이 믿어 의심치 아니하는 바이다." *한일 병합조약*

(나) 총독은 문무관 어느 쪽이라도 임용될 수 있는 길을 열 것이며, 헌병에 의한 경찰 제도를 고쳐 보통 경찰관에 의한 제도로 대신할 것이다. 또한 복제를 개정하여 일반 관리와 교원의 제복과 대검을 폐지하고, 조선인의 임용과 대우 등도 고려한다. *문화통치실시*

- ① 조선태형령이 시행되었다. *○*
- ② 신사참배와 궁성요배를 강요하였다. *X*
- ③ 조선인에게 창씨개명을 강요하였다. *X*
- ④ 서울에 경성제국대학이 설립되었다. *X*
- ⑤ 조만식의 주도로 물산장려운동이 전개되었다. *X*

32. (가), (나) 시기 사이에 있었던 사실로 옳은 것은? [3점]

(가) 이번 의거는 이 나라 정치적 위기를 극복하기 위한 중대한 계기다...(중략)...이제 전국 대학 교수들의 양심에 호소하여 우리의 소신을 선언한다. 마산, 서울 기타 각지의 학생 데모는 주권을 빼앗긴 국민의 울분을 대신하여 쫓겨간 학생들의 순진한 정의감의 발로이며 부정과 불의에 항거하는 민족의 표현이다. *3.15선거는 불법 선거이다. 공명 선거에 의하여 정, 부통령 선거를 다시 실시하라.*

(나) 친애하는 애국동포 여러분! 은인자중하던 군부는, 드디어 오늘 아침 미명을 기해서 일제히 행동을 개시해, 국가의 행정, 입법, 사법 3권을 완전히 장악하고, 이어 군사혁명위원회를 조직했습니다... *(중략)...우리의 과업이 성취되면, 양심적인 정치인들에게 언제든지 정권을 이양하고 우리들 본연의 임무에 복귀할 준비를 갖추겠습니다.*

- ① 10월 유신이 단행되었다. *X 1972, 박정희 정부*
- ② 사사오입 개헌이 단행되었다. *X 1954, 이승만 정부*
- ③ 한국프로야구가 6개 구단으로 개막하였다. *X 1982, 전두환 정부*
- ④ 내각책임제를 중심으로 하는 장면정부가 성립되었다. *○*
- ⑤ 베트남 전쟁 파병의 대가로 브라운각서가 체결되었다. *X 1966, 박정희 정부*

33. (가), (나) 시기 사이에 있었던 사실로 옳은 것은? [3점]

(가) 정부당국에서는 17일 야간에 계엄령을 확대 선포하고 일부 학생과 민주인사, 정치인을 도무지 믿을 수 없는 구실로 불법 연행했습니다...(중략)...아! 이럴 수가 있던 말입니까? 계엄당국은 18일 오후부터 공수부대를 대량 투입하여 시내 곳곳에서 학생, 젊은이들에게 무차별 살상을 자행하였으니! 5.18

(나) 제1독서에서는 야훼 하느님께서 동생 아벨을 죽인 카인에게 "네 아우 아벨은 어디 있느냐?" 하고 물으시니 카인은, "제가 아우를 지키는 사람입니까?" 하고 잡아떼며 모른다고 대답합니다. 창세기의 이 물음이 오늘 우리에게 던져지고 있습니다. "너의 아우, 너의 아들, 너의 제자, 너의 젊은이, 너의 국민의 한 사람인 박종철은 어디 있느냐?" "탕"하고 책상을 치자 '억'하고 쓰러졌으니 나는 모릅니다. "수사관들의 의욕이 좀 지나쳐서 그렇게 되었는데, 그까짓 것 가지고 뭘 그러십니까?" 6월 민주항쟁 원인

- ① 새마을 운동이 전개되었다. X
- ② 경부고속국도가 개통되었다. X
- ③ 사사오입 개헌이 단행되었다. X 이승만 정부
- ④ 한·일간 국교 정상화에 반대하는 시위가 전개되었다.
- ⑤ 통일주체국민회의에서 7년 임기의 대통령이 선출되었다. O 전두환 정부

전두환 정부

34. (가), (나) 시기 사이에 있었던 사실로 옳은 것은? [3점]

(가) 오늘 우리는 그렇게도 애타게 바라던 문민 민주주의의 시대를 열기 위하여 이 자리에 모였습니다. 오늘을 맞이하기 위해 30년의 세월을 기다려야 했습니다. 김영삼정부 최일

(나) 이 정부는 국민의 힘에 의해 이루어진 참된 '국민의 정부'입니다. 모든 영광과 축복을 국민 여러분께 드리면서, 제 몸과 마음을 다 바쳐 봉사할 것을 굳게 다짐하는 바입니다. 친애하는 국민 여러분! 우리는 3년 후면 새로운 세기를 맞게 됩니다...(중략)...'국민의 정부'는 어떠한 정치보복도 하지 않겠습니다. 어떠한 차별과 특혜도 용납하지 않겠습니다. 다시는 무슨 지역 정권이니 무슨 도(도)차별이니 하는 말이 없도록 하겠다는 것을 굳게 다짐합니다. 김대중 정부 최일

- ① 10월 유신이 단행되었다. X 박정희 정부
- ② 한·일 월드컵이 개최되었다. X 김대중 정부
- ③ 최초의 여·야간 평화적 정권교체가 이루어졌다. O
- ④ 대통령 선출 방식이 간선제에서 직선제로 바뀌었다. X 박정희 정부 (29번)
- ⑤ 중앙정보부장 김재규가 박정희 대통령을 암살하였다. X 박정희 정부

35. 다음 글의 (가) 인물에 대한 설명으로 옳은 것은?



이 사진은 (가)의 사진이다. (가)는 남북에게 모두 버림받은 독립운동가라고 불리는 사람이다. (가)는 1919년 만주에서 의열단을 설립하고 이후에 임시정부에 참여하였다. 해방 이후 남한에서 친일경찰 노덕술에게 치욕을 당했다. 이로 인해 남북협상 이후 남한에 돌아가지 않고 북한에 남아서 조선민주주의인민공화국 정부 수립에 참여하였다. 그러나 1958년 북한은 (가)를 숙청하게 되고 이로 인해 (가)는 남북에게 모두 버림받은 독립운동가라고 불리게 되었다. 김원봉

- ① 삼균주의를 제창하였다. X 조소앙
- ② 조선의용대를 창설하였다. O 김원봉
- ③ 한인 애국단을 창설하였다. X 김구
- ④ 조선건국준비위원회를 조직했다. X 여운형
- ⑤ 대한민국 임시정부의 초대 대통령을 지냈다. X 이승만

36. (가)에 들어갈 내용으로 옳은 것만을 고른 것은? [3점]

우리 모든 과제에서 다름 인물에 대해 조사한 내용을 보내주세요

1953년 거제에서 자유당 공천을 받아 국회의원이 되었으며 9선 국회의원을 지냈습니다.


대한민국의 14대 대통령입니다. 김영삼

이 인물이 대통령일 때 정부에서는 (가)

- ㄱ. 외환위기가 발생하였습니다. O
- ㄴ. 금융실명제가 실시되었습니다. O
- ㄷ. 제2차 남북정상회담이 개최되었습니다. X 노무현 정부
- ㄹ. 남북 최초의 이산가족 상봉이 이루어 졌습니다. X 전두환 정부

- ① ㄱ, ㄴ
- ② ㄱ, ㄷ
- ③ ㄴ, ㄹ
- ④ ㄴ, ㄹ
- ⑤ ㄷ, ㄹ


37. (가)에 들어갈 내용으로 옳은 것은?



이 사진은 노벨상이다. 노벨상은 매년 인류의 문명에 기여를 한 사람에게 수여되는 상이다. 그러나 한국에는 노벨상의 수상자가 단 1명 존재하는데 이 사람은 2000년 노벨평화상을 받았다. 이 사람은 6선 국회의원 출신으로 평화민주당, 새정치국민회의 등의 당에서 대표를 맡는 등 여러 당을 이끌었다. 또한 15대 대통령으로 선출되었고, 이 사람이 대통령을 맡았던 정부에서는 최초의 남북정상회담이 개최되었으며, (가) .

- ① 조선총독부가 철폐되었다. X ↳ 김대중
- ② 5·18 특별법이 제정되었다. X ↳ 김영삼 정부
- ③ 6·15 남북 공동 선언이 발표되었다. O ↳ 김대중 정부
- ④ 최초의 대통령 탄핵 소추 가결안이 국회를 통과하였다. X ↳ 노무현 정부
- ⑤ 대통령이 대한민국 헌정사상 최초로 탄핵 가결로 파면되었다. X ↳ 박근혜 정부

38. 밑줄 친 **정부** 시기 있었던 사실로 옳은 것은? [3점]




이 사진은 중앙정보부장인 이후락과 조선민주주의인민공화국 내각수상인 김일성이 만나는 사진이다. 이후락은 이 **정부** 때 밀사로 북한에 갔고, 김영주 중앙조직부장과 회담 후에 김일성을 만날 때 찍힌 사진이다. 그 후 이 **정부**는 북한과 공동성명을 발표하며 자주, 평화, 민족 대단결이라는 3대 원칙을 설정하였다. ↳ 7·4 남북공동성명 ↳ 박정희 정부

- ① 직선제로 개헌하였다. X ↳ 이승만, 전두환 정부
- ② 10월 유신을 단행하였다. O ↳ 박정희 정부
- ③ 6·15 남북 공동 선언이 발표되었다. X ↳ 김대중 정부
- ④ 최초의 대통령 탄핵 소추 가결안이 국회를 통과하였다. X ↳ 노무현 정부
- ⑤ 대통령이 대한민국 헌정사상 최초로 탄핵 가결로 파면되었다. X ↳ 박근혜 정부

39. 다음 뉴스가 보도된 정부 시기에 있었던 사실로 옳은 것은?

[3점]

방금 전 뉴욕에서 열린 제46차 유엔 총회에서 159개 전 회원국이 만장일치로 남북한의 유엔 동시 가입을 승인하였습니다. 남북한의 수락 연설에는, 남과 북이 별개 국가로 유엔에 가입했지만 단합된 협력과 노력으로 평화 통일을 이루자는 내용이 공통적으로 들어 있었습니다. ↳ 노태우 정부



뉴스 속보  
드디어 남북한 유엔 가입

- ① 경제 협력 개발 기구 [OECD] 가입이 이루어졌다. X ↳ 김영삼 정부
- ② 제1차 경제 개발 5개년 계획이 추진되었다. X ↳ 박정희 정부
- ③ 7·4 남북 공동 성명이 발표되었다. X ↳ 박정희 정부
- ④ 남북 기본 합의서가 채택되었다. O ↳ 노태우 정부
- ⑤ 국가 총동원법이 제정되었다. X ↳ 일제강점기

\* 확인 사항

- 답안지의 해당란에 필요한 내용을 정확히 기입(표기)했는지 확인 하시오.



※시험이 시작되기 전까지 표지를 넘기지 마시오.