



## 법과 정치

-2018 ~ 2020 평가원 기출문제

-2020 수능완성 실전 모의고사

제 4 교시

# 사회탐구 영역(법과 정치)

성명  수험 번호

1. 다음은 정치의 의미에 대한 대화이다. 갑, 을의 관점에 대한 옳은 설명을 <보기>에서 고른 것은?

갑: 정치란 정당의 선거 운동, 국회의원의 입법 활동, 대통령의 국무 회의 주재와 같이 정당, 국회, 정부에 관련된 활동들에 한정된다고 생각해.  
 을: 아니야. 우리가 학급 회의를 열어서 체험 활동 장소를 결정하는 것과 같이 공동의 의사 결정을 하는 것도 정치라 할 수 있어.

<보기>

- ㄱ. 갑은 국가 수준에서 정치권력을 획득하고 행사하는 것을 정치라고 본다.
- ㄴ. 을은 개인이나 집단 수준에서 발생하는 다양한 이해관계를 조정하여 사회 질서를 유지하는 것을 정치라고 본다.
- ㄷ. 갑과 달리 을은 정치가 소수 정치 엘리트들의 독점적인 의사 결정을 통해서 이루어진다고 본다.
- ㄹ. 갑과 을의 관점 모두 국가 형성 이전에 나타난 정치 현상을 설명하기에 적합하다.

- ① ㄱ, ㄴ    ② ㄱ, ㄷ    ③ ㄴ, ㄷ    ④ ㄴ, ㄹ    ⑤ ㄷ, ㄹ

2. 기본권 (가)~(다)에 대한 설명으로 옳은 것은?

지난 시간에 배웠던 인간의 존엄과 가치 및 행복 추구권, 평등권에 이어 이번에는 (가), (나), (다)를 알아볼까요?

학습 주제: 기본권의 종류

기본권	관련 헌법 조항
(가)	제12조 ① 모든 국민은 신체의 자유를 가진다. ... (후략)...
(나)	제25조 모든 국민은 법률이 정하는 바에 의하여 공무 부담권을 가진다.
(다)	제26조 ① 모든 국민은 법률이 정하는 바에 의하여 국가 기관에 문서로 청원할 권리를 가진다.

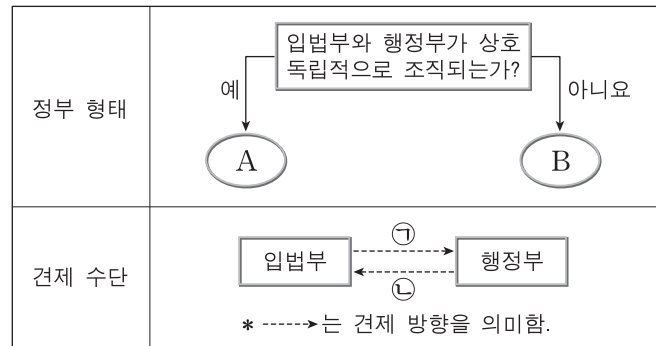
- ① (가)는 능동적이고 적극적인 성격을 가진다.
- ② (나)는 국민 주권주의를 구현하는 수단이 된다.
- ③ (다)는 국가의 개입을 배제하는 방어적 성격을 가진다.
- ④ (가)는 (나)와 달리 현대 복지 국가에서 중시되기 시작했다.
- ⑤ (나)는 (다)와 달리 기본권 보장을 위한 수단적 권리이다.

3. A~C에 대한 설명으로 옳은 것은? (단, A~C는 각각 고대 아테네 민주 정치, 근대 민주 정치, 현대 민주 정치 중 하나이다.) [3점]

A, B는 대의제를 바탕으로 하고 있다는 공통점을 가지고 있는 반면, 정치에 참여할 수 있는 시민의 범위에 차이가 있다. 한편 C는 정치 참여에 있어 신분과 성별 등에 따라 제한을 두었던 점에서 일정 연령 이상의 모든 시민에게 참정권을 부여한 B와는 구별된다.

- ① A에서는 입헌주의 원리를 통해 민주주의를 추구하였다.
- ② B에서는 전쟁, 외교 등 공적 사안을 민회가 결정하였다.
- ③ C에서는 천부 인권 사상을 바탕으로 통치가 이루어졌다.
- ④ C와 달리 A에서는 모든 시민에게 공직 참여 기회가 부여되었다.
- ⑤ A, B 모두에서 보통 선거의 원칙이 확립되었다.

4. 그림은 전형적인 정부 형태 A, B와 견제 수단 ㉠, ㉡을 나타낸 것이다. 이에 대한 옳은 설명을 <보기>에서 고른 것은? (단, A와 B는 각각 대통령제, 의원 내각제 중 하나이다.) [3점]



<보기>

- ㄱ. A에서는 행정부가 법률안 제출권을 가진다.
- ㄴ. A와 달리 B에서는 의회 의원이 각료를 겸직할 수 있다.
- ㄷ. B와 달리 A에서는 국가 원수와 행정부 수반의 권한이 동일인에게 부여된다.
- ㄹ. A에서 ㉠으로는 탄핵 소추권, B에서 ㉡으로는 법률안 거부권이 있다.

- ① ㄱ, ㄴ    ② ㄱ, ㄷ    ③ ㄴ, ㄷ    ④ ㄴ, ㄹ    ⑤ ㄷ, ㄹ

5. 우리나라 헌법 기관 A~D에 대한 설명으로 옳은 것은? [3점]

A는 국가 기관 상호 간, 국가 기관과 지방 자치 단체 간 및 지방 자치 단체 상호 간의 권한 쟁의에 관한 심판 등을 관장한다. A는 법관의 자격을 가진 9인의 재판관으로 구성되며, 재판관은 B가 임명한다. A의 재판관 중 3인은 C에서 선출하는 자를, 3인은 D의 장(長)이 지명하는 자를 임명한다. 그리고 A의 장(長)은 C의 동의를 얻어 재판관 중에서 B가 임명한다.

- ① A는 위헌 법률 심판 제청권을 가진다.
- ② A는 위헌 정당 해산 제소권을 가진다.
- ③ B는 긴급 재정·경제 처분 및 명령권을 가진다.
- ④ C는 국가의 예산안을 편성하고 심의·확정한다.
- ⑤ D는 국정을 감사하거나 조사할 수 있는 권한을 가진다.

6. 그림에 나타난 법치주의를 이해하는 갑, 을의 관점에 대한 옳은 추론을 <보기>에서 고른 것은?



— <보기> —

ㄱ. 갑은 을과 달리 위헌 법률 심사제 도입을 옹호할 것이다.  
 ㄴ. 을은 갑과 달리 법의 실질적 정당성을 중시할 것이다.  
 ㄷ. 을은 갑과 달리 법이 독재자의 통치권을 강화하는 수단으로 사용되는 것을 용인할 것이다.  
 ㄹ. 갑, 을 모두 통치 권력이 형식적 합법성을 갖추어야 한다고 생각할 것이다.

- ① ㄱ, ㄴ    ② ㄱ, ㄷ    ③ ㄴ, ㄷ    ④ ㄴ, ㄹ    ⑤ ㄷ, ㄹ

7. 표는 정치 참여 집단 A~C에 해당되는 단체의 목적 및 활동을 나타낸 것이다. 이에 대한 설명으로 옳은 것은? (단, A~C는 각각 정당, 시민 단체, 이익 집단 중 하나이다.)

구분	목적 및 활동
A	우리는 자유와 정의, 인권과 복지를 실현하고자 자발적인 시민들의 연대를 통해 입법, 행정, 사법에 대한 감시 활동을 한다.
B	우리는 자유·평등·평화를 기본 가치로 지향하며 국민의 삶을 행복하게 만들기 위해 모든 공직 선거에서 후보자를 공천한다.
C	우리는 조합원의 경제적 지위 향상을 도모하기 위해 임금 및 근로 조건을 비롯한 제반 노동 환경을 개선하고자 노력한다.

- ① A는 특정한 분야에서 사적 이익을 추구한다.  
 ② B는 행정부와 의회를 매개하는 역할을 한다.  
 ③ C는 공적 이익을 추구하는 비영리 조직이다.  
 ④ A는 B와 달리 자신들의 행위에 정치적 책임을 진다.  
 ⑤ B는 C와 달리 정치 사회화 기능을 수행한다.

8. 다음 사례에 대한 법적 판단으로 옳은 것은?

갑(19세)은 개를 데리고 공원을 산책하던 중 스마트폰으로 게임을 하느라 개의 목줄을 놓치고 말았다. 이때 잔디밭에서 놀고 있던 을(7세)에게 개가 갑자기 달려들자, 을은 개의 공격을 피할 다른 방법이 없어 길가에 세워둔 병의 자전거와 부딪쳐서 넘어졌다. 이로 인해 병의 자전거가 파손되었고 을은 전치 2주의 부상을 입었다.

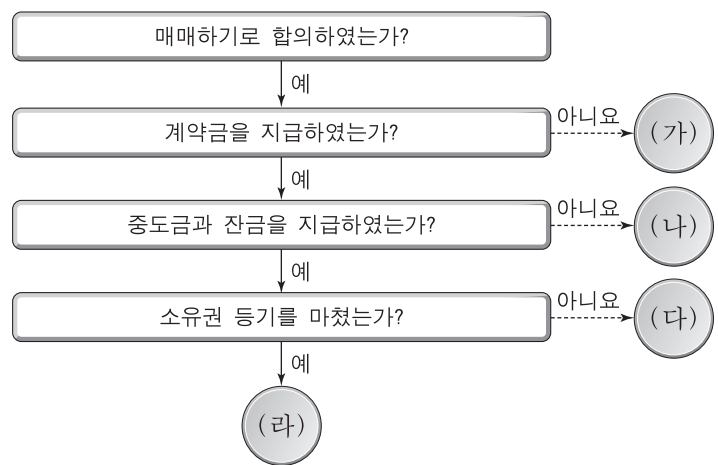
- ① 갑은 병의 자전거 파손에 대해 고의가 없으므로 손해 배상 책임을 지지 않는다.  
 ② 갑이 개의 소유자가 아닌 경우, 갑은 을에게 특수 불법 행위 책임을 지지 않는다.  
 ③ 갑은 을의 부모와 함께 병에게 공동 불법 행위 책임을 진다.  
 ④ 을의 행위는 위법성이 없으므로 을의 부모는 병에게 책임 무능력자의 감독자 책임을 지지 않는다.  
 ⑤ 병은 민사 조정 절차를 거쳐야 재산적 손해에 대한 배상을 받을 수 있다.

9. 우리나라 헌법의 기본 원리 (가), (나)에 대한 설명으로 가장 적절한 것은? [3점]

근대적 의미의 헌법은 국가의 역할을 제한하여 개인의 자유와 권리를 최대한 존중하고 국민의 동의와 지지에 근거한 국가 권력의 행사를 강조하였다. 이를 실현하기 위해 우리나라 헌법은 (가) 을/를 반영하여 기본권 보장, 법치주의 등을 규정하고 있다. 하지만 근대적 의미의 헌법으로는 국가가 빈부 격차를 비롯한 여러 사회 문제에 적극적으로 대처할 수 없다는 한계가 있었다. 그래서 현대적 의미의 헌법은 국민의 생존과 인간다운 생활을 보장하기 위하여 국가의 적극적인 개입을 강조한다. 이를 실현하기 위해 우리나라 헌법은 (나) 을/를 반영하고 있다.

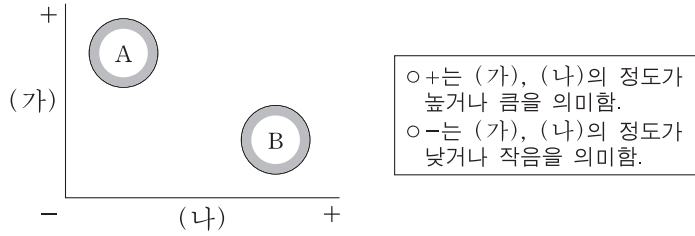
- ① (가)는 남북 분단이라는 현실을 반영한 우리나라 헌법 특유의 원리이다.  
 ② (가)를 실현하기 위해 우리나라는 국제 평화 유지에 노력하고, 침략적 전쟁을 부인하고 있다.  
 ③ (나)를 구현하는 방안으로 우리나라는 국민 기초 생활 보장 제도를 시행하고 있다.  
 ④ (나)에 따라 우리나라 헌법에서는 국가 기관 간 상호 견제와 균형을 유지하도록 규정하고 있다.  
 ⑤ (나)와 달리 (가)는 실질적 평등을 추구함에 있어 근거가 되는 원리이다.

10. 그림은 갑 소유의 A 주택을 을이 매수하는 과정을 나타낸 것이다. 이에 대한 법적 판단으로 옳은 것은? (단, 당사자 사이에 별도의 특별한 약정은 없다.) [3점]



- ① (가)의 경우 갑과 을이 계약서를 작성하지 않았다면 계약이 성립하지 않는다.  
 ② (나)의 경우 갑은 을로부터 받은 계약금의 두 배를 돌려주고 계약을 해제할 수 있다.  
 ③ (다)의 경우 을은 갑에게 지급한 계약금과 중도금을 포기하고 계약을 해제할 수 있다.  
 ④ (다)의 경우 을은 갑에게 잔금을 지급했으므로 A주택의 소유권을 취득한다.  
 ⑤ (라)의 경우 A주택의 등기부 을구에서 소유권자가 을로 변경된다.

11. 그림은 정당 제도 A, B를 비교한 것이다. 이에 대한 옳은 설명을 <보기>에서 고른 것은? (단, A와 B는 각각 양당제, 다당제 중 하나이다.)



가. (가)가 '다양한 민의 반영 용이성'이라면, B는 다당제이다.  
 나. (나)가 '다수당의 횡포가 나타날 가능성'이라면, A는 다당제이다.  
 다. A가 양당제라면, (가)에는 '군소 정당 난립 가능성'이 들어갈 수 있다.  
 르. B가 양당제라면, (나)에는 '정치적 책임 소재의 명확성'이 들어갈 수 있다.

- ① 가, 나    ② 가, 다    ③ 나, 다    ④ 나, 르    ⑤ 다, 르

12. 다음 자료에 대한 분석으로 옳은 것은? [3점]

현재 갑국의 의회는 5개의 선거구에서 선출된 지역구 의원으로만 구성된다. 각 정당은 선거구별로 한 명의 후보자만 공천하며, 유권자는 자신의 지역구 후보 중 한 명에게만 투표한다. 그리고 선거구별 선출 의원 수는 같다. 갑국은 현재의 선거구 수는 유지하되 현행 선거구제인 [가]를 [나]로 변경하고자 한다. 이 경우 [가]로는 갑국에서 한 정당이 지역구 전체 의석의 과반수를 확보할 수 없었지만, [나]에서는 가능하다. 더불어 선거구제 변경과 함께 각 정당의 지역구 후보들이 선거구 전체에서 얻은 득표율에 비례하여 의석을 배분하는 제도를 도입하여 비례 대표 10석을 추가하려 한다. 이와 같이 갑국이 선거 제도를 변경하면 의회 전체 의석수는 변경 전 의석수의 1.5배가 된다. 선거 제도 변경 안은 제10대 의회 의원 선거에서부터 시행하고자 한다. 아래 표는 현행 선거 제도로 실시된 제9대 의회 의원 선거에서의 정당 후보별 득표율을 나타낸 것이다.

(단위: %)

구분	A당 후보	B당 후보	C당 후보	D당 후보
선거구 1	30	35	25	10
선거구 2	30	45	10	15
선거구 3	40	20	30	10
선거구 4	25	40	28	7
선거구 5	75	10	7	8

\* 모든 선거구의 유권자 수와 투표율은 동일하다.  
 \*\* 선거 제도 변경 후에도 정당 공천 후보 수와 유권자 투표 방식은 동일하다.

- ① (가)는 (나)에 비해 사표가 많이 발생하여 득표율과 의석률의 불일치가 심하다.
- ② (나)는 (가)와 달리 선거구 내 당선자 간 표의 등가성 문제가 발생한다.
- ③ 제9대 선거 결과, B당은 과대 대표되었지만 C당은 과소 대표되었다.
- ④ 갑국이 도입하고자 하는 비례 대표 배분 방식은 평등 선거 원칙에는 위배되지만 직접 선거 원칙에는 위배되지 않는다.
- ⑤ 선거 제도 변경 안을 제9대 선거 결과에 적용한다면, A당과 B당의 의석수는 동석이 된다.

13. 다음 사례에 대한 법적 판단으로 옳은 것은? [3점]

고등학생 갑(17세)이 부모(법정 대리인)의 동의 없이 전자 대리점에서 고가의 노트북을 주문하였고, 대리점 사장 을은 갑이 미성년자임을 알면서도 판매하였다. 다음 날 갑의 동갑내기 이성 친구 병은 갑으로부터 그 노트북을 선물로 받았다.

- ① 갑은 미성년자임을 이유로 을과의 계약을 취소할 수 없다.
- ② 갑의 부모는 갑의 동의가 없으면 을과의 계약을 취소할 수 없다.
- ③ 갑의 부모는 갑이 병에게 노트북을 준 행위를 갑의 동의 없이 취소할 수 없다.
- ④ 갑이 부모의 동의 없이 구매하였으므로 을은 먼저 판매 의사 표시를 철회할 수 있다.
- ⑤ 을은 미성년자인 갑에게는 계약을 취소할 것인지의 확인을 요구할 수 없다.

14. 다음 사례에 대한 옳은 법적 판단만을 <보기>에서 있는 대로 고른 것은?

갑은 A와 이혼을 하였고 혼인 중에 출생한 딸 B(9세)는 A가 키우기로 하였다. 갑은 을과 재혼을 하였고 남자 아이 병(14세)을 합법적인 절차에 의해 입양하였다. 이듬해 갑은 퇴근하던 중 교통사고로 사망하였다. 사망 당시 갑은 채무 없이 자신 명의의 집을 남겼으며, 별도의 유언은 없었다.

\* 위 사례의 혼인은 모두 법률혼임.

가. 갑의 B에 대한 면접 교섭권은 재혼으로 상실된다.  
 나. 을이 상속을 포기하더라도 A는 갑의 재산을 상속받지 못한다.  
 다. 병은 단독으로 상속을 포기할 수 있다.  
 르. B와 병은 갑의 재산에 대해 동순위로 상속받는다.

- ① 가, 나    ② 가, 다    ③ 나, 르
- ④ 가, 다, 르    ⑤ 나, 다, 르

15. (가)에 대한 옳은 설명만을 <보기>에서 있는 대로 고른 것은?

법은 전통적으로 공법(公法)과 사법(私法)으로 분류되어 왔다. 공법은 국가 권력이 지배하는 정치적 생활 관계를 규율하는 반면, 사법은 사적 자치의 원칙에 근거하여 개인 간의 생활 관계를 규율한다. 하지만 자본주의 발전 과정에서 발생하는 사회 문제를 해결하기 위해 새로운 제3의 법 영역으로 [가]이 등장하였다.

가. 대표적으로 노동법, 경제법, 사회 보장법이 있다.  
 나. 실질적 평등보다는 형식적 평등을 추구하는 법이다.  
 다. 사법(私法)의 영역에 공법적 규제를 가하는 것을 내용으로 한다.  
 르. 국가 권력으로부터 사회·경제적 약자를 보호하기 위해 등장하였다.

- ① 가, 나    ② 가, 다    ③ 나, 르
- ④ 가, 다, 르    ⑤ 나, 다, 르

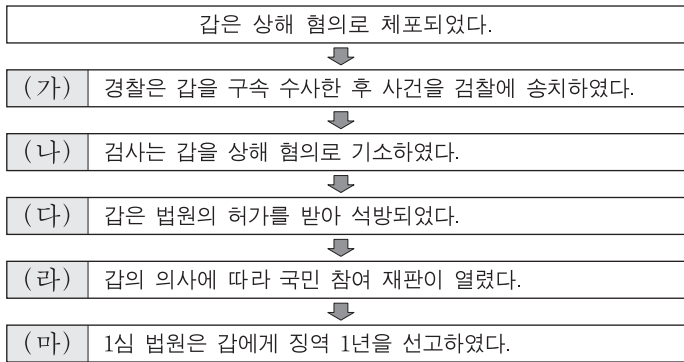
16. (가)에 대한 옳은 설명만을 <보기>에서 있는 대로 고른 것은?

국가 권력이 형벌권을 자의적으로 행사한다면 시민의 자유와 권리가 심각하게 침해되므로 국가 형벌권의 남용을 방지하기 위하여 형법의 기본 원리인 [가]이/가 등장하게 되었다. [가]은/는 근대에는 "법률이 없으면 범죄도 없고, 형벌도 없다."라는 말로 표현되었다. 그러나 오늘날에는 법률의 내용까지도 정의로워야 한다는 의미에서 "적정한 법률이 없으면 범죄도 없고, 형벌도 없다."라고 표현된다.

- <보기> —
- ㄱ. 형법의 보장적 기능을 수행하기 위해 필요한 원리이다.
  - ㄴ. 일반 시민에게 적용되나 범죄인에 대해서는 적용되지 않는다.
  - ㄷ. 사회적으로 큰 비난을 받는 행위라도 관습에 의해 처벌할 수 없다는 원칙을 포함한다.
  - ㄹ. 법률에 규정이 없는 사항에 대해서는 그것과 유사한 규정을 적용하여 처벌해서는 안 된다는 원칙을 포함한다.

- ① ㄱ, ㄴ                      ② ㄴ, ㄹ                      ③ ㄷ, ㄹ
- ④ ㄱ, ㄴ, ㄷ                ⑤ ㄱ, ㄷ, ㄹ

17. (가)~(마) 단계에 대한 법적 판단으로 옳은 것은? [3점]




- ① (가) 단계 이전에 검사가 발부한 구속 영장이 필요하다.
- ② (가)와 (나) 단계 사이에는 진술 거부권이 인정되나 (나) 단계 이후에는 인정되지 않는다.
- ③ (나)와 (다) 단계 사이에서 갑은 구속 적부 심사 제도를 활용하였다.
- ④ (라) 단계에서 민법상 성년인 19세 시민은 배심원으로 선정될 수 있다.
- ⑤ (마) 단계 이후 판결이 확정되었다면 검사의 지휘에 따라 형이 집행된다.

18. (가)~(다)에 대한 설명으로 옳은 것은?

국제법의 법원에 대해 알아보시다.

국제법의 법원(法源)

- (가) 국가 간에 체결한 법적 구속력을 가진 약속
- (나) 문명국들이 공통적으로 승인하여 따르는 법의 보편적인 원칙
- (다) 반복적인 관행이 국제 사회에서 법 규범으로 승인되어 효력을 가지게 된 것
- ⋮



- ① (가)는 우리나라에서 대통령이 체결하고 국회가 비준한다.
- ② (나)의 예로 신의 성실의 원칙, 권리 남용 금지의 원칙을 들 수 있다.
- ③ (다)는 당사국 간 명시적인 수용 절차를 거쳐야만 성립된다.
- ④ (나)와 달리 (가)는 우리나라에서 헌법과 동등한 지위를 가진다.
- ⑤ (가)와 (다)는 우리나라에서 국회의 동의가 있어야만 법적 효력을 가진다.

19. 다음 사례에서 범죄 성립에 대한 옳은 법적 판단만을 <보기>에서 있는 대로 고른 것은? [3점]

- 경찰관 갑은 범죄 현장에서 적법한 절차에 따라 강도를 체포하였다.
- 을은 강풍에 의해 간판이 머리 위로 떨어지자 이를 달리 피할 방도가 없어 남의 집 안으로 뛰어 들어갔다.
- 평소 심신 장애로 인하여 사물을 변별할 능력이 없는 병이 아무런 이유 없이 지나가는 행인을 폭행하였다.
- 고등학생 정(17세)은 친구 A의 동의하에 A의 아버지 소유의 자전거를 훔쳤다.

- <보기> —
- ㄱ. 갑의 행위는 구성 요건에 해당되지 않는다.
  - ㄴ. 을의 행위는 구성 요건에 해당되나 위법성이 조각된다.
  - ㄷ. 병의 행위는 구성 요건에 해당되고 위법성은 인정되나 책임이 조각된다.
  - ㄹ. 정은 행위는 구성 요건에 해당되고 위법성과 책임이 모두 인정된다.

- ① ㄱ, ㄴ                      ② ㄱ, ㄷ                      ③ ㄷ, ㄹ
- ④ ㄱ, ㄴ, ㄹ                ⑤ ㄴ, ㄷ, ㄹ

20. 국제 사회를 바라보는 관점 A, B에 대한 추론으로 가장 적절한 것은? [3점]

관점	관점을 뒷받침하는 사례
A	갑국과 영토권 분쟁을 빚고 있는 지역에 을국이 자국의 이익만을 고려하여 군대를 파견하였다. 그리고 을국은 "군대를 파견한 것은 해당 지역에 대한 정당한 주권 행사이며, 향후 추가 파견을 통해 실질적인 지배권을 확보하겠다."라고 발표했다. 갑국은 이에 대응하여 을국에 선전 포고를 하였다.
B	병국은 해상 경계선 문제로 국제 사법 재판소에 정국을 제소하였다. 국제 사법 재판소는 정국의 주권을 80해리까지로 제한한다고 판결하였다. 이에 대해 정국은 "국제 규범과 국제법을 따르는 국가로서 국제 사법 재판소의 판결을 존중하며 이를 따르겠다."라고 발표했고, 병국 역시 동일한 입장을 밝혔다.

- ① A는 국제법을 통해 국가 간 분쟁이 평화롭게 해결될 수 있다고 볼 것이다.
- ② A는 국제 사회가 무정부 상태에 가깝기 때문에 국가 스스로 안보를 지켜야 한다고 볼 것이다.
- ③ B는 국제 사회에서 국가들이 이기적 행위자이기 때문에 국가 간 협력은 불가능하다고 볼 것이다.
- ④ A는 B와 달리 국제기구를 통해 국제 사회에서 협력을 이룰 수 있다고 볼 것이다.
- ⑤ B는 A와 달리 국제 사회에서 국가 간 힘의 균형을 중요시하고 이를 통해 전쟁이 억제된다고 볼 것이다.

\* 확인 사항  
○ 답안지의 해당란에 필요한 내용을 정확히 기입(표기)했는지 확인 하시오.

제 4 교시

# 사회탐구 영역(법과 정치)

성명		수험 번호							
----	--	-------	--	--	--	--	--	--	--

1. (가), (나)는 민주 정치 형태에 관한 주장이다. 이에 대한 설명으로 옳은 것은?

(가) 국민 모두가 대부분의 결정에 직접 참여하는 것은 불가능하고, 국민이 직접 참여하여 결정한 결과가 반드시 옳은 것도 아니다. 따라서 국민은 능력과 자격을 갖춘 대표를 선출하고 대표로 하여금 다양한 이해관계를 조정하며 공익을 추구하는 결정을 하도록 믿고 맡기는 것이 바람직하다.

(나) 국민이 대표만 직접 선출하고 중대 사안의 결정을 대표에게만 맡기는 것은 부당하다. 대표가 국민의 의사를 제대로 반영하지 못하기도 하고, 국민 대다수가 방관자로 남기 때문이다. 따라서 국민이 직접 참여하여 결정하는 다양한 제도를 시행해야 한다.

- ① 국민 투표는 (가)에서 유래한 제도이다.
- ② (가)는 대표의 정치적 전문성을 중시한다.
- ③ (나)는 엘리트 정치를 옹호한다.
- ④ (나)는 다수결의 원리를 반대한다.
- ⑤ (가), (나) 모두 대표가 국민 의사를 반영하는 원리를 불신한다.

2. 법치주의 (가), (나)에 대한 옳은 설명을 <보기>에서 고른 것은?

(가) 법치주의란 '실정법률에 의한 지배'이다. 따라서 형식적인 절차에 의해 국가가 제정한 실정법이라면 법 그 자체의 내용에 대한 판단은 내리지 않으며, 그에 따른 통치는 정당하다.

(나) 법치주의란 '민주주의적 가치와 정의의 요청을 충족하는 법의 지배'이다. 따라서 의회에서 심의되고 결정된 것을 인간의 존엄성과 가치를 존중하는 헌법 이념에 비추어서 심사할 수 있는 헌법재판제도는 법치주의의 중요한 장치이다.

— <보기> —

ㄱ. (가)에서는 법적 절차와 형식 준수가 강조된다.

ㄴ. (나)에서는 정치권력에 대한 법의 우위성 여부가 통치자에 의해 결정된다.

ㄷ. (가)와 달리 (나)는 통치 행위의 합법성뿐만 아니라 실질적 정당성까지 중시한다.

ㄹ. (나)와 달리 (가)는 국민의 기본권 제한에 대한 법적 근거의 필요성을 인정한다.

- ① ㄱ, ㄴ    ② ㄱ, ㄷ    ③ ㄴ, ㄷ    ④ ㄴ, ㄹ    ⑤ ㄷ, ㄹ

3. 다음 근대 정치 사상가의 주장에 대한 설명으로 옳지 않은 것은?

자연 상태에서 개인들은 누구나 자신이 원하는 것을 행할 수 있기 때문에 언제나 서로 생존을 위협하고 투쟁하는 전쟁 상태에 처해 있다. 개인들은 이러한 상태를 끝내고 자신을 보존하기 위해 자연 상태에서 행사했던 자연권을 스스로 양도하는 계약을 맺어 국가를 설립한다.

- ① 국가가 부재한 가상의 상태를 설정하고 국가 질서의 필요성을 역설한다.
- ② 자연 상태를 개인들이 갈등을 평화적으로 해결할 수 없는 상태로 묘사한다.
- ③ 국가의 역할을 평화와 안전을 보장하는 데에 두고 군주의 절대적 지배를 옹호한다.
- ④ 자연 상태에서 생존을 위협하는 공포와 불안을 개인이 사회 계약을 맺게 되는 동기로 본다.
- ⑤ 개인이 자연 상태에서의 자연권을 양도하는 것은 개인보다 국가를 우선시하는 데에서 비롯된다고 본다.


4. 교사의 질문에 대한 옳은 답변을 <보기>에서 고른 것은? [3점]

※ 학습 목표  
우리나라 정부 형태의 특징을 설명할 수 있다.

※ 학습 주제  
전형적인 정부 형태 A, B와 우리나라 정부 형태의 특징

- 정부 형태 A
  - 국민의 선거에 의한 입법부 구성
  - 입법부에 책임을 지는 행정부
- 정부 형태 B
  - 국민의 선거에 의한 입법부 구성과 국민의 선거에 의한 행정부 수반 선출
  - 입법부와 독립적인 행정부

우리나라 정부 형태에서 A, B에 해당하는 요소에는 어떤 것이 있을까요?



— <보기> —

ㄱ. 국회의원이 국무위원을 겸직할 수 있는 것은 A의 요소입니다.

ㄴ. 행정부 수반과 국가 원수가 동일인인 것은 B의 요소입니다.

ㄷ. 행정부의 법률안 거부권은 A, 행정부의 법률안 제출권은 B의 요소입니다.

ㄹ. 국무총리를 두는 것은 A, B 모두의 요소입니다.

- ① ㄱ, ㄴ    ② ㄱ, ㄷ    ③ ㄴ, ㄷ    ④ ㄴ, ㄹ    ⑤ ㄷ, ㄹ

5. 다음 자료에 대한 설명으로 옳은 것은? (단, A~D는 각각 국회, 대법원, 정부, 헌법재판소 중 하나이다.) [3점]

- A는 국정 감사권 및 조사권을 통해 B를 견제한다.
- C의 장(長)은 A의 동의를 얻어 임명된다.
- 정당의 목적이나 활동이 민주적 기본 질서에 위배될 때 B는 D에 그 해산을 제소할 수 있다.
- C는 D에 (가)을/를 행사할 수 있다.

- ① A는 국가 및 법률이 정한 단체의 회계를 검사한다.
- ② B는 국가의 예산안을 심의하고 확정한다.
- ③ C는 국가 기관 상호 간 권한 쟁의 심판을 담당한다.
- ④ D는 국회의원 선거 소송을 담당한다.
- ⑤ (가)에는 '위헌 법률 심판 제청권'이 적절하다.

6. 표에 대한 옳은 분석 및 추론을 <보기>에서 고른 것은?

<갑국의 의회 의원 선거 결과>

구분	t 대				t+1 대			
	A	B	...	합계	A	B	...	합계
정당								
의석률(%)	30	31	...	100	52	43	...	100

\* t대와 t+1대에서 의석을 차지한 정당의 수는 각각 4개이며, 무소속 의원은 없음.  
 \*\* 갑국은 전형적인 의원 내각제를 채택하고 있음.

<보기>

- ㄱ. t대는 t+1대에 비해 정국이 안정적으로 운영되었을 가능성이 높다.
- ㄴ. t+1대는 t대에 비해 정당의 정치적 책임 소재가 명확할 것이다.
- ㄷ. t+1대는 t대에 비해 국민의 다양한 의사가 정책에 반영될 기회가 많아질 것이다.
- ㄹ. t대에서는 t+1대와 달리 연립 내각을 구성하는 것이 필요했을 것이다.

- ① ㄱ, ㄴ    ② ㄱ, ㄷ    ③ ㄴ, ㄷ    ④ ㄴ, ㄹ    ⑤ ㄷ, ㄹ

7. 밑줄 친 '입법 청원의 새로운 방법'의 기대 효과로 가장 적절한 것은?

입법 청원의 새로운 방법

국회법에 의하면 국민은 의원의 소개를 얻어 국회에 청원서를 제출할 수 있다. 국민의 뜻을 반영하려는 방식을 법률로 보장한 것이다. 제19대 국회에서는 227건의 청원이 있었으나 본회의에서 채택된 것은 2건뿐이었다. 국민의 목소리가 제대로 전달되지 않는 국회의 모습을 어떻게 변화시킬 수 있을까? 이를 고민하던 ○○연구소는 국민들이 인터넷을 이용하여 입법안을 제출할 수 있는 사이트를 개설했다. 누구든지 이 사이트에 가입하여 입법을 제안할 수 있다. 만약 입법안이 1천 명 이상의 지지를 받게 되면 국회의 해당 상임 위원회 의원에게 전달된다. 현재까지 이 사이트를 통해 제안된 법안은 크게 증가하였고, 이 가운데 상당 건은 입법 실행 단계에 있다. 국회의원들도 적극적이었다. 이 방법은 법안을 쉽게 제안할 수 있어 입법 청원에 더 많은 국민이 참여할 것으로 기대된다.

- ① 정부에서 제출하는 입법안이 증가할 것이다.
- ② 입법 과정에서 국회의 전문성이 강화될 것이다.
- ③ 국민 여론이 특정 분야에 집중되는 데 기여할 것이다.
- ④ 국민의 알 권리를 충족시키며 하향식 의사 결정이 증가할 것이다.
- ⑤ 국민의 정치 참여 접근성이 높아지고 투입 기능이 활성화될 것이다.

8. 밑줄 친 ㉠, ㉡에 대한 설명으로 옳은 것은?

- 헌법재판소는 4급 이상 공무원이 신고한 병역 사항의 내용 중 병역 면제의 근거인 질병명이 관보와 인터넷에 예외 없이 공개되도록 규정한 공직자 관련 법령이 4급 이상 공무원의 ㉠기본권을 침해한다고 결정하였다.
- 헌법재판소는 이의 신청 및 심사 청구를 거치지 않으면 지방세 부과 처분에 대하여 행정소송을 제기할 수 없도록 한 지방세법 규정이 지방세 납세 의무자의 ㉡기본권을 침해한다고 결정하였다.


- ① ㉠은 헌법에 열거되지 않아도 보장받을 수 있는 포괄적 권리이다.
- ② ㉠은 기본권이 침해되었을 때 이를 구제받기 위한 수단적 권리이다.
- ③ ㉡은 국가의 정치 과정에 적극적으로 참여할 수 있는 권리이다.
- ④ ㉠은 ㉡과 달리 인간다운 생활을 국가에 요구할 수 있는 적극적 권리이다.
- ⑤ ㉡은 ㉠과 달리 국가의 간섭을 받지 않을 소극적 권리이다.

9. 우리나라 헌법의 기본 원리 (가), (나)에 대한 설명으로 옳은 것은? [3점]

구분	관련 법률
(가)	<b>국민연금법</b> 제1조(목적) 이 법은 국민의 노령, 장애 또는 사망에 대하여 연금 급여를 실시함으로써 국민의 생활 안정과 복지 증진에 이바지하는 것을 목적으로 한다.
(나)	<b>문화재보호법</b> 제1조(목적) 이 법은 문화재를 보존하여 민족 문화를 계승하고, 이를 활용할 수 있도록 함으로써 국민의 문화적 향상을 도모함과 아울러 인류 문화의 발전에 기여함을 목적으로 한다.

- ① (가)의 실현을 위해 국가는 경제에 관한 규제와 조정을 할 수 있다.
- ② (가)의 실현을 위해 국가는 개인의 재산권을 실질적으로 보장하고 간섭을 최소화해야 한다.
- ③ (나)의 실현을 위해 북한 주민에 대한 인도적 지원을 하고 있다.
- ④ (나)의 실현을 위해 상호주의 원칙에 따라 외국인의 지위를 보장하고 있다.
- ⑤ (가)와 달리 (나)의 실현을 위해서는 국가의 적극적인 역할이 요구된다.

10. 그림의 (가)에 들어갈 옳은 법적 조언을 <보기>에서 고른 것은? [3점]



<보기>

- ㄱ. 차용증에 집행력 있는 공증을 미리 받아 두었어야 차용증의 법적 효력이 있어요.
- ㄴ. 을에게 내용 증명 우편을 보내서 채무의 이행을 촉구할 수 있어요.
- ㄷ. 소송을 제기하기 전에 을의 재산에 대한 가압류를 통해 채권을 보전할 수 있어요.
- ㄹ. 이 사건은 소액 사건 심판 대상이 아니기 때문에 민사 조정으로 해결할 수 있어요.

- ① ㄱ, ㄴ    ② ㄱ, ㄷ    ③ ㄴ, ㄷ    ④ ㄴ, ㄹ    ⑤ ㄷ, ㄹ

11. 다음 자료에 대한 법적 판단으로 옳은 것은? [3점]

소 장

원고: 갑 / 피고: 을

청구 취지  
(생략)  
청구 원인

1. 원고는 식사를 하기 위해 피고가 운영하는 ○○식당에 방문한 손님이고, 피고는 ○○식당을 운영하는 자입니다. 병은 피고가 고용한 종업원으로 주로 손님의 자동차를 주차하는 일을 하고 있습니다.

2. 병은 원고로부터 원고 소유의 자동차 키를 받아서 주차하던 중 자동차 범퍼를 파손하여 3백만 원 상당의 손해를 가하였습니다. …(중략)…

3. 이에 원고는 피고에게 손해배상금을 지급받기 위해 이 사건의 소를 청구 합니다.

- ① 갑은 병에게 손해배상책임을 물을 수 없기 때문에 위 소장을 제출하는 것이다.
- ② 위 소장은 갑이 을에게 사용자의 배상책임을 묻는 것이다.
- ③ 병에게 과실이 있더라도 고의가 없다면 을은 갑에게 불법행위 책임을 지지 않는다.
- ④ 병의 행위가 업무와 관련이 없어도 을은 불법행위책임을 진다.
- ⑤ 갑이 승소하면 을은 파손된 범퍼를 원상회복해야 한다.

12. 다음 사례에 대한 법적 판단으로 옳은 것은? [3점]

퇴근 후 불법 사실 도박 사이트에 접속해 불법 도박을 했다는 이유로 해고 처분된 갑은 중앙노동위원회 위원장을 상대로 소송을 제기했다. 해당 재판부는 선고를 내리면서 “사생활에서의 비행이 정당한 징계 사유가 되려면 사업 활동에 직접 관련이 있는 행위이거나 기업의 사회적 평가를 훼손할 우려가 있는 행위여야 한다. 이런 기준을 적용한다면 갑의 행위가 회사의 사회적 평가에 악영향을 미칠 정도로 볼 수 없으므로 해고 처분은 징계 재량권을 남용한 것으로 보아야 한다.”라고 그 이유를 제시하였다. 이에 불복한 당사자는 항소하였다.

- ① 갑은 민사 소송을 제기하였다.
- ② 갑이 제기한 소송은 노동조합도 제기할 수 있다.
- ③ 사용자의 부당 노동 행위 여부가 재판의 쟁점이 되었다.
- ④ 해고 처분의 정당성에 대해 중앙노동위원회와 재판부가 동일하게 판단하였다.
- ⑤ 중앙노동위원회의 재심 절차와 관계없이 갑이 제기한 소송은 3심제가 적용된다.

13. 국제 사회를 바라보는 갑, 을의 관점에 대한 옳은 설명을 <보기>에서 고른 것은? [3점]

갑: 대기 환경오염은 특정 국가만의 문제가 아니라 인류 공동의 문제입니다. 이러한 문제는 개별 국가들이 자신의 이해관계를 넘어서서 국제 규범을 통해 평화적으로 해결해야 합니다.

을: 하지만 국가마다 자국만의 산업발전을 중시하기 때문에 대기 환경오염이 불가피하게 발생합니다. 이렇듯 각국이 자국의 이익을 배타적으로 관철하려는 것이 국제 사회의 현실입니다. 그렇기 때문에 단순히 규범으로 문제를 해결하는 데에는 한계가 있습니다.

< 보 기 >

- ㄱ. 갑의 관점은 국제 사회가 힘의 논리에 의해 지배된다고 본다.
- ㄴ. 을의 관점은 국제 사회가 인류의 보편적 가치를 추구한다고 본다.
- ㄷ. 갑의 관점은 을과 달리 국제 협력을 통한 국제 문제의 해결을 중시한다.
- ㄹ. 을의 관점은 갑과 달리 국가 간 동맹을 통한 세력 균형이 자국의 안보를 보장한다고 본다.

- ① ㄱ, ㄴ    ② ㄱ, ㄷ    ③ ㄴ, ㄷ    ④ ㄴ, ㄹ    ⑤ ㄷ, ㄹ

14. 다음 사례에 대한 법적 판단으로 옳은 것은?

2016년 7월 5일, 갑과 을은 보증금 1억 원, 임대차 기간 1년으로 하는 주택 임대차 계약을 체결하였다. 을은 2016년 7월 14일에 이사를 하면서 전입신고를 함과 동시에 확정 일자를 받았다. 임대차 계약이 만료되기 1개월 전, 을은 임차한 주택의 등기 사항 전부 증명서에서 아래의 내용을 확인하였다.

【갑 구】				
순위 번호	등기 목적	접수	등기 원인	권리자 및 기타사항
1	소유권 보존	2015년 3월 3일 제○○○○호		소유자 갑 (이하 생략)
2	소유권 이전	2017년 5월 12일 제○○○○호	---	소유자 병 (이하 생략)

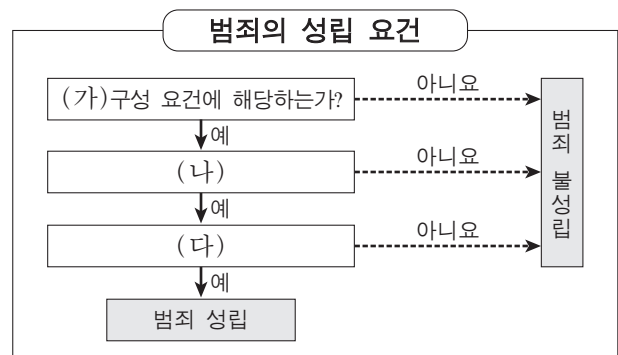
  

【을 구】				
순위 번호	등기 목적	접수	등기 원인	권리자 및 기타사항
1	저당권 설정	2016년 10월 6일 제○○○○호	---	저당권자 정 (이하 생략)

- ① 갑이 병에게 주택을 매도할 당시 임차인 을의 동의가 필요했다.
- ② 을은 임대차 계약 종료 후 갑에게 보증금의 반환을 청구해야 한다.
- ③ 을은 2017년 5월 12일에 병과 새로운 내용의 임대차 계약을 체결하여야 했다.
- ④ 임차한 주택이 경매될 경우 을은 정보보다 우선하여 보증금을 변제받을 수 있다.
- ⑤ 을은 임대차 기간이 2년으로 간주되어 계약 기간 1년이 유효함을 주장할 수 없다.

15. 밑줄 친 ㉠에 대한 근거로 옳은 것은? [3점]

갑(14세)은 하갯길에 갑자기 자신에게 달려오는 오토바이를 피하려다 지나가는 행인과 부딪쳐 경미한 상해를 입혔다. 이후 다친 행인이 갑에게 형사 책임을 지우려 하자 갑의 아버지는 변호사를 찾아가 상담을 요청하였다. 이에 변호사는 다음 그림을 이용하여 갑의 행위는 ㉠ 범죄가 성립하지 않는다고 설명하였다.



- ① (가)단계에서 고의나 과실이 없기에 범죄가 불성립된다.
- ② (나)단계에서 정당방위로 범죄가 불성립된다.
- ③ (나)단계에서 긴급 피난으로 범죄가 불성립된다.
- ④ (다)단계에서 형사 미성년자로 범죄가 불성립된다.
- ⑤ (다)단계에서 저항할 수 없는 폭력에 의해 강요된 행위로 범죄가 불성립된다.

16. 다음 사례에 대한 법적 판단으로 옳은 것은?

갑은 고속도로에서 인접 차량의 운전자 을과 시비가 붙어 을의 차량에 위협을 가하는 보복 운전을 하여 을에게 상해를 입혔다. ㉠ 형사 법규 위반 혐의로 구속된 상태에서 수사를 받던 갑은 ㉡ 구속 적부심을 신청하였지만 기각되었다. 이후 검사는 갑이 형사 법규를 위반한 것으로 판단하고 ○○지방법원에 [A] 을/를 하였다. 이로 인해 공판 절차가 진행되었으며, 재판부는 갑에게 [B] 을/를 선고하였다.

- ① 재판 중 ㉠이 개정되어 처벌 규정이 강화되더라도 갑은 행위시의 법률을 적용받는다.
- ② ㉡으로 인해 갑은 피고인으로 신분이 바뀐다.
- ③ 갑은 A 이전에 보증금을 납부한 후 석방을 신청할 수 있다.
- ④ 을은 갑의 유·무죄와 관계없이 A 이후 공판 과정에서 배상 명령 제도를 통해 배상받을 수 있다.
- ⑤ B가 선고유예라면 갑은 형사 보상을 청구할 수 있다.

17. A~C에 대한 법적 판단으로 옳은 것은? [3점]

어려서 부모를 모두 여윈 갑은 을과 결혼식을 올린 후 유일한 혈육인 동생 병과 같이 살고 있었다. 얼마 전 갑은 “모든 재산 5억 원을 ○○재단에 기부한다.”라는 내용의 유언장을 남기고 채무 없이 사망하였다. 갑은 을과의 사이에 자녀가 없다. 그림의 A~C는 상황에 따른 상속의 경우를 나타낸 것이다.

```

    graph TD
      Q1{갑과 을은 혼인 신고를 하였는가?}
      Q2{갑의 유언장은 법적으로 유효한가?}
      A[A]
      B[B]
      C[C]
      Q1 -- 아니요 --> A
      Q1 -- 예 --> B
      Q1 -- 예 --> C
      Q2 -- 아니요 --> A
      Q2 -- 예 --> B
      Q2 -- 아니요 --> C
  
```

- ① A의 경우 을은 갑의 재산을 상속받을 수 있다.
- ② B의 경우 병은 ○○재단을 상대로 유류분에 대한 반환을 청구할 수 있다.
- ③ C의 경우 을은 병이 상속받게 될 상속액의 50%를 가산하여 상속받는다.
- ④ A의 경우 병의 상속액과, C의 경우 을의 상속액은 동일하다.
- ⑤ C와 달리 B의 경우 을의 법정 상속권이 인정되지 않는다.

18. 표는 국제법의 법원(法源) A~C를 질문에 따라 구분한 것이다. 이에 대한 설명으로 옳지 않은 것은? (단, A~C는 각각 조약, 국제 관습법, 법의 일반 원칙 중 하나이다.)

질문	A	B	C
국가 간에 체결한 법적 구속력을 가진 약속입니까?	아니요	아니요	예
문명국들이 공통적으로 승인하여 따르는 법의 보편적 원칙입니까?	예	아니요	아니요
(가)	아니요	예	아니요

- ① A에는 신의 성실의 원칙, 권리 남용 금지의 원칙 등이 있다.
- ② B는 국제 사회에서의 관행이 규범화된 것이다.
- ③ C는 우리나라의 경우 대통령이 비준권을 행사한다.
- ④ A~C 모두 국제 사법 재판소의 재판 준거가 된다.
- ⑤ (가)에는 ‘국내에서 효력이 발생하려면 별도의 입법 절차가 필요합니까?’가 들어갈 수 있다.

19. (가)에 대한 옳은 설명을 <보기>에서 고른 것은?

○○신문 2017년 ○월 ○일

시장에서 과도한 경제력의 집중을 방지하고 불공정거래행위를 규제하기 위한 ‘독점 규제 및 공정 거래에 관한 법률’이 마련되어 있다. 이 법률에 근거하여 최근 음식 가격 인상으로 논란이 컸던 대형 프랜차이즈 회사들에 대해 (가)의 조사가 시작되었다. (가)은/는 이 회사들이 음식 가격 인상과 함께 가맹점으로부터 광고비 분담 명목으로 일정액을 받기로 한 것이 가맹사업법 위반 및 과징금의 부과 대상에 해당되는지 살펴볼 예정이다.

— < 보기 > —

- ㄱ. 시장 지배적 지위의 남용 여부를 조사할 권한을 가진 기관이다.
- ㄴ. 사법적 영역에 대해 공법적 규제를 가할 권한을 가진 기관이다.
- ㄷ. 경제적으로 어려운 국민을 보호하기 위하여 소송 대리 등의 법률 구조를 하는 기관이다.
- ㄹ. 소비자의 피해를 구제하기 위해 피해 보상에 대한 합의를 권고하고 분쟁을 조정하는 기관이다.

- ① ㄱ, ㄴ    ② ㄱ, ㄷ    ③ ㄴ, ㄷ    ④ ㄴ, ㄹ    ⑤ ㄷ, ㄹ

20. 다음 자료에 대한 옳은 분석을 <보기>에서 고른 것은? [3점]

갑국은 현재 5개 선거구에서 선거구마다 최다 득표자 1인을 의회 의원으로 선출한다. 갑국은 차기 선거를 앞두고 현행 제도를 변경할 예정이며, 다음과 같은 두 가지 안을 검토하고 있다.

- <1안> 선거구 1~3, 선거구 4~5를 통합하여 두 개의 선거구를 만들며 의원 정수는 각각 3석과 2석으로 함.
- <2안> 선거구 모두를 통합하여 한 개의 선거구로 만들며 의원 정수는 5석으로 함.

두 안 모두 의석 할당 정당의 득표 비율에 선거구별 의원 정수를 곱하여 산출된 수의 정수(整数)만큼 정당의 의석으로 배분한다. 이후 잔여 의석은 소수점 이하 수가 큰 순서대로 각 의석 할당 정당에 1석씩 배분한다. 단, 의석 할당 정당은 1안의 경우 선거구별로 유효 투표 총수의 20% 이상을 득표하여야 하고, 2안의 경우 전체 유효 투표 총수의 5% 이상을 득표하여야 한다. 표는 최근 갑국 선거에서의 정당별 득표수를 나타낸다.

구분	A당	B당	C당	D당	E당	유효 투표 총수
선거구 1	100	200	0	100	0	400
선거구 2	400	100	0	0	0	500
선거구 3	100	100	200	100	100	600
선거구 4	200	0	100	0	0	300
선거구 5	0	0	200	0	0	200
합계	800	400	500	200	100	2,000

\* 의석 할당 정당의 득표 비율은 각 의석 할당 정당의 득표수를 모든 의석 할당 정당의 득표수 합계로 나누어 산출함.  
\*\* 위의 표를 기준으로 차기 선거 결과를 판단함.

— < 보기 > —

- ㄱ. A당의 경우 1안은 현행보다 유리하다.
- ㄴ. B당의 경우 2안은 현행보다 불리하다.
- ㄷ. C당의 경우 1안과 2안 모두 현행보다 불리하다.
- ㄹ. D당의 경우 1안이 2안보다 유리하고, E당의 경우 선거 제도 변경에 따른 유불리는 없다.

- ① ㄱ, ㄴ    ② ㄱ, ㄷ    ③ ㄴ, ㄷ    ④ ㄴ, ㄹ    ⑤ ㄷ, ㄹ

\* 확인 사항  
○ 답안지의 해당란에 필요한 내용을 정확히 기입(표기)했는지 확인 하시오.

제 4 교시

사회탐구 영역(법과 정치)

성명		수험 번호							
----	--	-------	--	--	--	--	--	--	--

1. 정치의 의미에 대한 관점 (가), (나)에 대한 설명으로 옳은 것은?

(가) 사회적 희소가치의 배분을 둘러싼 권력 현상은 국가 수준에서 형성되기 때문에 사회적 갈등을 해결하고 질서를 유지하는 국가의 활동을 정치로 보아야 한다.

(나) 권력 현상은 국가는 물론 다른 사회 집단에서도 나타나기 때문에 국가를 포함한 사회 집단이 갈등을 해결하고 사회 집단 내의 의사를 형성하는 것도 정치로 보아야 한다.

- ① (가)는 국가 형성 이전의 정치 현상을 설명하는 데 적합하다.
- ② (가)는 학생 자치회가 자선 바자회 수익금의 사용처를 결정하는 과정을 정치라고 본다.
- ③ (가)는 (나)에 비해 다원화된 현대 사회의 갈등 해결 양상을 설명하기에 용이하다.
- ④ (가)는 (나)와 달리 시민 단체가 정부 정책을 감시하고 비판하는 것을 정치라고 본다.
- ⑤ (가), (나) 모두 소수의 통치 엘리트가 정책을 결정하는 것을 정치라고 본다.

2. 법치주의를 보는 갑, 을의 관점에 대한 설명으로 옳은 것은?

갑: 법이 구속력을 갖는 것은 국민의 대표 기관인 의회가 일정한 절차를 거쳐 제정하였기 때문입니다. 따라서 법의 내용과 목적의 타당성 여부와 상관없이 그 법에 따른 권력 행사는 당연히 구속력을 가집니다.

을: 절차적 정당성을 갖춘 법이 곧 정의는 아니며, 정의롭지 못한 법이 합법적으로 제정되어 역사적 비극이 발생하기도 하였습니다. 법이 적법한 절차를 거쳤더라도 그 내용과 목적이 정의에 부합할 때에만 구속력을 갖게 됩니다.

- ① 갑의 관점은 절차적 정당성과 관계없이 실질적 정당성만 확보되면 법의 효력을 인정한다.
- ② 을의 관점은 국민의 자유와 권리 보장보다 통치의 합법성을 중시한다.
- ③ 갑과 달리 을의 관점은 국가가 국민의 기본권을 제한하거나 의무를 부과할 때 법에 근거를 두어야 한다고 본다.
- ④ 을과 달리 갑의 관점은 통치자를 제외한 모든 사람이 법에 구속되어야 한다고 본다.
- ⑤ 갑과 을의 관점 모두 국가 권력의 자의적 행사를 경계한다.


3. (가), (나)에 대한 설명으로 옳은 것은? (단, (가)와 (나)는 각각 고대 아테네 민주 정치, 근대 민주 정치 중 하나이다.) [3점]


(가) 국가의 주요 의제에 대한 최고 의결 권한을 가지는 기구가 있었고, 모든 시민은 이 기구에 참가하여 중요한 정치 문제를 토의하고 결정하였다.


(나) 시민에 의해 선출된 대표로 구성된 기구가 대의 기능을 수행하였으나, 공직 선출이나 정치 참여에 있어 재산, 성별 등에 따른 제한이 있었다.


- ① (가)에서는 국민 주권론에 근거한 정치 체제가 확립되었다.
- ② (가)에서는 국가 주요 사안을 시민들이 직접 결정할 수 있는 기회가 보장되었다.
- ③ (나)에서는 보통 선거 원칙이 확립되었다.
- ④ (가)에서는 (나)와 달리 입헌주의 원리가 확립되었다.
- ⑤ (가), (나) 모두 천부 인권 사상의 영향을 받아 발전하였다.

4. 다음 대화의 (가), (나)에 들어갈 수 있는 적절한 내용을 <보기>에서 고른 것은? (단, A와 B는 각각 양당제, 다당제 중 하나이다.)

의원 내각제 국가인 ○○국은 역사적으로 연립 정부를 구성해 왔으며, 현재에도 연립 정부가 구성되어 있습니다. ○○국의 정당 제도에 대한 자신의 의견을 말해 보세요.  교사

갑  ○○국의 정당 제도는 A입니다. A에서는 B에서보다 (가) 따라서 B가 바람직합니다.

을  그렇지 않습니다. B에서는 A에서보다 (나) 따라서 ○○국은 현행 정당 제도를 유지하는 것이 바람직합니다.

모두 각 정당 제도의 특징을 근거로 한 타당한 의견을 제시하였습니다.  교사

— <보기> —

ㄱ. (가) - 강력한 정책 추진이 어렵습니다.

ㄴ. (가) - 다양한 의견을 반영하기 어렵습니다.

ㄷ. (나) - 다수당의 횡포 가능성이 높습니다.

ㄹ. (나) - 정책 실패에 대한 책임 소재가 불분명합니다.

- ① ㄱ, ㄴ    ② ㄱ, ㄷ    ③ ㄴ, ㄷ    ④ ㄴ, ㄹ    ⑤ ㄷ, ㄹ

5. 우리나라 헌법 기관 A, B에 대한 설명으로 옳은 것은? [3점]

A는 국무 회의의 심의를 거친 '○○의정서' 비준안을 결재하였다. 그러나 국회는 A가 '○○의정서'의 체결·비준에 대한 국회의 동의를 요구하지 않는 행위가 국회의 권한을 침해하였다고 주장하면서 B에 권한 쟁의 심판을 청구하였다.

- ① A는 국무 총리 해임 건의권을 가진다.
- ② A는 국가 예산의 결산 심사권을 가진다.
- ③ B는 위헌 법률 심판 제청권을 가진다.
- ④ B는 하급 법원의 판결에 대한 상고심을 담당한다.
- ⑤ A는 B의 재판관 9인을 임명한다.

6. A~C에 대한 설명으로 옳은 것은? (단, A~C는 각각 시민 단체, 이익 집단, 정당 중 하나에 해당하는 집단이다.)

A와 B는 대기 오염을 줄이기 위해 관련 법 개정에 공동의 노력을 하고 있다. A는 법 개정에 필요한 대기 오염 원인 및 해결 방안 등에 대한 정보를 B에 제공하기도 한다. B는 다가올 선거에서 관련 내용을 공약으로 제시하고 대기 환경 전문가도 영입해 공천할 예정이다. 반면 대기 오염 규제로 매출 감소가 예상되는 기업들로 조직된 C는 A와 B가 추진하고 있는 법안이 산업 발전을 저해할 것이라며 반대 여론 형성을 위한 방안을 모색하고 있다.

- ① A는 자신의 활동에 대해 정치적 책임을 진다.
- ② B는 국민의 대표를 배출하는 정치 충원 기능을 수행한다.
- ③ C는 사익의 실현보다 공익의 실현을 중시한다.
- ④ A와 달리 B와 C는 정치 사회화 기능을 수행한다.
- ⑤ C와 달리 A와 B는 정권 획득을 목표로 한다.

7. 다음 자료에 대한 분석 및 추론으로 옳은 것은? [3점]

갑국과 을국은 전형적인 정부 형태를 채택하고 있다. 갑국의 행정부 수반은 국민들의 직접 선거로 선출되는 반면, 을국의 행정부 수반은 의회에서 선출된다. 표는 (가)와 (나) 시기별 갑국과 을국의 정치 상황을 '행정부 수반 소속 정당이 의회에서 과반 의석을 차지하고 있는가?'를 기준으로 구분한 것이다.

국가 \ 시기	(가)	(나)
갑국	예	아니요
을국	아니요	예

- ① 갑국과 달리 을국의 행정부 수반은 의회에 법률안을 제출할 수 있는 권한이 없다.
- ② 을국과 달리 갑국의 행정부 수반은 국가 원수를 겸직하지 않는다.
- ③ 갑국의 경우, 행정부 수반의 법률안 거부권 행사 가능성은 (나)보다 (가)에서 높을 것이다.
- ④ 을국의 경우, 행정부 수반의 의회 해산권 행사 가능성은 (가)보다 (나)에서 높을 것이다.
- ⑤ 을국의 경우, 의회의 내각 불신임권 행사 가능성은 (나)보다 (가)에서 높을 것이다.

8. 기본권 A에 대한 설명으로 옳은 것은?

헌법 재판소는 집행 유예 기간 중인 자의 **A**을/를 제한하고 있는 ○○법의 해당 부분은 헌법 제37조 제2항을 위반하여 청구인들의 **A**을/를 침해하였을 뿐만 아니라 평등 원칙도 위반한 것이라고 결정하였다. 헌법 재판소는 그 이유에서 형사 책임과 주권의 행사는 다른 차원의 문제로서 범죄자가 저지른 범죄의 경중을 전혀 고려하지 않고 공동체의 운용을 주도하는 국가 조직의 구성에 참여하는 것을 전면적·확립적으로 제한하는 것은 헌법에 위반된다고 하였다.

- ① 국가의 정치 과정에 참여할 수 있는 능동적 권리이다.
- ② 민주주의의 이념 중 하나로서 다른 기본권 보장의 전제 조건이 된다.
- ③ 개인의 자유에 대한 국가 권력의 침해를 배제하는 방어적 권리이다.
- ④ 국민의 권리임과 동시에 국가의 존속과 유지를 위한 헌법상 의무이기도 하다.
- ⑤ 국민이 국가에 대하여 적극적으로 특정한 행위를 요구할 수 있는 수단적 권리이다.

9. 다음 자료에 대한 설명으로 옳은 것은? [3점]

우리나라 헌법의 기본 원리	관련 헌법 조문 예시	기본 원리의 실현 방안
(가)	모든 국민은 거주·이전의 자유를 가진다.	A
(나)	모든 국민은 인간다운 생활을 할 권리를 가진다.	B

- ① (가)는 국민의 기본적 생활을 국가가 보장해 주는 원리이다.
- ② (나)는 자유방임적 시장 경제 질서를 유지하는 것이 국가의 주된 역할임을 강조한다.
- ③ (가)는 (나)와 달리 법률 제정과 정책 결정의 방향을 제시한다.
- ④ A에는 '국가가 저소득층을 비롯한 주거 약자에게 안정적인 주거 환경을 우선적으로 보장하는 제도'가 들어갈 수 있다.
- ⑤ B에는 '국가가 치매를 비롯한 각종 질병으로 일상생활에 어려움을 겪고 있는 노인을 지원하는 제도'가 들어갈 수 있다.

10. 다음 사례에 대한 옳은 법적 판단을 <보기>에서 고른 것은? [3점]

갑은 2015년 ○○은행으로부터 1억 원을 대출받으면서 자신의 A주택에 저당권을 설정하였다. 그 후 갑은 임대차 기간을 정하지 않고 보증금 2억 원에 A주택을 임대하는 계약을 을과 체결하였다. 을은 2016년 12월 5일에 이사와 전입신고를 마치고, 같은 달 26일에 확정 일자를 받았다. 갑이 ○○은행의 대출금을 갚지 않자, ○○은행의 신청에 의해 2017년 11월 16일에 법원이 A주택에 대한 가압류 결정을 내렸다.

— < 보기 > —

- ㄱ. 을은 2016년 12월 26일에 주택 임대차 보호법상의 대항력을 취득한다.
- ㄴ. 을은 임대차 기간이 2년임을 주장할 수 있다.
- ㄷ. A주택에 대한 가압류 사실은 A주택 등기부의 기재 사항이다.
- ㄹ. A주택이 경매되는 경우, 을은 ○○은행보다 우선하여 보증금을 변제받을 수 있다.

- ① ㄱ, ㄴ    ② ㄱ, ㄷ    ③ ㄴ, ㄷ    ④ ㄴ, ㄹ    ⑤ ㄷ, ㄹ

11. 다음 사례에 대한 옳은 법적 판단을 <보기>에서 고른 것은?

갑(15세)이 부모로부터 학습용으로 받은 노트북을 부모의 동의 없이 단독으로 중고 판매업자 을(30세)에게 팔기로 약속하였다.

```

    graph TD
      Q1[계약 당시 갑은 의사 능력이 있었는가?] -- 아니요 --> A((A))
      Q1 -- 예 --> Q2[갑의 제한 능력을 이유로 계약을 취소할 수 있는가?]
      Q2 -- 아니요 --> B((B))
      Q2 -- 예 --> C((C))
    
```

— < 보기 > —

- ㄱ. A의 경우에 갑의 부모가 갑의 행위를 동의했다라도 계약의 효력은 없다.
- ㄴ. 계약 당시 의사 능력을 가진 갑이 문서로 을과 계약을 하였다면 B의 경우에 해당한다.
- ㄷ. C의 경우에 을은 갑에게 계약의 취소 여부에 대한 확답을 요구할 수 없다.
- ㄹ. C의 경우에 갑의 부모가 계약을 취소하면 을은 손해 배상을 청구할 수 있다.

- ① ㄱ, ㄴ    ② ㄱ, ㄷ    ③ ㄴ, ㄷ    ④ ㄴ, ㄹ    ⑤ ㄷ, ㄹ

12. 다음 사례에 대한 옳은 법적 판단만을 <보기>에서 있는 대로 고른 것은? [3점]

갑은 자신의 X건물을 2017년 10월 27일부터 임대하는 계약을 을과 체결하였다. 그리고 갑은 임차인 을과 약속한 외벽 도색을 위해 도색 전문 업체 사장 병과 2017년 10월 23일까지 도색을 완료하기로 하는 계약을 체결하였다. 도색 작업 중 병의 직원 정은의 부주의로 X건물의 창문이 깨지면서 떨어진 유리 파편에 행인 A가 부상당하였다. 이로 인해 작업이 지연되면서 을은 계약일보다 늦게 입주하였다.

— <보기> —

- ㄱ. 병은 을에게 채무 불이행으로 인한 손해 배상 책임을 지지 않는다.
ㄴ. 병은 정은의 선임 및 그 사무 감독에 상당한 주의를 다하였음을 증명하면 A에게 특수 불법 행위 책임을 지지 않는다.
ㄷ. 병이 A에게 특수 불법 행위 책임을 지는 경우, 정은 A에게 일반 불법 행위 책임을 지지 않는다.
ㄹ. 정은 갑에게 일반 불법 행위 책임을 지지 않는다.

- ① ㄱ, ㄴ                    ② ㄱ, ㄹ                    ③ ㄷ, ㄹ
④ ㄱ, ㄴ, ㄷ              ⑤ ㄴ, ㄷ, ㄹ

13. 다음 사례에 대한 옳은 법적 판단을 <보기>에서 고른 것은?

갑은 아내와 사별 후 을과 재혼하였다. 갑과 을은 아이가 없어서 병의 아들 A(5세)를 합법적인 절차에 의해 친양자가 아닌 양자로 입양하였다. 이듬해 갑의 아들이라 주장하는 B가 재판을 통해 인지되었다. 2년 후 갑이 지병으로 사망하였는데, 사망 당시 갑은 채무 없이 7억 원의 재산을 남겼고, '모든 재산을 A에게 준다.' 라는 취지의 유언장이 발견되었다.

— <보기> —

- ㄱ. 입양된 A와 병의 친자 관계는 종료된다.
ㄴ. 갑의 유언이 유효한 경우, B는 A에게 유류분의 반환을 청구할 수 있다.
ㄷ. 갑의 유언이 무효이더라도 A는 법정 상속권을 가진다.
ㄹ. 갑의 유언이 무효인 경우, 을은 4억 2천만 원을 상속받는다.

- ① ㄱ, ㄴ                    ② ㄱ, ㄷ                    ③ ㄴ, ㄷ                    ④ ㄴ, ㄹ                    ⑤ ㄷ, ㄹ

14. 다음 자료에 대한 설명으로 옳은 것은? (단, A와 B는 각각 국가, 초국가적 행위체 중 하나이다.) [3점]

전통적으로 국제 사회는 구성원에 대한 독점적 강제력을 가진 A에 의해 주도되었으나, 오늘날에는 국제 사회의 상호 의존성이 심화됨에 따라 국경을 넘어 활동하는 B가 등장하여 활동 영역을 넓혀 가고 있다. 국제 사회에서는 이와 같은 다양한 행위 주체들이 서로 갈등하기도 하고 협력하기도 한다. 이러한 국제 사회를 바라보는 관점 (가)은/는 국제 사회에서 힘의 논리가 지배적이기 때문에 협력이 어렵다고 보는 반면, (나)은/는 국제 사회에서 이해관계의 조화가 가능하며 협력을 통해 많은 문제를 해결할 수 있다고 본다.

- ① A는 국제 연합 총회에서 차등적 투표권을 가진다.
② B는 국제 사회에서 주권을 가진 독립적 행위 주체이다.
③ (가)는 A 사이에 힘의 균형이 이루어져야 평화가 유지된다고 본다.
④ (나)는 국제 사회에서 A의 이익 추구에 따른 갈등이 반복되고 있으며 B의 영향력은 쇠퇴하고 있다고 본다.
⑤ (가), (나) 모두 A와 B를 강제할 수 있는 중앙 정부가 국제 사회에 존재한다고 본다.

15. 다음 자료에 대한 법적 판단으로 옳은 것은? [3점]

근로 계약서
갑(사업자)과 을(근로자, 20세 남자)은 다음과 같이 근로 계약을 체결한다.
1. 계약 기간: 2017년 8월 30일부터 2017년 9월 24일까지
2. 근로 시간: 9시 ~ 18시(휴게 시간: 12시 ~ 13시)
3. 근무일: 매주 수요일부터 일요일까지(유급 휴일: 매주 월요일)
4. 임 금: 시간당 8,000원(연장 근로 시 임금의 50%를 연장 근로 수당으로 지급)
5. 업무 내용: ○○백화점의 주차 안내

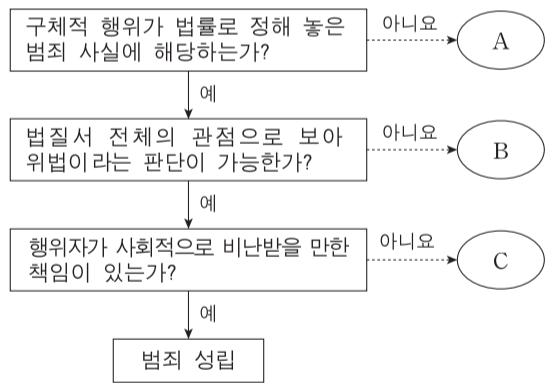
\* 근로 기준법상 연장 근로 시간은 1주간 12시간 이내이며, 이에 대한 예외 규정은 고려하지 않음.

- ① 을이 근무일에 하루 9시간 일했다면 하루 임금으로 72,000원을 받아야 한다.
② 근로 계약서의 근로 시간이 1일 8시간을 초과하였기에 해당 부분은 효력이 없다.
③ 갑이 을에게 매 근무일 21시까지 근로를 시키는 것은 서로 합의가 있어도 위법하다.
④ 을이 체결한 근로 계약서의 근로 기준법 준수 여부에 대해 근로 감독관은 감독 권한이 없다.
⑤ 을이 매주 수요일부터 일요일까지 개근하더라도 유급 휴일에 대한 임금을 추가로 받을 수 없다.

16. 다음 자료에 대한 옳은 법적 판단을 <보기>에서 고른 것은?

자료는 범죄가 성립되는 요건과 이를 적용한 형사 재판의 사례를 제시한 것이다.

<자료 1> 범죄의 성립 요건



<자료 2> 형사 재판 사례

Table with 2 columns: 구분 (Case 1, Case 2) and 법원의 판단 (Court's Judgment). Case 1: Victim G's act is... (summary)... against the law... current unjust harm prevention... Case 2: Victim E committed crime... (summary)... mental state... (summary)... judgment ability... (summary)...

— <보기> —

- ㄱ. 반사회적 행위는 A에 해당되어도 형사 처벌할 수 있다.
ㄴ. 12세인 형사 미성년자의 행위가 C에 해당하더라도 소년법상 보호 처분을 받을 수 있다.
ㄷ. 법원은 갑의 행위를 정당 행위로 보아 B로 판단하였다.
ㄹ. 법원은 을의 행위가 C에 해당한다고 판단하더라도 재범의 위험성이 있는 경우, 을에게 치료 감호 처분을 내릴 수 있다.

- ① ㄱ, ㄴ                    ② ㄱ, ㄷ                    ③ ㄴ, ㄷ                    ④ ㄴ, ㄹ                    ⑤ ㄷ, ㄹ

17. 다음 사례에 대한 옳은 법적 판단을 <보기>에서 고른 것은? [3점]

- 갑은 '개업 기념 연회비 50% 할인' 광고를 보고 ○○헬스 클럽에 등록하려 하였으나, 직원으로부터 개인 트레이닝 10회를 의무적으로 받아야 할인가가 적용된다는 설명을 들었다. 이에 갑은 연회비 100만 원과 개인 트레이닝 비용 50만 원을 3개월 할부로 결제하였다. 하지만 이튿날 충동 계약임을 깨닫고 후회하고 있다.
- 을은 안전성이 뛰어나다는 광고를 보고 △△기업의 신형 전동 킥보드를 구매하였다. 이튿날 을은 공원에서 전동 킥보드를 타다가 제동 장치가 작동하지 않아 벽에 부딪쳐 크게 다쳤다. 이에 을은 △△기업에 보상을 요구하였지만 거절당했다.

— <보기> —

- ㄱ. 갑은 계약 체결 의사를 철회할 수 있다.
- ㄴ. 을은 △△기업의 고의 또는 과실을 증명하지 않아도 손해 배상을 받을 수 있다.
- ㄷ. 을은 한국 소비자의 피해 구제 절차가 진행 중인 경우에는 민사 소송을 제기할 수 없다.
- ㄹ. 갑은 소비자의 선택할 권리, 을은 소비자의 안전하고 쾌적한 환경에서 소비할 권리를 침해당했다.

- ① ㄱ, ㄴ    ② ㄱ, ㄷ    ③ ㄴ, ㄷ    ④ ㄴ, ㄹ    ⑤ ㄷ, ㄹ

18. 국제법의 법원(法源) A, B에 대한 설명으로 옳은 것은? (단, A와 B는 각각 국제 관습법, 조약 중 하나이다.)

외교 관계에 관한 국제법은 매우 오랜 역사를 가지고 있다. 대표적인 예로 '외교관은 어떠한 형태의 체포 또는 구금을 당하지 아니하며 접수국은 외교관의 신체, 자유, 품위가 침해되지 않도록 적절한 조치를 취해야 한다.'라는 오래된 관행이 유럽에서는 이미 16세기 말 이전에 A가 된 것을 들 수 있다. 이후 상주 외교 사절의 파견이 일반화됨에 따라 이 관행은 국가들 간에 채택된 「외교 관계에 관한 비엔나 협약 (1961년)」의 내용으로 포함되면서 또 다른 국제법의 법원인 B가 되었다.

- ① A는 원칙적으로 이를 승인한 국가에만 법적 구속력이 발생한다.
- ② B는 국제 사회에서 포괄적 구속력이 있다.
- ③ A는 B와 달리 강제적으로 집행할 국제기구가 있다는 특징이 있다.
- ④ B는 A와 달리 당사국 간 명시적인 합의 절차를 거쳐야만 성립된다.
- ⑤ A, B 모두 우리나라에서는 국회의 동의가 있어야만 법적 효력을 갖는다.

19. (가)에 들어갈 법적 조언으로 옳은 것은?

Q: 저의 남편은 퇴근 후 동료들과 회식 중, 사소한 시비로 동료를 때려 전치 6주의 부상을 입힌 후 구속되어 현재 조사를 받고 있습니다. 앞으로 저의 남편에 대한 절차는 어떻게 진행되며 무엇을 준비해야 하는 건가요?  
A: \_\_\_\_\_ (가)

- ① 영장 실질 심사를 통해 석방될 수 있습니다.
- ② 진행 중인 수사 절차가 종결되면 석방됩니다.
- ③ 선고 유예를 받더라도 형사 보상을 받을 수 있습니다.
- ④ 형사 재판에서 배상 명령이 내려진 경우, 민사상 강제 집행을 받을 수 있습니다.
- ⑤ 피해자와 그 가족의 생활을 위한 범죄 피해자 구조금을 마련해 놓고 있어야 합니다.

20. 다음 자료에 대한 분석 및 추론으로 옳은 것은? [3점]

○○국 의회 의원 정수는 4명으로, 4개 선거구(A1~A4)에서 단순 다수제로 의원을 선출하고 있다. 현재의 의원 정수와 대표 결정 방식은 유지하되, 인구 이동을 고려하여 선거구를 재획정하기로 하고 다음과 같은 개편안을 논의하고 있다.

- 인구가 증가한 B지역(B1~B4)을 분리하여 이 지역을 2개의 선거구로 획정함.
- 각각의 A지역에서 B지역을 제외한 나머지 지역을 a지역(a1~a4)으로 함. 예를 들어, A1에서 B1을 제외한 나머지 지역이 a1임. 그리고 a지역도 2개의 선거구로 획정함.
- 경계선이 접한 선거구 혹은 지역끼리만 통합하고, 대각선 방향으로의 통합은 고려하지 않음.
- 하나의 선거구 유권자 수가 다른 선거구 유권자 수의 2배 이상이 되지 않도록 함.

<자료 1>은 ○○국 선거구 및 지역별 유권자 수를, <자료 2>는 최근 의회 의원 선거에서의 각 정당 후보 득표율을 나타낸다.

〈자료 1〉			〈자료 2〉				
(단위: 명)			(단위: %)				
A1 (300)	B1 (200)	B2 (200)	선거구	A1	A2	A3	A4
A2 (300)	B3 (100)	B4 (100)	정당				
A3 (200)		A4 (200)	갑	60	30	20	10
			을	30	50	60	50
			병	10	20	20	40

- \* <자료 1>의 ( ) 안 수치는 유권자 수이며, A1~A4 선거구 유권자 수는 각각 B1~B4 지역 유권자 수를 포함한 수치임.
- \*\* B1~B4 지역과 a1~a4 지역의 정당 후보 득표율은 현행 제도에서 각각 속해 있던 A1~A4 선거구 정당 후보 득표율과 동일함.
- \*\*\* 투표율은 100%이며, 무효표는 없음.
- \*\*\*\* 개편안의 경우, 위 <자료 1>과 <자료 2>를 근거로 차기 선거 결과를 판단함.

- ① 최근 의회 의원 선거 결과, 갑 정당과 을 정당은 과소 대표되었다.
- ② 개편안의 경우, a지역에 비해 B지역 유권자 의사가 과대 대표된다.
- ③ 갑 정당의 경우, 현행 선거구 획정 방식보다 a1과 a3을 통합하는 개편안이 유리하다.
- ④ 을 정당의 경우, 개편안에서 a1과 a2의 통합보다는 a1과 a3을 통합하는 선거구 획정 방식이 유리하다.
- ⑤ 병 정당의 경우, 현행 선거구 획정 방식보다 개편안이 유리하다.

\* 확인 사항

- 답안지의 해당란에 필요한 내용을 정확히 기입(표기)했는지 확인하십시오.

제 4 교시

# 사회탐구 영역(법과 정치)

성명  수험 번호

1. 정치를 바라보는 갑, 을의 관점에 대한 설명으로 옳은 것은?

갑: 정부가 공공 정책을 수립하는 것은 물론 다양한 사회 집단이 의사 결정을 하는 것도 정치입니다. 사회 집단 어디에서나 희소한 자원을 둘러싼 갈등은 있기 때문입니다.  
 을: 정치를 그렇게 이해한다면 정치가 다른 형태의 사회 행위와 구별되는 특징이 무엇인지 파악하기 어렵습니다. 따라서 정치는 국가를 통치하는 데 행사되는 리더십과 그 영향력에 한정하여 정의되어야 합니다.

- ① 갑은 정치가 국가와 사회 집단에서 공통적으로 나타나는 현상이라고 본다.
- ② 을은 학교에서 체험 학습 장소를 정하는 것을 정치라고 본다.
- ③ 갑과 달리 을의 관점은 국가 형성 이전의 정치 현상을 설명하기에 적합하다.
- ④ 을에 비해 갑의 관점은 다원화된 현대 사회의 정치 현상을 설명하기 어렵다.
- ⑤ 갑, 을은 모두 시민 단체 회원들이 총회에서 대표를 선출하는 것을 정치라고 본다.

2. 법치주의의 유형 (가), (나)에 대한 옳은 설명을 <보기>에서 고른 것은? [3점]

(가) 의회가 합법적인 절차를 거쳐 법을 제정하였다면 법의 목적이나 내용과 관계없이 그 법에 근거한 국가 권력 행사는 정당화된다.  
 (나) 국가 권력 행사의 정당성을 확보하기 위해서는 법 제정의 형식과 절차를 갖추어야 할 뿐만 아니라 인간의 존엄성과 실질적 정의를 내용으로 하는 법의 지배가 이루어져야 한다.

<보 기>

ㄱ. (가)는 (나)와 달리 국민의 기본권 보장을 중시한다.  
 ㄴ. (나)는 (가)와 달리 독재를 정당화하는 근거로 악용되기도 한다.  
 ㄷ. 현대 사회로 오면서 법치주의의 의미는 (가)에서 (나)로 확장되고 있다.  
 ㄹ. (가), (나)는 모두 의회가 제정한 법에 근거하여 국가 권력이 행사되어야 한다고 본다.

- ① ㄱ, ㄴ    ② ㄱ, ㄷ    ③ ㄴ, ㄷ    ④ ㄴ, ㄹ    ⑤ ㄷ, ㄹ

3. (가)~(다)에 들어갈 내용으로 옳지 않은 것은?

학습 주제: 사회법의 이해

1. 등장 배경:  (가) 등

2. 목적과 특징:  (나) 등

3. 종류

- 노동법 - 근로 기준법, 노동조합 및 노동관계 조정법 등
- 경제법 - 전자 상거래 등에서의 소비자 보호에 관한 법률 등
- 사회 보장법 -  (다) 등

- ① (가) - 독과점 기업의 불공정 거래 행위 증가
- ② (가) - 자본주의 발전에 따른 경제적 불평등 심화
- ③ (나) - 사유 재산에 대한 개인의 지배권 강화
- ④ (나) - 사법(私法) 영역에 대한 공법(公法)적 규제
- ⑤ (다) - 국민 기초 생활 보장법

4. 표는 시대별 민주 정치의 특징을 나타낸 것이다. 이에 대한 설명으로 옳은 것은? (단, (가)~(다)는 각각 고대 아테네 민주 정치, 근대 민주 정치, 현대 민주 정치 중 하나이다.) [3점]

구분	특 징
(가)	자유와 평등의 이념이 확산되고 시민의 범위가 확대됨에 따라 선거를 통해 대의 기구인 A를 구성하였다. 그러나 성별, 재산 등에 따른 참정권 제한은 사라지지 않았다.
(나)	시민들은 최고 의결 기구인 B에 모여 공동체의 문제에 대해 토론하고 법률 제정, 과세, 외교 등 국가의 중요 사안을 직접 결정하였다.
(다)	선거로 뽑힌 대표자가 정치를 담당하는 형태는 시민의 의사를 정확히 반영하기 어렵다는 점을 보완하기 위해 직접 민주주의의 요소인 C를 도입하였다.

- ① (가)에서는 모든 성인에게 공직 참여의 기회가 제공되었다.
- ② (나)는 (다)와 달리 입헌주의를 통해 기본권을 보장하였다.
- ③ A의 구성원을 선출하는 과정에는 보통 선거의 원칙이 적용되었다.
- ④ B에 참여하는 시민들은 추첨을 통해 선출되었다.
- ⑤ 국가의 중요 정책을 결정하기 위해 실시하는 국민 투표는 C에 해당한다.

5. 다음 자료에 대한 분석 및 추론으로 옳은 것은? [3점]

갑국은 전형적인 정부 형태 중 하나를 채택하고 있다. 표는 각 시기별 갑국 의회의 정당별 의석률과 행정부 수반의 소속 정당을 나타낸다. 단, t+1 시기 의회 의원 선거는 국민이 행정부 수반을 선출하는 선거와 동시에 실시되었다.

시기	정당별 의석률(%)				행정부 수반 소속 정당
	A당	B당	C당	D당	
t	49	12	32	7	C당
t+1	58	23	10	9	A당
t+2	45	28	16	11	A당

\* 갑국의 정부 형태 변화는 없음.

- ① t 시기에 행정부의 강력한 정책 추진이 용이할 것이다.
- ② t 시기에 비해 t+1 시기에 연립 내각이 등장할 가능성이 높다.
- ③ t 시기에 비해 t+1 시기에 행정부 수반의 법률안 거부권 행사 가능성이 높다.
- ④ t+1 시기에 비해 t+2 시기에 의회가 내각을 불신임할 가능성이 높다.
- ⑤ t+1 시기에 비해 t+2 시기에 행정부와 의회 간 갈등이 발생할 가능성이 높다.

6. 다음 자료에 대한 옳은 설명만을 <보기>에서 있는 대로 고른 것은?

① 청년 유권자 대상 정치 워크숍 개최		이달의 ○○당 활동 계획							④ 주요 현안에 대한 당정 협의회 참석	
		일	월	화	수	목	금	토		
		3	4	5	6	7	8	9		
		10	11	12	13	14	15	16		
③ 보궐 선거 후보 공천을 위한 당원 투표 실시		17	18	19	20	21	22	23	② 보궐 선거 후보 확정	
		24	25	26	27	28	29	30		

<보 기>

ㄱ. ①은 정당의 정치 사회화 기능을 보여준다.  
 ㄴ. ④을 통해 정당은 의회와 정부를 매개하는 역할을 한다.  
 ㄷ. ③은 정당의 하향식 의사 결정 구조를 강화한다.  
 ㄹ. ②은 정당의 정치 엘리트 충원 기능을 보여준다.

- ① ㄱ, ㄷ                      ② ㄱ, ㄹ                      ③ ㄴ, ㄷ  
 ④ ㄱ, ㄴ, ㄹ                  ⑤ ㄴ, ㄷ, ㄹ

7. 우리나라 헌법 기관 A~D에 대한 설명으로 옳지 않은 것은? [3점]

A는 법무부 장관이 사임하자 그 후임으로 갑을 후보자로 지명하고 법률에 근거하여 B에 인사 청문을 요청하였으나, 여야 대립으로 인사 청문 절차가 지체되고 있다. 이 과정에서 정부는 법무부 소관 법률안을 C의 심의를 거쳐 C의 부의장인 D와 법무부 차관의 서명을 받아 B에 제출하였다. 그런데 B는 법무부 차관이 C의 구성원이 아니기 때문에 관련 내용을 규정한 헌법 조항에 위반된다고 주장하고 있다.

- ① A는 B의 동의를 얻어 헌법 재판소의 장(長)을 임명한다.  
 ② A는 D의 제청으로 국무 위원을 임명한다.  
 ③ B는 A에게 국무 위원의 해임을 건의할 수 있다.  
 ④ C는 위헌 법률 심판 제청권을 가진다.  
 ⑤ D는 우리나라 정부 형태의 의원 내각제적 요소이다.

8. 다음 대화에 나타난 정치 참여 집단 A~C에 대한 설명으로 옳은 것은? (단, A~C는 각각 정당, 이익 집단, 시민 단체 중 하나에 해당 하는 집단이다.)

갑: 이번에 정부가 추진하는 정책이 시행되면 우리 A의 회원인 농·축산업자들이 큰 피해를 보게 됩니다. 따라서 우리는 회원들의 이익을 침해하는 정부 정책에 반대합니다.  
 을: 이 정책은 우리나라의 환경에도 큰 피해를 줄 가능성이 있습니다. 환경 보호라는 공익적 가치를 위해 설립하여 활동해 온 우리 B로서도 이 정책에 반대할 수밖에 없습니다.  
 병: 우리 C는 오늘 간담회에서 제시된 의견들을 충분히 반영 하여 다음 선거에서 공약으로 제시하고 유권자의 선택을 받겠습니다.

- ① A는 B와 달리 대의제의 한계를 보완한다.  
 ② B는 C와 달리 정치 과정에서 산출 기능을 담당한다.  
 ③ A, B는 모두 시민의 다양한 요구를 표출하는 역할을 한다.  
 ④ B, C는 모두 자신들의 활동에 대해 정치적 책임을 진다.  
 ⑤ A~C는 모두 정치 권력 획득을 목표로 한다.

9. 기본권 A, B에 대한 설명으로 옳은 것은?

헌법상 재산권 보장은 개인이 재산을 가지고 있다는 것을 전제로 하여 이를 보호하는 것이므로, 재산이 없는 사람에게는 의미가 없을 수 있다. 따라서 헌법은 인간의 생존에 필요한 최소한의 물질적인 생활을 보장받을 수 있도록 '인간다운 생활을 할 권리'를 규정하여 실질적 평등을 실현하고자 한다. '인간다운 생활을 할 권리'는 A의 이념적 기초이자 일반 조항으로서, 국가로부터의 자유를 의미하는 B와 함께 인간의 존엄과 가치를 실현하기 위한 불가결한 요소이다.

- ① A는 국가의 부당한 침해를 배제하는 방어적 성격의 권리이다.  
 ② B는 헌법에 열거되지 않아도 보장될 수 있는 포괄적 권리이다.  
 ③ A는 B와 달리 본질적 기본권으로서 다른 기본권을 실현하기 위한 전제 조건이 된다.  
 ④ B는 A와 달리 인간의 존엄을 실현하는 데 필요한 조건을 국가에 요구할 수 있는 권리로 국가의 존재를 전제로 인정된다.  
 ⑤ A, B는 모두 현대 복지 국가 헌법에서 보장되기 시작한 권리이다.

10. 다음 사례에 대한 옳은 법적 판단을 <보기>에서 고른 것은?

갑(남)과 을(여)은 법률상 부부이고 그 사이에는 혼인 중의 출생자 A가 있다. 한편 병(남)과 정(여) 역시 법률상 부부이고 그 사이에는 혼인 중의 출생자 B가 있다. 그런데 어느 날 교통 사고로 을이 사망하였고, 병과 정은 이혼하였다. 이후 갑과 정이 결혼하여 혼인 신고를 하였고, 병은 홀어머니를 모시고 B와 함께 살고 있다. 갑과 정은 혼인 중 C가 태어났고, 정은 함께 살고 있던 A를 합법적으로 입양하였다.

<보 기>

ㄱ. 을의 사망 당시 A가 16세였다면, A는 단독으로 유효하게 상속을 포기할 수 있다.  
 ㄴ. 갑이 자신의 전 재산을 C에게 준다는 내용의 유효한 유언을 하고 사망하였다면, A는 C를 상대로 유류분의 반환을 청구 할 수 있다.  
 ㄷ. 병이 2억 5천만 원의 재산을 남긴 채 유언 없이 사망하였다면, B는 1억 원을 상속받는다.  
 ㄹ. 정이 10억 원의 재산과 1억 원의 빚을 남긴 채 유언 없이 사망하였다면, B는 2억 원을 상속받는다.

- ① ㄱ, ㄴ                      ② ㄱ, ㄷ                      ③ ㄴ, ㄷ                      ④ ㄴ, ㄹ                      ⑤ ㄷ, ㄹ

11. 밑줄 친 ㉠~㉣에 대한 법적 판단으로 옳은 것은? [3점]

갑(30세)은 을을 폭행한 뒤 을의 주머니에서 10만 원을 꺼내 도주하였다. 다음은 갑에 대한 일반적인 형사 절차를 간략하게 정리한 것이다.

㉠수사 → ㉡기소 → ㉢공판 → ㉣집행

- ① 을이 수사 기관에 갑을 고발해야만 ㉠이 개시된다.  
 ② ㉠ 단계에서 갑이 구속되었다면 ㉡ 이후에 구속 적부 심사를 청구하여 석방될 수 있다.  
 ③ ㉡은 검사의 청구에 의해 법원이 결정한다.  
 ④ ㉢에서 형의 선고와 동시에 집행이 유예되었다면 일정 기간이 지난 후 면소된 것으로 간주된다.  
 ⑤ 검사는 ㉠~㉣의 형사 절차에 모두 관여한다.

12. 밑줄 친 ㉠~㉣에 대한 옳은 법적 판단만을 <보기>에서 있는 대로 고른 것은?

갑(17세)은 을이 운영하는 피자 가게에서 배달 아르바이트를 하였다. 어느 날 병은 생일 파티에 쓸 피자 20판을 을의 가게에 주문하였고, 갑은 이를 배달하기 위하여 오토바이를 몰다가 운전 부주의로 횡단보도에서 ㉠ 정을 치어 다치게 하였다. 이 사고로 ㉡ 배달이 늦어져 병은 피자를 파티에 쓸 수 없었다. 한편 갑은 을이 자신을 나무라자 기분이 상하여 ㉢ 인터넷 게시판에 을에 대한 악담과 허위 사실을 올려 을의 명예를 훼손하였다.

<보 기>  
㉠. ㉠의 경우, 갑에게 책임 능력이 인정된다면 정은 특수 불법 행위 책임을 근거로 갑의 부모에게 손해 배상을 청구할 수 없다.  
㉡. ㉠의 경우, 갑의 정에 대한 일반 불법 행위가 성립한다면 정은 특수 불법 행위 책임을 근거로 을에게 손해 배상을 청구할 수 있다.  
㉢. ㉢의 경우, 병은 채무 불이행을 근거로 갑에게 손해 배상을 청구할 수 있다.  
㉣. ㉣의 경우, 갑의 불법 행위가 성립한다 하더라도 을은 금전을 통한 손해 배상 이외의 다른 처분을 청구할 수 없다.

- ① ㉠, ㉡      ② ㉠, ㉢      ③ ㉢, ㉣  
④ ㉠, ㉡, ㉣      ⑤ ㉡, ㉣, ㉣

13. 다음 자료의 (가)에 들어갈 옳은 진술만을 <보기>에서 있는 대로 고른 것은?

교사: 현재 갑국 의회의 본회의에는 ○○법 개정 법률안이 상정되어 있습니다. 표는 갑국 의회 재적 의원의 정당별 의석률과 개정 법률안에 대한 입장을 나타낸 것입니다. 이 사례에 우리나라 정부 형태와 입법 절차를 적용했을 때 추론할 수 있는 상황에 대해 발표해 보세요.

구분	A당	B당	C당	D당	E당
의석률(%)	4	20	46	26	4
개정 법률안에 대한 입장	찬성	반대	찬성	반대	찬성

\* 갑국 의회 재적 의원은 250명이며, 법률안 의결 과정에서 재적 의원 수의 변화는 없다고 가정함.  
\*\* 각 정당의 입장은 변경되지 않으며, 본회의 표결 시 각 의원들은 소속 정당의 입장대로만 투표하고, 기권과 무효표는 없음.

학생: \_\_\_\_\_ (가)

<보 기>  
㉠. A당 소속 의원들만으로는 개정 법률안을 발의할 수 없었을 거예요.  
㉡. B당, D당, E당 소속 의원들을 제외한 나머지 의원들 모두 본회의에 출석하면 개정 법률안이 가결될 수 있어요.  
㉢. A당, E당 소속 의원들을 제외한 나머지 의원들 모두 본회의에 출석하여 투표하면 개정 법률안이 가결될 수 없어요.  
㉣. 본회의에서 가결된 개정 법률안에 대해 대통령의 재의 요구가 있을 경우, B당 소속 의원들을 제외한 나머지 의원들 모두 본회의에 출석하여 투표하면 개정 법률안은 법률로서 확정돼요.

- ① ㉠, ㉡      ② ㉠, ㉢      ③ ㉢, ㉣  
④ ㉠, ㉡, ㉣      ⑤ ㉡, ㉣, ㉣

14. 형사 제재의 유형 (가), (나)에 대한 설명으로 옳지 않은 것은? (단, (가), (나)는 각각 형벌, 보안 처분 중 하나이다.)

구분	의 미
(가)	범죄 행위를 한 자에게 공권력을 행사하여 책임을 전제로 부과하는 처벌
(나)	범죄 행위를 한 자의 재범 위험성을 막기 위하여 행하는 개선 및 교육 처분

- ① (가)의 종류로는 자격 상실과 과료를 들 수 있다.  
② (나)의 종류로는 치료 감호와 보호 관찰을 들 수 있다.  
③ (나)는 범죄 행위를 한 자의 사회 복귀를 촉진하기 위해 부과하는 대안적 제재 수단이다.  
④ (가)는 (나)와 달리 범죄 예방을 목적으로 하지 않는다.  
⑤ (가), (나)는 모두 법률과 적법한 절차에 의하지 않고는 부과될 수 없다.

15. 다음 사례에 대한 법적 판단으로 옳은 것은? [3점]

갑(30세)은 길을 걷다 을(18세)과 병(13세)이 A를 구타하고 있는 현장을 목격하고 이를 말리려 하였다. 갑의 개입에 화가 난 을이 갑자기 흥기를 꺼내 덤벼자, 생명에 위협을 느낀 갑은 이를 제지하는 과정에서 ㉠ 을을 벽으로 밀어 전치 2주의 상해를 입혔다. 화가 난 을이 더욱 심하게 덤벼들자 갑은 일단 자리를 피하려고 하였지만 을은 갑을 끝까지 추격하였다. 막다른 골목에 다다른 갑은 끝까지 따라온 을의 추격을 따돌리기 위한 다른 방법이 없자 ㉡ 옆집 대문을 부수고 그 집 차고에 들어갔다. 출동한 경찰관은 을을 ㉢ 현행범으로 체포하였고, A에 대한 상해 혐의로 현재 을에 대한 1심 형사 재판이 진행 중이다.

- ① 을에게 유죄가 인정되면 을은 형벌과 동시에 소년법상 보호 처분을 받을 수 있다.  
② 병에게는 책임 조각 사유가 존재하기 때문에 소년원 송치 처분의 대상이 될 수 없다.  
③ A는 을을 상대로 민사 소송을 별도로 제기하지 않아도 재판이 진행 중인 법원에 상해로 인한 치료비에 대해 배상 명령을 신청할 수 있다.  
④ ㉢은 법령에 근거한 행위로서 구성 요건에 해당하지 않기 때문에 범죄가 성립하지 않는다.  
⑤ ㉠, ㉡에 대해 범죄가 성립하지 않는다면, 모두 긴급 피난에 해당되어 위법성이 조각되기 때문이다.

16. 그림에 나타난 국제법의 법원(法源) A~C에 대한 설명으로 옳은 것은? (단, A~C는 각각 조약, 국제 관습법, 법의 일반 원칙 중 하나이다.) [3점]



- ① A는 당사국 간의 명시적 수용 절차를 거쳐야만 성립된다.  
② B의 예로는 신의 성실 원칙과 권리 남용 금지의 원칙이 있다.  
③ 우리나라에서 C의 체결·비준 권한은 국회에 있다.  
④ A는 C와 달리 성문화된 형식으로 존재한다.  
⑤ B는 A와 달리 국제 사회에서 포괄적 구속력을 가진다.

17. 다음 사례에 대한 옳은 법적 판단을 <보기>에서 고른 것은? [3점]

갑은 2017년 5월 7일, 을로부터 3천만 원을 빌리고 2018년 5월 6일까지 연 10%의 이자와 함께 변제하기로 을과 합의 하였다. 그러나 갑은 2018년 5월 6일이 지나서도 변제하지 않았다. 을은 갑에게 하루라도 빨리 변제할 것을 촉구하고 만약 변제하지 않으면 법적 조치를 취할 것이라고 통보하였다.

<보 기>

- ㄱ. 2017년 5월 7일 합의하면서 계약서를 작성하지 않았더라도 갑과 을 사이에 계약이 성립한다.
- ㄴ. 을은 갑에게 내용 증명 우편을 통해 변제를 촉구하는 통보를 하여야 민사 소송을 제기할 수 있다.
- ㄷ. 을은 갑에게 빌려준 돈을 변제받기 위하여 민사 소송을 제기 하기 전에 갑의 재산에 대하여 가압류 신청을 할 수 있다.
- ㄹ. 을은 집행력 있는 공증을 미리 받아 두었다더라도 재판 절차를 거쳐야 강제 집행 절차에 들어갈 수 있다.

- ① ㄱ, ㄴ    ② ㄱ, ㄷ    ③ ㄴ, ㄷ    ④ ㄴ, ㄹ    ⑤ ㄷ, ㄹ

18. 다음 자료에 대한 분석 및 추론으로 옳은 것은? [3점]

갑국 의회의 전체 의석수는 6석이며, 현재 6개의 선거구(가~바)에서 단순 다수제를 통해 의회 의원을 선출하고 있다. 갑국은 현재의 의석수는 유지하면서 다음과 같은 선거 제도 개편안을 논의하고 있다.

- <1안> 선거구 모두를 통합하여 전국을 한 개의 선거구로 만들고 정당별 전국 득표율에 따라 전체 의석을 각 정당에 배분한다.
- <2안> 전국을 2개의 선거구(가-나, 라-마-바)로 나누어, 선거구별로 유권자 수에 비례하여 전체 의석을 할당한다. 이후 각 선거구별로 할당받은 의석을 해당 선거구 내 정당별 득표율에 따라 각 정당에 배분한다.
- \* <1안>, <2안> 모두 각 정당의 득표율에 의석수를 곱하여 산출된 수의 정수(整數)만큼 각 정당에 의석을 배분하고, 이후 잔여 의석은 소수점 이하의 수가 큰 순서대로 각 정당에 1석씩 배분한다.

표는 갑국의 최근 의회 의원 선거에서 선거구별로 각 정당의 후보가 획득한 득표율과 유권자 수를 나타낸다.

선거구	정당별 득표율(%)				유권자 수(명)
	A당	B당	C당	D당	
가	43	36	15	6	2,000
나	34	36	21	9	2,000
다	37	30	24	9	2,000
라	26	42	22	10	1,000
마	33	31	28	8	1,000
바	46	29	19	6	1,000
전국	37	34	21	8	9,000

\* 투표율은 100%이며, 무효표는 없음.  
\*\* 개편안의 경우, 위 표를 근거로 차기 선거 결과를 판단함.

- ① 현행 제도에 비해 1안에서 의회 의원의 지역 대표성이 강화 된다.
- ② 현행 제도와 달리 2안에서 선거구 간 표의 증가성 문제가 발생한다.
- ③ 1안과 달리 2안에서 C당은 과대 대표된다.
- ④ 1안보다 2안에서 A당의 의석수가 많다.
- ⑤ 1안보다 2안에서 정당별 전국 득표율과 의석률 간 차이가 작다.

19. 다음 자료에 대한 옳은 법적 판단을 <보기>에서 고른 것은? [3점]

갑은 2017년 3월 6일 을이 소유한 X주택에 대하여 보증금 5천만 원에 임대차 기간을 2년으로 하는 주택 임대차 계약을 체결하였다. 갑은 2017년 4월 1일 X주택으로 이사한 후, 2017년 4월 7일 자로 전입신고를 마치고 같은 날 확정 일자를 받았다. X주택에 대한 경매가 개시된다는 소식을 들은 갑은 X주택의 등기 사항 전부 증명서에서 아래와 같은 내용을 확인하였다.

【을 구】 (소유권 이외의 권리에 관한 사항)

순위 번호	등기 목적	접수	등기 원인	권리자 및 기타 사항
1	저당권 설정	2017년 4월 4일 제○○○○호	---	채권액 금 1억 원 채무자 을 (이하 생략) 저당권자 병 (이하 생략)
2	저당권 설정	2017년 4월 11일 제△△△△호	---	채권액 금 7천만 원 채무자 을 (이하 생략) 저당권자 정 (이하 생략)

<보 기>

- ㄱ. 갑은 임차 보증금을 정에 우선하여 변제받을 권리를 가진다.
- ㄴ. 갑이 주택 임대차 보호법상 소액 임차인이라면, 임차 보증금 중 일정 금액을 병에 우선하여 변제받을 권리를 가진다.
- ㄷ. 갑은 2017년 4월 1일부터 제3자에 대한 대항력을 가진다.
- ㄹ. 정이 병보다 자신의 저당권을 먼저 실행하여 경매가 이루어진 경우, 정은 매각 대금에서 병에 우선하여 채권을 변제 받을 수 있다.

- ① ㄱ, ㄴ    ② ㄱ, ㄷ    ③ ㄴ, ㄷ    ④ ㄴ, ㄹ    ⑤ ㄷ, ㄹ

20. 국제 연합의 주요 기관 (가)~(다)에 대한 설명으로 옳은 것은?

국제 연합을 개혁해야 한다는 논의는 꾸준히 있어 왔다. 특히 국제 평화와 안전 유지에 관한 일차적 책임을 부여받은 (가) 을/를 개혁하기 위해 거부권을 가진 상임 이사국의 권한을 조정하고 규모를 확대하는 것이 논의의 핵심이다. 또한 국제 연합의 주요 사법 기관인 (나) 의 관할권을 확대함으로써 국제 사회의 분쟁을 보다 효과적으로 해결해야 한다는 주장도 있다. 그런데 국제 연합의 개혁을 위해서는 모든 회원국이 참여 하는 최고 의결 기관인 (다) 에서 헌장을 개정해야 한다. 헌장 개정은 회원국 3분의 2 이상의 찬성으로 채택되며, (가) 의 상임 이사국을 포함한 회원국 3분의 2가 자국 헌법상의 절차에 따라 비준한 경우에 효력이 발생한다.

- ① (가)의 상임 이사국은 회원국의 투표로 선출된다.
- ② (나)는 판결에 불복하는 당사국을 직접 제재할 수 있다.
- ③ 국가와 개인은 모두 분쟁 해결을 위해 (나)에 제소할 수 있다.
- ④ (가)와 달리 (다)의 표결 방식은 국제 사회를 바라보는 현실주의적 관점으로 설명될 수 있다.
- ⑤ (가), (다)는 모두 (나)의 재판관을 선출하는 권한을 가진다.

\* 확인 사항  
○ 답안지의 해당란에 필요한 내용을 정확히 기입(표기)했는지 확인 하시오.

제 4 교시

# 사회탐구 영역(법과 정치)

성명	수험 번호
----	-------

1. 정치의 의미에 대한 관점 (가), (나)에 대한 설명으로 옳은 것은?

(가) 정치는 사회를 구성하고 있는 개인이나 집단이 일상생활에서의 다양한 이해관계를 조정하기 위해 상호 작용함으로써 나타나는 현상이다. 이 현상은 희소한 자원을 배분할 때 발생하는 갈등을 해결하는 과정이며, 공공 부문을 포함한 사회생활의 모든 영역에서 나타난다.

(나) 정치는 사회를 구성하고 있는 개인 또는 집단이 반드시 지켜야 할 절차와 규범을 정치권력이라는 힘을 통해 만들어 가는 과정이다. 이 과정은 공식적 정치 조직들이 헌법과 법률을 통해 희소한 자원을 배분하는 방식을 결정하고 적용하는 국가의 활동이다.

- ① (가)는 정치 활동이 통치 엘리트들의 독점적인 의사 결정을 통해서만 이루어진다고 본다.
- ② (나)는 국가 형성 이전의 정치 현상을 설명하는 데 적합하다.
- ③ (가)는 (나)와 달리 국회가 조세의 종목과 세율을 법률로 정하는 것은 정치가 아니라고 본다.
- ④ (나)는 (가)에 비해 공동의 문제를 해결하는 과정에 참여하는 주체가 다양하다고 본다.
- ⑤ (가), (나) 모두 정부가 정책을 수립하고, 국정을 관리하는 활동을 정치라고 본다.

2. 그림에 나타난 갑국과 을국의 정부 형태에 대한 설명으로 옳은 것은? (단, 갑국과 을국의 정부 형태는 각각 전형적인 대통령제와 의원 내각제 중 하나이다.)



- ① 갑국에서는 내각이 의회에 대해 책임을 진다.
- ② 갑국에서는 의회 의원이 각료를 겸직할 수 있다.
- ③ 을국에서는 입법부와 행정부의 권력이 융합되어 있다.
- ④ 을국에서는 행정부 수반이 국가 원수의 지위를 가진다.
- ⑤ 을국과 달리 갑국에서는 행정부가 법률안을 제출할 수 있다.

3. A~C에 대한 옳은 설명을 <보기>에서 고른 것은? (단, A~C는 각각 고대 아테네 민주 정치, 근대 민주 정치, 현대 민주 정치 중 하나이다.) [3점]

A는 직접 민주주의를 기반으로 하였으나, 공동체의 구성원 모두가 국가의 의사 결정에 참여할 수 있는 것은 아니었다. 한편 B는 국가의 의사 결정을 대표에게 맡기는 형태를 취하였으나, 일정한 재산과 교양을 갖춘 시민만이 선거에 참여할 수 있었다. C에서는 이러한 B의 한계를 극복하여 보통 선거의 원칙을 확립하였다.

<보 기>

- ㄱ. A에서는 모든 성인 남녀에게 참정권을 부여하였다.
- ㄴ. C에서는 대의 민주주의의 한계를 극복하기 위해 직접 민주제의 요소가 보완되었다.
- ㄷ. A는 B와 달리 계몽사상의 영향을 받아 발전하였다.
- ㄹ. B, C 모두 주권이 국민에게 있다는 원리를 기초로 한다.

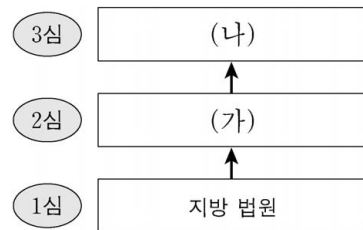
- ① ㄱ, ㄴ    ② ㄱ, ㄷ    ③ ㄴ, ㄷ    ④ ㄴ, ㄹ    ⑤ ㄷ, ㄹ

4. 법치주의의 유형 A, B에 대한 설명으로 옳은 것은? [3점]

근대 법치주의 전개 과정에서 등장한 A는 의회에서 적법한 절차를 거쳐 제정된 법에 의해 정부의 정치권력이 행사되지만 하면 문제가 없는 것으로 이해되었다. 그러나 아무리 형식적으로 합법성을 갖춘 법이라도 그 내용이 인간의 존엄성과 정의에 위반된다면 통제되어야 한다는 것이 역사적 경험을 통해 드러났다. 이후 법치는 국가 권력이 단순히 법에 의해 행사되는 것뿐만 아니라 자유·평등·정의에 부합하는 헌법적 가치에도 구속되어야 한다는 B로 확대되었다.

- ① A는 통치의 합법성보다 정당성을 강조한다.
- ② B는 법의 목적과 내용이 정의에 부합할 때 법의 권위가 발생한다는 점을 간과한다.
- ③ A는 B와 달리 국가 권력의 자의적 행사를 방지하기 위해서 통치자가 법의 구속을 받도록 한다.
- ④ B는 A와 달리 '법에 의한 지배'를 옹호한다.
- ⑤ A, B 모두 법이 국가와 시민을 구속하기 위한 조건으로 법 제정 과정의 적법성을 중시한다.

5. 그림은 우리나라의 사법 제도를 나타낸 것이다. 이에 대한 설명으로 옳은 것은? [3점]



- ① 동일 사건에 대해 2심이 항소심이라면 3심은 항고심이다.
- ② (가)에서의 재판이 민사 재판이라면 국민 참여 재판으로 이루어질 수 있다.
- ③ (가)가 지방 법원이라면 (나)는 고등 법원이다.
- ④ (나)는 (가)와 달리 위헌·위법 명령에 대한 심사권을 가진다.
- ⑤ (가), (나)의 법관은 국회에 의해 탄핵 소추될 수 있다.

6. 다음에 나타난 정치 참여 집단 A~C에 대한 설명으로 옳은 것은?  
(단, A~C는 각각 정당, 시민 단체, 이익 집단 중 하나에 해당하는 집단이다.)

- A는 의회 의원의 윤리적 자질을 평가하고 이들의 정치 활동에 대한 정보를 인터넷에 공개하고 있다. 이 밖에 공직자의 부정과 부패를 감시하며, 문제점을 해결할 수 있는 방안을 제시하기도 한다.
- B는 총기 판매와 소지에 대한 규제를 주장하는 강력한 여론에도 불구하고 자신들이 추구하는 목적을 달성하는 데에만 관심이 있다. 그러나 복지, 교육, 외교, 노동, 환경 등 다른 분야에는 관심이 없다.
- C는 중산층을 기반으로 설립되었고, 체제 유지를 위해 전통적인 규범과 권위를 중요시한다는 강령을 갖고 있다. 이들은 정권 획득을 통해 시장에 대한 국가의 개입을 최소로 하는 정책을 실현하고자 한다.

- ① A는 정치 과정에서 투입 기능을 독점한다.
- ② B는 행정부와 의회를 매개한다.
- ③ C는 정치적 중립을 추구한다.
- ④ A는 B와 달리 구성원의 이익을 공익보다 우선한다.
- ⑤ B, C 모두 정치 사회화 기능을 수행하지만, C는 정치적으로 책임을 진다는 점에서 B와 다르다.

7. 밑줄 친 'A 원칙'에 대한 옳은 설명만을 <보기>에서 있는 대로 고른 것은? [3점]

범죄로 규정되어 있지 않았던 행위를 법률의 개정으로 소급하여 처벌하는 것은 헌법상 평등의 원칙과 A 원칙에 반한다. 이와는 달리, 기존 판례에서 처벌하지 않았던 행위를 법률이 바뀌지 않았으나 판례가 변경되어 처벌하는 것은 헌법에 반하지 않는다. 형사 처벌의 근거가 되는 것은 판례가 아니라 법률이며, 판례의 변경을 제한하는 것은 사법 제도의 본질에 반하기 때문이다.

- <보 기>
- ㄱ. 형법의 보장적 기능 실현을 위해 필요한 원칙이다.
  - ㄴ. 행위 당시의 판례를 신뢰한 자는 보호되어야 한다는 원칙이다.
  - ㄷ. 범죄의 성립 및 처벌의 정도는 법관이 결정해야 한다는 원칙이다.
  - ㄹ. 행위 당시의 형벌 법규를 재판의 기준으로 삼아야 한다는 원칙이다.

- ① ㄱ, ㄴ                      ② ㄱ, ㄷ                      ③ ㄴ, ㄷ
- ④ ㄱ, ㄷ, ㄹ                ⑤ ㄴ, ㄷ, ㄹ

8. 밑줄 친 ㉠에 대한 설명으로 옳은 것은?

◇◇신문 2018년 ○○월 ○○일

국회 의사당 본관 앞 계단에서 동료 20명과 함께 '△△법 개정 반대한다.'는 구호를 외치며 농성했다는 이유로 갑은 기소되었다. 갑은 국회 의사당의 경계 지점으로부터 100미터 이내에서 옥외 집회를 금지한 ㉠ A 법률의 해당 조항은 위헌이라고 생각하여 □□ 지방 법원에 위헌 법률 심판 제청 신청을 하였다. 헌법 재판소는 헌법이 보장한 국회의 기능을 보호하기 위한 A 법률 해당 조항의 입법 목적은 정당하나, 위험 상황이 구체적으로 존재하지 않는 경우 까지도 예외 없이 국회 의사당 인근에서의 집회를 금지하는 것은 입법 목적의 달성에 필요한 범위를 넘는 과도한 제한이라고 보았다.

- ① ㉠은 갑의 '기본권 보장을 위한 기본권'을 제한한다.
- ② ㉠에 의해 제한된 갑의 기본권은 자본주의 발달에 따른 불평등을 시정하기 위해 등장하였다.
- ③ 헌법 재판소는 ㉠이 과잉 금지 원칙에 위배된다고 보았다.
- ④ 헌법 재판소는 ㉠에 의해 제한된 기본권이 국회의 기능 보호라는 입법 목적보다 항상 우선한다고 보았다.
- ⑤ □□ 지방 법원은 갑의 신청 없이 직권으로 ㉠에 대해 위헌 법률 심판을 제청할 수 없다.

9. 다음 자료는 시기별 갑국의 정부 형태와 의회 내 정당별 의석수를 나타낸다. 이에 대한 추론으로 가장 적절한 것은? [3점]



\*t 시기와 t+n 시기에서 행정부 수반은 모두 A 정당 소속이다.

- ① t 시기는 t+n 시기와 달리 행정부 수반의 임기가 보장되어 정책의 지속성을 확보하기가 용이했을 것이다.
- ② t 시기는 t+n 시기에 비해 국민의 다양한 의견이 투입되어 국정이 비능률적으로 운영되었을 것이다.
- ③ t+n 시기는 t 시기에 비해 다수당의 횡포 가능성이 높았을 것이다.
- ④ t+n 시기는 t 시기에 비해 의회 내에서 A 정당의 영향력은 감소한 반면 B 정당의 영향력은 증가했을 것이다.
- ⑤ t+n 시기는 t 시기에 비해 입법부와 행정부 간 대립 가능성이 높아 행정부의 강력한 정책 추진을 위한 법률 제·개정은 어려웠을 것이다.

10. 우리나라 헌법의 기본 원리 (가), (나)에 대한 옳은 설명을 <보기>에서 고른 것은?

20세기에 발생한 세계 대전을 통해 인류는 국가 간의 평화 질서 내에서만 인간의 존엄성을 보장할 수 있다는 교훈을 얻게 되었다. 이로 인해 우리나라 헌법 전문에서도 "...인류 공영에 이바지함으로써..."라고 하여 (가) 을/를 천명하고 있다. 한편 제2차 세계 대전 이후 한반도에서는 남북이 분단되어 군사적인 대치 상황과 이산가족 문제 등으로 많은 고통을 겪어왔다. 이에 우리나라 헌법은 (나) 을/를 기본 원리로 받아들이고 있다.

- <보 기>
- ㄱ. (가)에 따라 우리나라 헌법은 외국인의 지위 보장에 대해 상호주의를 택하고 있다.
  - ㄴ. (가)의 실현 방안으로 '재외 국민의 선거권 보장'이 적절하다.
  - ㄷ. (나)에 따라 우리나라 헌법은 자유 민주적 기본 질서에 입각한 평화 통일 정책을 추진하도록 하고 있다.
  - ㄹ. (나)의 실현 방안으로 '모든 유형의 전쟁을 금지하는 법률 제정'이 적절하다.

- ① ㄱ, ㄴ                      ② ㄱ, ㄷ                      ③ ㄴ, ㄷ                      ④ ㄴ, ㄹ                      ⑤ ㄷ, ㄹ

11. 다음 사례에 대한 법적 판단으로 옳은 것은?

갑은 홀어머니 을과 살던 중 병과 혼인하여 A, B를 출산하였다. 갑은 병과 이혼한 후 정과 재혼하고 혼인 신고를 하였다. 그 후 갑과 정은 무의 자녀 C를 친양자로 입양하였다. 최근 갑은 불치의 병에 걸려서 전 재산을 B에게 물려준다는 유언을 남기고 사망하였는데, 유언은 법에서 정한 형식을 갖추지 못하였다. 사망 당시 갑은 채무 없이 2억 원의 예금과 7억 원의 부동산이 있었고, 이외의 다른 재산은 없었다.

- ① A는 상속 재산 중 2억 원을 상속받는다.
- ② B가 상속을 포기하면 병은 갑의 재산을 상속받을 수 있다.
- ③ 정은 B에게 유류분 반환 청구를 할 수 있다.
- ④ 정은 을이 받게 될 상속분의 1.5배를 상속받는다.
- ⑤ 무와 C의 친자 관계가 유지되므로 C는 갑의 재산을 상속받을 수 없다.

12. 다음 사례에 대한 법적 판단으로 옳은 것은?

2018년 4월 2일에 갑은 을 소유의 X주택에 대해 보증금 2억 원에 임대차 기간을 1년으로 하는 주택 임대차 계약을 체결하였다. 갑은 2018년 4월 13일에 X주택을 인도받아 살고 있었는데, 을이 2018년 4월 16일에 ○○은행으로부터 2억 원을 대출받으면서 X주택에 대한 저당권 설정 등기를 해 주었다. 2018년 4월 23일에 갑은 전입신고를 하면서 임대차 계약서에 확정 일자를 받았다. 단, X주택에 대한 다른 권리 관계는 없다.

- ① 갑은 계약 기간이 1년이므로 임대차 기간이 2년임을 주장할 수 없다.
- ② 갑은 2018년 4월 13일 다음 날부터 제3자에 대한 대항력을 가진다.
- ③ X주택에 대한 저당권 설정 등기는 X주택 등기 사항 전부 증명서 갑구에 기재된다.
- ④ X주택에 대한 경매 절차가 진행되어 3억 원에 매각되면, 갑은 매각 대금에서 보증금 중 일부만 변제받을 수 있다.
- ⑤ 갑은 임대차 계약 종료 후 ○○은행에 보증금의 반환을 청구할 수 있다.

13. 다음 사례에 대한 옳은 법적 판단을 <보기>에서 고른 것은? [3점]

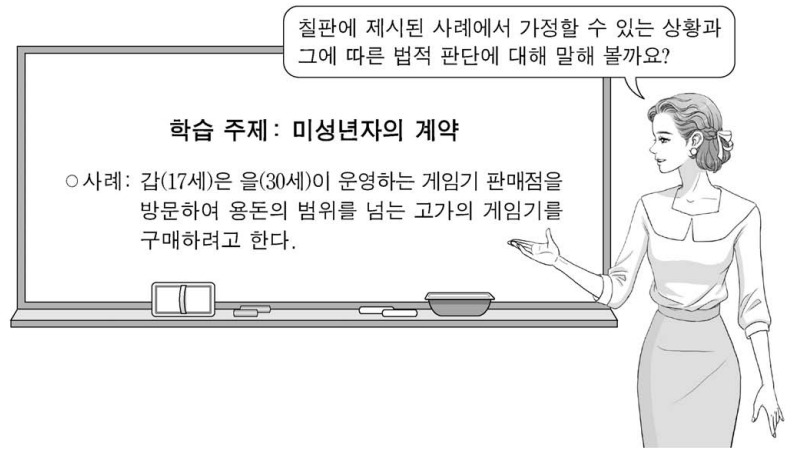
○ 갑 소유의 주택을 임차해서 살고 있는 을은 외벽 창틀에 하자가 있음을 알게 되었다. 그러던 어느 날 그 창틀이 갑자기 아래로 떨어져서 주차장에 주차되어 있던 병의 자동차가 파손되었다.  
○ 정이 운영하는 음식점의 종업원 무(17세)는 오토바이를 타고 급하게 음식 배달을 하던 중, 지나가던 사람을 치어 다치게 하였다.

<보 기>

ㄱ. 갑, 을은 공동 불법 행위 책임을 진다.  
ㄴ. 을은 공작물의 관리에 소홀함이 없음을 증명하지 못할 경우 병에게 금전으로 손해를 배상해야 한다.  
ㄷ. 무는 미성년자이므로 고의가 없다면 불법 행위가 성립하지 않는다.  
ㄹ. 정은 무에 대한 감독상의 과실이 없음을 증명할 경우 손해 배상 책임을 면할 수 있다.

- ① ㄱ, ㄴ    ② ㄱ, ㄷ    ③ ㄴ, ㄷ    ④ ㄴ, ㄹ    ⑤ ㄷ, ㄹ

14. 교사의 질문에 대한 옳은 답변을 <보기>에서 고른 것은? [3점]



<보 기>

ㄱ. 갑이 법정 대리인의 동의를 얻지 않고 게임기를 구매하였다면 을은 갑의 법정 대리인에게 계약을 취소할 것인지를 확답을 요구할 수 있어요.  
ㄴ. 게임기 구매 시 갑이 법정 대리인의 동의가 있는 것으로 을을 속였다면 갑의 법정 대리인은 계약을 취소할 수 없어요.  
ㄷ. 을이 갑에게 아무런 조건 없이 게임기를 무상으로 지급하는 경우에도 갑은 법정 대리인의 동의를 얻어야 해요.  
ㄹ. 갑이 법정 대리인의 동의를 얻어 게임기를 구매하였다더라도 갑은 계약을 취소할 수 있어요.

- ① ㄱ, ㄴ    ② ㄱ, ㄷ    ③ ㄴ, ㄷ    ④ ㄴ, ㄹ    ⑤ ㄷ, ㄹ

15. 다음 사례에 대한 옳은 법적 판단을 <보기>에서 고른 것은? [3점]

A 식료품 회사 사용자와 노동조합은 근로 조건에 관해 단체 교섭을 진행하였으나 사용자가 안전에 합의하지 않아 결렬되었다. 이에 노동조합은 적법하게 파업을 이끌었다. A 식료품 회사는 인사 위원회를 열어 파업을 주도했다는 이유로 갑(28세)에게 해고를 통보하였다. 이에 갑은 즉시 해고의 효력을 다투는 소송을 제기하였다. 법원은 해고 처분이 재량권 범위를 이탈·남용하여 위법하다고 판결하였고, 이 판결은 확정되었다.

<보 기>

ㄱ. 갑은 소송을 제기하기 전, 노동 위원회에 구제 신청을 할 수 있다.  
ㄴ. 갑이 A 식료품 회사의 인사 위원회 결정에 불복하여 제기한 소송은 민사 소송이다.  
ㄷ. 갑의 행위에 대한 A 식료품 회사의 해고 처분은 부당 해고에는 해당하지만 부당 노동 행위에는 해당하지 않는다.  
ㄹ. A 식료품 회사 사용자가 노동조합이 제시한 근로 조건에 관해 합의를 하지 않은 행위는 단체 교섭권을 침해한 것이다.

- ① ㄱ, ㄴ    ② ㄱ, ㄷ    ③ ㄴ, ㄷ    ④ ㄴ, ㄹ    ⑤ ㄷ, ㄹ

16. 다음 사례에 대한 법적 판단으로 옳은 것은? [3점]

갑(14세)은 얼마 전 길에서 주운 신분증을 이용해 편의점에서 술과 담배를 구입하려다 편의점 주인에게 적발되었다. 갑은 술과 담배를 가지고 황급히 도주하였지만 편의점 주인에게 붙잡혀 실랑이를 벌였고, 급기야 편의점 주인을 폭행하였다. 마침 지나가던 을(30세)이 갑을 제압한 후 경찰에 인계하였다.

- ① 갑의 범죄 행위는 소년부 보호 사건의 처리 대상에 포함되지 않아 일반 형사 사건과 동일하게 처리된다.
- ② 갑은 책임 조각 사유가 존재하므로 불기소 처분을 받는다.
- ③ 갑은 수사 종결 후 가정 법원 소년부로 송치되어 보호 처분의 결정을 받게 되면 항고할 수 있다.
- ④ 갑에 대한 공판 절차가 개시되면 을도 재판의 당사자가 된다.
- ⑤ 을이 갑을 제압한 행위는 자구 행위에 해당하기 때문에 범죄가 성립하지 않는다.

17. 국제 사회를 바라보는 관점 A, B에 대한 옳은 설명을 <보기>에서 고른 것은?

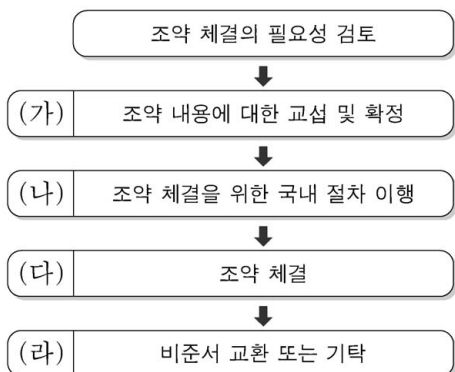
A를 지지하는 학자들은 국제법과 국제기구의 중요성을 강조하며 집단 안보 체제를 통해 국제 평화를 유지할 수 있다고 주장한다. 이에 반해 B를 지지하는 학자들은 제1차 세계 대전 이후 설립된 국제 연맹이 제2차 세계 대전의 발발을 막지 못하였고, 이후 설립된 국제 연합 역시 끊임없이 발생하는 국가 간 분쟁을 통제하지 못하였다는 점을 지적한다. 그래서 B를 지지하는 학자들은 군사력을 강화하거나 동맹을 맺는 것이 오히려 자국의 안전을 지키는 방법이라고 주장한다.

<보 기>

- ㄱ. A는 국가 간 힘의 균형을 강조한다.
- ㄴ. B는 국제 사회가 도덕 규범에 의해 통제되기 어렵다고 본다.
- ㄷ. A는 자유주의적 관점, B는 현실주의적 관점이다.
- ㄹ. B는 A와 달리 초국가적 행위 주체들의 역할을 강조한다.

- ① ㄱ, ㄴ    ② ㄱ, ㄷ    ③ ㄴ, ㄷ    ④ ㄴ, ㄹ    ⑤ ㄷ, ㄹ

18. 그림은 우리나라의 일반적인 조약 체결 절차이다. (가)~(라)에 대한 설명으로 옳은 것은?



\*기탁: 조약 체결 당사국이 비준서를 제출하여 그 효력의 발생을 인정하는 행위

- ① (가) 단계에서 정부 간 국제기구는 참여할 수 없다.
- ② (가) 단계에서 해당 조약의 포괄적 구속력이 발생한다.
- ③ (나) 단계에서 해당 조약에 대한 국회의 비준이 이루어진다.
- ④ (다)에 대한 권한은 대통령에게 있다.
- ⑤ (라) 이후 해당 조약은 헌법과 동등한 효력을 가진다.

19. 다음 사례에 대한 옳은 법적 판단을 <보기>에서 고른 것은?

갑(38세)은 길가에 주차되어 있던 자동차를 훔쳐서 운행하다 인적이 드문 곳에 버렸다. 자동차 주인인 을이 이를 알고 갑을 고소하였으나 갑은 수년간 도망 다녔다. 결국 갑은 경찰에 의해 체포되어 현재 수사가 진행 중이다.

<보 기>

- ㄱ. 갑의 범죄 행위에 대한 공소 시효가 지났다면 검사는 기소 유예 처분을 내려 수사를 종결한다.
- ㄴ. 공판 절차가 개시되면 을은 해당 법원에 배상 명령을 신청할 수 있다.
- ㄷ. 형(刑)의 선고 시 갑은 집행 유예와 보호 관찰 처분을 동시에 받을 수 있다.
- ㄹ. 을이 갑으로부터 범죄 피해를 배상받지 못할 경우 일정한 한도의 구조금 지급을 청구할 수 있다.

- ① ㄱ, ㄴ    ② ㄱ, ㄷ    ③ ㄴ, ㄷ    ④ ㄴ, ㄹ    ⑤ ㄷ, ㄹ

20. 다음 자료에 대한 분석으로 옳은 것은? [3점]

갑국은 현재 6개 선거구에서 단순 다수 대표제로 6명의 의회 의원을 선출하고 있다. 다음은 최근 의회 의원 선거 결과이다.

<정당별 득표 결과>

(단위: 표)

구분	A당	B당	C당	D당	합계
선거구 1	60	80	40	20	200
선거구 2	50	0	10	40	100
선거구 3	30	80	60	30	200
선거구 4	70	80	50	0	200
선거구 5	40	50	0	10	100
선거구 6	200	0	0	0	200
합계	450	290	160	100	1,000

\*투표율은 100%이며, 무효표는 없음.

갑국은 차기 의회 의원 선거를 앞두고 현재의 의석 정수를 유지하면서 다음과 같은 두 가지 개편안을 검토하고 있다. (단, 개편안의 경우 최근 의회 의원 선거의 정당별 득표 결과를 근거로 차기 선거 결과를 판단한다.)

<1안> 선거구 1-2, 3-4, 5-6을 통합하여 선거구를 3개로 축소하고, 각 선거구에서 득표순으로 2인의 대표를 선출한다. 정당은 당선 가능성을 고려하여 각 선거구에서 2인까지 후보자를 공천할 수 있다.

\*정당이 후보자를 공천할 때 2인이 당선 가능한 경우 2인을, 그렇지 않은 경우 1인을 공천한다.

<2안> 선거구 모두를 통합하여 한 개의 선거구로 만들며, 정당의 득표 비율에 의석 정수를 곱하여 산출된 수의 정수(整数)만큼 정당의 의석으로 배분하고, 이후 잔여 의석은 소수점 이하의 수가 큰 순서대로 각 정당에 1석씩 배분한다.

- ① A당의 경우 현행은 2안보다 유리하다.
- ② B당의 경우 현행은 1안보다 불리하다.
- ③ C당의 경우 현행보다 1안이, D당의 경우 현행보다 2안이 유리하다.
- ④ A당이 1안에서 얻을 수 있는 최대 의석수와 2안에서 얻을 수 있는 의석수는 동일하다.
- ⑤ 1안에서 B당은 과소 대표되고, 2안에서 C당은 과대 대표된다.

\* 확인 사항

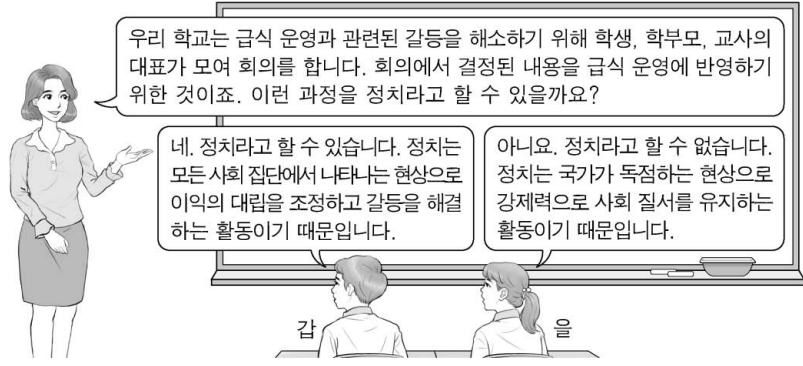
○ 답안지의 해당란에 필요한 내용을 정확히 기입(표기)했는지 확인하십시오.

제 4 교시

사회탐구 영역(법과 정치)

성명  수험 번호

1. 정치를 바라보는 갑, 을의 관점에 대한 설명으로 옳은 것은?



- ① 갑의 관점은 국가 형성 이전의 정치 현상을 설명할 수 없다.
- ② 을의 관점은 기업에 대한 시민 단체의 감시 활동을 정치로 본다.
- ③ 갑의 관점은 을의 관점과 달리 소수 통치 엘리트의 활동을 중시한다.
- ④ 을의 관점은 갑의 관점과 달리 다양한 집단을 정치의 주체로 본다.
- ⑤ 갑과 을의 관점 모두 정치권력을 획득하고 유지·행사하는 활동을 정치라고 본다.

2. 다음 자료에서 공통적으로 부각되는 우리나라 헌법의 기본 원리를 실현하기 위한 방안으로 가장 적절한 것은?

○ 국회는 노인 장기 요양 보험법을 제정하면서 장기 요양 급여가 원활하게 제공될 수 있도록 충분한 수의 요양 기관을 확충하여야 할 국가 및 지방 자치 단체의 책무를 규정하였다.

○ 헌법 재판소는 영유아 보육법의 직장 보육 지원 조항이 근로자들의 안정적 육아 및 고용 안정을 이루어 가정 복지 증진에 기여한다고 보았다.

- ① 언론·출판·집회·결사의 자유를 보장한다.
- ② 대통령 선거에서 재외 국민에게 선거권을 부여한다.
- ③ 복수 정당제를 기반으로 민주적인 정당 활동을 보장한다.
- ④ 상호주의에 근거해 국내 거주 외국인에게 지위를 보장한다.
- ⑤ 근로자의 생활 안정과 노동력의 질적 향상을 위해 최저 임금제를 시행한다.

3. 밑줄 친 정치 참여 집단 ㉠, ㉡의 일반적인 특징에 대한 공통점으로 옳은 것은? [3점]

구분	주요 활동
㉠ ○○ 단체	○ 국정 감사 모니터링 활동 ○ 노동 문제에 대한 대안 제시 ○ 사법부 활동 감시를 위한 시민 연대 결성
㉡ △△ 단체	○ 성과 연봉제 도입 반대를 위한 파업 주도 ○ 해외 금융 회사의 국내 진출 반대 로비 활동 ○ 조합원의 후생 복지를 위한 시설의 설치 운영

- ① 정치 사회화를 담당하며 정치 과정에서 산출 기능을 수행한다.
- ② 정부에 대하여 비판을 하며 정강에 기본 이념이 규정되어 있다.
- ③ 정치권력 획득에는 관심이 없으며 사회 전체의 공공선을 추구한다.
- ④ 정치적으로 책임을 지지 않으며 정부의 정책 결정 과정에 영향력을 행사한다.
- ⑤ 대의 민주주의의 한계를 보완하기 위해 시민의 여론을 수렴하여 법률안을 발의한다.

4. 다음 사례에 대한 법적 판단으로 옳은 것은? (단, A와 B는 우리나라 헌법 기관이다.) [3점]

A는 공직 선거법의 ‘국회의원 지역 선거구 구역표’에 대해 헌법 불합치 결정이 있었음에도 이를 개정하지 않았다. 국회의원 선거에 출마하고자 한 갑은 공직 선거법이 적용되는 구체적 사건이 없어 다른 권리 구제 절차를 거칠 수 없었기에 A의 헌법상 입법 의무 불이행에 대한 위헌 확인을 구하는 심판을 B에 청구하였다. 이에 대해 B는 A가 위 표를 개정하지 않아 갑의 기본권이 침해되었으나, 그 사이 위 표가 헌법에 맞게 개정되어 갑의 권리를 보호해야 할 실익이 소멸하였기에 헌법 위반 여부에 대한 판단을 내릴 수 없다는 결정을 내렸다.

- ① A의 헌법상 입법 의무 불이행으로 갑의 ‘기본권 보장을 위한 기본권’이 침해되었다.
- ② 갑은 위헌 법률 심판을 제청해 줄 것을 B에 신청하였을 것이다.
- ③ 갑이 B에 청구한 심판은 공권력에 의한 기본권의 침해를 전제로 하는 것이다.
- ④ 갑은 헌법 위반 여부에 대한 판단을 내릴 수 없다는 B의 결정에 불복하여 헌법 소원 심판을 청구할 수 있다.
- ⑤ A의 장(長)은 B의 장(長)과 달리 헌법상 의무 불이행을 이유로 탄핵 소추될 수 있다.

5. 표에 대한 옳은 분석 및 추론을 <보기>에서 고른 것은? (단, 갑국과 을국의 정부 형태는 각각 전형적인 대통령제와 의원 내각제 중 하나이다.) [3점]

질문	국가	갑국	을국
(가)		예	아니요
행정부 수반 소속 정당이 의회에서 과반 의석을 차지하는가?		아니요	아니요

<보 기>

㉠. (가)가 ‘의회 의원이 각료를 겸직할 수 있는가?’라면 갑국에서는 연립 내각 구성이 필요했을 것이다.

㉡. (가)가 ‘의회가 행정부 수반을 선출하는가?’라면 을국에서는 의회 내 다수석을 확보하기 위해 행정부 수반이 의회를 해산할 수 있다.

㉢. 갑국의 행정부 수반이 법률안 제출권을 가진다면 (가)에 ‘의회는 내각에 대한 불신임권을 행사할 수 있는가?’가 들어갈 수 있다.

㉣. 을국의 행정부 수반이 법률안 거부권을 가진다면 (가)에 ‘국가 원수와 행정부 수반이 동일인인가?’가 들어갈 수 있다.

- ① ㉠, ㉡    ② ㉠, ㉢    ③ ㉡, ㉣    ④ ㉢, ㉣    ⑤ ㉣, ㉣

6. 법치주의의 유형 A, B에 대한 설명으로 옳은 것은? [3점]

헌법 제59조는 “조세의 종목과 세율은 법률로 정한다.”라고 규정하여 조세 법률주의를 선언하고 있다. A는 국회가 제정한 법률이 과세 요건을 명확히 규정하고 있다면 그 목적과 내용의 정당성 여부와 상관없이 조세 법률주의에 위배되지 않는다고 본다. 그러나 B에 따르면 경제 활동을 더 이상 불가능하게 할 정도로 과도하게 조세를 부과하는 조세법은 허용되지 않는다. B는 과세 근거가 되는 법률의 목적과 내용 또한 기본권 보장이라는 헌법 이념에 부합되어야 한다고 보기 때문이다.


- ① A는 B와 달리 입법 절차의 합법성을 중시한다.
- ② A는 B와 달리 조세법이 적법한 절차에 따라 제정되었다라도 위헌 법률 심사를 할 수 있다고 본다.
- ③ B는 A와 달리 조세의 종목과 세율을 법률로 정해야 한다고 본다.
- ④ B는 A와 달리 다수당의 횡포와 독재 체제를 옹호하는 논리로 악용될 수 있다.
- ⑤ A와 B는 모두 국가가 국민의 재산권을 제한할 때 법률에 근거가 있어야 한다고 본다.

7. 교사의 질문에 대한 학생의 답변으로 옳은 것은? [3점]

A와 B가 발생하게 된 공통적인 배경은 무엇일까요?

**민주 정치의 발전 과정에서 발생한 A와 B**

- A: 19세기 영국에서 노동자들이 중심이 되어 21세 이상 남성의 선거권 보장 등을 요구하며 벌인 운동
- B: 20세기 초 영국에서 결성된 여성사회정치동맹(WSPU)의 활동가들이 여성의 선거권을 요구하며 벌인 활동



- ① 직접 민주 정치 제도에 대한 요구가 증가했기 때문입니다.
- ② 대의제로 인해 정책 결정의 효율성이 떨어졌기 때문입니다.
- ③ 개인주의가 심화되어 정치적 무관심이 확대되었기 때문입니다.
- ④ 사회 구성원의 정치 참여 증가로 중우 정치가 나타났기 때문입니다.
- ⑤ 국민의 대표를 선출할 권리가 보장되지 않아 정치 참여가 제한되는 사회 구성원들이 있었기 때문입니다.

8. 기본권 A~C에 대한 설명으로 옳은 것은? (단, A~C는 각각 자유권, 평등권, 청구권 중 하나이다.)

갑은 일정한 범죄로 확정 판결을 받은 사람의 디엔에이(DNA) 시료를 영장에 의해 채취하도록 한 ○○법에 따라 시료를 채취당하였다. 갑은 ○○법 조항이 입법 목적에 부합하는 구체적 채취 요건의 규정 없이 본인의 의사에 반해 구강 등에서 시료를 채취하도록 하여 신체의 안정성과 자율적 활동에 관한 A를 침해한다고 보았다. 또한, 갑은 해당 조항이 강력 범죄자와 경미한 범죄자를 합리적 이유 없이 동일하게 취급하여 B를 침해하고, 채취 대상자의 의견 진술 기회와 사후 불복 및 구제 절차를 마련하지 않아 C를 침해한다고 판단하여 헌법 소원 심판을 청구하였다.

- ① A는 현대 복지 국가 헌법에서부터 보장된 기본권이다.
- ② B는 국가에 특정 행위를 요구할 수 있는 절차적 권리이다.
- ③ C는 민주주의 이념 중 하나로 다른 기본권 보장의 전제 조건이다.
- ④ A는 소극적·방어적 권리, C는 적극적 권리에 해당한다.
- ⑤ A는 B와 C의 보장과 실현을 위한 수단적 성격의 권리이다.

9. 다음 자료에 대한 옳은 분석 및 추론을 <보기>에서 고른 것은?

전형적인 의원 내각제를 채택하고 있는 갑국의 의회 의원은 100명이며, 단순 다수제로 선출된 지역구 의원 80명과 정당별 득표율에 따라 결정된 비례 대표 의원 20명으로 구성된다. 표는 시기별 갑국의 의회 의원 선거 결과를 나타낸다.

<t대>						<t+1대>					
구분	A당	B당	C당	D당	합계	구분	A당	B당	C당	D당	합계
지역구 당선인수(명)	9	20	21	30	80	지역구 당선인수(명)	1	32	1	46	80
정당 득표율(%)	80	20	0	0	100	정당 득표율(%)	0	50	5	45	100

\* 비례 대표 선거에서 모든 정당은 득표율에 따라 의석을 할당받을 수 있음.

<보기>

- ㄱ. t대는 t+1대에 비해 다수당의 횡포 가능성이 높았을 것이다.
- ㄴ. t+1대는 t대에 비해 국정 운영에 대한 정치적 책임의 소재가 명확할 것이다.
- ㄷ. t대 정당 제도에서는 t+1대에 비해 정국이 불안정해질 가능성이 높다.
- ㄹ. t+1대 정당 제도에서는 t대에 비해 국민의 다양한 의견이 정책 결정 과정에 투입될 가능성이 높다.

- ① ㄱ, ㄴ    ② ㄱ, ㄷ    ③ ㄴ, ㄷ    ④ ㄴ, ㄹ    ⑤ ㄷ, ㄹ

10. 다음 자료에 대한 옳은 법적 판단을 <보기>에서 고른 것은?

갑이 운영하는 A 회사에서 2018년 7월부터 일하고 있는 을(20세)은 갑과 아래와 같은 내용의 근로 계약서를 작성하였다.

- 계약 기간은 1년, 시급은 9,000원
- 근로 시간은 14시부터 21시까지 (근무일 주 5일, 휴게 시간 17시부터 18시까지)
- 업무 내용은 상품 개발 및 마케팅

그러나 을은 근로 계약 내용과 달리 주차장 관리 업무도 담당하게 되었다. 을은 이에 대해 항의하는 과정에서 갑을 밀어 부상을 입혔다. 갑은 징계 위원회의 해고 결정에 따라 2018년 10월 5일 을에게 해고 사유와 시기를 구두로 통보하였다. 그러나 A 회사 노동조합은 을에 대한 해고를 반대하고 있다.

<보기>

- ㄱ. 갑의 을에 대한 해고 통보로 해고의 효력이 발생한다.
- ㄴ. 을은 노동 위원회 구제 신청과 별도로 법원에 해고의 효력을 다투는 소를 제기할 수 있다.
- ㄷ. 을이 근무일에 근로 계약서에 따라 일했다면 갑은 을에게 하루 임금으로 63,000원을 지급해야 한다.
- ㄹ. 갑의 을에 대한 행위는 부당 노동 행위에 해당하지 않으므로 A 회사 노동조합은 노동 위원회에 구제 신청을 할 수 없다.

- ① ㄱ, ㄴ    ② ㄱ, ㄷ    ③ ㄴ, ㄷ    ④ ㄴ, ㄹ    ⑤ ㄷ, ㄹ

11. (가)에 해당하는 사례로 옳은 것은?



- ① 을과 불공정한 금전 차용 계약을 법정 대리인의 동의를 받아 체결한 경우
- ② 소장품을 안 팔겠다고 했는데도 을이 몰래 가져가고 돈을 입금한 경우
- ③ 성인자인 것처럼 신분증을 위조하여 을로부터 오토바이를 구입한 경우
- ④ 용돈의 범위 내에서 법정 대리인의 동의를 받지 않고 을로부터 게임기를 구입한 경우
- ⑤ 1주일 동안 을의 강아지를 돌보는 조건으로 법정 대리인의 동의 없이 을로부터 장학금을 받는 계약을 체결한 경우

12. 다음 자료에 대한 법적 판단으로 옳은 것은? [3점]

갑은 A 주택에 대한 등기 사항 전부 증명서에서 아래의 내용을 확인하고 다음과 같이 계약을 진행하였다.

【 갑 구 】				
순위 번호	등기 목적	접수	등기 원인	권리자 및 기타 사항
1	소유권 보존	2010년 3월 4일 제○○○○호		소유자 을(이하 생략)
【 을 구 】				
순위 번호	등기 목적	접수	등기 원인	권리자 및 기타 사항
1	저당권 설정	2017년 1월 4일 제○○○○호	2017년 1월 4일 설정 계약	채권액 금 1억 원 채무자 을(이하 생략) 저당권자 병(이하 생략)

- 2017년 9월 16일: 갑은 자신이 주택 임대차 보호법상 소액 임차인에 해당함을 확인하고 A 주택에 대해 을과 보증금 5천만 원에 계약 기간은 입주일로부터 3년으로 하는 임대차 계약을 체결하면서 계약금 5백만 원을 지급하였다.
- 2017년 11월 10일: 갑은 을에게 잔금을 지급한 후 을과 임대차 계약서 작성을 완료하고 입주하였다.
- 2017년 11월 13일: 갑은 전입 신고를 하면서 임대차 계약서에 확정 일자리를 받지 않았다.

- ① 갑과 을이 체결한 임대차 계약은 2017년 11월 10일부터 유효하다.
- ② 갑은 2017년 11월 14일에 A 주택의 등기 사항 전부 증명서에서 자신의 임차권을 확인할 수 있다.
- ③ 갑은 주택 임대차 보호법에 따라 2019년 11월 9일까지 주거를 보장받고 그 이후에는 보장받지 못한다.
- ④ 2017년 12월 11일 A 주택이 경매된 경우 병이 받는 변제액은 갑이 확정 일자를 받았는지 여부에 영향을 받지 않는다.
- ⑤ 을이 임대 사실을 모르는 병에게 A 주택을 팔아 2018년 11월 9일 등기부의 갑구가 변경되면 갑은 더 이상 거주할 수 없다.

13. 다음 사례에 대한 법적 판단으로 옳은 것은? [3점]

A(남)는 B(여)와 이혼을 하였고 혼인 중에 출생한 딸 C는 B가 키우고 있었다. 홀어머니 D를 모시는 A는 E와 혼인 신고는 하지 않은 채 사실혼 관계에 있으면서 E와의 사이에서 태어난 아들 F와 함께 살고 있었다. 그런데 A가 사고를 당해 사망하였다. A가 남긴 재산으로는 7천만 원이 전부이고 F는 상속 자격을 갖추고 있다. A는 자신의 모든 재산을 D와 E에게 각각 1/2씩 주겠다는 유언장을 남겼다.

- ① A는 F를 친양자로 입양하는 절차를 거쳤다.
- ② 유언이 무효라면 C는 2천만 원을 상속받는다.
- ③ A의 사망 당시 E와 달리 B는 A의 친족이 아니다.
- ④ 유언이 무효이고 C와 F가 상속을 포기하면 D는 7천만 원을 상속받을 수 있다.
- ⑤ 유언이 유효하고 D와 E가 유언에 의한 권리를 포기하지 않더라도 C와 F는 균등하게 법정 상속분 전액을 상속받는다.

[14~15] 다음 사례를 읽고 물음에 답하시오.

A가 운영하는 학원에 다니는 갑(16세), 을(14세), 병(10세)은 수업을 받던 중, 고용된 강사 B가 잠시 자리를 비운 사이에 정(13세)과 말다툼을 하게 되었다. 그 과정에서 갑은 망을 보고 을과 병이 정을 때려 정에게 5주의 치료를 요하는 상해를 입혔다. 정은 폭행을 피하기 위해 강의실을 뛰쳐나가다 택배 기사 C를 밀어 C에게 2주의 치료를 요하는 부상을 입혔다. 현재 갑, 을, 병은 경찰에서 조사를 받고 있으며, 정은 A에게 남은 기간의 수강료에 대한 환불을 요구하고 있다.

14. 위 사례에 대한 법적 판단으로 옳은 것은? [3점]

- ① 정에 대한 을의 불법 행위 책임이 인정되는 경우 을의 부모는 책임 무능력자의 감독자 책임을 지지 않는다.
- ② 정에 대한 병의 불법 행위 책임이 인정되지 않는 경우 갑과 을은 정에게 불법 행위 책임을 지지 않는다.
- ③ A가 B의 사용자로서 정에 대해 불법 행위 책임을 지는 경우 B는 정에게 불법 행위 책임을 지지 않는다.
- ④ B의 불법 행위 책임이 인정되지 않는 경우에만 A는 정에게 채무 불이행으로 인한 손해 배상 책임을 진다.
- ⑤ 정이 C에게 부상을 입힌 행위는 정당방위에 해당하여 범죄가 성립되지 않으므로 정의 불법 행위 책임은 인정되지 않는다.

15. 갑~병의 소년 사건 처리에 대한 법적 판단으로 옳은 것은?

정에게 상해를 입힌 갑, 을, 병의 행위에 대한 경찰 수사 결과에 따라 갑과 을은 검사에게, 병은 가정 법원 소년부로 송치되었다. 검사는 갑과 을에 대한 법적 조치를 검토 중이다.

- ① 을, 병은 갑과 달리 선도 조건부 기소 유예 처분을 받을 수 없다.
- ② 갑과 을의 행위는 병의 행위와 달리 구성 요건에 해당하며 위법하다.
- ③ 검사가 갑과 을의 행위를 범죄로 판단하더라도 갑과 을을 가정 법원 소년부로 송치할 수 있다.
- ④ 검사가 갑과 을을 가정 법원 소년부로 송치하면 가정 법원 소년부가 형의 선고를 유예할 수 있다.
- ⑤ 병이 소년법상 보호 처분을 받는다면 갑, 을의 부모와는 달리 병의 부모는 민사상 책임이 면제된다.

16. 다음 사례에 대한 법적 판단으로 옳은 것은? [3점]

갑(25세)은 을에 대한 사기죄로 고소되어 경찰에서 피의자 신문을 받았다. 갑의 사건이 검찰로 송치된 이후 구속 영장이 발부되어 갑은 구속되었다가 5일 후 석방되었고 불구속 상태에서 공소가 제기되었다. 갑은 1심 재판에서 징역형을 선고받아 항소하였고, ○○고등법원 항소심 재판부는 갑에 대하여 A를 선고하였으며 그 판결은 항소심에서 최종 확정되었다.

- ① 갑은 영장 실질 심사를 통해 석방되었을 것이다.
- ② A가 '벌금형'이라면 갑은 형사 보상을 청구할 수 없다.
- ③ 갑의 1심 재판은 지방 법원 단독 판사가 담당하였을 것이다.
- ④ A가 '무죄'라면 갑은 항소심 재판부에 을을 상대로 한 배상 명령을 신청할 수 있다.
- ⑤ 수사 절차에서와 달리 1심 재판에서 갑은 진술 거부권을 보장 받지 못했을 것이다.

17. 밑줄 친 'A 원칙'에 대한 옳은 설명만을 <보기>에서 있는 대로 고른 것은?

갑은 을의 컴퓨터에 저장된 전자 파일을 자신의 이동식 저장 장치에 몰래 복사한 행위와 관련하여 절도죄로 공소 제기되었다. 갑은 1심 재판에서, 컴퓨터 파일과 같은 전자 정보를 복사하는 행위는 절도죄의 구성 요건에 해당하지 않음에도 절도 행위와 유사하다는 이유만으로 절도죄의 규정을 그대로 적용하는 것은 죄형 법정주의의 A 원칙에 위반된다고 주장하였다.

<보기>

ㄱ. 범죄의 성립과 형벌에 모두 적용된다.  
 ㄴ. 범죄와 처벌이 균형을 갖추어야 한다는 원칙이다.  
 ㄷ. 적용할 형법 규정이 없는 경우 법관의 자의적인 판단만으로 처벌할 수 없다는 것을 의미한다.  
 ㄹ. 범죄 행위가 어떤 것인지를 누구나 예측할 수 있게 법률로 명확하게 규정하여야 한다는 것을 의미한다.

- ① ㄱ, ㄷ                      ② ㄴ, ㄷ                      ③ ㄴ, ㄹ
- ④ ㄱ, ㄴ, ㄹ                ⑤ ㄱ, ㄷ, ㄹ

18. 국제 연합의 주요 기관 A~C에 대한 설명으로 옳은 것은?

국제 연합 헌장은 A가 B의 권고에 따라 국제 연합 가입 신청국의 가입 여부를 결정하도록 규정하고 있다. 그런데 냉전이 격화되면서 B의 상임 이사국들이 정치적 이해관계로 거부권을 행사하여 가입하지 못하는 신청국이 발생하였다. 이에 모든 회원국이 의결에 참여하는 A는 독자적으로 가입 여부를 결정할 수 있는지에 대해 C에 권고적 의견을 요청하였다. 1940년대 창설된 사법 기관 C는 A와 B에서 선출된 15인의 국적이 다른 재판관으로 구성되어 있다.

- ① A는 주권 평등 원칙에 따른 표결 방식을 채택하고 있다.
- ② B의 모든 이사국들은 신청국의 가입 여부에 대해 거부권을 가진다.
- ③ C는 국제 평화와 안전 유지에 대한 일차적 책임을 진다.
- ④ 다국적 기업 간의 분쟁이 국제 사회의 법적 분쟁이라면 C의 재판 대상이 된다.
- ⑤ B와 달리 A는 C가 내린 판결의 이행을 위해 적절한 조치를 결정할 수 있다.

19. A와 같은 국제법의 법원(法源)에 대한 설명으로 옳은 것은?

갑은 밀수 행위로 관세법을 위반한 사람에 대해 A에 의하여 형벌을 가중하는 것은 중대한 기본권의 침해라고 주장하면서 헌법 소원 심판을 청구하였다. 그러나 헌법 재판소는 A도 적법하게 체결·공포된 것이므로 국내법과 같은 효력을 가지기에 그로 인해 범죄자에 대한 형벌이 가중되더라도 헌법에 위반되지 않는다고 판단하였다.

- ① 체결 당사국뿐만 아니라 모든 국가에 효력을 미친다.
- ② 우리나라에서 헌법과 동일한 국내법적 지위를 지닌다.
- ③ 국회가 비준하고 대통령이 공포해야 효력이 발생한다.
- ④ 국가뿐만 아니라 국제기구도 체결 당사자가 될 수 있다.
- ⑤ 일반적인 국제 관행과 법적 확신의 결합에 의하여 성립된다.

20. 다음 자료에 대한 분석 및 추론으로 옳은 것은? [3점]

갑국의 의회 의원 정수는 6명으로, 현재 6개 선거구(1~6)에서 단순 다수제로 의회 의원을 선출하고 있다. 다음은 갑국의 최근 의회 의원 선거의 정당별 득표 결과와 선거구를 나타낸다.

〈정당별 득표 결과〉 (단위: 표)							〈선거구〉		
선거구	A당	B당	C당	D당	E당	합계	1	2	3
1	20	40	0	0	0	60	1	2	3
2	30	15	15	0	0	60			
3	10	35	10	5	0	60			
4	0	15	5	0	0	20	4	5	6
5	5	0	0	15	20	40			
6	15	5	0	0	40	60			
합계	80	110	30	20	60	300			

\* 유권자 1인은 1표를 행사하고 투표율은 100%이며, 무효표는 없음.

갑국은 현재의 의원 정수를 유지하면서 다음과 같은 두 가지 선거 제도 개편안을 검토하고 있다. 개편안의 경우 최근 의회 의원 선거의 정당별 득표 결과만을 근거로 판단한다.

<1안> 2개의 선거구를 하나로 통합하여 선거구를 3개로 축소하고, 각 선거구에서 득표수로 2인의 대표를 선출한다. 정당이 후보자를 공천할 때 2인이 당선 가능한 경우 2인을, 그렇지 않은 경우 1인을 공천한다. 선거구는 경계선이 접한 경우에만 통합이 가능하며, 대각선 방향으로의 통합은 고려하지 않는다. 통합 후 하나의 선거구 유권자 수가 다른 선거구 유권자 수의 2배 이상이 되지 않도록 한다.

<2안> 선거구 모두를 통합하여 한 개의 선거구로 만들며, 의석 할당 정당의 득표 비율에 의원 정수를 곱하여 산출된 수의 정수(整數)만큼 정당의 의석으로 배분한다. 의석 할당 정당의 득표 비율은 각 의석 할당 정당의 득표수를 모든 의석 할당 정당의 득표수 합계로 나누어 산출한다. 이후 잔여 의석은 소수점 이하의 수가 큰 순서대로 각 의석 할당 정당에 1석씩 배분한다. 단, 의석 할당 정당은 전체 투표 총수의 15% 이상을 득표하여야 한다.

- ① 현행에서 A당과 C당은 과소 대표되고, 2안에서 B당과 E당은 과대 대표된다.
- ② 1안에서 A당이 얻을 수 있는 최소 의석수는 1석, 최대 의석수는 3석이다.
- ③ 1안에서 선거구가 1-4, 2-5, 3-6으로 통합된다면, B당의 의석수는 현행보다 적어도 1석이 증가할 것이다.
- ④ C당의 경우 1안과 2안에서 얻을 수 있는 의석수는 동일하지 않다.
- ⑤ D당과 E당은 1안보다 2안이 유리하다.

\* 확인 사항  
 ○ 답안지의 해당란에 필요한 내용을 정확히 기입(표기)했는지 확인 하시오.

제 4 교시

# 사회탐구 영역(법과 정치)

성명		수험 번호							
----	--	-------	--	--	--	--	--	--	--

1. 정치를 바라보는 다음 관점에 대한 설명으로 옳은 것은?

우리는 정치를 입법부, 행정부 등 국가 기관과 관련된 활동들에 한정하여 생각하는 것에서 벗어나 정치의 의미를 확대해서 생각할 필요가 있다. 정치는 사회에서 권력이 형성, 분배되는 과정이며 이러한 과정은 다양한 사회 집단에서 발견되기 때문이다.

- ① 국회의 입법 과정을 정치로 보지 않는다.
- ② 부서 간 통폐합을 둘러싼 회사 내 갈등 해결 과정을 정치로 보지 않는다.
- ③ 국가 형성 이전에는 정치 현상이 나타나지 않았다고 본다.
- ④ 복잡하고 다원화된 현대 사회의 정치 현상을 설명하기에 적합하다.
- ⑤ 국가의 정치 현상과 다양한 사회 집단의 정치 현상은 본질적으로 다르다고 본다.

2. 법치주의의 유형 A, B에 대한 설명으로 옳은 것은? [3점]

A는 행정과 재판이 법률에 따라 이루어져야 한다고 보며, 합법적인 절차를 거쳐 제정된 법률이라면 그 목적이나 내용은 문제 삼지 않는다. B도 합법적으로 제정된 법률에 따른 행정과 재판을 중시하지만, 법률의 목적과 내용이 인간의 존엄성, 실질적 평등, 국민의 자유와 권리의 보장에 부합할 것을 강조한다.

- ① A는 정의에 부합하는 법만이 권위를 가진다고 본다.
- ② B는 통치의 정당성보다 합법성을 더 중시한다.
- ③ A는 B와 달리 위헌 법률 심사제의 필요성을 강조한다.
- ④ B는 A와 달리 독재자의 통치권을 강화하는 수단으로 악용될 우려가 있다.
- ⑤ A, B 모두 국가 권력 행사에 법적 근거가 필요하다고 본다.

3. 다음 자료에 대한 분석 및 추론으로 옳은 것은? [3점]

갑국은 전형적인 정부 형태인 대통령제와 의원 내각제 중 하나를 채택하고 있으며 ㉠을/를 통해 행정부가 의회를 견제하고, ㉡을/를 통해 의회가 행정부를 견제한다. 갑국 의회의 정당별 의석률은 A당이 60%, B당이 40%이며, 행정부 수반은 B당 소속이다.

- ① 행정부 수반과 국가 원수는 동일인이다.
- ② A당 소속 의원은 각료를 겸직할 수 있다.
- ③ '법률안 제출권'은 ㉠에 들어갈 수 있다.
- ④ '내각 불신임권'은 ㉡에 들어갈 수 있다.
- ⑤ '탄핵 소추권'은 ㉠에, '법률안 거부권'은 ㉡에 들어갈 수 있다.

4. A, B에 대한 설명으로 옳은 것은? (단, A, B는 각각 고대 아테네 민주 정치, 근대 민주 정치 중 하나이다.)

민주 정치는 역사적으로 '누가 정치에 참여할 수 있는가'와 '어떻게 정치에 참여할 것인가'에 따라 다양한 형태로 나타났다. 예를 들면 A에서는 재산, 성별 등에 따라 정치 참여에 제한이 있었고, B에서는 시민의 지위를 가진 일정 연령 이상의 남성에게만 정치 참여의 기회가 부여되었다. A에서는 시민이 선거를 통해 대표자를 선출하는 반면, B에서는 시민이 최고 의결 기구인 민회에 모여 국가의 중요 사안을 직접 결정하였다.

- ① A에서는 보통 선거의 원칙이 확립되었다.
- ② B는 '시민은 지배하면서 동시에 지배되어야 한다는 원리'에 기초하였다.
- ③ A는 B와 달리 추첨, 운번제를 통해 모든 시민에게 공직 참여의 기회를 부여하였다.
- ④ B는 A와 달리 국가 기관 간 견제와 균형을 위한 권력 분립의 원칙에 기초하였다.
- ⑤ A, B는 모두 입헌주의에 기반한 다수의 지배를 추구하였다.

5. 다음 자료에 나타난 정치 참여 집단 A~C에 대한 설명으로 옳은 것은? (단, A~C는 각각 정당, 시민 단체, 이익 집단 중 하나이다.)

정부가 추진하는 정책으로 인한 비용은 A에게 집중되고 이익은 국민에게 분산될 경우, A는 자신에게 소속된 업계 회원들의 비용 부담을 우려하여 해당 정책을 강력히 반대할 것이다. 반면 국민은 각자에게 돌아오는 이익이 작아서 큰 관심을 보이지 않을 것이다. 국민의 관심을 불러일으키기 위해서는 공익을 위해 활동하는 B의 역할이 요구된다. 한편 유권자의 지지가 필요한 C는 A와 B의 의견을 종합하여 이에 관한 정책을 다음 선거에서 공약으로 제시할 것이다.

- ① A는 B와 달리 정치 과정에서 산출 기능을 담당한다.
- ② B는 C와 달리 행정부와 의회를 매개한다.
- ③ C는 A와 달리 정권 획득을 목적으로 한다.
- ④ A는 B, C와 달리 대의제의 한계를 보완한다.
- ⑤ B는 A, C와 달리 정치 사회화 기능을 수행한다.

법과 정치

## 2 (법과 정치)

## 사회탐구 영역

6. 다음 사례에 대한 분석으로 옳은 것은? [3점]

구치소에 수용 중인 갑은, 구치소장이 수용자 거실에 설치한 폐쇄 회로 텔레비전(CCTV)으로 인해 기본권을 침해당했다며, 헌법 재판소에 권리 구제형 헌법 소원 심판을 청구하였다. 이에 대해 헌법 재판소는 구치소장의 해당 행위는 갑을 보호하기 위한 것으로 그 목적이 정당하고, 교도관의 감시만으로는 사고 발생을 막는 데 한계가 있으므로 목적 달성에 적합한 수단이며, 수용자가 입게 되는 피해를 최소화하기 위한 조치를 취하고 있다는 점에서 피해의 최소성을 갖추었다고 보았다. 또한 이로 인해 갑의 사생활의 비밀 및 자유가 제한되더라도, 이를 통해 보호하려는 공익이 더 크기 때문에 법익의 균형성을 갖추었다고 판단하여 기각 결정을 내렸다.

- ① 갑이 침해당했다고 주장하는 기본권은 '기본권 침해 구제받기 위한 수단적 성격'을 가진다.
- ② 갑이 청구한 심판은 법률의 위헌 여부가 재판의 전제가 된 경우에 이루어진다.
- ③ 갑의 헌법 소원 심판 청구는 사회적 기본권의 행사에 해당한다.
- ④ 헌법 재판소는 구치소장의 행위가 과잉 금지 원칙을 위배하지 않았다고 판단하였다.
- ⑤ 헌법 재판소는 보호하려는 공익보다 침해되는 사익이 더 작다고 할 수 없으므로 기본권 제한의 한계를 넘었다고 판단하였다.

7. 우리나라 헌법 기관 A~C에 대한 설명으로 옳은 것은?

헌법 기관	대통령 권한 행사에 대한 견제와 통제 방법
A	국정 감사와 국정 조사를 실시하여 정부를 감시
B	대통령령이 헌법이나 법률에 위반되는지 여부가 재판의 전제가 된 경우 이에 대한 위헌·위법 여부를 최종적으로 심사
C	대통령의 처분이 다른 국가 기관이나 지방 자치 단체의 권한을 침해하여 다툼이 있을 경우 권한 쟁의 심판을 담당

- ① 국무총리는 A의 의장이다.
- ② B는 정당의 목적이나 활동이 민주적 기본 질서에 위배된다는 이유로 정부가 제소한 정당 해산 심판을 담당한다.
- ③ C는 법관이 직무 집행에 있어 헌법이나 법률을 위반한 경우 해당 법관에 대한 탄핵 소추를 의결할 수 있다.
- ④ B는 위헌 법률 심판 제청을 통해 A를 견제할 수 있다.
- ⑤ C의 재판관 중 3인은 B의 장(長)이 임명한다.

8. 다음 자료에 나타난 법원의 판단으로 옳은 것은?

◇◇ 신문 2000년 00월 00일

갑은 길에서 버스를 기다리고 있었다. 이때 을이 갑으로부터 가방을 훔치기 위하여 갑의 가방을 잡아당겼다. 이를 저지하기 위하여 갑은 가방을 잡아당기는 을의 손을 뿌리쳐 을에게 3주간의 치료를 요하는 상처를 입혔다. 이에 대해 법원은 "갑의 행위는 을의 불법적인 공격 행위로부터 벗어나기 위한 본능적인 소극적 방어 행위에 지나지 아니하므로 사회 상규에 위반되지 아니한다."라고 판단하였다.

- ① 갑의 행위는 구성 요건에 해당하고 위법하다.
- ② 갑의 행위는 피해자의 승낙에 의한 행위에 해당한다.
- ③ 갑의 행위는 범죄의 성립 요건을 충족하지 않는다.
- ④ 을의 행위는 구성 요건에 해당하지 않는다.
- ⑤ 을의 행위는 정당방위에 해당한다.

9. 다음 자료에 대한 설명으로 옳은 것은? [3점]

우리나라 헌법의 기본 원리 (가)와 (나)의 비교

(가)	(나)
<b>■ 관련 헌법 내용</b> ○ _____ ㉠ ○ 대한민국의 주권은 국민에게 있고, 모든 권력은 국민으로부터 나온다.	<b>■ 관련 헌법 내용</b> ○ 모든 국민은 인간다운 생활을 할 권리를 가진다. ○ 국가는 균형 있는 국민 경제의 성장 및 안정과 적정한 소득의 분배를 유지하고 ... (중략) ... 경제에 관한 규제와 조정을 할 수 있다.
<b>■ 실현 방안</b> ○ 보통 선거 실시를 통한 국민의 참정권 보장	<b>■ 실현 방안</b> ○ _____ ㉡

- ① ㉠에 '대한민국은 민주 공화국이다.'가 들어갈 수 있다.
- ② ㉡에 '사유 재산의 절대적 보장'이 들어갈 수 있다.
- ③ (가)는 직접 민주제의 요소를 배제하고 국민이 선출한 대표에 의해 국가 의사를 결정해야 한다는 원리이다.
- ④ (나)는 국민 경제의 성장 및 안정을 위해 국가의 간섭이 최소화 되어야 한다는 원리이다.
- ⑤ (가), (나)는 모두 근대 입헌주의 헌법에서부터 강조되었다.

10. (가)에 들어갈 수 있는 내용으로 옳은 것은? [3점]

○○ 단체는 1인의 대표자를 선출하고자 합니다. 후보자는 갑~정이며, 유권자(A~K)의 후보자 선호 순위는 <자료 1>과 같습니다. 단, 유권자 1인은 1표를 행사하고 투표율은 100% 이고 무효표는 없으며, 전체 유권자는 항상 이 선호 순위에 따라 모든 투표에 참여한다고 가정합니다. 현행 제도에서는 유권자가 1순위 선호 후보자에게만 투표하여 최다 득표 후보자가 대표자로 선출되는데, <자료 2>의 1안 또는 2안으로 변경을 고려하고 있습니다. 이에 대해 분석해 볼까요?

(가)

<자료 1> <○○ 단체 유권자별 후보자 선호 순위>

유권자 후보자	A	B	C	D	E	F	G	H	I	J	K
갑	1	1	1	1	2	2	4	4	4	3	4
을	2	2	2	3	1	1	1	3	3	2	2
병	4	3	3	2	3	4	2	1	1	4	3
정	3	4	4	4	4	3	3	2	2	1	1

\* 선호도가 가장 높은 후보자가 1순위, 선호도가 가장 낮은 후보자가 4순위임.

<자료 2>

1안: 유권자는 모든 후보자에 대한 선호 순위를 표시하여 투표하며, 선호 순위에 따른 합계 점수가 가장 높은 후보자가 대표자로 선출된다. 선호 순위별 점수는 1순위 4점, 2순위 3점, 3순위 2점, 4순위 1점을 부여한다.

2안: 유권자는 1순위 선호 후보자에게만 투표하며, 과반수를 획득한 후보자가 대표자로 선출된다. 과반 득표자가 없을 경우 득표수가 많은 상위 2인을 후보자로 하는 결선 투표를 진행한다. 결선 투표에서 유권자는 2인의 후보자 중 선호도가 높은 후보자에게 투표하며 과반수를 획득한 후보자가 대표자로 선출된다.

- ① 현행 제도에서는 사표가 발생하지 않습니다.
- ② 1안에서 선호 순위 합계 점수가 높은 후보자부터 나열하면 을, 갑, 정, 병입니다.
- ③ 현행 제도는 1안과 달리 한 번의 투표로 대표자를 선출합니다.
- ④ 현행 제도는 다수 대표제, 2안은 소수 대표제에 해당합니다.
- ⑤ 1안과 2안에서 선출되는 대표자는 동일합니다.

11. 다음 사례에 대한 법적 판단으로 옳은 것은? [3점]

갑, 을, 병은 모두 17세이며, 법정 대리인의 동의 없이 각각 다음의 계약을 체결하였다.

- 갑은 A(30세)에게서 고가의 자전거를 구입했는데, A는 갑이 미성년자임을 알고 있는 상태에서 거래했다.
- 을은 B(30세)에게서 고가의 노트북을 구입했는데, B는 을과 거래할 당시에는 을이 미성년자임을 몰랐으나 다음날 알게 되었다.
- 병은 C(30세)에게서 고가의 음향 장비를 구입했는데, 병은 법정 대리인의 동의서를 위조하여 제시하였고, C는 이것을 보고 병이 미성년자이지만 법정 대리인의 동의를 받은 것으로 생각했다.

- ① 갑은 법정 대리인을 통해서만 A와의 계약을 취소할 수 있다.
- ② A는 갑의 법정 대리인에게 계약 체결의 의사 표시를 철회할 수 있다.
- ③ B는 미성년자인 을에게 계약의 취소 여부를 확답해 줄 것을 촉구할 수 없다.
- ④ 병이 법정 대리인의 동의서를 위조한 속임수로 계약을 체결했으므로 병과 C의 계약은 무효이다.
- ⑤ 갑, 을, 병은 모두 자신의 계약을 취소할 수 없다.

12. 다음 사례에 대한 법적 판단으로 옳은 것은?

- 갑은 의류를 생산하여 판매하는 A 회사에서 바지를 21만 원에 구입하면서 3개월 할부로 결제하였다. 집에 돌아와 보니 바지 치수가 규격에 맞지 않아 갑은 A 회사에 환불을 요청하였으나 거부당하였다. 다음날 갑은 A 회사에 환불을 요청하는 내용 증명 우편을 발송하였다. 이후 민사 조정을 신청하였다.
- 을은 B 회사의 온라인 쇼핑몰에서 화장품을 5만 원에 구입하면서 일시불로 결제하였다. 수령한 화장품이 마음에 들지 않아 을은 제품을 개봉하지 않은 채 바로 B 회사에 환불을 요청하였다. B 회사는 해당 상품이 약관상 '환불 불가' 품목이라며 거부하였다. 을은 한국 소비자원에 피해 구제를 신청하였다.

- ① A 회사가 일정 기간 내에 내용 증명 우편에 기재된 내용에 대해 이의를 제기하지 않으면, 그 내용은 법적 사실로 확정된다.
- ② 제조물 책임법에 따라 손해 배상을 받으려면, 갑은 바지의 결함에 대해 A 회사의 과실을 증명해야 한다.
- ③ 갑은 을과 달리 할부로 결제했으므로 계약을 철회할 수 없다.
- ④ 을은 갑과 달리 한국 소비자원의 피해 구제 절차가 끝나야만 법원에 민사 조정을 신청할 수 있다.
- ⑤ 한국 소비자원이 B 회사에 합의를 권고하더라도 B 회사는 이를 거부할 수 있다.

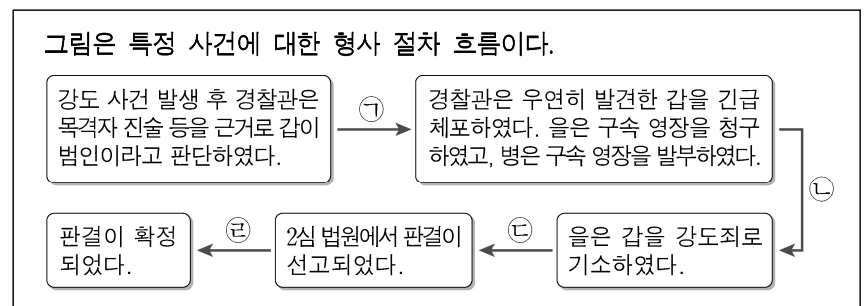
13. 다음 사례에 대한 법적 판단으로 옳은 것은? [3점]

2019년 3월 15일	갑은 자신이 소유한 ○○주택을 보증금 4억 원, 임대 기간 2년의 조건으로 을과 임대차 계약을 체결하였다.
2019년 4월 2일	을은 ○○주택으로 이사를 하면서 전입 신고를 하였다.
2019년 4월 16일	병은 갑으로부터 ○○주택을 매수하여 소유권 이전 등기를 마쳤다.
2019년 5월 2일	을은 확정 일자를 받았다.
2019년 5월 15일	병은 A 은행에서 ○○주택을 담보로 1억 원을 빌리고 저당권 설정 등기를 해 주었다.

\* ○○주택에 대한 다른 권리 관계는 없다.

- ① 을은 임대차 계약 당시 갑의 동의 없이 등기 사항 전부 증명서를 열람할 수 없다.
- ② 병은 소유권 이전 등기를 마친 후 바로 을에게 ○○주택의 인도를 청구할 수 있다.
- ③ 을이 받은 확정 일자는 등기 사항 전부 증명서의 갑구에 기재된다.
- ④ 병이 저당권을 설정하여 주었으므로 등기 사항 전부 증명서의 을구에 병은 저당권자, A 은행은 채권자로 기재된다.
- ⑤ ○○주택이 경매될 경우 을은 매각 대금에서 A 은행에 우선하여 보증금을 변제받을 수 있다.

[14~15] 다음 사례를 읽고 물음에 답하십시오.



14. ㉠~㉣에서 나타날 수 있는 형사 절차에 대한 설명으로 옳은 것은? [3점]

- ① ㉠에서 증거로 사용될 물건에 대하여 적법한 절차에 따른 압수가 가능하다.
- ② ㉡에서 갑에 대한 피고인 신문이 가능하다.
- ③ ㉢에서 1심 법원은 기소 유예 처분을 선고하였다.
- ④ ㉣에서 항소가 이루어졌다.
- ⑤ ㉣, ㉢에서 판사의 지휘로 형의 집행이 이루어졌다.

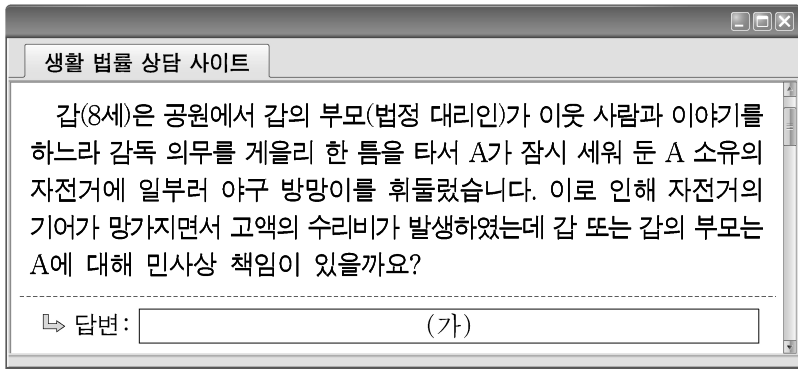
15. 위 사례에 대한 법적 판단으로 옳은 것은?

- ① 갑이 기소되더라도 갑에게 무죄 추정의 원칙이 적용된다.
- ② 갑은 병에 의해 구속 영장이 발부되기 전에는 변호인의 조력을 받을 수 없다.
- ③ 구속된 갑은 을에게 구속 적부 심사를 청구할 수 있다.
- ④ 을은 진범이 나타나 갑이 범인이 아니라고 판단하는 경우 갑에게 보석을 허가할 수 있다.
- ⑤ 갑에 대해 집행 유예 판결이 선고되어 확정되었다면 갑은 형사 보상을 청구할 수 있다.

# 4 (법과 정치)

# 사회탐구 영역

16. 그림의 (가)에 들어갈 법적 조언으로 옳은 것은? [3점]



- ① 갑에게 고의가 있으므로 갑은 특수 불법 행위 책임이 있습니다.
- ② 갑의 부모가 갑의 행위를 지시한 것이 아니므로 갑의 부모는 민사상 책임이 없습니다.
- ③ A가 자전거를 방치한 책임이 있기 때문에 갑의 부모는 불법 행위 책임이 없습니다.
- ④ 갑은 불법 행위 책임이 없지만 갑의 부모는 특수 불법 행위 책임이 있습니다.
- ⑤ 갑과 갑의 부모 모두에게 책임이 있으므로 갑과 갑의 부모는 연대하여 배상해야 합니다.

17. 다음 사례에 대한 법적 판단으로 옳은 것은?

갑과 을은 법률상 혼인 후 병을 입양하였다. 3년 후 갑과 을 사이에 정이 태어났다. 어느 날 갑은 심장마비로 사망하였다. 자신의 전 재산 21억 원을 A 재단에 기부한다는 갑의 유언장을 갑의 홀어머니 무가 발견하였는데, 법적으로 효력이 있는 유언장이었다. 갑은 사망 당시 채무가 전혀 없는 상태였다.

\* 사망자의 직계 비속과 배우자에게는 법정 상속분의 2분의 1, 사망자의 직계 존속과 형제자매에게는 법정 상속분의 3분의 1의 유류분이 보장됨.  
 \*\* 이 사례에서 유류분을 받을 수 있는 자는 자신에게 보장되는 유류분의 전액을 청구하는 것을 전제로 함.

- ① 갑의 사망으로 을과 병의 친자 관계는 종료된다.
- ② A 재단은 법정 상속인에 해당한다.
- ③ 을과 정이 법정 상속분은 동일하다.
- ④ 을은 병보다 적은 유류분액을 받게 된다.
- ⑤ 무는 유류분액을 받을 수 없다.

18. 국제 연합의 주요 기관 A~C에 대한 설명으로 옳은 것은? [3점]

- 15개 이사국으로 구성된 A는 자국민의 인권을 탄압하고 있는 갑국에 대해 만장일치로 경제적 제재를 결정하였다.
- 모든 회원국이 참여하는 B는 170개국의 찬성으로 을국 정부에 소수민족 탄압 정책을 중지하도록 촉구하는 결의안을 채택하였다.
- 15인의 재판관으로 구성된 C는 병국과 정국이 영토 분쟁을 겪고 있는 ○○ 지역에 대해 병국이 소유권을 가진다고 판결하였다.

- ① A의 모든 이사국은 거부권을 가진다.
- ② B는 의사 결정 과정에서 1국 1표의 원칙을 적용한다.
- ③ C는 국가 간, 국가와 개인 간 법적 분쟁을 다룬다.
- ④ C는 판결의 강제 이행을 위해 당사국을 직접 제재할 수 있다.
- ⑤ B는 A와 달리 C의 재판관 선출에 관한 권한을 가진다.

19. 밑줄 친 ㉠, ㉡에 대한 옳은 설명만을 <보기>에서 있는 대로 고른 것은?

우리나라에서는 국제적 합의 중 하나인 ㉠ 난민의 지위에 관한 협약이 1993년에 발효되어 이행되고 있다. 이후 난민 지위 및 처우 등에 관한 사항을 정하고자 ㉡ 난민법이 2012년에 국회에서 제정되어, 2013년부터 시행되고 있다.

<보 기>

- ㉠. 우리나라에서 ㉠에 대한 비준 권한은 대통령에게 있다.
- ㉡. ㉠은 ㉡과 달리 우리나라에서 헌법과 동등한 지위를 가진다.
- ㉢. ㉡은 ㉠과 달리 강제적으로 집행할 기관이 없다.
- ㉣. ㉠, ㉡은 모두 성문화된 형식으로 존재한다.

- ① ㉠, ㉡                      ② ㉠, ㉢                      ③ ㉡, ㉣
- ④ ㉠, ㉢, ㉣                ⑤ ㉡, ㉢, ㉣

20. 다음 자료에 대한 옳은 분석 및 추론만을 <보기>에서 있는 대로 고른 것은?

갑국의 정당 제도는 <방식 1>과 <방식 2>에 따라 양당제 또는 다당제로 판단할 수 있다.

<방식 1>  
 유효 정당 수로 정당 제도를 판단한다. 유효 정당은 의회의 총 의석수의 10% 이상을 가진 정당을 의미한다. 유효 정당 수가 2개이면 양당제, 3개 이상이면 다당제로 판단한다.

<방식 2>  
 유효 정당 지수로 정당 제도를 판단한다. 특정 국가의 유효 정당 지수가 1.5 이상 2.5 미만이면 양당제, 2.5 이상이면 다당제로 판단한다.

유효 정당 지수 =  $\frac{1}{\text{각 정당의 의석수를 제공한 값의 합}}$

\* 정당의 의석률 = 정당의 의석수 / 총 의석수

다음은 갑국의 의회 의원 선거 결과이다.

시기	정당별 의석수					총 의석수
	A당	B당	C당	D당	E당	
t	5	40	5	50	0	100
t+1	5	50	5	30	10	100

<보 기>

- ㉠. <방식 1>로 판단하면 t시기 정당 제도는 t+1 시기 정당 제도에 비해 정당 간 대립 시 중재가 용이하다.
- ㉡. <방식 2>를 적용하면 갑국의 유효 정당 지수는 t+1 시기가 t 시기에 비해 높다.
- ㉢. <방식 2>로 판단하면 t+1 시기 정당 제도는 t 시기 정당 제도에 비해 소수 의견 반영 가능성이 높다.
- ㉣. <방식 1>로 판단한 t시기 정당 제도와 <방식 2>로 판단한 t+1 시기 정당 제도는 동일하다.

- ① ㉠, ㉡                      ② ㉠, ㉢                      ③ ㉡, ㉣
- ④ ㉠, ㉢, ㉣                ⑤ ㉡, ㉢, ㉣

\* 확인 사항  
 ○ 답안지의 해당란에 필요한 내용을 정확히 기입(표기)했는지 확인 하시오.

제 4 교시

# 사회탐구 영역(법과 정치)

성명  수험 번호 ----- 제 [ ] 선택

1. 정치를 바라보는 갑, 을의 관점에 대한 설명으로 옳은 것은?

법과 정치 E-class

수업 자료    묻고 답하기    자유 게시판

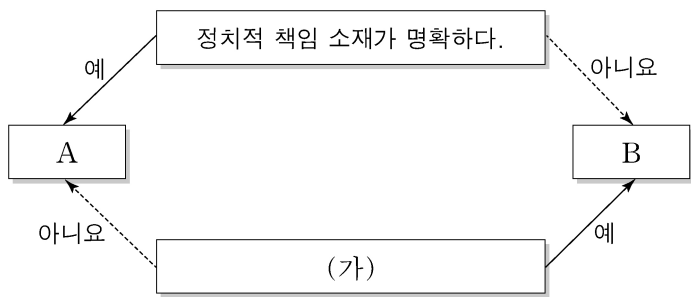
쓰레기 무단 투기와 불법 주정차로 불편함을 겪고 있는 ○○아파트에서는 최근 입주자 대표 회의를 통해 주거 환경 개선 방안을 마련하였습니다. 이러한 활동을 정치라고 볼 수 있을까요?

↳ 갑: 네, 정치라고 볼 수 있습니다. 정치는 모든 사회 집단에서 발생하는 이해관계의 대립을 조정하고 갈등을 해결하는 과정이기 때문입니다.

↳ 을: 제 생각은 다릅니다. 정치란 정치권력을 획득, 유지, 행사하는 국가 고유의 활동을 의미합니다. 따라서 정치라고 볼 수 없습니다.

- ① 갑의 관점은 국가 형성 이전의 정치 현상을 설명할 수 없다.
- ② 을의 관점은 시민 단체나 이익 집단 내에서 의사를 형성하는 것을 정치로 본다.
- ③ 갑의 관점에 비해 을의 관점은 다원화된 현대 사회의 정치 현상을 설명하기에 적합하다.
- ④ 을의 관점과 달리 갑의 관점은 소수의 통치 엘리트에 의해서만 정치 활동이 이루어진다고 본다.
- ⑤ 갑과 을의 관점 모두 대통령이 정책을 결정하는 것을 정치라고 본다.

2. 그림은 정당 제도 A와 B를 상대적 특성에 따라 분류한 것이다. 이에 대한 옳은 설명만을 <보기>에서 있는 대로 고른 것은? (단, A와 B는 각각 양당제와 다당제 중 하나이다.)



<보 기>

㉠. A보다 B에서는 다양한 민의를 국정에 반영하기가 용이하다.

㉡. B보다 A에서는 국가 정책을 강력하게 추진하기가 용이하다.

㉢. (가)에는 '의원 내각제에서 단독 정부가 구성된다.'가 들어갈 수 있다.

㉣. (가)에는 '민주주의의 원리에 부합하는 정당 제도이다.'가 들어갈 수 있다.

- ① ㉠, ㉡                      ② ㉠, ㉢                      ③ ㉢, ㉣
- ④ ㉠, ㉡, ㉣                ⑤ ㉡, ㉢, ㉣

3. 법치주의의 유형 A, B에 대한 옳은 설명만을 <보기>에서 고른 것은? [3점]

법치주의는 '사람의 지배'가 아닌 '법의 지배'를 의미한다. 그러나 A는 입법자에 의한 기본권 침해 가능성을 인식하지 못해 합법적 독재를 정당화하는 논리로 악용되었다. 이에 대한 반성으로 의회에서 적법한 절차를 거쳐 제정된 법률일지라도 그 내용과 목적이 인간의 존엄과 평등, 정의에 부합해야 한다는 B가 등장하였다.

<보 기>

㉠. A는 법률에 근거하지 않은 국가 권력 행사도 정당하다고 본다.

㉡. B는 통치 행위의 형식적 합법성과 함께 실질적 정당성도 강조한다.

㉢. B와 달리 A는 부당한 국가 권력에 대해 저항권을 행사할 수 있다고 본다.

㉣. A, B 모두 국민의 기본권을 제한할 때 법적 근거가 있어야 한다고 본다.

- ① ㉠, ㉡    ② ㉠, ㉢    ③ ㉡, ㉢    ④ ㉡, ㉣    ⑤ ㉢, ㉣

4. 갑국과 을국이 채택하고 있는 전형적인 정부 형태에 대한 설명으로 옳은 것은? [3점]

갑국의 정부 형태는 입법부와 행정부가 엄격히 분리된 형태로서, 입법부와 행정부가 별도의 선거를 통해 구성된다. 반면 을국의 정부 형태는 입법부와 행정부의 권력이 융합된 형태로서, 입법부에서 다수의 의석을 차지한 정당의 대표가 행정부 수반이 되어 내각을 구성한다.

- ① 갑국에서 행정부는 의회에 대해 정치적 책임을 진다.
- ② 을국에서 행정부는 의회를 해산할 수 있는 권한을 가진다.
- ③ 갑국과 달리 을국에서 행정부 수반과 국가 원수는 동일인이다.
- ④ 을국과 달리 갑국에서 행정부는 법률안 제출권을 가진다.
- ⑤ 갑국과 을국 모두에서 행정부 수반의 임기는 보장된다.

5. 국제 사회를 바라보는 관점 (가), (나)에 대한 설명으로 옳은 것은?

(가) 국제 사회는 무정부 상태이며, 자국의 안보를 위해서는 군사력을 강화하거나 동맹을 맺는 것이 필요하다.

(나) 국제 사회에는 보편적인 선(善)이 존재하며, 국제 사회의 문제들은 국제법이나 국제기구를 통해서 해결할 수 있다.

- ① (가)는 국가 간 권력 관계보다 상호 협력 관계를 중시한다.
- ② (가)는 국가 간 힘의 균형 상태에서 전쟁 발발 가능성이 높다고 본다.
- ③ (나)는 국제 사회는 힘의 논리보다 이성과 제도의 영향력이 크다고 본다.
- ④ (가)와 달리 (나)는 국제 사회에서 국가는 자국의 이익을 최우선으로 추구한다고 본다.
- ⑤ (나)와 달리 (가)는 국제 사회에서 국가보다 초국가적 행위 주체의 영향력이 강화되고 있다고 본다.

법과 정치

## 2 (법과 정치)

## 사회탐구 영역

6. 다음 자료에 대한 설명으로 옳은 것은? (단, A~C는 각각 고대 아테네 민주 정치, 근대 민주 정치, 현대 민주 정치 중 하나이다.) [3점]

아래 그림은 <질문 1>, <질문 2>에 대해 '예', '아니요' 중 같은 답을 할 수 있는 것끼리 점선으로 묶은 것이다.

<질문 1> 보통 선거 원칙이 확립되었는가?

<질문 2> 주권이 국민에게 있다는 원리를 기초로 하는가?

- ① A는 근대 시민 혁명을 통해 형성·발전되었다.
- ② B는 입헌주의 원리에 근거한 민주주의를 지향한다.
- ③ B에서는 C와 달리 대의 기구를 통해 국가 정책이 결정된다.
- ④ C는 A와 달리 치자(治者)와 피치자(被治者)의 동일성을 추구한다.
- ⑤ A에서는 B, C와 달리 모든 사회 구성원이 정치에 직접 참여할 수 있다.

7. 다음 자료에 대한 분석 및 추론으로 옳지 않은 것은? [3점]

전형적인 정부 형태를 지닌 갑국과 을국의 의회 전체 의석수는 각각 300석으로 지역 대표 200명과 비례 대표 100명으로 구성된다. 갑국과 을국 모두 하나의 선거구에서 선출되는 지역 대표의 수는 같고, 각 정당은 선거구별로 한 명의 후보자만 공천한다. 유권자는 지역 대표 선출을 위해 후보자에 1표를, 비례 대표 선출을 위해 정당에 1표를 행사한다.

- 갑국의 선거 제도는 병립형으로 각 정당이 얻은 지역 대표 의석수와 정당 득표율에 따라 배분된 비례 대표 의석수를 합쳐 정당별 총의석수가 확정된다.
- 을국의 선거 제도는 연동형으로 의회 전체 의석을 정당 득표율에 비례해 정당별 총의석으로 할당하고, 각 정당별 비례 대표 의석은 할당된 총의석수에서 지역 대표 의석수를 뺀 만큼 배정된다.

다음은 갑국과 을국의 최근 선거 결과이다.

<갑국의 최근 선거 결과>

구분	A당	B당	C당	D당
정당 득표율(%)	40	30	20	10
지역 대표 의석수(석)	120	50	20	10

<을국의 최근 선거 결과>

구분	가당	나당	다당	라당
정당 득표율(%)	40	30	20	10
지역 대표 의석수(석)	105	50	30	15

- ① 갑국에서 지역 대표를 선출하는 선거구 수는 200개이다.
- ② 을국이 대통령제 정부 형태라면 여소야대 정국이 형성된다.
- ③ 을국의 가당 비례 대표 의석수와 라당의 비례 대표 의석수는 같다.
- ④ 갑국의 최근 선거 결과에 을국의 선거 제도를 적용하면, B당의 비례 대표 의석수는 C당의 비례 대표 의석수보다 많다.
- ⑤ 을국의 최근 선거 결과에 갑국의 선거 제도를 적용하면, 나당, 다당, 라당과 달리 가당의 의회 의석률은 높아질 것이다.

8. 정치 참여 집단 A~C에 대한 설명으로 옳은 것은? (단, A~C는 각각 정당, 이익 집단, 시민 단체 중 하나이다.)

정치 참여 집단 A~C의 특성을 비교하면 A와 B는 '공익을 추구한다.'라는 공통점이, B와 C는 '정치적 책임을 지지 않는다.'라는 공통점이 있다.

- ① A는 정권 획득을 목표로 정치적 중립성을 추구한다.
- ② B는 정치 과정에서 산출 기능을 담당한다.
- ③ C는 정부와 의회를 매개한다.
- ④ B, C는 모두 대의제의 한계를 보완한다.
- ⑤ C와 달리 A, B는 정치 사회화 기능을 수행한다.

9. 다음 사례에 대한 옳은 분석만을 <보기>에서 고른 것은? [3점]

갑은 중과실에 의한 교통사고로 을에게 중상해를 입혔다. 을은 갑을 ○○법 위반죄로 고소하였으나, 검사는 △△특례법 조항에 따라 갑에 대하여 불기소 처분을 하였다. 이에 을은 해당 처분의 근거가 된 법률 조항이 평등권을 침해했을 뿐만 아니라 형사 재판 절차에서 자신의 피해에 대하여 의견 진술을 할 기회를 보장받을 수 있는 권리인 A도 침해하였다고 주장하면서 헌법 소원 심판을 청구하였다. 이에 대해 헌법 재판소는 △△특례법 조항은 중상해를 입은 피해자의 A 행사가 근본적으로 봉쇄됨으로써 교통사고의 신속한 처리 또는 전과자 양산 방지라는 입법 목적을 위하여 피해자의 사익이 현저히 경시된 것으로 법률 조항의 해당 부분이 헌법에 위반된다고 판단하였다.

<보 기>

- ㄱ. 을은 검사의 불기소 처분을 대상으로 하여 헌법 소원 심판을 청구하였다.
- ㄴ. 을이 헌법 소원 심판을 청구하기 위해서는 △△특례법 조항의 위헌 여부가 재판의 전제가 되어야 한다.
- ㄷ. A는 국민이 국가에 대하여 적극적으로 특정한 행위를 요구할 수 있는 수단적 성격의 기본권에 해당한다.
- ㄹ. 헌법 재판소는 입법 목적과 그 목적을 달성하기 위한 수단이 적정한 비례 관계를 유지하고 있지 않다고 판단하였다.

- ① ㄱ, ㄴ    ② ㄱ, ㄷ    ③ ㄴ, ㄷ    ④ ㄴ, ㄹ    ⑤ ㄷ, ㄹ

10. A의 일반적 특징에 대한 설명으로 옳은 것은?

교사: 국제법의 법원(法源) 중 A에 대해 발표해 볼까요?  
 갑: 국가 간 체결하는 법적 구속력을 지닌 명시적 합의입니다.  
 을: 우리나라에서는 헌법에 의하여 체결·공포되면 국내법과 같은 효력을 가집니다.  
 병: 문명국들이 공통적으로 승인하여 따르는 보편적 법 원칙입니다.  
 교사: 한 사람만 빼고 옳게 발표했네요.

- ① 국제기구는 A의 체결 주체가 될 수 있다.
- ② A는 국가를 초월한 입법 기관에 의해 제정된다.
- ③ 우리나라에서 A에 대한 체결·비준권은 국회에 있다.
- ④ A는 원칙적으로 국제 사회에서 포괄적 구속력을 가진다.
- ⑤ A의 예로는 신의 성실의 원칙과 국내 문제 불간섭의 원칙이 있다.

11. 다음 자료에 대한 법적 판단으로 옳은 것은?



우리 헌법은 직접 민주제 요소로 A만을 규정하고 있습니다. 그러나 A를 실시할 수 있는 경우가 제한되어 있어 제도의 실효성이 떨어진다는 비판이 제기됨에 따라 헌법 개정을 통해 또 다른 직접 민주제 요소인 B를 도입해야 한다는 주장이 있습니다. B가 실시되면 선출직 공직자는 일정한 절차에 따라 임기 내라도 해당 직을 상실할 수 있습니다.

- ① 국가 안위에 관한 중요 정책에 대해 A를 부의할 수 있는 권한은 대통령과 국회에 있다.
- ② 헌법 개정을 위한 A를 실시하기 위해서는 국회 재적 의원 3분의 2 이상의 발의가 요구된다.
- ③ B는 주권자인 국민이 자신이 선출한 대표에게 책임을 물을 수 있는 수단이 된다.
- ④ B가 도입될 경우 국회의원의 면책 특권을 제한하는 법률안을 국민이 직접 제안할 수 있다.
- ⑤ B가 도입될 경우 직무 집행에 있어서 헌법이나 법률을 위반한 공무원을 국민이 탄핵 소추할 수 있다.

12. 우리나라 헌법 기관 A~D에 대한 설명으로 옳은 것은?

우리 헌법은 입법 기관인 A에 의한 기본권 침해 예방 및 구제하기 위해 아래와 같은 제도적 장치를 마련하고 있다.

- 의결된 법률안이 헌법을 위반하거나 기본권을 침해할 우려가 있을 경우 B가 일정 기간 내 재의를 요구할 수 있다.
- 법률의 위헌 여부가 구체적 사건의 해결을 위한 선결 문제가 된 경우에 당해 사건을 담당하는 C의 제청으로 D가 해당 법률의 위헌 여부를 심판한다.

- ① A는 국가의 예산안을 심의·확정하고 결산을 검사한다.
- ② 행정부 내 최고 심의 기관의 모든 구성원은 A의 구성원 지위를 동시에 가질 수 있다.
- ③ B는 국가 원수의 지위에서 C와 D의 모든 구성원을 임명한다.
- ④ B는 사면, 감형 등을 명할 수 있는 권한을 행사하여 D를 견제할 수 있다.
- ⑤ A가 헌법상 입법 의무가 있는 사항에 관하여 입법을 하지 않아 기본권이 침해된 경우 A의 행위는 D의 심판 대상이 될 수 있다.

13. 다음 사례에 대한 옳은 법적 판단만을 <보기>에서 고른 것은?

고등학생 갑(16세)은 경연 대회에서 상품으로 받은 고가의 자전거를 같은 반 친구인 을(16세)에게 매도하였다. 을은 부모로부터 받은 용돈으로 매매 대금을 갑에게 지급하였다. 갑과 을은 서로의 나이를 알고 있었고, 매매 계약에 대해 법정 대리인인 부모의 동의를 얻지 않았다.

<보 기>

- ㄱ. 갑의 부모는 매매 계약을 취소할 수 없다.
- ㄴ. 을의 부모는 매매 계약을 취소할 수 없다.
- ㄷ. 을은 매매 계약 체결의 의사 표시를 철회할 수 없다.
- ㄹ. 갑이 을에게 자전거의 시가를 속여 매도하였다면 그 매매 계약은 무효이다.

- ① ㄱ, ㄴ    ② ㄱ, ㄷ    ③ ㄴ, ㄷ    ④ ㄴ, ㄹ    ⑤ ㄷ, ㄹ

14. 다음 사례에 대한 옳은 법적 판단만을 <보기>에서 고른 것은? [3점]

갑은 X 건물의 소유자인 A에게서 X 건물을 임차하여 음식점을 운영하고 있다. 음식점에 방문한 을은 종업원 병에게 음식을 주문하면서, 자신은 새우 알레르기가 있으니 새우를 빼고 요리를 해 달라고 부탁하였다. 그런데 이를 귀찮게 여긴 병은 을의 요구를 주방장에게 전달하지 않았고, 이에 새우가 들어간 음식을 먹게 된 을은 알레르기 반응에 의해 성대가 훼손되었다. 이 사고로 성악가의 꿈을 포기할 수밖에 없게 된 을은 자신의 처지를 비관하던 중, X 건물에 방화를 하였다. 그런데 X 건물의 화재경보기가 작동하지 않아 음식점 안에 있던 정이 중상을 입게 되었다.

<보 기>

- ㄱ. 갑과 병은 연대하여 을에게 채무 불이행 책임을 진다.
- ㄴ. 병이 을에게 불법 행위 책임을 지지 않는 경우, 갑은 특수 불법 행위 책임을 진다.
- ㄷ. 갑이 정에게 건물 점유자로서 특수 불법 행위 책임을 지는 경우, A는 특수 불법 행위 책임을 지지 않는다.
- ㄹ. 을이 A에게 건물에 대한 손해를 금전으로 모두 배상하였더라도, 정은 을에게 위자료를 청구할 수 있다.

- ① ㄱ, ㄴ    ② ㄱ, ㄷ    ③ ㄴ, ㄷ    ④ ㄴ, ㄹ    ⑤ ㄷ, ㄹ

15. 다음 사례에 대한 옳은 법적 판단만을 <보기>에서 고른 것은? [3점]

- 2018년 3월 5일 갑은 본인 소유의 X 주택을 보증금 4억 원에 을에게 임대하면서 임대차 기간을 1년으로 약정하였다. 2018년 3월 15일 을은 X 주택을 인도받아 살기 시작하였고 2018년 4월 16일에 전입신고를 하면서 임대차 계약서에 확정 일자를 받았다.
- 2018년 6월 16일 갑은 X 주택을 병에게 8억 원에 매도하면서 병이 갑에게 대금을 완납하면 X 주택이 병 소유가 되는 것으로 약정하였다. 2019년 5월 7일 병은 X 주택에 대한 소유권 이전 등기를 마쳤으나 갑에게 매매 대금 중 일부만을 지급하였다.
- 2019년 7월 9일 B에 의해 저당권이 실행되어 경매가 진행되었고 2019년 8월 19일 정에게 6억 원에 매각되었다.

다음은 경매 신청 당시의 X 주택의 등기 사항 전부 증명서의 일부이다.

【 등 기 】				
순위 번호	등기 목적	접수	등기 원인	권리자 및 기타 사항
1	저당권 설정	2018년 4월 16일 제○○○○호	2018년 4월 16일 설정 계약	채권액 금 3억 원 채무자 갑 (이하 생략) 저당권자 A (이하 생략)
2	저당권 설정	2018년 5월 9일 제○○○○호	2018년 5월 9일 설정 계약	채권액 금 1억 원 채무자 갑 (이하 생략) 저당권자 B (이하 생략)

<보 기>

- ㄱ. 2019년 5월 7일 병은 X 주택의 소유권을 취득한다.
- ㄴ. 2019년 7월 9일 병이 을에게 X 주택의 인도를 요구한 경우, 을은 임차권을 주장하여 병에게 대항할 수 있다.
- ㄷ. 을은 X 주택에 대한 매각 대금에서 A와 동순위로 보증금을 변제받을 수 있다.
- ㄹ. B는 X 주택에 대한 매각 대금에서 A보다 우선하여 변제받을 수 있다.

- ① ㄱ, ㄴ    ② ㄱ, ㄷ    ③ ㄴ, ㄷ    ④ ㄴ, ㄹ    ⑤ ㄷ, ㄹ

# 4 (법과 정치)

# 사회탐구 영역

16. 다음 자료에 대한 옳은 법적 판단만을 <보기>에서 고른 것은? [3점]

2014년 5월: 갑과 을은 이혼하면서 두 자녀 A(3세)와 B(13세) 모두에 대한 양육권은 갑이, 친권은 을이 가지기로 함.  
 2015년 1월: 갑은 병과 재혼함.  
 2016년 2월: 병은 A를 친양자로 입양함.  
 2019년 7월: 병이 갑을 상대로 법원에 재판상 이혼을 청구함. 병은 전 재산을 ○○대학에 기부한다는 유언장을 작성함.  
 2019년 8월: 병이 사망함.

<보 기>

- ㄱ. 병의 사망 당시 을은 A에 대한 면접 교섭권을 가지지 않는다.
- ㄴ. 병의 유언이 유효한 경우, 갑은 ○○대학을 상대로 유류분 반환을 청구할 수 없다.
- ㄷ. 18세가 된 B가 갑과 을의 동의를 얻어 혼인하면, B에 대한 을의 친권은 소멸된다.
- ㄹ. 을이 사망하면, A와 B가 을에 대한 법정 상속인이 된다.

- ① ㄱ, ㄴ    ② ㄱ, ㄷ    ③ ㄴ, ㄷ    ④ ㄴ, ㄹ    ⑤ ㄷ, ㄹ

17. 다음 자료에 대한 법적 판단으로 옳은 것은?

범죄 성립 여부는 일반적으로 다음 세 가지 요소를 고려하여 결정된다. A, B는 행위를 판단 대상으로 삼는 데 반해 C는 행위자를 판단 대상으로 삼는다. A는 법률에서 범죄로 정해 놓은 일정한 행위로서 A에 해당하면 대개 B는 인정되지만, 법질서 전체의 관점에서 볼 때 부정적이라는 가치 판단이 불가능하다면 B가 인정되지 않을 수도 있다. 한편 C는 행위자에 대해 가해지는 비난 가능성을 의미한다.

- ① 경찰관이 적법한 절차에 따라 현행범을 체포하였다면, A에 해당하지 않아 범죄가 성립하지 않는다.
- ② B가 인정되지 않아 무죄 선고를 받은 자에게도 치료 감호 처분은 가능하다.
- ③ 저항할 수 없는 폭력에 의해 강요된 절도 행위를 하였다면, B가 인정되지 않아 범죄가 성립하지 않는다.
- ④ 심신 장애로 인하여 사물을 변별할 능력이 없는 자라도 방화를 하였다면, C가 인정되어 범죄가 성립한다.
- ⑤ 사회 상규에 위배되지 않는 행위를 하였다면, A에 해당하더라도 B가 인정되지 않아 범죄가 성립하지 않는다.

18. 다음 사례에 대한 법적 판단으로 옳은 것은? [3점]

갑은 을에게 상해를 가하였고 을의 고소로 인하여 아래와 같이 형사 절차가 진행되었다.



- ① ① 단계에서 상해와 관련된 물건을 압수·수색하기 위해서는 경찰관의 신청에 의하여 검사가 발부한 영장을 제시하여야 한다.
- ② ② 단계에서 갑은 영장 실질 심사를 통해 구속 상태에서 벗어날 수 있다.
- ③ ③ 단계에 이르러야 비로소 국선 변호인 선임이 가능하다.
- ④ ② 단계와 ③ 단계에서 진술 거부권 고지 의무의 주체는 동일하지 않다.
- ⑤ ④ 단계에서 갑은 판사의 지휘에 의해 가석방될 수 있다.

19. 다음 사례에 대한 법적 판단으로 옳은 것은? [3점]

갑(15세)은 동생 을(9세)과 길을 건넌 중, 머리 위로 떨어지는 간판을 피하려다 같이 가던 병(18세)을 밀쳤고 그 결과 병에게 가벼운 상처를 입혔다. 그 사정을 몰랐던 병은 순간 화가 나 갑과 을을 폭행하였고 이로 인해 갑과 을에게 2주간 치료를 요하는 상해를 입혔다. 양갈음할 기회를 엿보고 있던 갑과 을은 병의 노트북을 훔쳐 사용하다가 정에게 팔아 버렸다. 며칠 후 정이 자신의 노트북을 사용하는 것을 우연히 본 병은 정에게 폭력을 행사하여 노트북을 되찾았다.

- ① 병에게 상처를 입힌 행위와 관련하여 갑과 달리 을에게는 선도 조건부 기소 유예 처분을 내릴 수 없다.
- ② 절도 행위와 관련하여 을과 달리 갑에게는 가정 법원 소년부에 의해 보호 처분이 부과될 수 있다.
- ③ 절도 행위를 이유로 갑이 기소되었다면, 형사 법원은 형벌 외에도 소년법상 보호 처분을 내릴 수 있다.
- ④ 갑과 을에 대해 상해 행위를 한 병에게 선도 조건부 기소 유예 처분이 내려졌다면, 불법 행위로 인한 민사상 책임은 면제된다.
- ⑤ 폭력을 행사하여 자신의 노트북을 되찾은 병의 행위는 정당 방위에 해당하여 범죄가 성립하지 않는다.

20. 다음 사례에 대한 법적 판단으로 옳은 것은?

갑은 쟁의 행위에 참가하였다는 이유로, 을은 근무 실적이 저조하다는 이유로 A 회사로부터 해고되었다.

↓ (가)

갑과 을은 각각 적법한 절차를 거쳐 ○○지방 노동 위원회에 A 회사의 해고에 대해 구제 신청을 하였는데, ○○지방 노동 위원회는 을의 구제 신청만을 기각하는 결정을 하였다.

↓ (나)

○○지방 노동 위원회의 구제 명령에 불복한 A 회사와 기각 결정에 불복한 을은 각각 적법한 절차를 거쳐 중앙 노동 위원회에 재심을 신청하였다.

↓ (다)

중앙 노동 위원회의 재심 판정에 대하여 갑과 A 회사는 각각 적법한 절차를 거쳐 행정 소송법이 정하는 바에 의하여 소를 제기하였다.

- ① (가)에서 A 회사의 노동조합은 갑과 을에 대한 해고에 대해 노동 위원회에 구제 신청을 할 수 있다.
- ② (가)에서 갑과 을은 ○○지방 노동 위원회에 A 회사의 해고로 인해 근로 3권이 침해되었다고 주장하였다.
- ③ (나)에서 을은 ○○지방 노동 위원회의 결정과 별도로 A 회사를 상대로 해고의 효력을 다투는 소를 제기할 수 있다.
- ④ (다)에서 중앙 노동 위원회는 갑과 달리 을에 대한 해고가 부당 해고에 해당하지 않는다고 판정하였다.
- ⑤ (다)에서 A 회사는 중앙 노동 위원회 위원장을 상대로 갑에 대한 해고의 무효를 확인하는 민사 소송을 제기할 수 있다.

\* 확인 사항

○ 답안지의 해당란에 필요한 내용을 정확히 기입(표기)했는지 확인 하시오.

문항에 따라 배점이 다르니, 각 물음의 끝에 표시된 배점을 참고 하시오. 3점 문항에만 점수가 표시되어 있습니다. 점수 표시가 없 은 문항은 모두 2점입니다.

▶ 9058-0159

**1** 다음은 정치의 의미에 관한 대화이다. (가), (나)에 들어갈 율 은 내용만을 <보기>에서 있는 대로 고른 것은?

갑 : 정치를 무엇이라고 생각하니?  
 을 : 국가가 권력을 획득하거나 행사하는 활동이라고 생각해.  
 갑 : 그래, 정치를 그런 의미로 본다면 (가)와 같은 활동 만을 정치라고 하겠네.  
 을 : 그러면, 다른 의미의 정치도 있다는 뜻이야?  
 갑 : 응, 정치를 다양한 사회 집단에서 나타나는 사회적 회소 가 치를 배분하는 활동이라고 보는 의미도 있어.  
 을 : 아, (나)와 같은 활동도 모두 포함해서 정치라고 한 다는 거지?  
 갑 : 그래, 맞아.

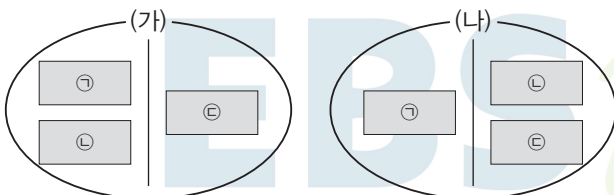
**보기**

- ㄱ. (가) - 새로운 복지 법안 마련을 위한 국무 회의
- ㄴ. (가) - 신규 사업 투자 여부 결정을 위한 그룹 이사회
- ㄷ. (나) - 현장 체험 학습 장소 선정을 위한 학급 회의
- ㄹ. (나) - 아파트 경비원 임금 인상안 협의를 위한 입주민 총회

- ① ㄱ, ㄴ                      ② ㄱ, ㄷ                      ③ ㄴ, ㄹ
- ④ ㄱ, ㄷ, ㄹ                ⑤ ㄴ, ㄷ, ㄹ

▶ 9058-0160

**2** 다음은 (가), (나) 기준에 따라 정치 참여 집단을 구분한 것이다. 이에 대한 율은 설명만을 <보기>에서 있는 대로 고른 것은? (단, (가), (나)는 각각 공익 추구 여부와 정치적 책임 유무 중 하나이 다.) [3점]



\* ㉠~㉡은 각각 정당, 시민 단체, 이익 집단 중 하나이다.

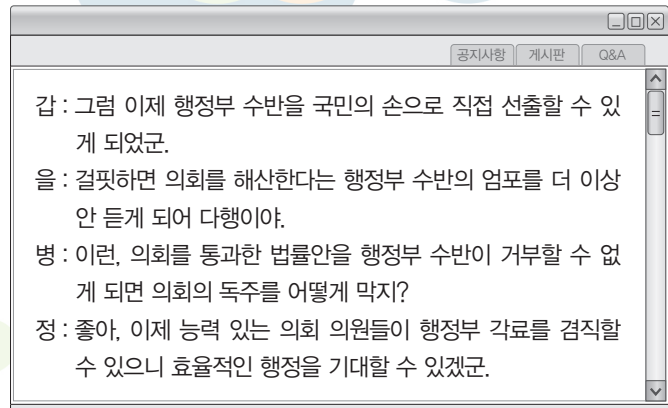
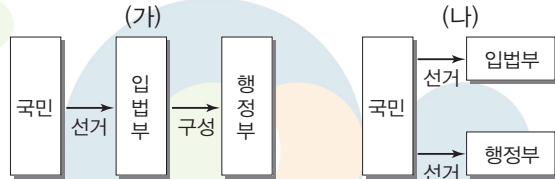
**보기**

- ㄱ. ㉠이 시민 단체이면 ㉡은 정당이다.
- ㄴ. ㉡이 이익 집단이면 ㉠은 정당이다.
- ㄷ. (가)가 공익 추구이면 ㉠은 정당이다.
- ㄹ. (나)가 정치적 책임이면 ㉡은 이익 집단이다.

- ① ㄱ, ㄷ                      ② ㄱ, ㄹ                      ③ ㄴ, ㄷ
- ④ ㄱ, ㄴ, ㄹ                ⑤ ㄴ, ㄷ, ㄹ

▶ 9058-0161

**3** 갑국은 정부 형태를 (가)에서 (나)로 변경하려 한다. 이에 대 한 여론 수렴 게시판에 타당한 내용을 작성한 사람을 고른 것은? (단, (가), (나)는 전형적인 정부 형태이다.) [3점]



- ① 갑, 을                      ② 갑, 병                      ③ 을, 병                      ④ 을, 정                      ⑤ 병, 정

▶ 9058-0162

**4** 다음은 어떤 민주 정치 형태를 설명하기 위한 사례들이다. 이 와 같은 민주 정치 형태에 대한 설명으로 율은 것은?

**타운 미팅[town meeting]**

미국 식민지 시대의 주민 총회. 선거권을 가지는 모든 주민의 직접 참여 로 예산안의 확정, 공무원·학교 이사의 선출, 조례 제정 등의 주요 정책 에 대한 토론과 표결이 이루어지는 타운의 최고 의결 기관

**란츠게마인데[Landsgemeinde]**

스위스의 일부 주(州)의 최고 의결 기구. 지역의 모든 주민이 매년 한 번 씩 모여 주법을 표결하거나 주지사, 주 정부 각료 등을 선출함

- ① 중우 정치의 발생 가능성을 차단할 수 있다.
- ② 고대 아테네에서는 참여 대상을 제한하지 않고 실시되었다.
- ③ 현대 사회에서 전자 민주주의의 확산으로 점차 소멸되고 있다.
- ④ 일정 수의 국민이 헌법이나 법률의 제정·개정 또는 폐지에 관한 제안을 할 수 있는 제도는 이에 해당된다.
- ⑤ 대통령 등 주요 공직자가 직무상 중대한 비위를 범한 경우 이를 의회가 소추하여 파면하는 제도는 이에 해당된다.



▶ 9058-0163

5 다음은 갑국과 을국의 총선거에서 각 정당별 후보자가 얻은 득표율이다. 갑국의 의석 분포와 같은 정당제 유형을 (가), 을국의 의석 분포와 같은 정당제 유형을 (나)라고 할 때 (가), (나)의 일반적 특징으로 옳은 것을 <보기>에서 고른 것은? (단, (가), (나)는 각각 다당제와 양당제 중 하나이며, 정당제 유형은 정당별 득표율과 상관없이 의석수로만 판단한다.) [3점]

〈갑국〉				〈을국〉			
㉠당	㉡당	㉢당	㉣당	1선거구	2선거구	3선거구	4선거구
62	17	8	13	28	27	19	26
77	9	6	8	33	26	38	3
64	13	11	12	24	31	32	13
72	13	4	11	27	23	29	21
61	16	17	6	32	30	31	7
23	49	24	4	26	28	29	17
82	6	3	9	29	27	20	24
68	14	15	3	31	18	32	19

\* 갑국은 소수 대표제를 사용하며, 각 정당은 선거구당 1명의 후보자만 공천한다. 을국은 다수 대표제를 사용한다. 갑국의 의회 의원수는 을국의 2배이고, 갑국과 을국 의회 모두 8개의 지역구에서 선출되는 의원으로만 구성된다.

보기

- ㉠. (가)는 (나)에 비해 정치적 책임 소재가 명확할 것이다.
- ㉡. (가)는 (나)에 비해 정당 간 대립 시 중재가 용이할 것이다.
- ㉢. (나)는 (가)에 비해 소수의 이익 보호에 유리할 것이다.
- ㉣. (나)는 (가)에 비해 유권자의 정당 선택 범위가 좁을 것이다.

- ① ㉠, ㉡    ② ㉠, ㉢    ③ ㉡, ㉢    ④ ㉡, ㉣    ⑤ ㉢, ㉣

▶ 9058-0164

6 다음 글에서 필자가 경계하고 있는 언론의 모습을 <보기>에서 고른 것은?

대중은 늘 스스로 판단하고 있다고 믿는다. 자신의 사상과 양심에 의해 정치인과 정책을 지지한다고 생각한다. 그런 개인의 선택이 모여 민주 정치가 이루어진다고 여긴다. 그러나 대중은 실체가 보이지 않는 '익명'의 권위에 이끌려서 자신도 모르게 선동된다. 그러면 누가 익명의 실체인가? 대중 조작은 언론을 통해 이루어진다. 권력 집단은 언론을 통해 자신들에게 유리한 정보를 확산시켜 여론을 형성한다.

보기

- ㉠. 언론은 특정 집단에 권력이 집중되는 데 기여할 수 있다.
- ㉡. 언론은 존재하는 사회 현상을 있는 그대로 정확히 보도한다.
- ㉢. 언론은 정보의 왜곡을 통해 대중을 획일화시키는 수단으로 활용된다.
- ㉣. 언론은 대중의 다양한 의견이 정책 결정 과정에 반영되는 데 기여한다.

- ① ㉠, ㉡    ② ㉠, ㉢    ③ ㉡, ㉢    ④ ㉡, ㉣    ⑤ ㉢, ㉣

▶ 9058-0165

7 다음은 헌법의 법적 의의를 구분한 것이다. (가)~(다)에 대한 설명으로 옳은 것은? [3점]

헌법의 법적 의의	관련 헌법 내용
(가)	제40조 입법권은 국회에 속한다. 제101조 ① 사법권은 법관으로 구성된 법원에 속한다.
(나)	제107조 ① 법률이 헌법에 위반되는 여부가 재판의 전제가 된 경우에는 법원은 헌법 재판소에 제청하여 그 심판에 의하여 재판한다. 부칙 제5조 이 헌법 시행 당시의 법령과 조약은 이 헌법에 위배되지 아니하는 한 그 효력을 지속한다.
(다)	제47조 ① ... 국회의 임시회는 대통령 또는 국회 재적의원 4분의 1 이상의 요구에 의하여 집회된다. 제61조 ① 국회는 국정을 감사하거나 특정한 국정 사안에 대하여 조사할 수 있으며, ...

- ① (나)는 헌법이 법령의 정당성을 평가하는 기준이 된다는 의미이다.
- ② (다)는 현대 복지 국가에서 새롭게 등장한 헌법의 법적 의의이다.
- ③ (가)는 (다)와 달리 국민의 기본권을 보장하기 위해 공권력 행사의 요건을 엄격하게 규정하는 근거가 된다.
- ④ (다)는 (나)와 달리 우리나라의 헌법 재판소에서 이루어지고 있는 헌법 재판의 근거가 되는 헌법의 법적 의의이다.
- ⑤ (가)와 (나)는 고유한 의미의 헌법에서는 나타나지 않는 헌법의 법적 의의이다.

▶ 9058-0166

8 표는 어느 나라의 의회 의원 선거 결과이다. 이에 대한 분석으로 옳은 것은?

구분	정당	A당	B당	C당	D당	E당
지역구 득표율(%)		47.1	47.5	3.1	1.3	1.0
정당 득표율(%)		40.2	49.7	4.1	2.2	3.8
지역구 의석수(석)		96	99	2	2	1
비례 대표 의석수(석)		21	27	2	0	0

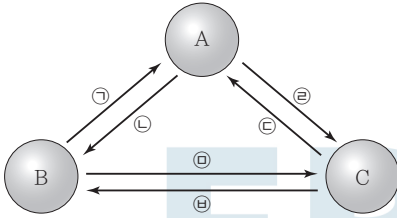
\* 지역구의 개수는 200개이며, 비례 대표 의석은 각 정당 득표율에 비례하여 배분한다.

- ① 정책 결정을 위한 정당 간의 연합이 반드시 필요하다.
- ② 지역구 선거구 간 표의 등가성 문제가 발생하지 않는다.
- ③ A당과 D당은 모두 정당 득표율에 비해 총 의석률이 높다.
- ④ B당은 C당과 달리 지역구 선거에서 유권자의 의사가 과소 대표되었다.
- ⑤ 비례 대표 의석 배분 시 일정 조건을 갖춘 정당에만 의석을 배분한다는 조항이 존재한다.



▶ 9058-0167

9 그림은 우리나라 국가 기관 간의 견제 관계를 나타낸 것이다. 이에 대한 설명으로 옳은 것은? (단, A~C는 각각 입법부, 사법부, 행정부 중 하나이다.) [3점]

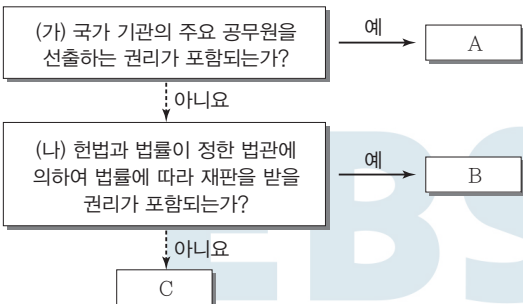


\* 화살표는 견제 권한의 행사를 의미함

- ① ①이 '위헌 명령 심사권'이면 C는 행정부이다.
- ② ②이 '사면권'이면 A는 공무원의 직무 감찰권을 가진다.
- ③ ③이 '탄핵 소추권'이면 A는 국가 예산의 결산 심사권을 가진다.
- ④ ④이 '법률안 거부권'이면 ①에 '위헌 법률 심판 제청권'이 들어갈 수 있다.
- ⑤ B가 입법부이면 ⑤에는 '국정 감사·조사권', ⑥에는 '대법관 임명권'이 들어갈 수 있다.

▶ 9058-0168

10 그림은 기본권 A~C를 구분한 것이다. 이에 대한 설명으로 옳은 것은? (단, A~C는 각각 평등권, 참정권, 청구권 중 하나이다.)



- ① A는 현대 복지 국가의 성립과 함께 등장하였다.
- ② B는 다른 기본권 보장의 전제 조건이 된다.
- ③ C는 주권자로서 국가의 정치 과정에 참여할 수 있는 권리이다.
- ④ (가)를 “사회생활에서 합리적 이유 없이 불평등한 대우를 받지 않을 권리인가?”로 대체하여도 A~C는 변함이 없다.
- ⑤ (나)를 “기본권 보장을 위한 수단적 성격을 가지는가?”로 대체하여도 B, C는 변함이 없다.

▶ 9058-0169

11 다음은 국민의 의무에 관한 헌법 조항이다. 이에 대한 옳은 설명만을 <보기>에서 있는 대로 고른 것은? [3점]

- (가) 제23조 ② 재산권의 행사는 공공복리에 적합하도록 하여야 한다.
- (나) 제31조 ② 모든 국민은 그 보호하는 자녀에게 적어도 초등 교육과 법률이 정하는 교육을 받게 할 의무를 진다.
- (다) 제35조 ① 모든 국민은 건강하고 쾌적한 환경에서 생활할 권리를 가지며, 국가와 국민은 환경 보전을 위하여 노력하여야 한다.
- (라) 제38조 모든 국민은 법률이 정하는 바에 의하여 납세의 의무를 진다.

보기

- ㄱ. (나)는 (다)와 달리 이행하지 않을 시 법적 제재가 따른다.
- ㄴ. (다)와 (라)는 의무이자 동시에 권리의 성격도 갖고 있다.
- ㄷ. (라)는 (가)와 달리 현대 복지 국가 이전에도 존재했던 고전적 의무이다.
- ㄹ. (가)~(라)를 헌법에 규정한 이유는 국민에게 새로운 의무를 함부로 부과하지 못하게 하여 기본권을 보장하려는 것이다.

- ① ㄱ, ㄴ, ㄷ                      ② ㄱ, ㄷ                      ③ ㄷ, ㄹ
- ④ ㄱ, ㄴ, ㄹ                    ⑤ ㄴ, ㄷ, ㄹ

▶ 9058-0170

12 다음은 갑이 운영하는 가전제품 매장에서 갑과 손님 을 사이에 나는 대화이다. 밑줄 친 ㉠~㉣에 대한 설명으로 옳은 것은?

갑 : 냉장고를 찾으시나요? 이 제품이 새롭게 출시된 ○○냉장고입니다.  
 을 : 어디 보자……, 이상하네요. ㉠ 소비 전력이 표기되어 있지 않네요. 다른 제품을 보여 주세요.  
 갑 : 그러면 절전 기능이 있는 이 □□제품은 어떠세요?  
 을 : 음……, 괜찮은 것 같네요. 가격은 얼마인가요?  
 갑 : 네, 할인해서 150만 원입니다. ㉡ 구입하시겠어요?  
 을 : ㉢ 네, 그렇게 하죠. 언제 배달이 가능한가요?  
 갑 : 내일모레 가능합니다. 이리 오셔서 ㉣ 계약서를 쓰고 배달할 주소를 알려 주세요.

- ① ㉠을 통해 소비자의 권리 중 '안전할 권리'가 침해되었음을 알 수 있다.
- ② ㉡으로 인해 갑에게는 제품 값을 받을 수 있는 권리가 발생한다.
- ③ ㉢은 '승낙'의 의사 표시에 해당한다.
- ④ ㉣의 작성 이후에 갑과 을 사이의 계약 성립이 확정된다.
- ⑤ ㉣을 작성하지 않으면 계약 이후 갑과 을 사이에 분쟁이 발생하여도 법적 처리 절차를 밟을 수 없다.



▶ 9058-0171

### 13 다음 사례에 대한 법적 판단으로 옳은 것은? [3점]

- 꽃집 사장 A는 종업원 B에게 트럭을 이용한 화분 배달을 지시하였고, 배달이 끝난 후 돌아오던 B는 교차로에서 트럭으로 C의 자동차를 들이받아 C의 자동차를 파손시켰다.
- D는 E가 소유한 건물을 임차하여 식당을 운영하고 있었는데, 어느 날 식당의 창문이 떨어져 지나가던 행인 F가 상처를 입었다.

- ① C는 A에게 손해 배상을 청구할 경우 치료비 이외에 정신적 피해에 대한 위자료는 청구할 수 없다.
- ② A가 C에 대한 손해 배상 책임을 인정하는 경우 B의 불법행위로 인한 손해 배상 책임은 면제된다.
- ③ B가 C의 자동차를 들이받은 행위에 고의성이 없음을 증명하면, A와 B 모두 C의 손해에 대해 배상하지 않아도 된다.
- ④ E가 아닌 D가 F의 손해에 대해 배상 책임을 지는 경우는 특수 불법 행위 책임이 성립되지 않는다.
- ⑤ A와 D는 주의를 다하였음을 증명하면 면책될 수 있지만, E는 고의나 과실이 없더라도 무과실 책임을 질 수 있다.

▶ 9058-0172

### 14 다음 사례에 대한 법적 판단으로 옳은 것은?

갑은 을과 결혼식은 올리지 않고 혼인 신고만 하고 살면서 자녀 병과 정을 낳았다. 그러나 갑의 외도로 인한 잦은 다툼 끝에 병이 20세, 정이 14세 되던 해에 갑과 을은 협의상 이혼을 하였다. 아버지 갑에게 실망한 정은 을과 함께 지내면서 갑과 인연을 끊고 지내다가, 3년 뒤 친할머니 무를 통해 갑이 사망했다는 소식을 들었다.

- ① 병과 정은 법정 상속액은 동일하다.
- ② 갑과 을은 이혼 시 숙려 기간을 거치지 않았을 것이다.
- ③ 갑과 을의 이혼이 성립된 이유는, 갑의 외도가 민법에 정해진 이혼 사유에 해당했기 때문이다.
- ④ 이혼 전에 갑이 사망했다라도 을은 사실혼 관계의 배우자이므로 법정 상속권이 없었다.
- ⑤ 갑이 전 재산을 A 기관에 기증한다는 법적으로 유효한 유언이 있었다면, 을을 제외한 무, 병, 정은 A 기관에 유류분의 반환을 청구할 수 있다.

▶ 9058-0173

### 15 (가)~(바)는 일반적인 주택 매매 절차를 순서에 무관하게 나열한 것이다. 이에 대한 설명으로 옳은 것은?

(가)	계약금 지급
(나)	중도금 지급
(다)	매매 계약서 작성
(라)	잔금 지급 및 등기
(마)	등기사항 전부 증명서 확인
(바)	계약 당사자가 집주인이 맞는지 확인

- ① (나) 이전에 매수인이 매매 계약을 해제하기 위해서는 통상 계약금의 2배에 해당하는 금액을 해약금으로 매도인에게 지급해야 한다.
- ② (다)가 이루어져야만 주택 매매 계약이 법적으로 효력을 갖게 된다.
- ③ (마)에서 갑구에 기재된 소유권자와 매도인이 일치하는지 확인해야 한다.
- ④ (바)에서 집주인의 배우자는 위임 절차 없이 대리료 계약을 맺을 수 있다.
- ⑤ 일반적인 주택 매매 절차 순서는 (바)-(다)-(마)-(가)-(라)-(나)이다.

▶ 9058-0174

### 16 다음은 범죄의 성립 요건에 관한 글이다. ㉠~㉣에 대한 설명으로 옳은 것은? [3점]


범죄가 성립되기 위해서는 해당 행위가 구성 요건 해당성, , 이라는 세 가지 요건을 갖추어야 한다. 해당 행위가 에서 규정하고 있는 구성 요건에 해당되더라도, 정당방위, 긴급 피난 등의 사유로 이 조각된다면 범죄가 성립하지 않는다. 이 인정되는 행위라 할지라도 이 조각되면 범죄가 성립하지 않는다.

- ① ㉠은 위법 행위를 했다는 데 대하여 행위자에게 가해지는 비난 가능성을 의미한다.
- ② ㉠ 조각 사유에는 법령에 의한 행위 또는 업무로 인한 행위, 기타 사회 상규에 위배되지 않는 행위가 포함된다.
- ③ ㉡은 해당 행위가 법질서 전체의 관점에서 부정적이라는 가치 판단이 가능한 경우이다.
- ④ ㉡ 조각 사유에는 처분할 수 있는 자의 승낙에 의하여 그 법익을 훼손한 행위가 포함된다.
- ⑤ ㉢에 들어갈 말은 “헌법”이다.



▶ 9058-0175

**17** 그림에 나타난 형사 절차에 대한 설명으로 옳은 것은? (단, 갑은 구속 상태에서 재판을 받고 있으며, (나)는 (가)에 대한 항소심이고, (나)에서 판결이 확정되었다.) [3점]



- ① (가)에서 재판부는 배심원의 평결을 따라야 한다.
- ② (가) 이후 갑의 청구가 있어야만 (나)가 열릴 수 있다.
- ③ (나)의 항소 법원은 지방 법원 합의부를 의미한다.
- ④ ㉠에서 피고인 갑에게 징역 6월에 집행 유예 1년을 선고했다면 갑은 즉시 석방된다.
- ⑤ ㉠에서 피고인 갑에게 형의 선고를 유예했다면 갑은 형사 보상을 청구할 수 있다.

▶ 9058-0177

**19** 국제 사회를 바라보는 갑, 을의 관점에 대한 옳은 설명만은 <보기>에서 있는 대로 고른 것은?



**보기**

- ㉠. 갑의 관점은 국제 사회의 문제 해결에 있어 국제기구의 역할을 기대한다.
- ㉡. 갑의 관점은 복잡한 국제 관계를 지나치게 단순화한다는 한계를 지닌다.
- ㉢. 을의 관점은 국제 사회에 보편적인 선(善)이 존재한다고 전제한다.
- ㉣. 을의 관점은 세력 균형 전략을 통해 자국의 안전을 확보할 수 있다고 본다.

- ① ㉠, ㉡                      ② ㉠, ㉣                      ③ ㉡, ㉣
- ④ ㉠, ㉢, ㉣                ⑤ ㉡, ㉢, ㉣

▶ 9058-0176

**18** (가)~(다)는 A법 영역에 해당하는 법률들의 일부 조항이다. A법에 대한 설명으로 옳은 것은?

(가) 근로 조건은 근로자와 사용자가 동등한 지위에서 자유의사에 따라 결정하여야 한다.  
 (나) 이 법은 국민의 노령, 장애 또는 사망에 대하여 연금 급여를 실시함으로써 국민의 생활 안정과 복지 증진에 이바지하는 것을 목적으로 한다.  
 (다) 국가 및 지방 자치 단체는 소비자의 불만이나 피해가 신속·공정하게 처리될 수 있도록 관련 기구의 설치 등 필요한 조치를 강구하여야 한다.

- ① 국가와 사회를 초월하여 실질적 평등을 추구하는 데 그 목적이 있다.
- ② 사법 영역에 국가가 개입하여 공법적 규제를 가할 수 있도록 제정되었다.
- ③ 사적 자치의 원칙을 폐기하고 소유권 공공복리의 원칙을 실현하고자 한다.
- ④ 개인의 자율적인 판단에 기초하여 법률관계를 형성해 나갈 수 있다는 원칙과 무관하다.
- ⑤ 개인의 법적 지위와 재산 관계를 전적으로 개인의 의사에 의하여 변동, 성립시킬 수 있다.

▶ 9058-0178

**20** 다음 글의 (가)와 (나)에 대한 설명으로 옳은 것은? [3점]

국제법의 법원(法源)에는 (가) 와/과 (나), 그리고 '법의 일반 원칙' 등이 있다. (가) 은/는 국가나 국제기구 간에 문서로 이루어진 합의로서, 서로가 일정한 행위를 하거나 하지 않을 것을 내용으로 하는 협약이다. (나) 은/는 국제 사회의 관행에 의하여 발생한 국제 사회 생활의 규범이 국제 사회에서 법적 효력을 가지게 된 것이다.

- ① 우리나라에서 (가)에 대한 체결·비준권은 국회에 있다.
- ② (나)에는 신의 성실의 원칙, 권리 남용 금지의 원칙이 포함된다.
- ③ (가)는 (나)와 달리 국제 사법 재판소 판결의 준거로 사용될 수 있다.
- ④ 우리나라에서 (나)는 (가)와 달리 국내법과 같은 효력을 가진다.
- ⑤ (나)는 (가)와 달리 별도의 체결 절차 없이 국제 사회에서 포괄적 구속력을 갖는다.

문항에 따라 배점이 다르니, 각 물음의 끝에 표시된 배점을 참고 하시오. 3점 문항에만 점수가 표시되어 있습니다. 점수 표시가 없 는 문항은 모두 2점입니다.

▶ 9058-0179

### 1 정치 현상을 바라보는 다음 글의 관점에 부합하는 진술로 옳은 것은?

사회에서는 지배하는 자와 지배받는 자 등의 권력관계가 발생 한다. 현실적으로 두 사람 이상이 모이면 권력관계가 발생하 는데, 대통령 등의 통치 행위만 권력관계로 볼 수는 없다. 국가의 통치 행위뿐만 아니라 권력관계는 학교, 직장, 마을 등 우리의 일상생활에서 나타나게 된다. 이렇듯 정치는 다양한 집단에서 나타나는 이해관계의 대립과 갈등을 조정하고 해결해 가는 과 정이라 할 수 있다.

- ① 선거에서 공직자를 선출하는 것도 정치라고 본다.
- ② 국가 형성 이전에는 정치 현상이 나타나지 않았다.
- ③ 위에서 아래로의 지배와 통제만이 정치의 기능이다.
- ④ 복잡하고 다원화된 현대 사회의 정치 현상을 설명하기 어 렵다.
- ⑤ 국가 수준에서 정치권력을 획득하고 행사하는 것만을 정 치라고 본다.

▶ 9058-0180

### 2 다음 자료를 통해 파악할 수 있는 고대 아테네 민주 정치에 대한 설명으로 옳은 것은? [3점]

기원전 5세기 도시 국가 아테네의 시민들은 직접 국가의 일에 참 여하고 정책을 결정했다. 그러나 이러한 권리는 18세 이상의 성 인 남성들만 누릴 수 있었으며, 노예·여성·외국인에게는 참정 권이 없었다. 고대 아테네의 민주주의는 모든 시민들이 1년에도 수차례 토론회장에 모여 정책을 결정했다. 민회는 모든 시민이 모 여서 주로 시민권 부여, 공직자 선출 등 중요 사안을 다루었다. 또한 500인회에서는 민회에서 논의할 법안을 마련했으며 경우 에 따라서 민회의 법안을 시행하기도 했다. 500인회의 구성원은 일생에 두 번 구성원으로 참여할 수 있었는데, 매년 추첨을 통해 선출되었고 30세 이상의 시민들에게만 자격이 주어졌다.

- ① 시민은 민회를 통해서만 정치에 참여할 수 있었다.
- ② 모든 사람들에게 공직 참여 기회가 평등하게 부여되었다.
- ③ 권력 기구 간의 견제와 균형의 원리에 충실한 정치 체제 이다.
- ④ 시민의 지위를 제한적으로 부여한 제한된 민주 정치 체제 이다.
- ⑤ 시민이 선출한 대표자를 통하여 주권을 행사하는 정치 체 제이다.

▶ 9058-0181

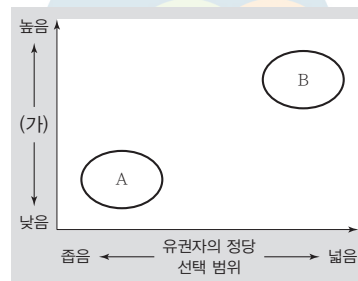
### 3 다음은 근대 사회 계약론자의 주장이다. 이에 대한 설명으로 옳은 것은? [3점]

자연 상태의 자연적 자유에 살고 있는 인간은 원천적으로 끊임 없이 무엇인가를 욕구하는 존재이며, 더 나아가 인간의 욕구는 점점 더 좋은 것을 선호하는 쪽으로 증가한다. 이러한 인간의 끊임없는 요구의 집합적 표현이 '자기 보존'이다. 생존을 위해 서로를 위협하고 투쟁하는 자연 상태에서의 인간은 항상 자기 의 몸과 재산을 외부의 위협으로부터 보존하고자 하는 본능적 욕구를 가지고 있으며, 이것을 보존하기 위해 국가를 설립한다.

- ① 주권은 대표될 수 없다고 보았다.
- ② 계약 목적에 충실하기 위해 국가 권력은 분립되어야 한 다고 보았다.
- ③ 자연권 보장을 위해서는 국민 주권에 바탕을 두는 국가가 필요하다라고 보았다.
- ④ 국가를 설립하는 계약을 맺기 위해 자연 상태에서 행사했 던 자연권을 스스로 양도한다고 보았다.
- ⑤ 국가가 권한을 남용하여 인민의 권리를 침해하는 경우 인 민은 정부를 재구성할 수 있다고 보았다.

▶ 9058-0182

### 4 그림은 일정한 기준에 따라 정당 제도 A, B를 비교한 것이다. (가)에 들어갈 내용으로 가장 적절한 것은? (단, A, B는 각각 양당 제, 다당제 중 하나이다.)



- ① 다수당의 횡포 가능성
- ② 소수 이익 보호 가능성
- ③ 강력한 정책 추진 가능성
- ④ 정치적 책임 소재의 명확성
- ⑤ 과반수 정당의 출현 가능성



[5~6] 다음 자료는 갑국의 의회 구성 방식과 최근 의회 의원 선거 결과이다. 이를 보고 물음에 답하시오.

▶ 9058-0185

전형적인 정부 형태 (가)를 취하고 있는 갑국의 의회는 300명의 의회 의원으로 구성되어 있다. 지역구 의원은 125개의 선거구에서 선출되며, 선거구마다 선출되는 의원의 수는 동일하다. 비례 대표 의원은 각 정당이 얻은 득표율에 비례하여 의석을 배분하는 방식으로 선출된다. 최근 행정부 수반이 의회를 해산하여 실시된 갑국의 ○○대 의회 의원 선거 결과는 아래와 같으며, A당은 현행 정부 형태를 국민의 선거로 행정부 수반을 직접 선출하는 전형적인 정부 형태 (나)로 변경하는 공약을 내세워 새로운 제1당이 되었다.

정당	지역구 선거		비례 대표 선거 정당 득표율(%)
	득표율(%)	의석수(석)	
A당	43.0	131	36.0
B당	24.0	84	30.0
C당	20.0	20	20.0
D당	13.0	15	14.0
합계	100.0	250	100.0

\* 갑국은 A~D당만 존재하며, 의회 의원은 지역구 의원과 비례 대표 의원으로만 구성된다.

▶ 9058-0183

5 정부 형태 (가), (나)에 대한 옳은 설명을 <보기>에서 고른 것은?

보기

- ㄱ. (가)에서는 의회 의원이 내각의 각료를 겸직할 수 있다.
- ㄴ. (나)에서 행정부 수반은 법률안 거부권을 통해 입법부를 견제할 수 있다.
- ㄷ. (가)와 달리 (나)에서 행정부 수반은 의회에 대해 정치적 책임을 진다.
- ㄹ. (나)보다는 (가)가 권력 분립의 원리에 충실하다.

- ① ㄱ, ㄴ    ② ㄱ, ㄷ    ③ ㄴ, ㄷ    ④ ㄴ, ㄹ    ⑤ ㄷ, ㄹ

▶ 9058-0184

6 자료에 대한 분석 및 추론으로 옳은 것은? [3점]

- ① C당은 정당 득표율과 총 의석률이 일치한다.
- ② 지역구 선거의 대표 결정 방식은 다수 대표제이다.
- ③ 지역구 선거 결과에 따라 비례 대표 의석을 배분한다.
- ④ 지역구 선거 결과 D당과 달리 A당은 유권자의 의사가 과소 대표되었다.
- ⑤ 지역구 선거에서 선거구 내 당선자 간 표의 등가성 문제가 발생할 수 있다.

7 정치 참여 집단 A, B에 대한 설명으로 옳은 것은? (단, A, B는 각각 정당, 이익 집단 중 하나이다.)

A와 B는 민주주의 국가에서 사회와 정부 사이의 중요한 소통 채널이 된다. 그러나 A는 특수한 이익을 추구하며, 정부에 참여하지 않으면서 정부에 대한 영향력을 시도한다. 또한 A는 상대하는 권력 구조가 어떤 형태이든 거기에 맞추어 정부에 영향력을 행사한다. 반면에 B는 공직 선거에서 공약을 제시하고 후보자를 공천하여 의회 정치 운영의 기반을 마련한다.

- ① A는 사익보다는 공익을 추구한다.
- ② B는 정부와 의회를 매개하는 기능을 수행한다.
- ③ A와 달리 B는 간접 민주 정치의 한계를 보완하는 기능을 수행한다.
- ④ B와 달리 A는 정치 사회화 기능을 수행한다.
- ⑤ A, B는 모두 자신들의 행위에 대해서 정치적 책임을 진다.

▶ 9058-0186

8 우리나라 헌법의 기본 원리 (가), (나)에 대한 설명으로 옳은 것은? [3점]

국제 사회는 인간 존엄성 말살에 대한 심각한 국제 분쟁을 야기하였고, 이에 대해 국제기구 등은 침략적 전쟁뿐만 아니라 분쟁 해결 수단으로서의 전쟁 또는 무력의 행사를 금지하고 있다. 이와 관련하여 우리나라 헌법은 [ (가) ]을/를 반영하여 국제법 존중 등의 내용을 보장하고 있다. 또한 우리나라 헌법에서는 [ (나) ]을/를 반영하여 통일을 평화적으로 추구하여 국제평화에 이바지하고자 한다.

- ① (가)를 실현하기 위하여 우리나라는 모든 전쟁을 부인하고 있다.
- ② (가)를 실현하기 위하여 일정한 요건을 갖춘 재외 국민의 대통령 선거권을 인정하고 있다.
- ③ (나)는 남북 분단이라는 현실을 반영한 우리나라 헌법 특유의 원리이다.
- ④ (나)에 의하면 우리나라의 국민과 외국인의 지위는 상호주의 원칙에 따라 동등하게 보장한다.
- ⑤ (나)와 달리 (가)는 현대 복지 국가의 헌법과 관련 있는 원리이다.



▶ 9058-0187

9 자료는 기본권 A, B의 일반적 특징을 비교한 것이다. (가)~(라)에 들어갈 적절한 질문을 <보기>에서 고른 것은?

A는 인간다운 생활의 보장을 국가에 요구할 수 있는 권리이며, B는 주권자로서 국가의 정치 과정에 적극 참여할 수 있는 권리이다.

질문	기본권	A	B
(가)		예	예
(나)		예	아니오
(다)		아니오	예
(라)		아니오	아니오

보기

- ㄱ. (가) - 다른 기본권 보장의 전제 조건이 되는 권리인가?
- ㄴ. (나) - 복지 국가와 밀접한 연관이 있는 권리인가?
- ㄷ. (다) - 다른 기본권을 보장하기 위한 권리인가?
- ㄹ. (라) - 소극적이고 방어적 성격의 권리인가?

- ① ㄱ, ㄴ    ② ㄱ, ㄷ    ③ ㄴ, ㄷ    ④ ㄴ, ㄹ    ⑤ ㄷ, ㄹ



▶ 9058-0188

10 밑줄 친 ㉠ ~ ㉣에 대한 설명으로 옳은 것은? [3점]

○○신문 20○○년 ○○월 ○○일

국회, 본회의 열어 각종 안건 처리

㉠ 국회는 ㉡ 정기회 기간인 어제 본회의를 열어 각종 안건을 처리하였다. 이 중 ㉢ 정부가 제출한 ○○ 법률안과 ㉣ 국회의원 갑이 대표 발의한 △△ 법률안에 대해 의결하였으며, ㉤ 대통령이 재의 요구한 □□ 법률안에 대해서도 의결하였다.

.....

- ① ㉠의 장(長)은 국회에서 선출된 후 대통령이 임명한다.
- ② ㉡은 대통령 또는 국회 재적 의원 4분의 1 이상의 요구가 있을 경우 집회된다.
- ③ ㉢과 달리 ㉣은 상임 위원회를 거쳐야 한다.
- ④ ㉤과 달리 ㉤이 의결된 경우 대통령은 재의를 요구할 수 없다.
- ⑤ ㉢~㉤이 의결되기 위해서는 모두 재적 의원 과반수 출석에 출석 의원 과반수 찬성이 필요하다.

▶ 9058-0189

11 다음 글에서 강조하는 민법의 기본 원리가 적용된 적절한 사례를 <보기>에서 고른 것은?

계약이 제대로 작동되기 위해서는 양 당사자의 교섭력의 대등과 자유로운 경쟁이라는 전제가 충족되어야 한다. 그런데 이러한 전제가 충족되지 않은 상태에서 계약 자유의 원칙을 형식적으로 관찰한다면, 경제적 강자의 일방적 명령과 그에 대한 경제적 약자의 무조건적인 복종이라는 결과를 초래할 수 있다. 따라서 경제적 약자를 보호하기 위하여 경제적 강자의 계약 자유를 어느 정도 제한하여야 한다는 인식에 따라 경제적 약자의 보호를 위한 민법 원리로 수정·보완되었다.

보기

- ㄱ. 개발 제한 구역을 지정하여 개인의 사유 재산에 대해 일정 정도 제한하는 경우
- ㄴ. 공작물의 설치 및 보존상의 하자로 인한 손해에 대하여 소유자가 책임을 지는 경우
- ㄷ. 선량한 풍속 기타 사회 질서에 위반한 사항을 내용으로 하는 법률 행위에 대해서 효력을 인정하지 않는 경우
- ㄹ. 최저 임금에 못 미치는 금액으로 근로 계약을 하였더라도 사용자는 근로자에게 최저 임금 이상의 임금을 지급하는 경우

- ① ㄱ, ㄴ    ② ㄱ, ㄷ    ③ ㄴ, ㄷ    ④ ㄴ, ㄹ    ⑤ ㄷ, ㄹ

▶ 9058-0190

12 그림에 대한 법적 판단으로 옳은 것은? [3점]



\* 갑은 개의 점유자이며, 정은 병의 법정 대리인이다.

- ① 갑의 행위에는 위법성이 없으므로 갑은 불법 행위 책임을 지지 않는다.
- ② 갑은 개의 소유자가 자신이 아니라는 것을 입증하면 불법 행위 책임을 지지 않는다.
- ③ 을은 병의 감독자인 정에게 채무 불이행에 대한 손해 배상 책임을 물을 수 있다.
- ④ 정이 병에 대한 감독 의무를 게을리하지 않았다는 것을 증명할 경우 책임이 면제된다.
- ⑤ 정과 달리 갑은 특수 불법 행위 책임을 진다.



▶ 9058-0191

▶ 9058-0193

### 13 다음 자료에 대한 법적 판단으로 옳은 것은? [3점]

갑 : 저는 2018년 3월 6일에 을의 주택을 매수하는 계약을 맺고 계약금을 지불하였습니다. 그 후 중도금을 치른 다음 4월 9일에 잔금을 지불하고 바로 ㉠ 소유권 이전 등기도 마쳤지만, 당시 임차인 병이 거주하고 있어서 입주를 하지 않았습니다.

병 : 예, 저는 을과 2017년 4월 1일부터 2년간 거주하기로 한 임대차 계약을 맺었는데, ㉡ 이사 후 전입 신고를 마친 상태에서 계약 기간 동안 계속 거주하였고, 계약 종료일인 오늘 다른 곳으로 이사하게 되었습니다.

갑 : 병이 다른 곳으로 이사를 가게 되어서 매수한 집에 ㉢ 이사가 하게 되었고, 바로 전입 신고도 하였습니다.

- ① 을과 병의 계약과 달리 갑과 을의 계약은 반드시 계약서를 작성해야 한다.
- ② 병은 갑이 주택을 매입할 당시에 갑이 요구하면 주택을 비워 주어야 한다.
- ③ ㉠에 따라 갑의 소유권은 해당 주택의 등기사항 전부 증명서 갑구에 기재된다.
- ④ 병은 입주 당시 우선 변제권을 형성하였다.
- ⑤ 갑과 병은 각각 ㉡과 ㉢으로 인하여 모두 주택 임대차 보호법상 대항력을 형성하게 된다.

▶ 9058-0192

### 14 다음 사례에 대한 법적 판단으로 옳은 것은?

- 갑과 을은 혼인 후 아들(10세)과 같이 살고 있었다. 부부 관계가 점점 원만하지 않게 된 갑과 을은 서로 이혼하기로 합의를 하였고, 이혼 후 아들은 을이 양육하기로 하였다. 혼인 중에 형성된 재산으로는 을 명의의 집이 한 채 있다.
- A와 B는 혼인 후 딸(7세)과 살고 있었는데, A가 평소 B에게 폭행을 가하여 B는 고통을 호소하고는 하였다. B가 이혼 소송을 제기하여 이혼을 하였고, 딸은 B가 양육하기로 하였다. 혼인 중에 형성된 재산으로는 B 명의의 집이 한 채 있다.

- ① 갑과 을의 이혼은 법원의 확인으로써 효력이 발생한다.
- ② A와 B가 이혼을 하기 위해서는 이혼 숙려 기간을 거쳐야 한다.
- ③ 갑과 A는 자녀에 대한 면접 교섭권이 발생한다.
- ④ 갑과 달리 A는 상대 배우자에게 재산 분할을 청구할 수 없다.
- ⑤ A와 B의 이혼과 달리 갑과 을의 이혼의 경우 법에 정한 이혼 사유가 있어야 한다.

### 15 ㉠에 부합하는 진술로 옳은 것은?

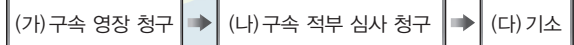
헌법 재판소는 (구)미성년자 보호법의 조항 내용 중 ‘잔인성’에 대하여 판례상 개념 규정이 확립되지 않은 상태이고, 여기에 ‘조장’ 및 ‘우려’까지 덧붙여지면 사회 통념상 정당한 것으로 볼 여지가 많은 것까지 처벌의 대상으로 할 수 있어 법 집행자의 자의적인 판단을 허용할 여지가 높다고 보았다. 이와 같은 경우를 모두 처벌하게 되면 그 처벌 범위가 너무 광범위해지고, 일정한 경우에만 처벌하게 된다면 어느 경우가 그에 해당하는지 알 수 없다고 하여서 헌법 재판소는 해당 법률 조항이 죄형 법정주의에서 파생된 ㉠에 위배된다고 하였다.

- ① 범죄와 형벌은 미리 성문의 법률에 형식으로 규정되어 있어야 한다.
- ② 범죄 행위의 경중과 행위자가 부담해야 할 형사 책임 사이에 균형을 갖추고 있어야 한다.
- ③ 행위 당시 처벌 법규가 존재하지 않음에도 불구하고 사후 입법을 제정하는 것은 금지된다.
- ④ 어떤 사항에 대하여 직접 규정한 법규가 없더라도 그와 비슷한 사항에 대하여 규정한 법률을 적용해서는 안 된다.
- ⑤ 어떤 행위가 범죄이며 각각의 범죄에 대해 어떤 형벌이 부과되는지가 법률에 구체적으로 명확하게 규정되어야 한다.

▶ 9058-0194

### 16 자료에 대한 옳은 법적 판단을 <보기>에서 고른 것은? [3점]

갑은 집단 폭행에 가담한 혐의로 기소되었으며, 구금된 상태에서 재판이 진행되었다. 1심 법원에서 갑은 단순히 지나가는 행인에 불과하여 폭행에 가담하지 않았다는 이유로 무죄가 선고되었고, 이에 갑은 석방되었다. 그림은 갑에게 적용된 형사 절차의 일부이다.



#### 보기

- ㄱ. (가)는 검사, (다)는 판사에 의해 이루어진다.
- ㄴ. 갑이 청구한 (나)는 법원에서 기각되었다.
- ㄷ. 갑은 (다) 이전은 피고인, (다) 이후는 피의자 신분이다.
- ㄹ. 1심 법원 판결이 확정된다면, 갑은 형사 보상을 청구할 수 있다.

- ① ㄱ, ㄴ    ② ㄱ, ㄷ    ③ ㄴ, ㄷ    ④ ㄴ, ㄹ    ⑤ ㄷ, ㄹ



▶ 9058-0195

### 17 다음 사례에 대한 옳은 법적 판단을 <보기>에서 고른 것은? [3점]

고등학생 갑(17세)은 방학 동안 을의 식당에서 아르바이트를 하려고 다음과 같이 근로 계약을 맺었다. 갑은 방학 기간 중 11시부터 17시까지 일하기로 하였으며, ㉠ 최저 임금인 시간당 8,350원을 받기로 하였다.

**보기**

- ㄱ. ㉠은 근로 계약서에 반드시 기재해야 한다.
- ㄴ. 갑과 을의 근로 계약 중 부당 노동 행위에 해당하는 내용이 있다.
- ㄷ. 을은 갑의 법정 대리인이 작성한 동의서를 사업장에 갖추어 두어야 한다.
- ㄹ. 근로 시간이 8시간 미만이므로 을은 갑에게 근로 시간 도중에 휴게 시간을 주지 않아도 된다.

- ① ㄱ, ㄴ    ② ㄱ, ㄷ    ③ ㄴ, ㄷ    ④ ㄴ, ㄹ    ⑤ ㄷ, ㄹ

▶ 9058-0197

### 19 밑줄 친 ㉠~㉣에 대한 옳은 설명만을 <보기>에서 있는 대로 고른 것은?

1989년 6월 말까지 시행되던 국내 ㉠ 소년법은 16세 미만의 소년에게는 사형이나 무기 징역이 선고될 수 없었다. 그런데 인권 조약 중 하나인 ㉡ 시민적 및 정치적 권리에 관한 국제 규약에서는 '18세 미만의 자가 범한 범죄'에 대하여는 사형을 선고할 수 없다고 규정하고 있다. 우리나라가 국제 규약에 가입하기 위해서는 소년법을 개정해야만 했고, 결국 사형 선고의 하향 연령을 18세 미만으로 올리는 소년법을 개정하여 1989년 7월부터 시행하였다. 그리고 1990년에 ㉢ 시민적 및 정치적 권리에 관한 국제 규약을 비준하여 당사국이 되었다.

**보기**

- ㄱ. ㉡과 같은 국제법의 법원(法源)은 국가와 국제기구 간에도 체결이 가능하다.
- ㄴ. ㉢부터 우리나라는 18세 미만 소년의 사형을 금지하였다.
- ㄷ. ㉠과 달리 ㉡은 국제 사회에서 포괄적인 구속력을 갖는다.
- ㄹ. ㉡은 ㉠과 달리 강제적 집행 기구가 없어 위반에 대한 제재가 어렵다.

- ① ㄱ, ㄴ    ② ㄱ, ㄹ    ③ ㄴ, ㄷ  
 ④ ㄱ, ㄷ, ㄹ    ⑤ ㄴ, ㄷ, ㄹ

▶ 9058-0196

### 18 다음 사례에 대한 법적 판단으로 옳은 것은?

소비자 분쟁 조정 위원회는 갑은 을에게 의류를 반환받은 날로부터 3일 이내에 27,000원을 지급해야 한다고 결정하였다. 을은 갑의 인터넷 쇼핑몰에서 의류 4벌을 구입하였는데, 이 중 2벌이 사이즈가 맞지 않아 갑에게 반송을 하였다. 그런데 갑은 을이 구입한 의류는 특가 상품으로 환불 불가를 사전에 고지하였다는 이유로 환불을 거절하였다.

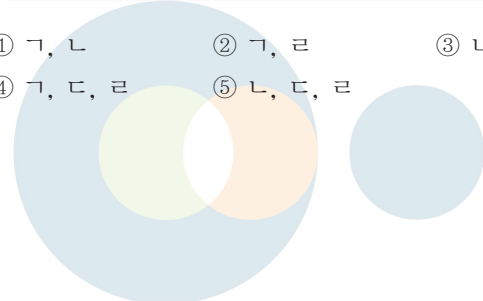
- ① 을은 제조물의 결함으로 인한 피해에 대하여 구제를 청구하였다.
- ② 을은 소비자 8대 권리 중 안전할 권리를 침해받았다고 판단하였다.
- ③ 갑과 을의 합의를 통해서 소비자 분쟁 조정 위원회의 조정이 진행되었다.
- ④ 갑과 을이 이 결정을 수락하였다면, 재판상 화해와 동일한 효력이 부여된다.
- ⑤ 소비자 분쟁 조정 위원회 조정은 을이 갑을 상대로 민사 소송을 제기하기 위한 필수 절차이다.

▶ 9058-0198

### 20 국제 연합의 주요 기관 A~C에 대한 설명으로 옳은 것은? [3점]

국제 연합의 최고 의결 기관인 A의 결의를 통하여 파견된 평화 유지군의 활동 경비에 대하여 일부 회원국이 분담금 지불을 거부하였다. 이유 중 하나는 국제 연합 헌장에 근거하여 '조치'를 필요로 하는 것은 토의 전후에 15개 이사국으로 구성된 B에 회부되었어야 하는데, 그렇게 하지 않았기 때문에 A에 의한 평화 유지군 설치의 헌장 위반의 결정이었다고 주장을 하고 있다. A는 이에 관한 해석을 국제 연합의 사법 기관인 C에 요청하였고, C는 국제 연합의 평화 유지 활동은 강제 조치가 아니므로 B에 회부되지 않아도 헌장 위반이 아니라고 판단하였다.

- ① A는 국제 평화와 안전 유지에 관한 국제 연합의 실질적 의사 결정 기관이다.
- ② B는 국제 분쟁에 개입할 때 군사력을 사용할 수 없다.
- ③ C에 제소하는 것은 국제 연합의 회원국만 가능하다.
- ④ A보다 B의 표결 방식이 국제 사회를 바라보는 자유주의적 관점에 부합한다.
- ⑤ C의 판결을 당사국이 이행하지 않을 경우, B는 판결의 이행을 위한 적절한 조치를 결정할 수 있다.



문항에 따라 배점이 다르니, 각 물음의 끝에 표시된 배점을 참고 하시오. 3점 문항에만 점수가 표시되어 있습니다. 점수 표시가 없 는 문항은 모두 2점입니다.

▶ 9058-0199

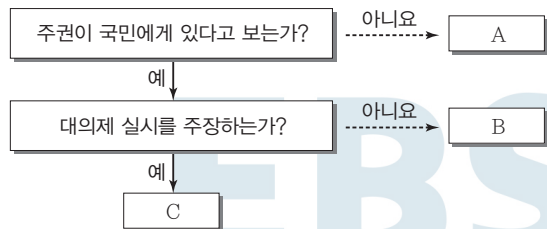
## 1 우리나라 헌법의 기본 원리 (가), (나)에 대한 설명으로 옳지 않은 것은?

기본 원리	관련 헌법 조항
(가)	제4조 ... 자유 민주적 기본 질서에 입각한 평화적 통일 정책을 수립하고 이를 추진한다. 제8조 ② 정당은 그 목적·조직과 활동이 민주적이어야 하며 ...
(나)	제5조 ① 대한민국은 국제 평화의 유지에 노력하고 침략적 전쟁을 부인한다. 제6조 ① 헌법에 의하여 체결·공포된 조약과 일반적으로 승인된 국제 법규는 국내법과 같은 효력을 가진다.

- ① (가)는 자유주의와 민주주의가 결합된 정치 원리이다.
- ② (가)를 실현하기 위한 방안으로 법치주의 수립을 들 수 있다.
- ③ (나)에 따르면 방어를 위한 전쟁은 허용된다.
- ④ (나)를 실현하기 위한 방안으로 국제 평화 유지 활동 참여 를 들 수 있다.
- ⑤ (가)와 달리 (나)는 국내 거주 외국인에게는 적용되지 않는다.

▶ 9058-0200

## 2 그림에 나타난 사회 계약론자 A~C에 대한 설명으로 옳은 것은? (단, A~C는 각각 홉스, 로크, 루소 중 하나이다.) [3점]



- ① A는 일반 의지에 따라 정치 공동체가 운영되어야 한다고 본다.
- ② B는 자연 상태는 자유롭고 평화롭지만 실정법, 재판관, 집행 권력 등이 없는 상태라고 본다.
- ③ C는 사회 계약을 통해 절대 권력을 가진 국가가 등장한다고 본다.
- ④ A와 달리 B는 국가를 목적이 아닌 수단으로 본다.
- ⑤ B와 C의 입장을 구분하는 질문으로 '개인의 권리를 특정 집단에 위임할 것을 주장하는가?'를 들 수 있다.

▶ 9058-0201

## 3 법치주의의 유형 (가), (나)에 대한 설명으로 옳지 않은 것은?

근대 법치주의 전개 과정에서 법치주의는 크게 두 가지 유형으로 구분되어 나타났다. (가)는 법률을 제정할 수 있는 공식적 권한은 의회에 있으며, 의회에서 제정된 모든 법률은 그 내용의 정당성 여부를 떠나 합법적인 것이므로 국민들은 이를 준수해야 한다고 본다. 이와 달리 (나)는 의회에서 제정된 법률일지라도 그 제정 과정의 절차적 합법성은 물론 내용의 정당성도 갖추어야 한다고 본다.

- ① (가)와 달리 (나)는 인치(人治)를 부정한다.
- ② 오늘날의 법치주의는 (가)보다 (나)를 지향한다.
- ③ 우리나라의 위헌 법률 심사제는 (가)보다 (나)의 실현을 위한 제도이다.
- ④ 독재 정치를 정당화하는 논리로 악용되기 쉬운 것은 (나)보다 (가)이다.
- ⑤ (가), (나) 모두 법을 통한 사회 질서 유지를 추구한다.

▶ 9058-0202

## 4 다음 글의 A, B에 대한 설명으로 옳지 않은 것은? (단, A, B는 각각 전형적인 정부 형태 중 하나이다.)

갑국의 행정부 수반은 국가 원수에게 현재의 정부 형태인 A로 인해 나타나는 문제점 수정의 필요성에 대한 국민의 여론을 전달하였다. 행정부 수반은 특히 A가 지닌 몇 가지 단점으로 인해 보완책이 필요하며 단순한 보완만으로는 문제의 해결에 제약이 많으므로 정부 형태를 B로 바꾸는 것을 진지하게 고려할 필요가 있다고 주장하였다.

- ① A에서는 의회 의원이 각료를 겸직할 수 있다.
- ② B에서는 행정부의 법률안 제출권이 인정되지 않는다.
- ③ A와 달리 B는 의회와 행정부가 융합된 정부 형태이다.
- ④ B와 달리 A에서는 내각이 의회에 대해 연대 책임을 진다.
- ⑤ A, B 모두 의회 의원을 유권자의 투표로 선출한다.



▶ 9058-0203

5 표는 정치를 바라보는 관점 A, B를 구분한 것이다. 이에 대한 옳은 설명을 <보기>에서 고른 것은? [3점]

질문	A	B
국가를 일반적 사회 집단의 한 유형으로 보는가?	예	아니요
정치를 오직 정치권력의 획득·행사·유지 활동으로 보는가?	㉠	예
(가)	아니요	㉡

보기

- ㄱ. A는 '의회에서의 법률 제정 활동'은 정치 현상으로 보지 않는다.
- ㄴ. B는 국가 형성 이전의 정치 현상을 설명할 수 없다.
- ㄷ. ㉠에 들어갈 답변은 '예'이다.
- ㄹ. (가)에 "정치를 국가와 관련된 활동만으로 보는가?"가 들어가면 ㉡에 들어갈 답변은 '예'이다.

- ① ㄱ, ㄴ    ② ㄱ, ㄷ    ③ ㄴ, ㄷ    ④ ㄴ, ㄹ    ⑤ ㄷ, ㄹ

▶ 9058-0205

7 국제 사회를 바라보는 갑, 을의 관점에 대한 추론으로 적절한 것은?

갑과 을은 국제 사회에서 평화를 어떻게 달성할 수 있는냐에 대해 다른 방향에서 접근한다. 갑에 따르면 국가는 이성적 판단이 가능하고 규범적인 존재로 그 국가들이 모여 구성되는 국제 사회는 이성적 판단에 따라 상호 협력과 공공선의 달성이 가능하다. 한편 을에 따르면 국가의 최우선 목표는 자국의 이익을 실현하는 것이며, 따라서 평화가 유지되기 위해서는 힘의 균형을 확보하는 것이 필요하다.

- ① 갑은 세력 균형 확보를 위한 국가 간 동맹 관계의 중요성을 강조할 것이다.
- ② 을은 복잡한 국제 관계를 정치적 권력 관계로 단순화하는 경향이 있다.
- ③ 갑과 달리 을은 국제 사회는 보편적 윤리나 규범에 의해 지배받는다고 볼 것이다.
- ④ 을과 달리 갑은 국제기구를 통한 국제 문제 해결이 어렵다고 볼 것이다.
- ⑤ 갑, 을 모두 국가 간의 군비 경쟁이 국제 평화를 위협한다고 볼 것이다.

▶ 9058-0204

6 밑줄 친 ㉠~㉢에 대한 옳은 설명을 <보기>에서 고른 것은?

○○신문 2018년 4월 ××일

생물 다양성 등을 촉진하기 위한 이른바 ㉠ 나고야 의정서가 오는 8월 정식 발효됨에 따라 대책 마련이 시급하다. 각국의 나고야 의정서 대응 현황을 보면, ㉡ 유럽 연합(EU)은 이미 EU 이사회 규칙과 EU 위원회 시행 규칙, EU 위원회 고시를 발표한 바 있고, 주변의 ㉢ 국가들도 관련 절차들을 거치고 있다. 우리나라도 동 의정서의 ㉣ 비준 관련 과정을 이미 마치는 등 노력을 하고 있지만, 그에 수반된 부속 조치들이 아직까지는 미흡하다.

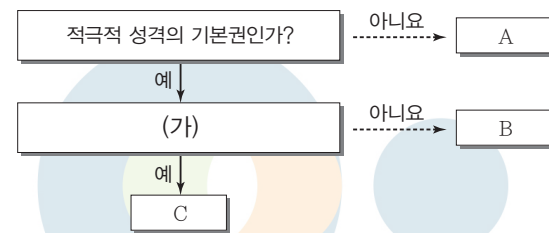
보기

- ㄱ. ㉠과 같은 국제법의 법원은 원칙적으로 체결 당사자에만 효력이 미친다.
- ㄴ. ㉡은 국가 내부적인 행위 주체이다.
- ㄷ. ㉢은 국제 사회의 가장 기본적인 행위 주체에 해당한다.
- ㄹ. 우리나라에서 ㉣은 국회의 권한이다.

- ① ㄱ, ㄴ    ② ㄱ, ㄷ    ③ ㄴ, ㄷ    ④ ㄴ, ㄹ    ⑤ ㄷ, ㄹ

▶ 9058-0206

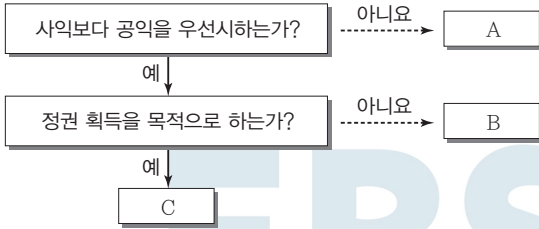
8 그림은 우리나라 헌법에 나타난 기본권을 구분한 것이다. 이에 대한 설명으로 옳은 것은? (단, A~C는 각각 사회권, 자유권, 청구권 중 하나이다.) [3점]



- ① A보다 B가 역사적으로 오래된 기본권이다.
- ② B, C는 국가 성립 이전에도 인정되는 자연권적 성격을 가진다.
- ③ (가)에는 "주권자로서 국가의 정치 과정에 참여할 수 있는 권리인가?"가 들어갈 수 있다.
- ④ B가 사회권이면 (가)에 "수단적 성격의 기본권인가?"가 들어갈 수 있다.
- ⑤ (가)에 "바이마르 헌법에서 처음 규정되었는가?"가 들어가면, C는 A의 침해에 대한 구제 절차도 포함된 기본권이다.

▶ 9058-0207

9 그림은 정치 참여 집단 A~C를 일정 기준에 따라 구분한 것이다. 이에 대한 옳은 설명을 <보기>에서 고른 것은? (단, A~C는 각각 정당, 시민 단체, 이익 집단 중 하나이다.)

**보기**

- ㄱ. A는 직능 대표 역할을 하기도 한다.
- ㄴ. B는 비영리성, 비권력성을 특징으로 한다.
- ㄷ. C의 활동은 사회 전체의 보편적 이익을 해칠 위험이 있다.
- ㄹ. B와 달리 C는 자신의 활동에 대해 정치적 책임을 지지 않는다.

- ① ㄱ, ㄴ    ② ㄱ, ㄷ    ③ ㄴ, ㄷ    ④ ㄴ, ㄹ    ⑤ ㄷ, ㄹ

▶ 9058-0209

11 다음 갑국의 선거 제도와 관련한 분석으로 옳은 것은? [3점]

갑국의 의회 의원 정수는 200명이며, 그중 120명은 소선거구제에 의해 선출되는 지역구 의원이고 80명은 전국을 하나의 선거구로 하는 정당 명부식 비례 대표제로 선출되는 비례 대표 의원이다. 정당별 의석수는 정당 명부식 비례 대표 선거의 정당별 득표율에 따라 결정되며, 지역구 의석수가 정당별 득표율에 따라 할당된 의석수보다 많을 경우에는 초과 의석수를 인정한다. 예를 들어 정당 득표율이 40%인 갑당의 의석수는 원칙적으로 200석의 40%인 80석이 된다. 이때 A당의 지역구 의석수가 60석이면 비례 대표 의석수는 20석이 배정되며, A당의 지역구 의석수가 85석이면 지역구 의석수는 그대로 인정되고 비례 대표 의석수는 0석이 배정된다.

- ① 지역구 의원은 절대 다수 대표제로 선출된다.
- ② 유권자는 의회 의원 선거에서 1인당 1표를 행사한다.
- ③ 의회 의원의 총수는 의회 의원 정수를 초과할 수 있다.
- ④ 정당별 의석수는 정당별 득표율에 따라 할당된 의석수를 넘을 수 없다.
- ⑤ 정당별 지역구 의원의 수와 비례 대표 의원의 수는 음(-)의 상관관계를 갖는다.

▶ 9058-0210

12 다음 자료에 대한 옳은 설명을 <보기>에서 고른 것은? [3점]

재판이 진행 중인 상황에서 관련 법률 조항의 위헌성 여부가 쟁점이 되어 헌법 재판소에 법률의 위헌성 여부를 가려 달라는 심판이 청구된 경우, 청구 주체에 따라 헌법 심판 유형을 두 가지로 구분할 수 있다.

헌법 심판 유형	(가)	(나)
청구 주체	㉠ 법원	㉡


**보기**

- ㄱ. (가)의 제청이 기각되면 재판 당사자는 관련 법률의 위헌성 여부를 가리기 위해 (나)를 청구할 수 있다.
- ㄴ. (나)는 위헌 심사형 헌법 소원 심판이다.
- ㄷ. ㉠은 상고심을 담당하는 법원을 의미한다.
- ㄹ. ㉡은 재판 당사자만 될 수 있다.

- ① ㄱ, ㄴ    ② ㄱ, ㄷ    ③ ㄴ, ㄷ    ④ ㄴ, ㄹ    ⑤ ㄷ, ㄹ

▶ 9058-0208

10 우리나라 헌법 기관 A~D에 대한 설명으로 옳은 것은?



- ① A는 상고심 담당 법원의 장(長)을 임명할 수 있다.
- ② D는 국회 직속의 헌법 기관이다.
- ③ B는 C의 구성원을 임명할 수 있는 권한이 있다.
- ④ C의 심의 결과에 A는 따라야 한다.
- ⑤ C와 D의 장(長)은 모두 국회의 동의를 얻어 A가 임명한다.



▶ 9058-0211

### 13 다음 사례에 대한 옳은 법적 판단을 <보기>에서 고른 것은? [3점]

△ △ 신문      2019년 ××월 ◇◇일

○○경찰서는 재물 손괴 혐의로 중학생 갑(13세)과 을(14세)을 붙잡아 조사하고 있다고 밝혔다. 갑과 을은 이달 1일 오후 6시 30분 경에 □□시의 한 아파트 10층 베란다에서 1층으로 오른 주먹 만 한 돌을 세 개 던졌는데, 그중 두 개가 주차되어 있던 승용차에 떨어져 승용차의 앞 유리를 파손한 혐의를 받고 있다.

**보기**

- ㄱ. 갑에게는 형벌을 부과할 수 없다.
- ㄴ. 갑의 혐의가 입증되면 경찰서장은 갑을 법원 소년부로 송치하여야 한다.
- ㄷ. 을의 행위에 대한 사건 처리는 소년 보호 사건 처리 절차를 거쳐야만 한다.
- ㄹ. 검사가 을에 대해 공소를 제기하면 을은 형벌과 소년법상 보호 처분을 동시에 받을 수 있다.

- ① ㄱ, ㄴ    ② ㄱ, ㄷ    ③ ㄴ, ㄷ    ④ ㄴ, ㄹ    ⑤ ㄷ, ㄹ

▶ 9058-0213

### 15 사례의 (가), (나)에 해당하는 민법의 기본 원칙으로 옳은 것은?

- 최근 갑이 살고 있는 마을을 포함한 주변 지역이 서민을 위한 공공 임대 주택 마련을 위한 공공 주택 지구로 선정되면서 갑의 땅도 강제로 수용될 상황에 처했다. 갑은 해당 지역 주민들과 함께 공공 주택 지구 사업 반대를 외쳤지만, (가)에 따라 결국 갑의 땅은 강제로 수용되었다.
- 을은 그동안 다니던 직장을 그만두고 편의점을 운영하려고 생각하였다. A 편의점 프랜차이즈에 가입하기 위하여 가입 조건을 알아본 결과 하루라도 쉬면 휴업에 따른 범칙금을 내야 하고 프랜차이즈 본사의 정책에 따르면 판매를 원하지 않는 상품도 받아야 되는 등 (나)에 어긋나는 내용이 많아 결국 포기하고 다른 사업을 하려고 고민 중이다.

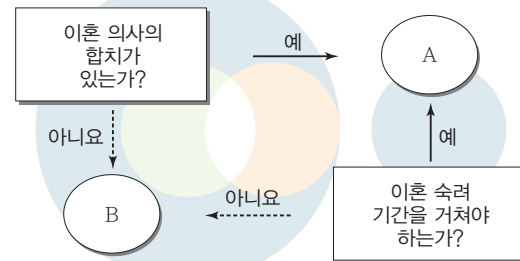
(가)

(나)

- |                |           |
|----------------|-----------|
| ① 계약 자유의 원칙    | 사적 자치의 원칙 |
| ② 계약 자유의 원칙    | 계약 공정의 원칙 |
| ③ 소유권 공공복리의 원칙 | 사적 자치의 원칙 |
| ④ 소유권 공공복리의 원칙 | 계약 공정의 원칙 |
| ⑤ 소유권 공공복리의 원칙 | 과실 책임의 원칙 |

▶ 9058-0214

### 16 그림은 이혼의 유형 A, B를 구분한 것이다. A, B에 대한 설명으로 옳은 것은?



- ① A의 이혼 속려 기간은 당사자 간 합의로 정한다.
- ② B는 법원이 이혼의 동기나 사유를 확인한다.
- ③ A와 달리 B에서 이혼에 책임이 있는 측은 상대방에게 공유 재산에 대한 분할을 청구할 수 없다.
- ④ A와 달리 B에서 이혼에 책임이 있는 측은 자녀에 대한 면접 교섭권을 주장할 수 없다.
- ⑤ A, B 모두 법원의 확정 판결로 이혼의 효력이 발생한다.

▶ 9058-0212

### 14 그림은 형사 절차의 일부분이다. 밑줄 친 ㉠~㉣에 대한 옳은 설명을 <보기>에서 고른 것은? [3점]



**보기**

- ㄱ. ㉠의 주체는 검사이다.
- ㄴ. ㉠의 인원은 사건의 경중에 따라 달라질 수 있다.
- ㄷ. ㉢이 진행될 동안 피고인은 원칙적으로 유죄로 추정된다.
- ㄹ. ㉣의 결과 유죄 판결이 내려지면 피고인은 교정 시설에 구금된다.

- ① ㄱ, ㄴ    ② ㄱ, ㄷ    ③ ㄴ, ㄷ    ④ ㄴ, ㄹ    ⑤ ㄷ, ㄹ



▶ 9058-0215

17 다음 사례의 (가), (나)에 대한 옳은 설명을 <보기>에서 고른 것은? [3점]

- 갑은 교통사고 뺑소니 혐의로 구속 기소되어 재판을 받던 중 진범이 잡혀 무죄로 석방되었다. 이에 갑은 [가] 을/를 이용하여 자신이 입은 피해를 보상받았다.
- 을은 길거리를 건넌 도중 이른바 '묻지마 폭행'을 가한 행인에게 칼로 찔려 중상을 입었다. 경찰에 붙잡힌 가해자는 상해에 대한 배상 능력 등이 전혀 없어 을은 [나] 을/를 이용하여 국가로부터 일정 액수의 구조금을 지급받았다.

보기

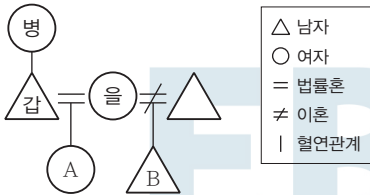
- ㄱ. (가)는 불구속 상태에서 수사를 받다가 무혐의 처리된 사람도 이용할 수 있다.
- ㄴ. 피해자가 사망한 경우 유족이 (나)를 이용하여 구조금을 받을 수 있다.
- ㄷ. (가)는 형사 보상 제도, (나)는 범죄 피해자 구조 제도이다.
- ㄹ. (가), (나) 모두 신체적 피해에 대해서만 이용할 수 있다.

- ① ㄱ, ㄴ    ② ㄱ, ㄷ    ③ ㄴ, ㄷ    ④ ㄴ, ㄹ    ⑤ ㄷ, ㄹ



▶ 9058-0216

18 다음 사례에 대한 법적 분석으로 옳은 것은? [3점]



\* B는 갑의 친양자임

갑은 급작스런 심장마비로 인해 병원으로 이송된 뒤 법적 요건을 갖춘 유언을 하지 못한 상황에서 3일만에 사망했다. 갑의 전 재산은 7억 원이며 부채는 없다.

- ① 법정 상속인은 을과 A이다.
- ② 병의 상속분은 을의 상속분의 1/2이다.
- ③ 을은 A보다 2억 원을 더 많이 상속받는다.
- ④ 을이 상속을 포기할 경우 상속인은 병, A, B이다.
- ⑤ A와 B는 각각 2억 원씩 상속받는다.

▶ 9058-0218

20 사례들에 대한 옳은 법적 판단을 <보기>에서 고른 것은? [3점]

- 길을 건넌 A는 갑자기 달려드는 맹견을 피하려다 옆을 지나던 행인과 충돌하여 상해를 입었다.
- B는 말다툼을 하던 상대방이 흥기를 휘두르자 방어하는 과정에서 상대방의 팔에 작은 상처를 입었다.
- C는 친구가 5천만 원을 빌려 가서 상환 기일이 1년 이상 지났음에도 갚지 않고 버티자, 친구의 집에 몰래 침입하여 통장과 비싼 가구 등을 자동차에 싣고 가 다른 장소에 옮겨 놓았다.

보기

- ㄱ. A의 행위는 긴급 피난의 사례로 볼 수 있다.
- ㄴ. B의 상해 행위는 정당방위에 해당한다.
- ㄷ. C의 행위는 청구권의 실행 불능 또는 현저한 실행 곤란을 피하기 위한 상당한 이유가 있는 행위이다.
- ㄹ. A~C의 행위는 모두 범죄로 성립되지 않는다.

- ① ㄱ, ㄴ    ② ㄱ, ㄷ    ③ ㄴ, ㄷ    ④ ㄴ, ㄹ    ⑤ ㄷ, ㄹ

문항에 따라 배점이 다르니, 각 물음의 끝에 표시된 배점을 참고 하시오. 3점 문항에만 점수가 표시되어 있습니다. 점수 표시가 없 는 문항은 모두 2점입니다.

▶ 9058-0219

### 1 다음 글에 부각된 정치를 바라보는 관점에 대한 옳은 설명을 <보기>에서 고른 것은?

아리스토텔레스는 “인간은 정치적 동물이다.”라고 표현하여 인 간이 폴리스를 형성하면서 정치 현상이 발생하게 된 것을 암시 하고 있다. 이처럼 인간 사회의 정치 현상은 국가가 조직되고 난 후 비로소 출현되었으며, 한 사람이 정상적인 인간으로서 존 재하기 위해서는 국가와 같은 정치 공동체가 필요하다.

#### 보기

- ㄱ. 국가 형성 이전의 정치 현상을 설명하기에 적합하다.
- ㄴ. 개인이나 집단 수준에서 구성원의 이해관계를 조정하는 과 정을 정치라고 본다.
- ㄷ. 정치를 정치권력을 획득하고 유지·행사하는 것과 관련된 국가 고유의 활동으로 본다.
- ㄹ. 정치를 물리적 강제력을 독점한 국가가 사회적 갈등을 해결 하고 질서를 유지하는 과정으로 이해한다.

- ① ㄱ, ㄴ    ② ㄱ, ㄷ    ③ ㄴ, ㄷ    ④ ㄴ, ㄹ    ⑤ ㄷ, ㄹ

▶ 9058-0220

### 2 법치주의의 유형 A, B에 대한 설명으로 옳은 것은?

법치주의는 를 지향하기 때문에 형식적 합법성만으 로는 결코 완결적이라고 말할 수 없다. 법이 형식적 합법성을 갖 추었다고 하더라도 법의 실제적 내용이 정의의 원칙이나 기본적 인권에 반하는 경우에 독재에 봉사할 수 있기 때문이다. 2차 대 전 이전 독일에서는 형식적 합법성만을 강조한 결과 법이 독재 체제를 유지하기 위한 수단으로 사용되어 라는 비판 을 받게 되었다. 그리고 이에 대한 반성으로 법치주의의 본래 목 적인 국민의 자유와 권리를 실질적으로 보장하기 위해 가 대두하게 되었다.

- ① A는 국민의 자유와 권리 보장보다 법의 지배 자체에 목적 을 둔다.
- ② B는 정의의 실현을 목적과 내용으로 하는 법의 지배를 의 미한다.
- ③ A와 달리 B에서는 국민의 기본권을 제한하기 위해 법적 근거가 필요하다고 본다.
- ④ B와 달리 A는 외형상 통치의 합법성을 결여한 법치주의 유형이다.
- ⑤ A, B는 모두 ‘인(人)의 지배’를 배척하고, 국가 권력을 법 에 구속시킨다.

▶ 9058-0221

### 3 다음 자료에 나타난 갑국의 정부 형태와 정치적 상황에 대한 설명으로 옳은 것은? (단, 갑국은 전형적인 정부 형태를 채택하고 있다.) [3점]

총선 결과, 총 의석수 650석 중 A당 306석, B당 298석, 2010. 00. 00. C당 28석 순으로 A당의 승리로 총선이 끝났지만 형 의회(Hung Parliament)\*가 구성됨

의회에서 A당의 당수가 신임 총리로 지명되었고, 신임 총리가 원내 3당인 C당과 연립 정부 구성에 합의함으 로써 사실상 의회 과반 의석이 확보됨

\* 형 의회(Hung Parliament)는 과반 의석을 차지한 정당이 없는 의회이다.

\*\* 갑국 의회에 무소속 의원은 없고 총 의석은 모두 각 정당에 배분되어 있다.

- ① 신임 총리는 국가 원수로 의회의 신임에 구속을 받는다.
- ② 갑국 의회는 3개의 정당으로 구성되며, 국민에 대해 정치 적 책임을 진다.
- ③ 내각이 의회를 해산할 경우 총선거를 시행하여 새로운 의 회가 구성된다.
- ④ 의회 의원은 내각의 각료를 겸직할 수 있으며, 의회는 각료 에 대한 탄핵 소추권을 가진다.
- ⑤ 내각의 국정 운영에 문제가 있다고 판단되면 의회나 국민 이 내각에 대해 불신임권을 행사할 수 있다.

▶ 9058-0222

### 4 기본권 A, B에 대한 설명으로 옳은 것은? [3점]

A는 국가의 부당한 간섭을 배제하는 기본권으로 국가에 대한 방어권으로서의 성격을 갖고 있다. 권리의 보장을 위하여 국가 에 권리 구제 절차의 제공을 적극적으로 요구할 수 있는 수단적 성격의 기본권인 B와 달리 A는 원칙적으로 개인이 입법적 매개 를 필요로 하지 않고 스스로 기본권을 행사할 수 있다는 것을 전 제로 하고 있다.


- ① A는 고유한 의미의 헌법에서부터 보장되었던 권리이다.
- ② B는 자본주의의 모순을 극복하는 과정에서 등장한 권리 이다.
- ③ A는 B와 달리 소극적 성격의 권리로 ‘국가로부터의 자유’ 를 지향한다.
- ④ B는 A와 달리 본질적 권리로 기본권 보장의 전제 조건에 해당한다.
- ⑤ A, B는 모두 개별 기본권의 내용을 담은 포괄적인 권리로 국가의 존재를 전제로 인정된다.



▶ 9058-0223

5 다음 자료에 대한 분석으로 가장 적절한 것은? [3점]

정부는 오늘 부의장인 A의 주재로 B를 열어 행정부 수반인 C가 발의할 ㉠ 헌법 개정안과 국회에 제출될 법률안 등을 심의합니다. 이날 B에 상정된 ㉡ ○○○법 개정안에는 근로를 하는 저소득층에 보조금을 주는 근로 장려 세제를 30세 미만 단독 가구까지 확대하는 내용이 포함되어 있습니다. 이와 함께 필수적 국민 투표의 대상 확대를 내용으로 하는 개헌안도 함께 심의할 예정입니다.



- \* A, B, C는 각각 우리나라의 국가 기관에 해당한다.
- ① 국무 위원은 A의 제청으로 국회의 동의를 얻어 C가 임명한다.
- ② B는 A와 달리 우리나라 정부 형태의 의원 내각제적 요소에 해당된다.
- ③ ㉠은 국회 재적 의원 3분의 2 이상의 찬성을 얻으면 확정된다.
- ④ ㉡은 국회에서 의결되면 정부로 이송되어 15일 이내에 대통령령이 공포한다.
- ⑤ ㉡에는 ㉠과 달리 국민 주권주의를 강화할 수 있는 방안이 포함되어 있다.

▶ 9058-0224

6 표는 갑국과 을국의 의회 의원 선거 결과의 일부이다. 갑국과 을국의 정치 상황에 대한 분석 및 추론으로 옳은 것은?

〈갑국의 의회 의원 선거 결과〉

정당	A	B	...	합계
의석률(%)	45	52	...	100

〈을국의 의회 의원 선거 결과〉

정당	a	b	...	합계
의석률(%)	29	36	...	100

\* 갑국과 을국은 각각 서로 다른 전형적인 정부 형태를 채택하고 있으며, 갑국과 을국에서 행정부 수반이 속한 정당은 원내 제당이다.  
 \*\* 갑국과 을국에는 네 개의 정당이 존재하고, 무소속 의원은 없다.

- ① 갑국의 정부 형태가 대통령제라면, 을국에서는 연립 내각이 구성될 가능성이 적다.
- ② 을국의 정부 형태가 대통령제라면, 갑국에서는 의회와 행정부가 대립할 가능성이 크다.
- ③ 의회 의원 선거 결과 나타난 갑국의 정당 제도는 을국에 비해 다양한 국민의 의견을 정부 정책에 반영할 수 있다는 장점이 있다.
- ④ 의회 의원 선거 결과 나타난 을국의 정당 제도는 갑국에 비해 정책 추진에 따른 정치적 책임 소재가 분명하다는 장점이 있다.
- ⑤ 을국에서 b당의 의원이 각료를 겸직할 수 있다면, 을국의 행정부 수반은 법률안 거부권을 행사할 수 없다.

▶ 9058-0225

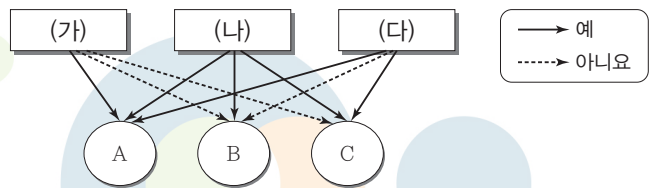
7 다음 사례에 대한 법적 판단으로 옳은 것은? [3점]

갑(17세)은 을이 운영하는 대리점에서 휴대 전화를 구매하였다. 다음날 을은 갑이 작성한 계약서를 살펴보다 갑이 미성년자라는 사실을 발견하고, 법정 대리인의 동의를 얻기 위해 갑의 부모에게 전화를 걸었다. 여러 번 전화를 했지만, 갑의 부모가 전화를 받지 않자 휴대 전화에 한 달 이내에 계약을 취소할지의 여부를 결정하여 알려 달라고 촉구하는 문자 메시지를 남겼다. 갑의 부모는 문자 메시지를 보자마자 갑에게 을과 체결한 계약을 취소하면 좋겠다고 말하였으나, 을에게 특별한 조치를 취하지는 않았다. ㉠ 한 달이 지난 다음, 갑이 계속 휴대 전화를 사용하는 것을 발견한 갑의 부모는 을과의 매매 계약을 취소하고자 한다.

- ① 갑의 부모는 ㉠의 상황에서 갑이 미성년자라는 이유로 을에게 계약의 무효를 주장할 수 있다.
- ② 갑의 부모가 갑에게 취소의 의사 표시를 하였으므로 을과 체결한 계약은 소급하여 무효가 된다.
- ③ 갑의 부모는 을에게 일정 기간 내 계약 취소 여부에 대한 응답을 하지 않았으므로 갑이 체결한 계약을 취소할 수 없다.
- ④ 갑의 부모가 을에게 계약 취소의 의사 표시를 하기 전에 을은 갑의 부모에게 계약 체결의 의사 표시를 철회할 수 없다.
- ⑤ 을이 갑에게는 계약 취소 여부에 대한 응답을 촉구하지 않았으므로 갑은 미성년자라는 이유로 을과 체결한 계약을 취소할 수 있다.

▶ 9058-0226

8 표는 정치 참여 집단 A~C를 질문 (가)~(다)에 따라 구분한 것이다. 이에 대한 설명으로 옳은 것은? (단, A~C는 각각 정당, 이익 집단, 시민 단체 중 하나이다.)



- ① (가)에 “정치적 책임을 지는가?”가 들어가면, B와 C는 모두 공익의 실현을 목적으로 한다.
- ② (나)에 “정부와 국민, 정부와 의회를 이어 주는 교량적 역할을 담당하는가?”가 들어갈 수 있다.
- ③ (다)에 “대의 민주주의의 한계를 보완하기 위해 등장하였는가?”가 들어가면, B는 정권 획득을 목적으로 한다.
- ④ B가 이익 집단이고 C가 시민 단체라면, (가)에 “국민의 정치의식을 향상시키는 데 기여하는가?”가 들어갈 수 있다.
- ⑤ A가 정당이고 B가 시민 단체라면, (다)에 “공직 선거에 후보자를 공천하는가?”가 들어갈 수 있다.



### 9 국제 사회를 바라보는 관점 A, B에 대한 옳은 설명만을 <보기>에서 있는 대로 고른 것은?

국제기구가 국제 사회의 안정과 평화에 긍정적이고 건설적인 역할을 할 수 있다는 가정에서 출발하는 A와 달리 B는 국제기구가 패권국이나 강대국의 이익을 대변한다고 본다. B는 국제기구가 크게 논쟁적이지 않은 분야에서 미미하게 협력을 증진할 수 있지만, 이해관계가 대치하고 있는 분야에서는 패권 국가나 강대국의 행위를 거의 통제할 수 없기 때문에 국제 평화와 안보를 유지하는 데 제 역할을 할 수 없다고 주장한다. 이에 반해 A는 국제기구가 국가 간 극단적인 충돌이 발생할 상황에 처했을 때 중재자가 되어 문제 해결에 도움을 줄 수 있다고 본다.

#### 보기

- ㄱ. A는 국제 사회에서 국가 간 상호 의존적 관계를 간과한다.
- ㄴ. B는 국제 사회에서 다른 나라의 배려나 양보를 기대하는 것이 어렵다고 본다.
- ㄷ. A와 달리 B는 국가 안보는 국가 간 세력 균형을 통해 잠재적인 공격자를 저지할 수 있는 조건이 형성될 때 가능하다고 본다.
- ㄹ. B와 달리 A는 국제 사회에는 이성과 보편적 윤리가 적용되므로 국제기구를 통해 규범적 질서 유지가 가능하다고 본다.

- ① ㄱ, ㄴ                    ② ㄱ, ㄷ                    ③ ㄷ, ㄹ
- ④ ㄱ, ㄴ, ㄹ                ⑤ ㄴ, ㄷ, ㄹ

### 10 다음 사례에 대한 옳은 법적 판단을 <보기>에서 고른 것은? [3점]

평상시에 정상적으로 생활하는 갑(19세)은 술만 마시면 정신을 잃고 자신도 모르게 물건을 훔치는 나쁜 버릇이 있다. 친구의 생일 파티에 참석한 갑은 술을 마시다 정신을 잃게 되었는데, 다음 날 일어나 보니 자신의 가방에 친구의 지갑이 들어 있었다. 기억을 되살리려 노력하던 갑은 어제도 술에 취해 ㉠ 친구의 지갑을 훔친 것을 깨닫게 되었고, ㉡ 친구에게 사과하고 이를 돌려주었다. 자신에게 나쁜 버릇이 있다는 것을 알고 있었던 갑은 며칠 후 평상시 갖고 싶었던 오토바이를 훔치기 위해 일부러 술을 마시고 만취 상태에서 ㉢ 오토바이를 훔치는 데 성공하였다.

#### 보기

- ㄱ. ㉠의 시점에 갑에게 고의와 사물을 변별할 능력이 인정되는 경우 범죄가 성립할 수 있다.
- ㄴ. ㉠은 구성 요건에 해당하는 행위이지만 ㉡으로 인해 위법성이 조각되어 범죄가 성립하지 않는다.
- ㄷ. ㉢은 갑이 심신 상실 상태에서 저지른 행위이지만 갑의 도적으로 심신 상실 상태를 야기한 경우에는 범죄가 성립될 수 있다.
- ㄹ. ㉠, ㉢은 모두 갑이 심신 장애 상태에서 저지른 행위이므로 법원은 갑에게 형벌이나 치료 감호 처분을 부과할 수 없다.

- ① ㄱ, ㄴ                    ② ㄱ, ㄷ                    ③ ㄴ, ㄷ                    ④ ㄴ, ㄹ                    ⑤ ㄷ, ㄹ

### 11 다음 사례에 대한 법적 판단으로 옳은 것은? [3점]

밤늦게 퇴근하던 중 갑은 을(18세)과 병(16세)이 길가에 세워 둔 정(23세)의 오토바이를 훔치는 것을 목격하고 도망가던 을과 병을 체포한 후 인근에서 순찰 중인 경찰관에게 인계하였다. 경찰은 을과 병을 구속 수사한 후 사건을 검찰에 송치하였고, 담당 검사는 을과 병의 품행, 경력, 생활 환경 등을 조사해 줄 것을 해당 검찰청 소재지를 담당하는 보호 관찰소장에 의뢰한 후, 조사 결과를 토대로 병을 가정(지방) 법원 소년부에 송치하고, 을을 특수 절도 혐의로 기소하였다.

- ① 갑이 을과 병을 체포한 행위는 구성 요건에 해당하지 않는다.
- ② 을은 구속된 상태에서 기소되었으므로 공판 절차에서 법원에 구속 적부 심사를 청구할 수 있다.
- ③ 을이 법원에서 징역 1년에 집행 유예 2년을 선고받으면 2년 경과 후 즉시 면소된 것으로 간주된다.
- ④ 법원 소년부에서 병에 대해 소년법상 보호 처분을 결정하면 병은 이에 불복하여 상급 법원에 항고할 수 있다.
- ⑤ 법원에서 을에 대한 유죄 판결이 확정되면, 정은 을에게 범죄 피해 배상을 위해 일정 한도의 구조금 지급을 청구할 수 있다.

### 12 그림의 (가)에 들어갈 옳은 법적 조언을 <보기>에서 고른 것은?

저는 사업자인 갑과 합의하고, 근무일에 휴게 시간을 보장받지 못한 채 계약 기간 내내 하루 9시간씩 결근하지 않고 일을 했습니다. 그런데 갑이 시급을 9,000원으로 계산하고 휴일은 모두 무급으로 한 후 임금을 지급하였어요. 법적으로 문제가 없나요?

(가)



<근로 계약서>  
 갑(사업자)과 을(근로자, 25세)은 다음과 같이 근로 계약을 체결한다.  
 1. 계약 기간 : 2019년 3월 7일부터 4월 3일까지  
 2. 근로 시간 : 09시~18시 (휴게 시간 : 13시~14시)  
 3. 근무일/휴일 : 매주 목요일부터 월요일까지(휴일 : 매주 화요일, 수요일)  
 4. 임금 : 시급 9,000원(연장 근로 시 임금의 50%를 연장 근로 수당으로 지급)  
 5. 업무 내용 : ○○마트 제품 진열 및 포장

\* 근로 기준법상 연장 근로 시간은 1주간 12시간 이내이며, 이에 대한 예외 규정은 고려하지 않는다.

#### 보기

- ㄱ. 갑의 부당 노동 행위를 이유로 노동 위원회에 구제 신청을 할 수 있어요.
- ㄴ. 근무일에 개근하였으므로 유급 휴일에 대한 임금을 추가로 갑에게 요구할 수 있어요.
- ㄷ. 근로 계약서에 기재된 을의 1일 근로 시간은 9시간이므로, 갑의 하루 임금 계산에는 문제가 없어요.
- ㄹ. 매일 1시간씩 연장 근로를 하였으므로, 갑에게 하루 임금으로 81,000원 이상을 요구할 수 있어요.

- ① ㄱ, ㄴ                    ② ㄱ, ㄷ                    ③ ㄴ, ㄷ                    ④ ㄴ, ㄹ                    ⑤ ㄷ, ㄹ

13 다음 자료에 대한 분석으로 옳은 것은? [3점]

지역구 의원으로만 구성된 갑국의 의회는 4개의 선거구(가~라)에서 각 선거구별로 동일하게 2명의 의원을 득표순으로 선출한다. 갑국은 아래 표의 최근 실시한 의회 의원 선거 시 각 선거구의 정당 후보별 득표율을 근거로 다음과 같은 선거 제도 개편안을 논의하고 있다.

(단위 : %)

선거구	가	나	다	라
A당 후보	20	25	35	50
B당 후보	40	20	15	25
C당 후보	30	50	30	10
D당 후보	10	5	20	15

의회 전체 의석수를 현재의 1.5배로 하고 한 정당이 지역구 선거에서 지역구 전체 의석의 과반을 확보할 가능성이 있는 선거구제로 개편한다. 이와 함께 비례 대표제를 도입하여 전체 의석에서 지역구 의석을 제외한 남은 의석을 배분한다.

\* 비례 대표제 적용 시, 비례 대표 총 의석수에 각 정당의 지역구 후보들이 선거구 전체에서 얻은 득표율을 곱하여 산출된 수의 정수(整数)만큼 각 정당에 의석을 먼저 배분하고, 잔여 의석은 소수점 이하 수가 큰 순서대로 각 정당에 1석씩 배분한다.

\*\* 지역구 의원 선거에서 각 정당은 선거구별로 한 명의 후보자만 공천하며, 유권자는 자신이 지지하는 정당의 지역구 후보 중 한 명에게만 투표한다.

\*\*\* 모든 선거구에서 유권자 수는 동일하며, 투표율은 100%이고 무효표는 없다.

- ① 최근 선거 결과 '다' 선거구에서 사표가 가장 적게 나타났다.
- ② 선거 제도를 개편할 경우 A당과 B당은 모두 과대 대표된다.
- ③ 선거 제도 개편 전과 달리 개편할 경우, B당과 C당의 의석수는 동석이 된다.
- ④ 선거 제도 개편 전과 달리 개편할 경우, C당은 득표율과 의석률의 불일치 정도가 늘어난다.
- ⑤ A~D당 모두 현행 선거 제도보다 선거 제도를 개편할 경우 의석수 확보에 유리해진다.

▶ 9058-0232

14 A와 달리 B에 해당하는 법 영역에 대한 설명으로 옳은 것은?

근대 시민 사회에서 개인과 개인 간의 생활관계는  (으)로만 규율되었다. 하지만 사회적 강자와 약자 사이에 나타나는 불균형을 시정하기 위해 국가가 사적 영역에 개입할 필요성이 제기되었고,  이/가 새로운 법 영역으로 등장하게 되었다.

- ① 형식적 평등을 실현하기 위한 법 영역에 해당한다.
- ② 공법과 사법의 중간 영역에 해당하는 제3의 법 영역이다.
- ③ 무과실 책임의 원칙과 사유 재산권 존중의 원칙이 적용된다.
- ④ 국가 권력으로부터 사회·경제적 약자를 보호하기 위해 등장하였다.
- ⑤ 법률 관계 형성을 개인의 자유로운 의사에 맡겨야 한다는 원칙을 인정한다.

▶ 9058-0233

15 국제법의 법원(法源) A, B에 대한 설명으로 옳은 것은? (단, A, B는 각각 조약과 국제 관습법 중 하나에 해당한다.)

국제법의 다양한 법원(法源) 중에서도  와/과  이/가 양대 법원을 형성한다는 점은 국제 사회에서 널리 인정되어 왔다. 그러나 제2차 세계 대전 이후 신생 독립국들은  이/가  에 비해 훨씬 더 명확하고 안정성이 있어 국제 사회의 규범 체계의 형성에 적합하다고 생각하고  의 법적 구속력을 인정하지 않으려고 하였다. 그러나  이/가 원칙적으로 체결 당사자만을 구속한다는 한계를 가진 데 반해,  은/는 별도의 체결 절차 없이 원칙적으로 국제 사회의 모든 국가에 대해 포괄적 구속력을 가지고 있어 현행 국제법 체계에서 여전히 중요한 위치를 차지한다고 할 수 있다.

- ① A는 우리나라에서 헌법과 같은 효력을 가진다.
- ② 우리나라에서 B는 대통령이 체결하고 국회가 비준한다.
- ③ A와 달리 B는 입법부와 같은 권위적인 제정 기구에 의해 만들어진다.
- ④ B와 달리 A가 성립되기 위해서는 국제 사회의 일반적 관행과 법적 확신이 있어야 한다.
- ⑤ A, B는 모두 우리나라에서 국회의 동의가 있어야 국내법적 효력을 가지게 된다.

▶ 9058-0234

16 다음 사례에 대한 법적 판단으로 옳은 것은? [3점]

갑(남)은 을(여)과 혼인하였는데 아이가 없어 병의 아들 A(2세)를 합법적으로 친양자가 아닌 양자로 입양하였다. 결혼 생활 내 성격 차이로 어려움을 겪던 갑과 을은 결혼 3년 만에 이혼을 하게 되었고, 을이 A에 대한 양육권과 친권을 가지기로 합의하였다. 그 후 을은 A를 데리고 사별한 정(남)과 재혼을 하였고, 합법적인 절차를 거쳐 정의 딸 B(8세)를 친양자로 입양하였다. 을과 정은 함께 여행을 떠났다가 교통사고로 둘 다 사망하였다. 사망 후 "모든 재산을 ○○ 재단에 기부한다."는 취지의 정의 유언장이 발견되었다. 사망 당시 정의 전 재산은 35억 원이며, 을의 전 재산은 7억 원이고, 둘 다 채무는 없었다.

\* 위 사례의 혼인은 모두 법률혼이다.

- ① A는 입양으로 갑과 을의 친생자와 같은 지위를 가지게 되므로, 병과의 친족 관계는 종료된다.
- ② 정의 유언이 유효한 경우, ○○ 재단은 최소 35억 원을 받을 수 있다.
- ③ 정의 유언이 유효한 경우, A, B는 모두 ○○ 재단에 유류분의 반환을 청구할 수 있다.
- ④ 정의 유언이 무효이고 정의 사망 후 을이 사망한 경우, A는 28억 원을 상속받는다.
- ⑤ 정의 유언이 무효이고 을의 사망 후 정의 사망한 경우, B는 40억 원을 상속받는다.



### 17 다음 사례에 대한 옳은 법적 판단을 <보기>에서 고른 것은?

갑은 임대차 기간을 2년으로 하고 보증금 2억 원에 A 주택을 임차하는 계약을 2017년 1월 9일에 을과 체결하였다. 갑은 2017년 2월 1일에 A 주택을 인도받아 전입 신고를 마치고, 다음 날 확정 일자를 받았다. 갑은 임대차 기간이 만료되기 1개월 전 A 주택의 등기사항 전부 증명서에서 아래의 내용을 확인하였다.

【갑 구】				
순위 번호	등기 목적	접수	등기 원인	권리자 및 기타 사항
1	소유권 보존	2010년 7월 19일 제○○○호		소유자 을 (이하 생략)
2	소유권 이전	2017년 2월 20일 제○○○호	2017년 1월 20일 매매	소유자 병 (이하 생략)

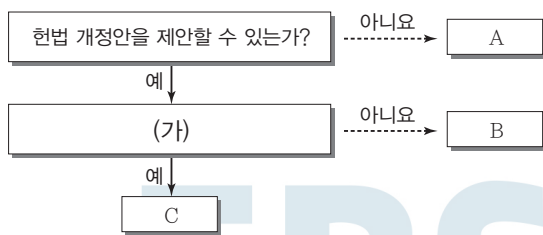
【을 구】				
순위 번호	등기 목적	접수	등기 원인	권리자 및 기타 사항
1	저당권 설정	2017년 2월 28일 제○○○호	2017년 2월 27일 설정계약	채권액 금300,000,000원 채무자 병 (이하 생략) 저당권자 정 (이하 생략)

#### 보기

- ㄱ. 갑은 2017년 2월 1일에 주택 임대차 보호법상의 우선 변제권을 취득한다.
- ㄴ. 갑과 병이 별도로 임대차 계약을 체결하지 않아도 갑은 남은 기간 동안 A 주택에 거주할 수 있다.
- ㄷ. 정은 저당권이 A 주택에 등기되어 있으므로 정은 병뿐만 아니라 갑과도 채권·채무 관계가 발생한다.
- ㄹ. 병이 정에게 채무를 전혀 갚지 않아 저당권이 실행되어 경매에서 A 주택이 3억 원에 매각된 경우, 정은 매각 대금에서 채권액 중 일부만 변제받을 수 있다.

- ① ㄱ, ㄴ    ② ㄱ, ㄷ    ③ ㄴ, ㄷ    ④ ㄴ, ㄹ    ⑤ ㄷ, ㄹ

### 18 그림에 대한 설명으로 옳은 것은? (단, A~C는 각각 대통령, 국회, 대법원 중 하나에 해당한다.) [3점]



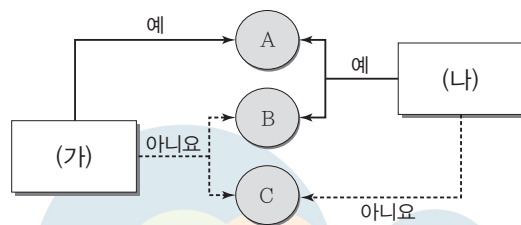
- ① A의 장은 대법관과 일반 법관에 대한 임명권을 가진다.
- ② (가)에 “국가 예산안을 심의·확정할 수 있는 권한을 가지는가?”가 들어가면, C는 정당 해산 심판 제소권을 가진다.
- ③ (가)에 “국무 위원의 해임을 건의할 수 있는가?”가 들어가면, B는 헌법 재판소 재판관 9인에 대한 임명권을 가진다.
- ④ (가)에 “조약의 체결·비준권을 가지는가?”가 들어가면, B는 A의 장이 헌법에 위반하여 직무를 집행한 경우 탄핵을 의결할 수 있다.
- ⑤ (가)에 “국가 안위에 관한 중요 정책에 대한 국민 투표 부의권을 가지는가?”가 들어가면, B는 위헌 법률 심판 제청권을 통해 C를 견제한다.

### 19 다음 사례에 대한 법적 판단으로 옳은 것은? [3점]

갑은 자신이 소유한 상가 건물에서 치킨 가게를 운영하고 있다. 갑은 손님이 많아지자 을(17세)과 병(19세)을 시간제로 고용하고 을은 가게에서 주문을 받고 병은 오토바이로 배달을 하도록 하였다. 을이 A로부터 치킨 5마리를 주문받고 병이 이를 배달하러 나간 사이 주문이 폭주하였고, 을은 급한 마음에 갑의 허락을 받지 않고 치킨 배달을 가게 되었다. 을은 배달을 마치고 돌아오던 중 가게 앞을 지나가던 행인 B를 치어 3개월 정도 치료를 요하는 부상을 입혔다. 한편, 병은 A의 주소를 잘못 기재한 때문에 제대로 배달을 하지 못한 채 가게로 돌아왔다.

- ① 갑은 상가 건물 소유자이므로 공작물 소유자로서 B에게 특수 불법 행위 책임을 진다.
- ② 병이 고의로 A에게 배달을 하지 못한 것이 아니므로 갑은 A에게 채무 불이행 책임을 지지 않는다.
- ③ 을의 행위에 대해 업무 관련성이 인정되어도 갑은 B에게 특수 불법 행위 책임을 지지 않는다.
- ④ 을이 B에 대해 일반 불법 행위 책임을 지는 경우, 을의 부모는 B에게 특수 불법 행위 책임을 지지 않는다.
- ⑤ 갑, 을, 병이 A에게 공동 불법 행위자의 책임을 지므로 갑, 을, 병은 연대하여 A에게 손해 배상을 해야 한다.

### 20 그림은 국제 연합의 주요 기관 A~C를 질문에 따라 구분한 것이다. 이에 대한 옳은 설명을 <보기>에서 고른 것은? (단, A~C는 각각 총회, 안전 보장 이사회, 국제 사법 재판소 중 하나에 해당한다.)



#### 보기

- ㄱ. (가)에 “국제 연합의 최고 의결 기관에 해당하는가?”가 들어가면, A는 총회에 해당한다.
- ㄴ. (가)에 “원칙적으로 관할권을 승인한 국가들 간의 분쟁에 대해 국제법에 따른 판결을 내릴 수 있는가?”가 들어가면, B와 C는 A의 재판관을 선출하는 권한을 가진다.
- ㄷ. (나)에 “주권 평등의 원칙에 기초하여 국제 연합의 모든 회원국으로 구성되어 있는가?”가 들어갈 수 있다.
- ㄹ. (가)에는 “표결 방식에 강대국의 힘의 원리가 반영되어 있는가?”가 들어가고 (나)에는 “판결에 불복하는 당사국에 직접 제재를 가할 수 있는가?”가 들어갈 수 있다.

- ① ㄱ, ㄴ    ② ㄱ, ㄷ    ③ ㄴ, ㄷ    ④ ㄴ, ㄹ    ⑤ ㄷ, ㄹ

문항에 따라 배점이 다르니, 각 물음의 끝에 표시된 배점을 참고 하시오. 3점 문항에만 점수가 표시되어 있습니다. 점수 표시가 없 는 문항은 모두 2점입니다.

▶ 9058-0239

**1** 근대 사회 계약론자 A~C에 대한 설명으로 옳은 것은? (단, A~C는 각각 홉스, 로크, 루소 중 하나이다.)

- “주권이 국민에게 있습니까?”라는 질문으로 A, B를 구분할 수 있다.
- “이권 분립을 주장합니까?”라는 질문으로 B, C를 구분할 수 없다.

- ① A는 자연 상태를 만인에 대한 만인의 투쟁 상태로 본다.
- ② B는 왕권 신수설에 입각한 전제 군주제를 강조한다.
- ③ C는 자연권을 침해한 정부에 대한 저항권을 인정한다.
- ④ A와 달리 B는 국가를 목적이 아닌 수단으로 본다.
- ⑤ B와 달리 C는 일반 의지에 근거한 정치 공동체의 구성을 주장하였다.

▶ 9058-0240

**2** 법치주의 유형 A, B에 대한 옳은 설명을 <보기>에서 고른 것은?

법치주의는 인의 지배가 아닌 법의 지배를 의미하며, 법치주의의 유형에는 A, B가 있다. A는 법의 목적이나 내용에 관계없이 통치의 합법성만을 강조하는 B와 달리 법의 목적이나 내용도 인간의 존엄성이나 실질적 평등에 부합하는 법에 의해 통치가 이루어져야 한다고 본다.

**보기**

- ㄱ. 위헌 법률 심판 제도는 A가 아닌 B의 실현을 위한 대표적인 제도이다.
- ㄴ. A와 달리 B는 독재 정치를 정당화하는 논리로 악용되기도 하였다.
- ㄷ. B와 달리 A는 통치의 합법성보다 정당성을 중시한다.
- ㄹ. A, B는 모두 국민의 기본권을 제한하는 경우에는 법에 근거 해야 한다고 본다.

- ① ㄱ, ㄴ    ② ㄱ, ㄷ    ③ ㄴ, ㄷ    ④ ㄴ, ㄹ    ⑤ ㄷ, ㄹ

▶ 9058-0241

**3** 다음 자료에 대한 설명으로 옳은 것은? (단, 갑국과 을국은 전 형적인 정부 형태를 채택하고 있다.) [3점]

갑국은 의회 의원과 행정부 수반을 선출하는 선거를 각각 시행 하는 반면 을국은 의회 의원 선거만 실시하고 행정부 수반은 의 회에서 선출된다.

구분	행정부 수반 소속 정당과 의회 의석 과반수 정당 일치 여부 또는 의회 의석 과반수 정당 존재 여부	
	갑국	을국
t기	일치	의회 의석 과반수 정당 없음
t+1기	불일치	일치

- ① t기에 갑국에서는 여소야대 현상이 나타났다.
- ② t기와 달리 t+1기에 을국에서는 연립 정부가 구성되었다.
- ③ t기에 비해 t+1기에 갑국에서는 행정부 수반의 법률안 거 부권 행사 가능성이 높다.
- ④ 갑국에서는 을국에서와 달리 의회의 내각 불신임권 행사 가 가능하다.
- ⑤ 갑국과 을국 모두에서 행정부의 법률안 제출이 가능하다.

▶ 9058-0242

**4** 정치 참여 집단 A~C에 대한 설명으로 옳은 것은? (단, A~C는 각각 시민 단체, 이익 집단, 정당 중 하나에 해당하는 집 단이다.) [3점]



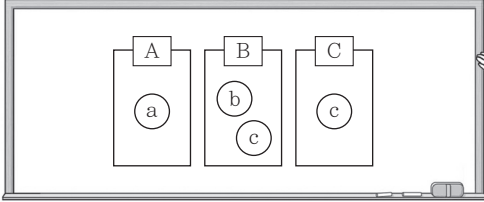
- ① A는 B와 달리 정치 사회화 기능을 한다.
- ② B는 C와 달리 여론을 형성하고 조직한다.
- ③ A는 B, C와 달리 자신들의 행위에 대한 정치적 책임을 진다.
- ④ C는 A, B와 달리 집단의 특수 이익보다 공익을 우선시한다.
- ⑤ A~C 모두 정부와 의회를 매개하는 역할을 한다.



▶ 9058-0243

### 5 그림에서 ㉠~㉢에 해당하는 내용을 <보기>에서 골라 바르게 연결한 것은?

㉠~㉢은 기본권 A~C의 특징에 해당합니다. ㉢은 B, C의 공통적인 특징입니다. 단, A는 역사적으로 가장 오래된 기본권이고, B는 수단적 권리이며, C는 인간다운 생활의 보장을 국가에 요구할 수 있는 권리입니다.



#### 보기

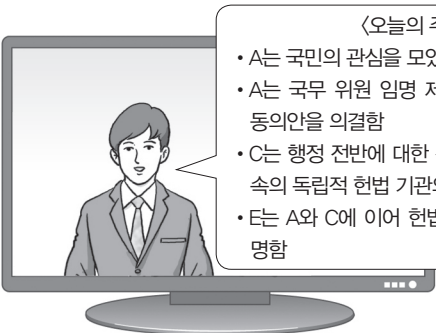
- ㄱ. 기본권 보장을 위한 기본권이다.
- ㄴ. 주권자로서 정치에 참여할 수 있는 권리이다.
- ㄷ. 국가의 존재를 전제로 하는 적극적 권리이다.
- ㄹ. 헌법에 열거되지 않아도 보장받는 포괄적 권리이다.

- |   |   |   |   |
|---|---|---|---|
|   | ㉠ | ㉡ | ㉢ |
| ① | ㄴ | ㄱ | ㄷ |
| ② | ㄷ | ㄱ | ㄹ |
| ③ | ㄷ | ㄴ | ㄹ |
| ④ | ㄹ | ㄱ | ㄷ |
| ⑤ | ㄹ | ㄷ | ㄱ |



▶ 9058-0244

### 6 우리나라 국가 기관 A~E에 대한 옳은 설명을 <보기>에서 고른 것은? [3점]



#### <오늘의 주요 뉴스>

- A는 국민의 관심을 모았던 ○○법률안을 의결함
- A는 국무 위원 임명 제청권자인 B에 대한 임명 동의안을 의결함
- C는 행정 전반에 대한 감시 및 감독을 하는 C 직속의 독립적 헌법 기관의 장인 D를 임명함
- E는 A와 C에 이어 헌법 재판소 재판관 1인을 지명함

#### 보기

- ㄱ. ○○법률안이 A에서 의결되기 위해서는 재적 의원 과반수의 찬성이 필요하다.
- ㄴ. B는 우리나라 정부 형태의 의원 내각제적 요소에 해당한다.
- ㄷ. D, E를 C가 임명하기 위해서는 A의 동의를 얻어야 한다.
- ㄹ. E는 대법관을 포함한 법관을 임명한다.

- ① ㄱ, ㄴ    ② ㄱ, ㄷ    ③ ㄴ, ㄷ    ④ ㄴ, ㄹ    ⑤ ㄷ, ㄹ

▶ 9058-0245

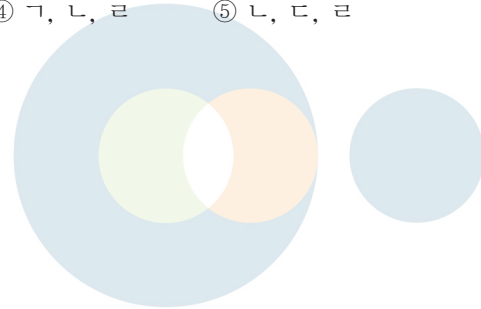
### 7 다음은 우리나라 헌법의 기본 원리 A를 정리한 것이다. 이에 대한 옳은 설명만을 <보기>에서 있는 대로 고른 것은?

1. 의미 : \_\_\_\_\_ (가)
2. 관련 규정
  - 대한민국은 민주 공화국이다.
  - 대한민국의 주권은 국민에게 있고, 모든 권력은 국민으로부터 나온다.
3. 실현 방안 : \_\_\_\_\_ (나)

#### 보기

- ㄱ. A는 국가 권력 행사의 한계와 정책 결정의 방향을 제시한다.
- ㄴ. A는 사회 문제 해결을 위한 국가의 적극적인 개입을 강조한다.
- ㄷ. (가)에는 '문화의 자율성을 인정하면서 국가가 문화를 보호하고 발전시켜야 한다는 원리'가 들어갈 수 있다.
- ㄹ. (나)에는 '언론·출판·집회·결사의 자유 보장'이 들어갈 수 있다.

- ① ㄱ, ㄷ                    ② ㄱ, ㄹ                    ③ ㄴ, ㄷ  
 ④ ㄱ, ㄴ, ㄹ                ⑤ ㄴ, ㄷ, ㄹ



▶ 9058-0246

### 8 자료는 헌법 재판소의 권한 중 A~C를 나타낸 것이다. 이에 대한 옳은 설명을 <보기>에서 고른 것은? (단, A~C는 각각 권리구제형 헌법 소원 심판, 위헌 심사형 헌법 소원 심판, 위헌 법률 심판 중 하나이다.) [3점]

구분	A	B	C
법률 위헌 여부가 재판의 전제가 되겠습니까?	예	아니요	예
국민이 직접 청구하니까?	예	예	아니요
(가)	아니요	아니요	예

#### 보기

- ㄱ. (가)에 "법원의 판결에 대해 청구할 수 있습니까?"가 들어갈 수 있다.
- ㄴ. B는 공권력의 행사 또는 불행사로 헌법상 보장된 기본권을 침해당한 국민이 청구하는 것이다.
- ㄷ. C는 당사자의 신청 없이 법원이 직권으로 제청할 수 있다.
- ㄹ. B와 달리 A에서는 법률의 위헌 여부를 심판한다.

- ① ㄱ, ㄴ    ② ㄱ, ㄷ    ③ ㄴ, ㄷ    ④ ㄴ, ㄹ    ⑤ ㄷ, ㄹ



▶ 9058-0247

▶ 9058-0249

9 다음 사례에 대한 옳은 법적 판단을 <보기>에서 고른 것은?

- 갑(8세)은 아파트 옥상에서 돌을 던져 지나가던 A에게 전치 6주의 상해를 입혔다. 이에 대해 A는 손해 배상 청구 소송을 제기하였고, 법원은 [가]에게 A의 손해에 대한 배상을 하라고 판결하였다.
- 대학생 을(18세)은 골목길을 지나가던 B가 자신의 어깨를 치고 갔다는 이유로 B를 폭행하여 전치 8주의 상해를 입혔다. 이에 대해 B는 손해 배상 청구 소송을 제기하였고, 법원은 [나]에게 B의 손해에 대한 배상을 하라고 판결하였다.

보기

- ㄱ. 가에는 갑의 부모가 들어갈 수 있다.
- ㄴ. 나에는 을이 들어갈 수 없다.
- ㄷ. A가 제기한 손해 배상 청구 소송에서 갑은 피고가 될 수 없다.
- ㄹ. B가 제기한 소송에서 법원은 을의 부모에게 특수 불법 행위 책임을 물을 수 있다.

- ① ㄱ, ㄴ    ② ㄱ, ㄷ    ③ ㄴ, ㄷ    ④ ㄴ, ㄹ    ⑤ ㄷ, ㄹ

11 밑줄 친 ㉠~㉣에 대한 법적 판단으로 옳은 것은? [3점]

갑은 을 소유의 A 주택에 대해 보증금 2억 원, 계약 기간 2년의 주택 임대차 계약을 을과 체결하였다. 갑은 잔금을 을에게 지급하고 A 주택을 ㉠ 인도 후 전입 신고를 하고 ㉡ 확정 일자를 받았다. 한 달 후 을은 ㉢ ○○은행에 저당권을 설정해 주고 1억 원을 빌렸다. 두 달 후 을은 사정이 생겨 병에게 ㉣ A 주택을 매도하기로 하는 계약을 병과 체결하였고, 병은 ㉤ 잔금을 지급하고 ㉥ A 주택에 대한 소유권 이전 등기를 하였다.

- ① ㉠ 없이 ㉡을 받기만 하면 갑은 우선 변제권을 갖는다.
- ② ㉢의 내용은 A 주택의 등기부 갑구에 기재된다.
- ③ ㉣에서 잔금 지급 이전에는 매도인, 매수인 모두 해약금을 지급하고 일방적으로 계약을 해제할 수 있다.
- ④ ㉤의 시점이 아니라 ㉥의 시점에서 병은 A 주택의 소유권을 갖는다.
- ⑤ ㉥에도 불구하고 갑은 병에게 남은 계약 기간 거주를 주장할 수 있다.

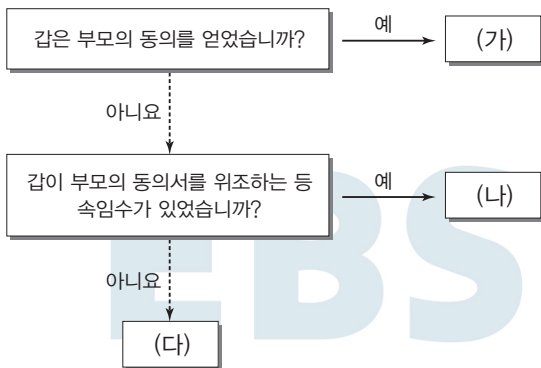


▶ 9058-0248

10 자료에 대한 법적 판단으로 옳은 것은? [3점]

▶ 9058-0250

갑(17세)은 고가의 자전거를 자전거 판매업자 을로부터 구입하였으며, 을은 계약 당시 갑이 미성년자임을 알고 있었다.



- ① 나)의 경우 갑은 자전거 매매 계약을 취소할 수 있다.
- ② 다)의 경우 을은 갑에게 확답을 촉구할 권리가 있다.
- ③ 다)의 경우 갑이 자전거 매매 계약을 취소할 경우 부모의 동의를 얻어야 한다.
- ④ 가)와 달리 다)의 경우 을은 철회권을 행사할 수 있다.
- ⑤ 가), 나)의 경우 모두 갑의 부모는 자전거 매매 계약을 취소할 수 없다.

12 다음 사례에 대한 법적 판단으로 옳은 것은? [3점]

갑과 을은 법률혼 관계에서 자녀 A를 낳았고, B를 친양자가 아닌 양자로 입양하였다. 병과 정은 혼인 신고를 하지 않은 상태에서 C를 낳았고, 병은 C를 인지하지 않았다. 갑은 회사에 다니던 갑과 병은 출장을 가다가 교통사고로 사망하였다. 갑과 병은 모두 노모를 모시고 살며, 갑은 “모든 재산을 B에게 물려준다.”라는 내용의 유언장을 남겼으나, 병은 유언을 남기지 않았다. 갑, 병 모두 채무 없이 재산을 남겼다.

\* 주어진 조건 이외에는 고려하지 않는다.

- ① B는 입양 당시 양부모의 성과 본을 따라야 했을 것이다.
- ② 갑의 유언장이 효력이 있는 경우 유류분 반환 청구를 위한 법정 상속분 산정 시 B는 법정 상속권자가 아니므로 고려하지 않는다.
- ③ 갑의 유언장이 효력이 없는 경우 갑의 노모는 A와 동일한 상속액을 받는다.
- ④ 병의 상속 재산에 대해서는 병의 노모가 단독으로 상속받는다.
- ⑤ 병이 C를 인지했다면 정과 C가 공동 상속인이 된다.



▶ 9058-0251

### 13 그림에 대한 법적 판단으로 옳은 것은?



- ① A는 피의자, B는 피고인이다.
- ② 갑의 판단에 따라 A는 형사 보상을 청구할 수 있다.
- ③ 검사와 달리 갑은 A에 대한 수사가 필요 없다고 본다.
- ④ 을의 판단에 따라 B는 기소된다.
- ⑤ 갑의 판단에 따라 A는 구속되지 않지만 을의 판단에 따라 B는 구속이 계속된다.

▶ 9058-0253

### 15 (가)~(라)는 갑에 대한 형사 절차를 순서대로 나타낸 것이 다. 이에 대한 옳은 법적 판단을 <보기>에서 고른 것은?



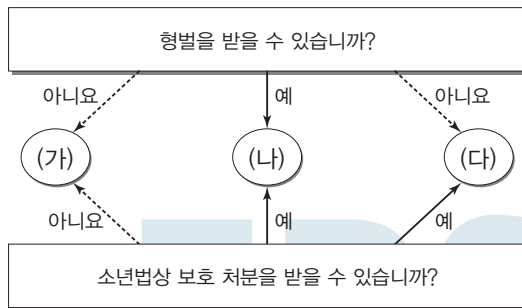
#### 보기

- ㄱ. (가)에서 갑이 자신의 죄를 인정하였으므로 갑에게는 무죄 추정의 원칙이 적용되지 않는다.
- ㄴ. (나)로 인해 (다)에서 피해자는 원고, 갑은 피고인이 된다.
- ㄷ. (다)에서 갑의 사기죄 혐의에 대한 증명은 검사가 해야 한다.
- ㄹ. (라)의 판결이 확정될 경우 갑에게 가석방 제도가 적용될 수 없다.

- ① ㄱ, ㄴ    ② ㄱ, ㄷ    ③ ㄴ, ㄷ    ④ ㄴ, ㄹ    ⑤ ㄷ, ㄹ

▶ 9058-0252

### 14 그림의 (가)~(다) 사례에 대한 설명으로 옳은 것은? [3점]



- ① '갑(10세)이 편의점에서 물건을 훔친 경우'는 (가)에 해당하는 사례이다.
- ② '을(17세)이 학교에서 다른 학생을 폭행한 경우'는 (나)에 해당하는 사례이다.
- ③ '심신 상실자 병(25세)이 지나가는 사람을 폭행한 경우'는 (다)에 해당하는 사례이다.
- ④ (나)에 해당하는 사례의 소년에 대해 형벌과 소년법상 보호 처분을 동시에 부과할 수 있다.
- ⑤ (다)에 해당하는 사례의 소년에 대해 선도 조건부 기소 유예 처분을 부과할 수 있다.

▶ 9058-0254

### 16 다음 사례에 대한 옳은 법적 판단만을 <보기>에서 대로 고른 것은? [3점]

회사 입사 동기인 갑과 을은 최근에 ○○회사로부터 해고를 당하였다. 갑은 ○○회사 노동조합 활동을 적극적으로 하였다는 이유로 ○○회사로부터 해고를 당하였고, 을은 회사 정리 해고 시 여성이라는 이유만으로 해고를 당하였다. 이에 갑과 을은 해고와 관련한 구제 절차를 거치기로 하였다.

#### 보기

- ㄱ. 갑은 노동 위원회에 구제를 신청할 수 있다.
- ㄴ. 갑은 ○○회사를 상대로 하여 행정 소송을 제기하여 구제를 받을 수 있다.
- ㄷ. 을은 노동 위원회의 구제 절차를 거친 후에야 해고 무효 확인 소송을 제기할 수 있다.
- ㄹ. 을의 해고와 달리 갑의 해고에 대해 ○○회사 노동조합이 노동 위원회에 구제 신청을 할 수 있다.

- ① ㄱ, ㄴ    ② ㄱ, ㄹ    ③ ㄴ, ㄷ
- ④ ㄱ, ㄷ, ㄹ    ⑤ ㄴ, ㄷ, ㄹ



▶ 9058-0255

17 다음 자료에 대한 옳은 설명을 <보기>에서 고른 것은? (단, (가), (나)는 각각 국제 연합의 주요 기관인 안전 보장 이사회, 총회 중 하나이다.)

○○국 정부군의 □□민족을 상대로 한 군사 행동 중단을 촉구하는 (가)의 결의안이 채택됐다. (가)에서 57개 이슬람 국가로 구성된 이슬람협력기구(OIC)가 제출한 ○○국 관련 결의안을 표결에 부쳐 찬성 122표, 반대 10표로 가결 처리했다. 24개국은 기권했다. 한편 (나)에서도 지난달 ○○국 정부군의 □□민족 인종 청소를 규탄하는 성명을 채택했으나 A국의 거부권 행사로 결의안은 채택되지 않았다.

보기

- ㄱ. (가)는 모든 회원국이 참여하는 최고 의결 기관이다.
- ㄴ. A국은 (나)의 상임 이사국 중 하나에 해당하는 국가이다.
- ㄷ. (가)와 달리 (나)에서는 1국 1표 원칙이 적용되지 않는다.
- ㄹ. (가)와 달리 (나)는 국제 사법 재판소의 재판관을 선출하는 권한을 가지고 있다.

- ① ㄱ, ㄴ    ② ㄱ, ㄷ    ③ ㄴ, ㄷ    ④ ㄴ, ㄹ    ⑤ ㄷ, ㄹ

▶ 9058-0256

18 국제법의 법원(法源) A~C에 대한 옳은 설명을 <보기>에서 고른 것은? (단, A~C는 각각 국제 관습법, 법의 일반 원칙, 조약 중 하나이다.)

- A는 문명국들이 공통적으로 승인하여 따르는 법의 보편적인 원칙이다.
- B와 달리 C는 별도의 체결 절차 없이 국제 사회의 행위 주체에 대하여 법적 구속력을 갖는다.

보기

- ㄱ. 우리나라의 경우 B의 체결권은 대통령, 비준권은 국회가 가지고 있다.
- ㄴ. 국내 문제 불간섭은 C에 해당한다.
- ㄷ. A는 국제 분쟁 발생 시 관련 법규가 없을 경우 등에 재판의 준거로 활용될 수 있다.
- ㄹ. B와 달리 C는 문서 형식으로 존재하는 것이 일반적이다.

- ① ㄱ, ㄴ    ② ㄱ, ㄷ    ③ ㄴ, ㄷ    ④ ㄴ, ㄹ    ⑤ ㄷ, ㄹ

[19~20] 자료를 보고 물음에 답하십시오.

- 갑국과 을국 모두 지역구 의원과 비례 대표 의원이 각각 100명이며, 갑국의 지역구 수는 50개, 을국은 100개이며, 각각 지역구당 당선자 수는 같다.
- 갑국의 비례 대표 의원은 지역구 선거에서의 정당 득표율에 비례하여 배분하나, 정당 득표율이 5% 미만인 경우에는 의석을 배분받지 못한다. 남은 의석은 비례 대표 의석을 배분받지 못한 정당을 제외하고 지역구 의석 점유율이 높은 순으로 각 정당에 순차적으로 반복하여 1석씩 배분한다.
- 을국의 비례 대표 의원은 정당 투표를 통한 정당 득표율에 비례하여 배분하나, 지역구 의석수가 5석 미만일 경우에는 비례 대표 의석을 배분받지 못한다. 남은 의석은 비례 대표 의석을 배분받지 못한 정당을 제외하고 정당 투표를 통한 정당 득표율 순으로 각 정당에 순차적으로 반복하여 1석씩 배분한다.

▶ 9058-0257

19 갑국과 을국의 선거 제도에 대한 설명으로 옳은 것은?

- ① 의회 의원 선거에서 갑국과 달리 을국의 유권자는 1인 1표를 행사한다.
- ② 지역구 선거에서 갑국의 대표 결정 방식은 을국의 대표 결정 방식에 비해 사표가 많이 발생한다.
- ③ 지역구 선거에서 갑국의 선거구 제도는 선거구 내 당선자 간 투표 가치의 차등 문제가 발생할 수 있다.
- ④ 지역구 선거에서 갑국의 선거구 제도는 을국의 선거구 제도에 비해 다수당에 유리하여 양당제를 촉진한다.
- ⑤ 비례 대표 의원을 배분하는 경우 갑국과 달리 을국은 지역구 선거 결과가 영향을 주지 않는다.

▶ 9058-0258

20 다음은 갑국과 을국의 의회 의원 선거 결과이다. 이에 대한 분석 및 추론으로 옳은 것은? [3점]

〈갑국 의회 의원 선거 결과〉					〈을국 의회 의원 선거 결과〉				
구분	a당	b당	c당	d당	구분	A당	B당	C당	D당
지역구 의석수	30	34	31	5	지역구 의석수	40	36	20	4
지역구 선거 정당 득표율	40	30	26	4	정당 투표 정당 득표율	50	40	5	5

- ① 갑국의 지역구 선거에서 c당은 a당과 달리 과소 대표되었다.
- ② 의회 의석 점유율은 A당이 C당의 3배보다 크다.
- ③ 을국의 D당과 달리 갑국의 d당은 비례 대표 의석을 배분받지 못하였다.
- ④ 의회 의석 점유율이 가장 높은 정당은 갑국의 경우 b당, 을국의 경우 A당이다.
- ⑤ 갑국과 을국이 모두 전형적인 의원 내각제 국가라면 을국과 달리 갑국에서는 연립 정부가 구성될 것이다.