

# 사회영역(한국지리)

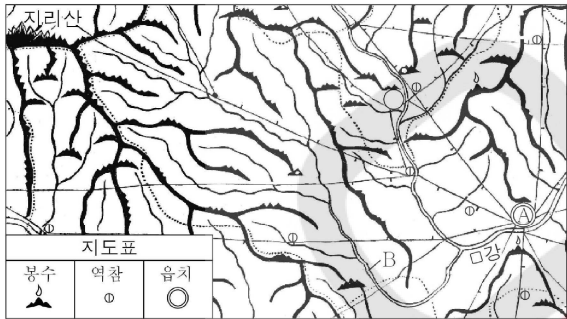
1

1

18년 10월 1번

다음 자료는 택리지와 대동여지도의 일부이다. 이에 대한 옳은 설명만을 <보기>에서 있는 대로 고른 것은? [3점]

안음의 동쪽은 거창이고, 남쪽은 함양이며, 산음은 지리산 북쪽에 있는데, 네 고을은 모두 ㉠ 땅이 기릅지다. ... 네 고을 물이 합쳐져서 □강이 되고 □A 남쪽을 돌아 낙동강으로 들어간다. □A 은/는 지리산 동쪽에 있는 큰 고을이며, ㉠ 장수와 정승이 될 만한 인재가 많이 나왔다.



< 보기 >

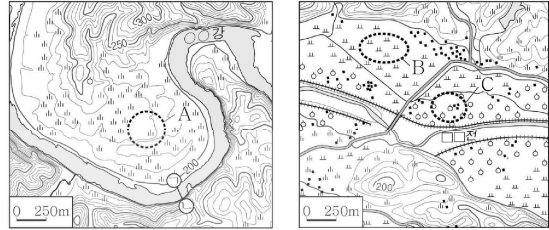
ㄱ. A는 영남 지방에 속한다.  
 ㄴ. A에서 20리 이내에 교통 및 통신 시설이 있다.  
 ㄷ. B에서 배를 타고 하류 방향으로 이동하면 A로 갈 수 있다.  
 ㄹ. 가거지의 조건 중 ㉠은 지리(地理), ㉡은 인심(人心)과 관련 있다.

- ① ㄱ, ㄴ                      ② ㄷ, ㄹ                      ③ ㄱ, ㄴ, ㄷ  
 ④ ㄱ, ㄴ, ㄹ                ⑤ ㄴ, ㄷ, ㄹ

2

18년 10월 2번

지도에 대한 옳은 설명만을 <보기>에서 있는 대로 고른 것은?



< 보기 >

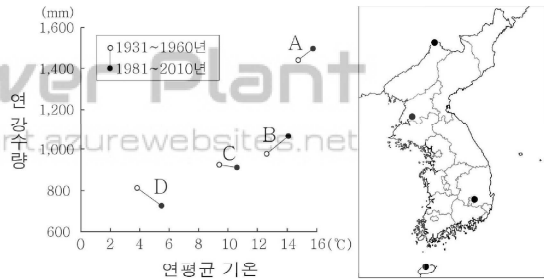
ㄱ. A의 퇴적층에서는 둥근 자갈을 발견할 수 있다.  
 ㄴ. A는 B보다 하천 범람에 의한 피해 발생 가능성이 높다.  
 ㄷ. B는 C보다 퇴적 물질의 평균 입자 크기가 크다.  
 ㄹ. ㉠-㉡의 하천 바닥 단면은 대략 'ㄷ'와 같은 형태로 나타난다.

- ① ㄱ, ㄴ                      ② ㄱ, ㄹ                      ③ ㄴ, ㄷ  
 ④ ㄱ, ㄷ, ㄹ                ⑤ ㄴ, ㄷ, ㄹ

3

18년 10월 3번

그래프는 지도에 표시된 네 지역의 기후 변화를 나타낸 것이다. A~D 지역에 대한 설명으로 옳은 것은?



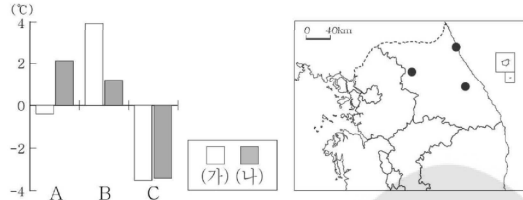
- ① 연평균 기온이 가장 많이 상승한 곳은 평양이다.  
 ② 중강진은 대구보다 연 강수량이 많이 증가하였다.  
 ③ A는 C보다 봄꽃 개화 시기가 늦다.  
 ④ B는 D보다 열대야 일수가 많다.  
 ⑤ 마지막 서리일은 D가 가장 이르고, B가 가장 늦다.



7

17년 10월 7번

그래프는 지도에 표시된 세 지역의 기온 편차를 나타낸 것이다. 이에 대한 설명으로 옳은 것은? (단, (가), (나)는 각각 1월과 8월 중 하나임.) [3점]



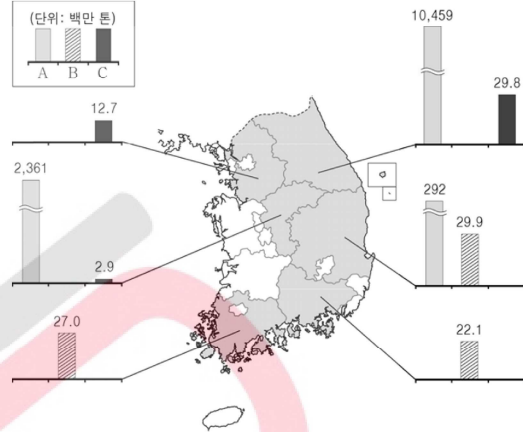
\* 기온 편차는 해당 지역의 월평균 기온에서 세 지역 월평균 기온의 평균값을 뺀 것임.

- ① (가)는 8월, (나)는 1월이다.
- ② A는 B보다 여름 강수 집중률이 높다.
- ③ B는 C보다 해발 고도가 높다.
- ④ C는 A보다 연평균 기온이 높다.
- ⑤ A~C 중 기온의 연교차는 B가 가장 크다.

8

16년 10월 8번

지도는 주요 광물 자원의 시·도별 매장량을 나타낸 것이다. A~C에 대한 설명으로 옳은 것은? (단, A~C는 고령토, 석회석, 철광석 중 하나임.)



\* 광물 자원별 매장량 상위 3개 지역만 나타냄. (2014년)

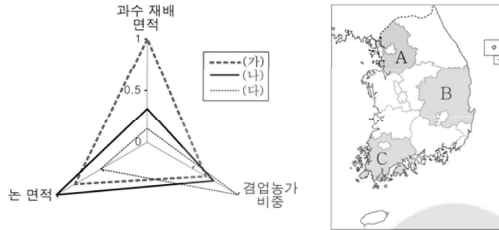
- ① A는 주로 도자기 및 내화 벽돌의 원료로 이용된다.
- ② B는 고생대 조선 누층군에 주로 분포한다.
- ③ C는 비금속 광물 자원이다.
- ④ A는 C보다 해외 의존도가 낮다.
- ⑤ A~C 중 가채 연수가 가장 긴 것은 C이다.



13

16년 10월 13번

그래프의 (가)~(다)에 해당하는 지역을 지도의 A~C에서 고른 것은?



\* 항목별 최대 지역의 값을 1로 했을 때의 상대적인 값을 나타낸 것임. (2014년)

- |   |     |     |     |   |     |     |     |
|---|-----|-----|-----|---|-----|-----|-----|
|   | (가) | (나) | (다) |   | (가) | (나) | (다) |
| ① | A   | C   | B   | ② | B   | A   | C   |
| ③ | B   | C   | A   | ④ | C   | A   | B   |
| ⑤ | C   | B   | A   |   |     |     |     |

14

16년 10월 14번

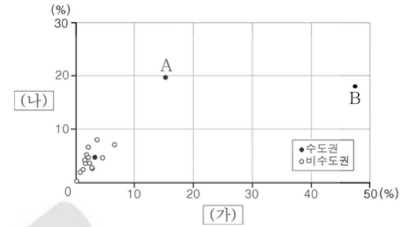
다음은 한국지리 수업 장면이다. 교사의 질문에 옳게 답한 학생을 고른 것은?

- ① 갑, 을    ② 갑, 병    ③ 을, 병    ④ 을, 정    ⑤ 병, 정

15

16년 10월 15번

그래프는 (가), (나) 서비스업의 시·도별 사업체 수 비중을 나타낸 것이다. 이에 대한 설명으로 옳은 것은? (단, (가), (나)는 숙박 및 음식점업, 전문 서비스업 중의 하나임.) [3점]



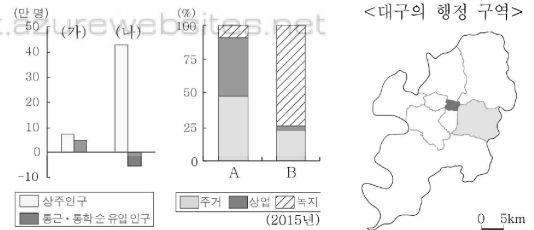
\* 전국에서 차지하는 비중을 나타낸 것이며, 전문 서비스업에는 법률, 회계, 광고업 등이 포함됨. (2014년)

- ① A는 서울, B는 경기도이다.
- ② (가)는 소비자 서비스업에 속한다.
- ③ (가)는 (나)보다 대도시에 집중하는 경향이 크다.
- ④ (나)는 (가)보다 사업체당 종사자 수가 많다.
- ⑤ (나)는 (가)보다 지식 집약적 성격이 강하다.

16

18년 10월 16번

그래프는 지도에 표시된 두 구(區)의 인구 및 용도 지역 현황을 나타낸 것이다. 이에 대한 설명으로 옳은 것은?



\* 통근·통학 순 유입 인구 = 통근·통학 유입 인구 - 통근·통학 유출 인구

- ① (가)는 (나)보다 녹지 면적이 넓다.
- ② (나)는 (가)보다 초등학교 학생 수가 적다.
- ③ (나)는 (가)보다 인구 공동화 현상이 뚜렷하다.
- ④ A는 B보다 상주인구가 많다.
- ⑤ B는 A보다 주간 인구 지수가 낮다.

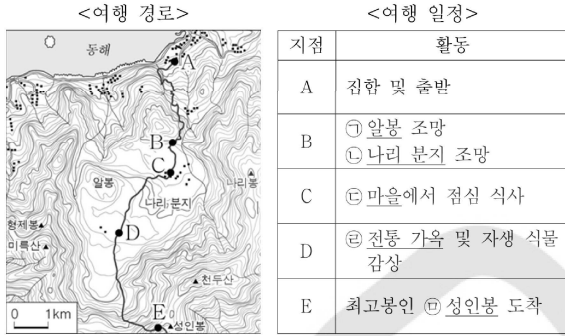
# 6

# 사회영역(한국지리)

17

16년 10월 17번

다음 자료에 대한 설명으로 옳은 것은? [3점]

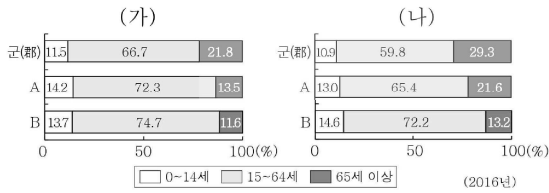


- ① A-B 구간의 경사는 점성이 작은 용암의 분출과 관계 깊다.
- ② ㉠은 ㉡보다 형성 시기가 이르다.
- ③ ㉢은 화구의 함몰로 형성된 칼데라 분지 내에 위치한다.
- ④ ㉣에는 무더운 여름을 대비한 대청이 있다.
- ⑤ ㉤은 오름이라 불리는 기생 화산이다.

18

18년 10월 18번

그래프는 두 권역의 시·군 규모별 인구 구조를 나타낸 것이다. 이에 대한 옳은 설명을 <보기>에서 고른 것은? (단, (가), (나)는 수도권과 호남권 중 하나이고, A, B는 인구 규모 20만 명 이상 도시군, 20만 명 미만 도시군 중 하나임.) [3점]



- < 보 기 >
- ㄱ. (가)는 (나)보다 도시 거주 인구 비율이 높다.
  - ㄴ. (나)는 (가)보다 총부양비가 높다.
  - ㄷ. A는 B보다 인구 규모가 큰 도시군이다.
  - ㄹ. B에 속하는 도시 수는 (나)가 (가)보다 많다.

- ① ㄱ, ㄴ    ② ㄱ, ㄷ    ③ ㄴ, ㄷ    ④ ㄴ, ㄹ    ⑤ ㄷ, ㄹ

19

18년 10월 19번

다음 <조건>을 고려할 때 청소년 도서관의 입지 지역으로 가장 적합한 곳을 <후보 지역> A~E에서 고른 것은?

< 조 건 >

- 평가 항목별 점수는 표와 같으며, 각 평가 항목 점수의 합이 가장 높은 곳에 입지함.

유소년층 인구(만 명)	점수	인구 만 명당 도서관 수(개)	점수
6 이상	3	1 미만	3
3 이상 ~ 6 미만	2	1 이상 ~ 2 미만	2
3 미만	1	2 이상	1

- 평가 항목 점수의 합이 동일할 경우 유소년층 인구 비중이 높은 곳에 입지함.

<유소년층 인구>	<총인구>	<도서관 수>	<후보 지역>
4 4 1 2 8 2 1 2 1 1 3 1 1 6 6 1	30 10 30 10 20 30 20 30 20 10 20 30 10 30 30 10	35 9 35 33 43 33 8 40 9 30 15 33 20 63 65 25	A B C D E

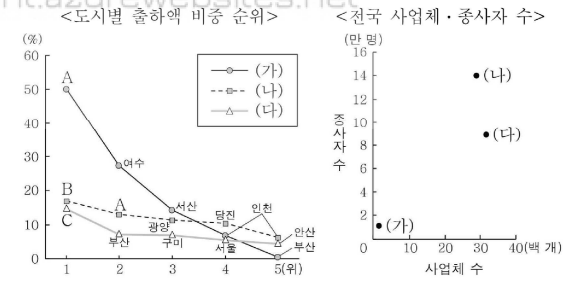
(단위: 만 명)                      (단위: 만 명)                      (단위: 개)

- ① A    ② B    ③ C    ④ D    ⑤ E

20

18년 10월 20번

그래프에 대한 설명으로 옳은 것은? (단, (가)~(다)는 1차 금속, 섬유 제품(의복 제외), 코르크·연탄 및 석유 정제품 제조업 중 하나임.) [3점]



\* 출하액 비중 순위는 제조업별 전국 출하액에서 해당 도시의 출하액이 차지하는 비중이 높은 순서대로 나타낸 것임. (2016년)

- ① (가)는 (다)보다 전국 출하액이 적다.
- ② (나)는 (나)보다 최종 제품의 무게가 가볍다.
- ③ (다)는 (나)보다 사업체당 종사자 수가 많다.
- ④ (가)와 (나)는 원료의 해외 의존도가 높아 주로 적환지에 입지한다.
- ⑤ A는 포항, B는 대구, C는 울산이다.