


제 4 교시

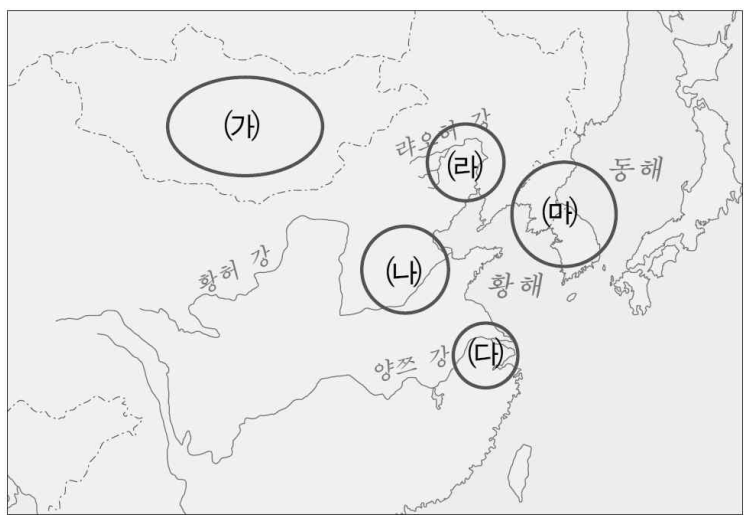
# 사회탐구 영역 (동아시아사)

성명  수험번호

1. 밑줄 친 '이 지역'을 지도에서 옳게 고른 것은?



사진은 이 지역에서 영웅적인 조상을 기리며 세운 기념물로, 사슴이나 동검 등이 새겨져 있다. 이 지역에서는 농경보다는 유목 위주의 생활을 했으며, 청동제 무기, 돌무지 제사 유적 등을 남기기도 했다.



- ① (가)    ② (나)    ③ (다)    ④ (라)    ⑤ (마)

2. 밑줄 친 '선제'가 활동한 시기의 동아시아 상황으로 옳은 것은?

우리나라 초창기를 보면, 선제께서는 군사 제도를 정비하여 군사력을 강화하였다. …(중략)… 만 명의 군사를 지휘하는 자를 만호, 천 명의 군사를 지휘하는 자를 천호, 백 명의 군사를 지휘하는 자를 백호로 삼았다. 세조 때 관제를 크게 개편하여 안으로 오위를 세워 모든 숙위군을 통솔하게 하고, 각 위에 친군도지휘사를 두었다.

- ① 한국-중원 왕조의 도움을 받아 통일 국가를 성립했다.  
 ② 중국-호라즘을 공격해 동서 무역로를 확보하였다.  
 ③ 일본-노리사치계에 의해 불교가 전파되었다.  
 ④ 일본-묘슈가 장원에서 연공을 거두었다.  
 ⑤ 베트남-응오 왕조가 설립되었다.

3. (가), (나) 사이에 있던 사실로 옳지 않은 것은? [3점]

(가) 위만은 준왕에게 서쪽의 변병(藩屏)이 되기를 청하였고 준왕은 이에 위만을 박사(博士)로 삼아 100리의 땅을 주고 서쪽 변방을 지키게 하였다.  
 (나) 전쟁에 지친 소국들은 합의하여 여인을 왕으로 세웠는데 이름이 히미코였다. …(중략)… 남동생으로 하여금 나라를 다스리는 것을 보좌케 하였다.  
 -“삼국지”, 위서 왜전-

- ① 왕망이 신(新)을 건국했다.  
 ② 광무제가 왜에 금인을 하사했다.  
 ③ 진(秦)의 관리 출신인 짜에우다가 남비엣을 건국했다.  
 ④ 한 무제가 고조선을 멸망시키고 한4군을 설치했다.  
 ⑤ 쥘 자매의 저항운동이 실패로 끝났다.

4. 다음 자료가 설명하는 시대의 동아시아 불교 문화에 대한 설명으로 적절한 것은?

당나라의 승려 현장은 장안, 성도와 그 밖의 중국 중북부의 여러 도시를 여행하며 불교 연구에 진력한 뒤, 인도에서 불교 경전을 가지고 왔으며, 당 태종의 후원을 받아 74부 1,335권의 경전을 한문으로 옮겼다.

- ① 의상이 당에서 신라로 귀국한 뒤 화엄 사상을 전파하였다.  
 ② 달마가 참선을 중시하는 선종을 창시했다.  
 ③ 감진이 일본에 계율을 전파하였다.  
 ④ 통일 신라에 불국사와 석굴암이 조성되었다.  
 ⑤ 원강 석굴이 조성되기 시작했다.

5. 다음 글의 밑줄 친 (가), (나)에 대한 설명으로 옳은 내용을 <보기>에서 고른 것은? [3점]

(가)북주는 (나)돌궐과 화친한 뒤 매년 10만 필의 비단을 보냈다. 북제 역시 돌궐이 침략해 올 것을 두려워하여 많은 재물을 주었다. 돌궐의 카간(가한)은 “나의 남쪽 두 아들이 언제나 공손하니 어찌 물자가 부족할까 걱정하겠는가!”라고 말했다.

<보 기>  
 ㄱ. (가)-강남 지역을 개발하여 농업생산량을 증진했다.  
 ㄴ. (가)-고구려와 책봉·조공 관계를 맺었다.  
 ㄷ. (나)-중앙 관제로 좌변관과 우변관을 두었다.  
 ㄹ. (나)-당 태종의 공격으로 당에 복속되었다.

- ① ㄱ, ㄴ    ② ㄱ, ㄷ    ③ ㄴ, ㄷ    ④ ㄴ, ㄹ    ⑤ ㄷ, ㄹ

6. (가), (나) 사이에 있던 사실로 옳은 내용을 <보기>에서 고른 것은? [3점]

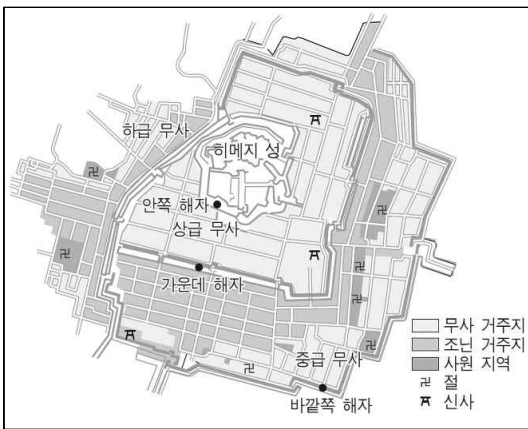
- (가) 국가에서 유교 진흥을 위해 과거제를 정례화한 이래 진사(회시 합격자)들의 명단을 올해부터 처음으로 비에 기록하기 시작했다.
- (나) 무역 초기에는 막부가 무역의 실권을 장악하고 있었으나 막부가 쇠퇴함에 따라 오우치 씨와 연결된 하카타 상인, 호소카와 씨가 지원하는 사카이 상인이 무역을 독점했다. 두 세력이 대외무역의 주도권을 장악하기 위해 격렬히 싸우는 과정에서 닝보의 난이 발생했다.

<보 기>

ㄱ. 명 정통제가 오이라트부에 포로로 잡혔다.  
 ㄴ. 정유전쟁이 시작되었다.  
 ㄷ. 삼포왜란이 일어났다.  
 ㄹ. 일본이 포르투갈로부터 조총을 전래 받았다.

- ① ㄱ, ㄷ                      ② ㄱ, ㄹ                      ③ ㄴ, ㄹ
- ④ ㄱ, ㄷ, ㄹ                ⑤ ㄴ, ㄷ, ㄹ

7. (가)에 들어갈 말로 옳지 않은 것은?



다음 사진의 모습이 나타나는 시기의 동아시아 상황은 어떨까요?

갑: 한국에서는 대동법을 시행하여 한양의 도시화를 촉진시켰습니다.

을: (가)

두 사람 모두 옳게 대답했습니다.

- ① 옥수수, 고구마, 감자 등 아메리카 대륙에서 전래된 작물을 길러 농업생산량을 증진시켰습니다.
- ② 후이저우 상인이 전국적으로 활약했습니다.
- ③ 해안 지방의 호이안이 국제도시로 번영했습니다.
- ④ 상업도시로 나가사키와 사카이 등이 발전했습니다.
- ⑤ 일본에서 상공업자의 동업조직이 발전했습니다.

8. 자료 시기의 동아시아 상황으로 옳은 것은? [3점]

“유서종(柳緒宗)이 산산(蒜山)에 지은 정자에 서울 상인 홍업동(洪業同) 등이 물품과 재화를 쌓아두었다가 경차관(敬差官)에게 발각 되어 잡혔다. 유서종이 범한 죄는 여기에 그치지 않고, 왜노(倭奴)와 사사로이 통해서 연철을 많이 사다가 자기 집에서 불려 은으로 만드는가 하면, 왜노에게 그 방법을 전습하였으니, 그 죄가 막중합니다. 철저히 조사하여 법대로 죄를 정하소서.”

- ① 한국-개항장에서 왜구들이 잦은 난을 일으켰다.
- ② 중국-정난의 변을 일으킨 영락제가 즉위했다.
- ③ 중국-서양의 상인들과 공행을 통해 교역했다.
- ④ 일본-시마바라의 난이 일어났다.
- ⑤ 베트남-호 왕조가 멸망하고 중원 왕조의 직접 통치를 받았다.

9. 자료의 상황이 나타난 시기를 연표에서 옳게 고른 것은? [3점]

...(중략)... 밤에 이귀·심기원·최명길·김자점 등은 병력 600~700명으로 홍제원에 모여 김류를 대장으로 삼고, 능양군은 친병을 거느리고 고양 연서역에 나아가 장단부사 이서의 병력 700여 명과 합류하였다. 먼저 창의문을 돌파하고 창덕궁으로 향하였다. 궁중에서의 연회가 한창이던 광해군은 반군이 대궐에 들어간 뒤에야 피신하였다. 그러나 반군의 횃불이 창덕궁의 제전(諸殿)에 인화되어 모두 불탔다. 능양군은 보새를 거두어 경운궁에 유폐 중인 대비 김 씨에게 바치니, 대비는 광해군을 폐하고 능양군을 즉위시켰다.

(가)	(나)	(다)	(라)	(마)
-----	-----	-----	-----	-----

나가사키 전투 일조편법 시행      사쓰마번의 류큐 침공      데지마 상관 설치      이자성의 난      천계령 해제

- ① (가)                      ② (나)                      ③ (다)                      ④ (라)                      ⑤ (마)

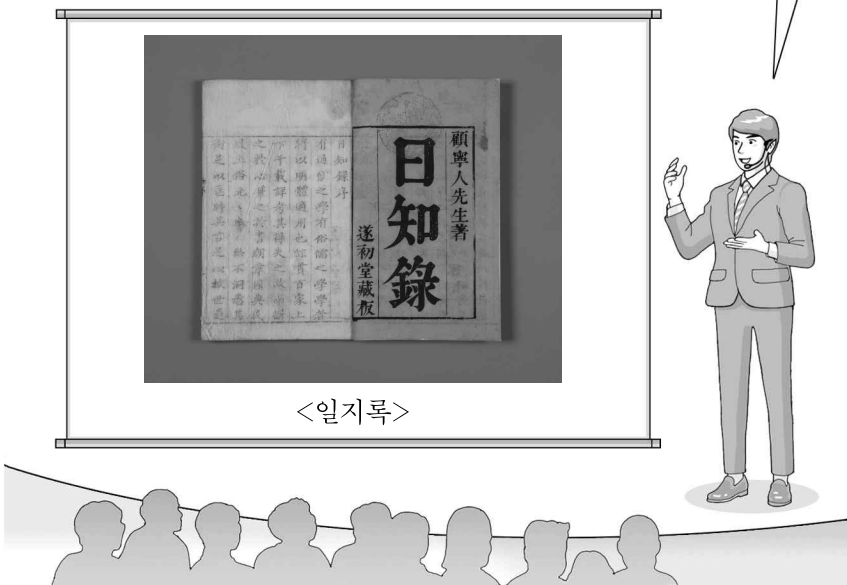
10. (가) 국가에 대한 설명으로 옳은 것은?

- (가) 사람 안 야너스 벨테브레이는 일본으로 항해하다가 풍랑을 만나 표류하다 제주도에 상륙했다. 그는 훈련도감에서 근무하며 홍이포(紅夷砲) 제작과 조종법을 지도했다. 같은  (가) 사람인 하멜 일행이 표류하다 우리나라에 도착했을 때 통역을 맡기도 했다.
- 유럽의 재해권을 장악한  (가) 은(는) 그동안 난립하였던 여러 무역 회사를 통폐합하여 동인도 회사를 세우고 아시아 지역의 무역을 독점했다.  (가) 은(는) 명나라와 무역을 희망하였으나 명나라는 오랑캐와는 조공만이 가능하다고 거절하였다.

- ① 3포에서 조선과 교역하였다.
- ② 일본에 조총을 전래했다.
- ③ 크리스티교 탄압과 함께 일본에서의 내항이 금지되었다.
- ④ 동인도 회사를 세워 무역 결제 수단으로 은을 유통했다.
- ⑤ 마닐라에 무역기지를 건설하고 갈레온 무역을 진행했다.

11. (가) 학문에 대한 설명으로 옳은 것은? [3점]

고염무는 쓸데없는 이치와 헛된 논의만을 일삼는 기존의 학문을 배척하고, '사회에 쓸모 있는' 지식 탐구에 뜻을 두어 (가)의 발달에 영향을 준 학자입니다. 그는 기존의 학설을 그대로 따르기 보다는 원전을 대상으로 폭넓은 귀납적 방법과 문헌 고증학적 연구방법을 적용하였습니다. "일지록"은 그의 대표적인 저서입니다.



- ① 수행 방법으로 지행합일을 추구했다.
- ② 주관적 가치 판단을 중시하고 개혁을 추구했다.
- ③ 무사들의 막부 타도를 주장하는 근거가 되었다.
- ④ 조선의 실학이 영향을 받았다.
- ⑤ Kangyuei의 변법자강 운동의 중심사상이 되었다.

12. 밑줄 친 '이 도시'에 대한 설명으로 (가)에 들어가기에 가장 적절한 것은?

사진은 대한민국 임시정부가 수립되었던 도시의 전경입니다. 이 도시에 대해 설명해 주세요.

이 도시는 \_\_\_\_\_ (가) \_\_\_\_\_이기도 합니다.



- ① 명 홍무제 주원장이 명의 수도로 삼았던 곳
- ② 영국 상인이 신보(申報)를 창간한 곳
- ③ 제1차 아편 전쟁의 결과로 조약이 체결된 곳
- ④ 강화도 조약으로 가장 먼저 개방된 조선의 도시
- ⑤ 조선 독립 동맹이 중국 공산당과 함께 활동한 장소

13. (가) 막부에 대한 설명으로 옳은 것은? [3점]



이 책은 편년체 역사책인 아즈마카가미로, (가) 막부의 초대 쇼군 미나모토노 요리토모로부터 6대 쇼군 무네타카 친왕까지 여섯 명의 쇼군의 사적을 일기 형식으로 기록한 편년체 역사책이다. 막부의 요직을 맡고 있던 여러 관리가 편찬한 것으로 추정된다.

- ① 씨성 제도를 통하여 통치 기반을 구축하였다.
- ② 공자의 위패를 모시는 유시마 성당을 세웠다.
- ③ 오닌의 난이 발생하여 막부의 권위가 추락하였다.
- ④ 농민으로부터 무기를 몰수하기 시작했다.
- ⑤ 몽골의 침입을 두 차례 막아냈다.

14. 다음 통치 제도가 실시된 국가에 대한 설명으로 옳은 것은?

문화성 시중의 직임은 황제의 조명을 출납하여 대도를 빛나게 하고, 관리의 직무를 총괄하며, 의례의 진행을 도움으로써 만방을 협화하고 군주의 여러 일을 보필하는 것이니 이른바 황제를 보좌하여 대장의 방략을 통섭하는 자이다. 군국의 중요한 일은 모두 중서령과 함께 총람하며, 서로 일을 논의하고 시행토록 하는 것이 그 직임의 대장이다.

- ① 국학을 설립하여 유학 교육을 실시하였다.
- ② 3공 9경이 통치업무를 분담하기 시작했다.
- ③ 태정관 밑에 8개의 부서를 두고 행정을 관장하였다.
- ④ 중법에 입각한 봉건제를 성립하였다.
- ⑤ 토지 지급 및 조세 징수제도로 균전제를 시행하였다.

15. 지도에 나타난 (가) 국가에 대한 설명으로 옳은 것을 <보기>에서 고른 것은? [3점]



<보 기>

ㄱ. 유목 민족에 의해 건립된 국가이다.  
ㄴ. 이원적 통치 정책을 펼쳤다.  
ㄷ. 튀양으로 천도하였다.  
ㄹ. 송과 연합하여 요를 공격하고 연운 16주를 획득했다.

- ① ㄱ, ㄷ                      ② ㄱ, ㄹ                      ③ ㄴ, ㄹ
- ④ ㄱ, ㄴ, ㄹ                ⑤ ㄴ, ㄷ, ㄹ

16. (가), (나) 사이에 있었던 사실로 옳은 내용을 <보기>에서 고른 것은? [3점]

(가)	(나)
<p>“나는 아무것도 할 수 없었다. 난징에 관한 나의 마지막 기억은 죽어간 중국인, 죽어간 중국인, 오직 죽어간 중국인이었다.”</p> <p style="text-align: right;">-기자 에이츠 맥대니얼</p>	<p>8월 19일에는 베트남이 하노이를 장악하였고, 8월 말에는 사이공까지 영향을 미치게 되었다. 이에 호찌민은 9월 2일 하노이에서 베트남 민주 공화국의 독립을 선언하였다.</p>

<보 기>

ㄱ. 조선 혁명군이 영릉가 전투에서 승리했다.  
 ㄴ. 중국 국민당의 지원을 받아 한국 광복군이 창설되었다.  
 ㄷ. 샌프란시스코 강화 조약이 체결되었다.  
 ㄹ. 카이로 회담이 진행되었다.

- ① ㄱ, ㄷ                      ② ㄴ, ㄷ                      ③ ㄴ, ㄹ  
 ④ ㄱ, ㄴ, ㄷ                ⑤ ㄱ, ㄷ, ㄹ

17. (가), (나) 조약의 공통점으로 옳은 것은?

(가) 영국이 다량의 아편을 들여와 유포하니 광저우에 파견된 임칙서가 2만여 상자를 몰수하고, 아편을 들여온 영국인을 처벌하였다. 이를 빌미로 영국이 침략하여 전쟁이 발발하였으며, 2년여의 전쟁을 종결짓기 위해 양국이 **(가)** 조약을 체결했다.

(나) 응우옌 왕조는 기독교 박해를 시작했고, 프랑스 출신 선교사가 살해되는 사건이 발생하였다. 프랑스는 4년간의 전쟁 끝에 결국 베트남 왕실과 **(나)** 조약을 체결하게 했다.


- ① 외국 군대의 주둔이 승인되었다.  
 ② 영토 할양과 배상금 지급에 대한 조항이 포함되었다.  
 ③ 크리스티교 포교의 자유를 인정했다.  
 ④ 치외법권 향유에 대한 조항이 포함되었다.  
 ⑤ 수출입 상품의 관세를 협의하여 정하게 되었다.

18. 다음 헌법을 제정한 이후 동아시아의 일로 옳은 것은?

**제1조** 대일본 제국은 만세일계의 천황이 통치한다.  
**제4조** 천황은 국가의 원수로서 통치권을 총괄하며 이 헌법의 조항에 따라 이를 행한다.  
**제7조** 천황은 제국 의회를 소집하고, 그 개회·폐회·정회 및 중의원의 해산을 명할 수 있다.

- ① 자유 민권 운동이 탄압되었다.  
 ② 일본이 이와쿠라 사절단을 파견했다.  
 ③ 근대적 행정기구로 조선에 통리기무아문이 설치되었다.  
 ④ 포츠머스 조약이 체결되었다.  
 ⑤ 임술농민봉기가 일어났다.

19. (가) 시기의 동아시아 각국의 문화에 대한 설명으로 옳지 않은 것은?

<p><b>제○회 특별 전시회</b> - 우키요에의 미-</p>  <p>■ 기간: 20○○년 4월 ○일~○일 ■ 장소: ○○미술관 특별 전시실</p>	<p><b>초대의 글</b></p> <p><b>(가)</b>의 일상생활과 풍경을 느낄 수 있는 특별 전시회에 초대합니다. 이번 전시회에서는 <b>(가)</b>의 인기 가부키 배우나 도카이도나 후지산 같은 유명한 풍경 등을 다룬 다색 판화 작품들을 만나실 수 있습니다.</p>
--	---

- ① 한국-판소리가 대중적으로 성행했다.  
 ② 한국-“칠정산”이 제작되었다.  
 ③ 중국-“삼국지연의”, “수호지” 등의 소설이 제작되었다.  
 ④ 일본-조니이 중산층으로 성장한 것이 원인이 되었다.  
 ⑤ 베트남-수상 인형극이 발달했다.

20. (가), (나) 운동에 대한 설명으로 옳은 것을 <보기>에서 고른 것은? [3점]

(가) “마오쩌둥은 1966년 이념의 성전을 발동함으로써 중국 전역을 뒤흔들었고 혁명정신을 되살리려 했다. …(중략)… 홍위병들은 ‘자본주의의 길로 가고 있다’면서 정부와 당의 간부들을 공격하고 군부대의 무기고에서 탈취한 무기를 들고 싸움을 벌였다. 1969년에 인민해방군이 질서를 회복하기 전까지 온 나라가 사실상 무정부 상태 직전까지 치달아 있었다.”

(나) 1989년 당시 베이징에서는, 그해 4월 15일 후야오방이 사망한 후, 팡리즈 등 지식인을 중심으로 후야오방의 명예 회복과 민주화를 요구하는 대규모 시위가 빈번히 일어나고 있었다. 특히, 학생들은 노동자·지식인을 포함한 광범위한 시민층을 대표하여 5월 13일 이래, 베이징대학과 베이징사범대학을 중심으로 전국에서 모인 학생대표들과 함께 톈안먼 광장에서 단식연좌시위를 계속했다.

<보 기>

ㄱ. (가)-마오쩌둥이 반대파를 숙청하며 권력을 강화하는 계기로 삼았다.  
 ㄴ. (가)-농업·공업·국방·과학 기술의 현대화를 주장했다.  
 ㄷ. (나)-마오쩌둥의 기반을 약화시키는 계기가 되었다.  
 ㄹ. (나)-군대에 의해 무력진압되었다.

- ① ㄱ, ㄴ                      ② ㄱ, ㄷ                      ③ ㄴ, ㄷ  
 ④ ㄱ, ㄴ, ㄷ                ⑤ ㄴ, ㄷ, ㄹ

\* 확인 사항  
 ○ 답안지의 해당란에 필요한 내용을 정확히 기입(표기)했는지 확인 하시오.

2019학년도 대학수학능력시험 세연 모의 평가

사회탐구 영역 정답표  
( 동아시아사 ) 과목

문항 번호	정 답	배 점	문항 번호	정 답	배 점	문항 번호	정 답	배 점	문항 번호	정 답	배 점
1	①	2	6	①	3	11	④	3	16	③	3
2	②	2	7	⑤	2	12	②	2	17	②	2
3	③	3	8	①	3	13	⑤	3	18	④	2
4	①	2	9	③	3	14	⑤	2	19	②	2
5	④	3	10	④	2	15	①	3	20	②	3