

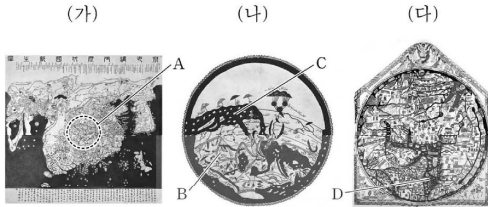
사회영역(세계지리)

1

1

18년 9월 1번

(가)~(다) 지도에 대한 설명으로 옳은 것은? [3점]

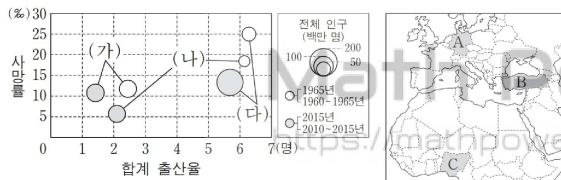


- ① (가)는 지구가 구체(球體)라는 인식이 반영되어 있다.
- ② (나)는 지도의 위쪽이 동쪽이다.
- ③ (다)는 이슬람교 세계관에 따라 제작되었다.
- ④ A는 B 대륙에 위치하고 있다.
- ⑤ C와 D의 바다는 모두 지중해를 나타낸 것이다.

2

17년 9월 2번

그래프의 (가)~(다)에 해당하는 국가를 지도의 A~C에서 고른 것은? [3점]



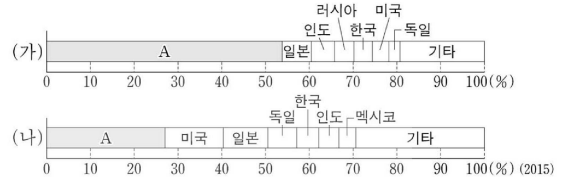
* 합계 출산율과 사망률은 원의 중심값임.
 ** 전체 인구는 1965년과 2015년 기준이며, 합계 출산율과 사망률은 1960-1965년과 2010-2015년 기준임.

- | | | | | | | | | | | | |
|---|-----|-----|-----|---|-----|-----|-----|---|-----|-----|-----|
| | (가) | (나) | (다) | | (가) | (나) | (다) | | (가) | (나) | (다) |
| ① | A | B | C | ② | A | C | B | ③ | B | A | C |
| ④ | B | C | A | ⑤ | C | A | B | | | | |

3

18년 9월 3번

그래프는 (가), (나) 공업의 국가별 생산량 비중을 나타낸 것이다. 이에 대한 옳은 설명을 <보기>에서 고른 것은? (단, (가), (나)는 자동차, 철강 중 하나임.) [3점]



<보기>
 가. (가)는 부품을 조립하여 최종 상품을 생산하는 공업이다.
 나. (나)의 상위 5개국 생산량은 전체 생산량의 절반을 넘는다.
 다. A는 아시아에 속한다.
 리. 1인당 국내 총생산은 A가 일본보다 많다.

- ① 가, 나 ② 가, 다 ③ 나, 다 ④ 나, 리 ⑤ 다, 리

4

18년 9월 4번

다음은 세계 음식 문화 탐방과 관련된 방송 프로그램의 내용 중 일부이다. A, B에 대한 옳은 설명을 <보기>에서 고른 것은?

오늘은 서남아시아에서 주로 사용하는 음식 재료에 대해 말씀해 주신다고 했는데요?

네, 그중 대표적인 작물인 [A] 은/는 서남아시아의 비옥한 초승달 지대에서 기원하였다고 전해지는데요, 다양한 면 요리와 년(난) 등의 음식 재료로 활용됩니다.

그럼, 서남아시아의 이슬람 문화권에서는 어떤 고기를 주로 먹나요?

이곳에서는 과거 유목민들이 그랬던 것처럼 지금도 양고기를 즐겨 먹습니다. 다만 종교적 관습에 따라 [B] 고기를 먹는 것은 금기시 되고 있습니다.

<보기>
 가. A는 프랑스 사람들이 많이 먹는 바게트의 주재료이다.
 나. B는 유럽의 농경 사회에서 노동력을 대신하는 가축이다.
 다. A의 생산량과 B의 사육 두수가 가장 많은 국가는 중국이다.
 리. 서남아시아의 전통 농업 방식은 A와 B를 결합한 혼합 농업이다.

- ① 가, 나 ② 가, 다 ③ 나, 다 ④ 나, 리 ⑤ 다, 리

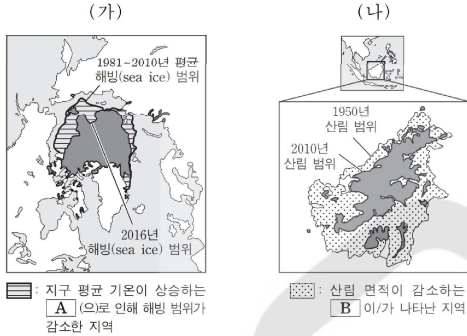
2

사회영역(세계지리)

5

17년 9월 5번

다음 자료의 (가), (나) 지역에서 나타나는 A, B 환경 문제에 대한 옳은 설명을 <보기>에서 고른 것은?



<보기>

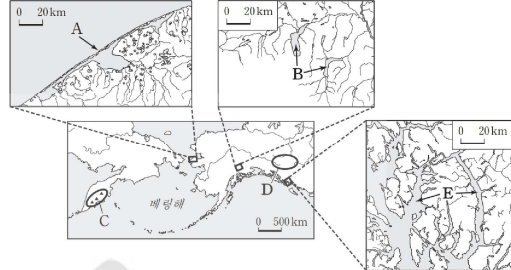
- ㄱ. A가 지속되면 해수면 상승으로 해안 저지대가 침수될 것이다.
- ㄴ. B로 인해 생물종 다양성이 감소되고 토양 침식이 가속화될 것이다.
- ㄷ. (나) 지역에서 B의 주요 원인은 장기간의 가뭄으로 인한 지하수 고갈이다.
- ㄹ. A의 해결을 위해 교토 의정서를 채택하였고, B의 해결을 위해 바젤 협약을 체결하였다.

- ① ㄱ, ㄴ ② ㄱ, ㄷ ③ ㄴ, ㄷ ④ ㄴ, ㄹ ⑤ ㄷ, ㄹ

6

17년 9월 6번

지도에 표시된 A~E에 대한 설명으로 옳지 않은 것은? [3점]

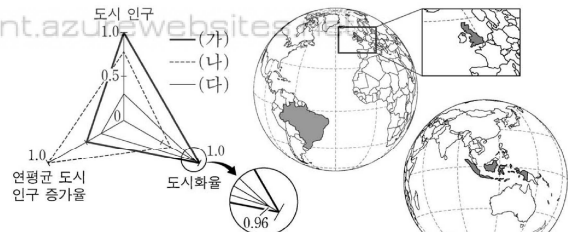


- ① A는 융빙수의 퇴적 작용으로 형성된다.
- ② B는 빙하의 침식 작용에 의해 형성된 호수이다.
- ③ C는 '불의 고리'로 불리는 지대에 위치한다.
- ④ D는 최종 빙기에 빙하로 덮여 있었다.
- ⑤ E는 빙식곡이 침수된 해안이다.

7

18년 9월 7번

그래프는 지도에 표시된 세 국가의 도시화 특성을 나타낸 것이다. (가)~(다)에 대한 옳은 설명을 <보기>에서 고른 것은? [3점]



* 최댓값을 가진 국가의 값을 1로 했을 때의 상대값임.
 ** 도시 인구와 도시화율은 2015년, 연평균 도시 인구 증가율은 2010~2015년 기준임.

<보기>

- ㄱ. (가)는 유럽에 속한 국가이다.
- ㄴ. (다)는 세 국가 중 총인구가 가장 많다.
- ㄷ. (나)는 (가)보다 이촌 향도 현상이 활발하다.
- ㄹ. (다)의 수도는 (나)의 수도에 비해 세계 도시 계층이 높다.

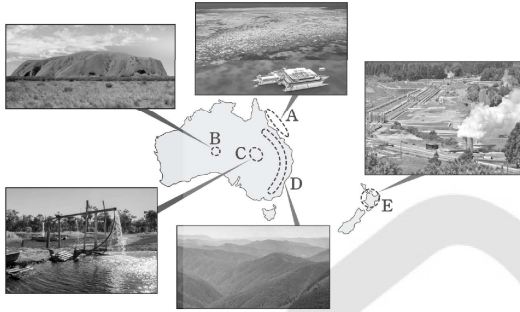
- ① ㄱ, ㄴ ② ㄱ, ㄷ ③ ㄴ, ㄷ ④ ㄴ, ㄹ ⑤ ㄷ, ㄹ

사회영역(세계지리)

8

17년 9월 8번

그림은 지도에 표시된 A~E 지역의 경관이다. A~E 지역에 대한 설명으로 옳지 않은 것은?

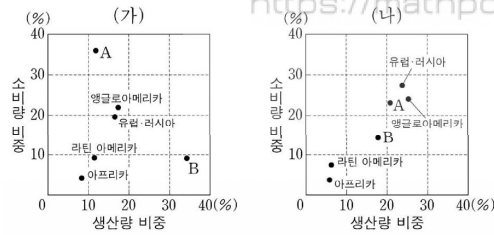


- ① A - 세계적으로 유명한 대규모 산호초 지대가 나타난다.
- ② B - 원주민들이 신성하게 여기는 바위산이 관광 자원으로 이용된다.
- ③ C - 편서풍의 바람받이에 해당하여 다우지이다.
- ④ D - 고생대에 습곡 작용을 받은 산지이다.
- ⑤ E - 지하의 증기나 열을 이용하여 전기를 생산한다.

9

18년 9월 9번

그래프는 주요 화석 에너지 자원 (가), (나)의 지역별 생산량과 소비량 비중을 나타낸 것이다. 이에 대한 설명으로 옳은 것은? (단, A, B는 서남아시아, 아시아·태평양 중 하나임.)



- * 오세아니아는 아시아·태평양에 포함됨.
- ** 구소련 중 중앙아시아 국가는 아시아·태평양에 포함되며, 그 밖의 국가는 유럽·러시아에 포함됨. (2016)
- ① (가)는 냉동 액화 기술이 개발된 이후 소비가 급증하였다.
- ② (나)는 세계 1차 에너지 소비 구조에서 차지하는 비중이 가장 높다.
- ③ (가)는 (나)보다 공업에 본격적으로 이용된 시기가 늦다.
- ④ A에 해당하는 지역은 아시아·태평양이다.
- ⑤ B는 (가)의 소비량 대비 생산량 비율이 가장 낮다.

10

16년 9월 10번

다음 글의 (가)~(다)에 대한 옳은 설명만을 <보기>에서 있는 대로 고른 것은? [3점]

○ 세계은행 보고서는 화석 연료의 사용량 급증으로 인한 (가)이/가 농작물 수확량 감소와 식량 가격 상승 등 농업에 큰 영향을 끼치고 있다고 밝혔다. 또한 (가)에 의해 세계 평균 기온이 2~3°C 상승하면 말라리아 감염 위험에 노출되는 사람이 크게 늘어날 우려가 있다고 했다.

○ 1994년 유엔 총회에서 몬트리올 의정서 채택일을 기념하여 9월 16일을 '세계 (나) 보호의 날'로 지정했다. (나)이/가 파괴되면 지표면에 도달하는 (다)의 양이 증가해 식물 성장 저해, 농작물 수확량 감소 등의 문제가 발생한다.

<보기>

- ㄱ. (가)로 인해 툰드라의 영구 동토층 분포 범위가 축소되고 있다.
- ㄴ. (가)를 완화하기 위해 온실 가스 배출권 거래제가 도입되었다.
- ㄷ. (나)가 파괴되는 주요 원인은 대기 중으로 배출되는 메탄가스의 증가이다.
- ㄹ. (다)의 증가는 피부암 발생률 상승과 밀접한 관련이 있다.

- ① ㄱ, ㄴ ② ㄱ, ㄷ ③ ㄴ, ㄹ
- ④ ㄱ, ㄴ, ㄹ ⑤ ㄴ, ㄷ, ㄹ

11

17년 9월 11번

자료에 나타난 (가)~(라) 대륙에 대한 설명으로 옳은 것은? (단, (가)~(라)는 아시아, 아프리카, 앵글로아메리카, 유럽 중 하나임.) [3점]

<대륙별 인구 증가율> (단위: %)

대륙	구분 기간	자연적 인구 증가율		전체 인구 증가율	
		1950~1955년	2010~2015년	1950~1955년	2010~2015년
(가)		1.93	1.07	1.93	1.05
(나)		2.15	2.64	2.10	2.59
(다)		1.49	0.42	1.67	0.75
(라)		1.03	-0.01	0.99	0.10
라틴 아메리카		2.71	1.19	2.69	1.13
오세아니아		1.57	1.05	2.28	1.53

- * 러시아는 유럽에 포함됨.
- ① 1950~1955년 유럽은 유출 인구보다 유입 인구가 많다.
- ② 세계에서 인구가 가장 많은 국가는 (나)에 위치한다.
- ③ 2010~2015년 (라)는 사망자보다 출생자가 많다.
- ④ (다)는 (가)보다 국가의 수가 많다.
- ⑤ 2010~2015년 유출 인구보다 유입 인구가 많은 곳은 (다)와 (라)이다.

4

사회영역(세계지리)

12

17년 9월 12번

다음은 '경제 활동의 세계화' 단원에 대한 수행 평가 보고서의 일부이다. (가)에 들어갈 내용으로 가장 적절한 것은?

수행 평가 보고서

○학년 ○반 이름: ◇◇◇◇

주제: (가) 와/과 관련된 신문 기사 조사하기

조사 내용 I

미국의 치킨 업체 A사는 중국 매장에서 중국인들의 아침 식사인 요우티아오(기름 빵)와 도우장(콩죽)을 판매하고 있다. 한편 미국의 피자 업체인 B사는 밥을 메뉴에 추가하여 중국 소비자들의 마음을 얻었다. ... (후략) ...
- □□신문 2017년 ○○월 ○○일 -

조사 내용 II

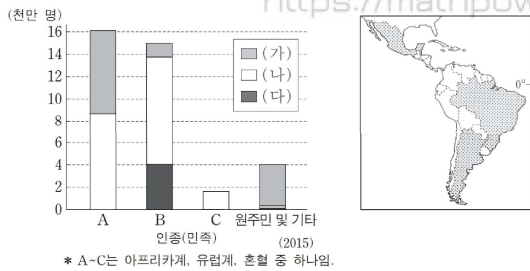
서울에 본사를 둔 자동차 업체 C사는 '발음'을 좋아하는 인도 소비자들의 기호에 맞추어 차량의 이름을 지었다. 또한 비포장 도로가 많은 도로 사정과 터번을 쓰는 인도인의 편의에 맞추어 차량을 개발했다. ... (후략) ...
- △△일보 2016년 ○○월 ○○일 -

- ① 세계 도시의 성장
- ② 정보 통신 기술의 발달
- ③ 다국적 기업의 현지화 전략
- ④ 첨단 산업의 입지 요인 변화
- ⑤ 생산 시설 이전에 따른 산업 공동화

13

17년 9월 13번

그래프는 A~C 인종(민족)의 국가별 인구의 합을 나타낸 것이다. 이에 대한 옳은 설명을 <보기>에서 고른 것은? (단, (가)~(다)는 지도에 표시된 국가 중 하나임.) [3점]



<보기>

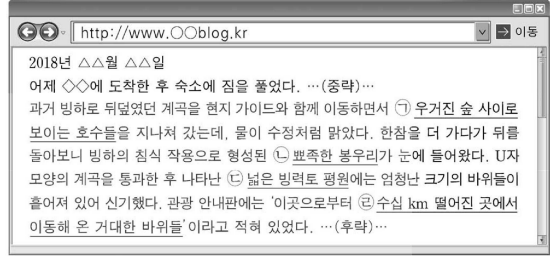
ㄱ. 유럽계 인구는 아르헨티나가 가장 많다.
 ㄴ. (가)는 에스파냐어를 공용어로 사용한다.
 ㄷ. (나)에서는 매년 리우 카니발이 열린다.
 ㄹ. 브라질은 멕시코보다 국가 전체 인구에서 A의 비중이 높다.

- ① ㄱ, ㄴ ② ㄱ, ㄷ ③ ㄴ, ㄷ ④ ㄴ, ㄹ ⑤ ㄷ, ㄹ

14

18년 9월 14번

자료의 ㉠~㉣에 대한 옳은 설명을 <보기>에서 고른 것은? [3점]



<보기>

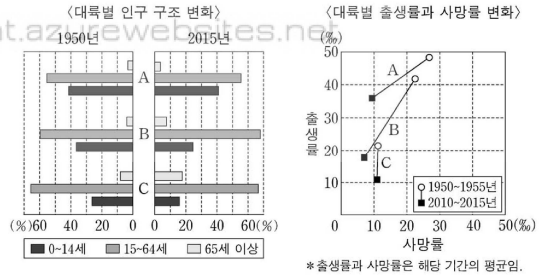
ㄱ. ㉠은 플라야이다.
 ㄴ. ㉡은 권곡과 권곡이 접하는 산정부로 호른이라 불린다.
 ㄷ. ㉢에는 자갈, 모래, 점토 등 다양한 크기의 물질이 섞여 있다.
 ㄹ. ㉣은 바람의 침식 작용으로 형성된 삼릉석이다.

- ① ㄱ, ㄴ ② ㄱ, ㄷ ③ ㄴ, ㄷ ④ ㄴ, ㄹ ⑤ ㄷ, ㄹ

15

18년 9월 15번

그래프는 대륙별 인구 특성을 나타낸 것이다. A~C에 대한 설명으로 옳은 것은? (단, A~C는 아시아, 아프리카, 유럽 중 하나임.)



- ① A는 아시아에 해당한다.
- ② 1950년 총부양비는 B가 가장 낮다.
- ③ 2015년 유소년 인구 부양비는 C가 가장 높다.
- ④ 1950~1955년 인구의 자연 증가율은 A가 C보다 낮다.
- ⑤ 2010~2015년 인구 1,000명당 출생자 수는 B가 C보다 많다.

16

17년 9월 16번

다음 자료는 여행 중인 두 학생이 주고받은 전자 메일의 내용이다. 밑줄 친 ㉠~㉣에 대한 설명으로 옳지 않은 것은? [3점]

안녕? ○○야! 나는 불교의 발상지로 알려진 나라를 여행 중이야. 이 나라 영화에서는 단체로 춤을 추는 군무(群舞)를 자주 볼 수 있어. 그 이유는 ㉠이 나라 사람들 대다수가 믿는 종교에 춤, 음악과 관련된 신들이 많기 때문이야. 또 10개 이상의 공용어를 사용하는 이 나라에서 군무는 소통의 의미를 갖고 있어.

그래! □□야. 나는 오늘 차를 타고 싱가포르와 국경을 접한 이 나라로 넘어왔어. 이 나라는 여러 민족과 종교가 공존해서 다양한 축제가 열려. 그중에는 ㉡소를 신성하게 여기는 종교의 신자들이 모여 신들을 찬양하는 타이푸삼 축제가 있어. 또 ㉢이 나라 사람들이 가장 많이 믿는 종교와 관련된 하리 라야 푸아사 축제도 있어.

- ① ㉠은 민족 종교에 해당한다.
- ② ㉠에는 성지로 여기는 강가에서 묵욕과 기도를 하는 의식이 있다.
- ③ ㉡의 대표적인 종교 경관은 첨탑과 둥근 지붕이 있는 모스크이다.
- ④ ㉢에는 '라마단'이라 불리는 금식 기간이 있다.
- ⑤ ㉠과 ㉢은 동일한 종교이다.

17

16년 9월 17번

다음 글의 (가) 도시에 대한 (나) 도시의 상대적 특징을 <보기>에서 고른 것은?

- 2016년 하계 올림픽 개최 도시인 (가)은/는/일찍이 조성된 동남쪽 해안 지구에 부와 물자가 집중된 반면, 북부 내륙 지구에는 빈곤이 만연해 있다. 해변에서도 보이는 산비탈의 파벨라는 라틴 아메리카의 대표적 빈민촌 중 하나이다.
- 미국 5대호 연안의 최대 도시인 (나)에 형성된 불량 주택 지구는 최근 들어 중심 업무 지구(CBD)에서 일하는 중산층에게 매력적인 주거지로 바뀌고 있다. 그 이유 중 하나는 통근할 때 혼잡한 고속도로를 이용하지 않아도 되고 대중교통 이용 시 환승하는 부담이 줄어들기 때문이다.

— <보기> —

ㄱ. 세계 도시 체계에서 계층이 높다.
 ㄴ. 비공식 부문의 종사자 비율이 낮다.
 ㄷ. 과도시화 경향이 뚜렷하게 나타난다.
 ㄹ. 도시 경관에 식민 지배의 영향이 많이 남아 있다.

- ① ㄱ, ㄴ ② ㄱ, ㄷ ③ ㄴ, ㄷ ④ ㄴ, ㄹ ⑤ ㄷ, ㄹ

18

16년 9월 18번

다음은 세계 지리 수업 장면이다. 수업 주제로 가장 적절한 것은? [3점]

목화에서 실을 뽑아내 면사를 만들고 천으로 짜서 면직포를 만듭니다. 면직포를 봉제하여 여성 패션 블라우스를 만듭니다. 각 생산품이 어떤 지역에서 만들어지는지 말해 볼까요?

면사는 부피가 큰 목화를 운반하기 힘들기 때문에 목화 재배지 인접 지역에서 생산될 거예요.

면직포는 생산비에서 노동비가 차지하는 비중이 높기 때문에 저렴한 노동력이 풍부한 나라에서 만들어질 거예요.

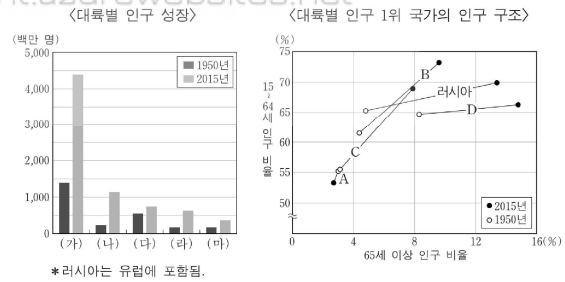
여성 패션 블라우스는 빠르게 변화하는 소비자의 기호에 즉각적으로 대응하기 위해 시장 근처에서 생산될 거예요.

- ① 탈공업화와 첨단 산업 단지 조성
- ② 경제 블록 형성을 통한 경쟁력 강화
- ③ 제품 기술 발달에 따른 산업 혁신 클러스터의 형성
- ④ 정보 통신 기술의 발전에 따른 서비스 산업의 세계화
- ⑤ 주요 생산 요소와 시장에 대한 접근성에 따른 제조업 입지

19

16년 9월 19번

다음 자료에 대한 옳은 설명을 <보기>에서 고른 것은? (단, (가)~(마)는 아시아, 아프리카, 유럽, 앵글로아메리카, 라틴 아메리카 중 하나임.)



— <보기> —

ㄱ. 2015년 인구 부양비(총부양비)가 가장 낮은 국가는 A, 가장 높은 국가는 B이다.
 ㄴ. 1950년 대비 2015년 유소년 인구 부양비 감소 폭은 C가 러시아보다 크다.
 ㄷ. 2015년 중위 연령은 (다) 대륙이 (라) 대륙보다 낮다.
 ㄹ. A 국가는 (나) 대륙에, D 국가는 (마) 대륙에 속한다.

- ① ㄱ, ㄴ ② ㄱ, ㄷ ③ ㄴ, ㄷ ④ ㄴ, ㄹ ⑤ ㄷ, ㄹ

6

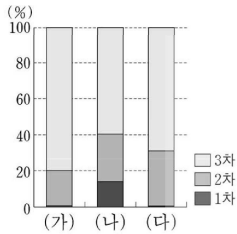
사회영역(세계지리)

20

18년 9월 20번

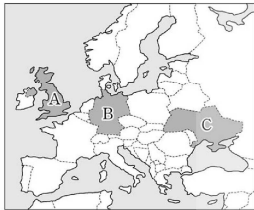
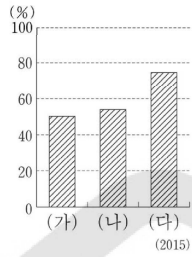
그래프의 (가)~(다)에 해당하는 국가를 지도의 A~C에서 고른 것은?

〈1차, 2차, 3차 산업의 비중〉



*산업의 비중은 국내 총생산 기준임.

〈2차 산업 내 제조업의 비중〉



- | | (가) | (나) | (다) |
|---|-----|-----|-----|
| ① | A | B | C |
| ② | A | C | B |
| ③ | B | A | C |
| ④ | B | C | A |
| ⑤ | C | A | B |

Math Power Plant

<https://mathpowerplant.azurewebsites.net>