

목차

1. 사회문화 2019학년도 대학수학능력평가
2. 사회문화 2019학년도 대수능 9월 모의평가
3. 사회문화 2019학년도 대수능 6월 모의평가
4. 사회문화 2018학년도 대학수학능력평가
5. 사회문화 2018학년도 대수능 9월 모의평가
6. 사회문화 2018학년도 대수능 6월 모의평가
7. 사회문화 2017학년도 대학수학능력평가
8. 사회문화 2017학년도 대수능 9월 모의평가
9. 사회문화 2017학년도 대수능 6월 모의평가

제 4 교시

사회탐구 영역(사회·문화)

성명 수험 번호

1. 밑줄 친 ㉠~㉣과 같은 현상의 일반적인 특징에 대한 설명으로 옳은 것은?

㉠ 노화 방지나 한계 수명 극복을 기대할 수 있는 연구가 진행되고 있다고 합니다. 최근 주목할 만한 연구로 어떤 것이 있습니까?
 장수 노인에게서 공통적으로 나타나는 ㉡ 당사슬(sugar chain) 구조의 변화를 발견하였습니다. 이 구조는 우리 몸의 ㉢ 면역 기능이 적정 수준으로 유지될 수 있도록 도와주는 역할을 합니다. 이러한 ㉣ 면역 조절 능력이 질병을 예방하여 장수를 가능하게 해줍니다.



- ① ㉠과 같은 현상은 ㉡과 같은 현상과 달리 가치 함축적이다.
- ② ㉡과 같은 현상은 ㉢과 같은 현상에 비해 보편성이 강하다.
- ③ ㉢과 같은 현상은 ㉣과 같은 현상과 달리 존재 범위를 따른다.
- ④ ㉣과 같은 현상은 ㉠과 같은 현상과 달리 경험적 자료를 통해 연구할 수 있다.
- ⑤ ㉠, ㉡, ㉢과 같은 현상은 ㉣과 같은 현상과 달리 개연성의 원리에 의해 설명된다.

2. 대중 매체 A~D의 일반적인 특징에 대한 설명으로 옳은 것은? (단, A~D는 각각 종이 신문, 라디오, TV, 인터넷 중 하나이다.)

○ 청각 정보에 의존하는 정도는 A가 가장 높다.
 ○ 정보 전달의 시·공간적 제약은 B가 가장 크다.
 ○ 정보의 복제 및 재가공 용이성은 C가 가장 높다.
 ○ A, B는 C, D와 달리 (가) 이 가능하다.

- ① A는 B에 비해 깊이 있는 정보 전달이 용이하다.
- ② B는 C와 달리 정보의 확산 경로가 다양하다.
- ③ C는 D에 비해 정보 생산자의 전문성이 높다.
- ④ D는 B와 달리 정보의 실시간 전달이 가능하다.
- ⑤ (가)에는 '복합 감각 정보의 전달'이 적절하다.

3. 표는 근대화를 바라보는 관점 A, B를 구분한 것이다. 이에 대한 설명으로 옳은 것은?

관점	질문	서구 중심적이라는 비판을 받는다?	근대화를 위한 내부의 자생력 강화를 강조하는가?
A		아니오	예
B		예	아니오

- ① A는 사회 변동을 진화론적 관점에서 설명한다.
- ② B는 전통과 근대의 가치가 양립하기 어렵다고 본다.
- ③ A는 B와 달리 신흥 공업국의 경제 발전을 설명하기 용이하다.
- ④ B는 A와 달리 사회 발전을 국가 간 지배와 피지배 관계 속에서 조명한다.
- ⑤ A, B 모두 제3세계를 미발전 상태가 아니라 저발전 상태로 본다.

4. 다음 자료에 대한 설명으로 옳은 것은? (단, A~C는 각각 기능론, 갈등론, 상징적 상호 작용론 중 하나이다.) [3점]

○ '개인의 행동은 특정 집단의 가치가 반영된 사회 규범에 의해 강제되는 것이라고 보는가?'라는 질문으로 A와 B를 구분할 수 있다.
 ○ '개인의 행동이 개인 외부에서 독립적으로 작동하는 강제력에 의해 규제된다고 보는가?'라는 질문으로는 A와 C를 구분할 수 없다.

- ① A는 사회의 각 부분이 상호 의존적인 관계라고 본다.
- ② B는 사회의 안정보다 변동을 중시한다.
- ③ C는 사회가 유기체와 유사한 특성을 지니고 있다고 본다.
- ④ A, B는 C와 달리 사회 제도의 영향력을 중시한다.
- ⑤ A는 B, C와 달리 개인의 행동은 상황에 대한 주관적 해석에 기초하여 이루어진다고 본다.

5. 다음 연구에 대한 옳은 설명을 <보기>에서 고른 것은? [3점]

○ 연구 주제: 중·고등학생의 게임 몰입이 주변 사람과의 대화에 미치는 영향
 ○ 연구 가설
 <가설 1> 게임을 적게 할수록 부모와 대화는 많을 것이다.
 <가설 2> (가)
 ○ 자료 수집
 - 조사 방법: 중·고등학생 1,000명을 무작위 선정하여 설문 조사
 - 조사 내용: ㉠ 게임 시간 정도, ㉡ 부모와 대화 정도, 친구와 대화 정도
 ○ 자료 분석 결과
 - 자료 분석 결과는 아래 표와 같고, 부모와 대화 정도 및 친구와 대화 정도는 게임 시간 정도에 따라 통계적으로 유의미한 차이가 있는 것으로 나타났다.

(단위: 명)

대화 정도		게임 시간 정도		
		많음	중간	적음
부모와 대화 많음	친구와 대화 많음	78	100	120
	친구와 대화 적음	52	70	80
부모와 대화 적음	친구와 대화 많음	172	100	A
	친구와 대화 적음	48	B	C

* 무응답이나 복수 응답 없음.
 ** A + B = C = 3A

<보기>
 가. 게임을 많이 한 집단은 실험 집단, 게임을 적게 한 집단은 통제 집단이다.
 나. 분석 결과에 따르면 ㉠과 ㉡은 양(+)의 관계이다.
 다. 부모와 대화 정도가 적다는 응답자가 친구와 대화 정도가 적다는 응답자보다 많다.
 라. (가)가 '게임을 적게 할수록 친구와 대화는 많을 것이다.' 라면, <가설 2>는 기각된다.

- ① 가, 나 ② 가, 다 ③ 나, 다 ④ 나, 라 ⑤ 다, 라

6. 밑줄 친 ㉠~㉣에 대한 설명으로 옳은 것은?

갑은 어려서부터 ㉠ 또래 집단과 어울리기보다는 혼자서 ㉡ 사색하기를 즐겼다. 청소년기에 접어든 갑은 어느 학자와의 만남을 계기로 학문에 뜻을 품고 철학, 사회, 역사 등 ㉢ 여러 분야의 서적을 섭렵했다. 그 후 철학자가 된 갑은 현실 사회를 비판하는 주장을 펼쳐 다른 입장을 가진 ㉣ 철학자들과 갈등을 겪었다. 그러나 갑은 왕성한 ㉤ 저술과 강연 활동으로 ㉥ 청년 세대의 지지와 존경을 받으면서 ㉦ 학문 발전을 위해 크게 힘썼다.


- ① ㉠은 비공식적 사회화 기관이자 2차적 사회화 기관이다.
- ② ㉡은 갑의 예기 사회화에 해당한다.
- ③ ㉢은 갑의 재사회화에 해당한다.
- ④ ㉣은 하나의 지위에 둘 이상의 역할이 동시에 기대될 때 나타나는 상황이다.
- ⑤ ㉤에 대한 보상에 ㉥은 해당하나 ㉦은 해당하지 않는다.

7. 자료 수집 방법 A~C에 대한 옳은 설명을 <보기>에서 고른 것은? (단, A~C는 각각 질문지법, 면접법, 실험법 중 하나이며, 각 연구는 연구 내용에 가장 적합한 자료 수집 방법을 사용하였다.) [3점]

연구 내용	자료 수집 방법
폭력 예방 교육이 폭력성 감소에 미치는 효과를 교육 전후의 검사를 통해 측정	A
청소년 1,000명을 대상으로 비행 친구 교제 여부와 비행 간의 상관관계 분석	B
가출 청소년의 가출 동기와 가출 후 생활 및 비행에 이르는 과정 이해	C

—<보 기>—
 가. A는 B와 달리 질적 자료를 수집하기에 용이하다.
 나. B는 C에 비해 시간과 비용 측면에서 효율적이다.
 다. C는 B에 비해 조사자의 주관적 가치가 개입될 가능성이 크다.
 르. B는 A, C에 비해 자료 수집 상황에 대한 통제 정도가 높다.

- ① 가, 나 ② 가, 르 ③ 나, 다 ④ 나, 르 ⑤ 다, 르
8. 다음 자료는 사회 계층화 현상에 대한 두 이론 A, B의 공통점과 차이점을 나타낸 것이다. (가)~(다)에 들어갈 수 있는 내용으로 옳은 것은?



- ① (가) - 동일 계층 집단 구성원 간의 연대 의식을 강조한다.
- ② (가) - 현대 사회의 다양한 계층 분화를 설명하기에 용이하다.
- ③ (나) - 경제적 불평등이 정치적 불평등을 결정한다고 본다.
- ④ (다) - 사회 계층화 현상의 원인을 단일 요인으로 설명한다.
- ⑤ (다) - 사회 계층화 현상에서 귀속적 요인의 영향력을 중시한다.

9. 표는 갑국의 가구 구성비 변화를 나타낸 것이다. 이에 대한 분석으로 옳지 않은 것은? (단, 제시된 가구 형태 이외의 다른 것은 고려하지 않는다.) [3점]

(단위: %)

구분	2015년	2017년
부부	21.7	22.0
부부와 미혼 자녀	44.9	45.0
한부모와 미혼 자녀	15.1	14.5
부부와 양(편)친	1.1	1.1
부부와 양(편)친과 자녀	4.2	4.2
1인 가구	13.0	13.2
계	100.0	100.0

- *2015년 대비 2017년 전체 가구 수는 10% 증가함.
- ① 2015년 대비 2017년 2세대로 구성된 핵가족 가구 수는 증가하였다.
 - ② 2015년 대비 2017년 '부부' 가구 수 증가율이 전체 가구 수 증가율보다 크다.
 - ③ 2015년 대비 2017년 '1인 가구' 수 증가율은 확대 가족 가구 수 증가율의 2배를 넘는다.
 - ④ 2015년과 2017년 모두 '부부와 미혼 자녀' 가구는 핵가족 가구 전체의 50% 이상이다.
 - ⑤ 2015년과 2017년 모두 1세대로 구성된 핵가족 가구 비율이 확대 가족 가구 비율보다 높다.

10. (가), (나)에 나타난 문화 이해의 관점에 대한 옳은 설명만을 <보기>에서 있는 대로 고른 것은? [3점]

(가) 벌레를 섭취하는 ○○족의 음식 문화가 그들의 자연 환경, 관습, 정치 제도 등 다양한 문화 요소들과 어떤 관련을 맺고 있는지 전체적으로 연구하였다.
 (나) 벌레를 섭취하는 ○○족의 음식 문화를 해당 사회의 문화적 전통과 사회적 맥락 속에서 연구하여 부족한 단백질 보충이라는 그 사회 나름의 합리적 근거를 찾아내었다.

—<보 기>—
 가. (가)의 관점은 문화에 대한 편협하고 왜곡된 이해를 방지하는 데 기여한다.
 나. (나)의 관점은 해당 문화를 향유하는 사회 구성원의 입장에서 문화의 의미를 파악하는 데 초점을 둔다.
 다. (나)의 관점은 (가)의 관점과 달리 문화를 평가의 대상으로 인식한다.
 르. (가), (나)의 관점은 모두 문화 간 비교를 통해 자기 문화를 객관적으로 이해하는 데 유용하다.

- ① 가, 나 ② 가, 르 ③ 다, 르
- ④ 가, 나, 르 ⑤ 나, 다, 르

11. 밑줄 친 ㉠~㉣에 대한 옳은 설명만을 <보기>에서 있는 대로 고른 것은? [3점]

파르테논 신전은 ㉠ 고대 아테네인들의 지혜가 오랜 기간 집약되어 형성된 ㉡ 건축 문화의 대표 사례입니다. 신전의 바닥과 윗부분은 수평으로 지어지지 않았는데, 그 이유는 착시 효과를 통해 멀리서 수평처럼 보이도록 의도했기 때문입니다. 이를 통해 당시 아테네인들의 ㉢ 기술 수준이 상당히 높았음을 알 수 있습니다. 아울러 이 거대한 신전의 규모는 당시 아테네의 힘을 보여주며, 신전을 장식하는 조각들은 뛰어난 ㉣ 예술 작품이라 평가받고 있습니다.

결국 ㉠ 파르테논 신전은 아테네의 국력과 기술력 그리고 뛰어난 예술 정신이 결합되어 만들어진 결과네요.

<보기>

ㄱ. ㉠은 문화가 전승되면서 더욱 풍부해짐을 보여준다.
 ㄴ. ㉡의 문화는 '문화 시설'에서의 문화와 같은 의미이다.
 ㄷ. ㉢은 물질문화, ㉣은 비물질문화에 해당한다.
 ㄹ. ㉣은 각 문화 요소들이 서로 연결되어 하나의 전체로서 존재함을 보여준다.

- ① ㄱ, ㄷ ② ㄴ, ㄷ ③ ㄴ, ㄹ
- ④ ㄱ, ㄴ, ㄹ ⑤ ㄱ, ㄷ, ㄹ

12. 일탈 이론 (가)~(다)에 대한 설명으로 옳은 것은? (단, (가)~(다)는 각각 낙인 이론, 아노미 이론, 차별적 교제 이론 중 하나이다.) [3점]

(가) 성공 목표라는 문화적 압력은 계층을 구분하지 않고 무차별적으로 영향력을 행사한다. 그러나 목표 달성을 위한 기회는 계층별로 차등화되어 있다. 따라서 기회가 제한된 계층은 성공 목표 달성을 위해 불법적 행위를 시도하게 된다.
 (나) 일탈자에 대한 처벌은 행위에 상응하여 부여되는 것이 아니라 그 행위를 한 사람이 누구인가에 따라 결정된다. 일탈자로 규정되면 그는 일탈자로서의 정체성을 가지고 지속적으로 일탈 행동을 저지르게 된다.
 (다) 일탈 성향은 타고나는 것이 아니라 습득되는 것이다. 또한 일탈은 구조적 요인에 의한 것도 아니다. 일탈자와의 상호 작용을 통하여 범 위반에 대한 우호적 태도가 형성 되면 일탈 행동을 하게 된다.

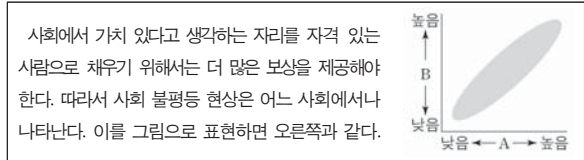
- ① (가)는 지배 집단의 통제와 착취를 정당화하는 불평등 구조가 일탈 행동의 근본 원인이라고 본다.
- ② (나)는 일탈이 행위의 속성에 의해서가 아니라 그에 대한 사회적 반응에 의해 규정된다고 본다.
- ③ (다)는 일탈 행동의 원인을 차별적 제재에서 찾는다.
- ④ (나)는 (가), (다)와 달리 일탈에 대한 대책으로 사회적 합의를 통한 규범의 정립을 강조한다.
- ⑤ (가), (나)는 (다)와 달리 사회의 지배적 가치를 사회화하지 못한 사람이 일탈 행동을 저지른다고 본다.

13. 표는 특정 시기 갑국의 문화 변동 양상을 나타낸 것이다. 이에 대한 설명으로 옳은 것은? (단, 제3행 문화 변동 이외의 다른 것은 고려하지 않는다.)

구분	문화 변동 양상
의복	○ 전통 의복을 서구식으로 개량한 새로운 의복 등장 ○ 개량 의복과 서구 의복의 혼재
음식	○ 전통 음식과 외래 음식이 결합된 새로운 음식 등장 ○ 주변국의 음식 및 조리법 도입으로 전통식과 외래식 혼재
주거	○ 전통 가옥 형태 유지 ○ 신분에 따른 가옥 규모 제한 폐지

- ① 의복 분야에서는 자기 문화의 정체성이 상실되었다.
- ② 음식 분야에서는 발견으로 인한 문화 변동이 발생하였다.
- ③ 주거 분야에서는 음식 분야와 달리 문화 지체 현상이 나타났다.
- ④ 의복, 음식 분야에서는 주거 분야와 달리 문화 융합이 발생하였다.
- ⑤ 의복, 음식, 주거 분야 모두에서 물질문화의 변동이 발생하였다.

14. 다음은 사회 불평등 현상을 바라보는 관점을 나타낸 자료이다. 이에 대한 설명으로 옳은 것은?



- ① 사회 불평등 현상을 보편적이지만 제거해야 할 대상이라고 본다.
- ② 사회적 지위나 직업에는 중요도에 따른 위계 체계가 존재한다고 본다.
- ③ 지배 집단과 피지배 집단 간의 대립 관계에서 사회 불평등 현상을 이해한다.
- ④ A가 '부모의 경제적 지위'라면, B는 '자녀의 사회적 성공 가능성'이 적절하다.
- ⑤ A가 '회소가치의 균등 분배 수준'이라면, B는 '개인의 성취 동기'가 적절하다.

15. 그림은 우리나라 사회 보장 제도 A~C를 구분한 것이다. 이에 대한 설명으로 옳은 것은? (단, A~C는 각각 공공 부조, 사회 보험, 사회 서비스 중 하나이다.) [3점]



- ① A는 B, C와 달리 사전 예방적 성격이 강하다.
- ② B보다 C가 대상자의 범위가 넓다면, B는 A에 비해 소득 재분배 효과가 작다.
- ③ C가 사회 보험이면, (가)에는 '강제 가입을 원칙으로 하는가?'가 적절하다.
- ④ (가)가 '국가와 지방 자치 단체가 비용을 모두 부담하는가?'라면, A와 C의 대상자는 중복될 수 없다.
- ⑤ (가)가 '상호 부조의 원리를 기반으로 하는가?'라면, C는 생활 유지 능력이 없거나 생활이 어려운 사람을 대상으로 한다.

16. 표는 자발적 결사체 A~C를 질문 (가)~(다)의 응답에 따라 분류한 것이다. 이에 대한 설명으로 옳은 것은? (단, A~C는 각각 친목 집단, 이익 집단, 시민 단체 중 하나이다.) [3점]

질문 \ 응답	예	아니요
(가)	B	A, C
(나)	A, B, C	-
(다)	A, C	B

- ① (가)에는 '가입과 탈퇴가 자유로운가?'가 들어갈 수 있다.
- ② (나)에는 '본질 의지에 의해 자연 발생적으로 형성된 집단인가?'가 들어갈 수 있다.
- ③ (다)에는 '공통의 관심사나 목표를 가지고 결성한 집단인가?'가 들어갈 수 있다.
- ④ A와 C가 각각 시민 단체와 친목 집단 중 하나라면, (가)에는 '사회 다원화에 기여하는가?'가 들어갈 수 있다.
- ⑤ B가 친목 집단이라면, (다)에는 '과업 지향적인 집단인가?'가 들어갈 수 있다.

17. 표는 교육을 바라보는 이론적 관점을 파악하기 위한 질문과 답변이다. 기능론, 갈등론, 상징적 상호 작용론 중 하나의 관점에서 일관되게 응답한 학생은? [3점]

질문	학생	갑	을	병	정	무
사회적으로 필요한 인재를 적재적소에 배치하는 기능을 수행하고 있다고 보는가?		×	×	○	○	○
기존의 사회적 불평등 구조를 재생산하는 기능을 수행하고 있다고 보는가?		○	○	×	×	×
학교 교육을 통해 지배 집단의 가치를 주입하고 있다고 보는가?		○	×	×	×	○
교육 제도보다 학습 과정에서 나타나는 상호 작용과 그 효과를 중시하는가?		×	○	○	×	×
사회 결속력을 제고하고 문화를 전승하는 기능을 수행하고 있다고 보는가?		○	×	×	○	○
학교 교육에 대한 교사와 학생의 의미 부여와 능동적 행위에 주목하는가?		○	×	×	×	○

(○: 예, ×: 아니요)

- ① 갑 ② 을 ③ 병 ④ 정 ⑤ 무

18. 다음 A~C에 대한 옳은 설명을 <보기>에서 고른 것은? (단, A~C는 각각 농업 사회, 산업 사회, 정보 사회 중 하나이다.)

구분	사회의 특징
A	1차 산업을 기반으로 하며, 혈연과 지연으로 맺어진 공동체 구성원 간의 전인격적 관계가 지배적이다.
B	정보와 지식이 중요한 자원으로 인식되고, 인간의 주요 활동이 디지털 기술을 기반으로 이루어진다.
C	기술과 조직의 합리성 원리를 도입하여 대량 생산과 대량 소비의 경제 체제가 중심이 된다.

<보기>

- ㄱ. 사회적 관계를 맺는 공간적 제약은 A가 B보다 크다.
- ㄴ. 비대면 접촉에 의한 상호 작용 정도는 A가 C보다 작다.
- ㄷ. 정보의 생산자와 소비자 간 경계는 B가 C보다 분명하다.
- ㄹ. 가정과 일터의 분리 정도는 C가 B보다 작다.

- ① ㄱ, ㄴ ② ㄱ, ㄷ ③ ㄴ, ㄷ ④ ㄴ, ㄹ ⑤ ㄷ, ㄹ

19. 다음 자료에서 교사의 질문에 옳게 응답한 학생을 고른 것은?

사회는 개인들로 환원하여 설명할 수 없다는 관점에서 이 자료에 나타난 사회 현상에 대해 어떤 설명이 가능할까요?

<성별 평균 초혼 연령 추이>

갑: 결혼이 필수라고 생각하지 않아 자발적으로 독신을 선택한 사람이 늘어난 결과입니다.
 을: 경기 침체로 취업난이 날로 심해지면서 결혼 시기를 놓친 사람이 늘어난 결과입니다.
 병: 결혼보다 다른 개인적 가치 추구를 더 중시하여 결혼을 미루는 사람이 늘어난 결과입니다.
 정: 주택 가격 폭등으로 신혼집 마련이 어려워 결혼을 늦출 수밖에 없는 사람이 늘어난 결과입니다.

- ① 갑, 을 ② 갑, 병 ③ 을, 병 ④ 을, 정 ⑤ 병, 정

20. 다음 자료에 대한 분석으로 옳은 것은?

다음은 갑국에서 가구주 1,000명을 대상으로 ㉠부모의 계층과 본인의 현재 계층 간 이동 및 ㉡부모로부터 독립 후 본인의 최초 계층과 현재 계층 간 이동을 조사한 결과이다. (단, 계층은 상층, 중층, 하층으로만 구성된다.)

<계층의 상대적 비(比)>

<계층 일치 비율>

구분	A	B
상층	80	100
중층	50	52
하층	80	90

*A: 부모 계층 대비 부모 계층과 본인 현재 계층의 일치 비율(%)
 **B: 본인 최초 계층 대비 본인 최초 계층과 현재 계층의 일치 비율(%)

- ① ㉠과 ㉡을 모두 경험한 가구주가 ㉠과 ㉡ 중 어느 하나도 경험하지 않은 가구주보다 적다.
- ② ㉠을 경험하고 ㉡은 경험하지 않은 가구주가 ㉠은 경험하지 않고 ㉡을 경험한 가구주보다 적다.
- ③ 세대 내 하강 이동보다 세대 내 상승 이동이 많다.
- ④ 현재 계층이 중층인 가구주의 최초 계층은 모두 중층이었다.
- ⑤ 가구주의 현재 계층 구조가 부모의 계층 구조보다 사회 통합에 유리한 계층 구조이다.

* 확인 사항

- 답안지의 해당란에 필요한 내용을 정확히 기입(표기)했는지 확인 하시오.

01. ㉓ 02. ㉔ 03. ㉒ 04. ㉓ 05. ㉔ 06. ㉔ 07. ㉓ 08. ㉑ 09. ㉓ 10. ㉑
11. ㉔ 12. ㉒ 13. ㉔ 14. ㉒ 15. ㉔ 16. ㉔ 17. ㉔ 18. ㉑ 19. ㉔ 20. ㉑

1. 사회·문화 현상과 자연 현상의 특징 비교

정답 해설 : ㉑과 ㉔은 사회·문화 현상, ㉒과 ㉓은 자연 현상이다. ㉑ 자연 현상은 존재의 법칙, 사회·문화 현상은 당위의 법칙을 따른다. **정답 ㉓**

[오답피하기]

- ① 사회·문화 현상은 가치 함축적이다.
- ② 사회·문화 현상은 특수성과 보편성이 공존하며, 자연 현상은 보편성을 띤다.
- ④ 사회·문화 현상과 자연 현상 모두 경험적 자료를 통해 연구할 수 있다.
- ⑤ 사회·문화 현상은 개연성의 원리, 자연 현상은 필연성의 원리에 의해 설명된다.

2. 대중 매체의 특성 이해

정답 해설 : A는 라디오, B는 종이 신문, C는 인터넷, D는 TV이다. ④ TV는 종이 신문과 달리 생중계가 가능하므로, 정보를 실시간으로 전달할 수 있다. **정답 ㉔**

[오답피하기]

- ① 종이 신문이 라디오에 비해 깊이 있는 정보 전달이 용이하다.
- ② 인터넷이 종이 신문에 비해 정보의 확산 경로가 다양하다.
- ③ TV는 정보 생산자의 전문성이 높은 대중 매체이다.
- ⑤ 인터넷이나 TV는 복합 감각 정보를 전달할 수 있다.

3. 근대화를 바라보는 관점의 비교

정답 해설 : A는 종속 이론, B는 근대화론이다. ㉒ 근대화론은 전통과 근대의 가치를 양립할 수 없다면서, 전통을 버리고 근대의 가치를 받아들일 것을 강조한다. **정답 ㉒**

[오답피하기]

- ① 사회 변동은 진화론적 관점에서 설명하는 것은 근대화론이다.
- ② 신흥 공업국의 경제 발전을 설명하기 용이한 것은 근대화론이다.
- ④ 사회 발전을 국가 간 지배와 피지배 관계 속에서 조망하는 것은 종속 이론이다.
- ⑤ 제3세계에 대해 근대화론은 미발전, 종속 이론은 저발전 상태에 있다고 본다.

4. 사회·문화 현상을 바라보는 관점의 비교

정답 해설 : A는 갈등론, B는 상징적 상호 작용론, C는 기능론이다. ㉓ 기능론에 따르면, 사회는 유기체와 유사한 특징을 지니고 있다. **정답 ㉓**

[오답피하기]

- ① 사회의 각 부분이 상호 의존적인 관계라고 보는 것은 기능론이다.
- ② 사회의 안정보다 변동을 중시하는 것은 갈등론이다.

④ 사회 제도의 영향력을 중시하는 것은 기능론과 갈등론이다.

⑤ 개인의 행동이 상황에 대한 주관적 해석에 기초하여 이루어진다고 보는 것은 상징적 상호 작용론이다.

5. 양적 연구에 대한 분석

정답 해설 : 자료의 A는 30, B는 60, C는 90이다. c. 부모와 대화 정도가 적다는 응답자의 수는 500명이고, 친구와 대화 정도가 적다는 응답자의 수는 400명이다.

ㄹ. 게임 시간 정도가 적을수록 친구와 대화 많음의 수가 감소하는 것으로 보아, '게임을 적게 할수록 친구와 대화는 많을 것이다.'라는 가설은 기각된다. **정답 ㉔**

[오답피하기]

- ㄱ. 실험법을 사용하지 않았으므로, 실험 집단과 통제 집단이 나타나지 않는다.
- ㄴ. 게임 시간 정도와 부모와 대화 정도는 음(-)의 관계를 보이고 있다.

6. 여러 가지 사회화 관련 개념에 대한 이해

정답 해설 : ㉓ 감의 저술과 강연 활동에 대한 청년 세대의 지지와 존경은 역할 행동에 대한 보상이지만, 학문 발전을 위해 크게 힘쓴 것은 감의 역할 행동이다. **정답 ㉓**

[오답피하기]

- ① 도래 집단은 비공식적 사회화 기관이자 1차적 사회화 기관이다.
- ② 사색하는 것을 예기 사회화로 볼 수 없다.
- ③ 청소년기에 깊이 여러 분야의 서적을 섭렵한 것은 재사회화가 아니다.
- ④ 다른 학자들과 겪는 갈등으로, 둘 이상의 역할이 충돌하는 상황이 아니다.

7. 자료 수집 방법에 대한 이해

정답 해설 : A는 실험법, B는 질문지법, C는 면접법이다. ㄴ. 시간과 비용 측면에서 가장 효율적인 것은 질문지법이다.

ㄹ. 면접법은 질문지법에 비해 조사자의 주관적 가치가 개입될 가능성이 크다. **정답 ㉓**

[오답피하기]

- ㄱ. 실험법과 질문지법 모두 양적 자료를 수집하기에 용이하다.
- ㄷ. 자료 수집 상황에 대한 통제 정도는 실험법이 가장 높다.

8. 계급론과 계층론에 대한 이해

정답 해설 : A는 계급론, B는 계층론이다. ① 계급론은 동일 계층 집단 구성원 간 연대 의식, 즉 계급 의식을 강조한다. **정답 ㉑**

[오답피하기]

- ② 현대 사회의 다양한 계층 분화를 설명하기에 용이한 것은 계층론이다.
- ③ 경제적 불평등이 정치적 불평등을 결정한다고 보는 것은 계급론이다.
- ④ 사회 계층화 현상의 원인을 단일 요인으로 설명하는 것은 계급론이다.

⑤ 사회 계층화 현상에서 귀속적 요인의 영향을 중시하는 것은 갈등론이다.

9. 가구 구성비 변화에 대한 분석

정답 해설 : ㉓ 확대 가족 가구의 비율은 2015년과 2017년 모두 5.3%로 같다. 2015년 대비 2017년 전체 가구 수가 10% 증가하였으므로, 확대 가족 가구 수 증가는 10%이다. 1인 가구의 비율은 13.0%에서 13.2%로 증가하였다. 2015년 전체 가구 수를 1,000이라고 하면 2015년 1인 가구의 수는 130 가구이고, 2017년의 전체 가구 수는 1,100이므로 2017년 1인 가구 수는 145.2가 된다. 2015년 대비 2017년 1인 가구 수 증가율이 20%가 되기 위해서는 2017년 1인 가구 수가 156이 되어야 하므로, 1인 가구 수 증가율은 20%가 되지 않는다. **정답 ㉓**

[오답피하기]

- ① 2세대로 구성된 핵가족 가구의 비율은 2015년 60%, 2017년 59.5%이다. 2015년 전체 가구 수를 1,000이라 하면, 2015년 2세대로 구성된 핵가족 가구 수는 600이고 2017년 654.5가 된다.
- ② 2015년 대비 2017년 부부 가구의 비율이 증가한 것으로 보아, 부부 가구 증가율이 전체 가구 수 증가율보다 크다.
- ④ 핵가족 가구의 비율은 2015년 81.7%이고 2017년 81.5%인데, '부부와 미혼 자녀' 가구의 비율은 2015년 44.9%이고, 2017년 45.0%이다. 두 해 모두 50%를 넘는다.
- ⑤ 1세대로 구성된 핵가족 가구 비율은 2015년 21.7%, 2017년 22.0%이다. 확대 가족 가구 비율은 2015년과 2017년 모두 5.3%이다.

10. 문화 이해의 관점에 대한 이해

정답 해설 : (가)에는 총체론적 관점, (나)에는 상대론적 관점이 나타나 있다. ㄱ. 특정 문화 요소가 다른 문화 요소와 어떤 관련을 맺고 있는가를 이해할 경우, 문화에 대한 편협하고 왜곡된 이해를 방지할 수 있다.

ㄴ. 상대론적 관점은 해당 사회의 문화를 그 문화를 향유하는 사회 구성원의 입장에서 이해한다. **정답 ㉑**

[오답피하기]

- ㄷ. 총체론적 관점과 상대론적 관점 모두 문화를 평가의 대상으로 인식하지 않는다.
- ㄹ. 서로 다른 문화 간 비교를 중시하는 것은 비교론적 관점이다.

11. 문화 관련 개념에 대한 이해

정답 해설 : ㄱ. 파르테는 신전이 아테네인들의 지배가 오랜 기간 집약되어 형성되었다는 것은 문화는 점송되면서 더욱 풍부해진다는 문화의 축적성을 보여준다. ㄷ. 기술은 물질문화이고, 예술은 비물질문화이다. ㄹ. 파르테는 신전이 아테네의 국력과 기술력 그리고 뛰어난 예술 정신이 결합되어 만들어졌다는 것은 문화의 총체성을 보여준다. **정답 ㉓**

[오답피하기]

ㄴ. '건축 문화'에서 문화는 생활양식이라는 넓은 의미로 사용된 것이지만, '문화 시설'에서 문화는 고상하거나 세련된 것이라는 좁은 의미로 사용된 것이다.

12. 일탈 이론에 대한 이해

정답 해설 : (가)는 아노미 이론, (나)는 낙인 이론, (다)는 차별적 교제 이론이다. ㉒ 낙인 이론은 상징적 상호 작용론으로 분류되는 일탈 이론으로, 일탈이 행위의 축성에 의해서가 아니라 그에 대한 사회적 반응에 의해 규정된다고 본다. **정답 ㉒**

[오답피하기]

- ① 지배 집단의 통제와 착취를 정당화하는 불평등 구조에서 일탈 행동의 근본 원인을 찾는 것은 갈등론이다.
- ② 일탈 행동의 원인을 차별적 제재에서 찾는 것은 낙인 이론이다.
- ③ 일탈에 대한 대책으로 사회적 합의를 통한 규범의 정립을 강조하는 것은 뒤르케ムの 아노미 이론이다.
- ⑤ 낙인 이론은 사회의 지배적 가치의 존재 자체를 부정한다.

13. 문화 변동 양상에 대한 이해

정답 해설 : ④ 의복과 음식에서는 문화 융합과 문화 병존, 주거에서는 가족 구조에서는 문화 변동이 나타나지 않았으나 신분에 따른 가족 규모의 제한을 폐지하였다는 점에서 가족과 관련한 비물질문화의 변동이 나타났다. **정답 ㉔**

[오답피하기]

- ① 자기 문화의 정체성 상실은 문화 동화에서 나타난다.
- ② 음식 분야의 문화 변동 요인은 전파이다.
- ③ 주거 분야에서 문화 지체 현상이 나타났다고 볼 수 없다.
- ⑤ 주거 분야에서는 물질문화의 변동은 없었고 비물질문화의 변동만 나타났다.

14. 사회 불평등 현상을 바라보는 기능론과 갈등론의 비교

정답 해설 : ㉒ 제시된 자료에 나와 있는 관점은 기능론이다. 기능론에 따르면 사회적 지위나 직업에는 중요도에 따른 위계 체계가 존재하며, 중요도에 따라 차등 보상이 이루어져야 한다. **정답 ㉒**

[오답피하기]

- ① 기능론에 따르면, 사회 불평등 현상은 보편적이고 불가피하다.
- ③ 지배 집단과 피지배 집단 간의 대립 관계에 주목하는 것은 갈등론이다.
- ④ 부모의 경제적 지위와 자녀의 사회적 성공 가능성이 양(+)의 관계를 갖는다고 보는 것은 갈등론이다.
- ⑤ 기능론에 따르면 최소가치의 차등 분배 수준과 개인의 성취 동기는 양(+)의 관계를 갖는다.

15. 여러 가지 사회 보장 제도의 비교

정답 해설 : A는 사회 서비스이고, B와 C는 각각 사회 보험과 공공 부조 중 하나이다. ㉔ (가)가 '상호 부조의 원리를 기반으로 하는가?'라면, C는 공공 부조이다. 공공 부조는 생활 유지 능력이 없거나 생활이 어려운 사람을 대상으로 한다. **정답 ㉔**

[오답피하기]

- ① 사전 예방적 성격이 강한 사회 보장 제도는 사회 보험이다.
- ② 사회 보험이 공공 부조보다 대상자의 범위가 넓으므로, B는 공공 부조이다. 소득 재분배 효과는 공공 부조가 가장 크다.
- ③ 사회 보험은 강제 가입의 원칙이 적용된다.
- ④ (가)가 '국가와 지방 자치 단체가 비용을 모두 부담하는가?'라면, B는 공공 부조이다. 사회 보험과 사회 서비스 모두 전 국민이 대상이 되므로, 중복될 수 있다.

16. 다양한 자발적 결사체에 대한 이해

정답 해설 : ㉔ B가 친목 집단이면, A와 C는 각각 이익 집단과 시민 단체 중 하나이다. 이익 집단과 시민 단체는 특정 과업을 달성하기 위한 공식 조직이다. **정답 ㉔**

[오답피하기]

- ① 자발적 결사체는 종류와 관계없이 가입과 탈퇴가 자유롭다.
- ② 자발적 결사체는 종류와 관계없이 선택 의지에 의해 결합된 이익 사회이다.
- ③ 자발적 결사체는 종류와 관계없이 공통의 관심사나 목표를 가지고 있다.
- ④ 자발적 결사체는 종류와 관계없이 사회의 다원화에 기여한다.

17. 교육을 바라보는 이론적 관점에 대한 이해

정답 해설 : 교육이 사회적으로 필요한 인재를 적재적소에 배치하는 기능을 수행한다고 보는 것은 기능론, 기존의 사회적 불평등 구조를 재생산하는 기능을 수행한다고 보는 것은 갈등론, 지배 집단의 가치를 주입하고 있다고 보는 것은 갈등론, 교육 제도보다 학습 과정에서 나타나는 상호 작용과 그 효과를 중시하는 것은 상징적 상호 작용론, 사회 결속력을 제고하고 문화를 전승하는 기능을 수행한다고 보는 것은 기능론, 학교 교육에 대한 교사와 학생의 의미 부여와 능동적 행위에 주목하는 것은 상징적 상호 작용론이다. ㉔ 정만이 일관성 있게 기능론의 관점을 유지하고 있다. **정답 ㉔**

18. 농업 사회, 산업 사회, 정보 사회의 비교

정답 해설 : A는 농업 사회, B는 정보 사회, C는 산업 사회이다. ㄱ. 사회적 관계를 맺는 공간적 제약은 농업 사회, 산업 사회, 정보 사회 순으로 크다.

ㄴ. 비대면 접촉에 의한 상호 작용 정도는 산업 사회가 농업 사회보다 크다. **정답 ㉔**

[오답피하기]

- ㄷ. 정보의 생산자와 소비자 간 경계는 산업 사회가 정보 사회보다 분명하다.
- ㄹ. 가정과 일터의 분리 정도는 산업 사회가 정보 사회보다 크다.

19. 사회 명목론과 사회 실재론의 비교

정답 해설 : 자료의 관점은 사회 실재론이다. 성별 평균 초혼 연령 상승의 원인을 들은 경기 침체로 인한 취업난, 정은 주택 가격 폭등으로 인한 신혼집 장만의 어려움에서 찾고 있다. 성별 평균 초혼 연령 상승의 원인을 개인의 외부에 존재하는 사회적 요인에서 찾고 있다는 점에서 사회 실재론의 입장을 갖고 있다. **정답 ㉔**

[오답피하기]

성별 평균 초혼 연령 상승의 원인을 같은 결론을 필수라고 생각하지 않는 개인의 가치관에서, 병은 개인적 가치 추구의 중시에서 찾고 있다. 사회 현상의 원인을 개인의 의식에서 찾고 있다는 점에서 사회 명목론의 입장을 갖고 있다.

20. 세대 간 계층 이동에 대한 분석

정답 해설 : 자료에 따르면, 상층과 중층 및 하층의 비율은 부모 계층의 경우 10%, 60%, 30%이고, 본인의 최초 계층의 경우 10%, 50%, 40%이며, 본인의 현재 계층의 경우 20%, 30%, 50%이다. 그리고 부모 계층과 본인의 현재 계층의 세대 간 이동 결과와 본인 최초 계층과 현재 계층의 세대 내 이동 결과는 아래와 같다.

단위 : %

구분	부모 계층			계	구분	본인 최초 계층			계		
	상	중	하			상	중	하			
본인	상	8	6	6	20	본인	상	10	10	0	20
현재	중	0	30	0	30	현재	중	0	26	4	30
계층	하	2	24	24	50	계층	하	0	14	36	50
계		10	60	30	100	계		10	50	40	100

세대 간 이동(㉔)과 세대 내 이동(㉔)을 경험 유무를 다음의 표로 나타내 보자.

단위 : %

구분	세대 간 이동(㉔)	세대 내 이동(㉔)		계
		경험함	경험하지 않음	
세대 내 이동(㉔)	경험함	A	B	28
		경험하지 않음	C	D
계			38	62

① A+B=28, B+D=62이므로, A=D-34가 된다. '㉔과 ㉔을 모두 경험한 가구주(A)'의 비율은 '㉔과 ㉔ 중 어느 하나도 경험하지 않은 가구주(D)'의 비율보다 34%p가 적다.

정답 ㉔

[오답피하기]

- ② A+B=28, A+C=38이므로, B=C-10이 된다. '㉔을 경험하고 ㉔은 경험하지 않은 가구주(C)'의 비율은 '㉔을 경험하지 않고 ㉔은 경험한 가구주(B)'의 비율보다 10%p보다 많다.
- ③ 세대 내 하강 이동은 14%, 세대 내 상승 이동 또한 14%이다.
- ④ 현재 계층이 중층인 가구주 중 최초의 계층이 하층인 경우가 있다(전체의 4%).
- ⑤ 다이아몬드 형을 띠고 있는 부모의 계층 구조가 사회 통합에 유리하다.

제 4 교시

사회탐구 영역(사회·문화)

성명 수험번호

1. 밑줄 친 ㉠~㉣과 같은 현상의 일반적인 특징에 대한 설명으로 옳은 것은?



- ① ㉠과 같은 현상은 ㉡과 같은 현상과 달리 존재 법칙의 지배를 받는다.
- ② ㉡과 같은 현상은 ㉢과 같은 현상과 달리 경험적 자료로 연구가 가능하다.
- ③ ㉢과 같은 현상은 ㉣과 같은 현상과 달리 개연성의 원리가 적용된다.
- ④ ㉣과 같은 현상은 ㉠과 같은 현상과 달리 확실성의 원리가 적용된다.
- ⑤ ㉡, ㉢과 같은 현상은 ㉠과 같은 현상과 달리 가치 함축적이다.

2. 밑줄 친 ㉠~㉣에 대한 설명으로 옳은 것은? [3점]

○ 연구 주제: 부부 간 친밀도에 영향을 미치는 요인

○ 연구 가설

- ㉠ 부부 간 대화 시간이 많을수록 부부 간 친밀도가 높다.
- 부부 간 의견 일치 정도가 높을수록 부부 간 친밀도가 높다.

○ 연구 설계

- 조사 방법: 기존자 1,000명을 대상으로 설문 조사
- 조사 항목: ㉡ 부부 간 대화 시간, ㉢ 부부 간 의견 일치 정도, 부부 간 친밀도

○ 분석 결과

- 부부 간 대화 시간에 따라 세 개의 집단으로 구분한 결과, ㉣ 많은 집단의 부부 간 친밀도는 2.8, 중간 집단은 3.5, 적은 집단은 4.2였으며 ㉡ 통계적으로 유의미한 차이가 나타남.
- 부부 간 대화 시간에 따라 구분한 ㉣ 위 세 개의 집단 각각에서 부부 간 의견 일치 정도와 부부 간 친밀도는 통계적으로 유의미한 양(+)의 상관관계가 있는 것으로 나타남.

* 조사 항목은 모두 5점 척도이며, 숫자가 높을수록 그 정도가 많거나 높음.

- ① ㉠은 기각되었다.
- ② ㉡은 종속 변인, ㉢은 독립 변인이다.
- ③ ㉣은 실험 집단 중 하나이다.
- ④ ㉣은 2차 자료를 분석하여 얻은 결과이다.
- ⑤ ㉣을 통해 ㉠이 검증되었다.

3. 표는 질문 (가)~(다)를 통해 사회·문화 현상을 이해하는 관점 A~C를 구분한 것이다. 이에 대한 옳은 설명을 <보기>에서 고른 것은? (단, A~C는 각각 기능론, 갈등론, 상징적 상호 작용론 중 하나이다.) [3점]

구분	A	B	C
(가)	예	아니요	예
(나)	아니요	㉠	㉡
(다)	아니요	예	아니요

* 단, 질문에 대해 '예' 또는 '아니요'로만 답할 수 있음.

<보 기>

ㄱ. (가)에는 '인간을 능동적인 주체로 전제하는가?'가 적절하다.
 ㄴ. (나)가 '사회 구성원의 주관적 상황 정의에 기초한 상호 작용을 중시하는가?'라면, ㉠과 ㉡의 답변은 서로 다르다.
 ㄷ. (다)에는 '개인의 행위를 강제하는 사회 체계를 중시하는가?'가 적절하다.
 ㄹ. A, B가 각각 기능론과 갈등론 중 하나라면, (다)에는 '갈등을 사회 변동의 원동력으로 보는가?'가 적절하다.

- ① ㄱ, ㄴ ② ㄱ, ㄷ ③ ㄴ, ㄷ ④ ㄴ, ㄹ ⑤ ㄷ, ㄹ

4. 표는 베버의 계층론을 근거로 갑~병의 주관적 계층 의식과 실제 계층을 조사한 결과이다. 이에 대한 분석으로 옳은 것은? [3점]

<주관적 계층 의식>				<실제 계층>			
구분	재산	권력	위신	구분	재산	권력	위신
상층	을	갑, 병	갑	상층	을, 병	갑, 병	갑, 병
중층	갑, 병	-	을, 병	중층	-	을	-
하층	-	을	-	하층	갑	-	을

- ① 을은 주관적 계층 의식과 실제 계층이 모두 일치한다.
- ② 병은 경제적, 사회적 측면 모두에서 자신의 계층적 위치를 실제 보다 낮게 평가한다.
- ③ 갑과 을은 계급적 연대 의식을 공유하고 있다.
- ④ 실제 계층에서 갑과 을의 권력 차이는 재산 차이에서 비롯된다.
- ⑤ 실제 계층에서 갑~병 모두에게 지위 불일치 현상이 나타난다.

5. 표는 일탈 이론 A~C를 비교한 것이다. 이에 대한 설명으로 옳은 것은?

구분	A	B	C
원인	급격한 사회 변동과 전통적 규범의 통제력 약화	(가)	(나)
대책	(다)	일탈에 대해 우호적인 집단과의 교류 차단	일탈자로 규정하는 것에 대한 신중한 접근

- ① (가)에는 '문화적 목표를 달성하기 위한 합법적 수단의 부족'이 적절하다.
- ② (나)에는 '일탈자로부터 일탈 행동의 모방'이 적절하다.
- ③ (다)에는 '대립하는 집단 간 갈등의 해소'가 적절하다.
- ④ A는 C와 달리 일탈 행동을 규정하는 객관적 기준이 없다고 본다.
- ⑤ B는 A와 달리 타인과의 상호 작용이 일탈 행동에 미치는 영향을 중시한다.

6. 개인과 사회의 관계를 바라보는 관점 (가), (나)에 대한 설명으로 옳은 것은?


(가) 사회는 개인들 사이의 다양한 상호 작용의 총합과 동일시된다. 사회란 상호 작용에 의해 결합된 개인들을 지칭하는 개념일 뿐이다. 짧은 시간 상호 작용하는 사람들의 의식 속에서도 언제든지 사회는 구성된다.
 (나) 소소한 개인의 행위라도 사회적으로는 사소하지 않다. 개인의 행위는 일상에서 무심코 지나치는 사회 구조적 상황의 산물이다. 사회 속 개인의 어떠한 행위 양식도 개인의 의지로 이루어지는 것은 없다.

- ① (가)의 관점은 사회에 대한 개인의 불가항력성을 강조한다.
 - ② (가)의 관점은 사회가 개인의 외부에 존재하는 독자적 실체라고 본다.
 - ③ (나)의 관점은 개인에게 영향을 미치는 사회 제도의 힘을 중시한다.
 - ④ (나)의 관점은 사회 현상을 개인 행위로 환원하여 설명할 수 있다고 본다.
 - ⑤ (가)의 관점은 개인에 대한 사회의 구속성을, (나)의 관점은 사회로부터의 개인의 자율성을 중시한다.
7. 그림은 질문에 따라 빈곤의 유형을 구분한 것이다. 이에 대한 옳은 설명만을 <보기>에서 있는 대로 고른 것은? (단, A, B는 각각 절대적 빈곤, 상대적 빈곤 중 하나이다.) [3점]



<보기>
 가. A는 소득 수준이 높은 국가에서는 나타나지 않는다.
 나. B는 해당 사회의 소득 분포를 고려하여 파악한다.
 다. 우리나라에서는 A, B 모두 객관화된 기준에 따라 분류한다.
 라. (가)에는 '실제 소득 규모와 상관없이 개인이 체감하는 빈곤 상태를 의미합니까?'가 적절하다.

- ① 가, 나 ② 가, 라 ③ 나, 다
 - ④ 가, 다, 라 ⑤ 나, 다, 라
8. 그림은 자료 수집 방법 A, B의 일반적인 특징을 연결한 것이다. 이에 대한 옳은 설명을 <보기>에서 고른 것은? (단, A, B는 각각 질문지법과 면접법 중 하나이다.)



<보기>
 가. A는 B보다 조사 대상자와의 정서적 교감을 중시한다.
 나. B는 A보다 실제성이 높은 생생한 자료의 수집에 용이하다.
 다. (가)에는 '조사 대상자의 반응에 유연하게 대처할 수 있다.'가 적절하다.
 라. (나)에는 '인위적으로 통제된 상황에서 변수의 효과를 관찰하여 자료를 수집한다.'가 적절하다.

- ① 가, 나 ② 가, 다 ③ 나, 다 ④ 나, 라 ⑤ 다, 라

9. 다음 자료에 대한 분석으로 옳은 것은?

다음은 갑국에서 초등학교 졸업 이상의 학력을 가진 18세 이상 국민 1,000명을 대상으로 상급 학교 진학률을 조사한 것이다. 갑국은 초등학교(6~11세) - 중등학교(12~17세) - 대학교(18세 이상)의 학제를 가진 국가이다. 단, 진학은 단계적으로 이루어지며 다음 단계를 뛰어넘어 진급하는 학생은 없다.

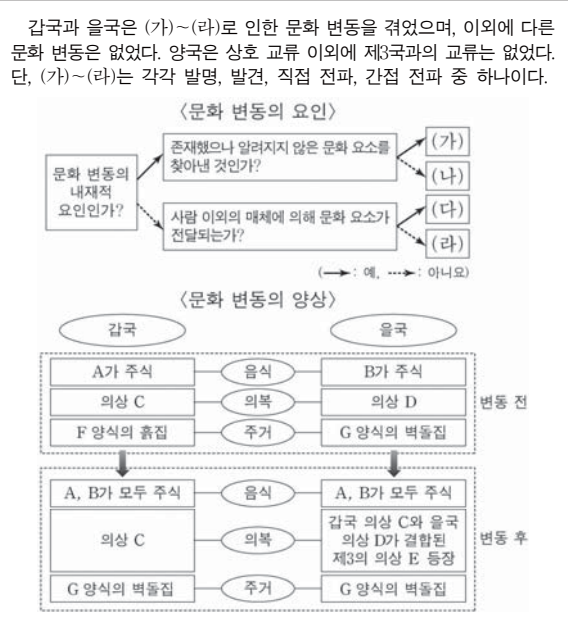
(단위: %)

구분		중등학교	대학교
성별	남성	80	70
	여성	60	30
부모의 계층	상층	80	65
	중층	70	60
	하층	60	20

* 진학률 = (해당 학교에 진학한 학생 수 / 직전 학교 졸업생 수) × 100
 ** 갑국의 각급 학교에 입학한 학생 수와 졸업한 학생 수는 같다.

- ① 상급 학교 진학률은 부모의 계층 간 최대 격차보다 성별 간 최대 격차가 크다.
- ② 개인의 귀속적 요인이 상급 학교 진학에 미치는 영향을 보여 주는 자료로 적절하지 않다.
- ③ 중등학교를 졸업한 여성의 수와 대학교에 진학한 사람 중 부모가 중층인 사람의 수는 같다.
- ④ 조사 대상자의 성별 인원이 같다면 대학교에 진학한 사람의 수는 남성이 여성의 3배를 넘는다.
- ⑤ 부모가 하층인 조사 대상자 중에서 중등학교를 졸업한 후에 대학교에 진학하지 않은 사람은 40%를 차지한다.

10. 다음 자료는 문화 변동의 요인과 갑국, 을국의 문화 변동 양상을 나타낸 것이다. 이에 대한 분석으로 옳은 것은? [3점]



- ① (가)는 발명, (나)는 발견, (다)는 간접 전파, (라)는 직접 전파이다.
- ② 갑국은 변동 후 음식 분야에서 자문화의 정체성이 상실되었다.
- ③ 을국은 변동 후 의복 분야에서 문화 융합이 나타났다.
- ④ 갑국의 의복 분야와 을국의 음식 분야에서 각각 (가) 또는 (나)로 인해 변동 후 새로운 문화 요소가 나타났다.
- ⑤ 갑국과 을국 모두 변동 후 주거 분야에서 (다) 또는 (라)로 인해 문화 동화가 나타났다.

11. 그림은 사회 변동에 대한 관점 A, B와 그에 대한 특징 (가)~(다)를 연결한 것이다. 이에 대한 진술로 옳은 것은? (단, A, B는 각각 진화론과 순환론 중 하나이다.) [3점]



- ① (가)에는 '제국주의를 정당화하는 근거로 사용되었다.'가 적절하다.
- ② (나)가 '근대화론의 이론적 근거가 된다.'라면, (다)에는 '미래 사회의 변동 방향에 대한 예측에 한계가 있다.'가 적절하다.
- ③ (다)가 '사회 변동을 긍정적으로 본다.'라면, (나)에는 '사회 변동을 단선적인 진보의 과정으로 설명한다.'가 적절하다.
- ④ A가 진화론이라면, (다)에는 '사회 변동이 항상 발전을 의미하지는 않는다는 점을 간과한다.'가 적절하다.
- ⑤ B가 순환론이라면, (나)에는 '과거의 사회 변동만을 설명한다는 비판을 받는다.'가 적절하다.

12. 다음 글에서 공통적으로 부각된 문화의 속성에 대한 옳은 진술을 <보기>에서 고른 것은?

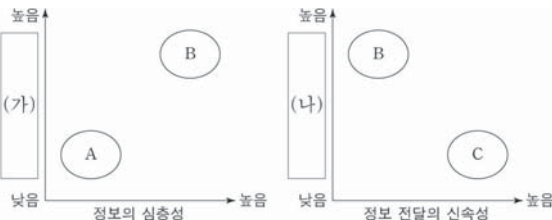
- A국에서 전통적으로 기혼 여성은 두건을 착용해야 한다. A국 사람들에게 두건은 기혼녀로서의 표식이자 가족의 생계를 책임지는 사람임을 나타내는 상징물이다.
- B국에서 식사할 때 남성은 도구를 사용하지 않고, 맨손으로 음식을 집어 먹는다. B국 사람들에게 이런 행위는 남성다움을 보여 주는 것으로 인식되어 있다.

<보기>

- ㄱ. 구성원 간 원활한 상호 작용의 토대가 됨을 보여 준다.
- ㄴ. 새로운 요소가 추가되어 문화가 보다 풍부해짐을 보여 준다.
- ㄷ. 특정 상황에서 상대방이 어떻게 행동할지 예측하게 해준다.
- ㄹ. 인간이 새로운 환경에 적응하는 과정에서 문화가 변화함을 보여 준다.

- ① ㄱ, ㄴ ② ㄱ, ㄷ ③ ㄴ, ㄷ ④ ㄴ, ㄹ ⑤ ㄷ, ㄹ

13. 그림에 나타난 대중 매체 A~C의 일반적인 특징에 대한 옳은 설명을 <보기>에서 고른 것은? (단, A~C는 각각 종이 신문, 라디오, TV 중 하나이다.)



<보기>

- ㄱ. B는 문맹자의 정보 접근이 어렵다.
- ㄴ. C가 라디오라면, B는 A보다 먼저 등장하였다.
- ㄷ. (가)에는 '정보 전달과 수용의 동시성'이 적절하다.
- ㄹ. (나)에는 '복합 감각 정보의 전달 가능성'이 적절하다.

- ① ㄱ, ㄴ ② ㄱ, ㄷ ③ ㄴ, ㄷ ④ ㄴ, ㄹ ⑤ ㄷ, ㄹ

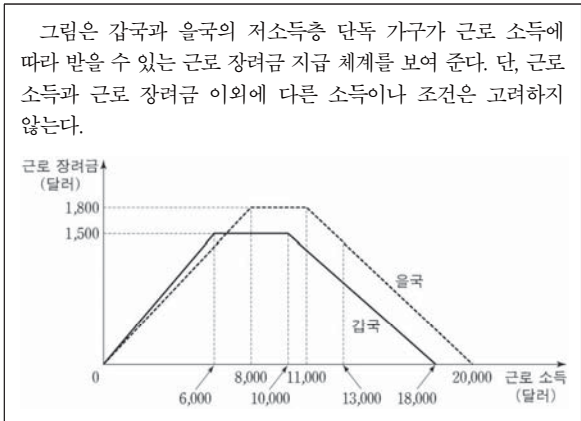
14. 다음은 갑의 일기 중 일부이다. (가), (나)에 대한 설명으로 옳은 것은? [3점]

(가) 2010년 ○월 ○일
의과 대학에 입학한 지 벌써 1년이 넘었지만, 여전히 이곳에 대한 애착 없이 나만 걸돌고 있다. 얼마 전 학점 취득을 위해 봉사 활동을 다녀온 후 구호단체에서 일하는 것이 의미 있다는 확신을 갖게 되었다. 병원장의 아들이라서 가업을 잇기를 바라는 부모님께 이런 생각을 어떻게 말씀 드려야 할지 고민이다.

(나) 2018년 ○월 ○일
의사가 아닌 다른 길을 잘 선택한 것 같다. 간절히 원하던 □□ 국제 구호 기관에서 일한 지 벌써 1년이 되었다. 오늘부터 기관 연수원에서 해외 파견 활동가 교육을 받기 시작했다. 외동아들을 멀리 떠나보낼 아버지의 걱정에도 불구하고 교육을 마치면 외국에서 일하게 된다. 그런데도 외국에 가게 되면 사랑하는 여자 친구와 사이가 멀어질까 봐 고민이다.

- ① (가)와 달리 (나)에는 갑의 귀속 지위가 나타나 있다.
- ② (가)와 달리 (나)에는 갑의 내집단과 준거 집단이 일치하고 있다.
- ③ (나)와 달리 (가)에는 갑의 역할 행동이 나타나 있다.
- ④ (나)와 달리 (가)에는 공식적 사회화 기관이 나타나 있다.
- ⑤ (가), (나) 모두 갑의 역할 갈등이 나타나 있다.

15. 다음 자료에 대한 옳은 분석 및 추론만을 <보기>에서 있는 대로 고른 것은? [3점]



<보기>

- ㄱ. 을국은 근로 소득이 6,000달러인 경우보다 13,000달러인 경우가 근로 장려금 지급액이 많다.
- ㄴ. 근로 소득이 7,000달러인 경우, 근로 장려금 지급액은 갑국과 을국이 같다.
- ㄷ. 갑국과 을국 모두 근로 의욕을 높이려는 생산적 복지 이념을 반영하고 있다.
- ㄹ. 갑국과 을국 모두 근로 장려금 지급에 따른 소득 재분배 효과가 발생한다.

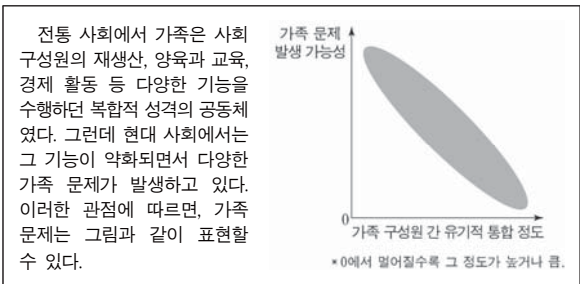
- ① ㄱ, ㄴ ② ㄱ, ㄷ ③ ㄴ, ㄹ
- ④ ㄱ, ㄷ, ㄹ ⑤ ㄴ, ㄷ, ㄹ

16. 다음 대화의 A~D에 대한 설명으로 옳은 것은?

교사: 사회 집단 및 사회 조직의 유형 A~D에 대해 말해 볼까요?
 갑: 사회 집단은 구성원 간 접촉 방식에 따라 A, B로 구분해요.
 A에서는 과업 지향적이고 수단적인 인간관계가 나타나요.
 을: 사회 집단 중 목표와 경계가 뚜렷하고 규범과 절차가 체계화된 집단을 C라고 해요.
 병: C에 속한 구성원들 중에 친밀한 인간관계를 바탕으로 자발적으로 형성한 집단은 D라고 해요.
 교사: 세 학생 모두 옳게 답했습니다.

- ① B에는 공식적 제재가 일반적으로 적용된다.
- ② 노동조합은 A이면서 D에 해당한다.
- ③ 또래 집단은 B이면서 C에 해당한다.
- ④ B는 D와 달리 가입과 탈퇴가 자유롭다.
- ⑤ D는 C의 과업 효율성을 향상시키는 데 기여할 수 있다.

17. 다음 자료에 나타난 가족 문제를 바라보는 관점에 대한 설명으로 옳은 것은? [3점]



- ① 가족 문제를 해결 가능한 일시적 불안정 상태로 본다.
- ② 가족 문제의 대책으로 가부장적 위계질서의 타파를 제시한다.
- ③ 가족 문제는 구성원들이 부여하는 의미에 따라 다르게 해석된다고 본다.
- ④ 가족 문제가 가족 구성원 중 일부에게 일방적 희생을 강요하여 발생한다고 본다.
- ⑤ 가족 문제는 가족 내 역할 배분의 불평등 구조를 해체하여 해결할 수 있다고 본다.

18. 표와 같이 A~C를 비교할 때, 이에 대한 설명으로 옳은 것은? (단, A~C는 각각 농업 사회, 산업 사회, 정보 사회 중 하나이다.)

구분	A	B	C
표준화된 조직 관리 방식이 보편화되기 시작하였는가?	○	×	×
양방향 대중 매체가 보편적으로 사용되는 사회인가?	×	○	×
(가)	×	×	○

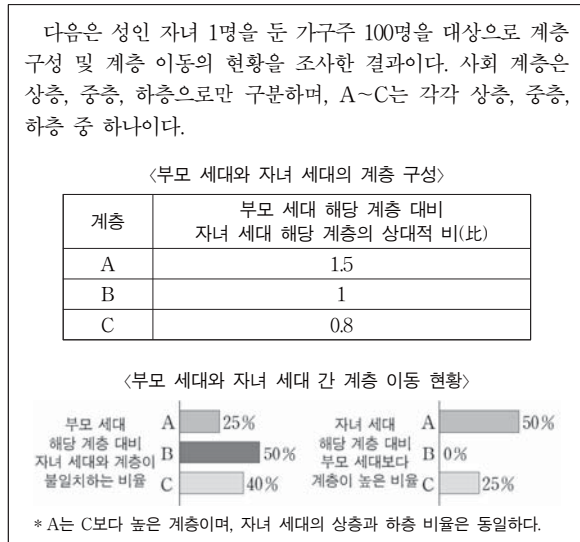
- (예: ○, 아니요: ×)
- ① A는 B에 비해 전체 산업에서 지식 정보 산업이 차지하는 비중이 높다.
 - ② B는 C에 비해 면대면 접촉의 비중이 높다.
 - ③ C는 A에 비해 가정과 일터의 결합 정도가 높다.
 - ④ A는 다품종 소량 생산 체제, B는 소품종 대량 생산 체제가 지배적이다.
 - ⑤ (가)에는 '2차 산업 중심의 사회인가?'가 적절하다.

19. 다음 글에 대한 설명으로 가장 적절한 것은?

A국에는 사냥 후 감사의 마음으로 동물의 피를 나누어 마시는 오랜 ㉠ 풍습이 있다. B국에서 온 갑, 을, 병은 여행 중 이러한 낯선 광경을 함께 목격하게 되었다. 갑은 불쾌감을 느끼며 혐오스럽고 미개한 풍습이라고 주장했다. 반면 을은 A국의 고유한 ㉡ 문화는 나름의 사회적 맥락이 반영된 것이기에 존중해야 된다고 보았다. 이에 대해 병은 고유한 문화의 존중보다는 생명체 존중이라는 보편적 가치가 우선시되어야 한다고 말했다.

- ① ㉠은 물질문화에 해당한다.
- ② ㉡에서의 '문화'는 좁은 의미의 문화이다.
- ③ 갑의 문화 이해 태도는 문화의 우열을 가릴 수 없다고 본다.
- ④ 을의 문화 이해 태도는 문화의 다양성 확보에 유리하다.
- ⑤ 병의 주장은 극단적 문화 상대주의를 옹호하는 근거가 될 수 있다.

20. 다음 자료에 대한 옳은 분석을 <보기>에서 고른 것은? [3점]



〈보 기〉

ㄱ. 부모 세대는 다이아몬드형, 자녀 세대는 피라미드형 계층 구조이다.
 ㄴ. 세대 간 계층을 대물림한 사람보다 세대 간 계층 이동한 사람이 많다.
 ㄷ. 자녀 세대 계층 대비 부모 세대와 계층이 일치하는 비율은 중층이 가장 높다.
 ㄹ. 세대 간 상승 이동한 사람은 세대 간 하강 이동한 사람의 2배를 넘지 않는다.

- ① ㄱ, ㄴ ② ㄱ, ㄷ ③ ㄴ, ㄷ ④ ㄴ, ㄹ ⑤ ㄷ, ㄹ

* 확인 사항
 ○ 답안지의 해당란에 필요한 내용을 정확히 기입(표기)했는지 확인 하시오.

01. ① 02. ① 03. ④ 04. ② 05. ⑤ 06. ③ 07. ③ 08. ② 09. ④ 10. ③
11. ② 12. ② 13. ① 14. ② 15. ④ 16. ⑤ 17. ① 18. ③ 19. ④ 20. ⑤

1. 사회·문화 현상과 자연 현상의 특징 비교

정답 해설 : ㉠과 ㉡은 자연 현상, ㉢과 ㉣은 사회·문화 현상이다. ① 자연 현상은 존재 법칙, 사회·문화 현상은 당위 법칙의 지배를 받는다. **정답 ①**

[오답피하기]

- ② 사회·문화 현상과 자연 현상 모두 경험적 자료로 연구가 가능하다.
- ③ 자연 현상은 사회·문화 현상과 달리 확실성의 원리가 적용된다.
- ④ 사회·문화 현상은 자연 현상과 달리 개인성의 원리가 적용된다.
- ⑤ 사회·문화 현상은 가치 함축적이고, 자연 현상은 몰가치적이다.

2. 사회·문화 현상의 연구에 대한 이해

정답 해설 : ① 부분 간 대화 시간이 적은 집단일수록 부분 간 친밀도의 수치가 높아진 것으로 보아, '부분 간 대화 시간이 많을수록 부분 간 친밀도가 높다.'라는 가설은 기각되었다. **정답 ①**

[오답피하기]

- ② ㉠과 ㉡ 모두 독립 변인이다.
- ③ 실험이 아닌 설문 조사를 통해 자료를 수집하였으므로, ㉢은 실험 집단이 아니다.
- ④ 설문 조사를 통해 연구자가 직접 수집한 자료는 1차 자료이다.
- ⑤ ㉣을 통해 검증된 것은 '부분 간 의견 일치 정도가 높을수록 부분 간 친밀도가 높다.'라는 가설이다.

3. 사회·문화 현상의 바라보는 관점의 비교

정답 해설 : ㄴ. 사회 구성원의 주관적 상황 정의에 기초한 상호 작용을 중시하는 것은 상징적 상호 작용론에만 해당하는 설명이다. B와 C 중 어느 하나가 상징적 상호 작용론이므로, ㉠이 '예'라면 ㉡은 '아니요', ㉢이 '아니요'라면 ㉣은 '예'가 된다.

㉠. 갈등론만 갈등을 사회 변동의 원동력으로 본다. **정답 ④**

[오답피하기]

- ㄱ. 인간을 능동적인 주체로 전제하는 것은 상징적 상호 작용론에만 해당하는 설명이다.
- ㄷ. '개인의 행위를 강제하는 사회 체계를 중시하는 것은 거시적 관점인 기능론과 갈등론 모두에 해당하는 설명이다.' '예'라는 대답이 2개 있어야 한다.

4. 주관적 계층 의식과 실제 계층 자료에 대한 분석

정답 해설 : ㉡ 병의 실제 계층에서 재산(경제적 측면)은 상층, 위신(사회적 측면)은 상층이다. 주관적 계층 의식에 따르면 재산과 위신은 중층이다. **정답 ②**

[오답피하기]

- ① 높은 권력과 위신에서 주관적 계층 의식과 실제 계층이 일치하지 않는다.
- ② 갑과 을의 주관적 계층 의식은 세 측면 모두에서 일치하지 않는 것으로 보아, 계급적 연대 의식을 공유한다고 말할 수 없다.
- ④ 갑은 재산에서 하층이지만 권력에서 상층이고, 을은 재산에서 상층이지만 권력에서 중층이다. 갑과 을의 권력 차이가 재산 차이에서 비롯되었다고 말할 수 없다.
- ⑤ 병은 재산, 권력, 위신에서 모두 상층이므로, 지위 불일치가 나타나지 않았다.

5. 발달 이론의 비교

정답 해설 : ㉠ A는 아노미 이론, B는 차별적 교제 이론, C는 낙인 이론이다. ㉡ 차별적 교제 이론은 발달 행동이 타인과의 상호 작용 과정에서 학습된다고 본다. **정답 ㉡**

[오답피하기]

- ① '문화적 목표를 달성하기 위한 합법적 수단의 부족'은 아노미 이론에서 주목한다.
- ② '일탈자로부터 일탈 행동의 모방'은 차별적 교제 이론에서 주목한다.
- ③ '대립하는 집단 간 갈등'에 주목하는 것은 갈등론이다.
- ④ 아노미 이론은 낙인 이론과 달리 일탈 행동을 규정하는 객관적 기준이 있다고 본다.

6. 개인과 사회의 관계를 바라보는 관점의 비교

정답 해설 : (가)의 관점은 사회 명목론, (나)의 관점은 사회 실재론이다. ㉢ 사회 실재론은 개인에게 영향을 끼치는 사회 제도의 힘을 중시한다. **정답 ㉢**

[오답피하기]

- ① 사회에 대한 개인의 불가항력성을 강조하는 것은 사회 실재론이다.
- ② 사회를 개인의 외부에 존재하는 독자적 실체로 보는 것은 사회 실재론이다.
- ④ 사회 실재론은 사회 현상을 개인 행위로 환원하여 설명할 수 없다고 본다.
- ⑤ 개인에 대한 사회의 구속성은 사회 실재론에서, 사회로부터의 개인의 자율성은 사회 명목론에서 중시된다.

7. 절대적 빈곤과 상대적 빈곤의 이해

정답 해설 : A는 절대적 빈곤, B는 상대적 빈곤이다. ㄴ. 상대적 빈곤은 다른 사람들보다 소득을 상대적으로 적게 가진 상태로, 사회의 소득 분포를 고려하여 파악한다.

ㄷ. 최저 생계비와 중위 소득의 50%라는 객관화된 기준을 가지고 각각 절대적 빈곤과 상대적 빈곤을 파악한다. **정답 ㉡**

[오답피하기]

- ㄱ. 소득 수준이 높은 국가에서도 절대적 빈곤은 나타날 수 있다.
- ㄹ. 절대적 빈곤과 상대적 빈곤 모두 실제 소득 규모로 판단된다.

8. 질문지법과 면접법에 대한 이해



정답 해설 : 대량의 구조화된 자료를 수집하기 용이한 것은 질문지법이므로 A는 면접법, B는 질문지법이다. ㄱ. 조사 대상자와의 정서적 교감은 면접법에서 중시된다.

ㄷ. 조사 대상자의 반응에 대한 유연한 대처는 면접법만의 특징이다. **정답 ㉡**

[오답피하기]

- ㄴ. 실제성이 높은 생생한 자료의 수집이 용이한 것은 참여 관찰법이다.
- ㄹ. 인위적으로 통제된 상황에서 자료를 수집하는 것은 실험법이다.

9. 상급 학교 진학률에 관한 자료의 분석

정답 해설 : ④ 남성의 중등학교 진학률은 80%이고 대학교 진학률은 70%이므로, 남성 중 대학에 진학한 사람은 56%이다. 여성의 중등학교 진학률은 60%이고 대학교 진학률은 30%이므로, 여성 중 대학에 진학한 사람은 18%이다. 조사 대상자의 성별 인원이 같다면, 대학교에 진학한 사람의 수는 남성이 여성의 3배를 넘는다. **정답 ④**

[오답피하기]

- ① 대학교 진학률을 보면, 부모의 계층 간 최대 격차는 45%p이고 성별 간 최대 격차는 40%p이다.
- ② 부모의 계층이라는 귀속적 요인이 상급 학교 진학에 영향을 미치고 있다.
- ③ 초등학교를 졸업한 여성의 수와 부모의 계층이 중층인 사람의 수가 주어져 있지 않아, 비교할 수 없다.
- ⑤ 부모가 하층인 조사 대상자의 대학 진학률은 12%이다.

10. 문화 변동에 대한 분석

정답 해설 : ㉢ 문화 변동 후 음극에서는 갑국 의상 C와 을국 의상 D가 결합된 제3의 의상 E가 등장하였다. 문화 융합이 나타났음을 알 수 있다. **정답 ㉢**

[오답피하기]

- ① (가)는 발견, (나)는 발명, (다)는 간접 전파, (라)는 직접 전파이다.
- ② 변동 후 음식 분야에서 갑국은 A와 B가 병존하는 문화 병존이 나타났다. A가 존재하는 것으로 보아, 자문화의 정체성이 상실되지 않았다.
- ④ 의복 분야에서 갑국은 변동 전의 C가 그대로 유지되고 있다. 문화 변동이 일어나지 않았다. 그리고 음식 분야에서 을국에는 갑국의 문화 요소 A의 전파가 이루어졌다.
- ⑤ 주거 분야에서 갑국에서만 문화 전파로 인한 문화 동화가 이루어졌다.

11. 진화론과 순환론의 비교

정답 해설 : ㉡ 근대화론의 이론적 근거가 되는 것은 진화론이며, 미래 사회의 변동 방향에 대한 예측에 한계가 있는 것은 순환론이다. **정답 ㉡**

[오답피하기]

- ① 제국주의를 정당화하는 근거로 사용된 것은 진화론에만 해당하는 설명이다.
- ③ 진화론은 사회 변동을 단선적인 진보의 과정으로 설명하며 긍정적으로 본다.

- ④ 사회 변동이 항상 발전을 의미하지는 않는다는 점을 간과하는 것은 진화론이다.
- ⑤ 과거의 사회 변동만을 설명한다는 비판을 받는 것은 순환론이다.

12. 문화의 공유성에 대한 이해

정답 해설 : A국에서 기혼 여성은 두건을 착용해야 하고 A국 사람들은 두건이 갖는 상징의 의미를 이해하고 있다. B국에서 남성은 맨손으로 음식을 집어 먹고 있으며, B국 사람들은 그러한 행위의 의미를 인식하고 있다. 문화의 공유성이 공통적으로 부각되어 있다. ㄱ, ㄷ. 문화는 사고와 행동의 동질성을 형성하여 타인의 행동을 예측하고, 이해할 수 있게 해줌으로써 원활한 사회적 상호 작용의 토대가 된다. **정답 ㉡**

[오답피하기]

- ㄴ. 문화의 축적성, ㄹ. 문화의 변동성에 대한 진술이다.

13. 대중 매체의 특성 비교

정답 해설 : 첫 번째 자료의 '정보의 심층성'은 종이 신문이 가장 높으므로, A는 종이 신문이 될 수 없다. 두 번째 자료의 '정보 전달의 신속성'은 종이 신문이 가장 낮으므로 C는 종이 신문이 될 수 없다. 따라서 B가 종이 신문이고, A와 C는 각각 라디오와 TV 중 하나이다. ㄱ. 종이 신문은 문맹자의 정보 접근이 어렵다.

ㄴ. 종이 신문이 TV보다 먼저 등장하였다. **정답 ㉠**

[오답피하기]

- ㄷ. 정보 전달과 수용의 동시성이 높은 것은 라디오와 TV이고, 종이 신문은 낮다.
- ㄹ. 복합 감각 정보의 전달 가능성은 TV가 높고 종이 신문은 낮다.

14. 사회학 관련 개념에 대한 이해

정답 해설 : ㉡ (나)에서 갑은 □□ 국제 구호 기관에 소속되어 있으며, 그 사회 집단에 대한 소속감과 자부심을 갖고 있다. 갑은 내집단과 준거 집단이 일치한다. 그러나 (가)의 의과대학은 갑의 준거 집단이 아니다. **정답 ㉡**

[오답피하기]

- ① (가)에 병원장의 아들이라는 귀속 지위가 나타나 있다.
- ② (가)의 학점 취득을 위한 봉사 활동의 참여, (나)의 해외 파견 활동가 교육을 받은 것은 갑의 역할 행동이다.
- ③ (가)의 의과 대학, (나)의 기관 연수원은 모두 공식적 사회화 기관이다.
- ④ (나)의 여자 친구와 사이가 멀어질까봐 고민하는 것에는 역할 간 충돌이 나타나지 않으므로, 이를 역할 갈등으로 볼 수 없다.

15. 근로 장려금 지급 체계에 대한 분석

정답 해설 : ㄱ. 을국의 경우, 근로 소득 0~8,000 달러 구간에서 직선의 기울기는 1,800/8,000이고 11,000~20,000달러 구간에서 직선의 기울기는 -1,800/9,000으로,



앞의 직선의 기울기가 더 가파르다. 근로 소득 8,000달러와 11,000달러 때의 근로 장려금은 1,800달러로 같고 근로 소득 0-8,000 달러 구간의 직선의 기울기가 더 가파르므로, 근로 소득이 8,000달러에서 6,000달러로 될 때의 근로 장려금 감소폭이 11,000달러에서 13,000달러가 될 때의 근로 장려금 감소폭보다 더 크다. 따라서 근로 소득이 6,000달러인 경우보다 13,000달러인 경우가 근로 장려금 지급액이 많다(실제로 계산식을 세워 풀면, 근로 소득 6,000달러일 때의 근로 장려금은 1,350달러이고, 13,000달러일 때의 근로 장려금은 1,400달러임)

ㄷ. 근로 장려금은 근로와 복지를 연계시킨다는 점에서, 생산적 복지를 지향한다.
 ㄹ. 근로 소득의 과다에 따라 근로 장려금 지급 액수가 달라진다는 점에서, 갑국과 을국 모두에서 소득 재분배 효과가 발생한다. 정답 ④

[오답피하기]

ㄴ. 근로 소득이 7,000달러일 때 근로 장려금은 갑국은 1,500달러이지만, 그럼에서 확인할 수 있듯이 을국은 1,500달러가 넘는다. 실제로 을국의 근로 소득 7,000달러에서 지급되는 근로 장려금은 1,575달러(=7,000달러×1,800/8,000)이다.

16. 사회 집단과 사회 조직에 대한 이해

정답 해설 : A는 2차 집단, B는 1차 집단, C는 공식 조직, D는 비공식 조직이다. ⑤ 비공식 조직은 공식적인 과업을 효율적으로 달성하는 데 기여할 수 있다. 정답 ⑤

[오답피하기]

- ① 1차 집단에서는 비공식적 제재가 일반적으로 이루어진다.
- ② 노동조합은 공식 조직으로서, 2차 집단에 해당한다.
- ③ 토레 집단은 1차 집단이지만, 공식 조직이 아니다.
- ④ 비공식 조직은 자발적 결사체로서, 가입과 탈퇴가 자유롭다.

17. 가족 문제를 바라보는 기능론에 대한 이해

정답 해설 : 가족의 기능 약화가 가족 문제를 초래한다고 보는 것은 기능론이다. ① 기능론에 따르면, 사회 제도가 제 기능을 수행하지 못할 때 사회 문제가 발생할 수 있는데, 이는 일시적 불안정 상태로 곧 해결된다. 정답 ①

[오답피하기]

- ② 가부장적 위계질서의 타파는 갈등론에서 주목한다.
- ③ 구성원들이 부여하는 의미, 다양한 해석 등은 상징적 상호 작용론에서 주목한다.
- ④ 가족 문제의 발생 원인으로 여성에 대한 일방적 희생 강요는 갈등론에서 주목한다.
- ⑤ 가족 내 역할 배분의 불평등 구조의 해체는 갈등론에서 주목한다.

18. 농업 사회, 산업 사회, 정보 사회의 비교

정답 해설 : A는 산업 사회, B는 정보 사회, C는 농업 사회이다. ③ 가정과 일터의 결합 정도는 농업 사회가 가장 높고 산업 사회가 가장 낮다. 정답 ③

[오답피하기]

- ① 전체 산업에서 지식 정보 산업이 차지하는 비중은 정보 사회가 가장 높다.
- ② 면대면 접촉의 비중은 농업 사회가 가장 높다.
- ④ 다품종 소량 생산 체제는 정보 사회, 소품종 대량 생산 체제는 산업 사회에서 지배적이다.
- ⑤ 2차 산업 중심의 사회는 산업 사회이다.

19. 문화 관련 개념 및 문화 이해 태도에 대한 이해

정답 해설 : ④ 을의 문화 이해 태도는 문화 상대주의이다. 문화 상대주의는 각 사회 문화의 고유한 가치를 인정하기 때문에, 문화의 다양성 확보에 유리하다. 정답 ④

[오답피하기]

- ① 풍습은 비물질 문화이다.
- ② ㉠에서의 '문화'는 생활양식이라는 넓은 의미의 문화이다.
- ③ 갑이 A국의 풍습을 혐오스럽고 미개하다고 비판한 것으로 보아, 갑은 문화 간 우열의 존재를 인정한다.
- ⑤ 병은 극단적 문화 상대주의를 경계하고 있다.

20. 세대 간 계층 이동에 대한 분석

정답 해설 : 자녀 세대 해당 계층 대비 부모 세대보다 계층이 높은 비율에서 B는 0%이다. 부모 세대보다 자녀 계층이 높은 사례가 없다는 것은 B가 하층임을 의미한다. 그리고 조건에 따르면 A가 C보다 높은 계층이므로, A는 상층이고 C는 중층이다. 부모 세대 상층인 A의 비율을 a, 하층인 B의 비율을 b, 중층인 C의 비율을 c라고 하자. a+b+c=100, 3/2a+b+4/5c=100, 3/2a=b이 성립한다. 이 식을 풀면, a는 20, b는 30, c는 50이 된다. 이것과 <부모 세대와 자녀 세대 간 계층 이동 현황> 자료를 종합하면, 아래와 같은 세대 간 계층 이동결과가 나오게 된다.

구분	부모 세대 계층(%)			계
	상	중	하	
자녀 세대 계층(%)	상 15	중 10	하 5	30
	중 0	30	10	40
	하 5	10	15	30
계	20	50	30	100

ㄷ. 자녀 세대 계층 대비 부모 세대와 계층이 일치하는 비율은 상층이 15/30, 중층이 30/40, 하층이 15/30으로, 중층이 가장 높다.
 ㄹ. 세대 간 상승 이동한 사람의 비율은 25%이고 세대 간 하강 이동한 사람의 비율은 15%로, 2배가 되지 않는다. 정답 ⑤

[오답피하기]

- ㄱ. 부모 세대와 자녀 세대 모두 다이아몬드형 계층 구조를 갖고 있다.
- ㄴ. 세대 간 대물림한 사람의 비율은 60%로, 과반이다.

제 4 교시

사회탐구 영역(사회·문화)

성명 수험 번호

1. 밑줄 친 ㉠~㉣과 같은 현상의 일반적인 특징에 대한 질문에 모두 옳게 응답한 학생은?

전염성이 강한 AI 바이러스는 닭과 오리 등의 ㉠ 체내에 침투한 뒤 세포에 붙어 폐사에 이르게 해 농가에 막대한 피해를 주고 있다. 이에 국내 연구팀은 SL이 ㉡ 조류의 체내에 침투한 AI 바이러스가 세포에 달라붙는 것을 막아 감염을 차단하는지를 확인하기 위해 동물 실험을 했다. 이 실험에서 닭에게 SL을 먹이면 AI 바이러스가 체내에 있는 ㉢ SL의 올리고당과 결합해 체외로 배출되는 결과를 확인했다. 이를 토대로 ㉣ 닭의 사료에 SL을 섞어 사용하면 AI 바이러스 감염과 확산을 예방할 수 있다고 발표했다.

* AI : 조류 인플루엔자의 약자
** SL : 인체의 면역 성분인 시알리크산의 약자

질문	학생	갑	을	병	정	무
㉠과 같은 현상은 가치 함축적인가?		×	○	×	×	○
㉡과 같은 현상은 동일한 조건하에서는 항상 동일한 결과가 발생하는가?		○	×	×	○	×
㉢과 같은 현상은 보편성과 특수성이 공존하는가?		×	○	○	×	×
㉣과 같은 현상은 당위 법칙을 따르는가?		×	×	○	○	○

(○ : 예, × : 아니오)


- ① 갑 ② 을 ③ 병 ④ 정 ⑤ 무

2. 사회·문화 현상을 바라보는 갑~병의 서로 다른 관점에 대한 설명으로 옳은 것은? [3점]

사회자: 세대 갈등의 원인에 대한 의견을 말씀해 주십시오.
갑: 기성세대는 자신의 지식과 경험을 전수하고, 젊은 세대는 이것을 배우면서 새로운 아이디어를 제공하는 역할을 맡고 있습니다. 그런데 급격한 사회 변동으로 인해 이러한 역할 수행 체계가 무너지고 구성원 간 상호 의존성이 약화되면 세대 갈등이 나타납니다.
을: 여러 사회 집단 내에서 나타나는 다양한 상황에 대해 개별 행위자들은 주관적으로 해석하고 자기 다른 의미를 부여합니다. 이러한 의미 부여의 차이는 세대 간에 더욱 두드러지게 나타납니다. 이는 세대 간 인식, 태도, 행동의 차이로 이어지고 그 결과 세대 갈등이 발생합니다.
병: 사회 각 분야에서 주도적으로 의사 결정권을 행사하는 기성세대는 사회의 지배적 규범을 자신들에게 유리하게 만들어, 젊은 세대가 주류 사회로 진입하고 성장하는 것을 가로막고 있습니다. 이로 인해 세대 갈등이 나타납니다.


- ① 갑의 관점은 상징을 통한 개인 간 상호 작용에 초점을 맞춘다.
② 을의 관점은 사회 각 부분이 상호 보완적 역할을 수행한다고 본다.
③ 병의 관점은 갈등을 사회 변동의 원동력으로 본다.
④ 갑의 관점은 을의 관점과 달리 사회 구조가 개인에게 미치는 영향을 간과한다.
⑤ 병의 관점은 갑의 관점과 달리 능력에 따른 차등 보상의 필요성을 강조한다.

3. 갑~병이 가진 문화 이해 태도에 대한 설명으로 옳은 것은?




갑

△△지역 ○○ 부족은 가족이 죽으면 장례 비용을 마련할 때까지 몇 년 동안 시신을 집안에 두었다가 나중에 매장하는 풍습이 있어. 이러한 풍습은 시신이 잘 썩지 않는 △△ 지역의 자연적 조건과 장례를 성대하게 치를수록 내세에 더 좋은 곳으로 간다는 ○○ 부족의 믿음에서 비롯된 것으로 이해할 수 있어.



을

우리나라처럼 조상을 양지바른 곳에 모시고 묘를 잘 관리하는 전통에 비추어 볼 때, 조상의 시신을 방치하는 것은 조상에 대한 모독일 뿐만 아니라 비위생적이라고 생각해. ○○ 부족의 장례 문화는 바뀌어야지.



병

내가 알고 있는 A국에서는 이미 화장(火葬)이 보편적인 장례 풍습으로 정착되었어. 화장은 토지 낭비를 막고 시신을 위생적으로 관리할 수 있는 선진적인 장례 문화야. ○○ 부족이나 우리에게 남아있는 매장 풍습은 하루 빨리 화장으로 완전히 대체되어야 해.

- ① 갑의 태도는 을의 태도와 달리 문화 간에 우열이 존재한다고 본다.
② 을의 태도는 갑의 태도에 비해 타 문화 수용에 적극적이다.
③ 을의 태도는 병의 태도에 비해 문화의 다양성 확보에 유리하다.
④ 병의 태도는 을의 태도와 달리 집단 구성원의 결속력을 높이는 데 기여한다.
⑤ 을, 병의 태도는 모두 특정 사회의 문화를 기준으로 타 문화를 평가할 수 있다고 본다.

4. 밑줄 친 ㉠~㉣에 대한 설명으로 옳은 것은?

갑은 교사가 되길 원하던 어머니의 희망대로 ㉠ 사회교육과에 진학하였다. 그러나 어릴 적부터 간절히 진학을 꿈꿔 온 ㉡ 미술 대학이 아니었기 때문에 갑은 점점 ㉢ 학업에 흥미를 잃고 강의에도 자주 결석하였다. 사범 대학을 계속 다닐지 말지 거듭 ㉣ 고민하던 갑은 두 학과의 교육과정을 모두 이수할 수 있는 복수 전공제가 있다는 것을 알고 미술교육과의 강의를 듣기 시작하였다. 또한, 미술교육과 친구들이 추천한 ㉤ 교육 봉사 동아리에 가입하여 열심히 활동하였다. 이 과정에서 가르침의 보람을 느끼게 된 갑은 졸업식장에서 ㉥ 성적 최우수상을 받을 것을 기대하며 학과 공부에 매진하고 있다.

- ① ㉠은 2차적 사회화 기관, ㉡은 공식적 사회화 기관이다.
② ㉢은 갑의 내집단이자 비공식적 사회화 기관이다.
③ ㉣의 원인은 소속 집단과 준거 집단 간의 불일치에 있다.
④ ㉤은 갑이 겪은 역할 갈등이며, 제도적 뒷받침에 의해 해결되었다.
⑤ ㉥은 갑의 역할에 대한 보상에 해당한다.

5. 밑줄 친 ㉠~㉣에 대한 설명으로 옳은 것은? [3점]

노예 해방 이후에도 미국 흑인들의 삶은 고달팠다. 이들은 삶의 애환을 음악에 담아 표현하였는데 이것이 ㉠ 블루스이다. 한편 미국 서부 지역에서는 백인들을 중심으로 ㉡ 웨스턴 뮤직이 출현하였다. 백인들은 ㉢ 블루스를 '인종 음악'이라고 부르면서 천대하였고, 자신들의 음악과 철저히 구분하였다. 그러나 1950년대 무렵 흑인과 백인의 음악은 각각의 색채가 모두 담긴 ㉣ 새로운 음악 장르인 로큰롤로 발전되었다. 당시 로큰롤은 ㉤ 통속적이고 즉흥적이라는 이유로 비난받는 경우도 있었으나, 이후 ㉥ TV와 라디오를 통해 전 세계로 급속히 진출하면서 대중문화의 한 줄기를 이루었다.

- ① ㉠, ㉢은 모두 미국 사회의 하위문화였다.
② ㉣은 문화 지체 사례에 해당한다.
③ ㉤은 문화 공존 사례에 해당한다.
④ ㉥은 물질문화의 확산에 대한 반발이다.
⑤ ㉥은 강제적 문화 접변 사례에 해당한다.

6. 표는 자료 수집 방법 A~C의 일반적인 특징을 나타낸 것이다. 이에 대한 옳은 설명을 <보기>에서 고른 것은? (단, A~C는 각각 실험법, 질문지법, 면접법 중 하나이다.) [3점]

자료 수집 방법	A	B	C
일반적인 특징	(가)	(라)	(나)
	(다)		

<보 기>

ㄱ. A가 질문지법이고, (가)가 '독립 변수와 종속 변수의 관계를 검증하는 연구에 적합하다.'라면, (나)는 '자료 수집 과정에서 연구자가 유연성이나 융통성을 발휘하기 어렵다.'가 적절하다.

ㄴ. C가 면접법이고, (다)가 '인위적으로 상황을 통제함으로써 변수의 효과를 관찰하기에 용이하다.'라면, (라)는 '대규모 집단을 대상으로 한 자료 수집에 용이하다.'가 적절하다.

ㄷ. (가)가 '연구 대상자와 언어를 매개로 한 상호 작용이 필수적이다.'라면, (나)는 '실제성이 높은 생생한 자료를 수집하기에 용이하다.'가 적절하다.

ㄹ. (나)가 '소수의 응답자로부터 깊이 있는 정보를 수집하기에 용이하다.'라면, (가)는 '수집된 자료를 통계적으로 처리하기에 용이하다.'가 적절하다.

- ① ㄱ, ㄴ ② ㄱ, ㄷ ③ ㄴ, ㄷ ④ ㄴ, ㄹ ⑤ ㄷ, ㄹ
7. 다음 자료에 대한 설명으로 옳은 것은? (단, A, B는 각각 상대적 빈곤과 절대적 빈곤 중 하나이다.)

A는 인간이 최소한의 생활을 유지하기 어려운 상태에서, 주로 자원이거나 소득이 부족한 상태를 의미한다. 우리나라에서는 A를 측정하기 위한 기준선으로 (가) 을/를 활용한다. B는 개인이 다른 사람에 비해 자원이거나 소득이 결핍되어 사회 구성원 다수가 누리는 생활을 영위하지 못하는 상태를 의미한다. 우리나라에서는 B를 측정하기 위한 기준선으로 (나) 을/를 활용한다.

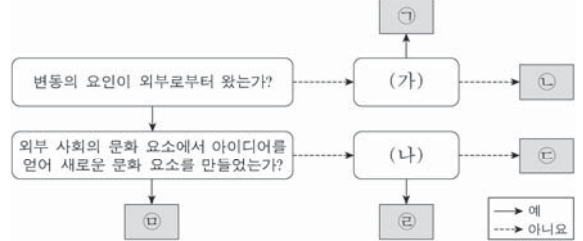
- ① B는 개인이 빈곤 상태에 있다고 주관적으로 인식하는 개념이다.
- ② B의 기준을 적용하면 기본적인 의식주가 충족된 가구라도 빈곤 가구에 포함될 수 있다.
- ③ A는 B와 달리 소득의 불평등 정도를 측정하는 데 활용된다.
- ④ A에 따른 빈곤율과 B에 따른 빈곤율의 합이 그 나라 전체의 빈곤율이다.
- ⑤ (가)는 중위 소득의 50%, (나)는 최저 생계비이다.

8. 밑줄 친 ㉠~㉣과 같은 사회 집단과 사회 조직의 일반적 특징에 대한 설명으로 옳은 것은? [3점]

갑은 ㉠법학 전문 대학원 학생이다. 평소 환경 문제에 관심이 많아서 ㉡○○시민 연대에서 활동하고 있다. 또한 주말마다 ○○시민 연대의 ㉢야구 동호회를 통해 친목을 다지고 있다. 한편 갑의 남편 을은 자동차 회사에 재직 하면서 ㉣노동조합 활동도 열심히 하고 있다. 주말에는 ㉤음악 학원에서 드럼을 배우며 스트레스를 해소하고 있다. 두 사람은 너무 바쁘지만 ㉥가족과 좀 더 많은 시간을 보낼 방법에 대해 고민 중이다.

- ① ㉠은 공동의 목표나 관심사를 가진 사람들의 자발적 참여로 결성된 집단이다.
- ② ㉡은 선택 의지에 의해 형성된 집단이다.
- ③ ㉢은 ㉣과 달리 특정 목적 달성을 위한 지위와 역할이 명확한 조직이다.
- ④ ㉤은 ㉥, ㉦과 달리 구성원 간 직접적 접촉을 통한 전인격적 관계에 기초한 집단이다.
- ⑤ ㉤은 ㉠, ㉡과 달리 공식 조직 내에서 구성원 간의 친밀한 인간관계에 바탕을 두고 형성된 조직이다.

9. 그림은 문화 변동 요인 ㉠~㉣을 구분한 것이다. 이에 대한 설명으로 옳은 것은? (단, ㉠~㉣은 각각 발견, 발명, 직접 전파, 자극 전파, 간접 전파 중 하나이다.)



- ① (가)가 '존재하지 않던 문화 요소를 새롭게 만들어냈는가?'라면, 인쇄술은 ㉠의 사례에 해당한다.
- ② (나)가 '문화 요소가 매체에 의해 전달되었는가?'라면, 통신 기술이 발달할수록 ㉡을 통한 문화 변동이 더 용이하게 나타날 수 있다.
- ③ ㉠의 사례로 활을 들 수 있다면, (가)는 '존재하고 있었으나 알려지지 않았던 문화 요소를 찾아냈는가?'가 적절하다.
- ④ ㉢의 사례로 전쟁을 통해 유럽에 전파된 설탕을 들 수 있다면, (나)는 '문화 요소의 전달이 직접 이루어졌는가?'가 적절하다.
- ⑤ ㉣의 사례로 외국인 선교사에 의해 외래 종교가 전래된 것을 들 수 있다.

10. 다음 연구에 대한 옳은 설명만을 <보기>에서 있는 대로 고른 것은? [3점]

갑은 청소년 비행에 부모와의 친밀도 및 ㉠비행 친구와의 교제가 미치는 영향에 대하여 연구하고자 선행 연구 자료를 분석하였다. 그리고 ㉡'부모와의 친밀도가 높을수록 비행을 덜 저지를 것이다.', ㉢'비행 친구와 교제할수록 비행을 더 저지를 것이다.'라는 잠정적 결론을 도출하였다. 이어 청소년 1,000명을 대상으로 부모와의 1주일 평균 대화 시간, ㉣주당 1시간 이상 접촉하는 친구 중에 비행을 저지른 친구가 있는지의 여부, 그리고 지난 1년간 비행 경험 유무에 대하여 설문 조사를 실시하였다. 수집된 자료 분석 결과는 아래와 같으며, 이 결과는 통계적 검증 과정을 거쳤다.

(단위: 명)

㉠ 부모와의 대화 시간	㉡ 비행 친구 유무	비행 경험 유무		계
		없음	있음	
적음	있음	140	60	200
	없음	180	120	300
많음	있음	240	60	300
	없음	140	60	200

<보 기>

ㄱ. 1차 자료와 2차 자료가 모두 활용되었다.

ㄴ. ㉠은 ㉡과 ㉢의 관계를 통해 검증된다.

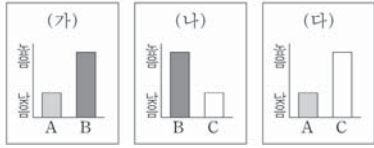
ㄷ. ㉣은 ㉠의 조작적 정의에 해당한다.

ㄹ. 분석 결과는 ㉠과 ㉢을 지지하는 근거로 활용될 수 있다.

- ① ㄱ, ㄴ ② ㄱ, ㄷ ③ ㄴ, ㄹ
- ④ ㄱ, ㄷ, ㄹ ⑤ ㄴ, ㄷ, ㄹ

11. 그림의 (가)~(다)에 들어갈 내용으로 옳은 것은? (단, A~C는 각각 인쇄 매체, 영상 매체, 뉴 미디어 중 하나이다.) [3점]

A, B는 C에 비해 정보 재가공의 용이성이 낮아요. A, C는 B와 달리 복합 감각 정보의 전달이 가능해요. (가)~(다)를 기준으로 A~C의 일반적인 특징을 비교해 봅시다.



- ① (가) - 정보 유통의 신속성
- ② (나) - 정보 전달의 양방향성
- ③ (나) - 정보 확산 경로의 다양성
- ④ (다) - 정보 생산자의 익명성
- ⑤ (다) - 정보 생산자와 소비자 간 경계의 명확성

12. 교육을 바라보는 감, 을의 관점에 대한 설명으로 옳은 것은?

○○ 고민 게시판

원하는 대학에도 가고 좋은 직장도 가지고 싶은데 어떻게 해야 할까요?

↳ Re: (감) 열심히 공부하면 누구나 원하는 대학에 갈 수 있어요. 대학에서 높은 학점을 받고 실력을 쌓으면 자기 전공에 맞게 취업도 할 수 있어요. 이처럼 우리 교육이 인재를 양성해서 사회가 필요한 곳에 배치하는 역할을 잘 수행하고 있으니 열심히 노력해 보세요.

↳ Re: (을) 그렇지 않아요. 솔직히 부유층 자녀들만 원하는 대학에 가고 좋은 직장 갖는 거 아닌가요? 그렇지 않은 아이들은 좋은 대학에도 못 가지만, 설령 가더라도 좋은 직장에는 취업하기 어려워요. 결국 교육은 가진 자들의 기득권을 유지하는 수단일 뿐이에요.

- ① 감의 관점은 교육을 사회가 요구하는 규범 체계의 내면화 과정으로 본다.
- ② 감의 관점은 교육 활동이 이루어지는 상황적 맥락에 대한 이해에 초점을 맞춘다.
- ③ 을의 관점은 교육이 계층의 재생산을 억제한다고 본다.
- ④ 을의 관점은 현재의 사회 질서를 유지하기 위해 교육 접근 기회의 평등을 강조한다.
- ⑤ 감, 을의 관점은 모두 학교 교육의 내용에 계층 간 유불리가 존재함을 강조한다.

13. (가)~(다)에 나타난 일탈 이론에 대한 설명으로 옳은 것은? [3점]

(가) 가정에서 주로 생활하던 아이가 성장하여 학교에 가면 다양한 부류의 친구를 접하게 된다. 그 과정에서 소위 말하는 '문제아'를 친구로 사귀게 되면 일탈을 행하게 된다.

(나) 처음부터 '문제아'가 따로 있는 것이 아니다. 교사나 주변 학생들이 '문제아'라고 손가락질하면 평범한 학생도 '문제아'로 인식되어 정상적인 학교생활에서 소외되고 배제되어 일탈을 행하게 된다.

(다) 우리 사회는 학업 성적과 대학 입시만을 지나치게 강조하는 반면, 학업 부진 학생들에게 적절한 방안을 제시하지 못하고 있다. 이 때문에 그 학생들이 학업을 포기하고 일탈을 행하게 된다.

- ① (가)는 차별적인 제재를 일탈 행동의 원인으로 본다.
- ② (나)는 문화적 목표와 제도적 수단 간의 괴리를 일탈 행동의 원인으로 본다.
- ③ (다)는 일탈 행동의 원인을 거시적 측면에서 찾는다.
- ④ (가)는 (나)와 달리 최초 일탈보다 일탈 행동의 반복에 초점을 맞춘다.
- ⑤ (다)는 (나)와 달리 일탈 행동에 대한 사회적 반응을 중시한다.

14. 밑줄 친 ㉠~㉣에 부각되어 있는 문화의 속성에 대한 설명으로 가장 적절한 것은?

뉴기니의 ○○ 부족 사회에서 남자는 아름답고 예술적인 것을 추구하는 존재로서, 여자는 공적인 일을 경영하고 추진하는 존재로서 각각 역할을 수행한다. 만약 ㉠그와 반대로 성 역할을 구분하는 사회의 구성원이 ○○ 부족을 만나 함께 생활한다면 어색함을 느낄 것이다. 이것은 성 역할이 하나의 문화로서 사회마다 다르다는 것을 의미한다. 사실 ㉡타고난 특성에서 기인한다고 생각하는 성 역할도 사회 속에서 후천적으로 획득된다. 최근 우리 사회에서는 성 역할에 대한 인식의 변화와 함께 성 평등 관련 제도의 도입, 여성의 경제적 지위 향상 등 다양한 요인에 의해 전통적인 성 역할 문화에 큰 변화가 일어나고 있다. ㉢이는 결혼 문화와 가족 형태에도 영향을 미치고 있다.

- ① ㉠은 문화가 계승되고 발전하는 현상임을 보여준다.
- ② ㉠은 한 문화 요소의 변화가 다른 문화 요소에 연쇄적 변화를 가져옴을 보여준다.
- ③ ㉡은 시간의 흐름에 따라 기존 문화 요소가 사라지거나 변화함을 보여준다.
- ④ ㉢은 특정 상황에서 상대방의 행동 방식을 예측할 수 있음을 보여준다.
- ⑤ ㉢은 문화 요소가 다른 문화 요소와 관련을 맺으며 하나의 전체를 형성하고 있음을 보여준다.

15. 다음 자료에 대한 옳은 분석만을 <보기>에서 있는 대로 고른 것은? (단, (가)~(다)는 각각 사회 보험, 공공 부조, 사회 서비스 중 하나이다.) [3점]

<자료 1> 우리나라 사회 보장 제도의 사례

제도	사례
(가)	소득, 건강, 주거, 사회적 접촉 등의 수준을 평가하여 선정된 65세 이상의 독거 노인에게 정기적인 안전 확인 및 정서적 지원, 보건 서비스 연계·조정, 생활 교육 지원 등을 하는 제도
(나)	사용자, 근로자 또는 자영업자 등이 공동으로 마련한 재원으로 노령에 따른 근로 소득 상실을 보전하기 위한 급여를 지급하는 제도
(다)	국가와 지방 자치 단체의 재정으로 65세 이상 노인 중 소득이 일정 수준 이하인 사람에게 생활 안정에 필요한 연금을 지급하는 제도

<자료 2> A 지역의 65세 이상 인구 중 (가)~(다)의 수혜자 현황 (단위: %)

구분	2014년						2015년					
	(가)		(나)		(다)		(가)		(나)		(다)	
수혜자 비율	12	40	60	12	40	60	12	40	60	12	40	60
수혜자 증/감 비율	남	여	남	여	남	여	남	여	남	여	남	여
	30	70	58	42	36	64	40	60	55	45	30	70

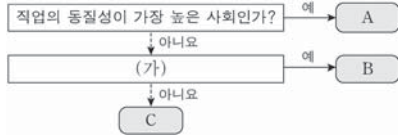
* 2014년 A 지역의 65세 이상 인구는 10,000명임.
 ** 2015년 A 지역의 65세 이상 인구 증가율은 -5%임.
 *** 65세 이상 인구 증가율(%) = $\frac{\text{당해 연도 65세 이상 인구} - \text{전년도 65세 이상 인구}}{\text{전년도 65세 이상 인구}} \times 100$

<보 기>

ㄱ. 2014년에 소득 재분배 효과가 가장 큰 제도의 수혜자 수는 비금전적 지원이 원칙인 제도의 수혜자 수의 1.5배이다.
 ㄴ. 2015년에 수혜 정도와 무관하게 능력에 따른 비용 부담이 원칙인 제도의 남자 수혜자 수는 여자 수혜자 수보다 많다.
 ㄷ. 2015년에 상호 부조의 원리에 기반을 둔 제도의 여자 수혜자 수와 최저 생활 보장을 목적으로 하는 제도의 남자 수혜자 수는 동일하다.
 ㄹ. 강제 가입이 원칙인 제도의 여자 수혜자 수는 2014년보다 2015년이 많다.

- ① ㄱ, ㄴ ② ㄱ, ㄹ ③ ㄴ, ㄷ
- ④ ㄱ, ㄷ, ㄹ ⑤ ㄴ, ㄷ, ㄹ

16. 그림은 A~C를 일반적인 특징에 따라 분류한 것이다. 이에 대한 옳은 설명을 <보기>에서 고른 것은? (단, A~C는 각각 농업 사회, 산업 사회, 정보 사회 중 하나이다.) [3점]



- <보 기>
- ㄱ. (가)가 '전자 상거래 비중이 더 높은 사회인가?'라면, 기술의 발전 속도는 B>A>C로 나타난다.
 - ㄴ. (가)가 '면대면 접촉의 비중이 더 높은 사회인가?'라면, 일터와 가정의 분리 정도는 B>C>A로 나타난다.
 - ㄷ. (가)가 '소품종 대량 생산 방식이 더 보편적인 사회인가?'라면, 구성원 간 익명성의 정도는 B>A>C로 나타난다.
 - ㄹ. (가)가 '조직 내 의사 결정 권한의 분산 정도가 더 높은 사회인가?'라면, 사회적 관계 형성의 공간적 제약 정도는 A>C>B로 나타난다.

- ① ㄱ, ㄴ ② ㄱ, ㄷ ③ ㄴ, ㄷ ④ ㄴ, ㄹ ⑤ ㄷ, ㄹ

17. 사회 불평등 현상을 설명하는 이론 A, B의 입장을 고려하여 자신에게 주어진 질문에 대한 응답을 모두 옳게 한 학생은?

A는 자본주의 체제에서 돈, 기계, 원료 등과 같은 생산 수단의 소유 여부를 기준으로 사회 불평등 현상을 설명한다. 한편 B는 사회 불평등의 층위가 사회적·정치적 차원에서도 발생한다고 주장하며, 현대 사회에서 나타나는 다양한 차원의 불평등을 근거로 제시한다.

학생	질문	A의 입장	B의 입장
갑	사회 계층이 연속적으로 서열화되어 있다고 보는가?	×	○
을	계층 간 수직 이동이 극히 제한적이라고 보는가?	×	○
병	경제적 요인에 의해 계층화가 발생한다고 보는가?	○	×
정	동일한 계층에 속하는 구성원 간의 연대 의식이 강하다고 보는가?	×	○
무	한 사람의 지위가 계층화의 여러 차원에 따라 달라질 수 있다고 보는가?	○	×

(○: 예, ×: 아니오)

- ① 갑 ② 을 ③ 병 ④ 정 ⑤ 무

18. 다음 글에 나타난 개인과 사회의 관계를 바라보는 '나'의 관점에 부합하는 진술을 <보기>에서 고른 것은? [3점]

한 사회학자의 분석에 따르면, 규범적 통합이 강한 집단에서는 자살률이 낮은 반면 규범적 통합이 약한 집단에서는 자살률이 높다고 한다. 이것은 사회 통합의 정도에 따라 개인의 행위가 달라질 수 있다는 것으로 해석된다. 그러나 '나'는 자살률의 높고 낮음이 집단의 특성이 아니라 개인의 특성에서 비롯된다고 생각한다. 사회 현상에 대한 이해는 개별 인간의 행위에 대한 이해를 통해서만 가능하다. 그러므로 개인의 행위에 초점을 두고 사회를 연구해야 한다.

- <보 기>
- ㄱ. 사회는 개인의 외부에 존재한다.
 - ㄴ. 사회는 개인의 속성을 모두 합한 것에 불과하다.
 - ㄷ. 개인은 전체 사회와의 관련 속에서만 존재의 의미를 갖는다.
 - ㄹ. 사회적 조건보다 개인의 자유 의지가 인간 행동에 더 큰 영향을 미친다.

- ① ㄱ, ㄴ ② ㄱ, ㄷ ③ ㄴ, ㄷ ④ ㄴ, ㄹ ⑤ ㄷ, ㄹ

19. 사회 변동을 바라보는 관점 (가), (나)에 대한 옳은 설명을 <보기>에서 고른 것은? (단, (가), (나)는 각각 순환론, 진화론 중 하나이다.)

- (가) 인류 문명의 발전 속도는 지역에 따라 다르게 나타난다. 그렇지만 문명이 단순한 것에서 분화된 것으로, 미신적인 것에서 합리적인 것으로, 낮은 것에서 새로운 것으로 발전하는 경향은 일반적으로 나타난다.
- (나) 인류 문명은 일정한 시간 동안에는 정해진 방향을 향해 나아가는 것 같지만 곧 한계에 부딪히게 되고, 문명에 내재한 힘을 따라 다시 반대 방향을 향해 움직이게 된다. 그러나 반대 방향의 움직임 역시 오래가지 못하고 문명은 다시 본래의 방향을 향하게 된다.

- <보 기>
- ㄱ. (가)는 (나)와 달리 사회 변동을 동일한 과정의 주기적 반복으로 설명한다.
 - ㄴ. (나)는 (가)와 달리 사회가 항상 진보하는 것은 아니라고 본다.
 - ㄷ. (가)는 (나)에 비해 개발도상국의 서구식 근대화 과정을 설명하기에 적합하다.
 - ㄹ. (나)는 (가)에 비해 변동 방향을 예측하여 대응하기에 적합하다.

- ① ㄱ, ㄴ ② ㄱ, ㄷ ③ ㄴ, ㄷ ④ ㄴ, ㄹ ⑤ ㄷ, ㄹ

20. 다음 자료에 대한 분석으로 옳은 것은?

<자료 1> 갑국의 자녀 세대 계층 구성 현황

자녀 세대의 A 비율은 B 비율보다는 20%p 크고, C 비율보다는 30%p 크다. 자녀 세대의 계층 구조는 다이아몬드형이며, C는 B보다 높은 계층이다.

* 갑국의 모든 부모의 자녀는 1명이고, 계층은 상층, 중층, 하층으로만 구분하며, A~C는 각각 상층, 중층, 하층 중 하나임.
 ** %: 백분율 간의 차이를 나타내는 단위임. 예를 들어, 20%는 10%보다 10%p 크다고 표현함.

<자료 2> 갑국의 세대 간 계층 이동 현황 (단위: %)

구분	계층		
	A	B	C
자녀 세대 계층 대비 부모 세대와 자녀 세대의 계층 불일치 비율	90	50	40
부모 세대 계층 대비 부모 세대와 자녀 세대의 계층 일치 비율	25	30	40

* 상층 부모를 둔 중층 자녀 인구는 하층 부모를 둔 상층 자녀 인구의 3배임.

- ① 하층 대비 상층의 비율은 부모 세대가 자녀 세대보다 높다.
- ② 세대 간 상승 이동한 비율이 세대 간 하강 이동한 비율보다 낮다.
- ③ 중층 부모를 둔 하층 자녀의 인구는 중층 부모를 둔 상층 자녀 인구의 4배이다.
- ④ 부모 세대의 계층 구조는 자녀 세대의 계층 구조에 비해 사회 통합에 유리하다.
- ⑤ 자녀 세대 계층 대비 세대 간 이동을 경험하지 않은 비율이 가장 높은 계층은 하층이다.

* 확인 사항
 ○ 답안지의 해당란에 필요한 내용을 정확히 기입(표기)했는지 확인 하시오.

01. ④ 02. ③ 03. ⑤ 04. ③ 05. ① 06. ④ 07. ② 08. ⑤ 09. ② 10. ②
11. ④ 12. ① 13. ③ 14. ⑤ 15. ⑤ 16. ④ 17. ① 18. ④ 19. ③ 20. ③

1. 사회·문화 현상과 자연 현상의 특징 비교

정답 해설 : ㉠, ㉡, ㉢은 자연 현상, ㉣은 사회·문화 현상이다. 가지 함축적인 현상은 사회·문화 현상의 특징이므로 첫 번째 질문에는 '아니요', 동일한 조건하에서는 항상 동일한 결과가 발생하는 것은 자연 현상의 특징이므로 두 번째 질문에는 '예', 보편성과 특수성이 공존하는 것은 사회·문화 현상의 특징이므로 세 번째 질문에는 '아니요', 당위 법칙을 따르는 것은 사회·문화 현상의 특징이므로, 네 번째 질문에는 '예'라고 답변해야 한다. **정답 ④**

2. 사회·문화 현상을 바라보는 관점의 비교

정답 해설 : 갑의 관점은 기능론, 을의 관점은 상징적 상호 작용론, 병의 관점은 갈등론이다. ㉠ 갈등론적 관점은 갈등을 사회 변동의 원동력으로 본다. **정답 ③**
[오답피하기]
① 상징을 통한 개인 간 상호 작용에 초점을 맞추는 것은 상징적 상호 작용론이다.
② 사회 각 부분의 상호 보완적 역할 수행은 기능론적 관점에서 강조된다.
③ 사회 구조가 개인에게 미치는 영향을 간파하는 것은 상징적 상호 작용론이다.
④ 능력에 따른 차등 보상의 필요성은 기능론적 관점에서 강조된다.

3. 문화 이해 태도의 이해

정답 해설 : 갑의 태도는 문화 상대주의, 을의 태도는 자문화 중심주의, 병의 태도는 문화 사대주의이다. ㉠ 자문화 중심주의나 문화 사대주의 모두 특정 사회의 문화를 기준으로 타문화를 평가할 수 있다고 본다. **정답 ⑤**
[오답피하기]
① 문화 간에 우열이 존재한다고 보는 것은 자문화 중심주의나 문화 사대주의이다.
② 자문화 중심주의는 자기 문화가 우월하다면서 타 문화를 업신여기기 때문에, 타 문화 수용에 배타적이다.
③ 타 문화 수용에 배타적인 자문화 중심주의는 문화 다양성 확보에 유리하지 않다.
④ 집단 구성원의 결속력을 높이는 데 기여하는 것은 자문화 중심주의이다.

4. 사회학 관련 개념에 대한 이해

정답 해설 : ㉠ 갑은 어릴 적부터 간절히 꿈꿔왔던 미술 대학에 진학하지 못하고, 어머니의 희망대로 사회교육과에 진학하면서 학업에 흥미를 잃었다. 소속 집단과 준거 집단의 불일치가 학업에 흥미를 잃게 만들었다. **정답 ③**
[오답피하기]

③ 소득의 불평등 정도는 상대적 빈곤을 통해 일정 부분 파악할 수 있다.
④ 절대적 빈곤 가구가 상대적 빈곤 가구에, 상대적 빈곤 가구가 절대적 빈곤 가구에 포함될 수 있기 때문에, 두 빈곤율의 합이 나라 전체의 빈곤율이라고 말할 수 없다.
⑤ (가)가 최저 생계비, (나)가 중위 소득의 50%이다.

8. 다양한 사회 조직에 대한 이해

정답 해설 : ㉠ ㉡만이 비공식 조직이다. 비공식 조직은 공식 조직 내에서 구성된 간접적인 인간관계에 바탕을 두고 형성된다. **정답 ⑤**
[오답피하기]
① 법학 전문 대학원은 자발적 결사체가 아니다.
② 가족은 본질 의지에 의해 결합된 공동 사회이다.
③ ㉠과 ㉡ 모두 공식 조직이다.
④ 구성원 간 직접적 접촉을 통한 전인적 관계에 기초한 집단은 가족이다.

9. 문화 변동 요인의 이해

정답 해설 : ㉠과 ㉡은 각각 발명과 발견 중 하나이고, ㉢과 ㉣은 각각 직접 전파와 간접 전파 중 하나이며, ㉤은 자국 전파이다. ㉡ (나)가 "문화 요소가 매체에 의해 전달되었는가?"이면, ㉤은 간접 전파이다. 통신 기술이 발달할수록 간접 전파를 통한 문화 변동이 더 용이하게 나타날 수 있다. **정답 ②**
[오답피하기]
① 존재하지 않던 문화 요소를 새롭게 만들어 낸 것은 발명이므로 ㉠은 발견이다. 인쇄술은 발명의 사례이다.
② 활의 발명의 사례인데, 존재하고 있었으나 알려지지 않았던 문화 요소를 찾아낸 것은 발견이다.
③ 전쟁을 통해 유럽에 전파된 실당은 직접 전파의 사례이다.
④ 외국인 선교사에 의해 외래 종교가 전래된 것은 직접 전파의 사례이다.

10. 사회·문화 현상 연구의 적용

정답 해설 : ㄱ. 선행 연구에서 2차 자료, 설문 조사에서 1차 자료를 찾을 수 있다.
ㄴ. 주당 1시간 이상 접촉하는 친구 중에 비행을 저지른 친구의 유무를 통해 비행 친구와의 교제를 측정할 수 있다. **정답 ②**
[오답피하기]
ㄴ. '부모와의 친밀도가 높을수록 비행을 덜 저지를 것이다.'는 부모와의 대화 시간과 비행 경험 유무의 관계를 통해 검증된다.
ㄷ. 부모와의 대화 시간의 적음과 많음, 비행 친구 유무에 따라 비행 경험 유무 사례 수에 차이가 없다. 분석 결과는 ㉠과 ㉡을 지지하는 근거로 활용될 수 없다.

① 사회 교육과는 2차적 사회화 기관이지만, 교육 봉사 동아리는 비공식적 사회화 기관이다.
② 갑이 미술 대학에 소속되어 있지 않기 때문에 미술 대학을 내집단으로 보기 어렵고, 미술 대학은 공식적 사회화 기관이다.
④ 사범 대학을 계속 다닐지 말지의 고민에는 역할 간 충돌이 나타나지 않는다.
⑤ 역할에 대한 보상이 아니라 역할 행동에 대한 보상이다.

5. 문화 관련 개념의 이해

정답 해설 : ㉠ 블루스는 미국의 흑인 집단에서, 웨스턴 뮤직은 미국의 백인 집단에서 나타난 것이므로, 모두 미국 사회의 하위 문화였다. **정답 ①**
[오답피하기]
② 물질문화와 비물질 문화 간 변동 속도의 차이에 기인한 것이 아니다.
③ 문화 공존을 문화 융합으로 고쳐야 한다.
④ 음악은 비물질 문화이다.
⑤ TV와 라디오를 통한 전파로 인해 나타난 문화 변동은 자발적 문화 접변일 가능성이 크다.

6. 자료 수집 방법의 비교

정답 해설 : ㄴ. 인위적으로 상황을 통제함으로써 변수의 효과를 관찰하기에 용이한 것은 실험법이므로, B는 질문지법이다. 질문지법은 대규모 집단을 대상으로 한 자료 수집에 용이하다.
ㄷ. 소수의 응답자로부터 깊이 있는 정보를 수집하기에 용이한 것은 면접법이므로, A와 B는 각각 실험법과 질문지법 중 하나이다. 실험법과 질문지법 모두 수집된 자료를 통계적으로 처리하기에 용이하여 양적 연구에 사용된다. **정답 ④**
[오답피하기]
ㄱ. 독립 변수와 종속 변수의 관계를 검증하는 연구에 적합한 것은 질문지법과 실험법이므로, C는 면접법이다. 면접법은 자료 수집 과정에서 연구자가 유연성이나 융통성을 발휘하기 용이하다.
ㄷ. 연구 대상자와 언어를 매개로 한 상호 작용이 필수적인 것은 면접법과 질문지법이므로, C는 실험법이다. 실험법으로는 실제성이 높은 생생한 자료를 수집하기 어렵다.

7. 절대적 빈곤과 상대적 빈곤의 이해

정답 해설 : A는 절대적 빈곤, B는 상대적 빈곤이다. ㉠ 상대적 빈곤은 다른 사람들과 비교하여 결정되기 때문에, 기본적인 의식주가 충족된 가구라도 빈곤 가구에 포함될 수 있다. **정답 ②**
[오답피하기]
① 절대적 빈곤이나 상대적 빈곤 모두 객관적 기준을 가지고 있다.

11. 다양한 대중 매체의 비교

정답 해설 : A는 영상 매체, B는 인쇄 매체, C는 뉴미디어이다. ㉠ 정보 생산자의 익명성은 뉴미디어가 영상 매체에 비해 높다. **정답 ④**
[오답피하기]
① 정보 유통의 신속성은 영상 매체가 인쇄 매체보다 높다.
② 정보 전달의 양방향성은 뉴미디어가 인쇄 매체보다 높다.
③ 정보 확산 경로의 다양성은 뉴미디어가 인쇄 매체보다 높다.
⑤ 정보 생산자와 소비자 간 경계의 명확성은 영상 매체가 뉴미디어보다 높다.

12. 교육을 바라보는 관점의 비교

정답 해설 : 갑의 관점은 기능론, 을의 관점은 갈등론이다. ㉠ 교육을 사회가 요구하는 규범 체계의 내면화 과정으로 보는 것은 기능론이다. **정답 ①**
② 상징적 맥락에 대한 이해는 상징적 상호 작용론에서 중시된다.
③ 교육이 계층을 재생산한다고 보는 것은 갈등론이다.
④ 현재의 사회 질서를 유지하기 위한 교육 접근 기회의 평등은 기능론에서 중시된다.
⑤ 학교 교육의 내용에 계층 간 유희자가 존재함을 강조하는 것은 갈등론이다.

13. 일탈 이론의 비교

정답 해설 : (가)는 차별적 교제 이론, (나)는 낙인 이론, (다)는 아노미 이론이다. ㉠ 아노미 이론은 일탈의 원인을 문화적 목표와 제도적 수단 간 괴리에서 찾는다는 점에서, 거시적 관점으로 분류된다. **정답 ③**
[오답피하기]
① 일탈 행동의 원인으로 차별적인 제재에 주목하는 것은 낙인 이론이다.
② 문화적 목표와 제도적 수단 간의 괴리에 주목하는 것은 아노미 이론이다.
③ 최초 일탈보다 일탈 행동의 반복에 초점을 맞추는 것은 낙인 이론이다.
④ 일탈 행동에 대한 사회적 반응을 중시하는 것은 낙인 이론이다.

14. 문화의 속성에 대한 이해

정답 해설 : ㉠에는 문화의 공유성, ㉡에는 문화의 학습성, ㉢에는 문화의 총체성이 부각되어 있다. ㉤ 문화의 총체성이란 문화를 구성하는 요소들이 상호 유기적으로 결합된 하나의 체계를 의미한다. **정답 ⑤**
[오답피하기]
① 문화가 계승되고 발전한다는 것은 문화의 축적성을 보여준다.
② 한 문화 요소의 변화에 따른 다른 것들의 연쇄적 변화는 문화의 총체성을 보여준다.
③ 시간의 흐름에 따른 문화 요소의 생성과 사멸은 문화의 변동성을 보여준다.
④ 특정 상황에서 상대방의 행동 방식을 예측할 수 있는 것은 문화를 공유하기 때문이다.

15. 사회 보장 제도에 대한 분석

정답 해설 : (가)는 사회 서비스, (나)는 사회 보험, (다)는 공공 부조이다. L. 수혜 정도와 무관하게 능력에 따른 비용 부담이 원칙인 제도는 사회 보험이다. 2015년 남자 수혜자의 비율은 55%, 여자 수혜자의 비율은 45%이다.

ㄷ. 2015년 상호 부조의 원리를 둔 제도, 즉 사회 보험의 여자 수혜자는 9,500(명)×40(%)×45(%)이다. 최저 생활 보장을 목적으로 하는 제도, 즉 공공 부조의 남자 수혜자는 9,500(명)×60(%)×30(%)이다. 40(%)×45(%)와 60(%)×30(%)가 18%로 일치하므로, 그 수는 동일하다.

ㄹ. 강제 가입의 원칙인 제도는 사회 보험이다. 2014년 사회 보험의 여자 수혜자는 1680명(=10,000(명)×40(%)×42(%))이고, 2015년 사회 보험의 여자 수혜자는 1710명(=9,500(명)×40(%)×45(%))이다. **정답 ㉔**

[오답피하기]

ㄱ. 2014년에 소득 재분배 효과가 가장 큰 제도, 즉 공공 부조의 수혜자는 60%이다. 비금전적 지원이 원칙인 제도, 즉 사회 서비스의 수혜자는 12%이다. 1.5배를 5배로 고쳐야 한다.

16. 농업 사회, 산업 사회, 정보 사회의 비교

정답 해설 : A는 농업 사회이고, B와 C는 각각 산업 사회와 정보 사회 중 하나이다. L. 산업 사회가 정보 사회보다 면대면 접촉의 비중이 더 높으므로, B는 산업 사회이고 C는 정보 사회이다. 일터와 가정의 분리 정도는 산업 사회, 정보 사회, 농업 사회 순으로 높다.

ㄹ. 정보 사회가 산업 사회보다 조직 내 의사 결정 권한의 분산 정도가 더 높으므로, B는 정보 사회이고 C는 산업 사회이다. 사회적 관계 형성의 공간적 제약 정도는 농업 사회, 산업 사회, 정보 사회 순으로 높다. **정답 ㉔**

[오답피하기]

ㄱ. 정보 사회가 산업 사회보다 전자 상거래 비중이 더 높으므로, B는 정보 사회이고 C는 산업 사회이다. 기술의 발전 속도는 B>C>A로 나타난다.

ㄷ. 산업 사회가 정보 사회보다 소분종 대량 생산 방식이 더 보편적이므로, B는 산업 사회이고 C는 정보 사회이다. 구성원 간 익명성 정도는 C>B>A로 나타난다.

17. 계급 이론과 계층 이론의 비교

정답 해설 : A는 계급론, B는 계층론이다. 계층론은 사회 계층이 연속적으로 서열화 되어 있다고 본다. 계급론은 계층 간 수직 이동이 극히 제한적이라고 본다. 계급론과 계층론 모두 경제적 요인에 의해 계층화가 발생한다고 본다. 계급론은 동일한 계층에 속하는 구성원 간의 연대 의식이 강하다고 본다. 계층론은 한 사람의 지위가 계층화의 여러 차원에 따라 달라질 수 있다고 본다(지위 불일치 현상이 나타날 수 있다고 봄). **정답 ㉔**

18. 사회 명목론과 사회 실재론의 비교

정답 해설 : 집단의 특성보다 개인의 특성에 주목하는 '나'는 사회 명목론의 관점을 갖고 있다. L. 사회 명목론에 따르면, 사회는 단지 개인들의 합에 불과하다.

ㄹ. 사회 명목론에 따르면, 개인의 행동은 사회와 관계없이 자신의 자율적인 의지에 따라 이루어진다. **정답 ㉔**

[오답피하기]

ㄱ. 사회 실재론에 따르면, 사회는 개인의 외부에 실제로 존재한다.

ㄷ. 사회 실재론에 따르면, 개인은 전체 사회와의 관련 속에서만 존재의 의미를 갖는다.

19. 순환론과 진화론에 대한 이해

정답 해설 : (가)는 진화론, (나)는 순환론이다. L. 진화론은 사회가 항상 진보한다고 보지만, 순환론은 사회가 쇠퇴하거나 소멸하기도 한다고 본다.

ㄷ. 진화론은 서구화를 진보로 보며, 진화론자들은 개발도상국이 근대화 과정을 거쳐 선진국으로 발전해 가는 과정을 진화론을 통해 설명한다. **정답 ㉔**

[오답피하기]

ㄱ. 사회 변동을 동일한 과정의 주기적 반복으로 설명하는 것은 순환론이다.

ㄹ. 순환론은 사회 변동 방향을 예측하여 대응하기에 부적합하다는 비판을 받고 있다.

20. 세대 간 계층 이동에 대한 분석

정답 해설 : <자료 1>에서 A는 중층, B는 하층, C는 상층임을 알 수 있고, 그 비율은 각각 50%, 30%, 20%임도 알 수 있다. <자료 2>의 '자녀 세대 계층 대비 부모 세대의 자녀 세대의 계층 불일치 비율'과 '부모 세대 계층 대비 부모 세대와 자녀 세대의 계층 일치 비율', 상층 부모를 둔 중층 자녀 인구는 하층 부모를 둔 상층 자녀 인구의 3배임'을 종합하면, 아래 표와 같은 세대 간 계층 이동결과가 나타난다.

구분	부모 세대 계층(%)			계	
	상	중	하		
자녀 세대 계층(%)	상	12	3	5	20
	중	15	5	30	50
	하	3	12	15	30
계	30	20	50	100	

㉓ 중층 부모를 둔 하층 자녀의 비율은 12%로 중층 부모를 둔 상층 자녀의 비율 3%의 4배이다. **정답 ㉔**

[오답피하기]

㉑ 하층 대비 상층의 비율은 부모 세대가 3/5이고, 자녀 세대가 2/3이다.

㉒ 세대 간 상승 이동한 비율은 38%이고, 세대 간 하강 이동한 비율은 30%이다.

㉔ 부모 세대의 계층 구조는 모래 시계형으로 사회 통합에 불리하다.

㉕ 자녀 세대 계층 대비 세대 간 이동을 경험하지 않은 비율은 상층 60%, 중층 10%, 하층 50%이다. 상승이 가장 높다.

제 4 교시

사회탐구 영역(사회·문화)

성명 수험 번호

1. 밑줄 친 ㉠~㉢과 같은 현상의 일반적인 특징에 대한 질문에 모두 옳게 응답한 학생은?

철새는 계절에 따라 ㉠ 일정한 대형으로 무리 지어 이동한다. ㉡ 자신의 이익만을 좇아 이리저리 옮겨 다니는 사람을 지칭할 때 철새라는 말을 쓰지만, 철새의 이동 방식에는 과학적 원리와 지혜가 숨어 있다. 한 연구 팀이 철새에게 측정 장비를 달아 ㉢ 위치와 속도, 날갯짓 횟수 등을 분석한 결과, V자 대형으로 날 때 ㉡ 앞선 새가 만드는 상승 기류로 인해 에너지 소모를 줄이는 효과가 있었다. 또한 철새들은 가장 힘이 드는 맨 앞자리를 번갈아 가며 비행하여 협력하는 것으로 나타났다.

질문	학생				
	갑	을	병	정	무
㉠과 같은 현상은 존재 법칙을 따르는가?	×	×	○	○	○
㉡과 같은 현상은 경험적 자료를 바탕으로 연구할 수 있는가?	×	○	×	○	○
㉢과 같은 현상은 인간의 가치가 반영되어 나타나는가?	○	○	×	○	○
㉠과 같은 현상은 같은 조건 하에서는 항상 동일한 결과가 발생하는가?	×	○	○	×	○

(○: 예, ×: 아니오)

- ① 갑 ② 을 ③ 병 ④ 정 ⑤ 무

2. 갑, 을이 강조하는 연구 윤리에 대한 옳은 설명을 <보기>에서 고른 것은?

연구자는 연구 목적과 절차, 연구가 미칠 수 있는 영향 등을 연구 대상자에게 공지하고 자료 수집에 대하여 허락을 받아야 합니다.



갑

연구자는 정직한 방법으로 자료를 수집해야 하며, 의도한 결론을 이끌어 내기 위해 자료를 왜곡하여 분석해서는 안 됩니다.



을

<보기>

- ㄱ. 공동 연구 성과를 단독 연구 성과로 발표하는 것은 갑이 강조하는 연구 윤리에 어긋난다.
- ㄴ. 연구 대상자에게 연구 참여에 대한 동의를 받지 않는 것은 갑이 강조하는 연구 윤리에 어긋난다.
- ㄷ. 연구 의뢰자의 이익을 위해 자료를 조작하여 분석하는 것은 을이 강조하는 연구 윤리에 어긋난다.
- ㄹ. 갑은 자료 분석 단계에서, 을은 연구 결과 발표 단계에서 지켜야 할 연구 윤리를 강조하고 있다.

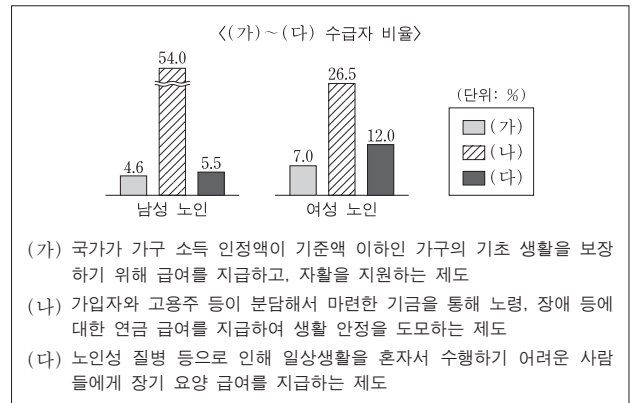
- ① ㄱ, ㄴ ② ㄱ, ㄷ ③ ㄴ, ㄷ ④ ㄴ, ㄹ ⑤ ㄷ, ㄹ

3. 일탈 이론 (가)~(다)에 대한 설명으로 옳은 것은? [3점]

- (가) 공식적으로 일탈자라고 규정되면 성공을 위한 합법적 수단으로부터 배제되고 일탈자라는 자아 개념을 가지게 되어, 미래의 일탈 가능성이 증가하게 된다. 결국 일탈자라고 규정짓는 것은 사회적 지위를 부여하는 것과 같다.
- (나) 경제적 성공을 강조하는 문화가 구성원 모두가 공유하는 사회에서, 제도화된 수단이 부족한 특정 계층은 성공에 어려움을 겪게 된다. 따라서 이들은 불법적인 방법을 통해서라도 성공하려고 시도함으로써 일탈 행동을 하게 된다.
- (다) 하층에 속한 사람들이 일탈 행동을 많이 한다는 주장이 있지만, 하층에서도 일부만 일탈 행동을 한다. 이들이 일탈 행동을 하는 것은 일탈자와의 상호 작용을 통해 일탈적 가치와 태도를 수용하기 때문이다.

- ① (가)는 (다)와 달리 사회의 지배적 가치와 규범을 사회화하지 못함으로써 일탈 행동이 발생한다고 본다.
- ② (나)는 (가)와 달리 일탈 행동의 발생에 있어 타인과의 상호 작용을 통한 학습 과정을 강조한다.
- ③ (다)는 (나)와 달리 일탈 행동을 초래하는 사회 구조의 영향력을 강조한다.
- ④ (가)는 (나), (다)와 달리 일탈이 행동의 속성에 의해서가 아니라 그에 대한 사회적 반응에 의해 규정된다고 본다.
- ⑤ (나)는 (가), (다)와 달리 지배 집단의 기득권 보호를 위한 사회 제도 때문에 일탈 행동이 발생한다고 본다.

4. 자료는 우리나라 성별 노인 인구 중에서 사회 보장 제도 (가)~(다) 각각의 수급자 비율을 나타낸 것이다. 이에 대한 설명으로 옳은 것은? [3점]



- ① (나)는 (다)와 달리 상호 부조 원리가 적용된다.
- ② (다)는 (가)와 달리 사후 처방적 성격을 지닌다.
- ③ (가)~(다) 중 강제 가입 원칙이 적용되는 제도의 경우, 전체 노인 수급자 중에서 성별 비율은 남성이 여성의 2배 이상이다.
- ④ (가)~(다) 중 소득 재분배 효과가 있는 제도의 경우, 남성 노인 인구 중에서 수급자 비율과 여성 노인 인구 중에서 수급자 비율은 모두 10% 미만이다.
- ⑤ (가)~(다) 중 수혜자 비용 부담 원칙이 적용되지 않는 제도의 경우, 여성 노인 인구 중에서 수급자 비율이 남성 노인 인구 중에서 수급자 비율보다 높다.

5. 다음은 자료 수집 방법 A~D를 분류한 것이다. 이에 대한 설명으로 옳은 것은? (단, A~D는 각각 면접법, 실험법, 질문지법, 참여 관찰법 중 하나이다.) [3점]

구분		주로 계량화된 자료를 수집하는 데 활용되는가?	
		예	아니오
(가)	예	A	B
	아니오	C	D

- ① (가)는 '인위적으로 통제된 상황에서 변수의 효과를 관찰하는 방법인가?'가 적절하다.
- ② (가)가 '언어적 상호 작용에 의한 자료 수집이 필수적인가?'라면 A는 질문지법, D는 참여 관찰법이다.
- ③ (가)가 '자료 수집 시 연구 대상자의 응답이 필수 요건인가?'라면 B는 면접법, C는 질문지법이다.
- ④ A가 질문지법이라면 (가)는 '다수를 대상으로 한 자료 수집에 주로 사용되는가?'가 적절하다.
- ⑤ B가 참여 관찰법이라면 (가)는 '연구자가 현상이 실제로 발생한 현지에 가서 연구해야 하는가?'가 적절하다.

6. 밑줄 친 'A 이론'에 대한 옳은 설명을 <보기>에서 고른 것은?

사회 불평등 현상을 설명하는 A이론은 생산 수단의 소유 여부와 더불어 소득이나 부의 크기도 계급을 결정하는 요인으로 본다. 그러나 소득이나 부의 크기는 계급 관계의 산물일 뿐, 계급을 구분하는 요인은 아니다. 또한 A이론에서 사회 불평등을 구성하는 요인으로 보는 지위나 파당도 기본적으로 계급 관계에 의해 규정될 뿐이며, 그 자체로는 독자적인 기원을 가지지 못한다.

<보기>

- ㄱ. 지위 불일치 가능성을 인정한다.
- ㄴ. 다차원적 측면에서 사회 불평등 현상을 파악한다.
- ㄷ. 동일 집단 구성원 간의 강한 연대 의식을 강조한다.
- ㄹ. 사회 불평등 현상을 불연속적으로 구분되어 있는 상태로 본다.

- ① ㄱ, ㄴ ② ㄱ, ㄷ ③ ㄴ, ㄷ ④ ㄴ, ㄹ ⑤ ㄷ, ㄹ

7. 사회·문화 현상을 바라보는 갑~병의 관점에 대한 설명으로 옳은 것은? [3점]

사회자: 노인 소외의 원인에 대하여 말씀해 주십시오.
 갑: 급격한 사회 변동에 따라 가치관과 규범이 변화되고, 세대 간의 관계도 새롭게 정의되었습니다. 사회 변화에 노인들이 적응할 수 있도록 지원하는 정책이 미비하여 노인들이 소외되는 것입니다.
 을: 가족 구성원들이 노인을 의존적인 존재로 여기고, 노인도 이를 수용하면서 스스로 위축될 수밖에 없습니다. 그러다 보니 자녀들과 원활한 의사소통을 하지 못하여 노인들이 소외되는 것입니다.
 병: 현대 사회에서는 경제력을 가진 사람들이 주도권을 갖게 됩니다. 부와 권력의 분배를 중년층이 좌우하면서 노인들의 능력이나 노력과 상관없이 사회적 역할에서 노인들을 배제해 그들이 소외되는 것입니다.

- ① 갑의 관점은 상황에 대한 개인의 주관적 의미 부여를 강조한다.
- ② 을의 관점은 사회가 필연적으로 변화하며 집단 간 갈등이 변화의 동력이라고 본다.
- ③ 병의 관점은 기득권층의 이익을 대변하는 논리로 사용된다는 비판을 받는다.
- ④ 갑의 관점은 병의 관점과 달리 사회 구성 요소의 기능과 역할은 사회적으로 합의된 것이라고 본다.
- ⑤ 을, 병의 관점은 갑의 관점과 달리 사회 문제를 설명하는 데 사회 구조적 요인을 중시한다.

8. 다음 연구에 대한 설명으로 옳은 것은? (단, (가)~(라)는 연구 과정을 순서 없이 나열한 것이다.)

- 연구 주제 설정: 정보 격차 문제를 파악하기 위해 A 지역 고등학교의 인터넷 이용 형태에 부모의 경제 수준 및 부모의 인터넷 이용 형태가 미치는 영향을 탐구하기로 하였다.
- (가) ㉠ 부모의 경제 수준이 높을수록 자녀의 정보 지향적 인터넷 이용 정도가 높아지고, ㉡ 부모의 정보 지향적 인터넷 이용 정도가 높을수록 자녀의 정보 지향적 인터넷 이용 정도가 높아질 것이라고 가설을 설정하였다.
- (나) A 지역에서 선정된 6개 ㉢ 고등학교 학생 1,000명 중 ㉣ 부모도 응답 가능한 300명을 대상으로 구조화된 질문지를 통해 자료를 수집하였다.
- (다) 경제 수준은 ㉤ 월평균 소득으로, 정보 지향적 인터넷 이용 정도는 ㉥ 인터넷 이용 시간 중 정보 검색 시간 비중으로 측정하기로 하였다.
- (라) 부모의 월평균 소득에 따라 자녀의 정보 검색 시간 비중은 통계적으로 유의미한 차이가 나타나지 않았다. 반면 부모의 정보 검색 시간 비중이 높을수록 자녀의 정보 검색 시간 비중은 통계적으로 유의미하게 높아지는 것으로 나타났다.

- ① ㉠은 독립 변수, ㉡은 종속 변수이다.
- ② ㉢은 모집단, ㉣은 표본이다.
- ③ ㉤은 ㉠의, ㉥은 ㉡의 조작적 정의에 해당한다.
- ④ (라)로 보아 가설은 검증되었다.
- ⑤ (다)-(나)-(가)-(라) 순서로 연구가 진행되었다.

9. A~C의 일반적인 특징에 대한 설명으로 옳은 것은? (단, A~C는 각각 전체 문화, 반문화, 반문화의 성격이 없는 하위문화 중 하나이다.)

구분	A	B	C
한 사회 내에서 일부 구성원들만 공유하는 문화인가?	예	예	아니오
한 사회의 지배적인 문화를 거부하거나 저항하는 문화인가?	예	아니오	아니오

- ① A는 B와 달리 기존의 지배적인 문화를 대체하기도 한다.
- ② B는 A와 달리 주류 집단에 의해 일탈로 규정되기도 한다.
- ③ A를 공유하는 구성원은 C의 문화 요소 중 일부를 공유한다.
- ④ A, B는 C와 달리 해당 문화를 향유하는 구성원들 공통의 정체성 형성에 기여한다.
- ⑤ B, C는 A와 달리 사회에 따라 상대적으로 규정된다.

10. 다음 탐구 활동을 적절하게 수행한 모둠을 고른 것은? [3점]

<모둠별 탐구 활동>

가족 제도 및 가족 문제와 관련하여 모둠별로 주어진 가설을 검증하기에 적절한 자료를 제시하십시오.

모둠	가설	자료
A	수도권 지역은 비수도권 지역에 비해 핵가족의 비율이 높을 것이다.	수도권과 비수도권 각각의 1세대 가구 수와 2세대 가구 수 및 3세대 이상 가구 수
B	기혼자의 가사 노동 시간은 연령대가 낮을수록 성별 격차가 작을 것이다.	결혼 여부에 따른 성인의 연령별 주당 평균 가사 노동 시간
C	도시는 농촌에 비해 1인 가구의 비율이 높을 것이다.	도시와 농촌 각각의 가구 구성원 수별 가구 수
D	맞벌이 가정은 외벌이 가정에 비해 부부 간의 대화 시간이 적을 것이다.	기혼자와 그 배우자 각각의 직업 유무에 따른 부부 간 하루 평균 대화 시간

- ① A 모둠, B 모둠 ② A 모둠, C 모둠 ③ B 모둠, C 모둠
- ④ B 모둠, D 모둠 ⑤ C 모둠, D 모둠

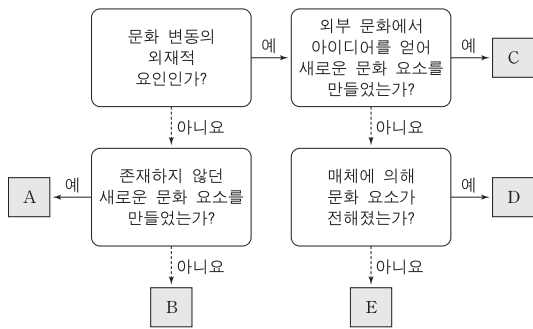
11. (가), (나)에 해당하는 내용으로 옳은 것은? (단, A~C는 각각 인쇄 매체, 영상 매체, 뉴 미디어 중 하나이다.) [3점]

'정보의 생산자와 소비자 간 경계가 모호한가?' 라는 질문을 통해 A와 B를 구분할 수 있다. 하지만 '시청과 정보 제공이 가능한가?' 라는 질문으로는 B와 C를 구분할 수 없다. 표는 대중 매체 A~C를 대중 매체의 특징 (가), (나)를 기준으로 비교한 것이다.

대중 매체의 특징	비교 결과
(가)	A > B
(나)	B > C

- ① (가): 정보 전달의 신속성
- ② (가): 정보 획득 시 사용 가능한 감각의 다양성
- ③ (가): 정보 전달 시 문맹자의 정보 접근 가능성
- ④ (나): 정보의 복제와 재가공의 용이성
- ⑤ (나): 정보 전달자와 수용자 간 구분의 명확성

12. 그림은 문화 변동 요인 A~E를 구분한 것이다. 이에 대한 설명으로 옳은 것은? (단, A~E는 각각 발견, 발명, 간접 전파, 자국 전파, 직접 전파 중 하나이다.)



- ① 물질문화, 비물질문화 모두 A를 통해 만들어질 수 있다.
- ② 특정 종교의 창시는 B의 사례이다.
- ③ 상호 인적 교류가 없는 집단들 간에는 D를 통한 문화 변동이 이루어질 수 없다.
- ④ D와 달리 E는 C의 원인이 될 수 있다.
- ⑤ A, B와 달리 C, D, E는 문화 지체 현상을 초래할 수 있다.

13. 다음은 어느 가족의 주간 일정표이다. 이에 대한 옳은 설명만을 <보기>에서 있는 대로 고른 것은?

우리 가족 주간 일정

갑(교사) 화: 교육청 출장 수: 대학원 수업 참석 금: 지역 ㉠ 시민 단체 대표자 회의 참석 토: 가족 외식	을(회사원) 월: 사내 야구 동호회 경기 참가 수: 노동조합 조합원 총회 참석 토: 가족 외식	병(중학생) 수: 청소년 봉사 단체 정기 모임 참석 금: ㉡ 한글 소풍 참가 토: 가족 외식
--	--	---

<보기>

- ㉠, ㉡은 선택적 의지에 의해 형성되는 이익 사회이다.
- 갑, 을은 병과 달리 자발적 결사체에 소속되어 있다.
- 을, 병은 갑과 달리 비공식 조직에 소속되어 있다.
- 갑~병 모두 공동 사회와 공식 조직에 소속되어 있다.

- ① ㉠, ㉡
- ② ㉠, ㉡
- ③ ㉠, ㉡
- ④ ㉠, ㉡, ㉢
- ⑤ ㉠, ㉡, ㉢

14. 갑, 을의 문화 이해 태도에 대한 설명으로 가장 적절한 것은? [3점]

blog: 〇〇 씨의...
〇〇 씨의 여행기
 남태평양 군도에 사는 A 부족은 마른 과일로 만든 팡이를 사용하여 코코넛 말뚝을 쓰러뜨리는 방식의 놀이를 즐기는데, 이는 불링과 흡사하다. 그렇지만 불링과 달리 이 놀이의 목적은 상대 팀보다 많은 말뚝을 쓰러뜨려 이기는 것이 아니다. 이 놀이는 두 팀이 같은 수의 말뚝을 쓰러뜨릴 때까지 진행된다. 그들이 이런 놀이를 즐기는 것은 타인과 경쟁하는 행위가 나쁜 것이라고 믿고 있기 때문이다.

댓글 달기

↳ 갑: A 부족이 의미 없게 왜 이런 놀이를 하는지 모르겠어. 시간 낭비일 뿐이야. 놀이에서조차 경쟁하지 않으니 사회가 발전하지 못하는 거야. A 부족도 경쟁을 통해 사회를 발전시켜 온 우리나라를 본받아야 해.

↳ 을: A 부족이 경쟁을 나쁜 것이라고 믿는 것이나 우리나라가 경쟁을 중시하는 것 모두 각 사회의 역사와 전통 속에서 선택된 삶의 방식이라고 생각해. 둘 다 그 나름의 의미가 있어.

- ① 갑의 태도는 모든 문화가 동등한 가치를 지닌다고 본다.
- ② 을의 태도는 자문화 정체성을 상실할 우려가 있다는 비판을 받는다.
- ③ 갑의 태도는 을의 태도와 달리 특정 사회의 문화를 기준으로 타 문화를 평가할 수 있다고 본다.
- ④ 을의 태도는 갑의 태도와 달리 국수주의로 변질될 수 있다는 비판을 받는다.
- ⑤ 갑, 을의 태도는 모두 문화의 다양성 보존에 기여한다.

15. 다음 자료를 통해 참 또는 거짓으로 진위 여부를 판단할 수 있는 진술만을 <보기>에서 있는 대로 고른 것은?

<갑국의 지역별, 계층별 학생 1인당 월평균 교육비>
 (단위: 만 원)

구분	연도	2010년	2013년	2016년
전체	전체	24.0	23.9	25.6
	지역			
도시	도시	26.6	27.1	29.0
	농촌	22.1	21.5	23.2
계층	상층	45.3	39.6	41.6
	중층	24.6	23.4	23.4
	하층	9.2	10.0	8.8

* 갑국의 모든 학생을 대상으로 조사하였으며 무응답은 없음.
 ** 지역은 도시와 농촌으로만, 계층은 상층, 중층, 하층으로만 구분함.

<보기>

- ㉠. 2013년과 2016년에 월평균 가구 소득 중에서 학생 1인당 월평균 교육비가 차지하는 비율이 중층에서는 같다.
- ㉡. 2010년부터 2016년까지 농촌 지역에서는 학생 1인당 월평균 교육비가 지속적으로 증가하였다.
- ㉢. 2010년, 2016년 모두에서 계층 수준과 학생 1인당 월평균 교육비는 정(+)의 관계이다.
- ㉣. 제시된 모든 연도에서 농촌 지역 학생이 도시 지역 학생 보다 많다.

- ① ㉠, ㉡
- ② ㉠, ㉢
- ③ ㉡, ㉣
- ④ ㉠, ㉡, ㉢
- ⑤ ㉠, ㉡, ㉣

16. 밑줄 친 ㉠~㉣에 대한 설명으로 옳은 것은? [3점]

유명 연예인인 어머니의 반대에도 불구하고, 배우가 되고 싶었던 갑은 ㉠ 연예인 2세라는 것을 숨기고 ㉡ A인터넷 쇼핑몰에서 모델로 일하며 ㉢ 연기 학원에서 연기와 노래를 배우고 있었다. 갑은 스스로 인지도를 높이기 위해 ㉣ 시청자 평가단의 투표 결과에 따라 ㉤ 가수 데뷔가 결정되는 ㉥ TV 프로그램에 지원하여 치열한 경쟁 과정을 통해 가수로 데뷔하였다. 인기가 높아지자 갑은 가수로 계속 활동해야 할지 가수를 그만두고 원래 계획했던 대로 배우로 전향해야 할지 ㉦ 고민이다.

- ① ㉠, ㉢ 모두 개인의 능력과 노력에 의해 획득한 지위이다.
- ② ㉡은 비공식적 사회화 기관, ㉣은 2차적 사회화 기관이다.
- ③ ㉢은 갑의 외집단이자 준거 집단이다.
- ④ ㉤은 재사회화에 해당한다.
- ⑤ ㉦은 갑의 역할 갈등에 해당한다.

17. 개인과 사회의 관계를 바라보는 관점 (가), (나)에 대한 옳은 설명을 <보기>에서 고른 것은?

[가]에 따르면 결혼, 가족, 종교의 본질은 해당 제도에 대응되는 개인적 욕구인 성적 욕구, 부모의 애정, 종교적 본능 등으로 구성된 것이다. 이 경우 개인의 정신 상태가 유일하게 관찰 가능한 대상이 된다. 그러나 제도란 그 자체로 다양하고 복합적인 역사적 맥락을 가지며 개인의 의식 외부에 실체로서 존재하는 것이다. 실체가 존재하지 않는다면 사회학은 그 자체의 연구 대상을 가질 수가 없기에, [나]을 바탕으로 할 때 사회학이 연구 대상을 가지게 된다.

<보기>

ㄱ. (가)는 사회가 개인들의 속성으로 환원될 수 없다고 본다.
 ㄴ. (가)는 사회가 개인의 자율적인 의지에 의해 형성된다고 본다.
 ㄷ. (나)는 개인이 사회 속에서만 존재 의미를 갖는다고 본다.
 ㄹ. (나)는 개인들이 옳다고 믿기 때문에 사회 규범이 존재한다고 본다.

- ① ㄱ, ㄴ ② ㄱ, ㄷ ③ ㄴ, ㄷ ④ ㄴ, ㄹ ⑤ ㄷ, ㄹ

18. 표는 (가), (나)를 적용하여 A~C의 일반적인 특징을 비교한 것이다. 이에 대한 설명으로 옳은 것은? (단, A~C는 각각 농업 사회, 산업 사회, 정보 사회 중 하나이다.) [3점]

비교 기준 \ 사회	A	B	C
(가)	+++	+	++
(나)	++	+++	+

* +의 개수가 많을수록 높음, 빠름, 강함을 의미함.

- ① (가)가 '가정과 일터의 분리 정도'이면 A는 C보다 관료제 조직의 비중이 높다.
- ② (가)가 '구성원의 비대면 접촉 정도'이면 C는 B보다 확대 가족의 비중이 높다.
- ③ (나)가 '구성원 간의 익명성 정도'이면 A는 B보다 전자 상거래의 비중이 높다.
- ④ (가)가 '사회 변동의 속도'이면, (나)는 '사회의 다원화 정도'가 적절하다.
- ⑤ (나)가 '직업의 동질성 정도'이면, (가)는 '의사 결정의 분권화 정도'가 적절하다.

19. 사회 변동의 방향을 보는 관점 (가), (나)에 대한 설명으로 옳은 것은?

(가) 단순한 생물체가 점차 그 조직의 구조가 분화되고 통합되어 복합적인 생물체로 변화되듯이, 사회 또한 사회를 구성하는 집단이 증가할 뿐만 아니라 집단 간 결합이 양적, 질적으로 강화되는 방향으로 변화될 것이다.
 (나) 한 사회가 일련의 도전에 어떻게 반응하는가에 따라 변동 방향이 좌우된다. 그 반응의 성공 여부에 의해 개별 사회가 성장하고 쇠퇴하는데, 결국 인류 문명에서 이러한 성장과 쇠퇴는 지속적으로 되풀이될 것이다.

- ① (가)는 사회가 주기적으로 동일한 과정을 통해 변동하는 것으로 본다.
- ② (나)는 서구의 제국주의 역사를 정당화하는 수단으로 악용될 수 있다는 비판을 받는다.
- ③ (가)는 (나)와 달리 모든 사회가 일정한 방향으로 발전한다고 본다.
- ④ (나)는 (가)와 달리 선진국과 후진국 간의 불평등한 힘의 관계에 주목한다.
- ⑤ (가), (나) 모두 서구 사회가 밝아 왔던 변동의 과정이 최선의 것은 아니라고 본다.

20. 다음 자료에 나타난 갑국의 세대 간 계층 이동에 대한 옳은 분석을 <보기>에서 고른 것은? (단, 계층은 상층, 중층, 하층으로만 구분하며, A~C는 각각 상층, 중층, 하층 중 하나이다.) [3점]

<세대 간 계층별 구성 비율의 상대적 비>

구분	A	B	C
부모 세대 해당 계층 대비 자녀 세대 해당 계층의 상대적 비	0.5	1	2

<세대 간 계층 이동 현황> (단위: %)

구분	A	B	C
부모 세대 해당 계층 대비 부모와 자녀의 계층 불일치 비율	75	0	50

* 모든 부모의 자녀는 1명이고, 부모 세대의 계층 구조는 다이아몬드형임.
 ** A는 C보다 높은 계층이며, 부모 세대의 계층 구성비에서 A는 B와 C를 합한 것의 1.5배임.

<보기>

ㄱ. 세대 간 상승 이동한 자녀가 세대 간 하강 이동한 자녀의 3배이다.
 ㄴ. 자녀 세대 계층 대비 계층 대물림 비율은 상층이 가장 높고 하층이 가장 낮다.
 ㄷ. 중층으로 세대 간 상승 이동한 자녀와 중층으로 세대 간 하강 이동한 자녀의 수는 같다.
 ㄹ. 세대 간 계층 이동을 한 사람의 수는 중층 부모를 둔 자녀가 하층 부모를 둔 자녀의 3배이다.

- ① ㄱ, ㄴ ② ㄱ, ㄷ ③ ㄴ, ㄷ ④ ㄴ, ㄹ ⑤ ㄷ, ㄹ

* 확인 사항
 ○ 답안지의 해당란에 필요한 내용을 정확히 기입(표기)했는지 확인하십시오.

1. ⑤ 2. ③ 3. ④ 4. ⑤ 5. ② 6. ① 7. ④ 8. ④ 9. ③ 10. ⑤
11. ④ 12. ① 13. ② 14. ③ 15. ⑤ 16. ② 17. ③ 18. ① 19. ③ 20. ④

1. 사회·문화 현상과 자연 현상의 특징 비교

정답 해설 : ㉠과 ㉡은 자연 현상, ㉢과 ㉣은 사회·문화 현상이다. ㉠과 같은 자연 현상은 존재 법칙을 따르고, ㉢과 같은 사회·문화 현상은 자연 현상과 더불어 경험적 자료를 바탕으로 연구할 수 있으며, ㉡과 같은 사회·문화 현상은 인간의 가치가 반영되어 나타나고, ㉣과 같은 자연 현상은 같은 조건 하에서는 항상 동일한 결과가 발생한다. **정답 ⑤**

2. 연구 윤리에 대한 이해

정답 해설 : ㄴ. 같은 연구 대상자에게 연구 목적과 절차, 연구가 미칠 수 있는 영향 등을 알려주고 연구 대상자에게 연구 참여에 대한 동의를 받을 것을 강조하고 있다.

ㄷ. 옳은 정직한 방법으로 자료를 수집하고 수집한 자료를 왜곡하여 분석해서는 안 된다는 것을 강조하고 있다. 따라서 연구 의의와 이익을 위하여 자료를 조작하여 분석하는 것은 옳이 강조하는 연구 윤리에 어긋난다. **정답 ③**

[오답피하기]

ㄱ. 공동 연구 성과를 단독 연구로 발표하는 것은 연구 윤리에 어긋나지만, 연구 대상자에게 연구에 대한 자발적 참여 보장을 강조하는 갑의 연구 윤리에 어긋나는 것은 아니다.

ㄹ. 같은 연구에 들어가기 전에 있어 연구자가 연구 대상자에게 지켜야 할 윤리를, 옳은 자료를 수집하고 분석하는 단계에서 연구자가 지켜야 할 윤리를 강조하고 있다.

3. 일탈 이론의 비교

정답 해설 : 일탈자라는 규정과 이에 따른 일탈자라는 자아 개념의 형성에서 (가)는 낙인 이론임을, 경제적 성공을 강조하는 문화를 가진 사회와 제도화된 수단의 부족에서 (나)는 아노미 이론임을, 일탈자와의 상호 작용을 통한 일탈적 가치와 태도 수용에서 (다)는 차별 교제 이론임을 알 수 있다. ④ 낙인 이론은 일탈에 대한 사회적 규정과 그에 대한 부정적 자아 형성에서 일탈 행동의 원인을 찾는다. 즉, 일탈이 행동의 속성에 의해서가 아니라 그에 대한 사회적 반응에 의해 규정된다고 본다. **정답 ④**

[오답피하기]

① 낙인 이론은 사회의 지배적 가치와 규범이 객관적으로 규정되지 않는다고 보기 때문에, 지배적 가치와 규범을 사회화하지 못해 일탈 행동이 발생한다고 보지 않는다.

② 타인과의 상호 작용을 통한 학습 과정을 강조하는 것은 차별 교제 이론이다.

③ 사회 구조의 영향력을 강조하는 것은 거시적 관점으로 분류되는 아노미 이론이다.

⑤ 지배 집단의 기득권 보호를 위한 사회 제도에 주목하는 것은 갈등론이다.

4. 사회 보장 제도의 수급자에 대한 분석

정답 해설 : (가)는 국민 기초 생활 보장 제도로 공공 부조, (나)와 (다)는 각각 국민 연금 제도와 노인 장기 요양 보험 제도로 사회 보험으로 분류된다. ⑤ 수해자 비용 부담 원칙이 적용되지 않는 제도는 (가)이고, (가)의 경우 남성 노인 인구 중에서 수급자 비율은 4.6%이고 여성 노인 인구 중에서 수급자 비율은 7.0%이다. **정답 ⑤**

[오답피하기]

① (나), (다) 모두 상호 부조의 원리가 적용된다.

② 사후 처벌적 성격이 강한 것은 (가)이다.

③ 강제 가입 원칙이 적용되는 것은 (나), (다)이고 (나)와 (다)는 중복되는 경우도 있기 때문에, 전체 노인 수급자 중에서 남성이 여성의 2배 이상인다고 할 수 없다.

④ (가)-(다) 모두 소득 재분배 효과가 있기 때문에 틀린 진술이다.

5. 자료 수집 방법에 대한 이해

정답 해설 : 주로 계량화된 자료를 수집하는 데 활용되는 것은 질문지법과 실험법이다. A와 C는 각각 질문지법과 실험법 중 하나이고 B와 D는 각각 면접법과 참여 관찰법 중 하나이다.

② 언어적 상호 작용에 의한 자료 수집이 필수적인 것은 면접법과 질문지법이다. A는 질문지법이고 D는 참여 관찰법이다. **정답 ②**

[오답피하기]

① 인위적으로 통제된 상황에서 변수의 효과를 관찰하는 것은 실험법만의 특징으로, 이를 가지고는 면접법과 참여 관찰법을 구분할 수 없다.

③ 자료 수집 시 연구자 대상자의 응답이 필수적인 것은 면접법과 질문지법이다. B는 면접법이고 C는 실험법이다.

④ 다수를 대상으로 한 자료 수집에 주로 사용되는 것은 질문지법만의 특징으로, 이를 가지고는 면접법과 참여 관찰법을 구분할 수 없다.

⑤ 연구자가 현상이 실제로 발생한 한지에 가서 연구해야 하는 것은 참여 관찰법만의 특징으로, 이를 가지고는 실험법과 질문지법을 구분할 수 없다.

6. 계급론과 계층론에 대한 이해

정답 해설 : 지문에 따르면 A 이론은 계급을 결정하는 요인으로 생산 수단의 소유 여부, 소득이나 부의 크기, 지위나 파당 등을 들고 있다. 따라서 A 이론은 계층론이다.

ㄴ. 계층론은 경제적 계급, 정치적 파당, 사회적 지위 등 다차원적 측면에서 사회 불평등 현상을 파악하므로, 지위 불일치 현상이 나타날 수 있다고 본다. **정답 ①**

[오답피하기]

ㄷ. 계급론은 동일 계급 구성원 간의 강한 연대 의식을 강조한다.

ㄹ. 계급론은 계급을 자본가와 노동자로 구분한다는 점에서, 사회 불평등 현상을 불연속적으로 구분되어 있는 상태로 파악한다.

7. 사회·문화 현상을 바라보는 관점에 대한 이해

정답 해설 : 갑은 기능론, 옳은 상징적 상호 작용론, 병은 갈등론의 입장에서 사회·문화 현상을 바라보고 있다. ④ 기능론은 갈등론과 달리 사회를 유기체에 비유하면서 '사회 구성 요소의 기능과 역할은 사회적으로 합의된 것이다.'라고 본다. **정답 ④**

[오답피하기]

① 상황에 대한 개인의 주관적 의미 부여는 상징적 상호 작용론에서 중시된다.

② 사회의 필연적 변화, 변화의 동력으로서의 집단 간 갈등은 갈등론에서 중시된다.

③ 기득권층의 이익을 대변하는 논리로 사용된다는 비판을 받는 것은 기능론이다.

⑤ 기능론과 갈등론은 거시적 관점으로 분류되며, 거시적 관점은 사회 문제를 설명하는 데 사회 구조적 요인을 중시한다.

8. 양적 연구의 분석

정답 해설 : ④ 가설의 검증이란 설정된 가설이 참인지, 거짓인지를 알아내는 것을 말한다. (라)에 따르면 연구자가 설정한 첫 번째 가설은 거짓으로, 두 번째 가설은 참으로 밝혀졌으므로, 가설은 검증되었다. **정답 ④**

[오답피하기]

① ㉠, ㉡, ㉢ 모두 독립 변수이다.

② ㉣은 표본이지만 ㉤은 모집단이 아니다. 모집단은 A 지역 고등학생 전체이다.

③ 경제 수준은 월평균 소득으로 측정할 수 있으므로 ㉤은 ㉠의 조작적 정의이다. 그러나 부모의 정보 지향적 인터넷 이용 정도는 인터넷 이용 시간 중 정보 검색 시간 비중으로 측정할 수 있으므로, ㉤은 ㉠의 조작적 정의가 아니다.

⑤ (가)-(다)-(나)-(라) 순서로 연구가 진행되었다.

9. 전체 문화, 하위문화, 반문화의 이해

정답 해설 : A는 반문화, B는 반문화 성격이 없는 하위문화, C는 전체 문화이다. ③ 한글을 사용하는 우리나라의 오토바이 폭주족에서 알 수 있듯이, 반문화를 공유하는 구성원이 전체 문화의 모든 문화 요소를 거부하는 것은 아니다. **정답 ③**

[오답피하기]

① 반문화를 포함한 모든 하위문화는 기존의 지배적인 문화를 대체하기도 한다.

② 반문화는 주류 집단에 의해 일탈로 규정되는 것이 일반적이다.

④ 반문화, 반문화 성격이 없는 하위문화, 전체 문화 모두 해당 문화를 향유하는 구성원들 공통의 정체성 형성에 기여한다.

⑤ 동일한 문화 현상에 대해 사회에 따라 반문화로 규정되기도 하고 그렇지 않기도 하듯이, 반문화도 사회에 따라 상대적으로 규정된다.

10. 가족 제도 및 가족 문제와 관련한 적절한 탐구 자료의 수집

해설 : C 모뎀이 제시한 도시와 농촌 각각의 가구 구성원 수별 가구 수를 조사하면,

도시와 농촌 각각의 전체 가구 수와 1인 가구 수를 알 수 있고 이를 근거로 도시와 농촌의 1인 가구의 비율을 각각 파악할 수 있다. C 모뎀의 탐구 활동은 적절하다. D 모뎀의 경우 기준자와 그 배우자 각각의 직업 유무를 조사하면 맞벌이 가정과 외벌이 가정을 알 수 있고, 이들 가정의 부부 간 하루 평균 대화 시간을 조사하면 가설을 검증할 수 있다. 따라서 D 모뎀의 탐구 활동은 적절하다. **정답 ⑤**

[오답피하기]

A 모뎀이 제시한 2세대 가구는 확대 가족과 핵가족을 포함하고 있으므로, 이를 가지고는 어느 지역의 핵가족 비율이 높은지를 파악할 수 없다.

B 모뎀이 수집한 자료로는 성별 가사 노동 시간을 알 수 없으므로, 성별 격차를 파악할 수 없다.

11. 인쇄 매체, 영상 매체, 뉴 미디어의 비교

정답 해설 : '정보의 생산자와 소비자 간 경제적 교환인가?'라는 질문을 통해 A와 B를 구분할 수 있으므로, A와 B 중 하나는 뉴 미디어이다. '시청각 정보 제공이 가능한가?'라는 질문을 통해 B와 C를 구분할 수 없으므로, B와 C는 각각 영상 매체와 뉴 미디어 중 하나이다. 따라서 A는 인쇄 매체, B는 뉴 미디어, C는 영상 매체이다. ④ 정보 복제와 재가공의 용이성은 뉴 미디어의 장점이므로, 옳은 내용이다. **정답 ④**

[오답피하기]

① 뉴 미디어가 인쇄 매체보다 정보를 신속하게 전달할 수 있다.

② 뉴 미디어의 정보 획득을 위해서는 시각이나 청각을 사용해야 하지만, 인쇄 매체의 경우 청각만 사용된다. 정보 획득 시 사용 가능한 감각의 다양성은 뉴 미디어가 크다.

③ 인쇄 매체의 경우 문맹자의 정보 접근 가능성이 사실상 불가능하다.

⑤ 뉴 미디어는 영상 매체와 달리 정보 전달자와 수용자 간 구분이 명확하지 않다.

12. 문화 변동 요인에 대한 이해

정답 해설 : A는 발명, B는 발견, C는 자극 전파, D는 간접 전파, E는 직접 전파이다. ① 물질문화, 비물질문화 모두 발명을 통해 만들어질 수 있다. **정답 ①**

[오답피하기]

② 특정 종교의 창시는 발명의 사례이다.

③ 상호 인적 교류가 없는 집단들 간에도 대중 매체를 통한 간접 전파가 이루어져 문화는 변동할 수 있다.

④ 직접 전파 또는 간접 전파된 문화 요소가 발명을 자극할 수 있다.

⑤ 모든 문화 변동의 요인은 문화 지체 현상을 초래할 수 있다.

13. 다양한 사회 집단에 대한 이해

정답 해설 : ㄱ. 시민 단체와 학급은 특정 목적을 위해 만들어진 이익 사회이다. ㄹ. 갑·병 모두 한 가족의 구성원이므로 공동 사회에 속해 있다. 그리고 갑이 속한

학교와 대학원 및 시민 단체, 읍이 속한 회사와 노동조합, 병이 속한 학교는 공식 조직이다. 정답 ㉔

[오답피하기]

ㄴ. 같이 속한 시민 단체, 읍이 속한 사내 야구 동호회와 노동조합, 병이 속한 청소년 봉사 단체는 자발적 결사체이다. 즉, 갑·병 모두 자발적 결사체에 소속되어 있다.
 ㄷ. 읍이 속한 사내 야구 동호회만이 비공식 조직이다.

14. 문화 이해 태도에 대한 이해

정답 해설 : 같은 자본화 중심주의, 읍은 문화 상대주의 태도를 보이고 있다.

㉓ 자본화 중심주의는 문화 상대주의와 달리 자신이 속한 특정 사회의 문화를 기준으로 다른 문화를 평가할 수 있다고 본다. 정답 ㉔

[오답피하기]

- ㉑ 자본화 중심주의는 자신이 속한 사회의 문화가 우수하다고 생각한다.
- ㉒ 자본화 정체성 상실을 초래할 수 있는 것은 문화 상대주의이다.
- ㉔ 국수주의로 변질될 수 있다는 비판을 받는 것은 자본화 중심주의이다.
- ㉕ 자본화 중심주의와 달리 문화 상대주의는 문화의 다양성 보존에 기여한다.

15. 지역별, 계층별 학생 1인당 월평균 교육비 분석

정답 해설 : ㄴ. 농촌 지역 학생 1인당 월평균 교육비는 2010년에 비해 2013년이 작으므로, '2010년부터 2016년까지 농촌 지역 학생 1인당 월평균 교육비가 지속적으로 증가하였다.'는 것은 틀린 진술이다. 2011년과 2012년의 자료가 주어지지 않았기 때문에 '알 수 없다'라고 생각할 수 있는데, 농촌 지역 학생 1인당 월평균 교육비가 2010년에 비해 2013년이 작기 때문에, 반드시 감소하는 해가 나오게 된다.

ㄷ. 2010년과 2016년 모두에서 계층이 상승할수록 학생 1인당 월평균 교육비가 많아지는 것으로 보아, '2010년과 2016년 모두에서 계층 수준과 학생 1인당 월평균 교육비는 정(+)의 관계이다.'는 것은 옳은 진술이다.

ㄹ. 제시된 모든 연도에서 학생 1인당 월평균 교육비의 전체 평균값이 농촌 지역 학생 1인당 월평균 교육비에 가까운 것으로 보아, '제시된 모든 연도에서 농촌 지역 학생이 도시 지역 학생보다 많다.'는 것은 옳은 진술이다. 정답 ㉕

[오답피하기]

ㄱ. 2013년과 2016년에 학생 1인당 월평균 교육비는 중층에서 같다. 그런데 2013년과 2016년의 중층의 월평균 가구 소득이 주어지지 않아, '2013년과 2016년에 월평균 가구 소득 중에서 학생 1인당 월평균 교육비가 차지하는 비율이 중층에서는 같다.'라는 것이 참인지 거짓인지 판단할 수 없다.

16. 사회화 관련 개념에 대한 이해

정답 해설 : ㉒ A 인터넷 쇼핑물은 사회화를 부수적으로 수행하는 비공식적 사회화

기관이고, 연기 학원은 전문적인 지식과 기능의 사회화를 담당하는 2차적 사회화 기관이다. 정답 ㉔

[오답피하기]

- ㉑ 가수는 성취 지위이지만 연예인 2세는 귀족 지위이다.
- ㉒ 시청자 평가단은 같이 소속되어 있지 않기 때문에 외집단이 될 수 있지만, 준거 집단인지는 주어진 자료로는 판단할 수 없다.
- ㉔ TV 프로그램에 지원하는 것을 사회화로 볼 수 없다.
- ㉕ 2개의 상충된 역할로 인한 고민이 아니기 때문에 역할 갈등이 아니다.

17. 사회 명목론과 사회 실재론의 비교

정답 해설 : 지문의 '개인의 정신 상태가 유일하게 관찰 가능한 대상이 된다.'에서 (가)는 사회 명목론임을 알 수 있다. 그리고 '제도란 ... 개인의 의식 외부에 실제로 존재하는 것이다.'에서 (나)가 사회 실재론임을 알 수 있다.

ㄴ. 사회 명목론에 따르면 개인은 사회에 구속되지 않고 자율적으로 행동하며, 이러한 자율적인 의지에 의해 형성된 사회는 개인들의 집합체에 붙여진 이름에 불과하다.

ㄷ. 사회 실재론에 따르면 개인은 사회를 구성하는 요소에 불과하며, 개인은 사회 속에서만 존재 의미를 갖는다. 정답 ㉔

[오답피하기]

- ㄱ. 사회 실재론에 따르면 사회는 개인들의 합 이상으로, 개인들의 속성으로 환원될 수 없는 고유한 성격을 지닌다.
- ㄹ. 개인들의 울타고 믿기 때문에 사회 규범이 존재한다는 것은 개인의 자율성과 능동성을 강조하는 것으로, 사회 명목론의 입장에 부합한다.

18. 농업 사회, 산업 사회, 정보 사회의 비교

정답 해설 : ㉑ (가)가 '가정과 일터의 분리 정도'이면 A는 산업 사회, C는 정보 사회이다. 산업 사회는 정보 사회보다 관료제의 비중이 높다. 정답 ㉑

[오답피하기]

㉒ (가)가 '구성원의 비대면 접촉 정도'이면 B는 농업 사회, C는 산업 사회이다. 농업 사회는 산업 사회보다 확대 가족의 비중이 높다.

㉓ (나)가 '구성원 간의 익명성 정도'이면 A는 산업 사회, B는 정보 사회이다. 정보 사회가 산업 사회보다 전자 상거래 비중이 높다.

㉔ (가)가 '사회 변동의 속도'이면 A는 정보 사회, B는 농업 사회, C는 산업 사회이다. '사회의 다원화 정도'는 정보 사회, 산업 사회, 농업 사회 순으로 높으므로, (나)는 '사회의 다원화 정도'가 적절하지 않다.

㉕ (나)가 '직업의 동질성 정도'이면, A는 산업 사회, B는 농업 사회, C는 정보 사회이다. '의사 결정의 분권화 정도'는 정보 사회, 산업 사회, 농업 사회 순으로 높으므로, (가)는 '의사 결정의 분권화 정도'가 적절하지 않다.

19. 진화론과 순환론의 비교

정답 해설 : (가)는 진화론, (나)는 순환론이다.

㉓ 진화론은 순환론과 달리 단순에서 복잡, 미분화에서 분화 등과 같이 모든 사회가 일정한 방향성을 갖고 발전한다고 본다. 정답 ㉔

[오답피하기]

- ㉑ 사회가 주기적으로 동일한 과정을 통해 변동한다고 보는 것은 순환론이다.
- ㉒ 서구의 제국주의 역사를 정당화하는 수단으로 악용될 수 있는 것은 진화론이다.
- ㉔ 선진국과 후진국 간의 불평등한 힘의 관계에 주목하는 것은 종속 이론이다.
- ㉕ 진화론은 서구 사회가 밟아 왔던 변동의 과정이 최선의 것이라고 본다.

20. 세대 간 계층 이동에 대한 분석

정답 해설 : 부모 세대의 계층 구조는 다이아몬드 형이고, A는 C보다 높은 계층이며 B와 C를 합한 것의 1.5배이다. 이를 통해 A는 중층, B는 상층, C가 하층이고, 중층의 비율은 60%이며, 상층과 하층을 합한 것은 40%임을 알 수 있다. '세대 간 계층별 구성 비율의 상대적 비'에서 자녀 세대의 경우 중층은 30%, 상층은 부모 세대 상층과 그 비율이 같고 하층은 부모 세대 하층 비율의 2배임을 알 수 있다. 부모 세대 상층과 하층의 비율을 각각 b와 c라고 하면, 'b+c=40, b+2c=70'이 성립한다. 이를 통해 b와 c의 값을 구하면 b는 10이고 c는 30이다. 따라서 부모 세대 계층 구성비는 '상층:중층:하층=10:60:30'이고 자녀 세대 계층 구성비는 '상층:중층:하층=10:30:60'이다. 각 세대 계층 구성비와 '부모 세대 해당 계층 대비 부모와 자녀의 계층 불일치 비율'을 종합하면, 아래 표와 같은 각국의 세대 간 계층 이동 현황을 구할 수 있다. 단위 : %

구분		부모 세대 계층			계
		상	중	하	
자녀 세대 계층	상	10	0	0	10
	중	0	15	15	30
	하	0	45	15	60
계		10	60	30	100

ㄴ. 자녀 세대 계층 대비 계층 대물림 비율은 상층 10/10, 중층 15/30, 하층 15/60으로, 상층이 가장 높고 하층이 가장 낮다.

ㄹ. 중층 부모를 둔 자녀는 45%, 하층 부모를 둔 자녀는 15%가 세대 간 계층 이동을 하였다. 이를 통해 세대 간 계층 이동을 한 사람의 수는 중층 부모를 둔 자녀가 하층 부모를 둔 자녀의 3배임을 알 수 있다. 정답 ㉔

[오답피하기]

ㄱ. 세대 간 하강 이동한 자녀의 비율은 45%, 세대 간 상승 이동한 자녀의 비율은 15%이다. 세대 간 하강 이동한 자녀가 세대 간 상승 이동한 자녀의 3배이다.

ㄷ. 중층으로 세대 간 상승 이동한 자녀와 하강 이동한 자녀의 비율은 각각 15%, 0%이다. 중층으로 세대 간 상승 이동한 자녀와 하강 이동한 자녀의 수는 같지 않다.

제 4 교시

사회탐구 영역(사회·문화)

성명 수험 번호

1. 밑줄 친 ㉠, ㉡과 같은 현상의 일반적 특징을 구분하기 위해 A, B에 들어갈 수 있는 질문으로 옳은 것은?

㉠갑기에 걸렸을 때 감기약을 먹으면 7일 만에 낫고, 그렇지 않으면 일주일 만에 낫는다는 말이 있다. 이는 우리 몸에 ㉡병을 치유할 수 있는 자생력이 내재되어 있음을 의미하는 말이다. 사회에도 우리 몸과 같이 비정상적인 상태를 바로잡아 정상적인 상태로 회복시켜 주는 장치가 내재되어 있다.

질문	답변	예	아니오
A		㉠	㉡
B		㉡	㉠

- ① A: 당위 법칙이 적용되는가?
- ② A: 존재 법칙이 적용되는가?
- ③ A: 동일 조건하에서 동일 현상이 발생하는가?
- ④ B: 가치 판단이 가능한가?
- ⑤ B: 확률의 원리가 적용되는가?

2. (가), (나)에 나타난 사회·문화 현상을 바라보는 관점에 대한 설명으로 옳은 것은?

(가) 사람들은 흔히 붉은색에 '열정' 혹은 '위험'의 의미를 부여한다. 영화제 레드카펫의 붉은색을 보면서 사람들은 화려한 축제의 열정적 분위기를 떠올리지 붉은색 카펫이 깔려 있다고 이것을 위험한 길이라 생각하지 않는다. 반면 신호등의 붉은색을 보면서 사람들은 이것을 위험에 대한 경고로 이해하지 열정의 색으로 생각하지 않는다.
(나) 신호등의 붉은색은 '위험하니 멈추라'는 의미의 사회적 약속이다. 이렇게 운전자와 보행자가 모두 신호등 각각의 색깔이 상징하는 규칙 체계를 준수함으로써 사고 없이 안전하게 거리를 다닐 수 있다. 물론 신호를 위반해 위험을 초래하는 사람도 있지만 이런 일은 일시적으로 벌어지는 비정상적 상황일 뿐이다.

- ① (가)의 관점은 사회 각 부분 간의 균형과 통합을 강조한다.
- ② (나)의 관점은 사회가 본질적으로 변동을 지향한다고 본다.
- ③ (가)의 관점은 (나)의 관점과 달리 사회 구성원의 상황 정의를 중시한다.
- ④ (나)의 관점은 (가)의 관점과 달리 사회 구성원의 능동성을 중시한다.
- ⑤ (가), (나)의 관점은 모두 사회의 각 부분이 상호 유기적 관계를 맺고 있다고 본다.

3. 밑줄 친 ㉠~㉣에 대한 설명으로 옳은 것은? [3점]

㉠아이돌 그룹의 멤버가 되기를 꿈꾸어 왔던 같은 신인 아이돌 그룹 ㉡☆☆☆☆의 팬클럽을 결성하여 회장으로 활동하였다. 학교 친구들과 ㉢댄스 모임을 만들어 꾸준히 연습하던 같은 방송사의 음악 경연 프로그램에 참가하였지만 ㉣에선 탈락의 아픔을 맛보았다. 이에 좌절하지 않고 더욱 분발한 같은 마침내 ㉤스스 기획사에서 개최한 ㉥공개 오디션에 합격하였고, 솔로 가수로 데뷔하여 큰 인기를 얻었다. 최근 같은 무의탁 노인을 대상으로 봉사하는 ㉦○○ 단체의 홍보 대사로 위촉되어 공연을 하는 등 재능 기부로 나눔을 실천하는 데 앞장서고 있다.

- ① ㉠은 감의 준거 집단이자 내집단이다.
- ② ㉡은 자발적 결사체이자 이익 사회이다.
- ③ ㉢은 전인격적 인간관계를 바탕으로 한다.
- ④ ㉣과 ㉤은 모두 2차 집단이자 공식 조직이다.
- ⑤ ㉥과 ㉦은 각각 감의 역할에 대한 제재와 보상이다.

4. 다음 연구에 대한 설명으로 옳은 것은? (단, (가)~(마)는 연구 과정을 순서 없이 나열한 것이다.) [3점]

• 연구 주제 설정: ㉠청소년이 스마트폰 게임 중독에 빠지는 원인으로 가족 환경에 주목하고 그 관련성을 파악하기로 하였다.
(가) 스마트폰 게임 중독은 게임 빈도와 시간으로, 부모와 자녀의 유대 정도는 부모-자녀 간 말다툼 빈도 및 부모와의 동일시 정도를 측정하기로 하였다. 연구 대상자는 300명으로, ㉡○○ 지역 5개 고등학교 1학년 남녀 학생 중에서 무작위로 선정되었다.
(나) 스마트폰 게임 빈도 및 시간은 부모-자녀 간 말다툼 빈도와는 정(+)의 관계, 부모와의 동일시 정도와는 부(-)의 관계에 있음을 확인하였다.
(다) ㉢부모와 자녀 간 유대가 약할수록 자녀의 스마트폰 게임 중독 정도가 높을 것으로 추정하였다.
(라) 2017년 8월, 연구 대상자와의 대면 접촉을 통해 구조화된 질문지로 자료를 수집하였다.
(마) ㉣게임 중독 치료 경험이 있는 청소년들을 심층 면접한 선행 연구 자료를 검토하였다. ㉤이 선행 연구 자료에서 가족의 특성, 가족 내 갈등 경험 및 가족 구성원 간 친밀성 정도와 스마트폰 게임 중독 사이에 높은 연관성이 있음을 확인하였다.
• 결론 도출: ㉥이 연구를 통해 부모와의 유대가 약한 청소년일수록 스마트폰 게임 중독에 빠질 가능성이 높아진다는 사실을 확인하였다.

- ① ㉠은 모집단, ㉡은 표본 집단이다.
- ② ㉢을 측정하기 위한 조작적 정의는 (마)에서 이루어졌다.
- ③ ㉣과 같은 자료 수집 방법은 연구 대상자와 연구자 간 친밀성이 중시된다.
- ④ ㉤과 같은 연구 방법은 ㉥과 같은 연구 방법에 비해 한정된 수의 변인에 집중하여 가설을 검증하기 용이하다.
- ⑤ 이 연구 과정은 (가)-(다)-(마)-(라)-(나) 순서로 진행되는 것이 적절하다.

5. 다음 글에서 공통적으로 부각되는 문화의 속성에 대한 옳은 진술을 <보기>에서 고른 것은?

○ 미국 남서부에 거주하는 주니 족은 절제의 미덕을 중시한다. 이들은 남에게 해를 끼치지 않기 위해 어릴 때부터 집단의 행동 규범을 따라야 하고 개인적인 권위나 카리스마를 내세울 수 없다. 아이들은 일상생활 속에서 원한, 억눌림, 야심, 야망 등이 없이 자라난다. 어른이 되어도 그들은 권력을 쥐고 무언가 해 보겠다는 식의 권력 의지가 없다.
○ 베네수엘라와 브라질의 국경 부근에 사는 야노마모 족에게 근본적이고 중요한 관심사는 "누가 진짜 인간인가?"라는 것이다. 그들은 스스로를 '진짜로 문명화된' 유일한 존재라고 생각하며, 외부인들을 '야만적' 존재로 간주한다. 선조들로부터 구전되어 오는 그들의 기원 신화에 따르면, 최초로 창조된 사람은 야노마모 족이며 그 외의 다른 사람들은 모두 열등한 존재이다.

<보기>
ㄱ. 문화는 타고나는 것이 아니라 습득되는 것이다.
ㄴ. 문화는 정적인 상태로 머물지 않고 발전하거나 퇴보한다.
ㄷ. 문화는 사회 구성원 간 원활한 상호 작용의 토대가 된다.
ㄹ. 문화는 새로운 문화 요소가 추가되어 점점 더 풍부해진다.

- ① ㄱ, ㄴ ② ㄱ, ㄷ ③ ㄴ, ㄷ ④ ㄴ, ㄹ ⑤ ㄷ, ㄹ

6. (가), (나)에 나타난 사회 변동의 방향을 바라보는 관점에 대한 설명으로 옳은 것은? [3점]

(가) 인류 문명은 감각적 문화, 관념적 문화, 이상주의적 문화의 세 가지 문화 체계가 변갈아 출현한다. 감각적 문화는 물질주의와 향락주의가 강조되는데, 로마 제국이나 오늘날의 서구 문명이 그 예이다. 관념적 문화는 정신적이고 비물질적인 존재를 지향하는 유형인데, 기독교가 지배하던 중세 유럽 문명이 그 사례이다. 이상주의적 문화는 이들 두 가지 문화가 한데 모여 균형을 유지하면서 공존하는 유형으로, 르네상스 시기의 유럽 문명이 이에 해당한다.

(나) 인류 문명은 신학적, 형이상학적, 실증적 단계를 거쳐 발전하며 각 단계마다 상이한 시대정신을 갖는다. 신학적 단계에서는 초자연적 힘이나 초월적 존재에 의존하여 지적 기준과 사회 구조가 형성된다. 형이상학적 단계에서는 이성에 기초한 추상적이고 논리적인 사고가 지배한다. 실증적 단계에서는 경험적 관찰과 합리성을 토대로 과학이 발전하고 산업화가 진행된다. 모든 문명은 완전성을 지향하는 시대정신을 향해 동일한 변동 과정을 밟는다.

- ① (가)의 관점은 사회의 안정과 조화를 유지하기 위해 사회 각 부분들이 조정되는 과정을 사회 변동으로 본다.
- ② (나)의 관점은 사회 변동이 항상 발전을 의미하지는 않는다고 본다.
- ③ (나)의 관점은 (가)의 관점과 달리 서구 사회가 진보된 사회임을 전제한다.
- ④ (가)의 관점은 급격한 사회 변동을, (나)의 관점은 점진적 사회 변동을 설명하기에 용이하다.
- ⑤ (가), (나)의 관점은 모두 사회가 이전보다 복잡하고 분화되는 양상으로 변동한다고 본다.

7. 일탈 행동을 바라보는 (가)~(다)의 이론적 관점에 대한 설명으로 옳은 것은? [3점]

사회 계층과 범죄율 간에 부(-)의 관계가 나타난다는 주장에 대해 다음과 같은 견해들이 제시되고 있다.

(가) 부를 획득하기 위한 합법적 수단은 계층에 따라 차등 분포되어 있다. 하위 계층은 상위 계층에 비해 문화적 목표와 합법적 수단 간 불일치로 인한 긴장의 정도가 더 커서 일탈 행동을 할 가능성이 높다.

(나) 일탈자로 규정되는 과정에서 규범 위반 여부보다 더 중요한 변인은 개인의 사회적 위치에 따른 차별적 반응이다. 즉, 하위 계층에 보다 엄격한 규범이 적용되고, 이들이 일탈자로서의 정체성을 형성하면서 일탈 경력이 강화된다.

(다) 일탈 행동이 하위 계층의 부적응에서 기인하거나 사회의 차별적 반응의 결과라는 주장에는 문제가 있다. 일탈 행동은 반사회적 행동 성향을 지닌 타인들과 지속적으로 대면 접촉한 결과이다. 일탈에 동조하는 가치, 태도, 행위에 노출된 결과, 일탈을 위한 동기 부여와 기술 습득이 이루어진다.

- ① (가)의 관점은 불평등한 사회 구조와 계급 간 갈등을 일탈 행동의 근본 원인이라고 본다.
- ② (나)의 관점은 일탈 행동이 비행 집단과의 교류로 인한 잘못된 사회화에서 비롯된 것이라고 본다.
- ③ (다)의 관점은 사회의 지배적인 규범이 약화되거나 해체될 때 일탈 행동이 증가한다고 본다.
- ④ (나)의 관점은 (가)의 관점과 달리 일탈 행동의 원인을 거시적 관점에서 바라본다.
- ⑤ (다)의 관점은 (가)의 관점과 달리 일탈 행동을 타인과의 상호 작용의 산물로 본다.

8. 다음 글에 나타난 개인과 사회의 관계를 보는 관점과 부합하는 진술을 <보기>에서 고른 것은?

인간은 결코 혼자서는 행복하고 안정한 삶을 누릴 수 없는 존재이기에 집단의 일원으로 살아간다. 그런데 개인은 집단에 소속된 순간부터 자신의 행복과 안정보다 집단의 존속과 유지를 위해 살아야 한다는 압력을 받게 된다. 각 개인의 자유 의지는 집단 규범이 허용한 범위 안에서만 발현된다. 자유 의지 발현에 대한 집단 규범의 허용 범위가 바뀌는 경우는 집단이 불안정한 상태로 접어들거나 집단 내 구조적 모순이 발생할 때이다.

— < 보기 —

ㄱ. 개인의 의식과 행위는 사회에 의해 규정된다.
 ㄴ. 사회의 특성은 개인적 행동이 반영된 결과이다.
 ㄷ. 사회의 구속력이 개인의 자유 의지보다 우위에 있다.
 ㄹ. 집단 행동은 개인이 갖고 있는 자유 의지의 총합으로 표출된다.


- ① ㄱ, ㄴ ② ㄱ, ㄷ ③ ㄴ, ㄷ ④ ㄴ, ㄹ ⑤ ㄷ, ㄹ


9. 밑줄 친 ㉠~㉣에 대한 설명으로 옳은 것은?


많은 사람들이 햄버거는 미국에서 시작되었다고 생각한다. 하지만 일설에 따르면, 햄버거는 아시아의 기마 민족인 ㉠타타르 족으로부터 유래되어 14세기경 오늘날의 독일 지역을 거쳐, 이후 ㉡미국으로 건너가 대중화된 것이라고 한다. 타타르 족은 ㉢말안장 밑에 고기 조각을 넣고 말을 달리면 말안장의 충격으로 고기가 부드럽게 다져진다는 사실을 알게 되었다. 그들은 그렇게 해서 얻은 고기에 각종 양념을 쳐서 먹곤 했다. 이후 미국에서 ㉣빵 사이에 다진 고기를 넣는 요리법이 더해지면서 ㉡타타르 족의 음식과는 다른 형태를 띤 지금의 햄버거가 탄생하여 여러 나라에 보급되었다. 우리나라에는 해방 후 들어온 ㉢미국에 의해 햄버거가 전해졌다. 이후 햄버거를 즐겨 먹는 한국인이 늘어나면서 빵 대신 밥을 이용한 ㉣라이스 버거와 같은 새로운 메뉴가 개발되기도 하였다.

- ① ㉠은 직접 전파, ㉢은 간접 전파의 사례이다.
- ② ㉡은 강제적 문화 접변의 사례이다.
- ③ ㉢은 ㉡과 달리 자극 전파의 사례이다.
- ④ ㉣은 문화 동화의 사례이다.
- ⑤ ㉢은 문화 융합의 사례이다.

10. 갑~병의 문화 이해 태도에 대한 옳은 설명을 <보기>에서 고른 것은? [3점]

갑  외국에 여행을 갔을 때 그 나라 사람들이 음식을 손으로 집어 먹는 모습을 보고 깜짝 놀랐어. 우리처럼 도구를 사용하여 음식을 먹는 것이 더 문명화된 모습이 아닐까?

을  예전에 한국에 처음 방문했을 때 여러 사람이 둘러앉아 자기 입에 넣었던 손가락으로 찌개를 함께 떠먹는 모습을 보고 무척 당혹스러웠어. 음식은 당연히 각자 개인 그릇에 덜어 먹어야 하는 것 아니야?

병  식사 자리에서 대화를 즐기는 나라는 있는 반면, 조용히 식사에만 집중하는 나라도 있잖아. 이렇듯 식사 문화는 나라마다 고유한 특성을 가지고 있어, 이방인이 자기 시선으로 다른 나라의 식사 문화에 대해 우열을 따지는 것은 옳지 않아.

— < 보기 —

ㄱ. 갑의 태도는 자국의 문화 정체성을 약화시킬 우려가 있다.
 ㄴ. 을의 태도는 문화를 평가가 아닌 이해의 대상으로 본다.
 ㄷ. 병의 태도는 문화를 사회적 상황과 연결시켜 파악한다.
 ㄹ. 갑과 을의 태도는 병의 태도와 달리 문화의 다양성을 저해할 수 있다.

- ① ㄱ, ㄴ ② ㄱ, ㄷ ③ ㄴ, ㄷ ④ ㄴ, ㄹ ⑤ ㄷ, ㄹ

11. 우리나라 사회 보장 제도 A~C의 일반적 특징에 대한 설명으로 옳은 것은? (단, A~C는 각각 공공 부조, 사회 보험, 사회 서비스 중 하나이다.) [3점]

68세인 갑, 을, 병은 각각 자신에게 맞는 사회 보장 제도에 대한 정보를 관련 기관 홈페이지에서 찾아보았다.

- 갑이 찾은 제도는 A의 하나로서, 일상생활을 혼자서 수행하기 어려운 사람 등을 지원하여 건강 증진 및 생활 안정을 도모한다. 재원은 가입자가 납부하는 보험료, 국가와 지방 자치 단체 부담금으로 조달한다.
- 을이 찾은 제도는 B의 하나로서, 생활이 어려운 사람에게 안정적인 소득 기반을 제공하여 생활 안정을 지원한다. 소득 인정액이 보건복지부 장관이 매년 결정·고시하는 선정 기준액 이하인 65세 이상의 자에 한하여 차등 지급한다.
- 병이 찾은 제도는 C의 하나로서, 식사, 세면, 옷 갈아입기, 구강 관리, 화장실 이용, 외출, 목욕 등의 신변 활동을 지원한다. 또한 취사, 생활 필수품 구매, 청소, 세탁 등 일상생활을 지원한다.

- ① A는 대상자의 수혜 정도에 따른 비용 부담을 원칙으로 한다.
- ② B는 사후 처방적 성격이 강하다.
- ③ C는 강제 가입을 원칙으로 한다.
- ④ B는 A, C와 달리 소득 재분배 효과가 있다.
- ⑤ B, C는 A보다 수혜 대상자의 범위가 넓다.

12. <자료 1>의 밑줄 친 ㉠~㉣을 <자료 2>의 (가)~(다)로 옳게 분류한 것은? [3점]

<자료 1>
A국에서 ㉠대학을 다니던 갑은 난민 신청 절차를 거쳐 B국으로 입국하였다. B국에서 갑은 경제 및 의료 지원 프로그램을 운영하는 ㉡'OO 난민 지원 센터'로부터 정착을 위한 서비스를 제공받고 있다. ㉢신문에서 A국과 관련된 기사를 볼 때마다 갑은 고향에 두고 온 ㉣가족이 떠올라 잠을 이루지 못한다. 하지만 갑은 낯선 B국에 정착하기 위하여 노력하고 있다.

<자료 2>

질문	사회화 기관	(가)	(나)	(다)
사회화를 목적으로 설립되었는가?	예	아니요	아니요	예
기초적 수준의 사회화를 담당하는가?	아니요	아니요	예	예

- | | | | |
|---|------|------|------|
| | (가) | (나) | (다) |
| ① | ㉠ | ㉡ | ㉢, ㉣ |
| ② | ㉠ | ㉡, ㉢ | ㉣ |
| ③ | ㉡ | ㉢ | ㉠, ㉣ |
| ④ | ㉢ | ㉡, ㉣ | ㉠ |
| ⑤ | ㉠, ㉡ | ㉢ | ㉣ |

13. 표는 대중 매체 A~C의 일반적인 특징을 구분한 것이다. 이에 대한 설명으로 옳은 것은? (단, A~C는 각각 음성 매체, 영상 매체, 뉴미디어 중 하나이다.)

구분	정보 생산자와 정보 소비자 간의 경계가 뚜렷한가?	시청각 정보를 제공하는가?	(가)
A	아니요	예	예
B	예	예	아니요
C	예	아니요	아니요

- ① A는 C보다 정보 확산의 시·공간적 제약이 크다.
- ② B는 C보다 청각 정보에 대한 의존도가 높다.
- ③ C는 A와 달리 양방향 정보 전달이 가능하다.
- ④ 대중 매체는 C, A, B 순으로 등장하였다.
- ⑤ (가)에는 '정보 수용자에 의한 정보 수정 및 재가공이 용이한가?'가 들어갈 수 있다.

14. 다음 자료에 대한 옳은 분석만을 <보기>에서 있는 대로 고른 것은? [3점]

<갑국의 공공 부조 지원 기준>

<갑국의 공공 부조 지원 대상 가구 현황> (단위: %)

구분	2000년	2005년	2010년	2015년
전체 가구 수 변화율	0	10	-10	0
중위 소득 50% 이하 가구 비율	35	35	35	35
중위 소득 43% 이하 가구 비율	27	28	29	30
중위 소득 40% 이하 가구 비율	15	15	15	15
중위 소득 28% 이하 가구 비율	5	5	5	5

* 갑국은 1995년부터 5년 단위로 공공 부조 지원 가구를 조사함.
** 전체 가구 수 변화율 = $\frac{\text{당해 조사 연도의 전체 가구 수} - \text{직전 조사 연도의 전체 가구 수}}{\text{직전 조사 연도의 전체 가구 수}} \times 100$

<보기>

- ㄱ. 전체 가구 중 교육 급여 한 가지만 지원받는 가구 비율은 2010년과 2015년이 같다.
- ㄴ. 교육, 주거 급여 두 가지만 지원받는 가구 수는 2000년이 2015년보다 적다.
- ㄷ. 전체 가구 중 교육, 주거, 의료, 생계 급여 모두를 지원받는 가구 비율은 2000년이 2010년보다 낮다.
- ㄹ. 2005년 교육, 주거, 의료 급여 세 가지만 지원받는 가구 수는 2015년 교육, 주거, 의료, 생계 급여 모두를 지원받는 가구 수의 2배 이상이다.

- ① ㄱ, ㄷ
- ② ㄴ, ㄷ
- ③ ㄴ, ㄹ
- ④ ㄱ, ㄴ, ㄹ
- ⑤ ㄱ, ㄷ, ㄹ

15. 다음 자료의 (가)에 들어갈 수 있는 옳은 진술을 <보기>에서 고른 것은?

[수업 주제] 가족 구조 및 기능의 변화

A의 비중 100%

B의 비중 0%

* 갑국의 가족 형태는 시기에 관계없이 확대 가족과 핵가족만 존재함.

이 그래프에서 갑국의 A, B는 각각 확대 가족과 핵가족 중 하나이고, ㉠ 시기와 ㉡ 시기는 각각 농업 사회와 산업 사회의 시기 중 하나입니다. 인구 이동성은 ㉠ 시기가 ㉡ 시기보다 높습니다. 이를 토대로 (가)라고 볼 수 있습니다.

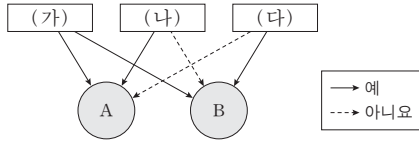
<보기>

- ㄱ. A는 B에 비해 구성원 간 수평적 의사 결정 구조가 일반적이다.
- ㄴ. ㉠ 시기보다 ㉡ 시기가 가족의 노인 부양 기능이 약하다.
- ㄷ. ㉠ 시기보다 ㉡ 시기가 가족의 종교적 의례 기능이 강하다.
- ㄹ. ㉡ 시기보다 ㉠ 시기가 가족 단위의 경제적 생산 기능이 약하다.

- ① ㄱ, ㄴ
- ② ㄱ, ㄷ
- ③ ㄴ, ㄷ
- ④ ㄴ, ㄹ
- ⑤ ㄷ, ㄹ

16. 그림은 질문 (가)~(다)에 따라 사회 불평등 현상을 설명하는 이론 A, B를 구분한 것이다. 이에 대한 옳은 설명을 <보기>에서 고른 것은? (단, A, B는 각각 계급 이론, 계층 이론 중 하나이다.)

[3점]



<보기>

- ㄱ. (가)에는 '사회 불평등 현상의 원인으로 경제적 요인을 고려하는가?'가 들어갈 수 있다.
- ㄴ. A가 계층 이론이라면, (나)에는 '사회 불평등 현상을 불연속적인 위계화로 파악하는가?'가 들어갈 수 있다.
- ㄷ. A가 계급 이론이라면, (다)에는 '사회 불평등 현상의 발생 원인을 다원론적 관점으로 보는가?'가 들어갈 수 있다.
- ㄹ. B가 계층 이론이라면, (나)에는 '지위 불일치 현상을 설명하기에 적합한가?'가 들어갈 수 있다.

- ① ㄱ, ㄴ ② ㄱ, ㄷ ③ ㄴ, ㄷ ④ ㄴ, ㄹ ⑤ ㄷ, ㄹ

17. A~C 문화에 대한 옳은 설명을 <보기>에서 고른 것은? (단, A~C 문화는 각각 전제 문화, 하위문화, 반문화 중 하나이다.)

[3점]

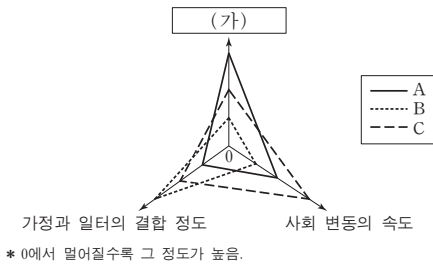
중세 말기 유럽에서는 새롭게 부를 축적한 부르주아지가 등장하였다. 이들의 문화는 당시 엄격한 신분제에 기초한 봉건제적 문화와는 차별화된 성격을 띠고 있어 처음에는 A 문화였다. 그러나 부르주아지가 근대 시민 혁명을 통해 구체제를 전복하려 나선 시기에, 이들의 문화는 B 문화로서의 성격을 보였다. 그리고 마침내 구체제가 무너지고 새로운 근대 사회가 도래한 이후 이들의 문화는 점차 봉건제적 문화를 대체하며 C 문화로 성장하였다.

<보기>

- ㄱ. A 문화는 C 문화와 대립하여 사회 안정을 저해한다.
- ㄴ. C 문화는 사회 변동에 따라 A 문화가 되기도 한다.
- ㄷ. 한 사회에서 B 문화는 C 문화와 공존이 불가능하다.
- ㄹ. 한 사회에서 C 문화는 A 문화의 총합으로 설명할 수 없다.

- ① ㄱ, ㄴ ② ㄱ, ㄷ ③ ㄴ, ㄷ ④ ㄴ, ㄹ ⑤ ㄷ, ㄹ

18. A~C의 일반적 특징에 대한 설명으로 옳은 것은? (단, A~C는 각각 농업 사회, 산업 사회, 정보 사회 중 하나이다.)



- ① A는 B보다 구성원 간 익명성 정도가 높다.
- ② A는 C보다 다품종 소량 생산의 비중이 크다.
- ③ B는 C보다 지식 산업을 통한 부가 가치 창출이 유리하다.
- ④ C는 B보다 직업의 동질성이 강하다.
- ⑤ (가)에는 '비대면 접촉의 정도'가 들어갈 수 있다.

19. 다음 연구에 대한 옳은 설명만을 <보기>에서 있는 대로 고른 것은?

연구자 갑은 주변에 방관자들이 있으면, 곤경에 처한 사람이 낮은 사람으로부터 도움을 받을 가능성이 줄어든다는 '방관자 효과'를 검증하기 위한 연구에 착수하였다. 우선 갑은 접이식 커튼을 쳐, 보이지는 않지만 소리를 들을 수 있는 공간을 만들었다. 그리고 그곳에서 연구 대상자들에게 의자에 오르다 떨어져 도움을 청하는 노인의 녹음된 비명을 듣게 하였다. 연구 대상자들은 두 집단으로 구분되었는데, 한 연구 조건에서는 ㉠ 연구 대상자만 있게 했고, 다른 연구 조건에서는 의도적으로 노인의 비명에 반응하지 않도록 연구자와 공모한 방관자들을 ㉡ 연구 대상자와 함께 있게 했다. ㉢ 방관자들의 존재 여부에 따른 반응을 비교한 결과, '나 홀로 조건'에서는 연구 대상자의 70%가 도움을 주려 한 반면, '방관자 조건'에서는 20%만이 도움을 주려 하였다.

<보기>

- ㄱ. ㉠은 실험 집단, ㉡은 통제 집단에 해당한다.
- ㄴ. ㉢은 독립 변인에 해당한다.
- ㄷ. 실제성이 높은 현장 자료를 얻기 용이한 자료 수집 방법을 사용하였다.
- ㄹ. 연구자가 설정한 상황을 바탕으로 연구 대상자를 관찰하는 자료 수집 방법을 사용하였다.

- ① ㄱ, ㄷ ② ㄴ, ㄷ ③ ㄴ, ㄹ
④ ㄱ, ㄴ, ㄹ ⑤ ㄱ, ㄷ, ㄹ

20. 다음 자료는 갑국의 세대 간 계층 이동 현황을 나타낸 것이다. 이에 대한 분석으로 옳은 것은?

<세대별 계층 간 상대적 비율>

구분	부모 세대	자녀 세대
상층+하층 전체 계층	$\frac{1}{2}$	$\frac{4}{5}$
상층 중층+하층	$\frac{1}{4}$	$\frac{1}{3}$

<자녀 세대 계층 대비 부모와 자녀 계층 일치 상대적 비율>

상층	중층	하층
$\frac{1}{5}$	$\frac{1}{2}$	$\frac{4}{11}$

* 모든 부모의 자녀는 1명이고, 갑국의 계층은 상층, 중층, 하층으로만 구분함.
** 상층 부모를 둔 하층 자녀 인구와 하층 부모를 둔 중층 자녀 인구의 비는 2:1임.

- ① 세대 간 계층 일치 비율이 세대 간 계층 이동 비율보다 크다.
- ② 부모 세대 계층 대비 부모와 자녀의 계층 일치 비율은 중층이 상층보다 크다.
- ③ 부모 세대 계층 대비 부모와 자녀의 계층 불일치 비율은 하층이 상층보다 크다.
- ④ 부모 세대 하층에서 자녀 세대 상층으로 이동한 인구와 자녀 세대 중층으로 이동한 인구는 같다.
- ⑤ 갑국에서 부모 세대의 계층 구조는 다이아몬드형이고, 자녀 세대의 계층 구조는 피라미드형이다.

* 확인 사항
○ 답안지의 해당란에 필요한 내용을 정확히 기입(표기)했는지 확인 하시오.

1. ① 2. ③ 3. ② 4. ④ 5. ② 6. ③ 7. ⑤ 8. ② 9. ⑤ 10. ⑤
11. ② 12. ② 13. ⑤ 14. ③ 15. ① 16. ② 17. ④ 18. ① 19. ③ 20. ④

1. 사회·문화 현상과 자연 현상의 특징 비교

정답 해설 : ㉠은 사회·문화 현상, ㉡은 자연 현상이다. 따라서 A에는 사회·문화 현상은 '예'라는 답변을, 자연 현상은 '아니오'라는 답변을 할 수 있는 질문이 들어가야 한다. 그리고 B에는 사회·문화 현상은 '아니오'라는 답변을, 자연 현상은 '예'라는 답변을 할 수 있는 질문이 들어가야 한다. ① 사회·문화 현상은 상위 법칙이 적용되나, 자연 현상은 그렇지 않다. **정답 ①**

[오답피하기]

- ㉡ 존재 법칙이 적용되는 것은 자연 현상이다.
- ㉢ 동일 조건하에서 동일 현상이 발생하는 것은 자연 현상이다.
- ㉣ 가치 판단이 가능한 것은 사회·문화 현상이다.
- ㉤ 확률의 원리가 적용되는 것은 사회·문화 현상이다.

2. 사회·문화 현상을 바라보는 관점의 비교

정답 해설 : 의미 부여에서 (가)는 상징적 상호 작용론, 사회적 약속과 신호등 위반을 일시적 현상으로 보는 데서 (나)는 기능론적 관점임을 알 수 있다. ㉢ 상징적 상호 작용론에 따르면, 인간은 자신이 처한 상황에 대한 주관적인 정의(상황 정의)에 기초하여 선택하고 행동한다. **정답 ③**

[오답피하기]

- ㉠ 사회 각 부분 간의 균형과 통합을 강조하는 것은 기능론적 관점이다.
- ㉡ 사회가 본질적으로 변동을 지향한다고 보는 것은 갈등론적 관점이다.
- ㉣ 사회 구성원의 능동성을 중시하는 것은 상징적 상호 작용론이다.
- ㉤ 사회의 각 부분이 상호 유기적 관계를 맺고 있다고 보는 것은 기능론적 관점이다.

3. 사회 집단 관련 개념의 이해

정답 해설 : ㉡ ☆☆☆☆의 팬클럽은 아이돌 그룹 ☆☆☆☆을 응원하고자 팬들이 자발적으로 만들었다는 점에서, 자발적 결사체이자 이익 사회이다. **정답 ②**

[오답피하기]

- ㉠ 같이 아이돌 그룹의 멤버가 되기를 꿈꾸어 왔다는 점에서, 아이돌 그룹은 갑의 준거 집단이 될 수 있으나, 같이 소속된 적이 없기 때문에 내집단은 아니다.
- ㉢ ◇◇ 단체는 공식 조직으로, 전인적적 인간관계를 바탕으로 하지 않는다.
- ㉣ △△ 기획사는 2차 집단이자 공식 조직이지만, 댄스 모임은 1차 집단의 성격이 강한 비공식 조직이다.
- ㉤ 역할이 아니라 역할 행동에 대한 제재와 보상이다.

4. 사회·문화 현상의 연구 방법에 대한 이해

정답 해설 : ㉣은 양적 연구 방법, ㉡은 질적 연구 방법이 적용되었다. 양적 연구 방법은 질적 연구 방법과 달리 독립 변인과 종속 변인의 관계를 진술한 가설을 검증하는 것을 목적으로 한다. **정답 ④**

[오답피하기]

- ㉠ ㉠은 모집단이지만, ㉡은 표본 집단이 아니다. 표본 집단은 ㉡에서 무작위로 선정된 연구 대상자 300명이다.
- ㉢ ㉢을 측정하기 위한 조작적 정의는 (가)에서 이루어졌다.
- ㉣ ㉣과 같은 자료 수집 방법은 문헌 연구법이다. 연구 대상자와 연구자 간 친밀성이 중시되는 자료 수집 방법은 면접법이다.
- ㉤ 연구 과정은 (마)-(다)-(가)-(라)-(나)의 순서로 진행되는 것이 적절하다.

5. 문화의 속성에 대한 이해

정답 해설 : 첫 번째 사례의 '주니 족은 절제의 미덕을 중시한다.'에서 문화의 공유성, '아이들은 일상생활 속에서 원한, 억눌림, 야심, 야망 등이 없이 자라난다.'에서 문화의 학습성을 파악할 수 있다. 두 번째 사례의 '야노마모 족에게 근본적이고 중요한 관심사'에서 문화의 공유성, '선조들로부터 구전'에서 문화의 학습성을 파악할 수 있다. 즉, 공통적으로 부각되는 문화의 속성은 문화의 공유성과 학습성이다. ㄱ. 문화의 학습성을 나타내는 진술이다. **정답 ㉡**

[오답피하기]

- ㄴ. 문화의 변동성을 나타내는 진술이다.
- ㄷ. 문화의 축적성을 나타내는 진술이다.

6. 순환론과 진화론의 비교

정답 해설 : (가)의 '새 가지 문화 체계가 번갈아 출현한다.'에서 순환론, (나)의 '모든 문명은 완전성을 지향하는 시대정신을 향해 동일한 변동 과정을 밟는다.'에서 진화론을 추론할 수 있다. ㉢ 진화론은 서구 사회가 진보된 사회임을 전제한다. 이 때문에 진화론은 서구의 제국주의 역사를 정당화하는 수단으로 악용될 우려가 있다는 비판을 받는다. **정답 ㉢**

[오답피하기]

- ㉠ 사회의 안정과 조화를 유지하기 위해서 사회 각 부분들이 조정되는 과정을 사회 변동으로 보는 것은 기능론적 관점이다.
- ㉡ 진화론은 사회 변동이 진보와 발전을 의미한다고 본다.
- ㉣ 급격한 사회 변동을 설명하기 용이한 것은 갈등론이며, 점진적 사회 변동을 설명하기 용이한 것은 기능론이다.
- ㉤ 사회가 이전보다 복잡하고 분화되는 양상으로 변동한다고 보는 것은 진화론이다.

7. 일탈 행동을 바라보는 이론적 관점의 비교

정답 해설 : (가)는 아노미 이론, (나)는 낙인 이론, (다)는 차별적 교제 이론이다. ㉢ 차별적 교제 이론은 아노미 이론과 달리 일탈자와의 상호 작용 과정에서 일탈이 학습된다고 주장한다. **정답 ③**

[오답피하기]

- ㉠ 불평등한 사회 구조와 계급 간 갈등을 일탈 행동의 근본 원인이라고 보는 것은 갈등론이다.
- ㉡ 일탈 행동이 비행 집단과의 교류로 인한 잘못된 사회화에서 비롯된다고 보는 것은 차별적 교제 이론이다.
- ㉢ 사회의 지배적인 규범이 약화되거나 해체될 때 일탈 행동이 증가한다고 보는 것은 아노미 이론이다.
- ㉣ 일탈 행동을 거시적 관점에서 바라보는 것은 아노미 이론이다.

8. 개인과 사회의 관계를 바라보는 관점의 비교

정답 해설 : 지문의 '집단의 존속과 유지를 위해 살아가는 인간', '집단 규범이 허용한 범위 안에서 자유 의지 발현' 등에서 지문이 사회 실재론의 입장에서 개인과 사회의 관계를 보고 있음을 알 수 있다. ㄱ. 사회 실재론에 따르면 개인의 행동과 의식은 실재하는 사회에 의해 구속된다.

ㄴ. 사회 실재론에 따르면, 개인의 자유 의지는 사회 규범에 의해 제약을 받는다. 즉, 사회의 구속력이 개인의 자유 의지보다 우위에 있다. **정답 ㉡**

[오답피하기]

- ㄴ. 사회 실재론에 따르면, 사회는 개인의 특성과 구별되는 고유한 특성을 갖는다.
- ㄷ. 사회 실재론에 따르면, 집단행동은 개인이 갖고 있는 자유 의지의 총합 이상이다.

9. 문화 변동 양상에 대한 이해

정답 해설 : ㉤ 햄버거는 외부에서 전파된 문화 요소이고, 밥은 우리의 문화 요소이다. 라이스 버거는 외부의 문화 요소와 우리의 문화 요소가 결합되어 나타난 것으로, 문화 융합의 사례이다. **정답 ⑤**

[오답피하기]

- ㉠ ㉠, ㉡ 모두 직접 전파의 사례이다.
- ㉢ 명확하게 나타나지 않았으나 ㉢은 자발적 문화 접변의 사례일 가능성이 크다.
- ㉣ 외부의 문화 요소에서 아이디어를 얻어 발명이 이루어진 것이 아니기 때문에, ㉣과 ㉤ 모두 자극 전파의 사례가 아니다.
- ㉤ 타타르 족의 음식과는 다른 형태를 띤 햄버거가 나타났으므로, 문화 동화로 볼 수 없다.

10. 문화를 이해하는 태도의 비교

정답 해설 : 갑과 을은 자문화 중심주의, 병은 문화 상대주의 태도를 갖고 있다.

ㄴ. 문화 상대주의는 문화를 사회적 상황과 연결시켜 해당 사회의 맥락에서 문화를 이해한다.

ㄷ. 자문화 중심주의는 자기 문화의 우수성을 내세워 타문화를 낮게 평가하므로, 문화 상대주의와 달리 문화의 다양성을 저해할 수 있다. **정답 ㉢**

[오답피하기]

- ㄱ. 자문화 중심주의는 자기 문화에 대한 자부심을 강화시키므로, 자문화의 정체성을 약화시키지 않는다.
- ㄴ. 자문화 중심주의는 문화를 평가의 대상으로, 문화 상대주의는 문화를 이해의 대상으로 본다.

11. 사회 보장 제도에 대한 이해

정답 해설 : A는 사회 보험, B는 공공 부조, C는 사회 서비스이다. ㉡ 사회 보험은 사전 예방적 성격이 강하나, 공공 부조는 사후 차등적 성격이 강하다. **정답 ㉡**

[오답피하기]

- ㉠ 대상자의 수혜 정도에 따른 비용 부담을 원칙으로 하는 것은 민간 보험 상품이다.
- ㉢ 강제 가입을 원칙으로 하는 것은 사회 보험이다.
- ㉣ 사회 보험, 공공 부조, 사회 서비스 모두 소득 재분배 효과가 있다.
- ㉤ 수혜 대상자의 범위가 가장 좁은 것은 공공 부조이다.

12. 사회화 기관의 이해

정답 해설 : 대학은 공식적 사회화 기관이자 2차적 사회화 기관이고, ○○ 난민 지원 센터와 신문은 비공식적 사회화 기관이자 2차적 사회화 기관이며, 가족은 비공식적 사회화 기관이자 1차적 사회화 기관이다. (가)는 공식적 사회화 기관이자 2차적 사회화 기관이고, (나)는 비공식적 사회화 기관이자 2차적 사회화 기관이며, (다)는 비공식적 사회화 기관이자 1차적 사회화 기관이다. **정답 ㉡**

13. 대중 매체의 특징 비교

정답 해설 : 정보 생산자와 정보 소비자 간의 경계가 뚜렷한 것은 음성 매체와 영상 매체이고, 시청각 정보를 제공하는 것은 영상 매체와 뉴미디어이다. 따라서 A는 뉴미디어, B는 영상 매체, C는 음성 매체이다. ㉤ 뉴미디어는 음성 매체 및 영상 매체와 달리 정보 수용자에 의한 정보 수정 및 재가공이 용이하다. **정답 ㉤**

[오답피하기]

- ㉠ 뉴미디어는 정보 확산의 시·공간적 제약이 적다.
- ㉡ 청각 정보에 대한 의존도가 높은 것은 음성 매체이다.
- ㉢ 양방향 정보 전달은 뉴미디어의 주요한 특징이다.
- ㉣ 대중 매체는 음성 매체, 영상 매체, 뉴미디어 순으로 등장하였다.

14. 공공 보조 지원 대상 가구 현황에 대한 분석

정답 해설 : 2000년 전체 가구의 수를 100이라고 하면, 2005년은 110, 2010년은 99, 2015년은 99이다. ㄴ. 교육, 주거 두 가지만 지원받는 가구는 가구 소득이 중위 소득 40% 초과 43% 이하인 가구로, 2000년에는 12%이고 2015년에는 15%이다. 교육, 주거 두 가지만 지원받는 가구의 수는 2000년에는 12%×100, 2015년에는 15%×99이므로, 교육과 주거 급여 두 가지만 지원받는 가구 수는 2000년이 2015년보다 적다.
 ㄹ. 2005년 교육, 주거, 의료 급여 세 가지만 지원받는 가구의 비율은 10%이고, 2015년 교육, 주거, 의료, 생계 급여 모두를 지원받는 가구의 비율은 5%이다. 2005년이 2015년의 가구 수보다 많으므로, 2005년 교육, 주거, 의료 급여 세 가지만 지원받는 가구의 수는 2015년 교육, 주거, 의료, 생계 급여 모두를 지원받는 가구 수의 2배 이상이다. **정답 ㉑**

[오답피하기]

ㄱ. 교육 급여 한 가지만 지원받는 가구는 가구 소득이 중위 소득 43% 초과 50% 이하인 가구이다. 2010년에는 6%, 2015년에는 5%의 가구가 교육 급여 한 가지만 지원받는다.
 ㄷ. 전체 가구 중 교육, 주거, 의료, 생계 급여 모두를 지원받는 가구 비율은 모든 연도에서 5%이다.

15. 가족의 구조와 기능에 대한 이해

정답 해설 : ㉠ 시기는 농업 사회, ㉡ 시기는 산업 사회이다. 그리고 농업 사회에서는 확대 가족, 산업 사회에서는 핵가족이 비율이 상대적으로 높으므로, A는 핵가족이고 B는 확대 가족이다. ㄱ. 핵가족은 부부 중심 가족으로, 확대 가족에 비해 구성원 간 수평적 의사 결정 구조가 일반적이다.
 ㄴ. 확대 가족보다 핵가족의 비율이 높은 산업 사회에서 가족의 노인 부양 기능이 약하다. **정답 ㉠**

[오답피하기]

ㄷ. 산업 사회보다 농업 사회에서 가족의 종교적 의례 기능이 강하다.
 ㄹ. 농업 사회보다 산업 사회에서 가족 단위의 경제적 생산 기능이 약하다.

16. 계급 이론과 계층 이론의 비교

정답 해설 : ㄱ. 계급 이론과 계층 이론 모두 사회 불평등 현상의 원인으로 경제적 요인을 고려한다.

ㄷ. 사회 불평등 현상의 발생 원인을 일원론적 관점으로 보는 것은 계급 이론, 다원론적 관점으로 보는 것은 계층 이론이다. **정답 ㉡**

[오답피하기]

ㄴ. 사회 불평등 현상을 불연속적인 위계화로 파악하는 것은 계급 이론이다.
 ㄹ. 지위 불일치 현상을 설명하기에 적합한 것은 계층 이론이다.

17. 전체 문화, 하위문화, 반문화의 이해

정답 해설 : 부르주아 계급이 향유한 A 문화는 신분제에 기초한 봉건제적 문화, 즉 전체 문화와는 차별화되었다는 점에서 하위문화이다. 부르주아 계급이 시민 혁명을 통해 구제제를 전복하려 하였다라는 점에서, 당시 부르주아 계급의 B 문화는 반문화이다. 마지막으로 중세 봉건제적 문화를 대체한 C 문화는 전체 문화이다. ㄴ. 사회변동에 따라 하위문화가 전체 문화가 되기도 하고, 전체 문화가 하위문화가 되기도 한다.
 ㄹ. 하위문화를 합한 것이 전체문화가 되는 것은 아니다. **정답 ㉠**

[오답피하기]

ㄱ. 하위문화가 전체 문화와 대립하게 되면, 그 하위문화는 반문화를 의미한다. 즉, 반문화가 전체 문화와 대립하여 사회 안정을 저해할 수 있다.
 ㄷ. 우리 사회에서 오토바이 폭주족 문화를 찾을 수 있듯이, 반문화와 전체 문화가 공존할 수 있다.

18. 농업 사회, 산업 사회, 정보 사회의 비교

정답 해설 : 가정과 일터의 결합 정도는 농업 사회, 정보 사회, 산업 사회 순으로 높고, 사회 변동의 속도는 정보 사회, 산업 사회, 농업 사회 순으로 높다. 따라서 A는 산업 사회, B는 농업 사회, C는 정보 사회이다. ㉠ 구성원 간 익명성 정도는 정보 사회, 산업 사회, 농업 사회 순으로 높다. **정답 ㉠**

[오답피하기]

㉡ 정보 사회가 산업 사회보다 다품종 소량 생산 비중이 크다.
 ㉢ 정보 사회가 농업 사회보다 지식 산업을 통한 부가 가치 창출이 유리하다.
 ㉣ 직업의 동질성은 농업 사회, 산업 사회, 정보 사회 순으로 높다.
 ㉤ 비대면 접촉의 정도는 정보 사회, 산업 사회, 농업 사회 순으로 높다.

19. 실험법을 적용한 양적 연구의 이해

정답 해설 : ㄴ. 연구자는 '방관자들이 있으면, 곤경에 처한 사람이 낯선 사람으로부터 도움을 받을 가능성이 줄어든다.'라는 방관자 효과를 검증하고자 하였다. 따라서 방관자들의 존재 여부가 독립 변인이고, '곤경에 처한 사람이 낯선 사람으로부터 도움을 받을 가능성 정도'가 종속 변인이다.
 ㄹ. 연구자와 공모한 방관자들을 연구 대상자와 함께 있게 한 상황을 만들어 연구 대상자를 관찰하였다. 즉, 실험법을 통해 자료를 수집하였다. **정답 ㉡**

[오답피하기]

ㄱ. 방관자들과 함께 있는 연구 대상자인 ㉠이 실험 집단이고 그렇지 않은 ㉡이 통제 집단이다.
 ㄷ. 실제성이 높은 현장 자료를 얻기 용이한 자료 수집 방법은 참여 관찰법이다. 연구자는 실험법을 통해 자료를 수집하였다.

20. 세대 간 계층 이동에 대한 분석

정답 해설 : 자료 <세대 별 계층 간 상대적 비율>을 통해 부모 세대와 자녀 세대의 계층 비율을 구하면 다음과 같다. 부모 세대의 경우 '상층+하층/전체 계층=1/2'이므로, 중층이 50%이다. 상층/중층+하층=1/4이므로, 상층 20%이고 하층 30%이다. 자녀 세대의 경우, '상층+하층/전체 계층=4/5'이므로, 중층이 20%이다. 상층/중층+하층=1/3이므로, 상층 25%이고 하층 55%이다. 자료 <자녀 세대 계층 대비 부모와 자녀 계층 일치 상대적 비율>과 단서의 '상층 부모를 둔 하층 자녀 인구와 하층 부모를 둔 중층 자녀 인구의 비는 2:1임'을 결합하여 세대 간 계층 이동결과를 표로 나타내면 다음과 같다.(단, 하층 부모를 둔 중층 자녀 인구를 a라 한다.)

(단위 : %)

구분	부모 세대 계층			계
	상	중	하	
자녀 세대 계층	상	5		25
	중	㉠	10	a
	하	2a	20	55
계	20	50	30	100

5+㉠+2a=20이고 ㉠+10+a=20이므로, a와 ㉠은 각각 5이다. 이를 표에 대입하여 세대 간 계층 이동결과를 완성한 표는 아래와 같다.

(단위 : %)

구분	부모 세대 계층			계
	상	중	하	
자녀 세대 계층	상	5	15	5
	중	5	10	5
	하	10	25	20
계	20	50	30	100

㉠ 부모 세대 하층에서 자녀 세대 상층으로 이동한 인구의 비율은 5%이고, 자녀 세대 중층으로 이동한 인구의 비율도 5%이다. **정답 ㉡**

[오답피하기]

㉢ 세대 간 계층 일치 비율은 35%이고, 세대 간 계층 이동 비율은 65%이다.
 ㉣ 부모 세대 계층 대비 부모와 자녀의 계층 일치 비율의 경우 상층은 5/20, 중층은 10/50, 하층은 20/30이다. 상층이 중층보다 크다.
 ㉤ 부모 세대 계층 대비 자녀와 부모의 계층 불일치 비율의 경우 상층은 15/20, 중층은 40/50, 하층은 10/30이다. 상층이 하층보다 크다.
 ㉥ 부모 세대의 계층 구조는 중층의 비율이 가장 큰 다이아몬드형이고, 자녀 세대의 계층 구조는 중층의 비율이 가장 작은 모래시계형이다.

제 4 교시

사회탐구 영역(사회·문화)

성명 수험 번호

1. 밑줄 친 ㉠~㉣과 같은 현상의 일반적인 특징을 고려하여 자신에게 주어진 질문에 모두 옳게 응답한 학생은?



학생	질문	응답			
		㉠	㉡	㉢	㉣
갑	물가치적 현상인가?	×	○	○	×
을	당위 법칙의 적용을 받는가?	○	×	○	○
병	확실성의 원리가 적용되는가?	○	○	×	×
정	보편성과 특수성이 공존하는가?	○	×	×	×
무	경험적 자료에 의해 연구할 수 있는가?	○	○	×	×

(○: 예, ×: 아니오)

- ① 갑 ② 을 ③ 병 ④ 정 ⑤ 무

2. 다음 사례를 연구 윤리 측면에서 적절하게 평가한 것만을 <보기>에서 있는 대로 고른 것은? [3점]

- 독신세 부과를 주장하던 갑은 독신세 도입에 대한 미혼자의 인식을 연구하였다. 결혼에 호의적인 미혼자를 대상으로 조사하여, 해당 자료를 엄격하게 분석한 후 75%가 독신세 부과에 찬성한다는 결과를 발표하고 독신세 도입을 촉구하였다. 이후 결혼 정보 회사를 운영하는 친구의 요청으로 연구 결과와 함께 연구 대상의 개인 정보를 제공하였다.
- 특정 기업의 주식을 소유한 을은 해당 기업의 주가 변동 예측 연구를 진행하였다. 해당 기업의 주식 관련 자료를 모두 수집한 후 주가 상승을 예측한 자료만 분석하여, 그중에 주가 상승 폭이 최대치로 예측된 분석 내용을 근거 자료로 제시하면서 해당 기업의 주가가 단기간에 대폭 상승할 것이라고 결과를 발표하였다.

<보기>

- ㄱ. 자료 수집 단계에서 갑은 을과 달리 의도적으로 왜곡된 자료 수집을 하였다.
- ㄴ. 자료 분석 단계에서 을은 갑과 달리 고의로 자료를 선별하여 분석하였다.
- ㄷ. 결과 발표 단계에서 갑, 을 모두 자신의 이익을 추구하기 위해 분석 결과의 일부를 은폐하여 발표하였다.
- ㄹ. 을은 갑과 달리 수집한 자료를 연구 외의 목적으로 유출하였다.

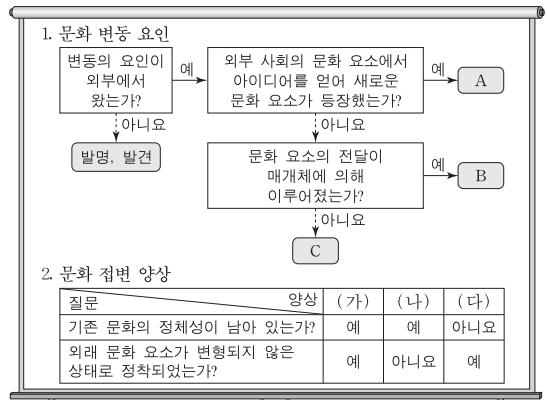
- ① ㄱ, ㄴ ② ㄱ, ㄷ ③ ㄷ, ㄹ
④ ㄱ, ㄴ, ㄷ ⑤ ㄴ, ㄷ, ㄹ

3. 가족 형태의 변화를 바라보는 관점 (가), (나)에 대한 설명으로 옳은 것은?

- (가) 현대 사회에서 이혼과 재혼, 공동체 가족, 1인 가구의 증가 등 가족 형태의 변화는 자연스러운 현상이다. 이는 가족 내에서 경제적 우위를 갖는 남성 중심의 권위주의적인 전통적 가족 관계에 저항하여 이루어진 결과이다.
(나) 현대 사회에서 이혼과 재혼, 공동체 가족, 1인 가구의 증가 등 가족 형태의 변화는 자연스러운 현상이라 볼 수 없다. 이는 가족의 양육 및 부양 기능이 약화되고 가족 간 유대 관계를 증시하는 인식도 약화된 결과이다.

- ① (가)는 (나)와 달리 가족 구성원 간의 갈등을 당연한 것으로 본다.
- ② (가)는 (나)와 달리 가족 형태의 변화 원인을 구성원의 의식 변화에서 찾는다.
- ③ (나)는 (가)와 달리 가족 형태의 변화 원인을 사회 구조의 영향력에서 찾는다.
- ④ (나)는 (가)와 달리 가족 구성원 간의 갈등을 평등한 가족 관계의 확산으로 해결할 수 있다고 본다.
- ⑤ 현대 사회의 가족 형태 변화를 (가)는 가족 해체의 결과로, (나)는 가족 형태의 다양화로 본다.

4. 자료를 통해 문화 변동 사례를 분석한 것으로 옳은 것은? (단, A~C는 각각 간접 전파, 자극 전파, 직접 전파 중 하나이고, (가)~(다)는 각각 문화 공존, 문화 동화, 문화 융합 중 하나이다.) [3점]



- ① 다른 나라의 종교 교리와 체계를 응용하여 만든 신흥 종교가 기존 종교를 대체한 사례는 A에 의한 (가)에 해당한다.
- ② 새로운 정보 통신 기술을 개발하여 자국의 첨단 매체 발달에 기여한 사례는 B에 의한 (나)에 해당한다.
- ③ 케이팝(K-pop)의 인기로 외국인인 한국어 배우러 한국에 와서 정착하는 사례는 B에 의한 (다)에 해당한다.
- ④ 자국을 식민 지배한 나라의 언어와 자국의 전통 언어를 공용어로 사용하는 사례는 C에 의한 (가)에 해당한다.
- ⑤ 이웃 나라의 특정 음료가 교역을 통해 들어와 자국민이 즐겨 마시는 음료 중 하나가 된 사례는 C에 의한 (나)에 해당한다.

5. 밑줄 친 ㉠~㉤에 대한 설명으로 옳은 것은? [3점]

연구자 갑은 ㉠행복감에 소득 수준과 물질주의 가치관이 미치는 영향을 연구하고자, 전국의 ㉡30세 이상 성인 중 1,000명을 대상으로 설문 조사를 하였다. 분석 결과 삶에 대한 만족도는 ㉢월평균 수입 정도와 정(+)의 관계이지만, ㉣삶에서 돈이 중요하다고 생각하는 정도와는 ㉤부(-)의 관계를 보였다. 연구자 을은 중학교에서 학생들의 생활에 대해 참여 관찰을 실시한 결과 ㉥행복감이 높은 학생이 학교 활동에 더 열심히 참여하는 것을 발견하였다. 두 연구 결과를 종합하여, 병은 ㉦학생의 가계 소득 수준이 높을수록 학교 활동도 열심히 한다고 결론지었다.

- ① ㉠은 갑의 연구에서, ㉡은 을의 연구에서 종속 변수에 해당한다.
- ② ㉢은 갑의 연구에서 표본이다.
- ③ ㉣, ㉤은 갑의 연구에서 독립 변수에 대한 조작적 정의이다.
- ④ ㉥으로 보아 갑은 가설 검증에 실패하였다.
- ⑤ ㉦은 병이 연역적 연구 과정을 통해 도출한 타당한 결론이다.

6. 일탈 이론 (가)~(다)에 대한 설명으로 옳은 것은?

(가) 어떤 사회에서는 특정 목표가 모두에게 강조되지만 이를 달성하기 위한 접근 기회는 차별적으로 주어진다. 일탈은 문화적으로 정의된 열망과 사회적으로 구조화된 수단 사이의 격차로 인해 발생한다.
 (나) 사회 집단은 그들이 만든 규칙을 위반하는 것을 일탈이라고 보고, 이 규칙을 상대적으로 다르게 적용하여 일탈자를 만들어 낸다. 일탈은 행위의 속성에 있는 것이 아니라 규칙과 처벌을 위반자에게 적용한 결과이다.
 (다) 사회 구조는 사람들이 상호 작용하는 조건을 형성해 주지만, 그 자체가 일탈 행동을 유발하는 것은 아니다. 일탈 행동은 다른 사람과의 친밀한 상호 작용을 통해 동기, 기술, 범에 대한 태도 등을 습득하면서 발생한다.

- ① (가)는 일탈 행동의 해결 방법으로 일탈 규정에 대한 신중한 접근을 강조한다.
- ② (나)는 일탈 행동의 해결 방법으로 일탈자에 대한 사회 통제와 규제 강화 방안의 마련을 강조한다.
- ③ (다)는 일탈 행동의 원인을 차별적인 제재에서 찾는다.
- ④ (가)는 (다)와 달리 일탈 행동의 원인을 개인적인 차원에서 찾는다.
- ⑤ (나), (다)는 (가)와 달리 타인들과의 상호 작용이 일탈 발생 과정에 미치는 영향을 중시한다.

7. 다음은 연예인 갑의 주간 일정표이다. 밑줄 친 ㉠~㉥에 대한 설명으로 옳은 것은? [3점]

월: ㉠ 소속된 기획사의 봉사 동아리 회원들과 봉사 활동 참가
 화: ㉡ ○○방송국의 예능 프로그램 녹화
 수: ㉢ 국제청의 모범 납세자 시상식 참여
 목: 어머니 생신 축하를 위한 ㉣ 가족 모임 참석
 금: ㉤ 스포대학교 총학생회 주관 축제 행사 공연
 토: ㉥ 연예인 야구단 시합 참가

- ① ㉠과 ㉡은 갑의 내집단이다.
- ② ㉢과 ㉣은 자발적 결사체이다.
- ③ ㉤과 ㉥은 1차 집단이다.
- ④ ㉢, ㉣은 ㉠과 달리 공식 조직이다.
- ⑤ ㉤, ㉥은 ㉡과 달리 공동 사회이다.

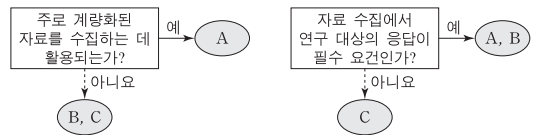
8. 다음 글에서 부각되는 개인과 사회의 관계를 보는 관점에 부합하는 진술을 <보기>에서 고른 것은?

민원인이 관료제 특징을 보이는 기관을 방문하여 일처리를 하다 보면 좌절감을 경험하는 경우가 많다. 이러한 좌절감은 민원인의 무능력 때문인가? 아니면 이곳저곳에서 문서를 여러 번 작성하게 하는 직원 개인의 잘못 때문인가? 이러한 좌절감은 조직의 규모 등과 같은 요인에 의해서 설명될 수 있다. 조직의 규모는 운영 방식에 영향을 주어 조직의 독특한 특성을 형성하고, 개인은 이 특성으로부터 자유로울 수 없다.

—<보기>—
 가. 개인은 사회에 의해 구조화된 행동을 한다.
 나. 개인은 사회 속에서만 존재 의미를 갖는다.
 다. 사회는 개인의 자율적인 의지에 의해 형성된다.
 라. 사회는 개인의 속성에 의해 그 속성이 결정된다.

- ① 가, 나 ② 가, 다 ③ 나, 다 ④ 나, 라 ⑤ 다, 라

9. 자료 수집 방법 A~C의 일반적인 특징에 대한 설명으로 옳은 것은? (단, A~C는 각각 면접법, 질문지법, 참여 관찰법 중 하나이다.)



- ① A는 B와 달리 연구 대상의 주관적인 인식을 파악할 수 없다.
- ② B는 A에 비해 다수를 대상으로 자료를 수집하기가 용이하다.
- ③ C는 A, B와 달리 연구자의 직관적 통찰로 해석해야 하는 자료를 수집할 수 있다.
- ④ B, C는 A에 비해 연구 대상과 연구자 간 신뢰감 형성의 중요성이 강조된다.
- ⑤ 자료 수집 상황에 대한 통제 수준은 A>C>B이다.

10. 다음 사례에 대한 옳은 분석만을 <보기>에서 있는 대로 고른 것은? [3점]

○ IT 회사의 앱 개발 팀장인 갑은 자신이 개발한 앱으로 인해 많은 부와 명예를 누리고 있다. 갑은 첫 출산을 앞두고 예비 부모 교실에 참석하면서 남편과 자녀 양육 분담을 계획하였다. 하지만 남편의 갑작스러운 해외 발령으로 자녀 양육에 대해 남편과 갈등을 겪었다.
 ○ 가난한 집안의 장남인 을은 원하던 회사에 합격해 입사 전 신입 사원 연수를 받았다. 입사 이후 회사 생활에 회의를 느낀 을은 회사를 계속 다닐지 창업을 할지 고민하다가, 동료와 함께 창업 후 경영인상을 수상하는 등 기업의 대표로서 승승장구하고 있다.

—<보기>—
 가. 갑은 을과 달리 역할 수행에 따른 보상을 받았다.
 나. 을은 갑과 달리 성취 지위와 귀속 지위에 따른 역할 갈등을 경험하였다.
 다. 갑, 을 모두 예기 사회화를 경험하였다.
 라. 갑, 을 모두 비공식적 사회화 기관에서 일하고 있다.

- ① 가, 나 ② 가, 다 ③ 다, 라
- ④ 가, 나, 라 ⑤ 나, 다, 라

11. 사회·문화 현상을 바라보는 서로 다른 관점 (가)~(다)에 대한 설명으로 옳은 것은? [3점]

- (가) 사회 규범은 대다수 구성원이 특정 행위에 규범이라는 의미를 부여함으로써 형성된다. 그들이 그 행위에 다른 의미를 부여하면 기존 규범은 역할을 상실하고 새로운 규범이 나타난다.
- (나) 사회 규범은 기존 질서 유지를 위한 기득권층의 의지가 반영되어 형성된다. 그들이 사회 규범을 마치 사회 전체의 합의인 것처럼 구성원들에게 강요함으로써 사회가 유지된다.
- (다) 사회 규범은 전체 구성원의 이익과 사회의 원활한 작동을 위해 형성된다. 이러한 사회 규범의 내용과 의미가 사회화를 통해 전승됨으로써 사회의 존속이 가능하다.

- ① (가)는 (다)와 달리 사회 갈등과 투쟁이 사회 발전의 원동력이라고 본다.
- ② (나)는 (가)와 달리 행위자의 주체적 능동성을 중시한다.
- ③ (나)는 (다)와 달리 사회 변동의 불가피성을 강조한다.
- ④ (다)는 (나)와 달리 주관적인 상황 정의를 중시한다.
- ⑤ (가), (다)는 (나)와 달리 사회 통합을 중시한다.

12. 갑~병의 문화 이해 태도에 대한 설명으로 가장 적절한 것은?

교사 : A국의 ◇◇ 축제에서는 재앙을 막아 주고 행운을 가져다 달라는 의미로 물소, 새 등 수십만 마리의 동물을 죽여서 제물로 바칩니다. 이에 대해 자신의 의견을 이야기해 봅시다.

갑 : 축제 중에 동물을 죽인다 해도 그것은 A국의 사회적 맥락이 반영된 고유한 문화이기에 존중해야 합니다.

을 : 고유한 문화로 인정해야 하지만, 그 전에 동물을 죽이는 것이 보편적인 가치를 훼손하는 것은 아닌지 검토해야 합니다.

병 : 축제에서 수십만 마리의 동물을 죽이는 A국의 관습은 야만적인 것입니다. 선진국인 우리나라의 동물 애호 정신을 배워서 A국은 이런 악습을 바꿔야 합니다.

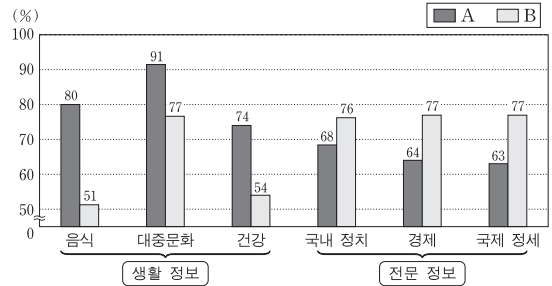
- ① 갑의 태도는 문화 간에 우열이 존재한다고 본다.
- ② 을의 태도는 극단적 문화 상대주의를 경계해야 한다고 본다.
- ③ 병의 태도는 자문화를 보다 객관적으로 파악하는 데 유용하다.
- ④ 갑의 태도는 병의 태도와 달리 문화 다양성 보존에 불리하다.
- ⑤ 을의 태도는 병의 태도와 달리 자문화의 정체성을 보존하는 데 유리하다.

13. 사회 변동을 바라보는 (가)의 관점을 통해 (나)의 관점을 비판한 것으로 옳은 것은? [3점]

- (가) 인류 사회는 일정한 방향으로 진보해 온 것이 아니라 시간의 흐름에 따라 생성, 성장, 쇠퇴, 소멸의 과정을 반복해 왔다. 사회 변동은 단선적 발전 과정이 아니라 주기적으로 반복되어 나타나는 것이다.
- (나) 인류 사회는 사회 변동을 통해 특정한 방향으로 진보해 왔다. 방향을 갖는다는 것은 단순한 사회로부터 복잡하고 분화된 사회로, 진보한다는 것은 새롭고 보다 나은 문명의 사회로 나아감을 의미한다.

- ① 사회 변동을 운명론적 관점으로만 설명하고 있다.
- ② 사회 변동을 대립과 갈등이라는 속성으로만 파악한다.
- ③ 사회 변동을 질서와 안정을 추구하는 것으로만 파악한다.
- ④ 사회 변동의 방향을 예측하기 어려워 역동적 대응이 곤란하다.
- ⑤ 사회 변동 과정에서 나타나는 사회의 멸망을 설명하기 어렵다.

14. 자료는 어떤 세대의 매체 이용 실태를 조사한 결과이다. 이에 대한 분석으로 옳은 것은? (단, A, B는 각각 전통적 영상 매체와 뉴미디어 중 하나이다.) [3점]



* 정보의 생산자와 소비자 간 경계의 명확성은 A < B임.
 ** 각각의 수치는 전체 응답자 중 해당 정보를 획득하기 위해 각 매체를 이용한 비율이며, 무응답은 없음.

- ① 생활 정보 획득에서 일방향 매체를 이용한 응답자보다 양방향 매체를 이용한 응답자가 많다.
- ② 전문 정보 획득에서 정보 재가공이 용이한 매체를 이용한 응답자보다 그렇지 않은 매체를 이용한 응답자가 적다.
- ③ A를 이용하여 생활 정보를 획득한 건수가 전문 정보를 획득한 건수보다 많다.
- ④ B를 이용하여 '경제' 정보를 획득한 사람은 모두 '국제 정세' 정보도 획득하였다.
- ⑤ A의 이용 비율과 B의 이용 비율 간의 차이는 생활 정보 획득에서보다 전문 정보 획득에서 더 크다.

15. 다음 과제를 적절하게 수행한 학생만을 <보기>에서 있는 대로 고른 것은?

● 표를 사용하여 진위 여부를 검증할 수 있는 진술을 만들어 보세요.

〈A국의 사회 지표 변동 추이〉

구분	연도	1970년	1990년	2010년
		1차 산업	50	17
산업별 취업자 비율(%)	2차 산업	15	27	18
	3차 산업	35	56	72
	계	100	100	100
대학 진학률(%)		27	33	82
노령화 지수		10	20	69

* 산업별 취업자 비율(%)=(해당 산업별 취업자 수/전체 취업자 수) × 100
 ** 대학 진학률(%)=(대학 진학자 수/고등학교 졸업자 수) × 100
 *** 노령화 지수=(노년 인구(65세 이상)/유소년 인구(0-14세)) × 100

〈보기〉

- ㄱ. 갑: 1970년 대비 2010년에 3차 산업 취업자 수는 2배 이상 증가하였다.
- ㄴ. 을: 1970년 대비 2010년에 고등학교 졸업자 증가율보다 대학 진학자 증가율이 더 높다.
- ㄷ. 병: 1990년 대비 2010년에 1차 산업 취업자 비율과 2차 산업 취업자 비율은 감소하였다.
- ㄹ. 정: 1990년에는 유소년 인구가 노년 인구보다 많지만, 2010년에는 유소년 인구가 노년 인구보다 적다.

- ① ㄱ, ㄷ
- ② ㄱ, ㄹ
- ③ ㄴ, ㄷ
- ④ ㄱ, ㄴ, ㄹ
- ⑤ ㄴ, ㄷ, ㄹ

16. (가), (나)는 교육 불평등 해소와 관련된 법 조항이다. 이에 대한 설명으로 옳은 것은?

(가)	제4조 ① 모든 국민은 성별, 종교, 신념, 인종, 사회적 신분, 경제적 지위 또는 신체적 조건 등을 이유로 교육에서 차별을 받지 아니한다.
(나)	제14조 ① 교육 책임자는 ... (중략) ... 다음 각 호의 수단을 적극적으로 강구하고 제공하여야 한다. 1. 장애인의 통학 및 교육기관 내에서의 이동 및 접근에 불이익이 없도록 하기 위한 각종 이동용 보장구의 대여 및 수리 2. 장애인 및 장애인 관련자가 필요로 하는 경우 교육보조 인력의 배치

- ① (가)는 평등한 교육 기회의 보장보다는 경쟁을 통한 교육 기회의 획득을 강조한다.
- ② (나)는 교육 불평등 해소를 위한 교육 접근 기회의 적극적인 지원을 강조한다.
- ③ (가)는 (나)와 달리 교육 기회 확대를 통한 삶의 질 향상을 추구한다.
- ④ (가)는 (나)와 달리 교육 결과의 평등을 구체적으로 실현하는 것을 추구한다.
- ⑤ (나)는 (가)와 달리 장애인을 위한 적극적 우대 조치 정책에 따른 교육 기회의 여차별 해소를 추구한다.

17. 다음은 사회 불평등 현상을 설명하는 이론이다. 이에 대한 옳은 설명을 <보기>에서 고른 것은?

생산 수단의 '소유'와 '소유의 결여'가 계급의 위치를 결정하는 기본적 요인임을 인정한다. 하지만 노동 시장에서 능력의 차이를 초래하는 소유의 종류나 기술, 신용, 자격 등도 계급 분화에 영향을 준다. 또한 개인이 다른 사람으로부터 받는 존경이나 개인이 누리는 명예, 위신에 의한 지위 집단 등도 사회 불평등 현상의 또 다른 차원으로 작동한다.

—<보기>—

- ㄱ. 중간 계급의 존재를 부정한다.
- ㄴ. 경제적 위치에 따른 집단 내 연대 의식을 강조한다.
- ㄷ. 사회 불평등에서 위계를 결정하는 기준이 다원적이다.
- ㄹ. 사회 불평등 현상을 연속선 상에 서열화된 것으로 본다.

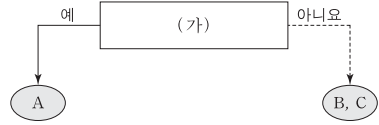
- ① ㄱ, ㄴ ② ㄱ, ㄷ ③ ㄴ, ㄷ ④ ㄴ, ㄹ ⑤ ㄷ, ㄹ

18. 하위문화의 유형인 A, B 문화의 일반적인 특징에 대한 설명으로 옳은 것은?

유형	사례
A 문화	1960년대 미국의 히피족은 정치적으로 베트남전 참전을 위한 징집을 거부하는 등 정부 정책에 도전하며 평화를 추구하고, 물질적 풍요와 편의성보다는 자연과 공존하는 생활 태도를 중시하였다.
B 문화	최근 2030세대는 이전의 젊은 세대에 비해 현재를 중시하는 삶의 방식을 보인다. 이들은 미래에 투자하기보다 현재의 행복과 즐거움을 위해 소비하는 경향을 보인다. 이는 "You only live once(당신의 삶은 한번 뿐이다)."의 줄임말인 "올로(YOLO)" 현상으로 설명되기도 한다.

- ① A 문화는 B 문화와 달리 전체 사회에 문화 다양성을 제공한다.
- ② B 문화는 A 문화와 달리 기존 문화에 저항하는 특징을 보인다.
- ③ A 문화나 B 문화에 속하는 것을 구분하는 기준은 상대적이다.
- ④ A 문화는 사회 통합에, B 문화는 사회 변동에 기여한다.
- ⑤ A 문화와 B 문화의 총합은 전체 문화이다.

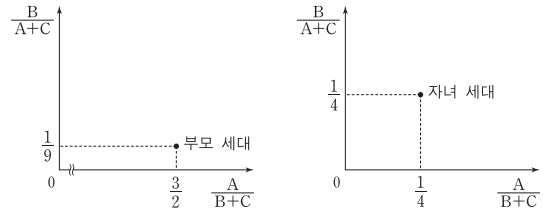
19. 그림은 우리나라 사회 보장 제도 A~C를 구분한 것이다. 이에 대한 분석으로 옳은 것은? (단, A~C는 각각 공공 부조, 사회 보험, 사회 서비스 중 하나이다.) [3점]



- ① A가 공공 부조이면, (가)에는 '금전적 지원을 원칙으로 하는가?'가 적절하다.
- ② A가 사회 보험이면, (가)에는 '강제 가입을 원칙으로 하는가?'가 적절하다.
- ③ A가 사회 서비스이면, (가)에는 '상호 부조의 성격이 강한가?'가 적절하다.
- ④ (가)가 '소득 재분배 효과가 가장 큰 제도인가?'이면, 기초 연금과 고용 보험은 각각 B, C 중 하나에 속한다.
- ⑤ (가)가 '상담, 재활, 사회 복지 시설 이용 등의 지원을 기본으로 하는가?'이면, B와 C의 대상자는 상호 배타적이다.

20. 다음 자료에 나타난 세대 간 계층 이동에 대한 옳은 분석을 <보기>에서 고른 것은? (단, A~C는 각각 상층, 중층, 하층 중 하나이다.) [3점]

<★★ 지역의 세대별 계층 간 상대적 비>



<자녀 세대에서 부모와 계층이 일치하는 사람 대비 불일치하는 사람의 비>

자녀 세대 계층		
A	B	C
0.25	4	1.5

- * 모든 부모의 자녀는 1명씩이고, 부모 세대의 계층 구조는 피라미드형임.
- ** 부모 세대 상층에서 자녀 세대 하층으로의 세대 간 이동은 없음.
- *** 다른 계층에서 중층으로 세대 간 이동한 경우는 모두 ★★ 지역의 산업 구조 변화로 인한 이동이며, 그 외의 이동은 모두 개인적 요인에 의한 것임.

—<보기>—

- ㄱ. 개인적 이동이 구조적 이동보다 많다.
- ㄴ. 부모 세대 계층 대비 계층 대물림 비율은 하층에서 가장 낮다.
- ㄷ. 중층으로의 세대 간 이동에서 상승 이동은 하강 이동의 5배이다.
- ㄹ. 부모 세대와 자녀 세대 간에 계층 이동을 한 사람은 계층이 대물림된 사람보다 적다.

- ① ㄱ, ㄴ ② ㄱ, ㄷ ③ ㄴ, ㄷ ④ ㄴ, ㄹ ⑤ ㄷ, ㄹ

* 확인 사항

- 답안지의 해당란에 필요한 내용을 정확히 기입(표기)했는지 확인 하시오.

1. ㉓ 2. ㉑ 3. ㉑ 4. ㉔ 5. ㉓ 6. ㉕ 7. ㉔ 8. ㉑ 9. ㉔ 10. ㉓
11. ㉓ 12. ㉒ 13. ㉕ 14. ㉑ 15. ㉕ 16. ㉒ 17. ㉓ 18. ㉓ 19. ㉒ 20. ㉓

1. 사회·문화 현상과 자연 현상의 특징 비교

정답 해설 : ㉑, ㉓은 자연 현상, ㉒, ㉔은 사회·문화 현상이다. 물가지적이고 확실성의 원리가 적용되는 것은 자연 현상이고, 당위 법칙이 적용되고 보편성 및 특수성이 공존하는 것은 사회·문화 현상이며, 경험적 자료에 의해 연구할 수 있는 것은 자연 현상과 사회·문화 현상의 공통적인 특징이다. **정답 ㉓**

[오답피하기]

- ① 같은 ㉑, ㉓에 대해 잘못 응답하였다.
② 을은 ㉑에 대해 잘못 응답하였다.
③ 정은 ㉑, ㉓, ㉔에 대해 잘못 응답하였다.
④ 무는 ㉑, ㉓에 대해 잘못 응답하였다.

2. 연구 율리에 대한 분석

정답 해설 : ㄱ, ㄴ, ㄷ은 결론에 호의적인 미혼자를 대상으로만 조사하였고 수집한 자료에 대해서는 엄격하게 분석하였다. 자료 수집 단계에서 의도적으로 왜곡된 자료를 수집하였으나 자료 분석 단계에서 자료를 선별하여 분석한 것은 아니다. 이와는 달리 을은 해당 기업의 주식 관련 자료를 모두 수집한 후 주가 상승을 예측한 자료만 분석하였다는 점에서 자료 수집이 아닌 자료 분석 단계에서 고의로 자료를 선별하여 분석하였다. **정답 ㉑**

[오답피하기]

- ㄷ. 같은 분석 결과의 일부를 은폐하여 발표하지 않았다. 을은 주가 상승 폭이 최대치로 예측된 분석 내용을 근거 자료로 제시하였다는 점에서 분석 결과의 일부를 은폐하여 발표하였다.
ㄹ. 같은 결론 정보 회사를 운영하는 친구에게 연구 대상의 개인 정보를 제공하였다는 점에서, 수집한 자료를 연구 외의 목적으로 유출하였다.

3. 가족 형태의 변화를 바라보는 관점의 비교

정답 해설 : (가)는 갈등론적 관점, (나)는 기능론적 관점이다. ㉑ 남성 중심의 권위주의적인 전통적 가족 관계에 저항하는 과정에서 가족 형태의 변화가 일어나고 있다는 데에서 확인할 수 있듯이, 갈등론은 가족 구성원 간의 갈등을 당연한 것으로 본다. **정답 ㉑**

[오답피하기]

- ㉒ 기능론적 관점과 갈등론적 관점 모두 거시적 관점으로, 가족 형태의 변화 원인을 구성원의 의식 변화에서 찾지 않는다.

낙인 이론은 특정 행동에 대한 주변 사람들의 반응과 이에 대한 일탈자의 수용이 2차적 일탈을 초래한다고 본다. 그리고 차별적 교제 이론은 주변 사람들과의 상호 작용을 통해 일탈이 학습된다고 본다. 두 이론 모두 타인들과의 상호 작용이 일탈 발생 과정에 영향을 미친다고 본다. **정답 ㉓**

[오답피하기]

- ① 일탈 규정에 대한 신중한 접근은 낙인 이론에서 강조된다.
② 일탈자에 대한 사회 통제와 규제 강화 방안 마련은 아노미 이론에서 강조된다.
③ 차별적인 제재는 낙인 이론에서 주목한다.
④ 아노미 이론은 거시적 관점으로 분류되기 때문에, 일탈 행동의 원인을 개인적 차원에서 찾지 않는다.

7. 사회 집단 관련 개념에 대한 이해

정답 해설 : ㉔ 국제청과 대학교 총학생회는 특정 목적을 달성하기 위해 형성된 조직으로 구성원의 역할과 책임이 명확하게 구별되므로 공식 조직이다. 이와는 달리 소속된 기획사의 봉사 동아리는 비공식 조직이다. **정답 ㉔**

[오답피하기]

- ① ㉑은 갑의 내집단이다. ㉒은 갑이 소속된 집단이 아니기 때문에 내집단이 될 수 없다.
② 연예인 야구단은 자발적 결사체이나 국제청은 자발적 결사체가 아니다.
③ 가족은 1차 집단이나 총동창회는 1차 집단이 아니다.
④ 가족은 공동 사회이나 방송국과 연예인 야구단은 이익 사회이다.

8. 개인과 사회의 관계를 보는 관점에 대한 이해

정답 해설 : 지문 마지막 부분의 "개인은 이 특성으로부터 자유로울 수 없다."에서 확인할 수 있듯이, 지문에는 사회 실재론이 부각되어 있다. ㄱ. 사회 실재론에 따르면, 개인의 행동은 사회 구조의 영향을 받아 나타난다. 즉, 개인은 구조화된 행동을 한다. ㄴ. 사회 실재론은 개인보다 사회의 우월성을 강조하면서, 개인은 사회 속에서만 존재 의미를 갖는다고 본다. **정답 ㉑**

[오답피하기]

- ㄷ. 개인의 자율적인 의지는 사회 명목론에서 강조된다.
ㄹ. 사회 명목론은 개인의 속성에 의해 사회의 속성이 결정된다고 본다.

9. 자료 수집 방법에 대한 이해

정답 해설 : A는 질문지법, B는 면접법, C는 참여 관찰법이다. ㉔ 연구자와 연구 대상 간 신뢰감이 형성될 때 진술한 대화를 나눌 수 있다는 점에서, 면접법에서는 신뢰감 형성이 중요하다. 참여 관찰법 또한 연구자와 신뢰감이 형성되지 않을 경우, 연구 대상은 연구자를 경계할 수 있으며 이는 실제성 있는 자료를 수집하는데 방해물로 작용한다. **정답 ㉔**

③ 기능론적 관점과 갈등론적 관점 모두 거시적 관점으로, 가족 형태의 변화 원인을 사회 구조의 영향력에서 찾는다.

- ④ (가)는 가족 구성원 간의 갈등을 평등한 가족 관계의 확산으로 해결할 수 있다고 본다.
⑤ 현대 사회의 가족 형태 변화를 (나)는 가족 해체의 결과로, (가)는 가족 형태의 다양화로 본다.

4. 문화 변동 사례에 대한 분석

정답 해설 : A는 자극 전파, B는 간접 전파, C는 직접 전파이다. 그리고 (가)는 문화 공존, (나)는 문화 융합, (다)는 문화 동화이다. ㉔ 식민 지배 과정에서 나타난 문화 변동이므로 그 요인은 직접 전파이고, 식민 지배한 나라의 언어와 자국의 전통 언어를 공용어로 사용하는 것은 문화 공존에 해당한다. **정답 ㉔**

[오답피하기]

- ① 다른 나라의 종교 교리와 체계를 응용하여 만든 신종교는 자극 전파에는 해당하지만, 신종교가 기존 종교를 대체한 것은 문화 공존이 아니다.
② 새로운 정보 통신 기술을 개발한 것은 문화 변동의 요인 중 발명에 해당한다.
③ 외국인이 한국어를 배우러 한국어에 와서 정착한 것이 문화 동화의 사례는 아니다. 정착해 살지만 자기 나라의 문화를 유지할 수도 있기 때문이다.
⑤ 이웃 나라의 특정 요리가 교역을 통해 들어와 자국민이 즐겨 마시는 요리가 된 것은 문화 융합의 사례가 아니다.

5. 양적 연구와 질적 연구에 대한 분석

정답 해설 : ㉓ 갑의 연구에서 행복감은 종속 변수, 소득 수준과 물질주의적 가치관은 독립 변수이다. 월평균 수입 정도는 소득 수준, 삶에서 돈이 중요하다고 생각하는 정도는 물질주의적 가치관을 측정하기 위한 것으로, 독립 변수에 대한 조작적 정의에 해당한다. **정답 ㉓**

[오답피하기]

- ① 행복감은 갑의 연구에서 종속 변수이나 을의 연구에서는 종속 변수가 아니다.
② 표본은 설문 조사 대상자인 1,000명이다.
③ 갑이 어떤 가설을 설정하였느냐가 나타나 있지 않기 때문에 가설의 수용 여부를 알 수 없다. 다만, 가설을 세워 가설이 수용되는 결과가 나오든지 또는 기각되는 결과가 나오든지 가설이 검증된 것은 맞다.
⑤ 두 연구 결과에 대한 자료를 수집하고 이를 토대로 결론에 도달하였다는 점에서, 귀납적 추론을 통해 도출한 결론이며, 결론이 을의 연구와는 무관하다는 점에서 타당한 결론으로 볼 수 없다.

6. 일탈 이론에 대한 이해

정답 해설 : (가)는 아노미 이론, (나)는 낙인 이론, (다)는 차별적 교제 이론이다. ㉓

[오답피하기]

- ① 연구 대상의 주관적 인식은 질문지법을 통해서도 파악할 수 있다.
② 다수를 대상으로 자료를 수집하기 용이한 것은 질문지법이다.
③ 연구자의 주관적 통찰은 질적 연구에서 중시되며, 면접법과 참여 관찰법 모두 질적 연구에서 주로 사용된다.
④ 자료 수집 상황에 대한 통제 수준은 질문지법 > 면접법 > 참여 관찰법이다.

10. 사회화 관련 개념에 대한 이해

정답 해설 : ㄷ. 갑은 첫 출산을 앞두고 예비 부모 교실에서 사회화를 경험하였고 을은 입사 전 신입 사원 연수를 받았다. 갑, 을 모두 예기 사회화를 경험하였다. ㄹ. 갑의 IT 회사와 을의 회사는 비공식적 사회화 기관이다. **정답 ㉓**

[오답피하기]

- ㄱ. 갑이 개발한 앱으로 많은 부와 명예를 누리고 있는 것이나 을이 경영인 상을 수상한 것은 모두 역할 수행에 따른 보상이다.
ㄴ. 자녀 양육을 둘러싸고 갑이 경험한 남편과의 갈등, 회사를 계속 다닐지에 대한 울의 고민 모두 한 사람의 2개 이상의 역할이 충돌되어 나타난 상황이다. 즉 갑과 을 모두 역할 갈등을 경험하지 않았다.

11. 사회 문화 현상을 바라보는 관점에 대한 비교

정답 해설 : (가)는 상징적 상호 작용론, (나)는 갈등론적 관점, (다)는 기능론적 관점이다. ㉓ 사회 안정과 질서 유지를 강조하는 기능론적 관점과 달리 갈등론적 관점은 집단 간 갈등으로 사회 변동은 불가피하다고 주장한다. **정답 ㉓**

[오답피하기]

- ① 사회 갈등과 투쟁이 사회 발전의 원동력이라고 보는 것은 갈등론적 관점이다.
② 행위자의 주체적 능동성을 중시하는 것은 상징적 상호 작용론이다.
④ 행위자의 주관적인 상황 정의를 중시하는 것은 상징적 상호 작용론이다.
⑤ 사회 통합을 중시하는 것은 기능론적 관점이다.

12. 문화 이해 태도에 대한 비교

정답 해설 : 갑은 문화 상대주의 태도를 가지고 있고, 을은 극단적 문화 상대주의를 경계하고 있으며, 병은 자문화 중심주의 태도를 갖고 있다. ㉒ 을은 문화 상대주의적 태도를 가져야 하지만 특정 문화 현상이 보편적 가치를 훼손해서는 안된다고 주장하고 있다. 극단적 문화 상대주의를 경계하고 있음을 알 수 있다. **정답 ㉒**

[오답피하기]

- ① 문화 상대주의는 문화 간 우열이 있다는 것을 부정한다.
③ 자문화 중심주의는 자기 문화를 기준으로 다른 문화를 평가하기 때문에 자문화를 객관적으로 파악하지 못한다.

- ④ 문화 상대주의는 문화 다양성 보존에 유리하다.
- ⑤ 자문화 중심주의가 자문화의 정체성을 유지하는 데 유리하다.

13. 사회 변동을 바라보는 관점에 대한 이해

정답 해설 : (가)는 순환론, (나)는 진화론이다. ⑤ 진화론은 사회가 바람직한 방향으로 변해간다고 주장하지만, 순환론은 사회는 발전하기도 하지만 소멸하기도 한다고 주장한다. 따라서 순환론의 입장에서 진화론이 사회 변동 과정에서 나타나는 사회의 멸망을 설명하기 어렵다고 비판한다. **정답 ⑤**

[오답피하기]

- ① 사회 변동을 운명론적 관점에서 설명하는 것은 순환론이다.
- ② 사회 변동을 대립과 갈등이라는 속성으로만 파악하는 것은 갈등론적 관점이다.
- ③ 사회 변동을 질서와 안정을 추구하는 것으로만 파악하는 것은 기능론적 관점이다.
- ④ 진화론은 사회 변동의 방향을 예측하여 역동적으로 대응할 수 있다고 본다.

14. 매체 이용 실태에 대한 분석

정답 해설 : 정보의 생산자와 소비자 간 경계의 명확성은 전통적 영상 매체가 높다. 따라서 A는 뉴미디어, B는 전통적 영상 매체이다. ① 일방향 매체는 전통적 영상 매체, 양방향 매체는 뉴미디어이다. 생활 정보 획득에서는 뉴미디어를 이용하는 응답자가 많으므로 옳은 분석이다. **정답 ①**

[오답피하기]

- ② 정보 재가공이 용이한 매체는 뉴미디어이다. 전문 정보 획득에서 전통적인 영상 매체를 이용한다는 응답자가 많다.
- ③ 주어진 자료를 통해 건수는 비교할 수 없다.
- ④ 경제 정보를 획득한 사람이 국제 경제 정보도 획득하였다고 단정할 수 없다.
- ⑤ 두 매체 간 이용 비율의 차이는 전문 정보 획득보다 생활 정보 획득에서 더 크다.

15. 사회 지표 변동 추이에 대한 분석

정답 해설 : ㄴ. 대학 진학률이 높아지고 있다는 사실에서 고등학교 졸업자 증가율보다 대학 진학자 증가율이 더 높다는 것을 파악할 수 있다. ㄷ. 표에 따르면, 1990년 대비 1차 산업 취업자 비율과 2차 산업 취업자 비율 모두 감소하였다.

ㄹ. 노령화 지수에 따르면 1990년과 2010년 모두 유소년 인구가 노년 인구보다 많다. 정의 진술이 틀렸다고 판별할 수 있기 때문에, 검증이 가능한 진술이다. **정답 ⑤**

[오답피하기]

- ㄱ. 산업별 취업자 비율만 나와 있고 전체 취업자 수는 나와 있지 않기 때문에 3차 산업 취업자 수가 2배 이상 증가하였는지는 알 수 없다. 즉, 갑의 진술은 진위 여부를 검증할 수 없다.

16. 교육 불평등 해소와 관련된 법 조항의 의미 이해

정답 해설 : ② (나)에서는 각종 이동용 보장구의 대여와 수리, 교육 보조 인력의 배치 등과 같은 장애인에 대한 적극적 지원을 통해 교육 접근 기회를 실현하고자 한다. **정답 ②**

[오답피하기]

- ① (가)는 교육에 있어 차별받지 않아야 한다는 점을 규정하고 있다. 즉 교육 기회의 보장을 강조하고 있다.
- ③ (가), (나) 모두 교육 기회의 보장을 강조하고 이는 삶의 질 향상에 기여할 것이다.
- ④ (가)에서 직접적으로 교육 결과의 평등을 추론할 수 없고 (나)가 더 구체적인 내용을 담고 있다.
- ⑤ 적극적 우대 조치가 역차별을 초래할 수 있다.

17. 사회 불평등을 보는 계층 이론에 대한 이해

정답 해설 : 지문은 계층 이론을 설명하고 있다. ㄷ. 계층 이론은 사회 불평등에서 위계를 결정하는 기준으로 경제적 계급은 물론 정치적 권력과 사회적 위신 등도 중시한다. 즉, 기준이 다원적이다.

ㄹ. 계급 이론은 비연속적, 이분법적으로 계급을 구분하나 계층 이론은 계층화 현상이 연속적, 복합적으로 나타나는 서열화임을 강조한다. **정답 ⑤**

[오답피하기]

- ㄱ. 중간 계급의 존재를 부정하는 것은 계급 이론이다.
- ㄴ. 경제적 위치에 따른 자본가와 노동자라는 계급의식, 즉 같은 계급 내 연대 의식을 강조하는 것은 계급 이론이다.

18. 하위문화와 반문화에 대한 이해

정답 해설 : (가)는 반문화, (나)는 하위문화이다. ③ 전체 문화의 범주를 어떻게 규정하느냐에 따라 하위문화의 범주는 상대적이며, 반문화 또한 시대와 사회에 따라 반문화에 대한 규정이 달라질 수 있다는 점에서 상대적이다. **정답 ③**

[오답피하기]

- ① 반문화와 하위문화 모두 전체 사회에 문화 다양성을 제공한다.
- ② 기존 문화에 저항하는 특징을 보이는 것은 반문화이다.
- ④ 반문화는 집단 갈등을 조장함으로써 사회 혼란을 초래하기도 한다. 따라서 반문화는 사회 통합에 기여한다고 볼 수 없다.
- ⑤ 반문화와 하위문화의 총합이 전체 문화는 아니다.

19. 여러 가지 사회 보장 제도에 대한 이해

정답 해설 : ② A가 사회 보험이면, (가)에는 '강제 가입을 원칙으로 하는가?'가 들어갈 수 있다. 공공 부조와 사회 서비스와 달리 사회 보편은 강제 가입을 원칙으로 하

기 때문이다.

정답 ②

[오답피하기]

- ① A가 공공 부조이면, (가)에는 '금전적 지원을 원칙으로 하는가?'가 들어갈 수 없다. 공공 부조는 물론 사회 보험 또한 금전적 지원을 원칙으로 하기 때문이다.
- ③ A가 사회 서비스라면, (가)에는 '상호 부조의 성격이 강한가?'는 들어갈 수 없다. 상호 부조의 성격이 강한 것은 사회 보험이기 때문이다.
- ④ 소득 재분배 효과가 가장 큰 제도는 공공 부조이다. 따라서 B와 C는 각각 사회 보험과 사회 서비스 중 하나이다. 기초 연금은 공공 부조이고 고용 보험은 사회 보험에 해당한다.
- ⑤ 상담, 재활, 사회 복지 시설 이용 등에 대한 지원은 사회 서비스의 특징이다. 따라서 B와 C는 각각 사회 보험과 공공 부조 중 하나이다. 기초 연금 수급자가 국민 건강 보험 대상자가 될 수 있다는 점에서, 사회 보험과 공공 부조의 대상자는 상호 배타적이지 않다.

20. 세대 간 계층 이동에 대한 분석

정답 해설 : 부모 세대에서 A:B:C는 6:1:3이다. 부모 세대의 계층 구조가 피라미드형이므로 A는 하층, B는 상층, C는 중층이다. 즉, 부모 세대의 계층 비율은 상층 10%, 중층 30%, 하층 60%이다. 그리고 자녀 세대에서 A:B:C는 1:1:3이다. 따라서 자녀 세대의 계층 비율은 상층 20%, 중층 60%, 하층 20%이다. 그리고 자녀 세대 하층에서 부모와 계층이 일치하는 사람 대비 불일치하는 사람의 비는 0.25이므로, 자녀 세대 하층에서 부모와 계층이 일치하는 사람이 전체에서 차지하는 비율은 16%이고 불일치하는 사람의 비율은 4%이다. 자녀 세대 상층에서 부모와 계층이 일치하는 사람이 전체에서 차지하는 비율은 4%이고 불일치하는 사람의 비율은 16%이다. 자녀 세대 중층에서 부모와 계층이 일치하는 사람이 전체에서 차지하는 비율은 24%이고 불일치하는 사람의 비율은 36%이다. 부모 세대 상층에서 자녀 세대 하층으로의 세대 간 이동은 없으므로 이를 총합하여 세대 간 이동을 표로 나타내면 다음과 같다.

구분	부모 세대 계층			계	
	상	중	하		
자녀 세대 계층	상	4	2	14	20
	중	6	24	30	60
	하	0	4	16	20
계	10	30	60	100	

ㄴ. 부모 세대 계층 대비 계층 대물림 비율은 상층 4/10, 중층 24/30, 하층 16/60이다. 하층이 가장 낮다.

ㄷ. 중층으로의 세대 간 이동에서 상승 이동은 30%, 하강 이동은 6%이다. **정답 ④**

[오답피하기]

- ㄱ. 개인적 이동은 20%(16%+4%)이고 구조적 이동은 36%(6%+30%)이다.
- ㄹ. 세대 간 이동 비율은 56%이고 계층이 대물림된 비율은 44%이다.

제 4 교시

사회탐구 영역(사회·문화)

성명 수험 번호

1. 밑줄 친 ㉠~㉣과 같은 현상의 일반적인 특징에 대한 질문에 모두 옳게 응답한 학생은?

㉠ 바닷물에서 소금을 얻기는 의외로 까다롭다. 3.5% 정도의 염분이 들어 있는 바닷물에서 소금을 얻으려면, ㉡ 염전을 조성해야 한다. 이를 위해서는 풍부한 일조량과 적당한 ㉢ 조수 간만의 차가 필요하다. 이러한 조건들을 모두 갖춘 우리나라 서해안은 ㉣ 천일염 생산의 최적지로 유명하다.

질문	갑	을	병	정	무
㉠과 같은 현상은 개연성의 원리가 적용되는가?	×	○	×	○	○
㉡과 같은 현상은 존재 법칙의 지배를 받는가?	×	○	×	×	×
㉢과 같은 현상은 물가치적인 현상인가?	○	×	○	○	○
㉣과 같은 현상은 보편성과 특수성이 공존하는가?	○	○	×	×	○

(○: 예, ×: 아니오)

- ① 갑 ② 을 ③ 병 ④ 정 ⑤ 무

2. (가), (나)는 사회 계층화 현상을 설명하는 서로 다른 이론이다. 이에 대한 옳은 설명을 <보기>에서 고른 것은?

(가) 사회 구조 차원에서 볼 때, 부·명예·권력의 분배가 똑같은 원칙에 의해 결정되는 것은 아니다. 가령 명예의 분배는 시장의 작동 원리뿐만 아니라 사회적 관습이나 가치관에 의해서도 결정된다. 어떤 경우, 명예를 중시하는 사람들은 돈이 많다고 자랑하는 사람들을 멸시하기도 한다.
 (나) 자본주의 사회의 불평등 구조 배후에는 자본, 기계, 원료 등 생산에 필요한 물질에 대한 소유 여부가 존재한다. 이를 소유한 집단은 그들의 이익을 정당화하는 관념을 마치 사회의 보편적 가치인 것처럼 모든 구성원에게 주입한다.

<보기>

- ㄱ. (가)는 (나)에 비해 동일한 경제적 위치에 기반한 강한 귀속 의식을 강조한다.
 ㄴ. (가)는 (나)와 달리 이분화된 불평등 구조를 설명하기에 용이하다.
 ㄷ. (나)는 (가)와 달리 지위 불일치 현상을 설명하는 데 적합하지 않다.
 ㄹ. (가), (나)는 모두 사회 불평등 현상에 경제적 요인이 작용한다고 본다.

- ① ㄱ, ㄴ ② ㄱ, ㄷ ③ ㄴ, ㄷ ④ ㄴ, ㄹ ⑤ ㄷ, ㄹ

3. 사회 집단과 사회 조직의 유형 A~E에 대한 설명으로 옳은 것은? [3점]

○ A와 B는 구성원 간의 접촉 방식에 따라 분류한 것으로 A는 구성원들이 대면 접촉을 통해 전인격적인 관계를 맺는 집단이다.
 ○ C와 D는 구성원의 결합 의지에 따라 분류한 것으로 C는 구성원의 선택 의지에 의해 결합된 집단이다.
 ○ E는 다원화된 현대 사회에서 공통 관심과 목표를 가진 사람들이 자발적으로 결성한 집단이다.

- ① A에서는 B와 달리 특정 목적을 달성하기 위한 인간관계가 주로 나타난다.
 ② D에서는 E와 달리 구성원의 가입과 탈퇴가 자유롭다.
 ③ A, D에서는 모두 형식적 인간관계가 주로 나타난다.
 ④ B, C에서는 모두 법적 제재보다 관습적 제재가 주로 적용된다.
 ⑤ 시민 단체와 이익 집단은 모두 C이면서 E에 속한다.

4. 표는 자료 수집 방법을 구분한 것이다. A~D의 일반적인 특징에 대한 설명으로 옳은 것은? (단, A~D는 각각 면접법, 실험법, 질문지법, 참여 관찰법 중 하나이다.)

질문	자료 수집 방법			
	A	B	C	D
질적 자료를 수집하는 데 용이한가?	×	○	○	×
연구 대상자와의 언어적 상호 작용이 필수적인가?	×	×	○	○

(○: 예, ×: 아니오)

- ① A는 B보다 일상생활을 심층적으로 파악하기 어렵다.
 ② B는 C보다 예상치 못한 상황에 대한 통제가 용이하다.
 ③ C는 D보다 조사 대상자로부터 깊이 있는 답변을 유도하기 어렵다.
 ④ D는 A보다 대규모 집단을 대상으로 자료를 수집하기 어렵다.
 ⑤ A, D는 B, C보다 연구자의 편견이 개입될 가능성이 크다.

5. 밑줄 친 ㉠~㉣에 대한 설명으로 옳은 것은? [3점]

‘청소년의 친구 관계와 비행 간의 인과 관계’를 연구 주제로 선택한 갑은 ㉠ ‘비행 친구와의 교제가 많을수록 비행 경험이 많아진다.’ 라는 가설과 ㉡ ‘비행 경험이 많을수록 비행 친구와의 교제가 많아진다.’ 라는 서로 다른 가설을 세웠다. 갑은 전국의 고등학생 중 ㉢ 도시 지역 남학생 500명과 ㉣ 농촌 지역 여학생 500명을 무작위로 추출하여 ㉤ 자신의 비행 횟수, ㉥ 비행 경험이 있는 친구의 수 등을 포함하는 ㉦ 설문 조사를 실시하였다. 분석 결과, 두 가설 중에 후자를 수용하는 ㉧ 결론을 내렸다.

- ① ㉢과 ㉣은 모두 실험 집단이다.
 ② ㉤을 알아보기 위해 수집한 자료는 2차 자료이다.
 ③ ㉥은 ㉠ 가설의 독립 변수와 ㉡ 가설의 종속 변수를 조작적으로 정의한 것이다.
 ④ ㉦에서는 연구 대상자의 주관적 인식을 묻지 않아야 한다.
 ⑤ ㉧은 모집단을 대상으로 일반화할 수 있다.

6. 다음에서 공통적으로 나타나는 사회·문화 현상의 탐구 태도에 대한 진술로 가장 적절한 것은? [3점]

- 사회학자의 임무는 어떤 사회·문화 현상에 대해 정확하게 보고하는 것이다. 사회학자의 보고에는 그의 취향이나 선호가 반영되지 않아야 한다.
- 사회학의 연구 대상은 경험한 것이나 경험할 수 있는 것에 한정되어야 한다. 또한 사회학자는 인간의 삶과 행위의 관찰 과정에서 제3자의 관점을 취해야 한다.

- ㉠ 사회·문화 현상을 보는 관점이 다양할 수 있음을 인정해야 한다.
- ㉡ 사회·문화 현상의 탐구 시 주관적 가치와 이해관계를 배제해야 한다.
- ㉢ 사회·문화 현상의 탐구 시 해당 사회의 문화적 맥락을 고려해야 한다.
- ㉣ 사회·문화 현상의 복잡성을 인정하고 이면의 원인 파악을 위해 노력해야 한다.
- ㉤ 사회·문화 현상에 대한 연구 결과가 사회에 미칠 수 있는 영향을 고려해야 한다.

7. 밑줄 친 ㉠~㉤에 대한 설명으로 옳은 것은? [3점]

□□영화제에서 ㉠ 신인상을 받으셨습니다. 영화계에 입문한 계기는 무엇입니까?

○○대학 시절 인문학부의 ㉡ 공연 관람 동아리 활동을 통해 ㉢ 연극배우가 되겠다고 결심을 하였습니다. 졸업 후, ㉣ ◇◇대학 연극학과에 합격하였지만 영화 오디션을 통해 주연으로 발탁되어 입학을 포기하고 영화배우가 되었습니다.

올해 새로운 대중 영화에 출연하였고 △△ 독립 영화제 ㉤ 집행 위원장까지 맡으셨는데요, 어려운 점은 없나요?

독립 영화제의 홍보에 힘쓸지, 제가 출연한 영화의 홍보에 힘쓸지 ㉤ 고민이 큼니다.

- ㉠ ㉠은 갑의 역할에 대한 보상이다.
- ㉡ ㉡과 ㉢은 모두 공식적 사회화 기관이다.
- ㉢ ㉢과 ㉣은 모두 갑의 성취 지위이다.
- ㉣ ㉣에서 갑은 재사회화를 경험하였다.
- ㉤ ㉤은 갑의 역할 갈등이다.

8. (가), (나)에 나타난 개인과 사회의 관계를 바라보는 관점에 대한 설명으로 옳은 것은?

- (가) 사회화는 사회가 바람직하다고 여기는 행위 양식을 개인에게 내면화시키는 과정이다. 개인은 주어진 행위 양식 이외에 다른 선택이 있다는 사실조차 인식하지 못한다. 사회 속 개인의 어떠한 행위 양식도 개인이 스스로 만들어 내는 경우는 없다.
- (나) 사회화는 단순히 정보를 받아들이는 일방적인 과정이 아니라, 자신의 상황에 따라 외부의 대상을 재구성하고 그것에 의미를 부여하는 동적인 과정이다. 대상은 현실 세계에 객관적으로 존재하는 것처럼 보이지만, 정작 실재하는 것은 개별 행위자들이 대상에 부여하는 다양한 의미이다.

- ㉠ (가)의 관점은 사회가 개인의 외부에서 독자적으로 작동한다고 본다.
- ㉡ (나)의 관점은 개인이 사회에 의해 구조화된 행동을 한다고 본다.
- ㉢ (가)의 관점은 (나)의 관점과 달리 사회 현상은 개인의 자율적인 의지에 의해 만들어진다고 본다.
- ㉣ (나)의 관점은 (가)의 관점과 달리 개인은 사회 속에서만 존재 의미를 가질 수 있다고 본다.
- ㉤ (가), (나)의 관점은 모두 개인의 자율성이 사회 규범의 구속성보다 우선한다고 본다.

9. 밑줄 친 ㉠~㉤에 나타난 문화의 속성에 대한 옳은 설명을 <보기>에서 고른 것은?

갑국의 ○○는 면발을 물에 끓여 먹던 △△에서 유래한 것이다. ○○는 ㉠ 기름에 튀겨 면발을 가공하는 기술이 △△에 접목되어 새롭게 만들어진 것이다. ㉡ 쌀 위주의 식생활을 하는 갑국에서 밀가루 음식인 ○○가 처음에는 국민들의 관심을 끌지 못했다. 그러나 국민들은 ○○를 ㉢ 간편하게 먹을 수 있다는 것을 알게 되었고, 갑국 정부는 쌀 부족으로 인한 식량 문제를 해결하기 위해 분식을 장려하였다. 이제 ○○는 ㉣ 국민 대다수가 즐겨 먹는 음식이 되었다.

<보기>

- ㉠ ㉠은 전승된 문화를 바탕으로 새로운 문화가 창출된다는 것을 보여 준다.
- ㉡ ㉡은 문화가 후천적으로 습득된다는 것을 보여 준다.
- ㉢ ㉢은 ㉠과 달리 문화 현상이 고정된 것이 아니라 지속적으로 변화함을 보여 준다.
- ㉣ ㉣, ㉤은 모두 문화가 구성원의 사고와 행동을 구속한다는 것을 보여 준다.

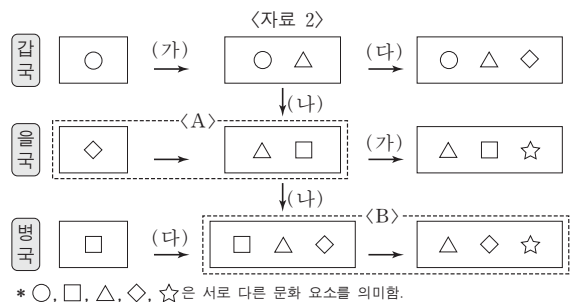
- ㉠ ㉠, ㉡ ㉡ ㉠, ㉢ ㉢ ㉡, ㉣ ㉣ ㉡, ㉣ ㉤ ㉢, ㉣

10. 다음 자료에 대한 옳은 분석만을 <보기>에서 있는 대로 고른 것은? [3점]

<자료 1>은 문화 변동의 요인을 (가)~(다)로 분류한 것이며, <자료 2>는 갑~병국의 문화 변동 과정을 도식화한 것이다. 단, (가)~(다)는 각각 발견, 발명, 직접 전파 중 하나이며, 제시된 것 이외의 다른 문화 변동은 없다.

<자료 1>

문화 변동의 요인	(가)	(나)	(다)
질문			
문화 변동의 내재적 요인인가?	예	아니오	예
존재하지 않았던 새로운 문화 요소를 만들어 내었는가?	아니오	아니오	예



<보기>

- ㉠ A, B에는 모두 문화 요소의 추가 및 소멸 과정이 포함되어 있다.
- ㉡ 갑국에서 발명으로 나타난 문화 요소는 병국에서도 나타났다.
- ㉢ 갑국에서 (가)로 인해 나타난 문화 요소는 (나)로 인해 병국으로 전달되었다.
- ㉣ 을국에는 병국에서와 달리 자국의 문화 요소와 갑국의 문화 요소가 공존하고 있다.

- ㉠ ㉠, ㉡ ㉡ ㉠, ㉣ ㉢ ㉡, ㉣
- ㉣ ㉠, ㉡, ㉢ ㉤ ㉡, ㉢, ㉣

11. (가), (나)의 사례에 대한 설명으로 옳은 것은?

(가) 인터넷 및 스마트폰의 보급으로 누구나 온라인 게임을 손쉽게 접할 수 있게 되었다. 이제 온라인 게임은 청소년뿐만 아니라 중장년층 및 노년층까지 전 세대가 즐기는 대중적 문화가 되었다.
 (나) 최근 청소년들은 그들끼리만 통하는 언어를 사용한다. 인터넷 용어를 축약하여 표현하거나, 자음만으로 의사를 표현하는 등의 방법으로 신조어와 은어를 만들어 사용한다. 기성세대가 청소년들의 언어문화를 이해하지 못하여, 세대 간 의사소통의 장애가 발생하고 있다.

- ① (가)에서는 물질문화 변동으로 인해 하위문화가 전체 문화로 변화되었다.
- ② (나)에서는 하위문화로 인해 세대 문화 간의 이질성이 약화되었다.
- ③ (가)는 (나)와 달리 문화 지체 현상을 포함하고 있다.
- ④ (나)는 (가)와 달리 반문화의 범위가 확장된 사례이다.
- ⑤ (가), (나)는 모두 특정 집단의 문화가 기존의 주류 문화를 대체한 사례이다.

12. 다음과 같이 A~C를 분류할 때, 이에 대한 옳은 설명을 <보기>에서 고른 것은? (단, A~C는 각각 농업 사회, 산업 사회, 정보 사회 중 하나이다.) [3점]

질문	사회	A	B	C
1차 산업 중심의 전통적인 사회인가?	(가)	(나)	(다)	
(라)	아니오	예	아니오	

<보기>
 가. (가)가 '예' 라면, 가정과 일터의 분리 정도는 A<B로 나타난다.
 나. (다)가 '예' 라면, 구성원 간의 비대면 접촉 정도는 A<C로 나타난다.
 다. (가)가 '예', (라)가 '양방향 미디어가 보편적으로 사용되는 사회인가?' 라면, 전자 상거래 비중은 B>C로 나타난다.
 르. (다)가 '예', (라)가 '업무의 표준화 방식이 보편화되기 시작하였는가?' 라면, 기술 발전의 속도는 A<B로 나타난다.


- ① 가, 나 ② 가, 다 ③ 나, 다 ④ 나, 르 ⑤ 다, 르

13. 다음 대화에 나타난 갑, 을의 일탈 이론에 대한 설명으로 옳은 것은? [3점]


통계에 따르면, 범죄자의 다수는 하루 계층 출신인 것으로 나타났습니다. 이에 대한 의견을 말씀해 주십시오.

누구나 물질적 풍요를 원하지만 하루 계층 사람들은 상류 계층에 비해서 제도적 수단이 부족하여 불법적 수단을 더 많이 선택하기 때문입니다.


하류 계층 사람들의 행동에 대한 부정적 인식과 그에 따른 사회적 반응의 결과라고 생각합니다. 하루 계층의 행동을 더 위험하게 생각하여 범죄로 규정할 가능성이 크기 때문입니다.



사회자



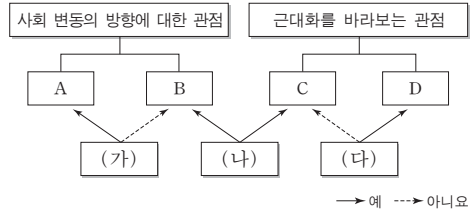
갑



을

- ① 갑의 이론은 일탈 행동이 타인과의 상호 작용에서 비롯된다고 본다.
- ② 을의 이론은 부정적 자아가 형성되어 일탈 행동이 반복된다고 본다.
- ③ 갑의 이론은 을의 이론과 달리 일탈 행동을 미시적 관점에서 바라보고 있다.
- ④ 을의 이론은 갑의 이론과 달리 일탈을 규정하는 객관적 기준이 존재한다고 본다.
- ⑤ 갑, 을의 이론 모두 일탈 행동에 대한 대책으로 강력한 사회 통제를 강조한다.

14. 그림은 사회 변동에 대한 관점 A~D를 구분한 것이다. 이에 대한 옳은 설명만을 <보기>에서 있는 대로 고른 것은? (단, A~D는 각각 근대화론, 순환론, 종속 이론, 진화론 중 하나이다.)



<보기>
 가. (가)가 '사회가 일정한 양상을 반복하면서 변동한다고 보는가?' 라면, B는 A와 달리 미래를 예측하는 데 적합하다.
 나. (나)가 '서구 중심적이라는 비판을 받는가?' 라면, (다)에는 '후진국 저발전의 원인을 외부에서 찾는가?' 가 적절하다.
 다. B가 진화론이라면, (가)에는 '사회 발전을 단순한 사회에서 복잡한 사회로의 변동으로 보는가?' 가 적절하다.
 르. C가 근대화론이라면, (다)에는 '선진국과 후진국 간의 불평등한 역학 관계에 주목하는가?' 가 적절하다.

- ① 가, 나 ② 가, 다 ③ 다, 르
- ④ 가, 나, 르 ⑤ 나, 다, 르

15. 다음 자료에 대한 옳은 분석만을 <보기>에서 있는 대로 고른 것은? [3점]

표는 갑국의 종교별 신도 현황 중 일부를 나타낸 것이다. 갑국의 전체 인구는 2,000만 명이다. 단, 갑국에는 종교가 A, B종교 이외에 없으며, 두 종교를 동시에 믿는 사람은 없다.

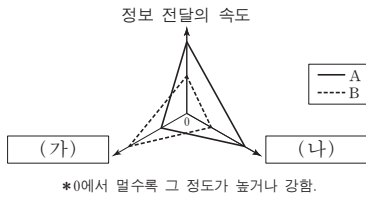
	(단위: %)		
구분	남성 신도	여성 신도	전체 신도
A종교	25.0	25.0	25.0
B종교	12.5	25.0	20.0

*남성(여성) 신도 비율 = $\frac{\text{해당 종교를 믿는 남성(여성) 인구}}{\text{남성(여성) 인구}} \times 100$
 **전체 신도 비율 = $\frac{\text{해당 종교를 믿는 인구}}{\text{전체 인구}} \times 100$

<보기>
 가. 종교를 가진 인구보다 종교를 가지지 않은 인구가 많다.
 나. A종교를 믿는 전체 인구 중 남성 신도가 차지하는 비율은 25%이다.
 다. B종교를 믿는 여성 인구는 B종교를 믿는 남성 인구의 3배이다.
 르. A종교를 믿는 남성 인구와 B종교를 믿는 여성 인구는 같다.

- ① 가, 다 ② 가, 르 ③ 나, 르
- ④ 가, 나, 다 ⑤ 나, 다, 르

16. 그림은 대중 매체 A, B의 일반적인 특징을 비교한 것이다. 이에 대한 옳은 설명을 <보기>에서 고른 것은? (단, A, B는 각각 인쇄 매체, 뉴미디어 중 하나이다.) [3점]



<보기>

- ㉠. A는 B보다 정보 확산의 시·공간적 제약이 크다.
- ㉡. B는 A보다 정보 생산자와 소비자 간의 경계가 뚜렷하다.
- ㉢. (가)에는 '정보 전달자와 수용자 간의 상호 작용성'이 적절하다.
- ㉣. (나)에는 '정보 재가공의 용이성'이 적절하다.

- ① ㉠, ㉡ ② ㉠, ㉢ ③ ㉡, ㉢ ④ ㉡, ㉣ ⑤ ㉢, ㉣

17. 우리나라 사회 보장 제도 A, B의 일반적 특징에 대한 설명으로 옳은 것은?

- 2008년 7월부터 시행된 이 제도는 A의 하나로서, 국민 건강 보험 가입자 또는 그 피부양자 가운데 고령이나 노인성 질병 등으로 일상생활을 혼자서 수행하기 어려운 사람들에게 신체 활동 또는 가사 활동 지원 등의 장기 요양 급여를 판정 등급에 따라 제공한다.
- 2014년 7월부터 시행된 이 제도는 B의 하나로서, 국민연금의 혜택을 충분히 누리지 못하고 빈곤을 겪고 있는 노인을 위해 마련되었다. 만 65세 이상이며, 가구의 소득 인정액이 기준액 이하인 사람들을 수혜 대상으로 한다.

- ① A는 B에 비해 빈곤층 자활 지원의 성격이 강하다.
- ② A는 B와 달리 국가와 지방자치단체가 비용을 전액 부담하는 것을 원칙으로 한다.
- ③ B는 A에 비해 소득 재분배 효과가 크다.
- ④ B는 A에 비해 사전 예방적 성격이 강하다.
- ⑤ A, B는 모두 수혜자 부담의 원칙이 적용된다.

18. 표에 대한 분석으로 옳지 않은 것은? [3점]

<갑국의 경력 단절 여성 규모와 사유>

구분		2011년	2012년	2013년	2014년	2015년
15~64세 기혼 여성 인구 변화율		0	2	-2	0	0
경력 단절 여성 비율		20	20	20	20	20
경력 단절 사유	결혼	47	46	45	40	37
	임신·출산	20	24	21	20	24
	육아	25	26	30	31	32
	기타	8	4	4	9	7
합계		100	100	100	100	100

* 15~64세 기혼 여성 = (당해 연도 15~64세 기혼 여성 수) - (전년도 15~64세 기혼 여성 수) / 전년도 15~64세 기혼 여성 수 × 100

** 경력 단절 여성 비율 = 경력 단절 여성 수 / 15~64세 기혼 여성 수 × 100

- ① 15~64세 기혼 여성의 수는 2012년이 2013년보다 많다.
- ② 경력 단절 여성의 수는 2011년이 2015년보다 많다.
- ③ 결혼으로 인한 경력 단절 여성의 비율은 줄어들고 있다.
- ④ 임신·출산으로 인한 경력 단절 여성의 수는 2011년이 2014년보다 적다.
- ⑤ 육아로 인한 경력 단절 여성의 수가 가장 많은 해는 2015년이다.

19. 사회·문화 현상을 바라보는 A~C의 관점에 대한 옳은 설명을 <보기>에서 고른 것은? (단, A~C는 각각 기능론, 갈등론, 상징적 상호 작용론 중 하나이다.)

학교와 학교 교육에 대한 서로 다른 관점이 존재한다. A의 관점은 C의 관점과 달리 학교 교육은 사회적 합의에 기초한 지배적 가치를 다양한 집단의 구성원들에게 전수하여 사회 질서 유지에 기여한다고 본다. B의 관점은 A, C의 관점과 달리 능동적 존재로서의 학생들이 학교와 학교 교육에 대해 부여하는 다양한 의미와 그 해석에 주목한다.

<보기>

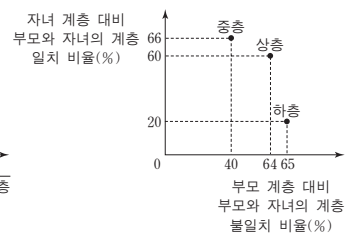
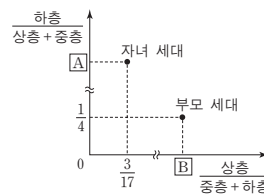
- ㉠. A의 관점은 학교 교육이 지배 집단의 가치를 전수시킨다고 본다.
- ㉡. B의 관점은 학교 교육에 대한 교사와 학생의 상황 정의에 주목한다.
- ㉢. C의 관점은 학교 교육이 사회에서 필요한 인력을 적재적소에 배치하는 데 기여한다고 본다.
- ㉣. A, C의 관점은 거시적, B의 관점은 미시적 관점으로 분류할 수 있다.

- ① ㉠, ㉡ ② ㉠, ㉢ ③ ㉡, ㉢ ④ ㉡, ㉣ ⑤ ㉢, ㉣

20. 다음 자료는 갑국의 세대 간 계층 이동 현황을 나타낸 것이다. 이에 대한 분석으로 옳은 것은?

<세대별 계층의 상대적 비율>

<세대 간 계층 이동 현황>



* 모든 부모의 자녀는 1명이고, 갑국의 계층은 상층, 중층, 하층으로만 구분한다.

** 부모 세대 상층에서 자녀 세대 중층으로 이동한 인구와 부모 세대 상층에서 자녀 세대 하층으로 이동한 인구는 같다.

- ① 세대 간 계층 유지 비율이 이동 비율보다 크다.
- ② 부모 세대 하층 대비 부모와 자녀가 모두 하층인 비율은 A보다 작다.
- ③ 부모 세대 중층 대비 부모 세대가 중층이고 자녀 세대가 하층인 비율은 B보다 작다.
- ④ 자녀 세대 계층 대비 부모와 자녀의 계층 불일치 비율은 상층이 가장 크다.
- ⑤ 부모 세대 상층에서 자녀 세대 하층으로 이동한 인구는 부모 세대 하층에서 자녀 세대 중층으로 이동한 인구보다 많다.

* 확인 사항
○ 답안지의 해당란에 필요한 내용을 정확히 기입(표기)했는지 확인하십시오.

01. ㉠ 02. ㉠ 03. ㉠ 04. ① 05. ㉠ 06. ㉠ 07. ㉠ 08. ① 09. ㉠ 10. ㉠
11. ① 12. ㉠ 13. ㉠ 14. ㉠ 15. ① 16. ㉠ 17. ㉠ 18. ㉠ 19. ㉠ 20. ㉠

1. 사회·문화 현상과 자연 현상의 비교

정답 해설 : ㉠, ㉠, ㉠은 사회·문화 현상, ㉠은 자연 현상이다. ㉠ ㉠과 같은 사회·문화 현상은 반드시 발생할 것이라고 단정할 수 없지만 발생할 가능성을 갖고 있는 개연성의 원리가 적용된다. ㉠과 같은 사회·문화 현상은 당위 법칙을 따른다. 존재 법칙의 지배를 받는 것은 자연 현상이다. ㉠과 같은 자연 현상은 인간의 의지나 가치와 무관한 불가치성을 띤다. ㉠과 같은 사회·문화 현상은 보편성과 특수성이 공존하지만, 자연 현상은 보편성을 갖는다. **정답 ㉠**

[오답피하기]

- ① 같은 첫 번째 질문에 대한 대답이 틀렸다.
- ② 옳은 두 번째와 세 번째 질문에 대한 대답이 틀렸다.
- ③ 병은 첫 번째와 네 번째 질문에 대한 대답이 틀렸다.
- ④ 정은 네 번째 질문에 대한 대답이 틀렸다.

2. 사회 계층화 현상을 바라보는 계급론과 계층론의 비교

정답 해설 : (가)는 계층론, (나)는 계급론이다. **㉠** 계층론은 계층을 나누는 기준이 여러 가지이기 때문에 지위 불일치 현상을 설명하는 데 적합하지만, 계급론은 계급을 나누는 기준이 생산 수단의 소유 여부라는 한 가지 기준이기 때문에 지위 불일치 현상을 설명하는 데 적합하지 않다. **㉠** 계급론은 사회 불평등 현상을 경제적 요인으로만 설명하며, 계층론은 경제적 요인 이외에 사회·정치적 요인까지 추가하여 설명한다. 두 이론 모두 사회 불평등 현상에 경제적 요인이 작용한다고 본다. **정답 ㉠**

[오답피하기]

- ㉠ 동일한 경제적 위치에 기반한 강한 귀속 의식, 즉 계급 의식은 계급론에서 강조된다.
- ㉠ 불평등한 상태를 이분법적으로 구분하는 것은 계급론이다.

3. 사회 집단에 대한 이해

정답 해설 : A는 1차 집단, B는 2차 집단, C는 이익 사회, D는 공동 사회, E는 자발적 결사체이다. ㉠ 시민 단체와 이익 집단은 특정 목적을 달성하기 위해 구성원들이 자발적으로 만들었다는 점에서, 이익 사회이자 자발적 결사체이다. **정답 ㉠**

[오답피하기]

- ① 특정 목적을 달성하기 위한 인간관계가 주로 나타나는 것은 2차 집단이다.
- ② 구성원의 가입과 탈퇴가 자유로운 것은 자발적 결사체이다.
- ③ 형식적 인간관계가 주로 나타나는 것은 2차 집단과 이익 사회이다.

- ④ 법적 제재보다 관습적 제재가 주로 적용되는 것은 1차 집단과 공동 사회이다.

4. 자료 수집 방법에 대한 이해

정답 해설 : A는 실험법, B는 참여 관찰법, C는 면접법, D는 질문지법이다. ㉠ 참여 관찰법은 실험법과 달리 조사 대상자의 일상생활 세계를 심층적으로 이해하는 데 유리하다는 장점을 갖는다. **정답 ㉠**

[오답피하기]

- ② 예상치 못한 상황이 발생할 경우 유연하게 대처하기 곤란한 것은 참여 관찰법이다.
- ③ 대화를 통해 조사 대상자로부터 깊이 있는 답변을 유도할 수 있는 것은 면접법이다.
- ④ 대규모 집단을 대상으로 자료를 수집하기 용이한 것은 질문지법이다.
- ⑤ 연구자의 편견이 개입될 가능성이 큰 것은 면접법과 참여 관찰법이다.

5. 양적 연구 과정에 대한 이해

정답 해설 : ㉠ 비형 친구와의 교제 정도는 ㉠ 가설에서는 독립 변수, ㉠ 가설에서는 종속 변수이다. 비형 경험이 있는 친구의 수를 통해 비형 친구와의 교제 정도를 측정하고 있으므로, ㉠은 비형 친구와의 교제 정도를 조작적으로 정의한 것이다. **정답 ㉠**

[오답피하기]

- ① 질문지법을 통해 자료를 수집하였으므로, 실험 집단이 존재하지 않는다.
- ② 연구 대상자가 조사 대상자로부터 설문지를 통해 비형 횟수를 직접 조사하여 얻은 자료이므로, ㉠은 1차 자료이다.
- ④ 설문 조사를 통해 연구 대상자의 주관적 인식을 물을 수 있다.
- ⑤ ㉠과 ㉠이 청소년이라는 모집단을 대표할 수 없으므로, 결론을 일반화할 수 없다.

6. 사회·문화 현상의 탐구 태도에 대한 이해

정답 해설 : 제시된 자료에 공통적으로 나타나는 탐구 태도는 객관적 태도이다. ㉠ 객관적 태도란 탐구 과정에서 연구자가 자신의 주관적 가치나 편견, 이해관계 등을 배제하고 사회·문화 현상이 가진 사실로서의 특성만을 파악하는 태도를 의미한다. **정답 ㉠**

[오답피하기]

- ① 개방적 태도를 의미하는 진술이다.
- ③ 상대주의적 태도를 의미하는 진술이다.
- ④ 성찰적 태도를 의미하는 진술이다.
- ⑤ 연구자에게 요구되는 사회적 책임을 의미하는 진술이다.

7. 여러 가지 사회학적 개념에 대한 이해

정답 해설 : ㉠ 같은 영화배우와 ㉠ 독립 영화제 집행 위원장이라는 두 가지 역할을 갖고 있으며, ㉠은 두 역할이 상충되어 나타나는 심리적 갈등이므로 역할 갈등에

㉠. 유럽에서는 자국의 문화 요소 ☆와 갑국의 문화 요소 △가 공존하고 있으며, 영국에서도 자국의 문화 요소 ◇와 갑국의 문화 요소 △가 공존하고 있다.

11. 전체 문화와 하위문화에 대한 이해

정답 해설 : (가)에 따르면 온라인 게임은 과거에는 청소년들만이 즐겼지만, 오늘날에는 전 세대가 즐기는 대중적 문화, 즉 전체 문화가 되었다. (나)에서 청소년들끼리만 통하는 언어는 하위문화이다. ㉠ 인터넷과 스마트폰 보급은 물질문화의 변동이며, 이러한 물질문화가 온라인 게임이라는 하위문화를 전체 문화로 변동시켰다. **정답 ㉠**

[오답피하기]

- ② (나)에서는 하위문화로 인해 세대 간 의사소통의 장애가 발생하고 있다. 즉, 하위문화로 인해 세대 문화 간의 이질성이 심화되었다.
- ③ (가), (나) 모두에서 문화 지체 현상을 찾을 수 없다.
- ④ (가)의 온라인 게임을 하는 것, (나)의 청소년의 언어 사용을 반문화로 볼 수 없다.
- ⑤ (나)에서는 하위문화가 주류 문화를 대체하지 않았다.

12. 농업 사회, 산업 사회, 정보 사회의 비교

정답 해설 : ㉠. (가)가 '에'라면, A는 농업 사회이다. 가정과 일터의 분리 정도는 농업 사회가 가장 낮다. **정답 ㉠**

[오답피하기]

- ㉠. (가)가 '에'라면, C는 농업 사회이다. 구성원 간 비대면 접촉 정도는 농업 사회가 가장 낮다.
- ㉠. (가)가 '에'이고, (라)가 '업무의 표준화 방식이 보편화되기 시작하였는가'이면, A는 정보 사회, B는 산업 사회, C는 농업 사회이다. 기술의 발전 속도는 정보 사회가 산업 사회에 비해 빠르다.

13. 아노미 이론과 낙인 이론의 비교

정답 해설 : 같은 머튼의 아노미 이론, 옳은 낙인 이론의 관점에서 하류 계층 사람들의 일탈 행동을 설명하고 있다. ㉠ 낙인 이론은 특정 행동을 한 사람에 대한 주위 사람들의 부정적 낙인과 이로 인한 부정적 자아의 형성이 일탈 행동을 초래한다고 본다. **정답 ㉠**

[오답피하기]

- ① 일탈 행동이 타인과의 상호 작용에서 비롯된다고 보는 것은 차별적 교제 이론과 낙인 이론이다.
- ③ 일반적으로 아노미 이론은 거시적 관점, 낙인 이론은 미시적 관점으로 분류된다.

해당한다. **정답 ㉠**

[오답피하기]

- ① 역할에 대한 보상이 아니라 역할 행동에 대한 보상이다.
- ② 공연 관람 동아리는 비공식적 사회화 기관, ◇◇대학 연극과는 공식적 사회화 기관이다.
- ③ 연극배우는 갑이 갖고 있는 지위가 아니다.
- ④ ◇◇대학 연극과에 입학할 포기하였으므로, 갑은 ◇◇대학 연극과에서 사회화를 경험하지 않았다.

8. 사회 명목론과 사회 실재론에 대한 이해

정답 해설 : (가)는 사회 실재론, (나)는 사회 명목론이다. ㉠ 사회 실재론은 사회를 개인의 외부에 존재하는 고유한 실체라고 본다. **정답 ㉠**

[오답피하기]

- ② 개인이 사회에 의해 구조화된 행동을 한다고 보는 것은 사회 실재론이다.
- ③ 사회 현상이 개인의 자율적인 의지에 의해 만들어진다고 보는 것은 사회 명목론이다.
- ④ 개인은 사회 속에서만 존재 의미를 가질 수 있다고 보는 것은 사회 실재론이다.
- ⑤ 개인의 자율성이 사회 규범의 구속성보다 우선한다고 보는 것은 사회 명목론이다.

9. 문화의 속성에 대한 이해

정답 해설 : ㉠. ○○이 간편하게 먹을 수 있는 음식이라는 것을 알게 된 것은 후천적으로 습득된 것이기 때문에, ㉠은 문화의 학습성을 보여준다. **정답 ㉠**

㉠. 쌀 위주의 식생활을 하는 갑국, 국민 대다수가 즐겨 먹는 음식은 문화의 공유성을 공통적으로 보여준다. 문화는 한 사회 구성원의 사고와 행동을 구속하므로, 그 사회의 구성원들은 공유하는 생활양식을 갖게 된다. **정답 ㉠**

[오답피하기]

- ㉠. 전승된 문화를 바탕으로 새로운 문화가 창출된다는 것을 보여주는 것은 ㉠이다.
- ㉠. ㉠, ㉠ 모두 문화의 변동성을 보여준다.

10. 문화 변동의 요인과 양상에 대한 이해

정답 해설 : <자료 1>의 (가)는 발견, (나)는 직접 전파, (다)는 발명이다. ㉠ A에서는 □라는 문화 요소가 소멸되고 △와 □라는 새로운 문화 요소가 추가되었다. B에서는 □라는 문화 요소가 소멸되고 ☆라는 새로운 문화 요소가 추가되었다. ㉠. 갑국에서 발명을 통해 나타난 문화 요소는 ○이다. 영국에서도 발명을 통해 □가 나타났다. ㉠. 갑국에서 발견을 통해 나타난 문화 요소는 △이다. 영국에서는 직접 전파를 통해 문화 요소 △이 나타났다. **정답 ㉠**

[오답피하기]

- ④ 낙인 이론은 아노미 이론과 달리 일탈을 규정하는 객관적인 기준이 존재하지 않는다고 본다.
- ⑤ 일탈 행동에 대한 대책으로 강력한 사회 통제를 강조하는 것은 뒤르켐의 아노미 이론이다.

14. 진화론과 순환론, 근대화론과 종속 이론에 대한 이해

정답 해설 : ㄱ. (가)가 '사회가 일정한 양상을 반복하면서 변동한다고 보는가?'라면 A는 순환론, B는 진화론이다. 진화론은 순환론과 달리 미래를 예측하는 데 적합하다. ㄴ. (나)가 '서구 중심적이라는 비판을 받는다?'이면, C는 근대화론, D는 종속 이론이다. 종속 이론은 근대화론과 달리 후진국 저발전 원인을 외부에서 찾는다. ㄷ. C가 근대화론이면, D는 종속 이론이다. 신진국과 후진국 간의 불평등한 역학 관계에 주목하는 것은 종속 이론이다.

정답 ④

[오답피하기]

ㄷ. B가 진화론이면, A는 순환론이다. 사회 발전을 단순한 사회에서 복잡한 사회로의 변동으로는 보는 것은 진화론이다.

15. 종교별 신도 현황에 대한 분석

정답 해설 : ㄱ. 종교를 가진 사람들의 비율은 45%이고 그렇지 않은 사람들의 비율은 55%이다. 따라서 종교를 가지지 않은 인구가 더 많다. ㄷ. B종교를 믿는 남성 신도의 비율은 12.5%, 여성 신도의 비율은 25%인데, B종교를 믿는 전체 신도의 비율은 20%이다. 전체 평균값 20%가 여성 신도의 비율에 가깝다는 사실에서 여성 인구가 남성 인구보다 많다는 것을 알 수 있다. 그렇다면 얼마나 많을까? 전체 평균값 20%에서 남성 신도의 비율을 뺀 값은 7.5%이고, 전체 평균값 20%에서 여성 신도의 비율을 뺀 값의 절대값은 5%이다. 이를 비로 나타내면 7.5:5 (3:2)가 되는데, 이는 남성 인구가 2라면 여성 인구는 3이라는 것을 의미한다. 즉, 여성 인구가 남성 인구의 1.5배가 된다. 그런데 여성 신도의 비율은 25%이고 남성 신도의 비율은 12.5%이므로, B종교를 믿는 여성 인구는 남성 인구의 3배가 된다.

정답 ①

[오답피하기]

ㄴ. A종교를 믿는 전체 인구 중 남성 신도가 차지하는 비율은 25%를 넘는다. ㄹ. A종교를 믿는 신도와 B종교를 믿는 신도의 수가 다르고 남성 인구와 여성 인구의 수도 다르므로, A종교를 믿는 남성 인구와 B종교를 믿는 여성 인구는 같지 않다.

16. 인쇄 매체와 뉴미디어의 비교

정답 해설 : 정보 전달의 속도는 뉴미디어가 인쇄 매체보다 빠르므로, A는 뉴미디어이고 B는 인쇄 매체이다. ㄴ. 인쇄 매체가 뉴미디어보다 정보 생산자와 소비자 간의 경계가 뚜렷하다. ㄹ. 뉴미디어가 인쇄 매체보다 정보 재가공이 용이하다.

정답 ④

[오답피하기]

- ㄱ. 인쇄 매체가 뉴미디어보다 정보 확산의 시·공간적 제약이 강하다.
- ㄷ. 뉴미디어가 인쇄 매체보다 정보 전달자와 사용자 간의 상호 작용성이 높다.

17. 사회 보원과 공공 부조에 대한 이해

정답 해설 : A는 노인 장기 요양 보험 제도로 사회 보험에 속하며, B는 기초 연금 제도로 공공 부조에 속한다. ③ 공공 부조가 사회 보험에 비해 소득 재분배 효과가 크다.

정답 ③

[오답피하기]

- ① 일반적으로 사회 보험은 전 국민을 대상으로 하지만, 공공 부조는 빈곤층을 대상으로 한다.
- ② 국가와 지방자치단체가 비용을 원칙적으로 전액 부담하는 것은 공공 부조이다.
- ④ 사전 예방적 성격이 강한 것은 사회 보험이다.
- ⑤ 수혜자 부담의 원칙은 사회 보험만 적용된다.

18. 경력 단절 여성 규모의 관련원인 표 분석

정답 해설 : 15-64세 기준 여성 수의 상대값을 알아내기 위해 2011년 15-64세 기준 여성 수를 100이라고 하면, 2012년은 102, 2013년은 99.96, 2014년과 2015년도 99.96이다. ④ 임신·출산으로 인한 경력 단절 여성의 비율은 2011년과 2014년 모두 20%이지만, 15-64세 기준 여성의 수는 2011년이 더 많다. 따라서 임신·출산으로 인한 경력 단절 여성의 수는 2011년이 더 많다.

정답 ④

[오답피하기]

- ① 2013년 15-64세 기준 여성 인구 변화율이 -2%이므로, 2012년이 2013년보다 많다.
- ② 경력 단절 여성 비율은 20%로 일정하지만, 2011년이 2015년보다 15-64세 기준 여성 인구가 더 많으므로, 2011년이 2015년보다 경력 단절 여성의 수가 더 많다.
- ③ 결혼으로 경력이 단절된 여성의 비율은 지속적으로 감소하였다.
- ⑤ 15-64세 기준 여성 수의 상대 값은 2011년 100, 2012년 102, 2013년 99.96, 2014년과 2015년도 99.96이고 경력 단절 여성 비율은 20%로 모두 같다. 그런데 육아로 인한 경력 단절 여성의 비율은 25%, 26%, 30%, 31%, 32%이므로, 육아로 인한 경력 단절 여성의 수가 가장 많은 해는 2015년이다.

19. 사회·문화 현상을 바라보는 관점에 대한 이해

정답 해설 : A의 관점은 기능론, B의 관점은 상징적 상호 작용론, C는 갈등론이다. ㄴ. 상황 정의란 행위 주체가 특정 상황에 대하여 그것이 발생하게 된 시간적·맥락적 조건에 따라 의미를 부여하는 것으로, 상징적 상호 작용론에서 중시된다. ㄹ. 기능론과 갈등론은 사회 구조나 사회 제도에 대한 이해를 중시하는 거시적 관점.

상징적 상호 작용론은 개인 간의 상호 작용을 중시하는 미시적 관점으로 분류된다.

정답 ④

[오답피하기]

- ㄱ. 학교 교육이 지배 집단의 가치를 전수시킨다고 보는 것은 갈등론이다.
- ㄷ. 학교 교육이 사회에서 필요한 인력을 적재적소에 배치하는 데 기여한다고 보는 것은 기능론이다.

20. 사회 계층 이동에 대한 표 분석

정답 해설 : 세대 별 계층의 상대적 비율에 따르면 부모 세대 하층은 20%이고, 자녀 세대 상층은 15%이다. 자녀 세대 하층 대비 부모와 자녀의 계층 일치 비율은 20%이므로, 부모가 하층이고 자녀가 하층인 비율은 7%이다. 자녀 세대 하층 대비 부모와 자녀의 계층 일치 비율은 20%이므로 자녀 세대 하층은 35%이고, 부모 중층은 50%이다. 자녀 세대 상층 대비 부모와 자녀의 계층 일치 비율은 60%이므로, 부모가 상층이면서 자녀도 상층인 비율은 9%이다. 부모 세대 상층 대비 부모와 자녀의 계층 일치 비율은 36%이므로, 부모 세대 상층은 25%이고 부모 세대 중층은 55%이다. 자녀 세대 중층 대비 부모와 자녀의 계층 일치 비율은 66%이므로, 부모가 중층이면서 자녀도 중층인 비율은 33%이다. 부모 세대 상층에서 중층으로 이동한 인구와 부모 세대 상층에서 자녀 세대 하층으로 이동한 인구는 같으므로, 이들 인구의 비율은 모두 8%이다. 이 결과를 종합하며 표를 나타내면 다음과 같다.

단위 : %

구분	부모 세대 계층			계
	상	중	하	
자녀 세대 계층	상	9	2	4
	중	8	33	9
	하	8	20	7
계	25	55	20	

그리고 A는 7/13, B는 1/3이다.

- ② 부모 세대 하층 대비 부모와 자녀가 모두 하층인 비율은 7/20이고 A는 7/13이다.

정답 ②

[오답피하기]

- ① 세대 간 계층 유지 비율은 49%이고 세대 간 이동 비율은 51%이다.
- ③ 부모 세대 중층 대비 부모 세대가 중층이고 자녀 세대가 하층인 비율은 20/55이고, B는 1/3이다.
- ④ 자녀 세대 계층 대비 부모와 자녀의 계층 불일치 비율은 상층 6/15, 중층 17/50, 하층 28/35이다. 하층이 가장 크다.
- ⑤ 부모 세대 상층에서 자녀 세대 하층으로 이동한 인구는 8%이고 부모 세대 하층에서 자녀 세대 중층으로 이동한 인구는 9%이다.

제 4 교시

사회탐구 영역(사회·문화)

성명 수험 번호

1. 밑줄 친 ㉠~㉣과 같은 현상의 일반적인 특징에 대한 설명으로 옳은 것은?

엘니뇨 현상이 계속되면서 지구 온도와 ㉠농작물 생산에 영향을 미치고 있다. ㉡이상 기후 현상으로 동남아 지역은 예년에 비해 더위가 심했고, 남미에는 폭우가 내려 세계 식량 가격이 올랐다. 아프리카의 한 지역에서는 ㉢홍수로 인한 급격한 수위 상승으로 수천 채의 가옥이 파손된 반면, 또 다른 지역에서는 혹독한 가뭄으로 인해 수백만 명이 ㉣식량 원조를 애타게 기다리는 상황이다.

- ① ㉠과 같은 현상은 ㉡과 같은 현상과 달리 가치 함축적이다.
- ② ㉡과 같은 현상은 ㉢과 같은 현상과 달리 확실성의 원리가 적용된다.
- ③ ㉢과 같은 현상은 ㉣과 같은 현상과 달리 개연성의 원리가 적용된다.
- ④ ㉣과 같은 현상은 ㉠과 같은 현상과 달리 당위 법칙을 따른다.
- ⑤ ㉠, ㉡과 같은 현상은 ㉢과 같은 현상에 비해 보편성이 강하다.

2. 밑줄 친 ㉠~㉣에 대한 설명으로 옳은 것은? [3점]

최근 아나운서 출신 갑이 언론의 주목을 받고 있다. 갑은 어린 시절부터 꿈꾸어 왔던 아나운서가 되기 위해 ㉠○○방송사에 입사한 후 다양한 프로그램에서 중형무진으로 활동하였다. 이후 갑은 ㉡더 큰 무대에 진출할 것인지, 안정된 직장을 선택할 것인지 고민하다가 ○○방송사를 그만두며 프리랜서를 선언하고 ㉢연기자가 되었다. 이후 비교적 짧은 기간에 여러 편의 드라마에 출연하는 등 ㉣대중의 인기를 얻었으나, 해외에서 어려운 아이들을 돕는 프로그램에 참여한 것을 계기로 △△국의 빈민 지역으로 이주하여 현재 ㉤자원봉사자로 활동하고 있다.

- ① ㉠은 갑의 내집단이자 준거집단이다.
- ② ㉡은 갑이 겪었던 역할 갈등이다.
- ③ ㉢이 되기 위해 갑은 ㉠에서 재사회화를 경험하였다.
- ④ ㉣은 ㉢으로서의 갑의 역할에 대한 보상이다.
- ⑤ ㉤은 갑의 성취 지위이다.

3. 사회 조직의 유형 A~C에 대한 설명으로 옳은 것은?

○ A, B는 각각 과업 달성을 위한 조직이며, 조직의 효율성을 제고하기 위한 운영 원리가 적용된다.
 ○ A에서는 의사 결정의 권한이 분산되어 있으며, 외부 환경 변화에 대한 유연한 대처와 신속한 의사 결정이 가능하다. B에서는 조직 내 지위가 경력에 따라 서열화되어 있으며, 규약과 절차에 따른 구성원들의 업무 수행을 강조한다.
 ○ A 또는 B의 구성원들이 조직 내에서 친밀한 인간관계에 바탕을 두고 자발적으로 결성한 것이 C이다.

- ① 기업의 노동조합은 C에 해당한다.
- ② A, B는 공식적 제재를 통해 구성원을 통제한다.
- ③ B는 A에 비해 상향식 의사 결정 방식을 강조한다.
- ④ A, C는 B와 달리 구성원들의 가입과 탈퇴가 자유롭다.
- ⑤ C에서는 A, B와 달리 구성원 간 수단적 만남과 간접적 접촉이 이루어진다.

4. (가)~(다)의 일반적인 특징에 대한 설명으로 옳은 것은? (단, (가)~(다)는 각각 면접법, 질문지법, 참여 관찰법 중 하나이다.)

자료 수집 방법	사례
(가)	청소년 일탈을 연구하기 위해 가족 간 대화 빈도와 일탈 행동을 측정할 수 있는 설문 문항을 개발하여 전국의 중·고등학생 2,000명을 대상으로 조사를 실시하였다.
(나)	초등학생의 음악 활동과 사회성 간의 관계를 연구하기 위해 초등학생 20명과 심층 인터뷰를 하여 오케스트라 활동이 친구 관계에 미치는 영향을 탐구하였다.
(다)	실의 놀이를 통해 나타나는 유아들의 특징을 살펴보고자 4개월간 ○○어린이집에 머물며 유아들의 행동과 대화 내용, 놀이 상황 등 전반적인 상황을 모두 기록하였다.

- ① (가)는 (나)보다 질적 자료 수집에 용이하다.
- ② (나)와 달리 (다)는 연구자의 주관적 가치가 개입될 우려가 있다.
- ③ (다)와 달리 (가)는 인위적으로 통제된 상황에서 변수의 효과를 관찰한다.
- ④ (가)에 비해 (나), (다)는 연구 대상에 대해 심층적으로 파악하기 용이하다.
- ⑤ (나)와 달리 (가), (다)는 자료 수집 과정에서 언어를 매개로 한 상호 작용이 필수적이다.

5. (가), (나)에 나타난 사회·문화 현상을 바라보는 관점에 대한 설명으로 옳지 않은 것은? [3점]

(가) 교칙은 학생들에게 지위에 맞는 역할이 무엇인지 강조하고, 보상이나 제재를 가하는 기준으로서의 기능을 수행한다. 교칙은 학교 구성원들이 지켜야 하는 규범으로, 구성원들에게 공통의 정체성을 갖도록 하여 학교라는 작은 사회의 통합을 증진하는 역할을 한다.
 (나) 교사는 생활 지도 과정에서 나타나는 학생의 반응을 통해 자신의 지도 방식에 대해 평가하고 교사로서 자기 정체성과 행동을 재구성한다. 따라서 생활 지도는 교사와 학생 간의 상호 작용과 그 상황에 대한 의미 부여를 통해 구성되는 개별적 경험으로 이해되어야 한다.

- ① (가)의 관점은 사회가 스스로 균형을 유지하려는 속성을 지닌다고 본다.
- ② (나)의 관점은 개인이 상황에 부여한 의미에 기초하여 사회적 상황에 반응한다고 본다.
- ③ (가)의 관점은 사회가 유기체와 유사한 특성을 지니고 있음을, (나)의 관점은 인간이 의미를 추구하는 존재임을 가정한다.
- ④ (가)의 관점과 달리 (나)의 관점은 사회가 구성 요소 간의 상호 의존적 관계 형성을 통해 질서와 안정을 이룬다고 본다.
- ⑤ (나)의 관점과 달리 (가)의 관점은 사회 구조에 대한 분석을 통해 사회 현상을 이해하고자 한다.

6. A, B 사회의 일반적인 특징에 대한 설명으로 옳은 것은? (단, A, B 사회는 각각 산업 사회와 정보 사회 중 하나이다.) [3점]

A 사회	B 사회
직장인 갑은 출근하지 않고 집에서 컴퓨터로 회사의 업무를 본다. 인터넷을 통해 직장 동료 및 협력 업체와 협의하며, 팀장 또는 CEO에게 직접 보고를 하는 등 다양한 업무를 처리한다.	직장인 을은 매일 아침 9시부터 오후 6시까지 자동차 제조 공장에서 일을 한다. 출근 후 업무 지시를 받아 하루 종일 컨베이어 벨트에 실려 오는 자동차에 타이어를 장착하는 일을 수행한다.

- ① A 사회는 B 사회에 비해 면대면 접촉의 비중이 더 높다.
- ② A 사회는 B 사회에 비해 부가 가치의 원천으로 자본과 노동을 지식보다 중시한다.
- ③ B 사회는 A 사회에 비해 관료제 조직의 비중이 더 높다.
- ④ B 사회는 A 사회에 비해 다품종 소량 생산 방식이 확대된다.
- ⑤ A, B 사회 모두에서는 가상공간의 등장으로 인해 소비자들과 생산자 간의 공간적 제약이 극복된다.

7. (가), (나)에 나타난 개인과 사회의 관계를 바라보는 관점에 대한 설명으로 옳은 것은?

(가) 대학의 강의는 참여하는 구성원 개인의 특성에 따라 결정된다. 강의의 질은 교수의 능력에 따라 결정되며, 강의에 대한 평가도 학생들의 개인적 반응에 근거하여 이루어진다.

(나) 대학의 강의에는 교수와 학생 간에 권력 구조가 존재하며, 교수가 학생들의 학업 정도에 따라 성적을 부여하는 평가 시스템이 존재한다. 또한 강의실에는 수업 시간 준수와 같이 교수와 학생이 따라야 하는 행동 규칙이 작용한다.

- ① (가)는 사회가 개인으로 환원하여 설명할 수 없는 고유한 성격을 지닌다고 본다.
- ② (나)는 개인의 이익이 곧 사회 전체의 이익이라고 본다.
- ③ (가)는 (나)와 달리 개인에 대한 사회 구조의 영향력을 중시한다.
- ④ (가)는 (나)와 달리 개인은 집단 전체와의 관련 속에서만 존재 의미를 지닌다고 본다.
- ⑤ (나)는 (가)와 달리 개인의 자율성보다 사회 규범의 구속성을 중시한다.

8. 다음 두 사례에서 공통적으로 부각되는 문화의 속성에 대한 옳은 설명을 <보기>에서 고른 것은? [3점]

- ○○지역에서는 추운 기후로 인해 집안에 머무르는 시간이 길며, 목재가 풍부하여 연료 공급이 용이하다. 이로 인하여 이 지역 사람들은 오랫동안 천천히 약한 불로 끓이는 스투와 같은 음식을 즐겨 먹는다.
- 내륙의 분지 지형에 위치한 △△지방에서는 여름에 기온이 매우 높아 음식 부패 방지를 위해 향신료가 많이 들어간 조리법이 사용되고 있으며, 향신료의 원료가 되는 작물의 재배 및 유통이 활성화되어 있다.

<보기>

- ㄱ. 문화는 상징을 통해 다음 세대로 전달·계승된다.
- ㄴ. 문화는 고정된 것이 아니라 지속적으로 변화한다.
- ㄷ. 문화는 부분들이 모여 전체로서 하나의 체계를 이룬다.
- ㄹ. 문화는 특정 상황에서 상대방의 행동 방식을 예측하게 한다.

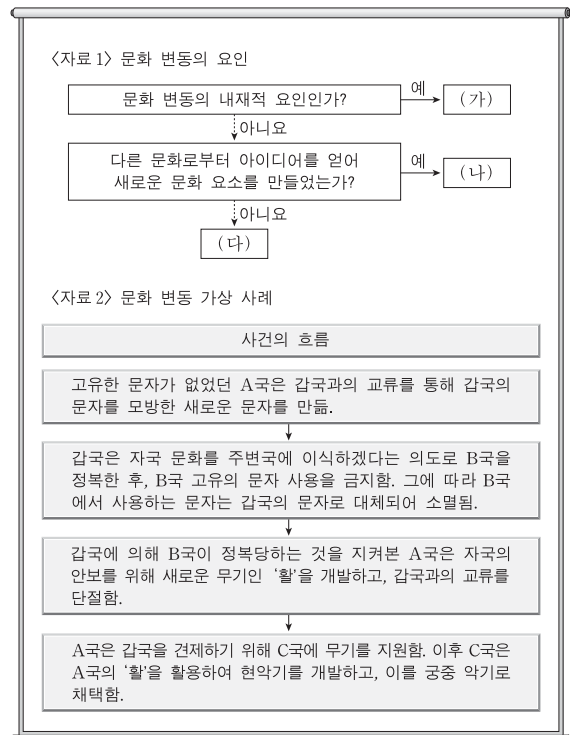
- ① ㄱ, ㄴ ② ㄱ, ㄷ ③ ㄴ, ㄷ ④ ㄴ, ㄹ ⑤ ㄷ, ㄹ

9. 밑줄 친 ㉠~㉣에 대한 설명으로 옳은 것은?

갑은 자동차가 스스로 운전하는 자율 주행차의 설계와 관련된 두 가지 주제를 연구하기 위해, 자발적으로 참여한 1,000명을 500명씩 ㉠A, B 두 집단으로 나누어 ㉡온라인 설문 조사를 실시하였다. 먼저 자율 주행차의 설계 기준에 대한 ㉢사람들의 인식이 상황에 따라서 어떻게 달라지는지 알아보려고 하였다. 이를 위해 A 집단을 대상으로 차량과 보행자의 충돌 상황에서 탑승자와 보행자가 1:1인 경우와 1:100인 경우로 나누어 ㉣1차 조사를 하였다. ㉤보행자보다 탑승자가 보호되어야 한다고 생각하는가에 대해, 전자의 경우 '예' 라는 응답이 75%였지만, 후자의 경우에는 20%로 낮아졌다. 다음으로 그러한 설계에 대한 인식이 구매로 연결될지를 알아보기 위해 B 집단을 대상으로 ㉥2차 조사를 실시하였다. 피해를 입는 보행자의 수를 최소화하도록 설계해야 한다는 데에는 70%가 동의했지만, 이런 차를 구매하겠다는 응답은 30%에 불과했다. 이를 통해 갑은 ㉦사람들의 인식과 선택 간의 불일치가 있다는 것을 발견하였고, 이 결과가 ㉧자율 주행차의 보급 시기를 늦추는 데 영향을 미칠 수 있을 것이라고 해석하였다.

- ① ㉠에서 A 집단은 실험 집단, B 집단은 통제 집단이다.
- ② ㉡은 사전 조사, ㉢은 사후 조사이다.
- ③ ㉣은 ㉤을 조작적으로 정의한 것이다.
- ④ ㉦은 모집단에 대해 일반화할 수 있다.
- ⑤ ㉧은 ㉤에서 연역적으로 도출되었다.

10. 다음 자료에 대한 분석으로 옳은 것은? (단, <자료 1>의 (가)~(다)는 각각 발명, 직접 전파, 자극 전파 중 하나이다.) [3점]



- ① A국에서는 (다)에 의한 문화 융합이 나타났다.
- ② B국에서는 (다)에 의한 문화 동화가 나타났다.
- ③ C국에서는 강제적 문화 접민의 결과로 (나)에 의한 문화 변동이 나타났다.
- ④ C국에서는 A국과 달리 (가)에 의한 문화 변동이 나타났다.
- ⑤ A, C국에서는 (나)로 인한 문화 공존이 나타났다.

11. 표는 일탈 이론 A~C를 질문에 따라 구분한 것이다. 이에 대한 옳은 설명만을 <보기>에서 있는 대로 고른 것은? (단, A~C는 각각 낙인 이론, 아노미 이론, 차별 교제 이론 중 하나이다.) [3점]

이론 \ 질문	(가)	(나)	(다)
A	예	아니오	아니오
B	아니오	아니오	예
C	아니오	예	아니오

<보기>

- ㄱ. A가 아노미 이론, B가 차별 교제 이론이라면, "타인들과의 상호 작용이 일탈 발생 과정에 미치는 영향을 중시하는가?"는 (다)에 적절하다.
- ㄴ. B가 낙인 이론, C가 아노미 이론이라면, "일탈자와의 접촉 차단을 일탈에 대한 대책으로 보는가?"는 (가)에 적절하다.
- ㄷ. (가)가 "사회 규범의 통제력 회복을 일탈에 대한 대책으로 보는가?"라면, "일탈의 원인으로 구조적인 요인을 강조하는가?"는 (나)에 적절하다.
- ㄹ. (가)가 "일탈 행동에 대한 부정적 반응을 일탈의 원인으로 보는가?"이고, (다)가 "문화적 목표에 도달할 기회 제공을 일탈에 대한 대책으로 보는가?"라면, C는 차별 교제 이론이다.

- ① ㄱ, ㄷ ② ㄴ, ㄷ ③ ㄴ, ㄹ
- ④ ㄱ, ㄴ, ㄹ ⑤ ㄱ, ㄷ, ㄹ

12. A~C 문화의 일반적인 특징에 대한 설명으로 옳은 것은?

한 사회 구성원들이 전반적으로 공유하는 문화를 A 문화라 한다. 반면 사회의 일부 구성원들만 공유하여 다른 구성원들과 구분되는 생활양식을 B 문화라고 한다. B 문화는 이를 공유하는 구성원들의 정체성을 알려 주는 문화로서 그들에게 중요한 삶의 양식이 된다. B 문화 중에는 그 사회의 지배 문화에 저항하거나 대립하는 문화가 있는데, 이를 C 문화라 한다.

- ① A 문화는 B 문화의 총합으로 설명할 수 없다.
- ② B 문화에는 A 문화의 문화 요소가 존재하지 않는다.
- ③ B 문화와 달리 C 문화는 집단 간 갈등을 초래하여 사회 통합을 저해할 수 있다.
- ④ 사회가 다원화될수록 C 문화는 A 문화로 수렴되는 경향을 보인다.
- ⑤ C 문화와 달리 B 문화는 사회 변화에 따라 A 문화가 되기도 한다.

13. 다음은 사회 제도에 관한 글이다. (가)에 들어갈 내용으로 가장 적절한 것은? [3점]

수렵 사회와 농경 사회의 다양한 문화 연구들을 보면 수렵 사회에서는 핵가족이 보편적이지만, 농경 사회에서는 핵가족보다 확대 가족이 많다는 점을 알 수 있다. 따라서 식량 공급 방식과 같은 경제 제도가 가족의 형태를 결정하며, 사회 조직의 분화 정도가 클수록 확대 가족이 보편화된다고 볼 수 있다. 그런데 산업 사회에서는 다시 핵가족이 늘어나고 있다. 이는 가족 단위 노동력의 수요가 점점 줄어들고 개인의 능력이 중요시되며, 사회 이동과 인구 이동률이 높아진 결과에서 기인한다. 그리고 가족은 개인이 노동 시장에 참여할 수 있도록 노동에 대한 가치와 태도에 대해 교육함으로써 산업화에 이바지한다. 따라서 사회 제도는 (가)

- ① 사회 구성원의 사고와 행동을 통제한다.
- ② 사회 구성원의 욕구 충족을 위한 수단으로 형성된다.
- ③ 사회 구성원 간의 행동에 대한 예측 가능성을 높인다.
- ④ 한 번 형성되면 쉽게 바뀌지 않고 안정적으로 유지된다.
- ⑤ 유기적으로 관련을 맺으면서 상호 의존적으로 기능을 수행한다.

14. 갑과 을이 가진 문화 이해의 관점에 대한 옳은 설명을 <보기>에서 고른 것은?

- 갑은 경제적 측면에 치우친 주택에 대한 연구 경향을 비판하며, 주택의 문화적 의미에 대해 연구하였다. 그 결과 갑은 주택이 경제적 의미뿐만 아니라 사회적 성향, 자연 조건, 자원의 영향과 밀접하게 관련되어 있다는 사실을 규명하였다.
- 을은 남태평양의 여러 섬에서 나타나는 선물 문화를 연구한 결과, 선물의 형태가 각 지역의 특성에 따라 다양하지만 선물을 주고받는 것은 어느 사회에서나 사회를 유지하는데 중요한 기능을 한다는 결론을 내렸다.

<보기>

- ㄱ. 갑의 관점은 문화가 부분이 아닌 전체로서의 의미를 갖는다고 본다.
- ㄴ. 을의 관점은 여러 문화를 비교하면서 공유되는 보편성을 파악한다.
- ㄷ. 갑의 관점은 을의 관점과 달리 자문화를 객관적으로 파악해야 한다고 본다.
- ㄹ. 을의 관점은 갑의 관점과 달리 모든 문화는 고유한 가치를 지닌다고 본다.

- ① ㄱ, ㄴ ② ㄱ, ㄷ ③ ㄴ, ㄷ ④ ㄴ, ㄹ ⑤ ㄷ, ㄹ

15. 근대화를 바라보는 갑, 을의 관점에 대한 설명으로 옳은 것은? [3점]

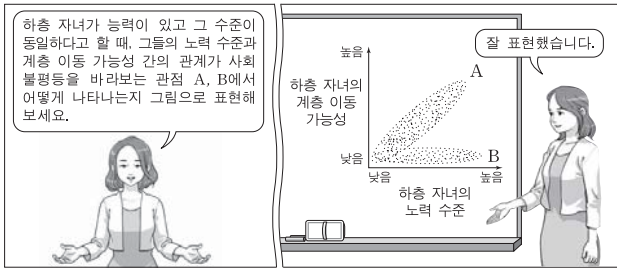
제3세계의 근대화는 선진화된 사회로부터 발전된 기술과 제도, 가치 등을 받아들여 그들과 같은 방식으로 변화하고자 노력해야 가능한 거야.

제3세계가 근대화되지 못하는 이유는 자신이 생산한 경제적 잉여를 서구 선진국에 착취당했기 때문이야. 이를 근본적으로 개선하지 않으면 저개발국의 발전은 쉽지 않아.



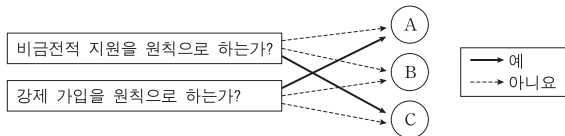
- ① 갑의 관점은 을의 관점과 달리 특정 국가의 지속적인 저발전 상태를 설명하기에 적합하다.
- ② 갑의 관점은 을의 관점과 달리 제3세계가 선진국에 경제적으로 종속될 때 경제 발전 정도가 낮다고 본다.
- ③ 을의 관점은 갑의 관점과 달리 사회 발전을 숙명론적인 시각으로 바라본다.
- ④ 을의 관점은 갑의 관점과 달리 제3세계 발전의 원동력으로 국가 내부의 자생력을 중시한다.
- ⑤ 갑, 을의 관점은 모두 국제 사회를 국가 간 협업의 관계로 설명한다.

16. 사회 불평등을 바라보는 관점 A, B에 대한 설명으로 옳은 것은?
[3점]



- ① A는 희소가치가 개인의 사회적 기여도와 무관하게 분배된다고 본다.
- ② A는 희소가치의 분배 수준이 균등해질수록 사회적 효율성이 낮아진다고 본다.
- ③ B는 개인의 성취동기와 희소가치의 차등 분배 수준 사이에 정(+)의 관계가 있다고 본다.
- ④ B는 희소가치의 차등 분배 수준과 사회 갈등 정도 사이에 부(-)의 관계가 있다고 본다.
- ⑤ A는 부모의 계층과 자녀의 사회적 성공 가능성 사이에 정(+)의 관계가 있다고 보고, B는 무관하다고 본다.

17. 그림의 A~C는 우리나라 사회 보장 제도이다. 이에 대한 분석으로 옳은 것은? (단, A~C는 각각 공공 부조, 사회 보험, 사회복지 서비스 중 하나이다.) [3점]



- ① '수혜 대상자에 대한 자립과 자활 보장을 목적으로 한다.'는 특징은 A에는 나타나고, B에는 나타나지 않는다.
- ② '수혜 정도와 상관없이 능력에 따라 비용을 부담한다.'는 특징은 A와 B에 공통으로 나타난다.
- ③ '국가와 지방 자치 단체가 비용을 전액 부담하는 것을 원칙으로 한다.'는 특징은 B에는 나타나고, A에는 나타나지 않는다.
- ④ '사전 예방적 성격이 강하다.'는 특징은 B와 C에 공통으로 나타난다.
- ⑤ '상호 부조의 성격이 강하다.'는 특징은 C에는 나타나고, A와 B에는 나타나지 않는다.

18. 대중 매체 A~C에 대한 옳은 설명만을 <보기>에서 있는 대로 고른 것은?

- ☞ A~C는 각각 누리 소통망(SNS), 서적, TV 중 하나이다.
- ☞ 정보 전달의 양방향성 측면에서 보면 C가 A, B보다 높은 편이다.
- ☞ 문맹자의 정보 접근성 측면에서 보면 B가 A보다 높은 편이다.

<보기>

- ㄱ. A는 B보다 생동감 있는 정보 전달이 용이하다.
- ㄴ. B는 C보다 정보의 복제와 재가공의 용이성이 낮다.
- ㄷ. C는 B보다 정보의 생산자와 소비자 간의 경계가 모호하다.
- ㄹ. A, B와 달리 C는 수용자별 정보 획득의 동시성이 나타난다.

- ① ㄱ, ㄴ ② ㄱ, ㄹ ③ ㄴ, ㄷ
- ④ ㄱ, ㄷ, ㄹ ⑤ ㄴ, ㄷ, ㄹ

19. 다음 글을 통해 도출할 수 있는 옳은 내용만을 <보기>에서 있는 대로 고른 것은?

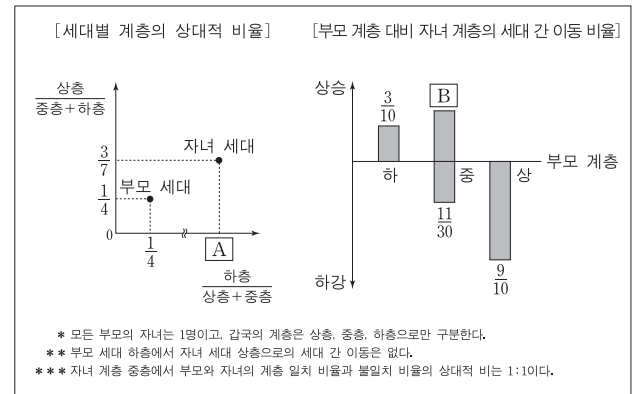
'유리 천장'은 여성이 조직에서 상위 직급으로 승진할 때 겪는 '눈에 보이지 않는 장벽'을 의미한다. 유리 천장의 유형으로 여성의 업무 능력에 대한 근거 없는 의심, 비공식 자리에서의 의도적 배제 등을 들 수 있다. 한편 같은 직급이더라도 승진에 유리한 핵심 업무가 있을 수 있는데, 여성이 핵심 업무로부터 수평적으로 분리되는 현상을 '유리벽'으로 표현한다.

<보기>

- ㄱ. 직장 내 양성 평등 문화의 확산은 유리 천장 현상을 완화하는 데 기여한다.
- ㄴ. 여성에 대한 사회적 차별은 남성과 여성의 개인적 능력 차이에서 기인한다.
- ㄷ. 유리벽 현상은 조직 내에서 특정 성에 대한 차별이 구조적으로 나타나는 현상이다.
- ㄹ. 유리 천장과 유리벽 현상이 제거되면 사회적 자원의 배분 과정에서 기회의 공정성이 제고될 것이다.

- ① ㄱ, ㄷ ② ㄴ, ㄷ ③ ㄴ, ㄹ
- ④ ㄱ, ㄴ, ㄹ ⑤ ㄱ, ㄷ, ㄹ

20. 다음 자료는 갑국의 세대 간 계층 이동 현황을 나타낸 것이다. 이에 대한 분석으로 옳은 것은?



- ① 부모 세대보다 자녀 세대에서 사회 통합의 필요성이 낮아졌다.
- ② 자녀 세대 계층 대비 부모와 자녀의 계층 일치 비율은 하층이 가장 높다.
- ③ 부모 세대 계층 대비 자녀와 부모의 계층 불일치 비율은 상층보다 하층이 높다.
- ④ 부모 세대 상층과 하층의 합 대비 부모 세대 중층의 상대적 비율은 A보다 크다.
- ⑤ 부모 세대 상층 대비 부모 상층에서 자녀 하층으로의 세대 간 이동 비율은 B보다 작다.

* 확인 사항
○ 답안지의 해당란에 필요한 내용을 정확히 기입(표기)했는지 확인하십시오.

1. ① 2. ㉔ 3. ㉒ 4. ㉑ 5. ㉑ 6. ㉑ 7. ㉔ 8. ㉔ 9. ㉑ 10. ㉒
11. ㉑ 12. ㉑ 13. ㉔ 14. ㉑ 15. ㉑ 16. ㉒ 17. ㉑ 18. ㉑ 19. ㉔ 20. ㉑

1. 사회·문화 현상과 자연 현상의 특징 비교

정답 해설 : ㉑, ㉔은 사회·문화 현상, ㉒, ㉓은 자연 현상이다. ① ㉑과 같은 사회·문화 현상은 ㉒과 같은 자연 현상과 달리 인간의 가치가 개입되어 나타난다. **정답 ①**
[오답피하기]

- ㉒ ㉓, ㉔과 같은 자연 현상은 확실성의 원리가 적용된다.
- ㉑ ㉒과 같은 자연 현상은 필연성, ㉓과 같은 사회·문화 현상은 개연성으로 설명된다.
- ㉑ ㉒과 같은 사회·문화 현상은 당위 법칙을 따른다.
- ㉓ 보편성이 강하게 나타나는 것은 ㉒과 같은 자연 현상이다.

2. 여러 가지 사회학적 개념에 대한 이해

정답 해설 : ㉔ 자원 봉사자는 개인적인 노력에 의해 후천적으로 획득된 성취 지위이다. **정답 ㉔**
[오답피하기]

- ① ○○방송사는 과거 갑의 내집단지자 준거집단지자였다.
- ② 2개 이상의 역할 간 상충이 나타나지 않으므로 역할 갈등이 아니다.
- ③ 연기자가 되기 위하여 재사회화를 경험할 수 있으나, ○○방송사에서 재사회화를 경험한 것은 아니다.
- ④ 역할에 대한 보상이 아니라 역할 행동에 대한 보상이다.

3. 사회 조직의 유형에 대한 이해

정답 해설 : A는 탈관료제 조직, B는 관료제 조직, C는 비공식 조직이다. ㉒ 탈관료제 조직이나 관료제 조직 모두 공식 조직으로, 공식적 제재를 통해 구성원을 통제한다. **정답 ㉒**
[오답피하기]

- ㉑ 기업의 노동조합은 친밀한 인간관계에 바탕을 둔 비공식 조직이 아니다.
- ㉒ 상향식 의사 결정 방식은 관료제 조직에 비해 탈관료제 조직에서 강조된다.
- ㉑ 비공식 조직인 C만 구성원들의 가입과 탈퇴가 자유로운 자발적 결사체이다.
- ㉓ 구성원 간 수직적 만남과 간접적 접촉은 A, B와 같은 공식 조직에서 나타난다.

4. 여러 가지 자료 수집 방법의 비교

정답 해설 : (가)는 질문지법, (나)는 면접법, (다)는 참여 관찰법이다. ㉑ 면접법과 참여 관찰법이 질문지법에 비해 연구 대상을 심층적으로 파악하기 용이하다. **정답 ㉑**
[오답피하기]

- ㉒ 개인의 이익이 곧 사회 전체의 이익이라고 보는 것은 사회 명목론의 입장이다.
- ㉑ 개인에 대한 사회 구조의 영향력을 중시하는 것은 사회 실재론의 입장이다.
- ㉒ 개인은 집단 전체와의 관련 속에서만 존재 의미를 지닌다고 보는 것은 사회 실재론의 입장이다.

8. 문화의 속성에 대한 이해

정답 해설 : 첫 번째 사례에 따르면 ○○ 지역 사람들은 스테이크 같은 음식을 즐겨 먹는(대공유성), 이는 집안에 머무르는 시간이 긴 것과 연로 공급이 용이한 것과 관련이 있다(총체성). 두 번째 사례에 따르면 △△ 지방에서는 향신료가 많이 들어간 조리법이 사용되고 있고(공유성), 이로 인해 향신료의 원료가 되는 작물의 재배 및 유통이 활성화되어 있다(총체성). 두 사례에 공통적으로 부각되는 문화의 속성은 공유성과 총체성이다. **정답 ㉑**
[오답피하기]

- ㉑ 문화의 학습성, ㉒ 문화의 변동성에 대한 설명이다.

9. 양적 연구에 대한 분석

정답 해설 : ㉑ '사람들의 인식'을 '보행자보다 답송자가 보호되어야 한다.'는 설문 문항에 대한 응답률로 측정하고 있다는 점에서, ㉓은 ㉔을 조작적으로 정의한 것이다. **정답 ㉑**
[오답피하기]

- ① 실험법이 아닌 질문지법을 통해 자료를 수집하고 있다. 따라서 실험 집단과 통제 집단이 나타나지 않는다.
- ② 사전 조사와 사후 조사 또한 실험법에서 나타난다. ㉓과 ㉔은 독립 변인을 처치한 이후의 변화를 보기 위한 것이 아니라, 2개의 주제에 관한 자료를 수집하기 위한 조사일 뿐이다.
- ③ 자발적으로 참여한 1,000명의 표본이 비자발적인 사람들까지 대표할 수 없다. 즉, 표본이 모집단을 대표한다고 말할 수 없으므로, 일반화할 수 없다.
- ⑤ 설문 조사를 토대로 결론을 이끌어내는 것은 귀납적이며, ㉓을 통해 도출한 결론은 ㉓이 아니라 ㉒이다.

10. 문화 변동 사례에 대한 분석

정답 해설 : (가)는 발명, (나)는 자극 전파, (다)는 직접 전파이다. ㉒ 갑국이 B국을 정복한 후 자극 문화를 강제로 이식하였으므로 직접 전파가 일어났으며, 그 결과 B국에서 사용하는 문자가 갑국의 문자로 대체되어 소멸되었으므로 문화 동화가 나타났다. **정답 ㉒**
[오답피하기]

- ① A국에서는 (나)인 자극 전파에 의해 문화 변동이 나타났다.
- ③ C국에서 강제적 문화 접변이 일어났는지 확인할 수 없으며, 현악기를 개발한 것은

- ① 질적 자료 수집에 용이한 것은 면접법과 참여 관찰법이다.
- ② 면접법과 참여 관찰법 모두 연구자의 주관적 가치가 개입될 우려가 있다.
- ③ 인위적으로 통제된 상황에서 변수의 효과를 관찰하는 것은 실험법이다.
- ⑤ 자료 수집 과정에서 언어를 매개로 한 상호 작용이 필수적으로 요구되는 것은 질문지법과 면접법이다.

5. 사회·문화 현상을 바라보는 관점의 비교

정답 해설 : (가)에는 기능론적 관점, (나)에는 상징적 상호작용론이 나타나 있다. ㉑ 사회가 구성 요소 간의 상호 의존적 관계 형성을 통해 질서와 안정을 이룬다고 보는 것은 기능론적 관점이다. **정답 ㉑**
[오답피하기]

- ① 기능론적 관점은 사회는 스스로 균형을 유지하려는 속성을 지니고 있다면서 사회 변동보다는 사회 안정을 강조한다.
- ② 상징적 상호작용론은 개인이 상황 정의에 기초하여 사회적 상황에 반응한다고 본다.
- ③ 기능론적 관점은 사회가 유기체처럼 다양한 부분들이 상호 의존적으로 맞물려 하나의 체계를 이루고 있다고 본다. 그리고 상징적 상호작용론은 인간이 사물이나 행위에 복잡한 의미를 부여한다고 본다.
- ⑤ 사회 구조에 대한 분석을 통해 사회 현상을 이해하는 것은 거시적 관점이다. 기능론적 관점은 거시적 관점, 상징적 상호작용론은 미시적 관점으로 분류된다.

6. 산업 사회와 정보 사회의 비교

정답 해설 : A 사회는 정보 사회, B 사회는 산업 사회이다. ㉑ 관료제 조직은 산업 사회에서, 탈관료제 조직은 정보 사회에서 상대적으로 비중이 더 높다. **정답 ㉑**
[오답피하기]

- ① 면대면 접촉의 비중은 정보 사회보다 산업 사회에서 더 높다.
- ② 산업 사회에서는 자본과 노동, 정보 사회에서는 정보와 지식이 부가 가치의 원천으로 중시된다.
- ③ 다품종 소량 생산 방식은 정보 사회에서 더 확대된다.
- ⑤ 가상공간의 등장으로 인해 소비자와 생산자 간의 공간 제약이 극복되는 것은 정보 사회의 특징이다.

7. 개인과 사회의 관계를 바라보는 관점의 비교

정답 해설 : (가)에는 사회 명목론, (나)에는 사회 실재론이 나타나 있다. ㉑ 개인의 자율성보다 사회 규범의 구속성을 중시하는 것은 사회 실재론의 입장이다. **정답 ㉑**
[오답피하기]

- ① 사회가 개인으로 환원하여 설명할 수 없는 고유한 성격을 지닌다고 보는 것은 사회 실재론의 입장이다.

- (가)인 발명에 해당한다.
- ④ A국이 활을 개발한 것과 C국이 현악기를 개발한 것은 모두 (가)인 발명에 해당한다. 즉, A국과 C국 모두에서 발명에 의한 문화 변동이 나타났다.
- ⑤ A국에서는 (나)인 자극 전파가 나타났으나, C국에서는 자극 전파를 찾을 수 없다. 그리고 A, C국에서 문화 공존이 나타났는지는 단정할 수 없다.

11. 일탈 이론에 대한 이해

정답 해설 : ㉒, B가 낙인 이론이고 C가 아노미 이론이라면 A는 차별 교제 이론이다. 일탈자와의 접촉 차단은 차별 교제 이론이 제시하는 일탈 대책이므로, 옳은 진술이다. ㉑ 일탈 행동에 대한 부정적 반응을 일탈의 원인으로 보는 것은 낙인 이론(A)이다. 문화적 목표에 도달할 기회 제공을 일탈에 대한 대책으로 보는 것은 아노미 이론(B)이다. 따라서 C는 차별 교제 이론이 된다. **정답 ㉑**
[오답피하기]

- ㉑ 차별 교제 이론(B)은 일탈 행동의 원인을 일탈 행동을 하는 사람과의 빈번한 접촉과 상호 작용에서 찾으므로, 타인들과의 상호 작용이 일탈 발생 과정에 영향을 미친다고 본다. 낙인 이론(C)은 1차적 일탈을 한 사람에게 대한 주위 사람들의 부정적 낙인과 이를 통해 형성된 부정적 자아로 인한 2차적 일탈의 발생에 주목하므로, 이 또한 타인들과의 상호 작용이 일탈 발생 과정에 영향을 미친다고 본다. 따라서 (다)에 들어가기 옳은 진술이 아니다.
- ㉒ 사회 규범의 통제력 회복은 아노미 이론에서 중시하는 대책이므로, A는 아노미 이론이 된다. 그런데 아노미 이론은 거시적 관점으로 분류되어 일탈의 원인으로 구조적인 요인을 강조한다. 옳은 진술이 아니다.

12. 전체 문화, 하위문화, 반문화에 대한 이해

정답 해설 : A는 전체 문화, B는 하위문화, C는 반문화이다. ① 하위문화를 합한다 해서 전체문화가 되는 것은 아니다. **정답 ①**
[오답피하기]

- ② 하위문화를 갖는 사람들도 전체 문화를 향유하므로, 하위문화에도 전체 문화의 요소가 존재한다.
- ③ 하위문화와 반문화 모두 집단 간 갈등을 초래하여 사회 통합을 저해할 수 있다.
- ④ 사회가 다원화된다 해서 반문화가 전체 문화로 수렴되는 것은 아니다.
- ⑤ 하위문화와 반문화 모두 사회 변화에 따라 전체 문화가 될 수 있다.

13. 사회 제도의 특징 파악

정답 해설 : 수렵 사회와 농경 사회에서 경제 제도가 가족 제도에 영향을 주고 있으며, 산업 사회에서는 사회 변화에 따라 가족 제도가 변화하고 이는 다른 제도에 영향을 끼치기도 한다. 즉, 사회 제도는 상호 유기적으로 관련을 맺으면서 상호 의존적으로

로 기능을 수행한다.

정답 ㉔

[오답피하기]

① 사회 제도의 구속성. ② 사회 제도의 목적성. ③, ④ 사회 제도의 안정성과 관련된 진술이나 (가)에 들어갈 내용은 아니다.

14. 문화 이해의 관점에 대한 이해

정답 해설 : 같은 총체론적 관점, 혹은 비교론적 관점에서 문화를 이해하고 있다. ㄱ. 총체론적 관점에 따르면, 문화의 한 부분은 독립적으로 의미를 갖지 못하며 다른 문화 요소나 전체와의 관련 속에서 그 의미를 갖는다.

ㄴ. 비교론적 관점은 여러 사회의 문화를 비교하여 문화의 보편성과 특수성을 찾아내고자 한다. 정답 ㉑

[오답피하기]

ㄷ. 비교론적 관점은 자문화에 대한 객관적 이해를 돕는다.
ㄹ. 모든 문화는 고유한 가치를 지닌다고 보는 것은 상대론적 관점에 해당되는 진술이다.

15. 근대화를 바라보는 근대화론과 종속 이론의 비교

정답 해설 : 같은 근대화론, 혹은 종속 이론의 입장에서 근대화를 바라보고 있다. ㉔ 종속 이론에서는 제3세계 국가들이 근대화를 이룩하기 위해서는 주체적인 발전 전략을 통해 내부적 자생력을 키워야 한다고 주장한다. 이와 달리 근대화론에서는 제3세계 국가들이 서구 사회의 발전 경로를 따를 때 근대화가 달성된다고 본다. 정답 ㉑

[오답피하기]

① 종속 이론은 특정 국가가 지속적인 저발전 상태에 있는 것은 특정 국가가 선진국에 종속되어 있기 때문이라고 본다.
② 선진국에 의한 제3세계 국가들의 경제적 종속은 종속 이론에서 주목한다.
③ 숙명론적 시각은 순환론의 특징이다.
④ 종속 이론은 국제 사회를 국가 간 협정의 관계로 설명하지 않는다.

16. 사회 불평등을 바라보는 기능론과 갈등론적 관점의 비교

정답 해설 : 하층 자녀가 노력할수록 계층 이동 가능성이 높아진다고 보는 것은 기능론적 관점, 하층 자녀가 노력을 해도 계층 이동이 어렵다고 보는 것은 갈등론적 관점이다. 따라서 A는 기능론적 관점, B는 갈등론적 관점이다. ㉒ 기능론적 관점에서는 희소가치의 차등 분배가 개인에게 성취동기를 부여하고 경쟁을 유발함으로써 사회적 효율성을 높인다고 본다. 정답 ㉒

[오답피하기]

① 기능론적 관점에서는 개인의 사회적 기여도를 반영하여 희소 가치가 분배된다고 본다.
② 희소가치의 차등 분배 수준과 개인의 성취동기가 정(+)의 관계에 있다고 보는 것은 기능론적 관점이다.

④ 갈등론적 관점에서는 희소가치의 차등 분배로 나타나는 사회적 불평등 현상이 사회 통합을 저해한다고 본다.
⑤ 부모의 계층과 자녀의 사회적 성공 가능성 사이에 정(+)의 관계에 있다고 보는 것은 갈등론적 관점이다.

17. 사회 보장 제도에 대한 이해

정답 해설 : A는 사회 보험, B는 공공 부조, C는 사회 서비스이다. ㉑ 공공 부조는 원칙적으로 제도 운영에 들어가는 비용을 국가와 지방 자치 단체가 세금을 재원으로 하여 전액 부담한다. 이와 달리 사회 보험은 원칙적으로 가입자와 사용자가 비용을 부담하며, 국가가 지원하는 경우가 있다. 정답 ㉑

[오답피하기]

① 공공 부조의 하나인 국민 기초 생활 보장 제도에서도 빈곤자의 자립과 자활을 지원한다.
② 수혜 정도와 상관없이 능력에 따라 비용을 부담하는 것은 사회 보험만의 특징이다.
④ 공공 부조는 사후 치방적인 성격이 강하다.
⑤ 상호 부조의 성격이 강한 것은 사회 보험의 특징이다.

18. 대중 매체의 유형 및 그 특징에 대한 이해

정답 해설 : A는 서적, B는 TV, C는 SNS이다. ㄴ. 정보의 복제와 재가공의 용이성은 SNS가 가장 높다.

ㄷ. SNS에서는 정보를 생산하는 자가 정보를 소비하기도 한다. 그러나 TV와 서적은 정보 생산자와 정보 소비자가 다르다. 정답 ㉑

[오답피하기]

ㄱ. TV는 생생한 현장을 직접 촬영하여 보여줄 수 있으므로, 서적에 비해 생동감 있는 정보를 전달할 수 있다.
ㄹ. TV는 특정 시간에 정보가 동시에 전달되므로, 수용자는 정보를 동시에 획득한다.

19. 유리 천장과 유리벽을 통해 본 성차별에 대한 이해

정답 해설 : ㄱ. 직장 내 양성 평등 문화의 확산은 조직 내에서 여성을 차별하는 현상을 완화시키는데 기여한다.

ㄷ. 유리벽은 여성이 핵심 업무로부터 수평적으로 분리되는 현상으로, 이는 여성에 대한 차별이 구조적인 현상임을 보여준다.

ㄹ. 유리 천장과 유리벽 현상이 제거되면, 사회적 희소 가치가 남성과 여성에게 공평하게 분배될 수 있다. 정답 ㉑

[오답피하기]

ㄴ. 유리 천장과 유리벽은 개인의 능력과 관계없이 성차별이 구조적으로 나타나고 있음을 보여준다.

20. 세대 간 계층 이동에 대한 분석

정답 해설 : 부모 세대 계층 비율을 구하기 위해, 부모 상층을 a, 부모 중층을 b, 부모 하층을 c라고 하자. a/b+c=1/4, c/a+b=1/4 이므로, a:b:c=1:3:1이 된다. 따라서 부모 세대 계층 구성 비율은 상층 20%, 중층 60%, 하층 20%가 된다. 자녀 세대 계층의 상대적 비율에서 상층/중층+하층=3/7이므로, 자녀 상층은 30%이고 중층과 하층의 합은 70%가 된다. 그리고 부모 하층의 세대 간 상승 비율은 3/10이고 부모 하층에서 자녀 상층으로의 이동은 없으므로, 부모 하층에서 자녀가 하층인 경우는 전체의 14%이고 자녀가 중층인 경우는 전체의 6%가 된다. 부모 상층의 세대 간 이동 비율은 9/10이므로, 부모 상층 중 자녀도 상층을 유지한 비율은 전체의 2%가 된다. 부모 중층의 세대 간 하강 이동 비율은 11/30이므로, 부모 중층 중 자녀가 하층인 경우는 전체의 22%가 된다. 이 결과를 표로 나타내면 다음과 같다.

단위 : %

구분	부모 세대 계층			계	
	상	중	하		
자녀 세대 계층	상	2	(가)	0	30
	중	(나)	(다)	6	(마)
	하	(라)	22	14	(바)
계	20	60	20	100	

따라서 (가)는 28, (다)는 10, (나)는 4(자녀 세대 중층에서 부모와 자녀의 계층 일치 비율과 불일치 비율은 10%로 일치해야 한다.), (라)는 14, (마)는 20, (바)는 50이 된다. 이 결과를 표로 나타내면 다음과 같다.

단위 : %

구분	부모 세대 계층			계	
	상	중	하		
자녀 세대 계층	상	2	28	0	30
	중	4	10	6	20
	하	14	22	14	50
계	20	60	20	100	

④ A는 50/50이고, 부모 세대 상층과 하층의 합 대비 부모 세대 중층의 상대적 비율은 60/40이다. A가 더 작다. 정답 ㉑

[오답피하기]

① 부모 세대에서는 다이아몬드 형, 자녀 세대에서는 모래시계 형 계층 구조가 나타났다. 따라서 자녀 세대에서 사회 통합의 필요성이 높아졌다.
② 자녀 세대 계층 대비 부모와 자녀의 계층 일치 비율의 경우 상층은 2/30, 중층은 10/20, 하층은 14/50이다. 중층이 가장 높다.
③ 부모 세대 계층 대비 자녀와 부모의 계층 불일치 비율의 경우 상층은 18/20, 중층은 50/60, 하층은 6/20이다. 상층이 하층보다 높다.
⑤ B는 14/30이고, 부모 세대 상층 대비 부모 상층에서 자녀 하층으로의 세대 간 이동 비율은 14/20이다. B가 더 작다.

제 4 교시

사회탐구 영역(사회·문화)

성명 수험 번호

1. 밑줄 친 ㉠~㉣과 같은 현상의 일반적인 특징에 대한 설명으로 옳은 것은?

얼마 전 ㉠지리산에 사는 반달가슴곰의 영상이 공개되었습니다. 최근 태어난 다섯 마리 새끼에 관한 영상입니다. 앞으로 ㉡유전적 다양성을 확보하기 위해 추가 방사를 한다면 안정적으로 번식할 수 있을 것으로 보입니다. ㉢거울잠에서 깨어난 곰들이 왕성한 활동을 하고 있으므로, 국립공원 관리 공단은 등산객들에게 ㉣곰들이 출몰할 가능성이 있는 구역의 출입을 자제해 줄 것을 당부했습니다.



- ① ㉠과 같은 현상은 ㉢과 같은 현상과 달리 불가치적이다.
- ② ㉠과 같은 현상은 ㉡과 같은 현상과 달리 당위 법칙을 따른다.
- ③ ㉡과 같은 현상은 ㉣과 같은 현상과 달리 개연성으로 설명된다.
- ④ ㉡과 같은 현상은 ㉠과 같은 현상과 달리 필연성의 원리가 적용된다.
- ⑤ ㉠, ㉡과 같은 현상은 ㉢, ㉣과 같은 현상에 비해 특수성이 강하다.

2. 사회·문화 현상을 바라보는 갑~병의 서로 다른 관점에 대한 설명으로 옳은 것은?

사회자: 최근 증가하고 있는 아동 학대 사건의 원인에 대한 의견을 말씀해 주십시오.
 갑: 자녀를 학대하는 부모들만의 문제가 아닙니다. 가족, 학교, 사회가 모두 제 기능을 못하고 있어 발생한 문제입니다.
 을: 최근 사건을 보면 대부분 빈곤층에서 발생하고 있어요. 자녀 양육에 필요한 사회적 자원을 기득권층에서 독점하는 구조가 문제입니다.
 병: 이 문제는 제도적 결함이나 구조적 불평등에서 비롯된 것이 아닙니다. 자녀의 행동에 대한 부모의 잘못된 상황 정의와 부모와 자녀 간의 왜곡된 상호 작용이 원인입니다.

- ① 갑의 관점은 을의 관점과 달리 행위 주체인 인간이 부여하는 의미를 중시한다.
- ② 을의 관점은 갑의 관점에 비해 사회 구성원들 사이의 사회적 합의를 중시한다.
- ③ 병의 관점은 갑의 관점과 달리 다양한 제도들이 상호 의존하는 관계에 주목한다.
- ④ 병의 관점은 을의 관점에 비해 사회적 희소가치 배분의 불평등 구조에 주목한다.
- ⑤ 갑, 을의 관점은 병의 관점과 달리 사회·문화 현상을 사회 구조적 측면에서 바라본다.

3. 표에 제시된 자료 수집 방법 A~D의 일반적 특징에 대한 설명으로 옳은 것은? (단, A~D는 각각 면접법, 실험법, 질문지법, 참여 관찰법 중 하나이다.) [3점]

연구 조건	적합한 자료 수집 방법
면대면 대화를 통해 깊이 있는 정보를 수집한다.	A
일상생활에서 나타나는 연구 대상의 행동을 관찰한다.	B
대규모 집단을 대상으로 계량화된 자료를 수집한다.	C
인위적으로 통제된 상황에서 변수의 효과를 관찰한다.	D

- ① A는 B보다 예상하지 못한 변수의 통제가 어렵다.
- ② B는 C보다 시간과 비용 측면에서의 효율성이 높다.
- ③ C는 D보다 문맹자에게 사용하기 어렵다.
- ④ D는 A보다 연구자의 주관적 가치 개입 가능성이 높다.
- ⑤ A, B는 C, D와 달리 양적 연구에서 주로 사용된다.

4. 밑줄 친 ㉠~㉣에 대한 설명으로 옳은 것은? [3점]

갑은 ㉠아버지의 권유로 ㉡직업 훈련소에서 기술을 배웠다. 회사에 입사한 후, ㉢야간 대학에서 만난 ㉣아내와 결혼하여 맞벌이를 하고 있다. 갑은 해외 지사 근무를 꿈꾸며 외국어 공부를 하였다. 최근 갑은 다른 회사로부터 ㉤해외 지사 근무를 조건으로 한 영입을 제안 받았다. 갑은 국내에 남으려는 어머니와 해외로 떠나려는 아버지 사이에서 ㉥누구의 의견을 따라야 할지 고민에 빠져 있다.

- ① ㉠은 선천적으로 주어진 지위이다.
- ② ㉢과 ㉣은 2차적 사회화 기관이며 공식적 사회화 기관이다.
- ③ ㉤은 ㉠의 지위로서 수행한 역할 행동이다.
- ④ ㉥은 갑의 준거 집단이자 소속 집단이다.
- ⑤ ㉥은 갑이 가진 두 가지 지위에서 발생하는 역할 갈등이다.

5. 표는 질문 (가)~(다)를 활용하여 사회 변동을 보는 관점 A, B를 구분한 것이다. 이에 대한 설명으로 옳은 것은? (단, A와 B는 각각 진화론과 순환론 중 하나이다.)

질문	(가)	(나)	(다)
A	아니요	예	예
B	예	아니요	예

- ① A가 진화론이면 (가)에는 “서구 중심적 사고라고 비판을 받는가?”가 적절하다.
- ② B가 순환론이면 (다)에는 “사회 변동을 사회 발전으로 인식하는가?”가 적절하다.
- ③ (나)가 “사회 변동은 주기적으로 동일한 과정을 반복하는가?”이면, B는 순환론이다.
- ④ (다)에는 “사회 변동은 일정한 방향을 가지고 있는가?”가 적절하다.
- ⑤ (가)가 “제국주의를 정당화하는 근거로 사용되었는가?”이면, (나)에는 “사회 변동 과정에서 문명이 퇴보할 수 있는가?”가 적절하다.

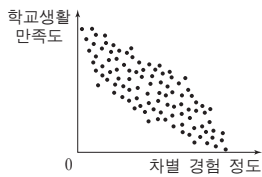
6. 다음 두 사례를 종합하여 내린 결론으로 가장 적절한 것은?

- 남성 우위 문화가 지배적인 A국에서 살던 갑은 여성 우위 문화가 지배적인 B국으로 이주하였다. 그 결과 갑은 남성으로서 누리던 우월한 지위를 상실하고 사회적 불이익을 받게 되었다.
- C 지역의 다수 민족 출신인 을은 D 지역으로 이주하면서 소수 민족에 속하게 되었다. D 지역에 널리 퍼져 있는 소수 민족 차별의 사회적 관행으로 인해 을은 자신의 민족 언어와 문화를 포기해야 할 지경에 이르렀다.

- ① 사회적 소수자가 되는 기준은 상대적이다.
- ② 사회적 소수자는 수적으로 열세에 놓인 집단이다.
- ③ 성별에 따른 차별이 출신에 따른 차별보다 강하다.
- ④ 사회적 소수자에 대한 차별은 주류 집단의 정체성을 약화시킨다.
- ⑤ 사회적 소수자 집단에서 벗어나려면 성취 지위의 변화가 필수적이다.

7. 밑줄 친 ㉠~㉣에 대한 설명으로 옳은 것은? [3점]

갑은 다문화 가정 자녀들의 ㉠ 학교생활 만족도에 ㉡ 차별 경험 정도가 미치는 영향을 알아보기 위한 ㉢ 연구를 하였다. 이를 위해 ㉣ ○○지역 고등학교 다문화 가정 자녀들 중 설문에 자발적으로 참여한 100명을 대상으로 설문 조사를 실시하였다. ㉤ 수집된 자료를 분석한 결과, 차별 경험 정도가 학교생활 만족도에 유의미한 영향을 미친다는 ㉥ 결론을 도출하였다. 두 변수의 관계는 그림과 같다.



* 0에서 멀수록 그 정도가 높거나 증가함.

- ① ㉠은 독립 변수, ㉡은 종속 변수이다.
- ② ㉢은 질적 연구 방법에 기초하였다.
- ③ ㉣에 대한 연구 결과를 모집단에 일반화할 수 있다.
- ④ ㉤에서 ㉥을 도출하는 과정은 귀납적이다.
- ⑤ ㉥은 독립 변수와 종속 변수가 양(+)의 관계에 있음을 보여 준다.

8. (가)에 들어갈 적절한 내용을 <보기>에서 고른 것은?

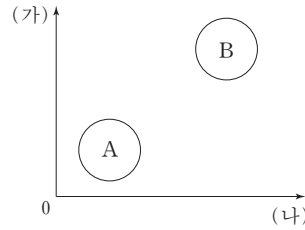
갑은 외국인에 대한 한국인의 태도가 피부색에 따라서 달라지는지 알아보기 위한 연구를 수행하였다. 갑은 피부색이 서로 다른 외국인 여성 을과 외국인 남성 병을 섭외하여 각각 길거리에서 한국인들에게 휴대전화를 빌리는 실험을 진행하였다. 실험 결과에 따르면 을의 성공률은 70%, 병의 성공률은 30%였다. 이를 통해 갑은 "한국인은 외국인의 피부색에 따라 외국인에 대한 태도가 상이하다."라는 결론을 내렸다. 연구와 관련된 내용 일체를 연구 대상자에게 알리지 않은 채, 갑은 연구 결과를 학회에서 발표하였다. 그러나 이 연구에는 (가)라는 문제점이 있다.

<보기>

- ㄱ. 연구 대상자에게 연구와 관련된 정보를 제공하지 않았다.
- ㄴ. 피부색 이외에 다른 변수가 미치는 영향을 고려하지 않았다.
- ㄷ. 사생활 관련 정보를 연구 목적 이외의 용도로 활용하였다.
- ㄹ. 실험 집단과 통제 집단 간의 성별 동질성을 확보하지 않았다.

- ① ㄱ, ㄴ ② ㄱ, ㄷ ③ ㄴ, ㄷ ④ ㄴ, ㄹ ⑤ ㄷ, ㄹ

9. 그림은 A, B의 일반적 특징을 비교한 것이다. 이에 대한 옳은 설명만을 <보기>에서 있는 대로 고른 것은? (단, A와 B는 각각 산업 사회와 정보 사회 중 하나이다.) [3점]



* 0에서 멀수록 그 정도가 높거나 증가함.

<보기>

- ㄱ. A가 산업 사회라면 (가)에는 '정보 확산의 속도', (나)에는 '구성원 간 익명성'이 적절하다.
- ㄴ. B가 정보 사회라면 (가)에는 '관료제 조직의 비중', (나)에는 '사회의 다원화 정도'가 적절하다.
- ㄷ. (가)가 '비대면 접촉 비중', (나)가 '3차 산업의 비중'이라면, A는 B보다 사회 변동 속도가 느리다.
- ㄹ. (가)가 '직업의 이질성', (나)가 '일터와 가정의 결합 정도'라면, B는 A보다 전자 상거래 비중이 낮다.

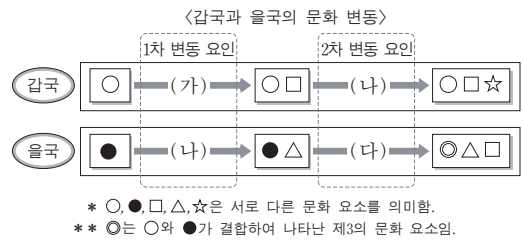
- ① ㄱ, ㄴ ② ㄱ, ㄷ ③ ㄴ, ㄹ
- ④ ㄱ, ㄷ, ㄹ ⑤ ㄴ, ㄷ, ㄹ

10. 다음 자료에 대한 옳은 분석만을 <보기>에서 있는 대로 고른 것은? [3점]

다음은 문화 변동의 요인을 (가)~(다)로 구분하고, 이를 통해 갑국과 을국의 문화 변동 사례를 분석한 자료이다. 갑국과 을국은 상호 교류 이외에 다른 제3의 국가와는 교류를 하지 않았다. 단, (가)~(다)는 각각 발명, 직접 전파, 자극 전파 중 하나이다.

<문화 변동의 요인>

구 분	(가)	(나)	(다)
문화 변동의 외재적 요인인가?	아니오	예	예
타 문화로부터 아이디어를 얻어 새로운 문화 요소가 만들어졌는가?	아니오	예	아니오




<보기>

- ㄱ. (가)는 발명, (나)는 직접 전파이다.
- ㄴ. 을국에서는 (다)로 인한 문화 융합이 나타났다.
- ㄷ. 갑국에서 창조된 문화 요소가 을국으로 전달되었다.
- ㄹ. 을국은 1차, 2차 변동에서 모두 갑국의 영향을 받았다.

- ① ㄱ, ㄴ ② ㄱ, ㄹ ③ ㄴ, ㄷ
- ④ ㄱ, ㄷ, ㄹ ⑤ ㄴ, ㄷ, ㄹ

11. 문화를 이해하는 갑~병의 태도에 대한 설명으로 옳은 것은?



- ① 갑의 태도는 문화 제국주의로 변질될 가능성이 높다.
- ② 을의 태도는 모든 문화가 동등한 가치를 지닌다고 본다.
- ③ 병의 태도는 자기 문화에 대한 객관적 이해를 가능하게 한다.
- ④ 갑의 태도와 달리 병의 태도는 특정 문화를 기준으로 문화의 우열을 판단한다.
- ⑤ 을의 태도와 달리 병의 태도는 다문화 사회에서 문화 갈등을 초래할 수 있다.

12. 사회 조직의 유형 A~C에 대한 설명으로 옳은 것은? (단, A~C는 각각 공식 조직, 비공식 조직, 자발적 결사체 중 하나이다.) [3점]

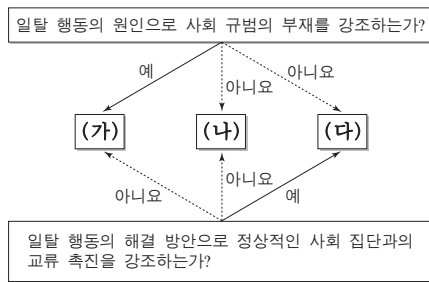
○ A는 공동의 목표를 가진 사람들의 자유의사에 따라 결성되며, B 혹은 C의 형태를 띠 수 있다.

○ B는 C를 기반으로 출현하여, C에 긍정적 혹은 부정적으로 작용하기도 한다.

○ C에 해당하는 사회 조직은 B에 속하지 않으나, B의 구성원은 C의 구성원이다.

- ① A는 1차 집단의 성격이 강하며, 2차 집단의 성격은 나타나지 않는다.
- ② B에서는 형식적·수단적인 인간관계가 지배적으로 나타난다.
- ③ B는 C에 비해 조직의 규모가 크고, 구성원이 이질적이다.
- ④ C는 A와 달리 구성원의 의지와 무관하게 자연 발생적으로 형성된 집단이다.
- ⑤ C는 B에 비해 구성원에 대한 공식적 통제의 정도가 강하다.

13. 그림의 일탈 이론 (가)~(다)에 대한 설명으로 옳은 것은? (단, (가)~(다)는 각각 낙인 이론, 아노미 이론, 차별적 교제 이론 중 하나이다.) [3점]



- ① (가)는 일탈 행동이 급격한 사회 변동으로 인해 촉발된다고 본다.
- ② (나)는 일탈을 규정하는 객관적 기준이 존재한다고 본다.
- ③ (다)는 일탈 행동 자체보다 일탈 행동에 대한 사회적 반응을 중시한다.
- ④ (가)는 (나)와 달리 일탈 행동의 해결 방안으로 불평등 구조의 근본적 변화를 강조한다.
- ⑤ (다)는 (나)와 달리 일탈 행동이 문화적 목표와 제도적 수단 간의 괴리에서 비롯된다고 본다.

14. 교육을 바라보는 갑, 을의 서로 다른 관점에 대한 옳은 설명을 <보기>에서 고른 것은?

갑: 교육이 인력 양성과 사회 질서 유지에 기여한다는 주장도 있지만, 누가 인재로 양성되며 누구를 위한 질서 유지인지 생각해 본다면 사회적 합의의 산물로 볼 수 없습니다. 결국 교육은 지배 이념을 정당화하는 수단입니다.

을: 교육은 사회적으로 필요한 인재를 양성해 적재적소에 배치하는 역할을 담당합니다. 사회가 필요로 하는 가치를 내면화하고, 직업 세계에서 필요로 하는 기능을 습득하도록 하는 것이 교육의 목적입니다.

<보기>

- ㄱ. 갑의 관점은 교육이 개인에게 사회 이동의 기회를 제공한다는 것을 강조한다.
- ㄴ. 을의 관점은 교육이 지위 세습을 강화하고 그 결과를 고착시킨다고 본다.
- ㄷ. 갑의 관점은 을의 관점과 달리 교육이 사회 불평등 구조를 재생산하여 확대시킨다고 본다.
- ㄹ. 을의 관점은 갑의 관점과 달리 교육이 사회 안정과 통합에 기여한다고 본다.

- ① ㄱ, ㄴ ② ㄱ, ㄷ ③ ㄴ, ㄷ ④ ㄴ, ㄹ ⑤ ㄷ, ㄹ

15. 다음 자료에 대한 설명으로 옳은 것은? (단, A와 B는 각각 신문과 뉴미디어 중 하나이다.) [3점]

표는 시민들을 대상으로 매체의 이용률과 신뢰도를 조사한 결과와 각 매체의 특징을 제시한 것이다. 각 매체별 이용률은 뉴스를 접하기 위해 이용한다고 응답한 사람의 비율(복수 응답 가능)이며, 신뢰도는 매체에 대한 신뢰도 점수(100점 만점)의 평균값이다.

매체	특징	이용률(%)	신뢰도(점)
A	심층적인 정보 전달에 유리함.	31	49
텔레비전	(가)	94	66
B	양방향 정보 전달에 유리함.	75	25
라디오	(나)	20	38

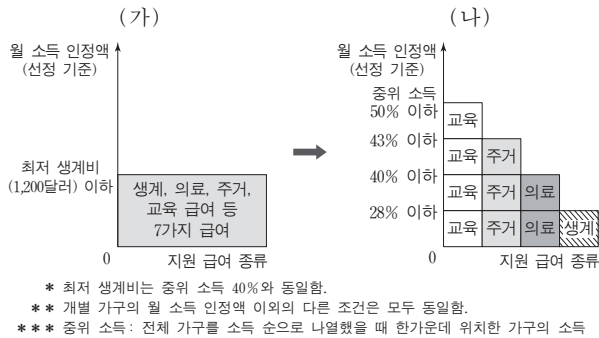
- ① A는 시각 정보 또는 청각 정보를 활용하는 다른 모든 매체들보다 신뢰도가 높다.
- ② B는 텔레비전보다 정보의 생산자와 소비자 간의 경계가 뚜렷하다.
- ③ (가)에는 '정보 전달의 동시성이 높음.', (나)에는 '시각 정보를 제공할 수 있음.'이 적절하다.
- ④ 이용률 대비 신뢰도는 청각 정보만 전달하는 매체가 인쇄 매체보다 높다.
- ⑤ 뉴미디어를 이용한다고 응답한 비율에 비해 나머지 세 가지 매체를 함께 이용한다고 응답한 비율이 높다.

16. 다음은 사회 불평등 현상을 설명하기 위해 사회학자 갑과 을이 조사 대상자 A~D를 분류한 것이다. 이에 대한 설명으로 옳지 않은 것은?

〈갑의 분류〉		〈을의 분류〉			
구분	생산 수단 소유 여부	구분	경제적 요인	정치적 요인	사회적 요인
자본가	A	상층	A	A, C	C
노동자	B, C, D	중층	B, C	D	A, B
		하층	D	B	D

- ① 을의 분류에서 A~D는 모두 지위 불일치의 사례에 해당한다.
- ② 을의 분류에서 상층에 속한 모든 대상자는 갑의 분류에서 자본가이다.
- ③ 갑은 을과 달리 사회 불평등 현상을 이분법적으로 파악한다.
- ④ 을은 갑과 달리 다차원적 측면에서 사회 불평등 현상을 파악한다.
- ⑤ 갑과 을의 분류에는 모두 경제적 요소가 반영되어 있다.

17. (가), (나)는 갑국의 사회 복지 제도 변화를 나타낸 것이다. 이에 대한 분석으로 옳은 것은? [3점]



- ① (가)는 선별적 복지보다는 보편적 복지의 성격이 강하다.
- ② (나)에서 교육 급여를 받을 수 있는 기준은 월 소득 인정액 1,400달러 이하이다.
- ③ (나)에서 월 소득 인정액 1,000달러인 가구는 의료 급여를 받을 수 있다.
- ④ (가)는 (나)와 달리 상대적 생활수준을 반영한 기준을 적용한다.
- ⑤ 월 소득 인정액 900달러인 가구는 (가)에서는 모든 급여를 받았으나 (나)에서는 교육 급여만 받을 수 있다.

18. 밑줄 친 ㉠~㉣에 대한 옳은 설명을 <보기>에서 고른 것은?

갑국에는 다양한 ㉠ 이민자 집단의 문화가 존재한다. 그 중 일부는 갑국의 보편적 문화로 자리 잡았다. 그 대표적인 사례를 음식과 ㉡ 음악에서 찾을 수 있다. 한 때 토마토소스는 '마녀의 피'라고 불리며 ㉢ 문화인이라면 먹어서는 안 되는 야만적인 식재료로 간주되었으나, 오늘날 갑국에서 토마토소스를 사용한 ㉣ 요리는 누구나 즐겨 먹는 음식이 되었다. 하층 계급 이민자들의 정서를 표현하고 있어 ㉤ 과거 대다수 사람들이 저속하다고 여기던 재즈(Jazz)와 블루스(Blues)도 주류 음악과 융합하여 변형되면서 갑국의 대중음악으로 자리 잡았다.

〈보기〉

- ㉠. ㉠은 갑국의 주류 문화에 대항하는 반문화이다.
- ㉡. ㉡에서 '문화'는 넓은 의미, ㉢에서 '문화'는 좁은 의미로 사용되었다.
- ㉣. ㉣은 물질문화, ㉤은 비물질문화에 해당한다.
- ㉥. ㉥은 문화가 고정되어 있지 않고 변화하는 것임을 보여 준다.

- ① ㉠, ㉡ ② ㉠, ㉣ ③ ㉡, ㉣ ④ ㉡, ㉤ ⑤ ㉢, ㉤

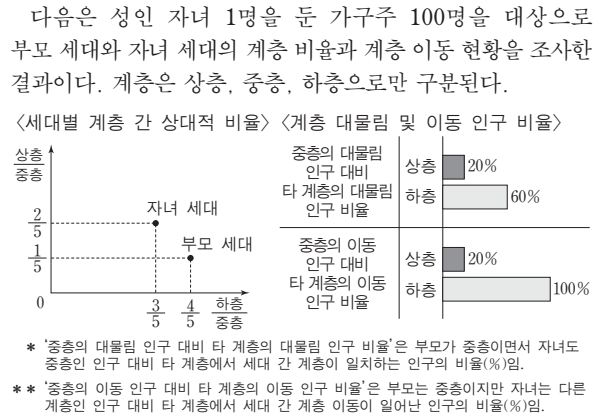
19. (가), (나)는 개인과 사회의 관계를 바라보는 서로 다른 관점이다. 이에 대한 설명으로 옳은 것은?

(가) 날로 심각해지는 도심의 교통 혼잡 문제로 인하여 사회적 자원이 낭비되고 있다. 이를 해결하기 위한 방안으로 운전자의 자발적 협조는 기대할 수 없으므로, 도심에 진입하는 차량에 대하여 고액의 통행료를 부과하고 홀. 짝수로 구분하여 차량을 운행하도록 하는 제도를 실시해야 한다.

(나) 최근 현대인의 무분별한 생활 습관으로 인한 각종 질환의 증가, 사소한 증상으로도 병원을 찾는 경향, 금전적 이익을 위한 위장 입원 등으로 인해 국민 건강 보험의 재정이 악화되고 있다. 이는 개인의 잘못된 행위에서 비롯된 것이므로 개인 스스로의 의식 개선 없이는 해결할 수 없다.

- ① (가)의 관점은 사회 정책으로 인간 행동을 바꿀 수 있다고 본다.
- ② (나)의 관점은 사회 문제의 발생 원인을 제도적 측면에서 찾는다.
- ③ (가)의 관점은 (나)의 관점과 달리 인간을 주체적이고 능동적인 존재로 본다.
- ④ (나)의 관점은 (가)의 관점과 달리 사회를 개인의 단순한 집합체 그 이상으로 본다.
- ⑤ (가), (나)의 관점은 모두 사회 구조가 개인에 대하여 불가항력적 존재라고 본다.

20. 다음 자료에 대한 옳은 분석을 <보기>에서 고른 것은? [3점]



〈보기〉

- ㉠. 부모 세대 계층 대비 계층 대물림 비율은 하층이 가장 높다.
- ㉡. 부모 세대와 자녀 세대는 모두 다이아몬드형 계층 구조이다.
- ㉢. 부모 세대와 자녀 세대 간 계층 이동한 사람은 계층이 대물림된 사람보다 많다.
- ㉣. 부모가 하층이었던 자녀 중에 상승 이동한 사람 수는 부모가 상층이었던 자녀 중에 하강 이동한 사람 수의 4배이다.

- ① ㉠, ㉡ ② ㉠, ㉣ ③ ㉡, ㉣ ④ ㉡, ㉤ ⑤ ㉢, ㉤

* 확인 사항
○ 답안지의 해당란에 필요한 내용을 정확히 기입(표기)했는지 확인하십시오.

1. ㉠ 2. ㉡ 3. ㉢ 4. ㉣ 5. ㉤ 6. ㉠ 7. ㉣ 8. ㉠ 9. ㉡ 10. ㉢
11. ㉣ 12. ㉤ 13. ㉠ 14. ㉤ 15. ㉣ 16. ㉡ 17. ㉢ 18. ㉣ 19. ㉠ 20. ㉢

1. 사회·문화 현상과 자연 현상의 특징 비교

정답 해설 : ㉠, ㉡, ㉢은 사회·문화 현상, ㉣은 자연 현상이다. ㉡, ㉢과 같은 사회·문화 현상은 ㉠과 같은 자연 현상과 달리 인간의 가치가 개입되어 나타나기 때문에 당위 법칙을 따른다. **정답 ㉡**

[오답피하기]

- ㉠ ㉠, ㉡과 같은 사회·문화 현상은 가치 함축적이다. 불가치적인 것은 자연 현상의 특징이다.
- ㉡ ㉡과 같은 자연 현상은 필연성, ㉢과 같은 사회·문화 현상은 개연성으로 설명된다.
- ㉢ 필연성의 원리가 적용되는 것은 ㉡과 같은 자연 현상이다.
- ㉤ 특수성이 강하게 나타나는 것은 ㉠, ㉡, ㉢과 같은 사회·문화 현상이다.

2. 사회·문화 현상을 바라보는 관점의 비교

정답 해설 : 같은 기능론, 음은 갈등론, 병은 상징적 상호작용론의 관점에서 아동 학대 사건을 바라보고 있다. ㉡ 기능론과 갈등론은 사회·문화 현상을 사회 구조적 측면에서 바라보는 거시적 관점으로 분류된다. **정답 ㉡**

[오답피하기]

- ㉠ 행위 주체인 인간이 부여하는 의미를 중시하는 것은 상징적 상호작용론이다.
- ㉡ 사회 구성원들 사이의 사회적 합의를 중시하는 것은 기능론이다.
- ㉢ 다양한 제도들의 상호 의존 관계에 주목하는 것은 기능론이다.
- ㉣ 사회적 희소 가치 배분의 불평등 구조에 주목하는 것은 갈등론이다.

3. 자료 수집 방법의 특징 비교

정답 해설 : A는 면접법, B는 참여 관찰법, C는 질문지법, D는 실험법이다. ㉢ 질문지법은 문자 언어를 통해 자료를 수집하므로 문맹자에게 사용하기 어렵다. 하지만 실험법은 독립 변인을 인위적으로 처리한 후 그로 인해 나타나는 종속 변인의 변화를 측정하는데, 주로 행동 변화를 조사하므로 문맹자를 대상으로 사용 가능하다. **정답 ㉢**

[오답피하기]

- ㉠ 예상하지 못한 변수의 통제가 어려운 것은 참여 관찰법이 갖는 단점이다.
- ㉡ 시간과 비용 측면에서의 효율성이 높은 것은 질문지법이 갖는 장점이다.
- ㉢ 연구자의 주관적 가치 개입 가능성이 높은 것은 면접법과 참여 관찰법이 갖는 단점이다.
- ㉣ 양적 연구에 주로 사용되는 것은 질문지법과 실험법이며, 질적 연구에 주로 사용되는 것은 면접법과 참여 관찰법이다.

4. 여러 가지 사회학적 개념에 대한 이해

정답 해설 : ㉡ 직업 훈련소와 야간 대학은 전문적인 지식과 기능의 사회화를 담당하므로 2차적 사회화 기관이고, 사회화를 목적으로 설립하여 체계적으로 사회화를 수행하므로 공식적 사회화 기관이다. **정답 ㉡**

[오답피하기]

- ㉠ 아버지는 후천적으로 획득된 성취 지위이다.
- ㉡ 아내와 결혼하여 맞벌이를 한 것은 남편으로서 같이 수행한 역할 행동이다.
- ㉢ 해외 지사는 갑의 준거 집단이지만, 소속 집단은 아니다.
- ㉣ 아들이라는 하나의 지위만 나타난다. 그리고 부모님의 말씀을 따라야 하는 하나의 역할만 나타나므로 역할 갈등을 보여주는 사례도 아니다.

5. 사회 변동론 보는 진화론과 순환론의 비교

정답 해설 : ㉡ (가)가 “제국주의를 정당화하는 근거로 사용되었는가?”이면, A는 순환론이고 B는 진화론이다. 사회 변동 과정에서 문명이 퇴보할 수 있다고 보는 것은 순환론이고 사회 변동을 사회 발전으로 보는 것은 진화론이기 때문에, (나)에는 “사회 변동 과정에서 문명이 퇴보할 수 있는가?”가 들어갈 수 있다. **정답 ㉡**

[오답피하기]

- ㉠ 서구 중심적 사고라고 비판을 받는 것은 진화론이다.
- ㉡ 사회 변동을 사회 발전으로 인식하는 것은 진화론이다.
- ㉢ 사회는 주기적으로 동일한 과정을 반복하면서 변동한다고 보는 것은 순환론이다.
- ㉣ 진화론과 순환론 모두 사회 변동을 일정한 양상을 띠고 보지만, 진화론은 순환론과 달리 사회 변동이 일정한 방향성을 가진다고 본다.

6. 사회적 소수자의 상대성에 대한 이해

정답 해설 : 첫 번째 자료에 따르면 남성 우위 문화가 지배적인 A 국에서 살던 갑이 여성 우위 문화가 지배적인 B 국으로 이주하면서, 남성인 갑이 사회적 소수자가 되었다. 두 번째 자료에 따르면 C 지역에서 사회적 소수자가 아니었던 을이 D 지역으로 이주하면서 사회적 소수자가 되었다. ㉠ 특정 사회에서는 사회적 소수자가 아니지만 다른 사회에서는 사회적 소수자가 될 수 있는데, 이를 통해 사회적 소수자가 되는 기준이 상대적임을 알 수 있다. **정답 ㉠**

[오답피하기]

- ㉡ 사회적 소수자 문제는 단순히 구성원의 수가 적은 사람들이 아니라 불합리한 대우를 받는 사람들에게 해당하는 문제이다.
- ㉢ 성별에 따른 차별과 출신에 따른 차별을 비교하고 있지 않다.
- ㉣ 사회적 소수자에 대한 차별과 주류 집단의 정체성 약화의 관계에 대해 다루고 있지 않다.
- ㉤ 사회적 소수자 집단에서 벗어나기 위한 성취 지위의 변화를 다루고 있지 않다.

7. 양적 연구에 대한 분석

정답 해설 : ㉣ 수집된 자료는 구체적인 사실이며, 결론은 일반화된 진술이다. 구체적인 사실을 토대로 일반화된 원리를 추론하는 과정은 귀납적이다. **정답 ㉣**

[오답피하기]

- ㉠ 차별 경험 정도가 학교생활 만족도에 미치는 영향을 알아보려 한다는 점에서, 차별 경험 정도가 독립 변수이고 학교생활 만족도는 종속 변수이다.
- ㉡ 두 변수 간의 관계 파악, 질문지법을 통한 자료 수집, 일반화의 도출 등에서 양적 연구 방법에 기초한 연구임을 알 수 있다.
- ㉢ 모집단은 다문화 가정 자녀들이지만, 표본 집단은 ○○지역 고등학교 다문화 가정 자녀들이다. ○○지역 고등학교 다문화 가정 자녀들이 다문화 가정 자녀들 전체를 대표하지 못한다는 점에서, 연구 결과를 모집단에 일반화할 수 없다.
- ㉣ 그럼에 따르면 차별 경험 정도와 학교생활 만족도는 음(-)의 관계에 있다.

8. 실험을 통한 연구의 분석

정답 해설 : ㄱ. 제시문에 따르면, 연구자는 연구와 관련된 내용 일체를 연구 대상자에게 알리지 않았다. 즉, 연구 대상자에게 연구와 관련된 정보를 제공하지 않았다. ㄴ. 을이 여성이고 병은 남성이다. 실험 대상자들이 여성보다 남성에게 관대하여 휴대 전화를 잘 빌려주었다면, “한국인들은 피부색에 따라 외국인에 대한 태도가 상이하다.”는 결론은 잘못일 수 있다. 즉, 제시된 연구는 피부색 이외에 성별과 같은 다른 변수가 미치는 영향을 고려하지 않았다. **정답 ㉠**

[오답피하기]

- ㉡ 사생활 관련 정보를 연구 목적 이외의 용도로 활용하였는지는 알 수 없다.
- ㉢ 연구 대상자 모두에게 피부색이 다른 외국인이 휴대 전화를 빌리려 했다. 즉, 연구 대상자 모두에게 독립 변인을 처리했다는 점에서, 실험 집단만 있고 통제 집단은 존재하지 않는다.

9. 산업 사회와 정보 사회의 비교

정답 해설 : ㄱ. 산업 사회보다 정보 사회에서는 정보 확산 속도가 높고, 구성원 간 익명성이 증가한다. ㄴ. (가)가 ‘비대면 접촉 비중’이고 (나)가 ‘3차 산업의 비중’이라면, A는 산업 사회이고 B는 정보 사회이다. 사회 변동 속도는 산업 사회가 정보 사회보다 느리다. **정답 ㉡**

[오답피하기]

- ㉠ 산업 사회보다 정보 사회에서는 ‘관료제 조직의 비중’이 낮다. 따라서 (가)에 ‘관료제 조직의 비중’이 들어갈 수 없다.
- ㉡ 산업 사회보다 정보 사회에서 ‘직업의 이질성’이 증가하고 ‘일터와 가정의 결합 정도’는 높다. 따라서 A는 산업 사회이고 B는 정보 사회이다. 전자 상거래의 비중은 산업 사회보다 정보 사회에서 높게 나타난다.

10. 문화 변동 사례에 대한 분석

정답 해설 : 발명은 문화 변동의 내재적 요인이며, (가)는 발명이다. 그리고 직접 전파나 자국 전파는 모두 문화 변동의 외재적 요인인데, 타 문화로부터 아이디어를 얻어 새로운 문화 요소가 만들어지는 것이 자국 전파이다. 따라서 (나)는 자국 전파, (다)는 직접 전파이다. ㄴ. (다) 이후 울국에서는 ㉠이라는 문화 요소가 나타났는데, ㉠은 갑국의 문화 요소인 ○와 울국의 문화 요소인 ●가 결합하여 나타난 제3의 문화 요소라는 점에서, 울국에서는 (다)로 인해 문화 융합이 나타났다.

ㄷ. 갑국에서 창조된 문화 요소는 □이고, 울국에서는 직접 전파 이후 □이 등장한다. 이를 통해 갑국에서 창조된 문화 요소가 울국으로 전달되었음을 알 수 있다. ㄹ. 울국에서는 1차 변동 때 자국 전파로 인해 △라는 문화 요소가 등장하였다. 울국은 갑국과만 교류하였다는 점에서, △는 갑국에서 아이디어를 얻어 발명된 문화 요소이다. 즉, 울국은 1차 변동에서 갑국의 영향을 받았다. 그리고 2차 변동 이후 등장한 ㉡는 갑국의 문화 요소와 울국의 문화 요소가 결합하여 나타난 제3의 문화 요소이고, 2차 변동 이후 등장한 □는 갑국에서 직접 전파된 문화 요소이다. 즉, 울국은 2차 변동에서도 갑국의 영향을 받았다. **정답 ㉡**

[오답피하기]

- ㄱ. (나)는 직접 전파가 아니라 자국 전파이다.

11. 문화를 이해하는 태도의 비교

정답 해설 : 같은 문화 상대주의, 음은 자본화 중심주의, 병은 문화 상대주의 태도를 갖고 있다. ㉡ 특정 문화를 기준으로 문화의 우열을 판단하는 것은 자본화 중심주의와 문화 상대주의이다. 이에 반해 문화 상대주의는 모든 문화가 동등한 가치를 지닌다고 본다. **정답 ㉡**

[오답피하기]

- ㉠ 문화 제국주의로 변질될 가능성이 높은 것은 을이 취한 자본화 중심주의이다.
- ㉡ 모든 문화가 동등한 가치를 지닌다고 보는 것은 갑이 취한 문화 상대주의이다.
- ㉢ 자기 문화에 대한 객관적 이해를 가능하게 하는 것은 비교론적 관점의 장점이다.
- ㉣ 을이 취한 자본화 중심주의는 다문화 사회에서 문화 갈등을 초래할 가능성이 높다.

12. 공식 조직, 비공식 조직, 자발적 결사체에 대한 이해

정답 해설 : 공동의 목표를 가진 사람들의 자유의사에 따라 결성되는 것은 자발적 결사체이며, 자발적 결사체는 공식 조직과 비공식 조직의 형태를 띠 수 있다. 따라서 A는 자발적 결사체이다. 그리고 비공식 조직은 공식 조직을 기반으로 출현하여, 공식 조직의 효율성을 높이는데 기여하기도 하나 개인적 친분 관계가 공식 조직의 업무에 부정적인 영향을 끼칠 수도 있다. 따라서 B는 비공식 조직, C는 공식 조직이다. ㉤ 공식 조직은 비공식 조직에 비해 공식적인 규범을 통해 구성원들이 행동을 통제한다. **정답 ㉤**

[오답피하기]

- ① 자발적 결사체는 1차 집단과 2차 집단의 성격이 동시에 나타나기도 한다.
- ② 형식적·수단적인 인간관계가 지배적으로 나타나는 것은 공식 조직이다.
- ③ 공식 조직은 비공식 조직에 비해 조직의 규모가 크고 구성원이 이질적이다.
- ④ 구성원의 의지와 무관하게 자연 발생적으로 형성된 집단은 공동 사회이다. 공식 조직과 비공식 조직 및 자발적 결사체는 모두 이의 사회이다.

13. 다양한 일탈 행동에 관한 이론의 이해

정답 해설 : 일탈 행동의 원인으로 사회 규범의 부재를 강조하는 것은 아노미 이론이고, 일탈 행동의 해결 방안으로 정상적인 사회 집단과의 교류 촉진을 강조하는 것은 차별적 교제이론이다. 따라서 (가)는 아노미 이론, (나)는 낙인 이론, (다)는 차별적 교제이론이다. ① 급격한 사회 변동으로 인해 사회 규범의 부재 상태, 즉 아노미가 나타날 때 일탈 행동이 발생한다고 보는 것은 아노미 이론이다. **정답 ①**

[오답피하기]

- ② 낙인 이론은 일탈을 규정하는 객관적 기준이 없다고 본다.
- ③ 일탈 행동 자체보다 일탈 행동에 대한 사회적 반응을 중시하는 것은 낙인 이론이다.
- ④ 일탈 행동의 해결 방안으로 불평등 구조의 근본적 변화를 강조하는 것은 갈등론이다.
- ⑤ 문화적 목표와 제도적 수단 간의 괴리에서 일탈 행동의 발생 원인을 찾는 것은 아노미 이론이다.

14. 교육을 바라보는 기능론과 갈등론적 관점의 비교

정답 해설 : 같은 갈등론적 관점, 혹은 기능론적 관점에서 교육을 바라보고 있다. ㄷ. 갈등론적 관점에서는 교육이 사회 불평등 구조를 재생산하여 확대시킨다고 본다. ㄹ. 기능론적 관점에서는 교육이 사회 안정과 통합에 기여한다고 본다. **정답 ⑤**

[오답피하기]

- ㄱ. 기능론적 관점에서는 교육이 개인에게 사회 이동의 기회를 제공한다고 본다.
- ㄴ. 갈등론적 관점에서는 교육이 지위 세습을 강화시킴으로써 현존하는 사회 불평등 구조를 재생산한다고 본다.

15. 여러 가지 대중 매체에 관한 자료의 분석

정답 해설 : 심층적인 정보 전달에 유리한 것은 인쇄 매체인 신문이고, 양방향 정보 전달에 유리한 것은 뉴미디어이다. 따라서 A는 신문, B는 뉴미디어이다. ④ 정보 전달하는 매체는 라디오이다. 이용률 대비 신뢰도는 인쇄 매체인 신문은 49/31이고 라디오는 38/20로, 라디오가 높다. **정답 ④**

[오답피하기]

- ① 신문은 시각 정보와 청각 정보를 활용하는 텔레비전에 비해 신뢰도가 낮다.
- ② 뉴미디어는 정보 생산자와 소비자 간의 경계가 명확하게 구분되지 않는다.

- ③ 텔레비전은 정보 전달의 동시성이 높으며, 라디오는 시각 정보를 제공할 수 없다.
- ⑤ 뉴미디어를 이용한다고 응답한 비율은 75%인데, 나머지 세 가지 매체를 함께 이용한다고 응답한 비율은 최대 20%이다.

16. 계층론과 계급론의 적용

정답 해설 : 같은 계급론에 따라 생산 수단 소유 여부를 기준으로 조사 대상자를 자본가와 노동자로 분류하고 있다. 혹은 계층론에 따라 다차원적 차원을 기준으로 조사 대상자를 상층, 중층, 하층으로 분류하고 있다. ② 율의 분류에서 상층에 속한 대상자는 A와 C인데, 갑의 분류에서는 A만이 자본가에 속한다. **정답 ②**

[오답피하기]

- ① 율의 분류에 따르면, 경제적 요인과 정치적 요인 및 사회적 요인에서 일관성 있게 동일 계층에 속한 조사 대상자가 없다. 즉, 모든 대상자가 지위 불일치 상태에 있다.
- ③ 사회 불평등 현상을 이분법적으로 파악하는 것은 계급론의 입장을 취한 것이다.
- ④ 다차원적 측면에서 사회 불평등 현상을 파악하는 것은 계층론의 입장을 취한 것이다.
- ⑤ 생산 수단의 소유 또한 경제적 요소라는 점에서, 갑의 계급론과 율의 계층론은 모두 경제적 요소가 반영되어 있다.

17. 사회 복지 제도의 변화에 대한 분석

정답 해설 : 최저 생계비가 1,200달러인데, 최저 생계비가 중위 소득의 40%와 동일하므로 중위 소득은 3,000달러이다. ③ 중위 소득 40%, 즉 월 소득 인정액이 1,200달러 이하인 가구는 의료 급여를 받을 수 있으므로, 월 소득 인정액이 1,000달러인 가구는 의료 급여를 받을 수 있다. **정답 ③**

[오답피하기]

- ① (가), (나) 모든 국민을 대상으로 하지 않는다는 점에서, 모두 선별적 복지의 성격이 강하다.
- ② 교육 급여를 받을 수 있는 기준은 월 소득 인정액이 중위 소득 50%, 즉 1,500달러 이하이다.
- ④ (나)는 가구의 월 소득 인정액이 '중위 소득의 얼마가 되느냐'를 파악한다. 즉, (나)에서는 상대적 생활수준을 반영한 기준을 적용하고 있다.
- ⑤ 월 소득 인정액 900달러는 중위 소득의 30%에 해당한다. (나)에서 중위 소득의 30%인 가구는 교육 급여와 주거 급여, 의료 급여를 받을 수 있다.

18. 문화 관련 개념에 대한 이해

정답 해설 : ㄴ. 이민자 집단의 문화에서 '문화'는 생활양식이라는 넓은 의미로, 문화 안에서 '문화'는 교양이라는 좁은 의미로 사용되었다. ㄹ. 저속하다고 여기던 재즈와 블루스가 주류 음악과 융합하여 변형되면서 감극의 대중음악이 된 것은 문화가 변화하고 있음을 보여준다. **정답 ④**

[오답피하기]

- ㄱ. 이민자 집단의 문화가 반드시 주류 문화에 대항하는 것은 아니다.
- ㄷ. 음악은 비물질문화, 요리는 물질문화이다.

19. 개인과 사회의 관계를 바라보는 관점의 비교

정답 해설 : (가)에서는 제도적 해결 방안을, (나)에서는 개인의 의식 개선을 중시하고 있다. 이를 통해 (가)의 관점은 사회 실재론, (나)의 관점은 사회 명목론임을 알 수 있다. ① 사회 실재론은 개인의 행동은 사회 구조에 구속되므로, 사회 정책을 통해 인간 행동을 바꿀 수 있다고 본다. **정답 ①**

[오답피하기]

- ② 사회 문제의 발생 원인을 제도적 측면에서 찾는 것은 사회 실재론이다.
- ③ 인간을 주체적이고 능동적인 존재로 보는 것은 사회 명목론이다.
- ④ 사회를 개인의 단순한 집합체 그 이상으로 보는 것은 사회 실재론이다.
- ⑤ 사회 구조가 개인에 대하여 불가항력적 존재라고 보는 것은 사회 실재론이다.

20. 세대 간 계층 이동에 대한 분석

정답 해설 : ㄴ. 부모 세대는 상층이 10명, 중층이 50명, 하층이 40명이다. 자녀 세대는 상층이 20명, 중층이 50명, 하층이 30명이다. 부모 세대와 자녀 세대 모두 다이나믹 모형 계층 구조이다.

ㄷ. 중층의 대물림 인구수를 a라고 하자. 그러면 상층의 대물림 인구수는 0.2a이고 하층의 대물림 인구수는 0.6a이다. 그리고 중층의 이동 인구수를 b라고 하자. 그러면 상층의 이동 인구수는 0.2b이고 하층의 이동 인구수는 b이다. 부모 중층은 a와 b로 구성되고, 부모 하층은 0.6a와 b로 구성되므로, a+b=50이고 0.6a+b=40 이다. a와 b는 동일하게 25명이 된다. 따라서 계층이 대물림된 사람의 수는 45명(1.8a)이고, 계층이 이동한 사람의 수는 55명(100-45명)이다. 계층이 이동한 사람의 수가 계층이 대물림된 사람의 수보다 많다. **정답 ⑤**

[오답피하기]

- ㄱ. 부모 계층이 자녀에게 대물림된 사람의 수는 상층 5명, 중층 25명, 하층 15명이다. 따라서 부모 세대 계층 대비 계층 대물림 비율은 상층은 5/10, 중층은 25/50, 하층은 15/40이다. 부모 세대 계층 대비 계층 대물림 비율은 하층이 가장 낮다.
- ㄹ. 중층의 이동 인구 대비 타계층의 이동 인구 비율에 있어 상층은 20%(5명)이고 하층은 100%(25명)이다. 따라서 부모가 하층이었던 자녀 중에 상승 이동한 사람 수는 부모가 상층이었던 자녀 중에 하강 이동한 사람 수의 5배이다.