

<데일리 EBS+기출 7일차>

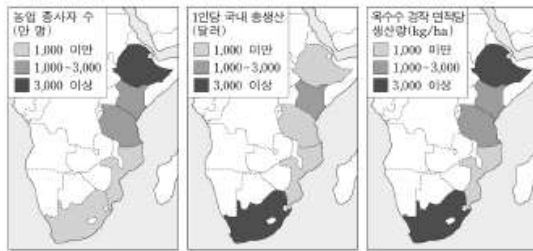
<2019학년도 대학수학능력시험 9월 모의평가 5번 EBS 연계문항>

5. 다음 자료를 토대로 하나의 국가를 선택하여 농업 기술 센터의 건립을 지원하고자 한다. 가장 적합한 국가를 고른 것은? (단, 합산 점수가 가장 높은 국가를 선택함.)

<점수 산정 기준>

평가 항목	평가 점수			가중치
	1점	2점	3점	
농업 종사자 수 (만 명)	1,000 미만	1,000~3,000	3,000 이상	1
1인당 국내 총생산 (달러)	3,000 이상	1,000~3,000	1,000 미만	1
옥수수 경작 면적당 생산량(kg/ha)	3,000 이상	1,000~3,000	1,000 미만	2

• 합산 점수는 평가 항목당 평가 점수에 가중치를 곱한 값의 합입니다.



- ① 에티오피아                      ② 케냐
- ③ 탄자니아                        ④ 모잠비크
- ⑤ 남아프리카 공화국

<2019학년도 수능대비 수능완성 실전모의고사 1회 3번, 연계대상>

3 ○○ 단체에서는 다음 자료를 토대로 농업 기술 센터를 건립하고자 한다. 지도의 A~E 중 가장 적합한 국가를 고른 것은? (단, 합산 점수가 가장 높은 국가를 선택함.)

<점수 산정 기준>

구분	1점	2점	3점	4점
농업 종사자 수 (만 명)	1,000 미만	1,000 ~ 2,000	2,000 ~ 3,000	3,000 이상
도시화율(%)	40 이상	30~40	20~30	20 미만
1인당 국내 총생산 (달러)	3,000 이상	2,000 ~ 3,000	1,000 ~ 2,000	1,000 미만
옥수수의 단위 면적당 생산량(kg/ha)	3,000 이상	2,000 ~ 3,000	1,000 ~ 2,000	1,000 미만

국가	농업 종사자 수 (만 명)	도시화율 (%)	1인당 국내 총생산(달러)	옥수수의 단위 면적당 생산량 (kg/ha)
케냐	1,451	25.6	1,377	1,660
탄자니아	1,887	31.6	865	1,604
나이지리아	1,258	47.8	2,640	1,845
에티오피아	3,703	19.5	619	3,421
남아프리카 공화국	109	64.2	6,480	5,301

(2014년)

(출처:청)




- ① A
- ② B
- ③ C
- ④ D
- ⑤ E

<데일리 EBS+기출 8일차>

<2019학년도 대학수학능력시험 8번 EBS 연계문항>

8. 그래프의 (가)~(라)에 해당하는 국가를 지도의 A~D에서 고른 것은? [3점]

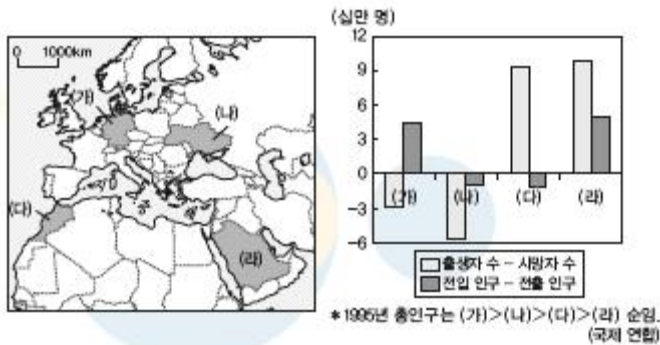


- |   | (가) | (나) | (다) | (라) |
|---|-----|-----|-----|-----|
| ① | A   | B   | C   | D   |
| ② | A   | C   | D   | B   |
| ③ | B   | A   | C   | D   |
| ④ | B   | C   | A   | D   |
| ⑤ | C   | A   | D   | B   |

<2019학년도 수능대비 수능특강 P.123 4번 EBS 연계대상>

[8017-0158]

04 다음 자료는 (가)~(라) 국가의 1995~2015년 사이의 인구 변동을 나타낸 것이다. 이에 대한 설명으로 옳은 것은?



- ① (가)는 총인구가 감소하였다.
- ② (라)는 인구 증가율이 가장 높다.
- ③ (나)는 (가)보다 노동력의 수요가 많다.
- ④ (다)는 (라)보다 1인당 국내 총생산이 많다.
- ⑤ (라)는 (가)보다 여성의 사회 진출이 활발하다.